

新北市立新莊國民中學 106 學年度第 1 學期第 2 次段考 8 年級社會領域試題卷

班 座號 姓名

※ 選擇題：本試卷共 50 題，每題 2 分，總分為 100 分。
每一題均為單選題，請選出最適當答案。

- 讀「歷史」可以鑑往知來，藉著發生過的災難禍事，提醒現代的我們，不要再重蹈覆轍。但是，請問下列哪一位帝王沒有記取歷史教訓，登基後馬上大封諸子為王，導致宗室內鬥，引發「八王之亂」，國家也日漸走向衰落？
(A) 司馬懿 (B) 司馬遷 (C) 司馬睿 (D) 司馬炎
- 請問下列哪一項事件的演變，與漢代無關？
(A) 開鑿貫通南北的運河 (B) 三國鼎立之勢形成
(C) 講究身分的世族社會 (D) 佛教經絲路傳入中國
- 請問下列哪一個年代，國家富裕繁榮，人民生活安康，少有戰禍叛亂？
(A) 建安十三年(208 年) (B) 永嘉五年(311 年)
(C) 開元十四年(726 年) (D) 天寶十四年(755 年)

【題組一：第 4 ～ 6 題】

- 請按照歷史年代先後順序，排列以下各宗教事件。
(甲) 道教在中國創立 (乙) 梁武帝好佛甚至出家
(丙) 佛教傳入中國 (丁) 伊斯蘭教傳入中國
(A) 丙甲乙丁 (B) 乙甲丁丙 (C) 甲乙丙丁 (D) 丁甲丙乙
- 從下圖兩幅照片當中，可以看出當時中國石窟大佛的工藝技術非常細緻，尤其是在沒有任何高科技的協助，仍然可以依山開鑿，故在 21 世紀初都被列入聯合國教科文組織 (UNESCO) 世界文化遺產名錄當中。請問：這些石窟大佛像，最早是出現在哪一時期？
(A) 春秋戰國時期 (B) 西漢末年
(C) 魏晉南北朝 (D) 隋唐時期



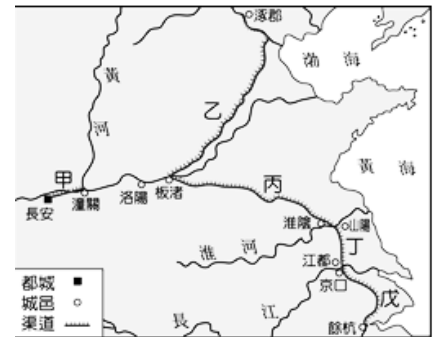
- 右下圖是陝西西安大雁塔，這是為了保管從天竺帶回來的數百部梵本佛經，所修建具有西域風格的藏經塔。請問，下列哪一選項和大雁塔無關？



- 這是唐太宗貞觀年間之事
(B) 是玄奘法師不畏艱難前往印度求取佛經
(C) 玄奘法師回國後致力翻譯佛經
(D) 是中國第一座佛寺
- 獨孤飛流是生活在北魏孝文帝時期的鮮卑人，請問他的下列哪一項行為，不符合當時國家的規定？
(A) 娶了一位漢人女子為妻 (B) 依舊以 獨孤飛流 為名
(C) 隨著政府搬到洛陽定居 (D) 改穿寬鬆衣袖的漢服
- 魏晉南北朝時期的選才任官制度，是依著 陳群 建議的「九品官人法」來實施；但是，之後卻逐漸演變成政府官員多由世家大族壟斷，連評定的標準也只重視家庭背景，形成下列何種現象？
(A) 上品無寒門，下品無世族 (B) 萬般皆下品，唯有讀書高
(C) 貴族沒落，平民崛起 (D) 唯才是用，布衣卿相

- 中國史上有一時期，儒學衰微，政治混亂，很多士人為了避禍，興起清談風氣。他們藉此個性解放，但是有部分人物過於放蕩不羈，忽視禮教。請問，當時士人清談的內容沒有下列哪一部書？
(A) 老子 (B) 中庸 (C) 易經 (D) 莊子

- 右圖是建於隋代的運河 (甲～戊)，這些運河不僅連接當時南北經濟，更成為隋唐帝國時期的水運大動脈。請問，哪一條運河不是隋煬帝開鑿興建？
(A) 戊 (B) 丁 (C) 乙 (D) 甲



- 請比較唐朝「安史之亂」與「黃巢之亂」。請問附表中哪一個選項錯誤？

	安史之亂	黃巢之亂
(甲) 時間	唐玄宗時期	唐朝末期
(乙) 地區	黃河南北一帶	遍及大江南北
(丙) 性質	人民叛變	將領叛變
(丁) 平定者	郭子儀	朱溫

- (A) 甲 (B) 乙 (C) 丙 (D) 丁
- 唐朝是中國史上特別的朝代，統治中國將近 300 年，還出現了史上唯一一位女皇帝。請依照時間先後順序排列關於唐朝的歷史事件。
(甲) 安史之亂 (乙) 玄武門之變 (丙) 開元之治
(丁) 牛李黨爭 (戊) 武后稱帝
(A) 乙戊丙甲丁 (B) 甲丙丁乙戊
(C) 乙丁甲戊丙 (D) 甲乙丙丁戊
- 西元七世紀，在中國已經可以看到不少胡商走絲路來到首都長安貿易，帶來「胡食」、細腰窄袖的「胡服」、西域的樂器；而大食商人則是走海路到廣州貿易，當時政府為了處理外商貿易之事，於是設立市舶司來管理。從上述內容，請問這是顯示當時是何種社會？
(A) 崇洋媚外的社會 (B) 拜金主義的社會
(C) 兼容並蓄的社會 (D) 各國爭霸的社會
- 判斷下列大唐文化影響周遭國家的情形；請問，下列哪一項正確？
(A) 吐蕃-大勝唐朝軍隊於怛羅斯，帶回中國造紙工匠
(B) 新羅-模仿中國漢字、儒學、佛教，有君子國之稱
(C) 大食-迎娶文成公主，促進漢藏文化與佛教發展
(D) 日本-明治天皇在位時，展開明治維新的唐化運動
- 大雄和哆啦 A 夢搭時光機到盛唐時期首都-長安，請問他們不會遇到什麼樣的情景？
(A) 有些信仰伊斯蘭教的信徒在閱讀《古蘭經》
(B) 商人攜帶飛錢進行買賣，直呼有紙幣真方便
(C) 城裡規畫整齊，坊市築牆區隔，畫分明顯
(D) 有商店賣葡萄酒，大家一邊喝一邊欣賞胡旋舞

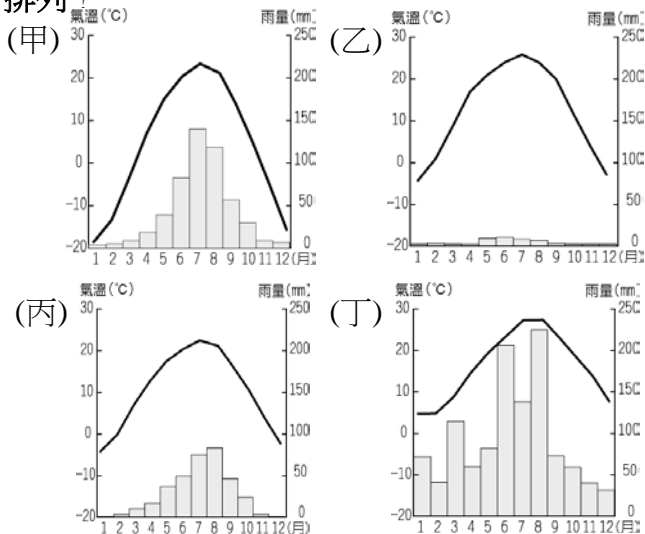
【題組二：第 16 ～ 17 題】

唐朝國力強盛各族歸順、經濟繁榮，尤其文化成就更是達到高峰。文學、藝術領域人才輩出，留給我們後世許多精采的文物。

- 16.在文學方面，“詩”是唐朝文學主流，此時期更被視為中國詩歌水平最高的時期，尤其何人個性浪漫，富有想像力，詩句行雲流水，自然天成，被稱為「詩仙」、「天上謫仙」？
(A) 王維 (B) 杜甫 (C) 李白 (D) 吳道子
- 17.請問，以下配對，何者正確？
(A) 擅長山水、人物畫，被譽為「畫聖」的是白居易
(B) 關懷國家安危與社會實況，被稱為「詩聖」的是孟浩然
(C) 著名書法家：王羲之-《蘭亭集序》
(D) 以黃、綠、褐三色為主的唐三彩，色彩絢麗，具有高度藝術價值，可以從中了解唐代人們的生活
- 18.中國 94%的人口住在黑河騰衝線以東的地區，人口分布極為不平均，實與當地的自然環境與產業活動有極大關係。請問以下表格的敘述何者正確？

	(A) 地形	(B) 氣候	(C) 產業	(D) 環境負載力
黑河騰衝線以東	多平原、丘陵	乾燥、高地氣候	畜牧業	低
黑河騰衝線以西	多山地、高原	季風氣候	農業	高

- 19.暑假若想要到中國遊山玩水自助行，預計由上海市出發，途經黑龍江省哈爾濱、甘肅省蘭州，最終至新疆維吾爾自治區的和闐，請問以下沿途城市的氣候圖順序應如何排列？



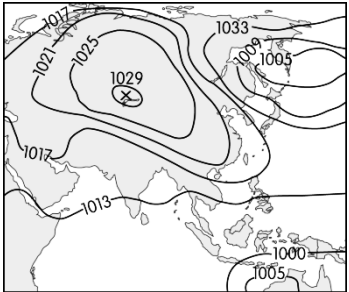
- (A) 乙甲丁丙 (B) 乙丙甲丁 (C) 丁乙丙甲 (D) 丁甲丙乙
- 20.中國東南沿海年雨量最豐沛，越往西北內陸越乾燥少雨，請問與下列因素最不相關？
(A) 緯度位置 (B) 山脈走向 (C) 季風風向 (D) 距海遠近
- 21.右圖為中國水文分布區，請問下列敘述何者完全正確？
(A) 甲區因深居內陸形成乾燥氣候，額爾濟斯河為典型的內流河
(B) 乙區主要位於高地氣候區，擁有中國海拔高度最高的鹹水湖—納木錯
(C) 丙區的雅魯藏布江雖位於高地氣候區，依然穩定流向印度洋，為一外流河
(D) 丁區雨量豐沛成為季風氣候環境，塔里木河為太平洋外流區的代表性河流



- 22.中國為世界人口最多的國家，人口總數已高達 13.8 億人，下列何者並非中國遇到的人口困境？
(A) 人民平均教育水準不高
(B) 男女性別比數值明顯低於 100
(C) 一胎化政策促使社會高齡化速度加快
(D) 城鄉經濟差距大導致城鄉人口移動頻繁
- 23.中國東半部多為季風氣候，請問下列敘述何者完全正確？
(A) 秦淮以北地區，冬季主要吹東北季風，夏季則吹西南季風
(B) 氣候濕潤，年降雨量多超過 750 毫米，居民多闢窖洞定居
(C) 南北溫差超過 50℃，主要是受地形因素所影響
(D) 雨季集中夏季，如遇颱風與梅雨侵襲，易形成洪澇
- 24.承上題，中國季風氣候的形成原因為下列何者？
(A) 雨量多寡不一 (B) 緯度位置不同
(C) 海陸性質差異 (D) 洋流經過與否
- 25.中國某個火車站的旅客警示如下：「為了保障旅客健康安全，凡有心臟病、慢性呼吸系統疾病、糖尿病、重感冒等疾病的旅客，不宜進入三千公尺以上高海拔地區旅行。」根據上文，此地區的氣候特徵最可能是下表中哪一區？

地區	一月月均溫	七月月均溫
甲	18.3℃	32.5℃
乙	-4.7℃	26.0℃
丙	-3.5℃	14.7℃
丁	28.2℃	7.2℃

- (A) 甲區 (B) 乙區 (C) 丙區 (D) 丁區
- 26.中國沿海都市經濟發達，吸引龐大鄉村人口移入，然而這些在都市打工的工薪族卻因為沒有都市戶籍，面臨眾多制度上的歧視，例如孩子無法設籍讀書、醫療生育補助較少，使得許多工薪族選擇返鄉就業，造成沿海都市遭遇大量缺工的窘境。請問中國政府制定了什麼樣的政策來因應沿海都市缺工的問題？
(A) 居住證制度 (B) 教育證制度
(C) 二胎化制度 (D) 身分證制度
- 27.右圖為中國某月的大氣狀況分布圖，下列有關該圖的敘述何者最正確？
(A) 風多由海洋吹向陸地
(B) 氣流性質為寒冷乾燥
(C) 圖中 X 為低氣壓中心
(D) 沿海地區有颱風侵襲
- 28.秦嶺淮河乃中國重要的氣候與文化分界線，請問下列敘述何者正確？

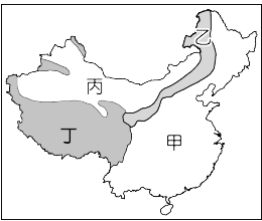


地區	(甲) 一月月均溫	(乙) 年降雨量	(丙) 主要糧食	(丁) 特殊建築	(戊) 交通方式
秦淮以北	0℃以下	500mm以下	小麥	窖洞	偏重水運
秦淮以南	0℃以上	500mm以上	稻米	騎樓	偏重陸運

- (A) 甲乙丙 (B) 甲丙丁 (C) 乙丙戊 (D) 甲乙丁

29.右圖為中國氣候分布圖，請問下列敘述何者完全正確？

- (A) 甲區—季風氣候：氣候濕潤，年降雨多超過 750 毫米，隨著緯度愈高，年溫差愈小
- (B) 乙區—溫帶草原氣候：年雨量介於 250~500 毫米之間，成為蒙古族主要畜牧草原帶
- (C) 丙區—溫帶沙漠氣候：因距海遙遠，年雨量不足 500 毫米，年溫差與日溫差皆大
- (D) 丁區—高地氣候：地勢高聳、氣候嚴寒，年溫差偏小，以駱駝為傳統獸力

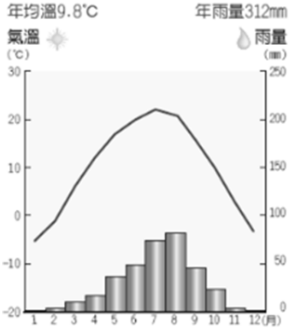


30.雲南省為中國最多少數民族的行政區，54 個少數民族中，雲南省就擁有 26 個少數民族居住，請問雲南省民族特別多元複雜的原因為何？

- (A) 地形崎嶇不平，交通不便
- (B) 宗教發源地，古文明匯聚
- (C) 近中亞國家，文化交流多
- (D) 氣候濕熱，河川流量洶湧

31.中國三大氣候區中，共可分為六種不同的氣候類型，請判斷右側氣候圖的類型為何？

- (A) 高地氣候
- (B) 溫帶沙漠氣候
- (C) 溫帶草原氣候
- (D) 副熱帶季風氣候



32.右圖為中國政府為保存少數民族文化而設立的五個自治區，請問下列各自治區與主要民族特色的配對組合何者正確？

- (A) 甲區—滿族多住蒙古包，以適應乾燥氣候四處遷移的游牧生活
- (B) 乙區—維吾爾族多居於沙漠綠洲帶，因鄰近中亞，共同信仰了伊斯蘭教
- (C) 丙區—壯族是少數民族中人數最多的一族，乾燥環境多建干欄式建築為住所
- (D) 丁區—藏族多信仰藏傳佛教，為政教合一地區，以達賴喇嘛為最高精神領袖



33.中國從 1979 年實施的一胎化政策，在 2015 年正式宣告終止，開始邁向全面二胎化政策。請問中國生育政策的轉變，可達到何種效益？

- (甲)避免女童被溺斃事件再發生
- (乙)讓國家老化速度減慢
- (丙)讓國家勞動力增加
- (丁)讓國民人口素質提升

(A) 乙丙丁 (B) 甲丙丁 (C) 甲乙丁 (D) 甲乙丙

34.今年中秋節以及雙十節連假期間，交通部順應民意，實施國道夜間全線雙向暫停收費的疏運計畫。請問，這項措施會減少政府的哪一項收入？

- (A) 規費收入 (B) 公營事業收入 (C) 租稅收入 (D) 舉債收入

35.在日常生活中，地方政府會提供許多公共事務的服務，以滿足人民需求。請問，下列哪些性質的服務適合由地方政府提供？

- (A) 甲乙丙 (B) 乙丙丁 (C) 甲丙丁 (D) 甲乙戊

(甲)	舉辦第三屆新莊百年願景散步節
(乙)	辦理《藝饗新北—愛上劇場》藝術節活動
(丙)	實施低收入學童助學圓夢計畫
(丁)	增設國道高速公路交流道紓解車潮
(戊)	制定十二年國教政策

36.右表是地方政府層級的九宮格遊戲。請問，甲、乙、丙依序應該填入下列何者，才能讓同級的地方政府由左而右連成一線？

基隆市	甲	嘉義市
台中市	乙	桃園市
台東市	丙	苗栗市

- (A) 宜蘭市、高雄市、南投市 (B) 新竹市、澎湖縣、羅東鎮
- (C) 花蓮縣、新北市、冬山鄉 (D) 台北市、台中市、屏東市

37.我國中央與地方政府的分權方式，是採用(甲)制度，若中央與地方發生權限爭議時，依憲法規定，由(乙)機關來解決。請問，(甲)與(乙)正解分別為何？

- (A) 均權制度、司法院 (B) 權能區分、立法院
- (C) 均權制度、立法院 (D) 權能區分、行政院

38.公共財因具有「共享」且「無法排他」的特性，大多數民眾常有搭便車的心理，因此由政府提供有其必要性。請問，下列選項中，何者並非是公共財？

- (A) 道路 (B) 自來水 (C) 國民教育 (D) 消防

39.根據我國現行地方制度的規定，下列行政區域的相關配對表格何者正確？

行政區域	地方行政機關	地方民意機關
(A)新竹市	新竹市政府	新竹市民代表會
(B)台南市	台南市公所	台南市議會
(C)屏東市	屏東市公所	屏東市民代表會
(D)三義鄉	三義鄉政府	三義鄉議會

40.消費者在購買商品後，沒有隨手取走統一發票，部分店家利用此一現象，將消費者未取走的統一發票收回作廢，藉以逃漏稅捐。財政部籲請民眾消費時，應主動索取統一發票，既可以兌獎，也可幫助政府維護租稅公平及稅收。請問，購物時主動向商家索取統一發票，可以避免業者逃漏哪兩種稅目？

- (A) 營業稅、營利事業所得稅
- (B) 貨物稅、營利事業所得稅
- (C) 關稅、娛樂稅
- (D) 贈與稅、營業稅

41.(甲)徵收房屋稅、關稅等地方稅收(乙)中央依地方制度法規定，將國稅統籌分配給各級政府(丙)興建故宮博物院收取門票(丁)舉辦活動如海洋音樂季、客家桐花祭，繁榮地方經濟。請問，根據我國地方政府收入的規定，上列選項敘述完全符合的有那些？

- (A) 甲乙丙 (B) 乙丁 (C) 甲丙丁 (D) 丁

新北市立新莊國民中學 106 學年度第 1 學期第 2 次段考 8 年級社會領域試題卷

班 座號 姓名

42.阿達在公平交易委員會網站看到一則新聞指出，某開發建設公司銷售新北市預售屋建案廣告不實，遭裁罰 50 萬元。請問，上述作法，主要能發揮政府的哪一項經濟功能？

- (A) 提供公共財 (B) 保障私有財產
(C) 維持經濟秩序 (D) 縮短貧富差距

43.為了拓展自治財源、增加地方收入，地方政府常以興建公共造產的方式來開闢財源。請問，新北市政府的以下作為(甲)興建公立游泳池收取門票(乙)興建新莊國中收學雜費(丙)興建新莊第一公有市場收取租金(丁)興建公有停車場收取停車費(戊)興建里民活動中心供居民休憩。上述有幾項符合前述條件？

- (A) 2 項 (B) 3 項 (C) 4 項 (D) 5 項

44.金鐘獎是臺灣傳播媒體的官方榮譽獎項之一，與金馬獎、金曲獎並列為三大娛樂獎項，稱為「三金」。金鐘獎是臺灣演藝人員追求的榮譽目標，入圍者即是受到肯定，而獲獎者可以得到政府頒發獎金與獎盃的鼓勵。請問，政府每年編列經費舉辦各類大型頒獎活動，主要在發揮哪一項經濟功能？

- (A) 降低外部成本 (B) 保障私有財產
(C) 維持經濟秩序 (D) 增進外部效益

45.(甲)新北市新莊區光和美(乙)台東縣池上鄉(丙)嘉義縣東石鄉網寮村(丁)花蓮縣玉里鎮。請問，上述單位有哪些屬於我國現行的地方自治團體？

- (A) 甲乙丙 (B) 乙丙丁 (C) 甲丙丁 (D) 乙丁

46.民國 86 年，政府推動省虛級化政策，下列關於現行「省」的敘述，何者正確？

- (A) 省是行政院派出機關，仍具有地方自治團體性質
(B) 省長改為省主席、省諮議員改為省議員
(C) 省政府官員由行政院長直接任命
(D) 「精省」的主因，在於省政府與中央政府管轄範圍高度重疊

【題組三：第 47 ～ 50 題】

下表是 小花 家去年帳本上的家庭收支紀錄表。請根據表中內容回答下列問題。

項目	金額
水電費	3300 元
遺產稅	2000 元
社會住宅租金	7000 元
所得稅	5200 元
台新銀行貸款利息	5000 元
交通違規罰單	2000 元
路邊停車費	1000 元
魔法健身中心月費	3000 元
申請護照費	1300 元
使用牌照稅	1000 元

47.小花家所支出的項目中，屬於政府收入來源的項目總共多少元？

- (A) 27800 元 (B) 22800 元 (C) 21800 元 (D) 19800 元

48.承上題，請分析 小花 家繳交給政府的費用中，為國庫增加最多的是政府的哪一項收入？

- (A) 國有財產收入 (B) 公營事業收入
(C) 租稅收入 (D) 規費收入

49.小花家所繳的「遺產稅」與「使用牌照稅」依照 課稅對象 區分，分別屬於下列何種租稅項目？

- (A) 所得稅、財產稅 (B) 財產稅、財產稅
(C) 財產稅、銷售稅 (D) 國稅、地方稅

50.小花 每年 5 月誠實申報個人綜合所得稅，善盡國民義務。請問，關於所得稅的敘述(甲)所得越高繳稅越多，藉以縮短貧富差距(乙)依照受益原則課稅，符合使用者付費概念(丙)屬於中央徵收的財產稅，由國稅局負責徵收(丁)依照量能課稅原則，採累進稅率徵收。上述選項有哪些正確？

- (A) 甲乙丙 (B) 乙丙丁 (C) 甲丙丁 (D) 甲丁

新北市立新莊國民中學 106 學年度第 1 學期第 2 次段考 8 年級社會領域試題

解答

1	2	3	4	5	6	7	8	9	10
D	A	C	A	C	D	B	A	B	D
11	12	13	14	15	16	17	18	19	20
C	A	C	B	B	C	D	A	D	A
21	22	23	24	25	26	27	28	29	30
C	B	D	C	C	A	B	B	B	A
31	32	33	34	35	36	37	38	39	40
C	D	D	A	A	C	C	B	C	A
41	42	43	44	45	46	47	48	49	50
D	C	B	D	D	D	B	C	B	D