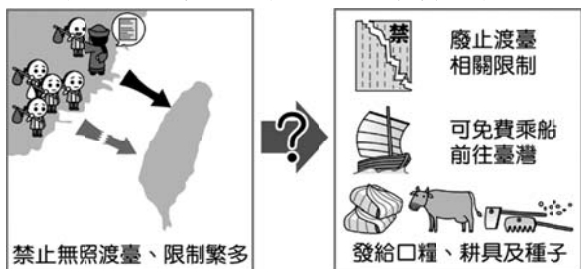


※ 選擇題：本試卷共 50 題，每題 2 分，總分為 100 分。
每一題均為單選題，請選出最適當答案。

- 偉竣是嘉慶年間的泉州人，他因生存因素移民到臺灣鹿港一帶。請問：下列關於他當時可能會有的生活經驗，何者正確？
(A) 因渡臺禁令解除，所以偉竣終於可以和他在泉州的妻兒團聚
(B) 偉竣加入當地的泉郊經營泉州的貿易，經濟狀況逐漸改善
(C) 在臺灣偉竣屬於客家族群
(D) 偉竣因和人發生土地糾紛，所以向當地的嘉義縣縣衙尋求協助

- 附圖呈現某一歷史事件前後，清朝治臺措施的差異。從圖中內容判斷，底下與此一事件相關的敘述何者正確？

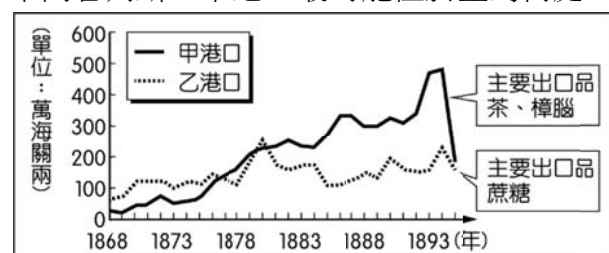


- 此一事件造成劉銘傳來台
 - 此一事件是指中法戰爭
 - 此事件造成清朝治台態度的轉變由消極轉為積極
 - 此事件造成台灣建省
- (甲) 戴潮春事件 (乙) 朱一貴事件 (丙) 林爽文事件 (丁) 郭懷一事件，上列為台灣史上有名的反荷、反清事件，若按事件發生的先後順序排列應該為下列何者？
(A) 乙丁丙甲 (B) 乙丙甲丁 (C) 丁丙乙甲 (D) 丁乙丙甲
 - 律維參加班上的班遊來到板橋，在結束板橋林家花園的參訪後，他路經一間幼稚園，在幼稚園的招牌旁寫著大觀○○，原來這間幼稚園的前身是板橋望族林維源為了化解當地的漳泉械鬥，協同族人出資興建，免費收容兩地子民學習，以消除漳州人與泉州人的對立，並化解地方的暴戾之氣。請問：「大觀○○」應該屬於清領時期下列哪一種教育機構？
(A) 義學 (B) 社學 (C) 書院 (D) 儒學
 - 「新莊廣福宮，昔稱???廟，坐落於新北市新莊區新莊路，該宮經內政部公告指定為國家二級古蹟。它建於清乾隆 45 年（西元 1780 年），由廣東人捐建...」請問：以上敘述中的???廟應填入廣東人虔誠信仰的甚麼神明才對？
(A) 媽祖 (B) 保生大帝 (C) 三山國王 (D) 開漳聖王
 - 俗話說：「仙拚仙，拚死猴齊天。」這句話起源於過去在台灣移民社會中，常因為族群、利益的衝突，而時常發生爭鬥，社會無一日安寧。請問：以下何者是屬於此類的性質？
(A) 閩粵械鬥 (B) 戴潮春事件 (C) 牡丹社事件 (D) 三藩之亂
 - 霧峰林家與近代台灣歷史的發展關係非常密切，明末清初起，中國閩粵沿海地區，不少人紛紛向海外謀求生存發展，其中霧峰林家的林石就是其中之一。他從漳州移民到台中大里後累積大量田產，但因林爽文事件受牽連，舉家遷移至霧峰。請問：根據上文的敘述，林家子孫應該將林石尊奉為哪一種祖先來祭祀？
(A) 開台祖 (B) 媽祖 (C) 開漳聖王 (D) 唐山祖


- 附表是承謄所做的臺灣清領前期與後期經濟發展的比較筆記，請問：附表中的哪一項目，承謄整理錯了？
(A) 甲 (B) 乙 (C) 丙 (D) 丁

| 項目 | 清領前期 | 清領後期 |
|--------|----------|-------------|
| 甲、主要港口 | 府城、鹿港、艋舺 | 淡水、雞籠、安平、打狗 |
| 乙、輸出品 | 稻米、蔗糖 | 茶、蔗糖、樟腦 |
| 丙、經營組織 | 洋行 | 郊行 |
| 丁、政經重心 | 南部 | 北部 |

- 上歷史課時同學以「開港通商後西方文化的橋樑」為題進行角色扮演，根據下列對話判斷，何人是扮演「馬雅各」的角色？
(A) 柏綸說：「我創建了牛津學堂和淡水女學堂，用宗教傳教。」
(B) 友仁說：「我在台南市看西街成立了台灣第一間西醫醫館。」
(C) 宏承說：「我建立了西學堂和電報學堂，引進西式教育。」
(D) 郡恩說：「我廢除了渡台禁令和畫界封山的政策，積極治理台灣。」
- 新莊國中舉辦校外教學來到億載金城，曾老師請同學們根據所學的知識提出關於億載金城的說明。下列哪一位同學的說明有誤？
(A) 鈺鈞：「與牡丹社事件有關。」
(B) 柏勳：「位於台南市。」
(C) 郁閔：「是台灣第一座新式砲台。」
(D) 閔安：「由劉銘傳興建。」
- 師大歷史系的傳統-歷史之夜，是系上每年最重要的活動，每年總是會訂定主題表演戲劇。今年的主題是「清領後期的台灣」，所以請問：以下哪一段劇情不能編入？
(A) 朱一貴率領群眾起兵反清
(B) 丁日昌架設府城到安平、旗後的電報線
(C) 牧師馬偕在淡水建立牛津學堂
(D) 戴潮春領導人民反抗清朝
- 附圖為臺灣某時期兩大港口的海關出口值統計圖。由圖中內容判斷，甲港口最可能位於臺灣何處？



- 安平 (B) 淡水 (C) 打狗 (D) 蘇澳
- 瑜軒想了解清朝中法戰爭的經過，她應該報名列下列哪一位領隊的行程，才能看到當時因中法戰爭造成毀損的砲台？
(A) 子宸：恆春城溯源之旅
(B) 信美：台南赤崁樓探秘之旅
(C) 家儀：台南億載金城探險之旅
(D) 芷淳：基隆海門天險之旅
 - 臺灣隨著漢人的開發，國外也愈來愈喜愛臺灣的出口商品，但受限於清廷政策，附圖中的場景要到下列哪一事件後才會發生？
(A) 中法戰爭 (B) 鴉片戰爭
(C) 英法聯軍 (D) 甲午戰爭




15. (甲) 施琅攻臺 (乙) 中法戰爭 (丙) 臺灣開港通商 (丁) 臺灣建省 (戊) 牡丹社事件。有關上述臺灣歷史大事，若按照先後順序排列，下列何者正確？

(A) 甲丙戊丁乙 (B) 甲丙戊乙丁
(C) 丙甲戊乙丁 (D) 丙戊乙甲丁

16. 宸瑋、易佑和庭裕在課堂上討論某一段臺灣歷史。宸瑋說：「這件事情起因是琉球人民被臺灣原住民殺害，日本以此為藉口出兵」。庭裕說：「結果清廷竟承認這個國家的出兵行為是『保民義舉』」。易佑說：「此事件後台灣的行政建置從一府變成兩府」。請問：以下哪個選項比較符合討論內容？

(A) 英法聯軍 (B) 中法戰爭 (C) 霧社事件 (D) 牡丹社事件

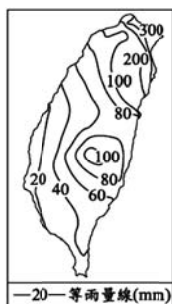
17. 歷史老師用附圖投影片講解臺灣某個時期的交通建設，依圖中內容判斷，這應是指下列哪一時期？



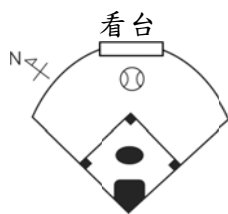
(A) 沈葆楨來台建設時期 (B) 清領前期
(C) 劉銘傳來台建設後 (D) 日本統治時期

18. 右圖為台灣某個月的月平均等雨量線圖，若根據圖中的雨量分布情形判斷，下列台灣的氣候特色，何者可能會跟這張圖同月份？

(A) 炎夏午後暴雨淹水
(B) 鋒面滯留陰雨連綿
(C) 颱風侵襲狂風豪雨
(D) 寒流來襲天冷降溫



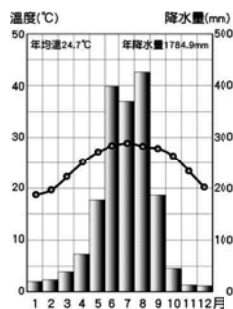
19. 高中棒球聯賽將於新莊棒球場舉辦，下圖為新莊棒球場示意圖。受季節風向的影響，下列哪個賽程，將有助於打擊者擊出飛往看台方向的全壘打？



(A) 10/15~10/2 (B) 12/15~12/25
(C) 5/15~5/25 (D) 7/15~7/25

20. 氣候圖是用來理解一個地區氣候的重要依據，從右圖氣候圖所得到的資訊中，下列何者正確？

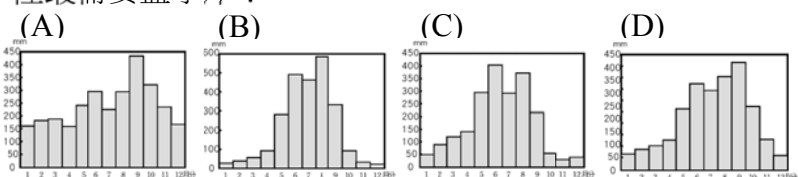
(A) 5 月均溫為 17.5°C
(B) 9 月均溫 28°C
(C) 年溫差 33°C
(D) 12 月雨量 200mm



21. 中央氣象局上架氣象行動 APP 供民眾下載，裡面有許多台灣各區的即時天氣概況。請問：此氣象 APP 不可能出現下列何種資訊？

(A) 最高溫度 (B) 降雨機率 (C) 風向風速 (D) 當月均溫

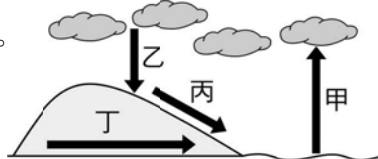
22. 「臺灣降雨豐沛，但因降雨分布的影響，須建立水庫以儲存水源。」根據上文判斷，下面四張雨量分布圖，哪裡最需要蓋水庫？



23. 台灣降水量極為豐富，卻因「坡陡流急，河川急流入海」，無法有效儲存水源，名列世界缺水國家第 18 名。

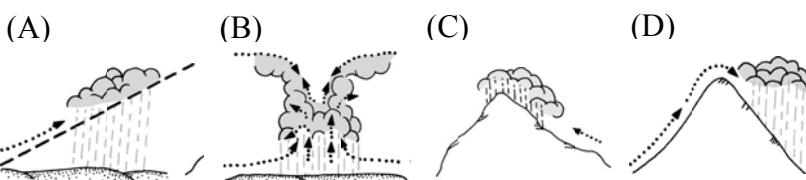
若用水循環的過程來解釋

「坡陡流急，河川急流入海」，其應位於圖中何處？



(A) 甲 (B) 乙 (C) 丙 (D) 丁

24. 「夏季午後的天空，不一會兒烏雲密布，瞬間下起傾盆大雨，街上的行人忙著跑去躲雨，計程車司機倒是笑開了眼……」下列哪張示意圖可以用來解釋文中的降雨類型？



25. 下表為新竹風力發電機組的發電量統計表，若依照量高低來判斷，這幾台機組應面向哪個方向？

(A) 西北 (B) 西南 (C) 東北 (D) 東南

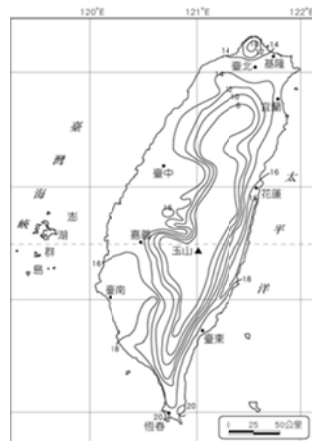
| 月份 | 1~2 | 3~4 | 5~6 | 7~8 | 9~10 | 11~12 |
|----------|-----|-----|-----|-----|------|-------|
| 發電量 (萬度) | 250 | 100 | 50 | 50 | 200 | 350 |

26. 「新店溪的河水為大台北地區目前主要的用水來源，從直潭、青潭兩個取水口引入的河水會先送到直潭、長興以及公館淨水廠處理後，再送到民眾的家中。為確保水質，杜絕水源汙染，新店溪自清潭取水口以上的集水區內全面禁養豬隻。」上述文章提到禁養豬隻的集水區，位於哪一座山脈的範圍？

(A) 雪山山脈 (B) 中央山脈 (C) 海岸山脈 (D) 玉山山脈

27. 右圖為台灣的一月等溫線分布圖，請據此圖判斷下列何者正確？

(A) 離海越近，溫度越低
(B) 緯度越低，溫度越高
(C) 地勢越高，溫度越高
(D) 經度越高，溫度越高



【題組一】右圖為某地區的流域分布，請問：

28. 依照右圖判斷，這個地區共有幾個水系？

(A) 三個 (B) 四個
(C) 五個 (D) 六個

29. 水庫需興建在有乾淨水源的地區，若依照集水區的範圍來看，下列何者的水源最乾淨？

(A) 甲 (B) 乙 (C) 丙



【題組二】右圖為台灣重要的水系分布圖，請根據此圖回答下列問題：

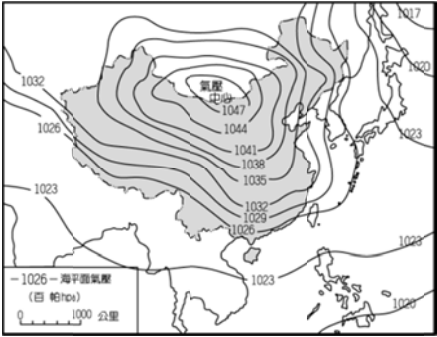
30. 「臺灣河川多半短促，水流湍急，平常水量很少，洪水時急流而下，流量及流速均高，是極難治理又無航運之利的河川，因此被稱為荒溪型河川。」這段用來說明台灣河川特色的文字，無法適用在圖中哪條河流？

(A) 甲 (B) 乙 (C) 丙 (D) 丁



31. 「這條河川舊名為下淡水溪，發源於玉山山脈附近，共流經二十多個鄉鎮市，目前為全臺流域面積第一、長度第二之河川。」這應該是指圖中哪條河川？
- (A) 甲 (B) 乙 (C) 丙 (D) 丁

【題組三】下圖為台灣某重要節慶的地面天氣圖，請根據此圖回答下列問題：



32. 請問這個重要節慶可能為下列何者？
- (A) 端午節 (B) 父親節 (C) 中秋節 (D) 聖誕節
33. 氣象專家若要利用此地面天氣圖來預測天氣，則下列何項資訊可從圖中判斷？
- (A) 風向 (B) 溫度 (C) 均溫 (D) 雨量
34. 關於圖中氣壓中心的敘述，下列何者正確？
- (A) 熱帶性低氣壓 (B) 天氣晴朗無雲 (C) 中心對流旺盛 (D) 天氣陰晴不定
35. 開會時討論事項的提出，可以分成提案或動議兩種方式。請問：以下關於提案或動議的敘述何者**正確**？
- (A) 提案是會議成員在會議中以書面方式提出 (B) 動議要以口頭方式提出，需經一人以上附議 (C) 提案要在「臨時動議」程序時討論 (D) 開會前以書面方式所提出的稱為「動議」
36. 羅賓與同學酷姬利用課餘時間到里長辦公室擔任志工打掃社區，協助維護社區整潔。下列有關羅賓與酷姬兩人打掃社區環境的敘述，何者**正確**？
- (A) 屬於社區總體營造 (B) 屬於短期的社區參與型態 (C) 目的為提升社區生活品質的社區參與 (D) 對社區意識提升沒有幫助
37. 台北市政府都市發展局表示，依照(甲)規定，公寓大廈設有(乙)，於是透過優良公寓大廈評選活動，協助(乙)積極參與社區事務，主動做好管理維護，不僅有利於社區和諧，對環境改造也有很大幫助。請問：文中所說的(甲)、(乙)依序為何？
- (A) 公寓大廈管理條例、社區管理委員會 (B) 社區組織法、社區發展協會 (C) 社區組織法、社區管理委員會 (D) 公寓大廈管理條例、社區發展協會
38. 承上題，關於(乙)的敘述何者**錯誤**？
- (A) 成立目的為提升社區生活品質 (B) 通常以召開會議的方式討論社區事務 (C) 是衛生福利部為了推動社區工作而補助的社區組織 (D) 通常出現在都市型態的社區
39. 嘉義新港鄉板頭村將傳統的交趾陶藝術化身為公共造景，不僅發展了旅遊觀光產業，更讓造訪的民眾重新認識交趾陶文化之美。請問：嘉義新港鄉板頭村的當地居民，達到那些社區營造的目標？(甲)產業發展 (乙)社福醫療 (丙)生態環保 (丁)人文教育。
- (A) 甲乙 (B) 乙丙 (C) 甲丙 (D) 甲丁

40. 關於台灣鄉村型態社區與都市型態社區的比較，下列哪些是**正確**的選項？

| 選項 | 鄉村型態社區 | 都市型態社區 |
|----------|-------------|---------|
| (甲) 職業型態 | 性質接近 | 較多樣化 |
| (乙) 社區參與 | 意願低 | 意願高 |
| (丙) 互動關係 | 密切 | 疏離 |
| (丁) 舉例 | 中壢市過嶺社區發展協會 | 許厝港、劉厝埔 |

41. 學生廣仲非常喜歡下象棋，若他想向學校申請成立象棋棋藝社團，此社團成立與實施的**正確**步驟為何？(甲)推展各項自治事務(乙)成立自治組織(丙)訂定自治規範。
- (A) 甲→乙→丙 (B) 丙→乙→甲 (C) 乙→甲→丙 (D) 乙→丙→甲

42. 有關權宜問題和秩序問題的比較，下列哪些**正確**？
- (A) 甲乙 (B) 乙丙 (C) 甲丙 (D) 甲丁

| 選項 | 權宜問題 | 秩序問題 |
|----------|---------------|---------------|
| (甲) 提出時機 | 議場的偶發事件 | 會議程序發生錯誤 |
| (乙) 實例 | 臨時動議後，班級幹部才報告 | 突然停電，引起騷動 |
| (丙) 目的 | 在改正會議本身進行中的錯誤 | 在排除阻礙會議進行中的事故 |
| (丁) 處理方式 | 由主席裁決 | 由主席裁決 |

43. 一般來說，社區包含了五個構成要素，除了居民、地區、共同關係外，還包含了下列何者？(甲)社區意識 (乙)社區教育 (丙)社區活動 (丁)社區組織
- (A) 甲乙 (B) 甲丁 (C) 乙丙 (D) 丙丁
44. 同學們在下課時討論自己假日的活動，請問：下列哪一位同學的例子，**最符合**「社區參與」的做法？
- (A) 勤益：「姑姑帶我在陽台種花草盆栽，美化居家環境。」 (B) 雨娟：「我和家人到電影院欣賞國片動畫『幸福路上』。」 (C) 大明：「我和叔叔一起上街遊行，為勞工爭取工作權益。」 (D) 怡君：「我們全家在社區跳蚤市集擺了一個攤位，所得挹注給社區發展協會。」

【題組四】波特是霍格華茲的新生，被分配到葛萊芬多學院，他經常被史萊哲林學院的馬份同學找碴。在一次全校的師生會議中，波特提出將後花園規劃成黑魔法訓練場地的臨時動議，卻遭到馬份同學不斷以噪音干擾，讓場面十分尷尬。最後幸好妙麗提出某項問題，馬份的行為才被制止。回答下列問題：

45. 請問妙麗的發言，依照內政部頒訂之會議規範的程序，要經過誰的裁決？
- (A) 導師 (B) 班長 (C) 主席 (D) 紀錄
46. 根據上述內容判斷，妙麗提出的是下列何項問題？
- (A) 秩序問題 (B) 會議問題 (C) 程序問題 (D) 權宜問題
47. 在會議進行的過程，何者**不屬於**「討論事項」？
- (A) 動議 (B) 討論 (C) 表決 (D) 工作報告

【題組五】下列是橘子家成員們的生活樣貌，(甲)橘子：在高中音樂課與同學彩排校慶表演活動(乙)爸爸：在輔大進修推廣部上咖啡研習課程(丙)媽媽：在家說故事給小寶聽(丁)柚子：到松山文創園區看太陽劇團表演(戊)爺爺：參加新莊西盛社區發展協會所辦的書法研習班(己)奶奶：參加三峽老街商圈發展協會的古蹟導覽活動。

48. 有幾人正在接受學校教育？
- (A) 1 人 (B) 2 人 (C) 3 人 (D) 4 人
49. 哪幾項是屬於社區組織辦理的相關活動？
- (A) 甲乙 (B) 乙丙 (C) 甲丁 (D) 戊己
50. 從上文中橘子一家人的日常生活情形，可以看出下列何者？
- (A) 學生自治 (B) 學習型組織 (C) 終身學習 (D) 社區營造

新北市立新莊國民中學 106 學年度第 1 學期第 3 次段考 7 年級社會領域試題

解答

| | | | | | | | | | |
|----------|----------|----------|----------|----------|----------|----------|----------|----------|----------|
| 1 | 2 | 3 | 4 | 5 | 6 | 7 | 8 | 9 | 10 |
| B | C | D | A | C | A | A | C | B | D |
| 11 | 12 | 13 | 14 | 15 | 16 | 17 | 18 | 19 | 20 |
| A | B | D | C | B | D | C | D | D | B |
| 21 | 22 | 23 | 24 | 25 | 26 | 27 | 28 | 29 | 30 |
| D | B | C | B | C | A | B | C | A | A |
| 31 | 32 | 33 | 34 | 35 | 36 | 37 | 38 | 39 | 40 |
| D | D | A | B | B | C | A | C | D | C |
| 41 | 42 | 43 | 44 | 45 | 46 | 47 | 48 | 49 | 50 |
| D | D | B | D | C | D | D | A | D | C |