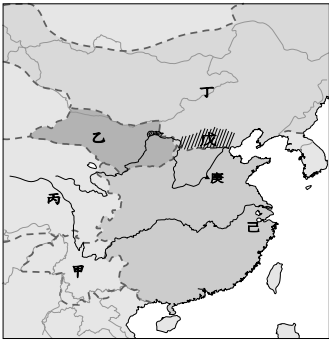


※ 選擇題：本試卷共 50 題，每題 2 分，總分為 100 分。
每一題均為單選題，請選出最適當答案。


【題組一】右圖為北宋與周圍外患形勢圖。請根據此圖，回答第 1 題至第 2 題：

1. 「軍隊行至陳橋驛，眾人為他黃袍加身，而後率兵回開封，並約束將士不能燒殺搶掠，只有京城巡檢使韓通倉皇抵抗，但隨即就被殺。後周恭帝禪位，他接任帝位。」請問：依上述事件而稱帝的人物，下列何者與其有關？



- (A) 定都於圖中己城
 - (B) 禮遇武將，賦予朝廷重要職務
 - (C) 在邊防重地設置大量節度使，掌握兵權以保護中央
 - (D) 形成內重外輕的局面，導致國家無力對抗外患
2. 某國曾於五代時取得圖中戊區而實力大增，日後更大舉進攻中國，對宋朝造成嚴重威脅。請問：關於此國的敘述，下列何者正確？
- (A) 位於圖中乙區
 - (B) 北宋在庚城與其簽訂和約，首開歲幣求和的先例
 - (C) 為党項族所建
 - (D) 北宋聯合蒙古將其消滅

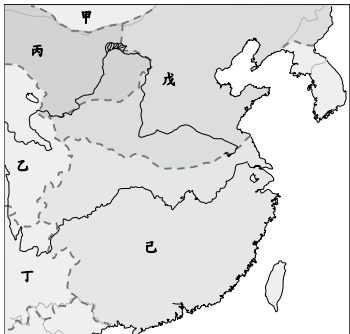
3. 下表顯示北宋在政治經濟上出現很大問題，因而有人主張變法，以令國家富強，但也有大臣對改革抱持不同意見（如右圖）。請問：下列敘述何者錯誤？



時代	宋太祖	宋真宗	宋仁宗
官員人數	2 千多人	1 萬多人	2 萬多人
士兵人數	37 萬人	91.2 萬人	125 萬人

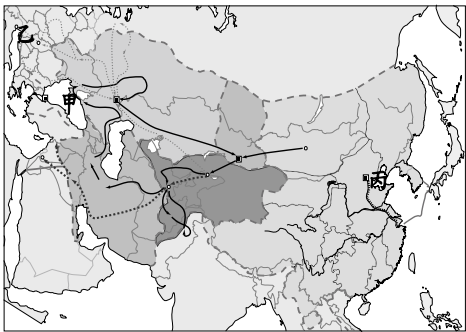
- (A) 官員人數的變化是因北宋實施文人政治，科舉錄取名額多
- (B) 圖中甲大臣在黨爭中屬於舊黨
- (C) 士兵人數的變化顯示外患屢犯，不斷增兵卻作戰效果不彰之惡性循環
- (D) 圖中乙大臣的改革成功，使北宋國勢轉弱為強

4. 「怒髮衝冠，憑欄處，瀟瀟雨歇...臣子恨，何時滅！駕長車，踏破賀蘭山缺。壯志飢餐胡虜肉，笑談渴飲匈奴血。待從頭，收拾舊山河，朝天闕。」以上是岳飛所寫的〈滿江紅〉之部分內容。請問：下列何者為此首詞描述的歷史背景？



- (A) 岳飛「臣子恨，何時滅」，是因發生永嘉之禍而皇帝被擄
- (B) 宋徽宗和宰相秦檜主和，岳飛即使「怒髮衝冠」仍壯志未酬
- (C) 「收拾舊山河」是指岳飛想收回被敵人占領的右圖中戊區土地
- (D) 「壯志飢餐胡虜肉，笑談渴飲匈奴血」是指岳飛恨不得將圖中甲國消滅

5. 蒙古大軍的鐵騎在十三世紀踏過世界上許多土地，驍勇善戰、所向披靡，所到之處令人聞風喪膽。另一方面，蒙古西征也促進了東西文化的交流。請問：下列敘述何者錯誤？

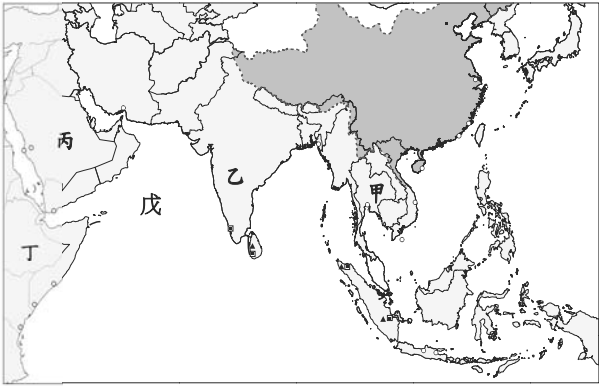


- (A) 右圖甲為第一次西征路線，最遠可達黑海沿岸
 - (B) 中國的火藥、印刷術、指南針透過蒙古西征傳入歐洲，對世界歷史影響很大
 - (C) 右圖乙為第二次西征最遠到達處，歐洲人稱蒙古大軍為「黃禍」
 - (D) 忽必烈定都於右圖丙城，此城亦為明、清首都所在地
6. 有一段文章說道：「最高政治目標為延續甲的『少數統治』。為達此一目標，種族主義始終為元廷統治的最高準則。奉行『甲至上主義』，確保其政治、經濟特權。」請問：依據元朝的統治政策，下列敘述何者錯誤？
- (A) 文章中甲族群可擔任中央到地方的重要官職
 - (B) 種族歧視為元朝統治中國短短九十年即滅亡的主因
 - (C) 文章中甲族群參加科舉時題目較易且只需考兩場
 - (D) 色目人地位最低，且在政治及法律上均受不平等對待
7. 小惠乘坐時光機進入清明上河圖描繪的歷史場景，體驗古代人的生活。請問：下列何者是她可能遭遇的情況？
- (A) 到「正店」喝酒，在街上聽說書
 - (B) 出門逛夜市，買烤玉米和烤蕃薯來吃
 - (C) 坊、市分隔，買賣東西的地方有營業時間限制
 - (D) 街上店舖林立，買東西用寶鈔付錢
8. 「理是宇宙萬物的起源，通過推究事物的道理（格物），可以達到認識真理的目的（致知）。人如果無法收斂私慾的擴張，就會偏離天理，不但無法成為聖人，還會迷失於世間，所以要涵養自己，讓一動一念合於天理。」請問：下列何者和上文所述學術思想最為符合？
- (A) 以老子、莊子、易經為討論素材，崇尚玄虛
 - (B) 集大成者為蘇軾，曾於嶽麓書院講學
 - (C) 強調品德修養，使得宋朝以後名節觀念深入人心
 - (D) 《四書集注》從唐朝起成為科舉考試的定本
9. 小華將中國重要的歷史著作整理成以下表格，卻錯誤百出，請問他只寫對了哪一格？


著作	作者	體裁	內容涵蓋的朝代
史記	司馬光	(乙)編年體	斷代史－西漢
漢書	班固	(丙)紀傳體	通史－戰國到五代
資治通鑑	(甲)司馬遷	紀傳體	(丁)通史－黃帝到漢武帝

- (A) 甲 (B) 乙 (C) 丙 (D) 丁
10. 「此人起兵造反，號稱『清君側』，指國君身邊的齊泰和黃子澄為奸臣而需要鏟除，稱自己的舉動為『平定國難』。燕軍攻入南京後，朱允炆不知所終，此後下落成為謎團。建文四年（洪武三十五年）六月十七日，此人登基即皇帝位。」請問：下列何者並非文中描述的人物當上皇帝後推行的措施？
- (A) 首度廢除丞相一職，集國家大權於一身
 - (B) 疏通北京到杭州的運河，便利南北交通
 - (C) 遷都北京、修築長城，以抵禦北方外患
 - (D) 讓宦官主持東廠，地位在錦衣衛之上

11. 「西元 1405 年他率領二百四十多艘海船、二萬七千四百名船員遠航，拜訪了三十多個國家和地區，直到 1433 年一共航行了七次之多。他的旅行探險被稱之為『三保太監下西洋』。」請問：下列何者為此位航海家的事蹟？



- (A) 船隊最遠航行到右圖丙半島的東岸
(B) 船隊航行的「西洋」是指右圖戊區，即為大西洋
(C) 遠航促使國人往海外定居，奠定華僑在歐洲的社經基礎
(D) 明成祖時首度遠航，目的之一是要尋找惠帝下落
12. 「總括一州之賦役，量地計丁，丁糧畢輸於官，一歲之役，官為僉募，力差則計其工食之貨，量為增減，銀差則計其交納之費，加以增耗。凡額辦、派辦、京庫歲需與存留供億諸費，以及土貢方物，悉併一條。」請問：下列何者與實施此政策的人物有關？
- (A) 宋神宗時由於內政與外患問題嚴重而推動改革
(B) 反對改革的東林黨與支持改革者之間鬥爭不斷，政局敗壞
(C) 主張將田賦及勞役合併，計畝徵收白銀
(D) 整頓軍事、鞏固北方邊防，防止契丹人入侵
13. 清聖祖、世宗、高宗在位的一百多年期間，勤於政事，文治武功強盛，史稱「康雍乾盛世」。請問：以下哪些事件發生在此段時期？ (甲)平定三藩之亂 (乙)改國號為清、族名為滿洲 (丙)吳三桂降清，清兵進入山海關 (丁)要求薙髮留辮、大興文字獄 (戊)攻克台灣 (己)消滅流寇勢力
- (A) 甲丁戊 (B) 乙丙丁 (C) 丙丁戊 (D) 丁戊己
14. 小明是生活在清代的讀書人，他想藉由參加科舉考試來當上官員，從此飛黃騰達、平步青雲。請問：下列何者不可能是小明經歷的情形？



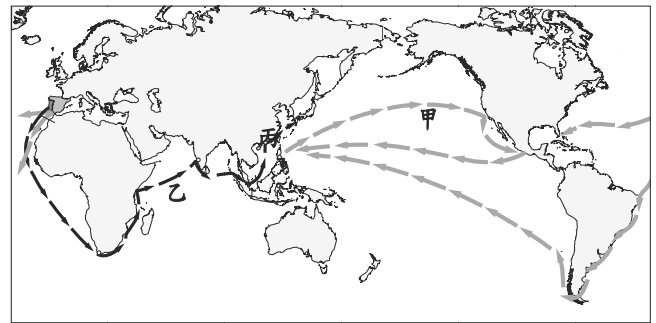
- (A) 寫文章要排比對偶，並遵循格式與字數的限制
(B) 參加會試及格後被稱之為「舉人」
(C) 考取功名後成為享有特權的士紳階級
(D) 為了成為右圖丙、丁身分，必須到北京城參加考試

15. 某本明代著作中有如右圖的插畫，此書被稱為「技術百科全書」，對中國古代各項技術進行系統性總結，構成完整的科學技術體系。對農業方面見解精闢，也全面反映工藝技術的成就。書中記述的許多生產技術，一直沿用到近代。請問：此書的作者應為何人？

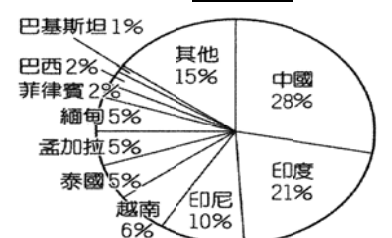


- (A) 李時珍 (B) 羅貫中 (C) 沈括 (D) 宋應星

16. 西元 15 世紀末，歐洲人開啟了大航海時代，各國熱衷於遠航來獲取龐大經濟利益，爭奪海上霸權以宣揚強盛國力。請問：下列敘述何者正確？



- (A) 乙航線為西班牙率先發現通往亞洲的新航路
(B) 透過甲航線美洲作物傳入中國，緩和糧食不足的問題
(C) 甲航線為葡萄牙拿白銀和中國交易絲綢的「海上絲路」
(D) 英國以圖中丙地作為和東方貿易的據點
17. 右圖來自於義大利的傳教士身穿儒服，自稱儒生，以儒家學說論證教義，並將西方科技傳入中國，為明末中西文化交流的先驅。請問：下列何者為此位傳教士的事蹟？
- (A) 和吳承恩合譯《幾何原本》前半部
(B) 隸屬於基督教長老教會
(C) 允許教徒祭祖拜孔而得到士人好感
(D) 繪製第一部畫有經緯線的地圖—皇輿全覽圖
18. 髮菜主要生長在乾燥荒地上，具有「含水固土」的作用。由於髮菜的發音似於「發財」兩字，因此常被視為吉祥物，出售價格頗高。然而，近年來中國當局為了保護環境，已下令全面禁採摘髮菜。根據上述，請問過度採摘髮菜與下列何種災害關係最為密切？
- (A) 湖北省土石流 (B) 北京市沙塵暴
(C) 湖南省暴雨 (D) 蘇省寒害
19. 迎晞在地理報告中寫道：「○○地處中國內陸，經濟發展較為落後。近年來因中國積極推動西部大開發政策，而造就了『一黑（石油）一白（棉花）』兩大資源，甚至培育出番茄、枸杞、紅蘿蔔等的『紅色產業』，使○○在中國的地位日漸受到重視……。」請問：迎晞所述的○○應是下列何處？
- (A) 青藏高原 (B) 四川盆地
(C) 塔里木盆地 (D) 長江中下游平原
20. 地理老師在上課中所寫下的板書何者正確？
- (A) 中國的薰衣草田多分布於東北平原
(B) 棉花適合生長於多雨的環境，故在季風氣候區可以見到最多的棉花田
(C) 冬季季風是影響中國水資源最重要的因素
(D) 羅布泊的消失是因為塔里木河的水量減少
21. 右圖是某種糧食作物的主要生產國及產量比例圖，此糧食作物適合種植於高溫多雨的環境，且主要多分布於季風氣候區中。請根據圖中資料判斷，該作物在中國境內生產的自然條件中，最主要的環境條件不包括下列何者？



- (A) 相對高度低的地形
(B) 日夜溫差大的條件
(C) 秦嶺、淮河以南的地區
(D) 年雨量大於 750 毫米

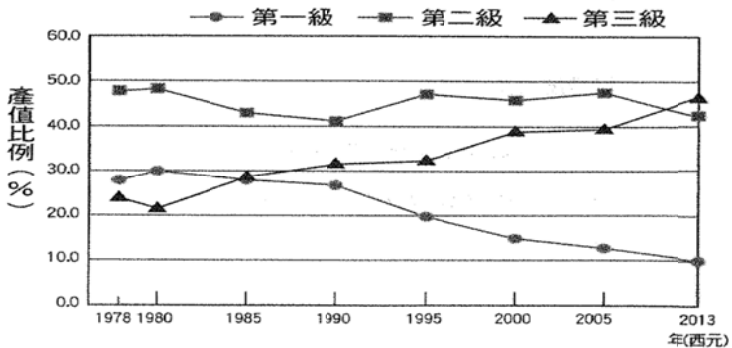
22. 《新科學人》雜誌報導，中國北方戈壁和塔克拉瑪干沙漠是亞洲最大的乾燥沙漠區，產生的大風暴將會使空氣品質下降並影響人們的健康。請問造成此種情況日趨嚴重的原因，不包含下列何者？
- (A) 農民為了增加產量而過度開墾
(B) 人類因發展需求而造成土地超限
(C) 牲畜過度放牧而導致草原大量減少
(D) 因雨量多而造成土中的鹽類被析出地表
23. 承上題，中國政府為了解決此一問題，築了一道「綠色長城」。請問綠色長城指的是下列哪項措施？
- (A) 修築河流堤防 (B) 增建萬里長城
(C) 設置大量的綠能發電風車 (D) 積極造林
24. 新聞報導指出：「中國政府在 1950 至 1980 年間對○○地區施行冬季免費供煤取暖的政策，導致○○地區大量燒煤以致空氣污染嚴重，並影響了○○地區的平均壽命。」根據報導敘述，請問○○地區最有可能是下列何處？
- (A) 浙江省 (B) 山西省 (C) 四川省 (D) 海南省
25. 香港新聞報導指出：「為了減緩中國嚴重的霧霾問題，目前已有有人提出解決辦法並嘗試申請專利。」根據上述，此災害的產生與下列何種現象較有關連？
- (A) 華北地區重工業發達 (B) 東北農民耕作大量施肥
(C) 長江地區圍湖造田 (D) 春季滯留鋒面在海面徘徊
26. 關於中國三大經濟帶的敘述，下列何者為非？
- (A) 喀什經濟區在一帶一路的政策中占重要地位
(B) 武漢位於長江中下游平原，屬於東部經濟帶
(C) 重慶市是西部經濟帶中成長最為快速的城市
(D) 三大經濟帶的經濟水準由東向西遞減
27. 農作物收穫次數的多寡和該地區生長季的長短有關。請依此判斷，下列何處的作物收穫次數可能最多？
- (A) 珠江三角洲 (B) 長江三角洲
(C) 四川盆地 (D) 東北平原
28. 為了改善缺水問題，中國政府實施「南水北調」的工程以解決缺水問題。如圖所示，請問此工程的輸水方向應為下列何者？
- (A) 己→戊
(B) 戊→丙
(C) 丙→乙
(D) 乙→甲
29. 秦嶺、淮河一線為區分中國南北重要的地理界線。請依此判斷，下列選項何者正確？
- (A) 南旱北水：南方旱田為主，北方水田為主
(B) 南麥北稻：南方以小麥為主食，北方以稻米為主食
(C) 南綢北襖：南方多以穿著綿綢為主，北方多以穿著皮襖為主
(D) 南甜北蔗：南方主要種植甜菜，北方多種植甘蔗
30. 在傳統的觀念裡，中國南部地區是稻米生產重鎮。然而根據中國官方所公布的統計資料發現，黑龍江省的稻米產量已經擠進全國前十大，試問造成這種轉變的原因為何？
- (A) 氣候變遷全球暖化 (B) 食用米食人口愈來愈多
(C) 耕作技術的改善 (D) 國際稻米價格日益下跌

31. 「農曆年後即準備插秧工作，進入夏季後，便可收成。休息一段時間，重複一次循環，秋天就可以再一次收穫了。趁著冬天再利用時間栽種短期作物。」上文中提及的農業活動情形最可能出現在下表哪一地區？

(A) 甲 (B) 乙 (C) 丙 (D) 丁

地區	年雨量 (mm)	一月均溫 (°C)	七月均溫 (°C)
甲	1,625	19.2	28.4
乙	684	- 11.4	24.5
丙	139	- 18.5	23.0
丁	1,021	5.1	29.5

32. 中國自改革開放以來，三級產業占 GDP（國內生產總值）的比重經歷了重大的變化。請問如圖所示，可以看出目前中國經濟現況具有何種特色？



- (A) 農業人口比例日益降低 (B) 工商業漸為發展主力
(C) 都市化程度已達 90% (D) 金融業已集中東半部
33. 中國政府近年來積極推動產業升級，工業類型由傳統輕重工業逐漸轉型為高科技產業，例如運用鄰近的北京大學、清華大學等優秀人才的優勢條件所設立的「中關村」科技園區即是成功實例。根據中國沿海工業地帶的特色判斷，中關村設立於何處？



(A) 甲 (B) 乙 (C) 丙 (D) 丁

34. 下列何者並非中國現今所推動的重大政策？

(A) 西氣東輸 (B) 西電東輸
(C) 建設青藏鐵路 (D) 南民北移

35. 下表為拉拉整理有關「政黨與利益團體」的公民課上課筆記，經老師評閱之後，發現一項錯誤。請問：是哪一項？

項目	(A)目的	(B)參與選舉方式	(C)政策面向	(D)舉例
政黨	贏得選舉，爭取執政	推出候選人	只關心重視與自己團體有關的政策	時代力量
利益團體	影響公共政策	支持理念相同的候選人	注重多元化、多面向政策	工會

36. 我國自民國 92 年公布實施公民投票法，透過該法保障人民實踐公民投票的權利，也使我國成為東亞第一個採行公民投票的國家。請問：公民投票法主要能夠落實哪兩項人民權利？

(A) 選舉權、被選舉權 (B) 罷免權、創制權
(C) 選舉權、複決權 (D) 創制權、複決權

37. 關於我國公民投票的敘述，何者**正確**？
- (A) 凡是中華民國國民且身心正常即可參與投票
- (B) 公民投票主要目的在選出理想的公職人員
- (C) 選民必須在選區設籍滿 6 個月以上
- (D) 參與公民投票是每位公民應盡的義務
38. 秀玲與班上同學一起討論對於「政治參與」的看法，下列哪位的敘述**有誤**？
- (A) 政治參與是年滿 20 歲公民才有的權利
- (B) 公民參與公共事務，可落實主權在民的理念
- (C) 選舉投票是最常見的方式
- (D) 關心政治的所有活動都算是政治參與
39. 怡君和同學在討論我國選舉的原則，分別提出自己的看法，如下表所示：
- | | |
|----|-----------------------------|
| 怡君 | 一人一票、票票等值，符合普通原則。 |
| 庭郁 | 在我國不論性別、種族、黨派皆享有投票權，符合平等原則。 |
| 盈村 | 選民親自投票，不須透過他人，符合無記名原則。 |
| 家明 | 投票時不得在選票註記個人姓名，符合秘密投票原則。 |
- 請問：何人的看法最正確？
- (A) 怡君 (B) 庭郁 (C) 盈村 (D) 家明
40. 政黨輪替是檢視一個國家是否民主化的指標之一。迄今，在我國一共經歷了三次政黨輪替，透過選舉不僅能檢視執政者的施政效能，使執政黨展現良好政績，更能有助於執政黨取得執政的合法性，使政權能夠和平轉移。請問：上述劃線的部分主要提及了哪些選舉的功能？(甲)選出公職人員(乙)影響政府政策(丙)合法取得政權(丁)展現責任政治
- (A) 甲乙 (B) 乙丙 (C) 丙丁 (D) 甲丁
41. 熱衷於政治活動的舜興，對於未來的人生規劃如下表所示。若僅從年齡資格判斷，他規劃的內容有幾項有機會可以達成？
- | 規劃 | 規劃內容 |
|----|----------------|
| 甲 | 年滿 20 歲—行使被選舉權 |
| 乙 | 年滿 23 歲—參選里長 |
| 丙 | 年滿 23 歲參選立法委員 |
| 丁 | 年滿 26 歲參選縣長 |
| 戊 | 年滿 26 歲參選縣轄市長 |
- (A) 5 項 (B) 4 項 (C) 3 項 (D) 2 項
- 【題組二】大四學生小乃在教學實習課時以我國選舉現況為主題，製作了一張教學簡報，介紹了 5 位候選人的參選資料如下表所示。請根據表中內容回答以下問題：
- | 姓名 | 參選公職 | 年齡限制 | 設籍時間 | 任期 |
|-----|--------|------|------|-----|
| 周截輪 | 總統 | ? | ? | 4 年 |
| 昆淋 | 台南市長 | ? | ? | 4 年 |
| 林智零 | 基隆市長 | ? | 4 個月 | ? |
| 嚴懲旭 | 羅東鎮民代表 | 23 | ? | 4 年 |
| 張無季 | 彰化市長 | ? | 4 個月 | ? |
42. 根據我國選舉法規，周截輪要參選總統應該要具備那些條件？(甲)年滿 40 歲 (乙)在選區設籍 4 個月以上 (丙)被宣告褫奪公權 (丁)具有中華民國國籍
- (A) 甲乙丁 (B) 乙丙丁 (C) 甲丙丁 (D) 甲丁

43. 表中有幾個人參選條件中的「年齡限制」和「設籍時間」皆相同？
- (A) 1 人 (B) 2 人 (C) 3 人 (D) 4 人
44. 康康在地方深耕長達 20 年，因為熱心服務深受選民愛戴，連任次數已長達 4 次以上。請問：表格中何人參選的公職與康康同類型？
- (A) 嚴懲旭 (B) 林智零 (C) 昆淋 (D) 張無季
- 【題組三】為了力拚今年九合一縣市長選舉，民進黨於去年 11 月底舉行第一波縣市長提名記者會，9 名尋求連任的縣市長一字排開，在黨主席蔡英文帶領下共同造勢。蔡英文說提名只是開始，她期許黨內團結一致，接下來會組織最強的團隊。而隨著民進黨第一波提名出列，也宣告正式開啟年底選戰的序幕。
45. 民進黨提名地方縣市長選舉候選人，發揮了政黨的哪一項功能？
- (A) 組織政府與監督政府 (B) 培育與徵選政治人才
- (C) 匯集民意與服務選民 (D) 教育民眾增進民主知能
46. 下列四位民眾想行使「選舉權」參與 2018 年底九合一縣市長選舉，請依資料判斷何人資格**不符合**？
- (A) 前年 10 月滿 18 歲的大學生小夫
- (B) 年初全家才搬到新莊的王媽媽
- (C) 犯罪被宣告褫奪公權的胖虎
- (D) 精神異常受監護宣告的大雄
47. 我國自民國 76 年解除黨禁之後，各政黨相繼成立，目前數量已高達 200 多個。請問：政黨政治運作的原則何者**錯誤**？
- (A) 依照人民團體法規定，人民享有集會自由，但應向內政部申請
- (B) 各政黨間不同意見，應透過政黨協商方式整合出共識
- (C) 政黨的運作，需符合民意，並接受人民監督
- (D) 利用違法手段散布黑函，違反公職人員選舉罷免法，需負起刑事責任
- 【題組四】動物國有小毛驢黨、鐵公雞黨、母老虎黨與獅子王黨四個政黨，下表為該國三次國會大選政黨席次比例分配表，請依表判斷，回答下列問題：
- | 項目 | 小毛驢黨 | 鐵公雞黨 | 母老虎黨 | 獅子王黨 |
|-----------|------|------|------|------|
| 西元 1900 年 | 51% | 40% | 6% | 3% |
| 西元 2000 年 | 75% | 18% | 5% | 2% |
| 西元 2018 年 | 39% | 28% | 20% | 13% |
48. 西元 2000 年動物國的政黨型態和目前哪一國相同？
- (A) 美國 (B) 德國 (C) 中國 (D) 新加坡
49. 西元 1900 年，動物國的政黨型態在國內可能會出現甚麼狀況？
- (A) 政府權力集中，容易領導，政策連貫效率高
- (B) 政治安定，責任分明
- (C) 可以反映多元民意，人民選擇機會較多
- (D) 政策不易貫徹，行政效率低落
50. 動物國在哪一次選舉後，為了使政策持續推行，開始合組「聯合政府」？
- (A) 1900 年 (B) 2000 年 (C) 2018 年 (D) 無法判斷

新北市立新莊國民中學 106 學年度第 1 學期第 3 次段考 8 年級社會領域試題

解答

1	2	3	4	5	6	7	8	9	10
D	B	D	C	B	D	A	C	C	A
11	12	13	14	15	16	17	18	19	20
D	C	A	B	D	B	C	B	C	D
21	22	23	24	25	26	27	28	29	30
B	D	D	B	A	B	A	B	C	C
31	32	33	34	35	36	37	38	39	40
A	B	B	D	C	D	C	A	D	C
41	42	43	44	45	46	47	48	49	50
C	D	B	A	B	D	A	D	B	C