

新北市立新莊國民中學 109 學年度第 1 學期第 2 次段考 7 年級社會領域試題卷

班級 _____ 座號 _____ 姓名 _____

- ※ 選擇題：本試卷共 50 題，每題 2 分，總分為 100 分。
每一題均為單選題，請選出最適當答案。
※ 請用 2B 鉛筆在答案卡上相應的位置畫記。

1. 臺 3 線是一條位於臺灣的省道，北起臺北市，南至屏東市，總長 436.286 公里，路線如附圖。該條道路沿途經過的地形區最常看見下列何種景象？



- (A) 一畦畦的水稻田和許多魚塭
(B) 許多梯田作為茶園或果園
(C) 四周環山圍繞導致夏季悶熱
(D) 表面凹凸崎嶇的珊瑚礁岩塊。

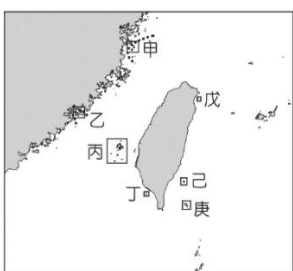
2. 玄彌規劃單車旅行，預計沿著濱海公路從嘉義縣東石鄉往南騎到宜蘭縣蘇澳鎮。請問：他沿途所經歷的海岸類型變化應為下列何者？

- (A) 岬灣海岸→斷層海岸→沙岸
(B) 斷層海岸→沙岸→珊瑚礁海岸
(C) 沙岸→珊瑚礁海岸→斷層海岸
(D) 珊瑚礁海岸→沙岸→岬灣海岸。

3. 栗花落社區辦理生態旅遊--「魚塭裡的餐桌」，在魚塭體驗釣虱目魚的樂趣，並有專人教學虱目魚三清處理(去鰓、去鱗、去內臟)，體驗經由親手處理自己釣的虱目魚真空包裝並帶回家細細品嚐的珍貴感受。請問辦理這項活動的社區最有可能位於哪一個行政區？

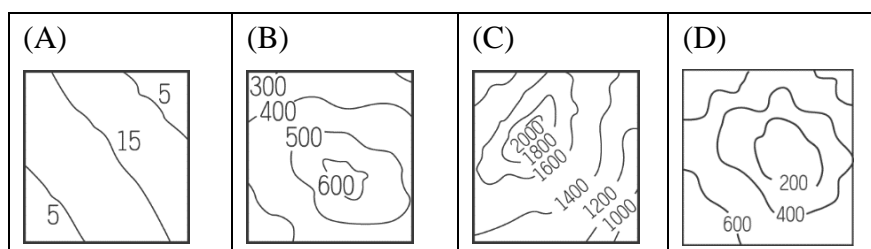
- (A) 基隆市 (B) 臺南市 (C) 花蓮縣 (D) 南投縣。

4. 伊之助利用暑假期間在臺灣進行跳島旅遊，他先登上龜山島的 401 高地，再到蘭嶼欣賞拼板舟，後來前往琉球嶼看花瓶岩與海龜同遊大海，最後到馬祖看藍眼淚。請問這個行程對應圖上的島嶼代號，正確的順序應該是下列何者？




- (A) 戊己丙甲 (B) 甲丙庚乙
(C) 戊庚丁甲 (D) 丁己丙乙。

5. 今年臺灣將有第五座城市具備捷運系統，12 月中旬以前全線 18 個車站試營運，民眾可免費搭乘。未來想去文心森林公園、逢甲夜市、臺中歌劇院等地方，都能靠捷運到達。請問這座城市位於下列哪一種地形區？



6. 右圖為臺灣北部衛星影像圖。甲的位置為臺北盆地，請問圖中地勢較高的「乙」為哪一個地形區？
(A) 桃園臺地 (B) 雪山山脈
(C) 林口臺地 (D) 新竹丘陵。



◎題組一

臺灣島形狀狹長，山多平原少，主要山脈大致呈現南北走向。附圖為臺灣五大山脈示意圖，請問：

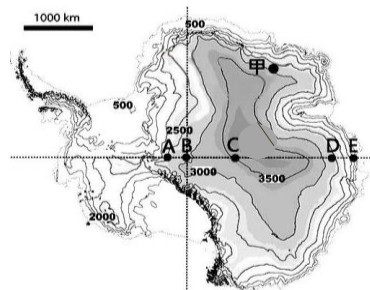
7. 「蘇花改」(臺 9 線蘇花公路山區路段改善計畫)已經在 2020 年 1 月全線通車，途經 8 座隧道，目標是改善蘇花公路的安全性與可靠度。請問這些隧道是切穿右圖中哪一座山脈？
(A) 乙 (B) 丙 (C) 丁 (D) 戊。



8. 受到菲律賓海板塊的擠壓，綠島正以每年八公分的速度移向臺灣本島，大約 50 萬年後就會成為哪一座山脈的一部份？
(A) 甲 (B) 丙 (C) 丁 (D) 戊。

◎題組二

炭治郎斬鬼之旅到了南極洲，右圖為南極洲的等高線地形圖，根據附圖回答下列各題：



9. 斬鬼之旅路線中最陡的應該是下列哪一段？

- (A) A 點到 B 點 (B) B 點到 C 點
(C) C 點到 D 點 (D) D 點到 E 點。

10. 禰豆子在南極洲等待哥哥救援，請問她所在地形應為下列何者？

- (A) 山地 (B) 高原 (C) 台地 (D) 盆地

11. 炭治郎與夥伴-善逸在甲●點會合，請問點所在高度最可能為下列何者？

- (A) 3566 公尺 (B) 2450 公尺
(C) 2650 公尺 (D) 3320 公尺。

◎題組三


疫情期間出不了國沒關係，你可以跟上現在最流行的「偽出國」！拍照打卡秘境彷彿一秒置身外國美景之中，快收拾行囊，讓自己不用出國也能像環遊世界般享受吧！請根據以下推薦行程回答下列問題：

- 第 1 站：基隆《正濱漁港》~臺版威尼斯彩色島
第 2 站：新北《十分瀑布》~臺版尼加拉瀑布
第 3 站：新竹《香山沙丘》~臺版撒哈拉沙漠
第 4 站：嘉義《阿里山得恩亞納部落》~臺版日本合掌村
第 5 站：臺南《德元埤荷蘭村》~臺版荷蘭村
第 6 站：宜蘭《東澳粉鳥林》~臺版越南下龍灣
第 7 站：金門《沙美老街》~臺版摩洛哥
第 8 站：馬祖《芹壁村》~臺版小希臘

12. 第一站正濱漁港，舊稱基隆漁港，該港地形條件優良，曾為日治時代金瓜石金礦的主要輸出港。近年政府積極開發成假日休閒懷舊碼頭，其周遭的海岸類型應多屬於下列何者呢？

- (A) 甲圖 (B) 乙圖 (C) 丙圖 (D) 丁圖。


甲圖



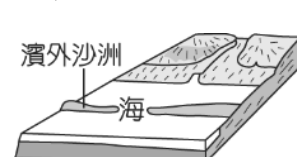
乙圖



丙圖



丁圖



13. 第二站十分瀑布為臺鐵平溪線上著名景點，地處基隆河上游瀑布群。瀑布落差高度約 20 公尺、寬度約 40 公尺，水勢壯麗磅礴，為臺灣最大的簾幕式瀑布。請問十分瀑布位於哪一座山脈區域內？

- (A) 雪山山脈 (B) 中央山脈 (C) 大屯火山群 (D) 玉山山脈。

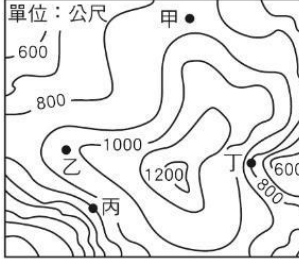
14. 第三站香山沙丘是新竹地區的河川長時間將泥沙冲刷至下游形成海埔地，再經過每年強勁的東北季風吹送、堆積所形成。請問香山沙丘的地形作用力與下列哪一個地形景觀形成的作用力「不同類型」？

- (A) 屏東大鵬灣的潟湖 (B) 野柳岬的女王頭
(C) 大甲溪上游的佳陽沖積扇 (D) 澎湖的柱狀玄武岩。

背面尚有試題

班級
 座號
 姓名

15. 近年颳起露營風潮，今年九月卻傳出遊客非法在河床上野營，遭暴漲大水沖走釀 4 死的意外；第五站德元埤位於臺南柳營，臺南市政府引進荷蘭風車，在德元埤打造一個合法生態休閒園區，讓遊客露營時也可以感受到異國氣氛。請問下列何地「不適合」進行露營活動？

(A)甲 (B)乙 (C)丙 (D)丁。
- 

16. 偽出國行程的最後兩站位於離島區域，請問這兩座島嶼的成因為下列何者？

(A)海面上升 (B)珊瑚生長 (C)陸地隆起 (D)火山噴發。
17. 身為單親媽媽的靜文，一肩扛起生活開銷的重擔，因此只要能貼補家用的兼差她都極力爭取，但是晚上堅持不排工作，因為要陪兒子吃晚餐、聊聊一天的生活點滴，十年來始終如一。由上述可知，靜文「晚上不排工作」所想要發揮的家庭功能與下列何者相同？

(A)家，是唯一的城堡，永遠的依靠

(B)家，是孕育生命繁衍後代的搖籃

(C)家，是最早學習性別角色的地方

(D)家，是供應生活中一切的提款機。

18. 隨著現代人生活愈來愈富足，養寵物已成為一種風潮，再加上不生育子女的雙薪家庭戶數增加，這些需要陪伴的族群常會飼養寵物作伴，帶動了寵物市場龐大的商機。請問上述的社會現況，主要是受到下列何種原因影響？

(A)生育觀念的變化 (B)婚姻價值觀的轉變

(C)女性就業的普遍 (D)居住與就業場域的變遷。
19. 近年來，臺灣出現數起震驚社會的隨機殺人事件，曾有受害者家屬表示：「這樣的隨機殺人事件，兇嫌基本上在當時是沒有理智的，這不是靠立法怎麼做處置，就能夠解決的問題，我還是希望能從根本，強化家庭教育功能，讓這樣的人消失在社會中。」請問下列敘述何者呼應了該家屬的心聲？

(A)法律的規範不夠強硬，導致犯罪率居高不下

(B)老師應注意學生的言行舉止，預防犯罪發生

(C)透過學校的教育，才是導正一切源頭的開端

(D)家長若多關注子女的成長，能及早發現問題。

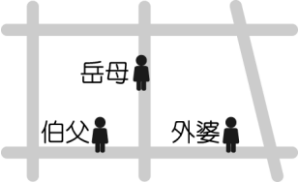
20. 下列四人的對話中，親屬關係觀念正確的有幾項？

(A)1 項 (B)2 項 (C)3 項 (D)4 項
- 小忠：「伯父和伯母是一家人，都是我的旁系血親。」

小誠：「表嫂是血親的配偶，所以與我是姻親關係。」

小勇：「姑姑是我的旁系血親，表哥是我的直系血親。」

小毅：「大嫂和我沒有血緣關係，所以我倆不是親屬」

21. 炭志郎慢跑時遇到了三位親戚，相遇地點如附圖所示。若炭志郎與這三位親戚相遇的先後順序為直系血親、旁系血親、姻親，則他的慢跑路線最可能為下列何者？
- 
22. 請問下列選項中的親屬，何者屬於『連襟關係』？

(A)姨丈和舅舅 (B)伯父和爸爸

(C)姑丈和叔叔 (D)父親和姨丈。

23. 隨著社會觀念轉變，工作及居住型態改變、跨國交流頻繁等因素，目前國內家庭型態日趨多元，上公民課時老師請同學介紹自己的家庭，請問：下列的說法何者正確？

(A)春蘭：我家除爸媽外，還有 3 個姊姊和 1 個弟弟，共 7 個人，是屬於大家庭的型態

(B)夏荷：我的媽媽來自越南，會煮很多好吃的家鄉美食，我家是屬於兩地家庭

(C)秋菊：我和妹妹的爸爸媽媽都不相同，所以我家是繼親家庭的型態

(D)冬梅：我的爸媽常年在國外工作，我和外公外婆住在一起，是屬於頂客家庭型態。

24. 下列關於社會變遷和家庭型態轉變的相關敘述，何者錯誤？

(A)現代人婚姻觀念較為自由，包括不婚、晚婚、離婚或再婚等，使家庭型態更加多元

(B)由傳統強調人力的農業社會轉變成工商業社會，家庭型態也由核心家庭為主轉變為三代家庭為主

(C)平權觀念興起，家中成員們擁有更多參與家庭決策和討論事務的權利，不再只是由男性家長主導

(D)女性就業增加，傳統家庭分工模式和觀念面臨挑戰。

25. 依據我國現行法律規定，雇主能否開除懷孕員工？為什麼？

(A)可以，雇主是老闆，想怎樣都行

(B)可以，因為女性懷孕時工作表現會變差

(C)不可以，因為此舉違反《性別工作平等法》，也有違性別平等的精神

(D)可以，因為女性請產假會造成老闆困擾，為避免困擾，老闆可開除懷孕員工。

26. 請問如果父母親濫用親權或故意疏忽遺棄子女，依法哪一個機構有權判決孩童的父母親停止親權的行使？

(A)警察局 (B)縣市政府 (C)地方法院 (D)社會局。
- 【題組】根據國家發展委員會「中華民國人口推估(2020 至 2070 年)」資料(下圖)顯示，2025 年國內老年人口將突破 20%，邁入「超高齡社會」，亦即每 5 人有 1 人是超過 65 歲的長者，人口老化速度比歐美國家快，老人健康照護問題需要社會付出更多關注與關心。(請回答 27-30 題)
- | Year | Population (Million) | Percentage (%) |
|------|----------------------|----------------|
| 1980 | 149 | 7.1% |
| 1993 | 343 | 14.6% |
| 2018 | 470 | 20.1% |
| 2025 | 470 | 20.1% |
| 2050 | 746 | 36.6% |
| 2070 | 658 | 41.6% |

()中數字表示65+占總人口
27. 政府推動的醫療及照護體系應同步考慮老人所遭遇的問題。請問這最可以幫助家庭的哪一項功能？

(A)生育功能(B)經濟功能(C)教育功能(D)保護與照顧功能。

28. 想要處理此一社會問題，以下政策有幾個選項是正確的？

(甲)倡導核心家庭(乙)倡導三代同鄰(丙)強化獨居老人關懷服務(丁)實施老人長期照護社會福利政策

(A)一項(B)二項(C)三項(D)四項。

29. 《長期照顧服務法》規定，只要身心失能已達或預期達 6 個月以上，需要生活及醫事長期照護的人，都可以透過長照機構聘用合格的長照人員或外籍看護，並按患者的需求採取居家式、社區式、機構住宿或家庭式服務。如為自行照護失能家屬的人，可以申請「喘息服務」，讓
- 第 2 頁
- 仍有下一張試卷

新北市立新莊國民中學 109 學年度第 1 學期第 2 次段考 7 年級社會領域試題卷

班級 座號 姓名

專業照護人員暫時接手照護工作。請問《長期照顧服務法》的通過與臺灣所面臨的哪個問題直接相關？

- (A) 少子化 (B) 人口高齡化 (C) 死亡率下降 (D) 失業率上升。
30. 承上題，隨著人類平均餘命越來越長，長照悲歌事件不斷頻傳，近日在日本就發生 22 歲的孫女獨自扛起照護 90 歲祖母的重擔，她因不堪長期照護壓力，身心超過負荷，最後選擇結束祖母的性命。請問「喘息服務」主要是為了解決哪方面的問題？
- (A) 失能患者帶來龐大的經濟負擔
(B) 家屬的照護專業能力不足
(C) 專業照護人員的工作負擔過重
(D) 自行照護患者的家屬承受龐大的身心壓力。

【題組】報載南投一位陳姓男子娶了葉姓大陸女子，但葉女脾氣暴躁，稍不順心就爭吵，甚至拿木棒、燭台攻擊丈夫，陳姓男子一直忍氣吞聲。但看到高雄有一男子遭妻子凌虐囚禁的報導，擔心重蹈覆轍，於是報警求助。(請回答 31-33 題)

31. 請問保護令之聲請是依照哪部法律的規定，以維護受暴者的身心安全？
- (A) 《刑法》 (B) 《家庭暴力防治法》
(C) 《性別工作平等法》 (D) 《民法》。

32. 文中陳姓男子可向什麼機關聲請保護令？
- (A) 警察局 (B) 地方法院 (C) 縣市政府 (D) 社會局。

33. 因受傳統觀念影響，男性會因愛面子而不敢向外求助，社會局推估男性被家暴的實際比例應該更高。上述所指的傳統觀念反映出社會認定男性就應表現出「剛勇形象」的僵化看法，請問此為下列何者概念？
- (A) 性別刻板印象 (B) 性別角色 (C) 生理性別 (D) 性別平權。

34. 某國家說：「我們因為越南的關係，曾攻佔台灣的雞籠與澎湖，現在台灣基隆市中正區中正路與東海街交叉口，還有個戰爭紀念公園呢！」請問：上述指的是哪一場戰爭？
- (A) 英法聯軍之役 (B) 清法戰爭
(C) 麻豆社之役 (D) 牡丹社事件。

35. 《熱蘭遮城日誌》中提到：「○○○管轄統治的村落約 20 個…」可以說幾乎整個台灣中部地區都是他的天下，勢力範圍包含今日的台中、彰化、南投縣的一部份，算是當時原住民部落的共主，請問：○○○應該填入下列哪一個名詞？
- (A) 大肚王 (B) 麻豆社 (C) 新港社 (D) 牡丹社。

36. 胖虎：鹿皮這樣商品，在日本可以賣到好價錢
大雄：稻米外銷到中國的狀況，一直都還不錯
靜香：有了這批軍火，我們一定可以打敗清帝國
小夫：這幾箱的蔗糖，明天要趕快搬運到船上
請問：上述四位商人，哪一位不是生活在荷蘭治理台灣時期？
- (A) 胖虎 (B) 大雄 (C) 靜香 (D) 小夫。

37. 新莊國中甲班在排演話劇，他們想以清帝國統治台灣為背景，各組扮演不同的歷史人物，請問：下面四個選項，哪一位是沈葆楨的台詞？
- (A) 我是台灣首位巡撫，建設台灣第一條的鐵路
(B) 我來台後，推動了新政策，像是廢除渡台禁令
(C) 臣認為台灣戰略地位重要，應納入中國版圖
(D) 我任內期間平定林爽文事件，並刻製於石碑上。

38. 在捷運淡水線石碑捷運站外，有一個石碑，上頭的碑文刻著：「憲分府曾批斷勢歸番管業界」，這是台灣以前清帝國遺留下來的番界，以立碑方式設立，請問：番界的出現是因為政府實施哪項政策？
- (A) 劃界封山 (B) 鎖國政策 (C) 海禁政策 (D) 渡台禁令。

39. 青櫻：1635 年這場戰爭，是荷蘭奠定南台灣統治權的關鍵性軍事行動忒心：1652 年有人領導漢人發動抗荷行動，但遭到荷蘭人的強力鎮壓，請問：青櫻與忒心分別是在講述哪兩場戰役？(請照順序)

- (A) 牡丹社事件、麻豆社之役
(B) 郭懷一事件、麻豆社之役
(C) 麻豆社之役、牡丹社事件
(D) 麻豆社之役、郭懷一事件。

40. 德國人 司馬爾卡頓在 1648 年來到台灣，剛好遇到某國正在舉辦地方會議，有許多原住民頭目被公開任命，並賦予象徵權力的權杖，同時參與會議的頭目與長老，日後皆需要協助政府推行政令，請問：下列對於文章中「某國」的敘述，何者正確？

- (A) 在台灣期間大力宣揚天主教
(B) 最先佔領澳門地區與中國貿易
(C) 經常跟巴達維亞的總部聯絡
(D) 菲律賓也是在該國的控制範圍。

41. 首任巡撫來到台灣後，打算以橋孜圖(今天的台中市)為行政中心，修築了八座城門及四座城樓，但是清帝國晚期時，台灣的經濟中心是以○○為主，日後巡撫大力建設○○，造成橋孜圖的行政中心逐漸遭到荒廢，現在只能在台中公園內部看到當時遺留下來的「北門」，請問：上述短文中的○○，應該是下列哪一個地方？
- (A) 台北 (B) 台南 (C) 打狗 (D) 台中。

42. 西元 1871，琉球的人民發生船難漂流到台灣，其中有 66 名船員順利登岸，但是誤闖原住民牡丹社的部落區，有 54 人被殺，其餘 12 人被漢人護送至最近的行政區，再送至福建，隔年才返回琉球，請問：漢人當時看到這樣的狀況，會去哪一個最近的行政區求救？
- (A) 諸羅縣 (B) 嘉義縣 (C) 台灣縣 (D) 鳳山縣。

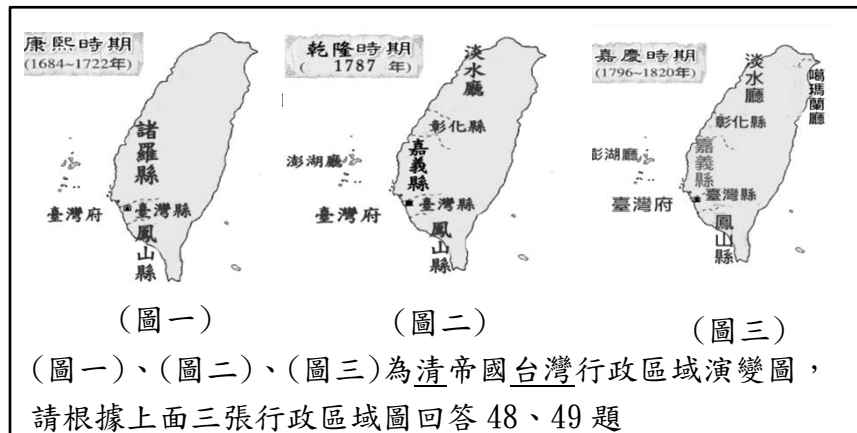
43. 下課時學生在玩「角色扮演」的遊戲，以台灣晚清時期為背景，要找出一位冒充晚清時期的老百姓，請問：下列四位學生哪一位「最可能」是冒充的人？
- (A) 長楓：台灣當時已經不是隸屬於福建省
(B) 庭狄：據說政府開闢三條通往後山的道路
(C) 丹菊：台灣只有向外開放一個港口而已
(D) 朗華：台灣當時推動了許多現代化的建設。

44. 雲澈家住在打狗港附近，最近他發現陸續有好多外國商人出現在港口附近，同時周邊也出現「領事館」或是「洋行」的建築物，請問：上述狀況的出現，跟下列哪一個事件有關？
- (A) 鴉片戰爭的戰敗，清帝國允許各國在台灣做貿易
(B) 牡丹社事件的發生，彌補琉球居民而頒布的新政
(C) 郭懷一事件的影響，台灣開始向西方國家購買軍火
(D) 英法聯軍之役的影響，清帝國戰敗，台灣開港通商。

45. 在清帝國治台時期，台灣發生嚴重男女比例失衡的狀況，社會上出現一群單身且無固定職業的男性遊民，(俗稱「羅漢腳」)，成為社會治安的隱憂，請問：造成這樣的情形，跟哪一項政策的推行有關？
- (A) 劃界封山的實施 (B) 渡台禁令的規定
(C) 開山撫番的推動 (D) 海禁政策的頒布。

46. 原住民曾說道：「一手持利劍，一手拿聖經」是他們對荷蘭人的印象，而荷蘭人則說：「我們是為了胡椒與解救靈魂而來的」，根據上面兩句話，請問：荷蘭人當時來到台灣最主要的目的是什麼？
- (A) 擴張天主教的版圖、需要原住民人力開墾土地
(B) 傳播宗教、轉賣原住民到各國當奴隸
(C) 傳播新港文書、尋找戰略地點來對抗西班牙人
(D) 傳播基督教、想獲得更多的商業利益。

47. 甲學生：我到台灣後，重新修建二砂灣炮臺
 乙學生：全台第一座西式炮台是我完成的
 丙學生：我架設的電報線，最遠可以直達福州
 丁學生：我把台北到新竹的鐵路連接起來
 請問：上述四位學生所扮演的角色，哪兩位的身分是同一人？
 (A)甲乙 (B)乙丙 (C)丙丁 (D)甲丙。



48. (圖一)一府三縣，日後演變成(圖二)一府四縣二廳，請問：
 增加彰化縣與淡水廳，跟下列哪件事有關？
 (A)朱一貴事件 (B)林爽文事件
 (C)戴潮春事件 (D)郭懷一事件。
49. (圖一)的諸羅縣日後轉變成嘉義縣，請問：這樣的轉變跟下列哪件事情有關？
 (A)吳沙開墾的成功 (B)林爽文事件的影響
 (C)戴潮春事件的爆發 (D)有海盜入侵的跡象。
50. 根據下面《中華日報》的報導，新市區的區長計畫打造社內圍堤歷史長廊，請問：當中用來裝置長廊的歷史史料，跟下列哪一個外來政權有關？
 (A)法國 (B)西班牙 (C)荷蘭 (D)日本。

《中華日報》記者張淑娟／新市報導

台南市 新市區公所要運用新港文書等史料，打造社內圍堤的歷史長廊，讓屬於新港社的社內，找回昔日重要的文史、重塑在地文化。區長邱保華指出，社內已通過農村再生計畫四階段的培訓，社內圍堤是社內晨昏散步的好去處，已擬於圍堤以古早文史打造故事牆和入口意象，留存屬於新港社時代的文物。

新北市立新莊國民中學 109 學年度第 1 學期第 2 次段考 7 年級社會領域試題
解答

1	2	3	4	5	6	7	8	9	10
B	C	B	C	D	C	B	C	D	B
11	12	13	14	15	16	17	18	19	20
C	A	A	D	D	A	A	A	D	A
21	22	23	24	25	26	27	28	29	30
D	D	C	B	C	C	D	C	B	D
31	32	33	34	35	36	37	38	39	40
B	B	A	B	A	C	B	A	D	C
41	42	43	44	45	46	47	48	49	50
A	D	C	D	B	D	D	A	B	C