


※ 選擇題：本試卷共 50 題，每題 2 分，總分為 100 分。  
每一題均為單選題，請選出最適當答案。  
※ 請用 2B 鉛筆在答案卡上相應的位置畫記。

1. 清朝在英法聯軍時首都被外國軍隊攻陷，外國軍隊衝進圓明園，將有名的『水力鐘』上的十二生肖青銅獸首取走，造成十二生肖獸首分散各處。請問：參與這場入侵中國戰爭的英國和法國當時發動侵略的背景主因不包括下列何者？  
(A)工業革命 (B)社會達爾文主義  
(C)白種人的負擔理念影響 (D)地理大發現
2. 十九世紀時，有位美國總統曾發表言論如下：「任何歐洲國家將其制度引申至西半球，均將危害美國的和平與安全，因此歐洲國家不得干涉拉丁美洲事務。歐洲國家不得在美洲殖民……，美國也不會干預歐洲國家已有的殖民地和歐洲事務……。」對於這段文字，應有何理解？  
(A)發表宣言的是美國總統威爾遜  
(B)美國藉此宣布拉丁美洲為美國的殖民地  
(C)此宣言有助於鞏固當時中南美洲各國的獨立  
(D)日後美國的確遵守了不干涉歐洲事務的保證
3. 下列哪一個事件不屬於新帝國主義國家的侵略相關事件？  
(A)第一次世界大戰 (B)日軍侵台  
(C)鴉片戰爭 (D)荷蘭人占領台灣南部
4. 德意志帝國是德國史上的「第二帝國」，此帝國的「建立」與「瓦解」與哪兩場戰爭有關？  
(A)普法戰爭，第二次世界大戰  
(B)普法戰爭，第一次世界大戰  
(C)拿破崙戰爭，普法戰爭  
(D)第一次世界大戰，第二次世界大戰
5. 下列哪一件史事發生時間是在「日本鎖國政策」期間？  
(A)關稅同盟成立 (B)英法百年戰爭  
(C)宗教改革 (D)日本發動牡丹社事件

6.



有關上圖這張政治漫畫的理解，敘述正確的有下列哪些？  
(甲)設計國際聯盟大橋的是法國總統克里蒙梭。(乙)國際聯盟是根據十四點原則設計的。(丙)最關鍵的美國磚頭空缺了，是因為戰後受到孤立主義的影響。(丁)由於缺少美國磚頭，國際聯盟成為一個威信低落的組織。  
(A)乙丙丁 (B)甲乙丙 (C)甲丙丁 (D)甲乙丙丁

7. 「帝國主義」是指一個國家以強勢的政治、軍事力量，對外壓迫其他國家或地區，甚至占領殖民地的現象。下列為列強占領殖民地的情形：(甲)西班牙—菲律賓 (乙)法國—越南 (丙)日本—琉球 (丁)英國—緬甸，請依「占領時間」的先後順序排列：  
(A)甲丁丙乙 (B)丁甲丙乙 (C)甲丙乙丁 (D)甲乙丁丙。
8. 某人說：「我們希望巴黎和會召開的過程可以絕對公開，而其決議中絕不附帶任何秘密協商。……真正的世界和平應該可以期待。我們參戰的目的是為了人類更美好的生活，希望所有愛好和平的國家可以獲得更安全的保障，…使正義得以實現。」上述的某人就是提出十四點和平原則的人，請問：他是誰？  
(A)羅斯福 (B)勞合喬治 (C)克里蒙梭 (D)威爾遜。

9. 巴爾幹半島素有「歐洲火藥庫」之稱，此稱呼源自於此地民族、宗教、地理環境之複雜，曾經統治過此地區的政權，請依照其先後順序加以排列：(甲)亞歷山大帝國 (乙)鄂圖曼土耳其帝國 (丙)古希臘 (丁)拜占庭帝國 (戊)羅馬帝國 (己)希臘化時代  
(A)丙己戊丁甲乙 (B)丙甲己戊丁乙  
(C)甲丙乙丁戊己 (D)甲丙戊己丁乙。

10.

甲國發出的電報：	乙國發出的電報：
對塞爾維亞而言，這是一場卑鄙的戰爭。基於同為斯拉夫民族的立場，我國人民極為憤怒，而這種巨大壓力，將迫使我不惜走上戰爭之路。為了避免歐洲陷入戰火，我懇求你，想辦法阻止你盟國奧地利的戰爭行為。	我不認為奧地利對塞爾維亞的宣戰，是卑鄙的行動。因為奧地利根據過去經驗判斷，塞爾維亞所做的承諾根本不可靠。因此，在奧、塞衝突中，我建議貴國不要支持塞爾維亞，保持旁觀，避免捲入歐洲這種最可怕的戰爭。

這是二十世紀初期，奧匈帝國向塞爾維亞宣戰後，隔天，甲、乙兩國領袖互通的電報文部分內容，請問甲、乙兩國最有可能是？

- (A)甲：德國、乙：俄國 (B)甲：法國、乙：德國  
(C)甲：俄國、乙：德國 (D)甲：法國、乙：俄國。
11. (甲)保羅和他七個夥伴在學校裡受到愛國主義鼓吹，成為了年輕的學生志願兵。戰壕內都是老鼠、蟲子及威脅性命的傳染病，眼看著同學們一個個陣亡，原本對戰爭還抱持著熱血與激奮的保羅，在殘酷的戰壕生活中體驗到死亡、孤獨、恐懼與了無希望……《西線無戰事》  
(乙)奧立佛在監獄般的孤兒院中成長，只有不停的工作和挨餓。逃出沒有人情味的孤兒院後，到棺材店去當學徒，卻仍脫不了被虐待的命運，於是奧立佛再次逃亡，流浪在倫敦的街上，但是不幸受騙加入竊盜集團，被迫在街頭做小扒手，惡劣的環境、重重的誤會包圍了奧立佛……《孤雛淚》  
(丙)維特在舞會上認識了綠蒂，雖然先前就知道她已訂過婚，卻仍不顧一切愛上她，兩人一起度過很多美好時光，直到綠蒂的未婚夫出差回來，他們的感情逐漸產生了變化。維特曾試圖離開卻又情不自禁的想著綠蒂，最後的告白失敗，讓維特徹底絕望……《少年維特的煩惱》  
依上面作品的「寫作風格」判斷，甲、乙丙三本小說出版先後順序是：  
(A)甲→乙→丙 (B)乙→丙→甲  
(C)丙→甲→乙 (D)丙→乙→甲。
  12. 曾老師請幾位同學發表有關第一次世界大戰的史事，下列何者說法正確？  
(A)銀優：「俄國在戰爭初期即倒向同盟國。」  
(B)明俊：「德國採用『無限制潛艇政策』攻擊進入美國水域的船隻，事先均未警告就直接以潛艇攻擊。」  
(C)真祐：「德國因有意煽動墨西哥反抗美國，造成美國的參戰。」  
(D)產賀：「義大利在 1917 年因為發生革命而退出戰場。」
  13. 凡爾賽宮是到法國必定造訪的一個有名景點，請問：下列有哪一件事不是發生在此處？  
(A)第一次世界大戰後在此簽署對德和約  
(B)在此發生暗殺事件點燃第一次世界大戰戰火。  
(C)路易十四興建此處用來做為法國宮廷所在地  
(D)普法戰爭後，威廉一世在此登基成為德意志帝國皇帝

14.



(甲)畢卡索〈亞維農姑娘〉



(乙)梵谷〈星夜〉



(丙)米勒〈拾穗〉

請判斷上列畫作的繪畫風格，並按照上列畫作的繪畫風格出現的時間發展順序加以排列。

- (A)丙乙甲 (B)乙丙甲 (C)乙甲丙 (D)甲乙丙。

15. 圖為十九世紀前期義大利半島四分五裂的狀態。請問：關於義大利的統一經過之敘述下列何者正確？
- (A)關於收入義大利王國版圖的順序是甲→丁→乙→丙  
(B)甲區是義大利統一的主導者普魯士王國  
(C)丁區是加里波底率領黃衫軍征服之後，獻給甲區國王的土地  
(D)加富爾組成青年義大利黨，高喊恢復古羅馬光榮，喚醒民族意識



16. 參考右圖，生於 18 世紀的日本入山田涼介，常看到出現許多紅髮碧眼的外國人。請問：山田涼介當時所見的景象應是在日本何處？
- (A)廣島 (B)長崎  
(C)京都 (D)東京



【題組】

剖析中國-非洲關係的著作《中國的第二個大陸》指出：近二十年來，中國積極開發新的商機與市場，並為中國工業的快速成長尋找所需原物料，而非洲是全球資源儲量最豐富的寶庫，受到中國高度重視，積極經營與非洲的政商關係，並大舉投資非洲，如今非洲 33 個沿海國家就有 20 個港口是中國建設的！與此成強烈對比的是冷落非洲已久的歐美諸國，因此歐美在非洲的勢力迅速下滑。請回答第 17~20 題：



17. 根據非洲的資源分布，請問下列何者「最不可能」是中國在非洲該國當地投資的產業？
- (A)剛果-棉花紡織 (B)奈及利亞-石油化學  
(C)南非-鑽石切割 (D)象牙海岸-可可加工。

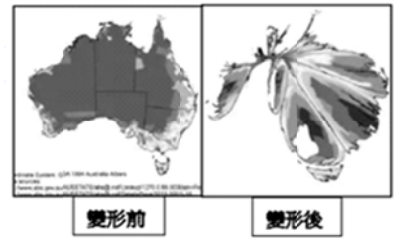
18. 2008 年，中國與非洲某國成立了蘇伊士經貿合作區，該合作區是集成了國家級資源開發建設的重點境外經貿合作區。2012 年，蘇伊士經貿合作區工業產值達到 5550 萬美元。請問此經貿合作區位於右圖中何國？
- (A)甲 (B)乙 (C)丙 (D)丁。



19. 近二十年來，成千上萬的中國人和幾百家中資企業在非洲這片土地投資、修路、築壩，徹底改變非洲的面貌。相對地，歐美跨國企業在全球各地拓展商業經營，長久以來卻對投資非洲興趣缺缺的主因應與非洲下列何種特性有關？
- (A)交通不便，國際貿易依賴性低  
(B)文化複雜，不易融入當地  
(C)族群衝突多，各國戰亂不斷  
(D)缺乏醫療資源，愛滋病患數量多。

20. 中國砸重金投資非洲，除了可穩定取得國內所需工業原料，亦可爭取非洲各國的支持以擴張其國際勢力，最佳例子為世界衛生組織(WHO)2017 年第一次採行一國一票選舉方式，中國所支持候選人-譚德塞即順利當選，他是 WHO 第一位來自非洲的秘書長，也是聯合國機構第一位非裔領導人，但是他大讚中國武漢肺炎疫情處理快速透明，卻引發外界抨擊，甚至有人連署要求他下台。依上述請問譚德塞可以順利當選 WHO 秘書長主因應與非洲下列何種特性密切相關？
- (A)人口數量龐大，僅次於亞洲  
(B)人口增加率居世界之冠  
(C)醫療資源全球最缺乏  
(D)國家數量是全世界最多的一洲。

21. 澳洲總人口 2500 萬人，但因國土面積大，各地環境條件不同，導致人口分布極度不均。右圖是一張變形的人口分布圖，它按照各地人口數將澳洲的區域變形，人多的地區放大，人少的地區縮小，因此可以看到澳洲中西部地區幾乎不見，東部地區整個膨脹放大。請問：造成澳洲呈現此種變形特徵的主要因素應為下列何者？
- (A)地形種類 (B)礦產資源 (C)氣候類型 (D)災害頻率。



22. 西非是撒哈拉沙漠以南最早被殖民的地區，由下列哪些現象可看出此地曾為列強殖民地？(甲)民族族群複雜(乙)礦產蘊藏豐富；(丙)首都多位於沿海；(丁)熱帶栽培業發達；(戊)信奉基督教的比例高
- (A)(甲)(乙)(丁) (B)(甲)(丙)(丁)  
(C)(甲)(乙)(戊) (D)(丙)(丁)(戊)。

23. 觀察非洲地形的分層設色圖，可發現該地區的分布特色多為大面積的相同顏色為主，僅少數地區出現小範圍的顏色變化。請問，非洲境內哪一個地區所出現的分層設色圖，顏色變化最為明顯？
- (A)撒哈拉盆地 (B)東非大裂谷  
(C)剛果盆地 (D)尼羅河三角洲。

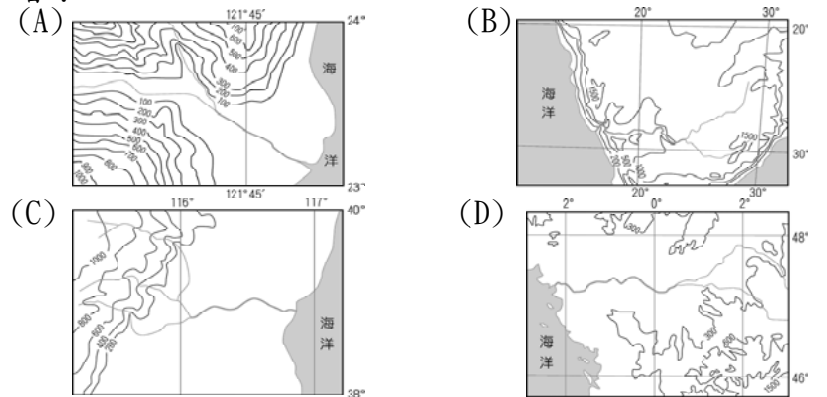
24. 南半球高緯度地區較少陸地分布，無山脈阻攔，風速強勁，海上常常出現風暴，又有海冰漂浮，是非常凶險的海域，因此西方航海界有「咆哮的 40°S、狂暴的 50°S、尖叫的 60°S」的說法。請問下列國家之間的船隻航行，若直線往來沒有繞道，哪一組航道最靠近危險的南極圈海域？
- (A)南非共和國→印度 (B)吐瓦魯→墨西哥  
(C)巴西→奈及利亞 (D)紐西蘭→智利。

25. 「紐西蘭放牧新趨勢！無人機成為牧羊人的得力助手。紐西蘭牧場利用無人機在羊群上空驅趕羊群、聲音干擾控制它們的移動方向，還可以在廣大的牧場中找到走失的羊，或者讓分散的羊群集合在一起。透過攝影機和感測器，無人機甚至還能統計牛羊的數量，用熱力感測器檢測哪些羊發燒了，而不用牧羊人親自出馬勘察羊群的狀況。」請問上述的牧業新發展，與紐西蘭下列何項環境限制有關？
- (A)氣候濕冷 (B)地廣人稀  
(C)地形崎嶇 (D)都市化程度低。

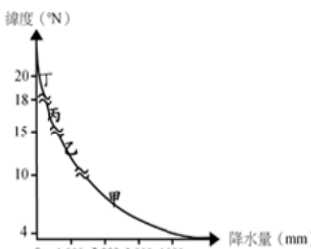
26. 「Rotorua 素有『毛利之鄉』的美譽，中文被譯作『羅托魯瓦』，是一個以毛利語命名的小鎮。在毛利語裡，羅托魯瓦是火山口湖的意思。這裡的熱泉及泥漿池多不勝數，到處蒸氣瀰漫，泥漿跳躍，硫磺味兒十足。」請問若想親身體會上列景色，應前往下列哪一個地區？
- (A)澳洲北部 (B)夏威夷群島  
(C)紐西蘭北島 (D)紐西蘭南島。

27. 世界上「年溫差最大」的地區在俄羅斯西伯利亞境內的維科揚斯克，而非在南極地區，其主因為何？
- (A)維科揚斯克緯度較高 (B)南極夏季較高溫  
(C)南極終年低溫 (D)維科揚斯克地勢較高。

28. 「非洲因為外人難以進入，因此早期被蒙上一層神秘色彩，稱為『黑暗大陸』。當時許多來自海上的探險家，都受阻於該地區平直陡峭、缺乏天然港灣的海岸，無法進入內陸。」根據上文判斷，非洲的海岸應該為下列圖中何者？



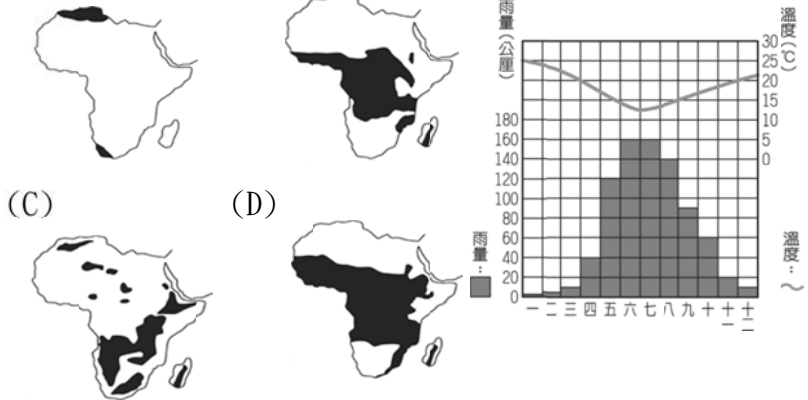
29. 右圖四個線段分別為非洲幾內亞灣以北範圍內甲、乙、丙、丁四個區域的降水量與緯度分布關係圖，而甲乙丙丁的自然景觀出現的順序較可能為下列何者？
- (A) 沙漠—草原—莽原—雨林  
(B) 草原—沙漠—雨林—莽原  
(C) 莽原—雨林—沙漠—草原  
(D) 雨林—莽原—草原—沙漠。



30. 澳洲與紐西蘭皆位於太平洋上，位置相近，彼此關係密切，下列有關兩國比較何者正確？

	(A)	(B)	(C)	(D)
	位置	地形主體	人口分布	主要氣候
澳洲	東、北半球	高原	東北沿海平原	溫帶海洋性氣候
紐西蘭	東、南半球	山地	南島	熱帶沙漠氣候

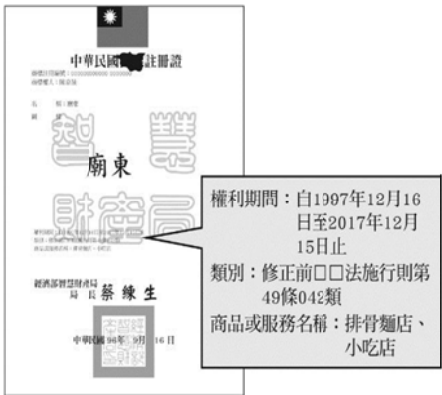
31. 右圖為非洲某地的氣候圖，請問該氣候區的分布情形應與下列哪張氣候分佈圖較為相似？
- (A) (B)



32. 台灣某教授利用一月份前往南極洲進行天文研究，請問：下列有關此次研究紀錄中，何項是正確的？
- (A) 從台灣沿著 120°E 向東北方直線前進可抵達南極洲  
(B) 抵達南極洲時，受到原住民因紐特人的招待  
(C) 在南極洲期間適逢永夜，驚喜於極光美景  
(D) 由南極點沿著 30°E 向正北方前進可至非洲。

33. 「大溪地(149°W, 17°S)是南太平洋諸島中最多華人移居的地方，其中客家人居多。經濟以農業為主，主產椰油、蔗糖、香草、磷灰石、水果、珍珠貝等，近年來開始發展旅遊業和小型工業。當地的大溪地珍珠尤其出名，大多出口到日本、歐美等地。」依據上述，請問下列關於大溪地的敘述何者正確？
- (A) 屬於玻里尼西亞島群之一  
(B) 位於紐西蘭的東南方  
(C) 與臺灣的日期相同且季節也相同  
(D) 官方語言為華語。

34. 阿中暑假時和同學去臺中吃知名的「廟東」排骨麵，看到牆上掛著一張證書，但是有部分汙損了，請判斷這應該是關於何類的證書？
- (A) 工作權 (B) 著作權  
(C) 專利權 (D) 商標權。



35. 承上題，關於此類證書的說明，下列何者正確？(甲)其目的在促進產業的發展(乙)摺疊式手機的發明亦須取得此證書(丙)其目的在維護市場的公平競爭(丁)須向經濟部提出申請，審查通過註冊後始能取得。
- (A) 甲乙 (B) 甲丁 (C) 乙丙 (D) 丙丁。

36. 小其在課本上的某個單元看到下圖，請問該單元最有可能在討論何項主題？
- (A) 發揮第四權的角色 (B) 培養媒體識讀的能力  
(C) 善用媒體的接近使用權 (D) 生物科技所帶來的衝擊。



37. 下圖為中央流行疫情指揮中心每日因應新冠肺炎召開記者會，說明國內外疫情及相關措施，指揮官及相關部會首長也會接受台下記者的各種提問。請問：各家媒體都會報導記者會的疫情發展及政府相關政策，最主要在發揮傳播媒體的何種功能？
- (A) 提供訊息、監督政府 (B) 提供訊息、教育文化  
(C) 教育文化、監督政府 (D) 休閒娛樂、監督政府。




38. 臺鐵近來發生砍殺事件，鐵路乘車的安全備受關注。交通部鐵道局日前完成「智慧型影像監控系統工程」，其中的人臉辨識恐引發個資外洩的爭議，目前決定停用。請問：此議題與下列何項敘述最為貼近？
- (A) 交通科技的困境 (B) 科技與隱私的兩難  
(C) 供給與需求的平衡 (D) 網路犯罪的疑慮。

39. 面對新冠肺炎，臺灣善用大數據新科技，防疫表現登上國際期刊。期刊內文提到，臺灣利用全民健保資料庫，整合移民和海關資料庫，創造大數據以供分析；透過 QR code 掃描與線上通報旅遊史與身體症狀，根據 14 天內的航班起飛地，為旅客的感染風險做分類。下列何者與上述屬於同一性質的科技運用？
- (A) 研製抗新冠病毒的疫苗  
(B) 基因改造技術的利用  
(C) 人工智慧機器人的發明  
(D) 培養微生物恢復自然淨化功能。

40. 經濟全球化促進產品、生產要素與技術在全球的自由移動，讓世界各國之生產活動更加活絡，而且相互依賴程度亦大幅提高。下列何者不是經濟全球化帶來的結果？
- (A) 國際綠色和平組織在世界各地的活動頻繁  
(B) 臺商在全球各國投資生產  
(C) 印度承接全球 2/3 軟體外包服務  
(D) 武漢肺炎引爆全球產業斷鏈危機。

請翻面繼續作答


41. 甲電子報標題：「極端恐怖組織伊斯蘭國 ISIS 搶擄婦女當性奴」，乙電子報標題：「美國與以色列是恐怖組織，ISIS 是否為恐怖組織目前還不確定」。從甲、乙兩家電子報對於事實「詮釋」的差異，下列敘述何者最為正確？  
 (A)反應新聞資訊幕後蒐集、製作的流程不同  
 (B)各家媒體可能有其不同的立場  
 (C)為追求輿論的平衡而刻意不同  
 (D)所有報導向來無法呈現事實。
42. 霹靂布袋戲近年與日本動漫界合作，由日本設計人偶、腳本，由臺灣師傅操演及拍攝，並號召日本聲優參與製作，粉絲一下子從布袋圈擴及到動漫圈。請問：下列何者最符合上面的敘述？  
 (A)文化認同的危機  
 (B)強勢文化的入侵  
 (C)文化交流與傳承  
 (D)文化的融合與創新。
43. 下圖為網路上的一段訊息，請根據內容判斷，下列何者說明最為正確？(甲)資訊氾濫造成內容真偽難辨(乙)媒體未善盡社會責任(丙)資訊倫理尚待提升(丁)公平正義尚待落實  
 (A)甲乙 (B)甲丙 (C)乙丙 (D)甲丁。



阿丁

在政府機關服務的友人提醒，近日新冠肺炎疫情嚴重，要大家趕快儲備一個月的糧食和去金融機構提領所有的存款。


讚 回覆 6 1 小時



白白

感謝告知，真的要做好準備，防範未然。

讚 回覆 14 36 分鐘



咪寶

要趕快分享出去！

讚 回覆 22 19 分鐘

44. 每年12月18日是國際移民日(International Migrants Day)，這個全球性的節日是聯合國在2000年所訂定。下圖為桃園市政府為響應此節日的活動文宣。請問：辦理此活動的主要目的，為宣揚下列何者理念？  
 (A)發揚主流價值，同化少數族群  
 (B)削弱次文化勢力，獨尊強勢文化  
 (C)尊重不同族群，包容多元文化差異  
 (D)鼓勵全球化思維，限制本土文化發展。



45. 下圖為小妍公民隨堂小考的題目，請問：依序作答，下列哪一個選項的答案完全正確？  
 (A)X○XX○ (B)XXX○○ (C)X○○X○ (D)○○○X○。
1. ( ) 文化的全球化不會造成多元文化消失。


2. ( ) 星巴克在各國推出不同城市形象的馬克杯為全球在地化的例子。

3. ( ) 個人資料保護法的制訂，最主要在避免受益權遭受侵害。

4. ( ) 閱聽人應選擇高收視率的媒體，才能終結媒體亂象。

5. ( ) 基因檢測能預防遺傳性疾病。

46. 美國迪士尼卡通行銷全球，其所傳遞的美式英雄主義，天真、夢幻等價值，無形中影響世界各地許多人，而卡通週邊商品更帶動各地的流行風潮。請問：此情形顯示全球化帶來的何種影響？  
 (A)文化交流的衝突 (B)多元文化的差異  
 (C)強勢文化的擴張 (D)多元文化的形成。
47. 2015年<侏羅紀世界>電影上映，劇情描述「侏羅紀公園」重新被建立，並規畫為主題樂園，成功吸引世界各地人潮慕名而至。但園區開放久了，觀光人數越來越少，於是基因工程師開始培育新品種的恐龍，試圖再吸引觀光客，不料新品種恐龍失控脫逃，人類面臨了存亡的危機。請問：基因工程師培育新品種的恐龍應屬於下列哪一項科技發展？  
 (A)生物科技 (B)資訊科技 (C)著作財產 (D)數位科技。
48. 南投縣水里鄉日前發生兇殺案，當地劉姓、李姓國中學生放學去買飲料時，疑發生口角衝突，劉生向對方怒擲美工刀，結果射中李姓學生左側動脈，李姓學生緊急送醫，經搶救後仍宣告不治。下圖為網路上一名自稱是李生父親的發文。從發文的内容中可看出，此名自稱是李生父親的人最主要在追求下列何項權益？  
 (A)隱私權 (B)媒體接近使用權 (C)新聞自由 (D)受益權。



分享了 1 條連結。

18 小時 · 國

我是今天水里鄉李姓國中學生新聞的爸爸，我兒子從小就有妥瑞氏症，上學時大家都會以異樣的眼光看他嘲笑他，比較過分的也會以言語譏笑，今天我們是受害者，但是每一則新聞都是說成我兒子去挑釁別人！他和劉姓少年也並不是好朋友，也並沒有每天一起放學上街買飲料為何會報導校方表示他們非常要好？媒體為何沒有求證就如此顛倒是非？今天我兒子是受害者卻反被報導成如此，連我家庭狀況也是扭曲報導！請大家幫忙分享,還我兒子一個清白

49. 某前知名體育主播因罹患癌症，末期飽受疼痛之苦，他為了讓自己活得有尊嚴，乃前往瑞士進行「安樂死」。此事件再度引發社會各界討論「安樂死」的立法問題。請問：此議題與下列哪些議題所探討的倫理價值最為相近？(甲)人工智慧機器人(乙)代理孕母(丙)複製人(丁)螢光魚。  
 (A)甲乙 (B)甲丙 (C)乙丙 (D)乙丁。
50. 政府某職權機關於新冠肺炎防疫期間表示：「廣電媒體報導疫情時，若未善盡查證責任，損害公共利益時，將會進行裁罰。」請問：此職權機關應為下列何者？  
 (A)文化部 (B)新聞局 (C)法院 (D)國家通訊傳播委員會。

新北市立新莊國民中學 108 學年度第 2 學期第 1 次段考 9 年級社會領域試題  
解答

1	2	3	4	5	6	7	8	9	10
<b>D</b>	<b>C</b>	<b>D</b>	<b>B</b>	<b>A</b>	<b>A</b>	<b>C</b>	<b>D</b>	<b>B</b>	<b>C</b>
11	12	13	14	15	16	17	18	19	20
<b>D</b>	<b>C</b>	<b>B</b>	<b>A</b>	<b>A</b>	<b>B</b>	<b>A</b>	<b>A</b>	<b>C</b>	<b>D</b>
21	22	23	24	25	26	27	28	29	30
<b>C</b>	<b>D</b>	<b>B</b>	<b>D</b>	<b>B</b>	<b>C</b>	<b>C</b>	<b>B</b>	<b>D</b>	<b>B</b>
31	32	33	34	35	36	37	38	39	40
<b>A</b>	<b>D</b>	<b>A</b>	<b>D</b>	<b>D</b>	<b>B</b>	<b>A</b>	<b>B</b>	<b>C</b>	<b>A</b>
41	42	43	44	45	46	47	48	49	50
<b>B</b>	<b>D</b>	<b>B</b>	<b>C</b>	<b>A</b>	<b>C</b>	<b>A</b>	<b>B</b>	<b>C</b>	<b>D</b>