

新北市立新莊國民中學 109 學年度第 1 學期第 2 次段考 8 年級社會領域試題卷

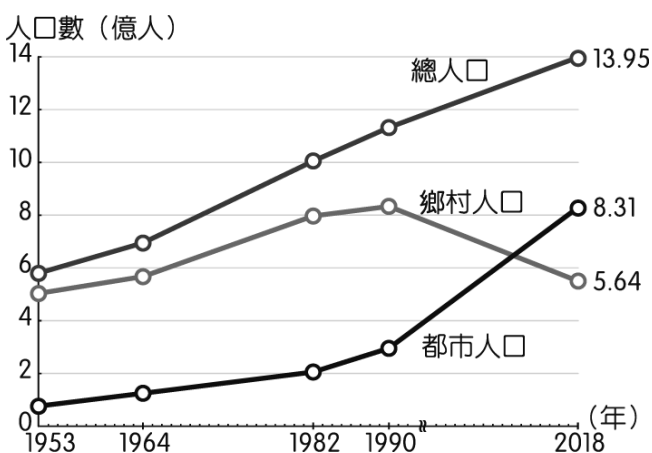
班級 座號 姓名

- ※ 選擇題：本試卷共 50 題，每題 2 分，總分為 100 分。
每一題均為單選題，請選出最適當答案。
※ 請用 2B 鉛筆在答案卡上相應的位置畫記。

- 下列農作物中，何者為糧食作物？
(A)茶葉 (B)甘蔗 (C)小麥 (D)棉花。
- 中國的人均可耕地面積遠低於世界平均的原因為？
(A)人口過多 (B)可耕地狹小
(C)可耕地多位於西部 (D)農地過度使用。
- 附圖為中國水資源短缺省區市圖，何地形區的水資源最短缺？
(A)珠江三角洲 (B)雲貴高原 (C)青藏高原 (D)黃土高原。



- 附圖為中國城鄉人口變化圖，2018 年中國的都市化程度約為？
(A)60% (B)40% (C)68% (D)147%。



- 中國的經濟特區大多位於何區？
(A)甲 (B)乙 (C)丙 (D)丁。



- 中國的經濟特區中，唯一不靠海的是？
(A)汕頭 (B)珠海 (C)海南 (D)喀什。
- 何城市位於香港北方，早期製造業發達，並經由香港輸出產品？
(A)北京 (B)上海 (C)廣州 (D)深圳。
- 何城市位於中國海岸線與長江水運的交會點，交通方便且腹地廣大？
(A)北京 (B)上海 (C)廣州 (D)深圳。

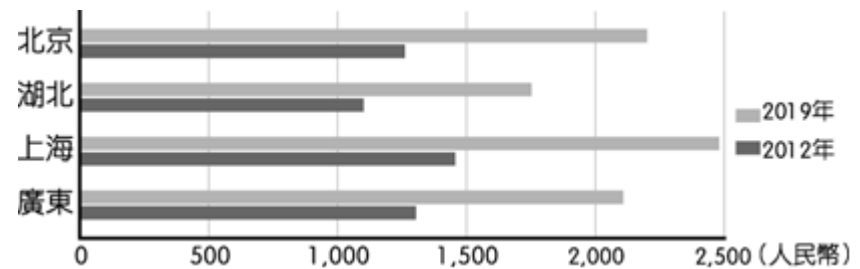
- 附圖為中國的四大經濟區，何處礦產豐富，是中國傳統重工業重心？
(A)甲 (B)乙 (C)丙 (D)丁。



- 承上題，何處擁有優越的對外交通優勢，現在是中國經濟最發達的地區？
(A)甲 (B)乙 (C)丙 (D)丁。

- 為何早期中國有「世界工廠」之稱？
(A)工資低廉 (B)勞工素質高
(C)技術水準高 (D)礦產豐富。

- 附圖為中國部分省區市最低月薪變化圖，此現象對何種工廠的影響最大？
(A)手機研發廠 (B)紡織廠 (C)汽車廠 (D)煉鋁廠。



- 為何近代中國有「世界市場」之稱？
(A)人均 GDP 高 (B)人口總數多
(C)自然增加率高 (D)社會增加率高。

- 自何年代起，中國設立經濟特區，外國對中國的投資開始快速增長？
(A)1950 (B)1960 (C)1980 (D)2000。

- 中國企業以何方式快速提升技術與拓展海外市場？
(A)國內技術研發 (B)增加廣告數量
(C)併購外國企業 (D)改善國家形象。

- 何區不在「一帶一路」主要政策的沿線？
(A)東非 (B)西亞 (C)東南亞 (D)澳紐。

- 2019 年年底，美國眾議院以濫用權力為由，通過了現任美國總統的彈劾案，歷經 4 個多月的審理，最終才有了結果。請問：若上述事件發生在我國，下列哪個為彈劾總統的方式？
(A)甲 (B)乙 (C)丙 (D)丁



18. 《太陽的後裔》是由南韓影星宋仲基所飾演的韓國特戰隊長與宋慧喬飾演的美女外科醫師譜出的愛情故事。該劇不僅在台灣大受歡迎，連帶大幅提升南韓的軍隊形象，其中，劇中軍用術語兼口號「團結」更深植民心。因此，國防部編列 1280 萬元預算拍攝台版偶像劇，但是否真的能有效提昇國人從軍意願與國軍外界形象，引來朝野質疑。以下有關上述新聞的政府職權，何者**錯誤**？
- (A)總統是我國三軍統帥，國防也實現了國家的安全功能
- (B)拍攝偶像劇的預算，需由立法院審查
- (C)立委可質詢國防部部長及總統
- (D)國防部長的任命方式和行政院副院長相同
19. 我國近來不斷有廢除考試與監察兩院的主張，然而過去國父認為監察與考試需要獨立的原因，以下何者是正確的理由？
- (A)行政兼考試會有國會濫權的疑慮
- (B)立法兼監察有濫用私人的弊端
- (C)行政兼考試會有考試不公的疑慮
- (D)立法兼考試有濫用私人的弊端
20. 美國是世界第一個民主共和國，實施了三權分立的體制，為了保障人民權利和限制政府權力，而該國憲法中，三權分立的設計是採取以下何人所提出的理論？
- (A)孟德斯鳩 (B)孫中山 (C)洛克 (D)艾克頓
21. 政軒與政穎利用井字遊戲複習這次段考範圍，題目是：總統根據他的職權，可以提名或任命的中央政府公職人員，且須立法院同意的，其中只要能連成一直線的（—|／＼）即為獲勝，請問以下所列出的筆記哪個是正確的？

(A)

考試院長	大法官	監察院長
法官	行政院長	銓敘部長
司法院長	國防部長	立法院長

(B)

行政院長	法官	監察院長
大法官	立法院長	銓敘部長
司法院長	內政部長	考試院長

(C)

考試院長	大法官	立法院長
司法院長	審計長	銓敘部長
衛福部長	立法院副院長	行政院副院長

(D)

監察院長	交通部長	審計長
文化部長	監察委員	銓敘部長
行政院長	大法官	立法院長

22. 日前，某中央政府機關召開中央政府總預算案的跨部會會議，國防預算將增加 183 億元，請問增加的國防預算經費必須經由下列哪個政府機構的審查通過才能使用？
- (A)司法院 (B)立法院 (C)行政院 (D)考試院

23. 某位大法官在卸任後整理了自己任內的日記，其內容記錄自己工作中的重要經歷。請問以下敘述內容，最有可能出現在他的日記裡？
- (A)經院長提請總統任命後，我將成為執政團隊的一份子
- (B)為了能不斷服務人民，我將赴行政院對民意代表報告
- (C)我在跟同事討論過後，將對不法的行政機關提出糾正案
- (D)我和同事一起準備要審理政黨違憲的解散案件
24. 我國曾經歷過發布緊急命令的事件，如：中美斷交、921 大地震。而依憲法規定由(甲)發布命令後十日內提交(乙)追認，若不同意時，該緊急命令立即失效。請問上述的甲乙分別為下列何者？
- (A)總統、立法院 (B)總統、大法官
- (C)大法官、總統 (D)行政院、立法院
25. 承上題，以上政府的職權執掌符合民主政治的何種特色？
- (A)主權在民 (B)權力分立 (C)均權制度 (D)違憲審查制度
26. 為防止政府侵害人民權利，現代國家的中央政府組織與職權設計多以相互制衡為原則，請問以下何者最能彰顯民主國家體制中的「分權制衡」精神？
- (A)總統提名的官員，由立法院同意
- (B)行政院長由總統直接任命
- (C)立法院長由立委互選產生
- (D)總統由人民直接選舉產生
27. 政府拆除民眾的違章建築必須依據法律，不得隨意拆除。上述說法展現了憲政的何種精神？
- (A)法治政治 (B)主權在民 (C)權力分立 (D)違憲審查制度

28. (甲)撫卹 (乙)彈劾 (丙)糾正 (丁)任免 (戊)懲戒。請問右圖的 Q1 與 Q2 的空格中應依順序填入哪二者？
- (A)戊乙 (B)甲乙 (C)戊丁 (D)乙丙

Q1:前教育部長於擔任某國立大學校長時任內違反利益衝突迴避相關規定，遭監察院☆☆

Q2:國家安全局特種勤務人員走私菸品入境案，台北地檢署去年八月偵結，依違反貪污治罪條例等罪，起訴總統府相關人員；而監察委員則續調查相關單位行政責任，歷經約一年時間調查，監察院預計將於今日通過○

○外交部、交通部、財政部關務署等單位

29. 屏東縣某前鄉長涉嫌於 2016 年擔任鄉長期間，利用職務之便指示公所課長舉辦相關活動，並以鄉公所名義申請補助，再以不實單據核銷，詐得補助款 30 多萬元；監委批評有虧公務員之職責，損害公務員應廉潔自持的形象，而以 13 票全數通過彈劾，全案最後移送相關部門審理。請問以上的相關部門是指何者？
- (A)監察院審計部 (B)司法院公務員懲戒委員會
- (C)考試院銓敘部 (D)行政院法務部
30. 以下流程是中央政府經費從計畫到執行的順序：(甲)編列預算(乙)審查預算(丙)執行預算(丁)審核預算執行狀況，請問以上哪二者是相同機關的職權？
- (A)甲乙 (B)乙丙 (C)甲丙 (D)甲丁

新北市立新莊國民中學 109 學年度第 1 學期第 2 次段考 8 年級社會領域試題卷

班級

座號

姓名

31. 立法院擬通過《森林法》第 48 條修正案，修正非都市土地山坡地開發利用者才需繳交回饋金，以獎勵私人或團體長期造林，農業委員會表示對非都市土地山坡地開發利用者不公平。因此若確定三讀通過後將請農業委員會的上級機關(甲)提出(乙)，以維護都市與非都市土地間開發的公平性。請問上述甲乙應填入何者？

(A)行政院，覆議 (B)監察院，糾正
(C)立法院，複決 (D)行政院，不信任案

32. 有關總統與行政院長的关系敘述，何者說法正確？

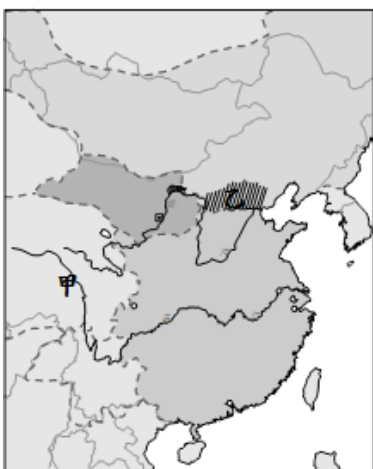
(A)總統可對行政院院長提不信任案，使其去職
(B)由行政院通過的法律，需總統公布後，方可施行
(C)總統與行政院院長都具有行政權，行政院院長由總統直接任命產生
(D)若行政院被提不信任案，總統即須解散行政院

33. 為了確保國人食用進口肉品的安全，政府修改《食品安全衛生管理法》，除了規範相關產品外，並強制商家必須標示原產地，讓消費者有自主選擇的權利。請問上述政府機關還具有下列哪項職權？

(A)掌理公務人員的任用資格 (B)審理正副總統彈劾案
(C)複決正副總統罷免案 (D)提出領土變更案

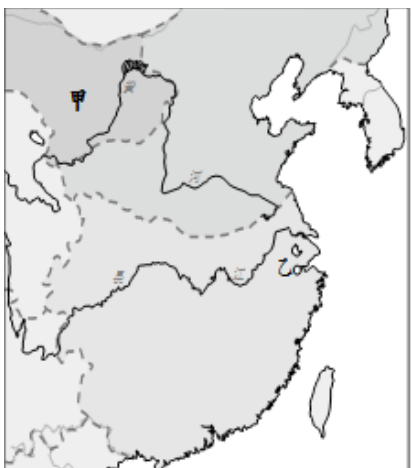
34. 宋神宗曾針對宋朝與某外患的關係感嘆道：「北虜乃不共戴天之仇，反捐金繒數十萬以事之為叔父，為人子孫，當如是乎！」請問：下列敘述何者正確？

(A)「北虜」應位於右圖甲處
(B)宋神宗認為宋朝沒有收回右圖乙地且向外患繳納金錢是奇恥大辱
(C)宋太祖時簽訂了首開「捐金繒數十萬」先例的條約
(D)北宋聯合蒙古滅「北虜」使宋神宗的心願得以達成。



35. 岳飛滿江紅一詞寫道：「...靖康恥，猶未雪。臣子恨，何時滅！駕長車，踏破賀蘭山缺。壯志飢餐胡虜肉，笑談渴飲匈奴血。待從頭、收拾舊山河，朝天闕。」請問：下列敘述何者正確？

(A)岳飛最痛恨的事為右圖甲國攻陷首都、擄走皇帝
(B)北宋滅亡後定都於右圖乙處，是為南宋
(C)詞中提到的「胡虜」、「匈奴」其實是指契丹族
(D)岳飛最後消滅外患，得以「收拾舊山河」。




36. 「在馬背上長大，從小的玩具是弓箭，成年時可以算成職業軍人了。由於在嚴寒和艱苦的環境中長大，具有極為堅韌耐勞的性格...擁有農耕民族所無的連續作戰的意志和能力，這是西方養尊處優的貴族騎兵們遠難望其項背的。」上文描述 13 世紀初興起的某族群，其作戰能力令西方人聞風喪膽。請問：關於此族群的敘述，下列何者正確？

(A)建立版圖橫跨歐、亞、非三洲的帝國
(B)成吉思汗開創元朝並且將南宋滅亡
(C)往西方征戰的過程也造成東西方文化的交流
(D)曾出兵日本和越南，並將其納入領土範圍。

37. 右圖三角形的社會階層，是用來描述元朝的種族政策。請問：關於此政策的敘述，下列何者「錯誤」？

(A)圖中丁階層是指原先受金國統治的各族群
(B)來到中國的威尼斯商人馬可波羅應屬於圖中乙階層
(C)丙、丁兩個階層在政治、法律和科舉等方面均受到不平等的待遇
(D)種族歧視政策是元朝在中國統治九十多年即滅亡的主因。



38. 阿龍穿越時空進入張擇端所繪的《清明上河圖》之中，跟著畫中的人物一起經歷繁華熱鬧的城市生活。請問：下列何者可能是阿龍的生活情況？

(A)到攤販買烤玉米邊吃邊逛夜市
(B)買貨品要去東市或西市，市場晚上就關閉
(C)努力閱讀《四書集注》以準備科舉考試
(D)拿東西到當舖典當以換取生活費。

39. 宋元時期科技成就斐然，日後在各方面也造成了難以抹滅的影響。請問：下列敘述何者正確？

(A)蒙古西征時運用火藥的技術擊潰歐洲軍隊
(B)宋應星所著的《夢溪筆談》是內容詳盡的科技史作品
(C)雕版印刷可以自由組合每個字體，印刷效率得以提升
(D)唐代發明將燈芯草包覆鐵針浮於水中的「水羅盤」技術，宋代加以應用於航海之中。

40. 吳偉業的《圓圓曲》描述名妓陳圓圓與當時山海關守將聚散離合，詩中談道：「鼎湖當日棄人間，破敵收京下玉關。慟哭六軍俱縞素，衝冠一怒為紅顏。紅顏流落非吾戀，逆賊天亡自荒宴。電掃黃巾定黑山，哭罷君親再相見。」請問：下列敘述何者正確？

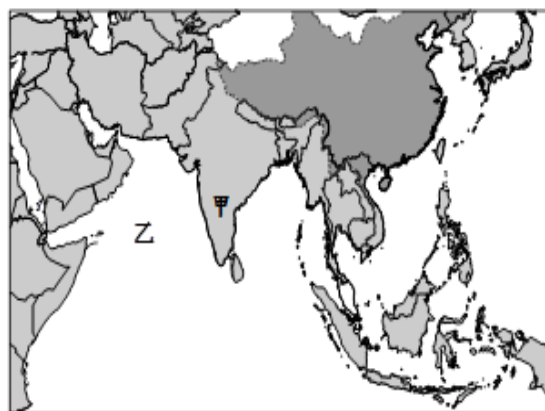
(A)「衝冠一怒為紅顏」而引清兵入關的是朱元璋
(B)「鼎湖當日棄人間」是指張獻忠攻陷北京，明思宗自縊
(C)女真族入關後，掃蕩南明政權、攻克臺灣使統治日趨穩固
(D)明末災民與飢餓的士兵結合成為倭寇，導致明朝滅亡。

41. 雍正時期查嗣庭擔任主考官，所出的試題出現「維民所止」，被視為居心叵測，「維止」二字意在削去「雍正」二字的頭。結果他被捕，最後病死獄中。請問：查嗣庭的遭遇與清朝哪一統治策略有關？

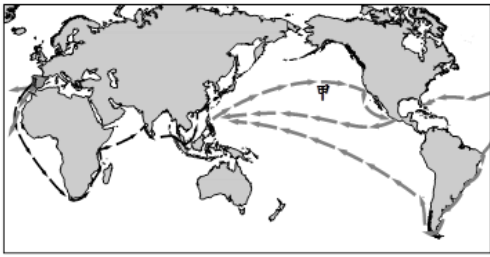
(A)薙髮留辮 (B)文字獄 (C)廷杖 (D)禮遇明遺臣。

42. 「此人的船隊是十五世紀世界上規模最大、船隻最多、技術最先進的，每次出海均有大小船隻 200 多艘。船隊航行的時間比哥倫布發現新大陸早 87 年，比達伽馬開闢新航路早 93 年，堪稱世界遠航的先驅者。」請問：關於文中敘述的船隊事蹟，下列何者正確？


(A)從明太祖到明成祖時，進行共七次的航行
(B)航行的路線最遠到達右圖甲處東岸
(C)船隊航行的「西洋」是指今東南亞和右圖乙區的海洋
(D)南海各國不滿明朝宣揚國威的舉動，而與明朝有許多衝突。



43. 下圖描繪歐洲地理大發現時期葡萄牙、西班牙的主要航路。請問：關於下圖甲路線的敘述下列何者正確？



- (A) 為葡萄牙人的主要航路
(B) 利用在亞洲的殖民據點澳門來進行轉運
(C) 小米、番薯、馬鈴薯等新作物由美洲傳入中國
(D) 以白銀向中國購買絲綢和瓷器，導致白銀大量流入中國。
44. 此人於 1583 年來到中國，是第一位對中國典籍進行鑽研的西方學者，被尊稱為「泰西儒士」。他除傳播宗教教義外，還將西方天文、數學、地理等知識傳遞到中國。請問：下列何者「並非」此人事蹟？
(A) 將《坤輿萬國全圖》介紹給中國
(B) 與徐光啟合譯《幾何原本》
(C) 允許中國教徒可以祭祖、祭孔
(D) 其身分為基督教長老教會的傳教士。
45. 清初朝廷曾頒布法令：「嚴禁商民船隻私自出海，有將一切糧食、貨物等項與逆賊貿易者，……不論官民，俱行奏聞正法，貨物入官，本犯家產盡給告發之人。」請問：頒布此法令的歷史背景為何？
(A) 倭寇侵擾東南沿海 (B) 鄭氏政權倡導反清復明
(C) 傳教士涉及宮廷政爭 (D) 蒙古人屢犯北方邊界。
46. 宋代某機構的職責包括：根據所申報的貨物、船上人員及要去的地點，發給出海許可證；派人上船「點檢」，防止夾帶兵器及其他物品；對進出口的貨物實行「抽分」制度，官府按一定比例抽稅。請問：關於此機構的敘述，下列何者「錯誤」？
(A) 在唐代即有此機構的設立
(B) 設立的地點位於東南沿海的大港口
(C) 主要提供給官員、旅客歇息的處所
(D) 功能類似於今日的海關。
47. 我們針對不平之事常會說「沒天理」，可見理學觀念深入人心。宋代理學又稱為「新儒學」，強調人的一動一念都要符合天理。請問：關於理學的敘述，下列何者正確？
(A) 北宋學者朱熹集理學之大成
(B) 儒家學術融合佛教、法家思想，形成獨樹一格的學問
(C) 重視品德修養、提倡儒家倫理觀念
(D) 僅在中國本地流傳，未對其他國家造成影響。
48. 元代來自阿拉伯的醫師到中國行醫，帶來了先進的醫療技術，朝廷設立專門研究這些醫學知識的單位，並將研究成果編成書籍。請問：下圖書籍與哪一宗教的文化成就傳入中國有關？
(A) 佛教 (B) 伊斯蘭教 (C) 天主教 (D) 道教。



49. 「夜空常常被爐火照亮，『四時雷電鎮』的名號一點也不虛傳。明清兩代的御窯廠都設在這裡，全國優秀的陶瓷工匠匯聚。供皇帝、妃子、大臣享用的御用瓷在此地做好，千里迢迢被運進宮裡。」請問：上文敘述和明清時期商貿發展的哪一主題有所關聯？
(A) 商人組織的擴大 (B) 美洲作物的傳入
(C) 白銀與銅錢的並用 (D) 專業市鎮的興起。
50. 清朝最昌盛的時期，蒙古、西藏、臺灣、新疆等地先後被納入版圖，形成如一片秋海棠葉子的領土範圍。請問：清朝的盛世歷經下列哪三個皇帝？
(A) 順治、康熙、雍正 (B) 康熙、雍正、乾隆
(C) 雍正、乾隆、嘉慶 (D) 乾隆、嘉慶、道光。

新北市立新莊國民中學 109 學年度第 1 學期第 2 次段考 8 年級社會領域試題
解答

1	2	3	4	5	6	7	8	9	10
C	A	D	A	D	D	D	B	A	B
11	12	13	14	15	16	17	18	19	20
A	B	B	C	C	D	A	C	C	A
21	22	23	24	25	26	27	28	29	30
A	B	D	A	B	A	A	D	B	C
31	32	33	34	35	36	37	38	39	40
A	C	D	B	B	C	A	D	A	C
41	42	43	44	45	46	47	48	49	50
B	C	D	D	B	C	C	B	D	B