

新北市立新莊國民中學 109 學年度第 1 學期第 2 次段考 9 年級社會領域試題卷

班級

座號

姓名

- ※ 選擇題：本試卷共 50 題，每題 2 分，總分為 100 分。
 每一題均為單選題，請選出最適當答案。
 ※ 請用 2B 鉛筆在答案卡上相應的位置畫記。

1. 此區曾有個南斯拉夫聯邦因地形崎嶇，種族宗教非常複雜，有所謂「一個國家、二種文字、三種語言、四種宗教、五個民族、六個共和國、七個鄰國、八個政治區」的說法，可看見穆斯林進出清真寺、東正教徒於教堂禮拜的多樣風貌，歷史上多所紛擾且戰火紛飛、政局於近代亦多有更迭。請問此段描述應為歐洲何區？
 (A)斯堪地那維亞半島 (B)大西洋冰火之島
 (C)巴爾幹半島 (D)不列顛群島

2. 現今全球暖化危機威脅全球物種的生存，請問下列歐洲各國事件，何者「並非」全球暖化造成的？

(A) **電廠油槽漏油意外**
 西伯利亞凍土解凍導致電廠燃油槽支柱基地塌陷，釀成俄羅斯史上第二嚴重的漏油意外

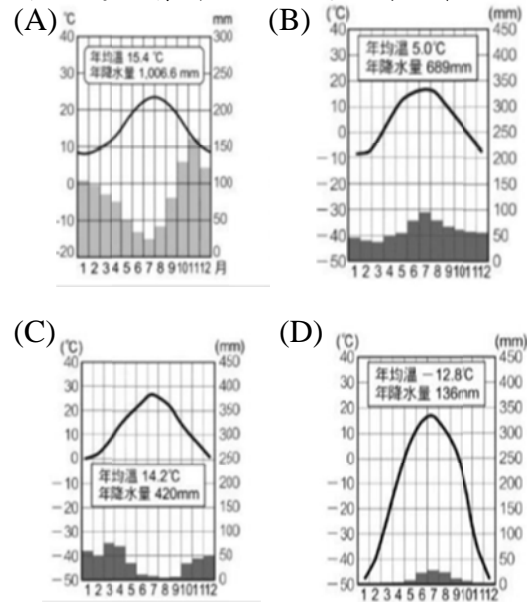
(B) **荷蘭治水觀點轉變**
 荷蘭治水觀點由「與水爭地、迫河改道、人定勝天」，到「還地於河、傍河而居、與水共生」

(C) **俄羅斯森林大火頻仍**
 俄羅斯遠東地區泰卡林自燃機率逐漸提升，已成為近期世界最大規模森林火場之一

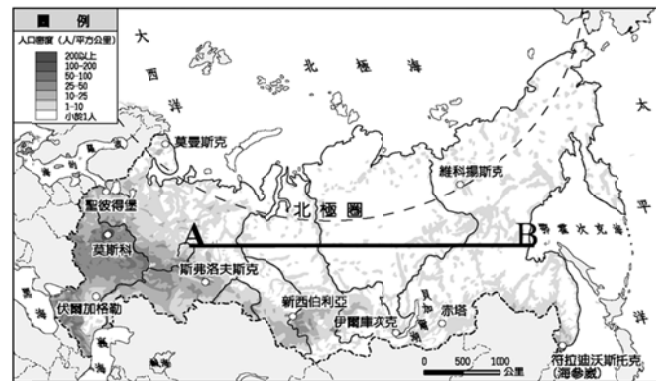
(D) **歐洲空汙問題未解**
 歐洲環保署發布的空汙影響報告表示歐盟成員國因空汙改善緩慢，每年導致近 50 萬人早逝

3. 「2020 年 covid-19 病毒席捲全球，世界各國與人類備受考驗，為避免人與人的接觸與飛沫傳染，開始嚴格維持社交距離，更讓許多國家面臨封城，產業停擺、經濟萎縮的狀態，全球的消費力道明顯減弱，人民生活陷入困頓，身心疲憊。」根據上述疫情，請問下列狀況何者「最不可能」在防疫期間出現？
 (A)法國 Chanel 品牌宣告：為了員工安全考量，即日決定關閉工廠數週，暫停生產精品服飾。
 (B)芬蘭 NOKIA 通訊業者新聞稿：因全球疫情爆發，雲端需求與線上活動增加，營收逆勢上漲。
 (C)德國西門子高鐵業者報表：疫情時代，高鐵搭乘人數提升，車票銷售總額達歷史新高。
 (D)奧地利維也納國家歌劇院公告：防疫考量各項音樂藝文活動暫緩施行，請多見諒。
4. 「斯洛伐克立法清算共產黨：斯洛伐克議會於 2020 年 11 月 4 日通過了一項法律修正案，決議跟隨周邊有共同遭遇政治迫害的國家，開始禁止在紀念碑和紀念牌匾等地方出現象徵共產主義、納粹法西斯等專制政治體制的標誌，並禁止用共產黨和納粹法西斯人士的名字命名街道、廣場以及其他公共場所。」請問上述新聞所提及的「有共同遭遇政治迫害的國家」，最可能為下列哪個組合？
 (A)芬蘭、冰島、希臘 (B)保加利亞、盧森堡、英國
 (C)瑞士、比利時、奧地利 (D)匈牙利、波蘭、烏克蘭

5. 承上題，請問此區的氣候特徵最接近哪一張氣候圖？



- 【題組】下圖為俄羅斯的人口分布圖，以鐵路運輸為主要交通方式，全程 9288 公里長的西伯利亞鐵路更成為世界最長鐵路，由首都莫斯科出發，到達東側港口符拉迪沃斯托克，最快也要七個晝夜才能抵達。
 請依圖中資訊回答第 6-7 題：



6. 搭乘世界最長的西伯利亞鐵路最快也需七天，請問此車程耗時之久與該國何項地理特質有關？
 (A)經度跨越範圍大
 (B)緯度跨越範圍大
 (C)寒帶氣候溫差大
 (D)地形高低起伏大
7. 一路東行的鐵路行中，旅客筆記中有關俄羅斯的記載何者是正確的？
 (A)過了烏拉山後進入西伯利亞區，由 A~B 區接續經過高原、山地、平原區
 (B)感覺莫斯科周圍人口稠密，隨旅程行進，人煙愈形稀少，僅見原始茂密雨林
 (C)車上餐點多供給俄羅斯傳統美食，具高油脂、高熱量特質，可以禦寒的湯品與食物為主
 (D)火車短暫停靠休息站時，當地小販多販售當地特色小米酒以及逗趣的提線木偶

請翻面繼續作答

班級
 座號
 姓名

【題組】臺灣大學生小敏一行人自行組織北歐自助畢業旅行，行程如下表，請參閱行程與下圖北歐五國分布圖回答第 8~11 題：

- 第一天
 跟隨當地嚮導進行冰河探險後，在永夜璀璨星空中體驗地熱溫泉，再至北極圈寒地尋訪神秘極光
- 第二天
 一早搭乘遊艇閱覽峽灣海岸景緻，午後體驗維京傳統鑿冰釣魚樂趣
- 第三天
 跨過基阿連山後，先去參訪volvo汽車廠，晚上至工藝聞名世界的IKEA總部享用傳統肉丸餐
- 第四天
 上午進入安徒生童話王國，在LEGO總部樂園參觀由積木組成的迷你世界，滿足童趣，下午到哥本哈根港口享用海鮮，並與小美人魚像合影留念後，搭郵輪至赫爾辛基投宿
- 第五天
 體驗當地高溫柔拿後，投入冰蝕湖中急速冷卻的傳統沐浴方式，最後至聖誕老人村寫下畢旅心得郵寄給自己與朋友，以畫下旅程句號



8. 根據行程請找出其旅遊途徑為何？
 (A) 乙→丙→丁→戊→甲國 (B) 丙→甲→乙→丁→戊國
 (C) 甲→丁→戊→丙→乙國 (D) 戊→丙→乙→丁→甲國
9. 承上題，這行程是規劃哪個時間點前往北歐旅遊呢？
 (A) 端午連假 (B) 中元普渡 (C) 中秋假期 (D) 農曆新年
10. 第三天在 IKEA 總部享用肉丸餐時，小敏聽到隔壁桌的當地人正在話家常，該國的社會福利一直享譽全球，甚至可以說，國家對每一個國民的照顧都是「從搖籃到墳墓」，但需搭以高稅率政策維持社會運作，請參閱下表該國的稅率標準，找出下列對話中，何人言論並不符合該國情形？
 (A) 路易：我每個月 400,000 克朗的薪資，需要繳納 150,000 克朗給政府，生活有些吃緊
 (B) 盧卡斯：路易，我雖然月薪有 560,000 克朗，但扣稅後可用的錢與你是一樣的耶，你我半斤八兩
 (C) 卡佩：你們都還有工作可繳稅，我已找工作數月了，幸好還有失業救濟金補助過活，你們都算幸運了
 (D) 諾貝爾：看來政府雖拉近了貧富落差，但我周遭高薪的朋友都想要移民，人才外流似乎無可避免

稅率標準	月收入
免稅 Grundavdrag	低於 18,700 克朗 (台幣 74,800)
30%	18,800~430,200 克朗 (台幣 75,200~1,720,800)
50%	超過 430,200 克朗 (台幣 1,720,800) 但低於 616,100 克朗 (台幣 2,503,200)_
超高收入稅 5%(額外) Hoginkomstskatt	高於 625,800 克朗 (台幣 2,503,200)

11. 小敏一行人返台後，對北歐地區進行更多了解，將旅遊紀錄與網路資訊在班級進行分享，請問分享報告中何者是「錯誤」的？
 (A) 發現丙、戊國皆因地處高緯，深受冰河覆蓋影響，普遍土壤貧瘠，農業條件不佳、偏重漁業發展
 (B) 第三天跨過基阿連山後，陰雨霏霏的天氣明顯好轉，幾乎沒有降雨，進入典型溫帶海洋性氣候
 (C) 北歐各國因地大人少，通訊設備、資訊系統皆發達，使用網路、手機支付旅費，十分方便
 (D) 甲、乙、丙國北方皆進入北極圈內，人煙罕至，原生植被多是樹種單一的針葉林為主

【題組】下圖為歐洲的國家分布圖，下表為各國 2020 年的經濟組織概況，O 代表有加入，X 表示無參加，請依據圖表資訊回答第 12~16 題：



國家	歐盟國	歐元區
德國	O	O
芬蘭	O	O
俄羅斯	X	X
奧地利	O	O
瑞士	X	X
荷蘭	O	O
烏克蘭	X	X
法國	O	O
丹麥	O	X
波蘭	O	X
英國	X	X

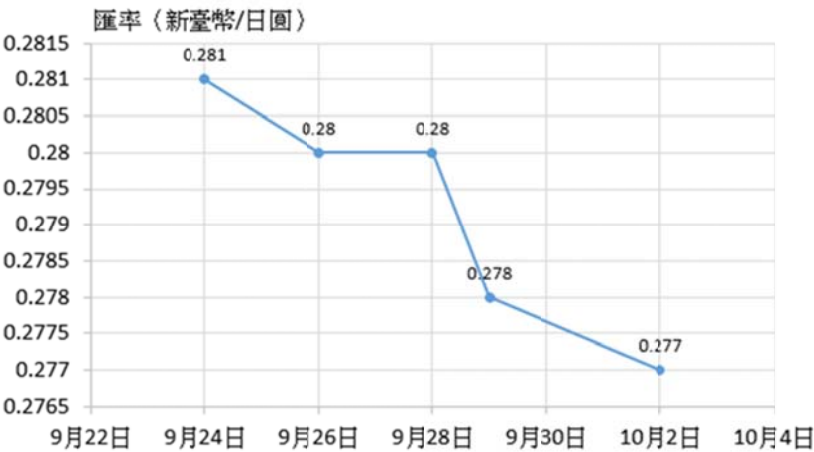
12. 請找出下列的配對組合何者是完全正確的？
 (A) A-大西洋、ㄅ國首都-雷克雅維克、ㄊ國首都-維也納
 (B) B-北極海、ㄆ國首都-巴黎、ㄌ國首都-鹿特丹
 (C) C-波羅的海、ㄋ國首都-柏林、ㄊ國首都-莫斯科
 (D) D-黑海、ㄋ國首都-奧斯陸、ㄆ國首都-斯德哥爾摩
13. 依據歐盟原則，各成員國間視為共同市場，商品可自由通行、關稅獲得減免，但非歐盟成員即需要課徵關稅。請問下列何者的貿易行為是「需要課徵高額關稅又需要匯兌貨幣」的？
 (A) ㄅ國與ㄌ國 (B) ㄆ國與ㄊ國
 (C) ㄋ國與ㄆ國 (D) ㄋ國與ㄌ國
14. ㄋ國的工業產品具備品質精良、做工細膩的特質，該國工業發達的優勢「不包含」下列何項？
 (A) 務實的民族性 (B) 豐富鐵礦資源
 (C) 科技實力堅強 (D) 便利水陸交通

班級 _____ 座號 _____ 姓名 _____

15. 請問下列何項選項「不符合」〈國的國情狀況？
- (A)自詡為中立國，未參加歐盟，但以歐元為主要貨幣
 - (B)地勢高聳，可謂山巔之國，但可利用 U 型谷地通往義大利
 - (C)發展物小價高的鐘錶、刀具精密工業，聞名世界
 - (D)嚴寒氣候讓暖呼呼且高熱量的起司鍋成為特色美食

16. ㄟ國受環境限制，沿海地帶多發展酪農業，造就乳酪大量外銷，花卉園藝業的長年經營，亦使其成為世界最大花卉交易市場，現在該國四寶「鬱金香、乳酪、風車、木鞋」，已成為國家象徵，請問該國四寶的形成與此國何項背景因素密切相關？
- (A)跨國企業眾多
 - (B)積極填海造陸
 - (C)轉口貿易發達
 - (D)綠能產業興盛

17. 劉先生透過網路銀行查詢了近期的外匯市場，發現日圓兌新臺幣匯率的走勢如下圖所示。請問：這段期間匯率的變化，對臺灣人民有什麼影響？



- (A)若無肺炎疫情，有利於到日本旅遊
- (B)賣出持有的日幣，以利賺取匯差
- (C)有利臺灣廠商出口商品到日本販售
- (D)不利臺灣廠商從日本進口商品到臺灣。

18. 閃閃、亮亮、晶晶三人以同時段由其中二人工作的方式輪班製作地瓜餅與南瓜餅，且每次一人只負責製作一項產品，右表為他們的產能狀況。若閃閃與亮亮搭檔生產時，亮亮在生產地瓜餅上具有比較利益；而亮亮與晶晶搭檔生產時，亮亮在生產南瓜餅上具有比較利益，根據右表資料判斷，X 最可能為下列何者？
- (A) 32
 - (B) 35
 - (C) 38
 - (D) 42

	地瓜餅	南瓜餅
閃閃	50	40
亮亮	X	30
晶晶	40	30

19. 下列有關市場「供不應求」的敘述，共有幾項是正確？
- (甲)台積電利多不斷，投資客積極搶單，股價大幅上漲
 - (乙)雙 11 網路購物節優惠促成商品熱銷，廠商連忙進貨
 - (丙)大學畢業生工作難尋，平均起薪逐年降低
 - (丁)屏東東港黑鮪魚漁獲量減少，市價翻倍漲
- (A)一項
 - (B)兩項
 - (C)三項
 - (D)四項

20. 下表為某理財網站針對台外幣理財商品所做的比較，從中可以看出貨幣的何種功能？

銀行	內容	備註
澳盛銀行 樂高儲蓄 理財帳戶	新台幣活儲帳戶：每月新增資金達2萬元以上，次月即可享活存利率 0.75%優惠	另可享定期定額基金投資手續費終生 5 折優惠
遠東銀行 FE Direct	視存款高低提供階梯式計息利率： 台幣0.42~0.8%、美元0.03~0.65% 日幣0.04~0.3%、歐元0.1~0.8% 澳幣1.5~3.85%、紐幣0.35~1.9%	◎無開戶最低門檻 ◎無帳戶管理費 ◎基金投資首年免帳戶管理費
星展銀行 富利活儲	新台幣活儲帳戶：現存款金額高低提供階梯式計息，利率0.35~0.5%	◎開戶最低門檻5000元 ◎每日計息、每月付息

- (A)交易媒介
- (B)價值衡量
- (C)價值儲存
- (D)債務清償。

21. 月餅店老闆雇用丁丁、拉拉、努努為店員，並計畫選出其中二人合作製作蛋黃酥與綠豆糕，下表為此三人工作成效資訊。老闆發現依據比較利益法則分工，丁丁不論與誰合作，皆是負責製作蛋黃酥；而努努不論與誰合作，皆是負責製作綠豆糕。根據表中資訊判斷，下列對應關係何者正確？
- | | 甲 | 乙 | 丙 |
|-----|----|----|----|
| 蛋黃酥 | 40 | 40 | 30 |
| 綠豆糕 | 30 | 20 | 30 |
- 單位：個/小時
- (A) 拉拉、丁丁、努努
 - (B) 丁丁、努努、拉拉
 - (C) 努努、拉拉、丁丁
 - (D) 努努、丁丁、拉拉。

22. 阿倫在夜市內租了攤位販售炸雞排，若阿倫攤位的炸雞排供需狀況為右圖中的線段 BC 所示，阿倫應該如何調整，才能達到市場均衡的局面？
-
- (A)舉辦買一送一活動
 - (B)減少炸雞排的產量
 - (C)實施集點折扣優惠
 - (D)提高炸雞排的售價。

23. 經濟活動是由一雙「看不見的手」來主導，供需雙方會各自做出對自己最有利的選擇；下列各項敘述何者符合此種經濟制度？
- (A)又稱為計畫經濟制度
 - (B)菜市場裡的討價還價行為
 - (C)基本工資調漲為 23,800 元
 - (D)財產多為私有，所得分配較為平均。

24. 苾恬在學校附近開設早餐店，右表為試賣期間蘿蔔糕販售的紀錄，其中甲、乙、丙、丁、戊分別為由高到低的五種價格。店內販售的蘿蔔糕皆為當日製作，且絕不隔夜販售，若表中甲、乙、丙、丁、戊皆非均衡價格，在不考量其他因素，則店內蘿蔔糕的均衡價格最可能是介於哪兩者之間？
- | 當日價格 (元) | 未賣出的商品數量(份) |
|----------|-------------|
| 甲 | 15 |
| 乙 | 12 |
| 丙 | 5 |
| 丁 | 0 |
| 戊 | 0 |
- (A)甲、乙
 - (B)乙、丙
 - (C)丙、丁
 - (D)丁、戊。

25. 右圖是某段時間美元兌新臺幣匯率的變動情形，若不考慮其他條件，下列敘述何者正確？
-
- (甲)從甲到乙，在美國市場，新臺幣的購買力上升
 - (乙)從乙到丙，在臺灣市場，美元的購買力下降
 - (丙)在乙的時間點，臺灣水果商出口芭樂到美國利潤最低
 - (丁)在丙的時間點，美國商家購買臺灣水果進貨成本最高
- (A)甲丙
 - (B)甲丁
 - (C)乙丙
 - (D)乙丁

26. 下表是阿新和阿莊每天製作盤子與湯碗的數量；以製作湯碗而言，具有絕對利益者為甲、具有比較利益者為乙，請問甲、乙分別為下列何人？
- | | 阿新 | 阿莊 |
|--------|----|----|
| 盤子 (個) | 10 | 8 |
| 湯碗 (個) | 8 | 6 |
- (A)阿新、阿新
 - (B)阿莊、阿莊
 - (C)阿新、阿莊
 - (D)阿莊、阿新

新北市立新莊國民中學 109 學年度第 1 學期第 2 次段考 9 年級社會領域試題卷

班級

27. 我國的中央銀行隸屬(甲) 行政院，連續 12 年上繳國庫逾 1,800 億，是國庫的金雞母，此項收入為政府(乙) 財產收入，其業務包括(丙) 保管國家的黃金與外匯、(丁) 委託臺灣銀行發行新臺幣；但依照法律規定，若有民眾非法印製偽鈔需負起(戊) 行政責任。
- (A) 甲丙丁 (B) 乙丁戊 (C) 甲丙戊 (D) 乙丙戊

28. 下表為某年甲、乙、丙、丁四個國家的貨物進出口資料；根據資料內容判斷，何者屬於貿易逆差國家？

	出口項目 (種)	出口總值 (億美元)	進口項目 (種)	進口總值 (億美元)
甲國	609	2,791	524	2,902
乙國	1,853	3,287	2,246	3,138
丙國	448	982	765	1,853
丁國	1,277	1,263	849	959

- (A) 甲丁 (B) 甲丙 (C) 乙丁 (D) 乙丙

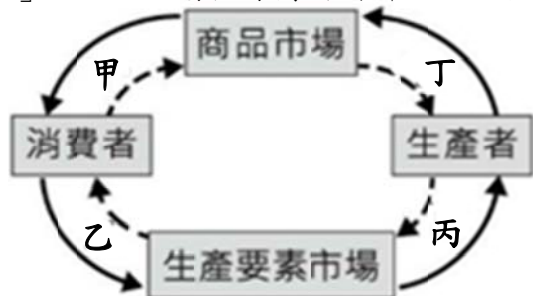
29. 「消費者物價指數」可以用來判斷一國平均物價水準變化的情形，根據右表中資料顯示某國的經濟潛藏著某種危機；請問面對此種經濟問題，該國可能會出現哪些樣貌？

年份	物價指數
2017	100
2018	95
2019	90

- (甲) 人民儲蓄意願降低
(乙) 人民會減少消費
(丙) 貨幣的購買力降低
(丁) 貨幣的價值上漲
- (A) 甲丙 (B) 甲丁 (C) 乙丙 (D) 乙丁

✕ 【題組】

下圖為經濟活動循環簡圖，外圈是「商品和生產要素」的流向，內圈是「貨幣」的流向；請根據簡圖判斷，回答下列問題。



30. 臺北榮總為提升醫療品質，引進最尖端重粒子癌症治療系統，減少放射治療所伴隨的副作用。請問：醫院添購醫療設備的行為是指圖中哪一個部分？
(A)甲 (B)乙 (C)丙 (D)丁

31. 知名的連鎖火鍋店祭出超好康優惠，連續兩週推出「三人同行，一人免費」的活動，多款肉品、海鮮、蔬菜、熟食、甜點、飲料吃到飽。請問：火鍋店此項行銷策略是指圖中哪一個部分？
(A)甲 (B)乙 (C)丙 (D)丁

32. 根據國家發展委員會公布的人口推估報告顯示，臺灣將於2025年進入超高齡化社會。有鑒於此，企業若能販售更多銀髮族商品，使這些銀髮族願意且持續消費，如此一來不僅能造福銀髮族的生活品質、創造更多的商機，也使得企業願意聘僱更多的勞工，減少失業問題。請問：上述兩項劃線處依序是指圖中哪個部分？
- (A)甲乙 (B)乙丁 (C)丙甲 (D)丁丙

33. 五月天[Mayday 2020 Just Rock It!!!]桃園棒球場演唱會門票：無限搖滾區最貴的票價為新臺幣 4880 元，連看台區也要價新臺幣 1880 元。沒想到網站開放售票後，24 萬張門票在短短 9 分鐘內就被搶購一空，讓許多沒搶到票的歌迷崩潰哀嚎。請問：上述內容與圖中哪兩個部分有關？
(A)甲丙 (B)乙丁 (C)甲丁 (D)乙丙

- 34. 歷史課堂上老師講解右圖的社會狀況，請問：下列何項會在老師解說內容中出現？**

- (A) 根據領主、農民與教士階級的出現，判斷此為文藝復興時期的歐洲
- (B) 農民平時除了耕種之外，尚且有義務幫領主出征，也可受封為騎士
- (C) 此時期君主不曾與教會爭奪領導權，是政教合一的狀態
- (D) 教士平時也會抄寫古籍，保存了希臘、羅馬的古典文化。
-
- 農民手持房舍，顯示其生活住處，且在鄰近的田地從事農耕。




35. 他在西元 800 年得到加冕成為「羅馬人的皇帝」，在日耳曼民族所建的王國當中實力最強大。在位期間推廣基督教及拉丁文，讓中世紀西歐形成一個以基督教為中心的文化共同體。請問：他是指何人且在圖(二)中何處建國？



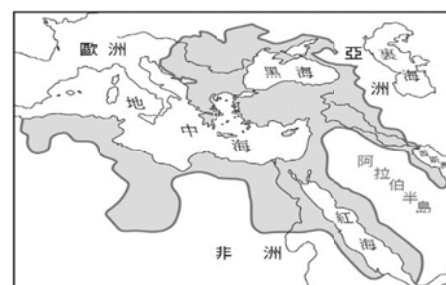
- (A) 鄂圖一世，丙
(B) 查士丁尼，乙
(C) 亨利八世，己
(D) 查理曼，戊。


36. 小英在準備段考複習時翻閱筆記，發現這個重要的表格被黑筆墨汁給汙損了，如右表所示。根據表中內容判斷，此君主應該是下列何者？

君主名稱： 	
西元 527 年	登基為帝
西元 529 年	公布法典
西元 532 年	重建大教堂，命名「聖索菲亞」
西元 553 年	殲滅東哥德王國
西元 565 年	逝世

- (A)查里曼(B)君士坦丁(C)查士丁尼(D)鄂圖一世。

- 37. 阿娟進修歷史知識，對右圖所繪的歐亞非大帝國很感興趣，因此蒐集了大量資料來研究，下列何項資料是正確的？**



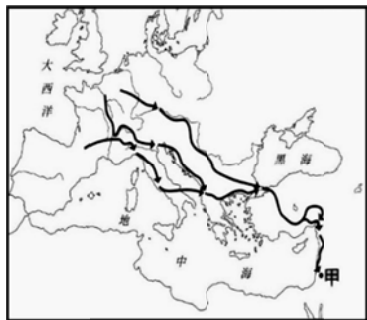
- (A) 此帝國信仰希臘正教，文化及宗教影響了斯拉夫民族
- (B) 此帝國壟斷東西方陸路貿易，刺激西歐國家進行海外探險
- (C) 帝國長期抵擋伊斯蘭教徒的侵擾，成為西歐的屏障
- (D) 股份公司、支票等概念由其發展出來，唐朝稱之為大食。
- 

38. 下表是關於中古西歐與東羅馬帝國的比較，表格當中的各項敘述，何者「正確」？

選項 \ 地區	中古西歐	東羅馬帝國
(A) 宗教類別	東正教	羅馬公教
(B) 宗教領袖	國君	教宗
(C) 政教關係	政教合一	政教衝突
(D) 影響民族	日耳曼人	斯拉夫人

39. 右圖為十二世紀某場軍事行動的進攻路線圖，圖中的「甲」為進攻的目的地。從圖中的訊息判斷，這場軍事行動最可能是下列何者？

(A) 蒙古西征
(B) 日耳曼入侵
(C) 十字軍東征
(D) 亞歷山大東征。



40. 曉軒無意間在書中發現右圖的照片，想在萬聖節打扮成這樣來嚇人。上網查資料才發現，這是在歐洲十四世紀時，因人口大量死亡後才衍伸出的「瘟疫醫生」打扮，部分醫生開始穿著此服裝來保護自己，長袍是以多層布料編織而成，外層塗蠟可避免直接碰觸患者，塗蠟的布料也能防止有傳染性的跳蚤或患者血液吸附沾染在衣物上。面具在眼處裝有透明玻璃，可以隔絕患者與屍體的組織液、血液或飛沫，前端還有一個像鳥喙的凸起可內填芳香物質。手持木杖指示棒來檢測患者狀況以避免感染。請問：當時歐洲大量人口死亡的時代背景為何？

(A) 十字軍東征將鼠疫帶到耶路撒冷，引發大規模傳染
(B) 匈奴入侵導致日耳曼民族滅掉西羅馬帝國，死傷慘重
(C) 鄂圖曼土耳其人攻入君士坦丁堡，導致拜占庭帝國滅亡
(D) 人口密集的城市爆發黑死病，傳染病迅速擴張。



41. 電影《騎士風雲錄》描述中古時期十四世紀，一位出身卑賤的平民威廉夢想成為一位騎士，在父親和朋友的鼓勵下，他苦練劍術和馬術。一次威廉跟隨的貴族騎士身亡，威廉冒充他的身分，又得到作家喬塞的幫助，幫他捏造貴族證書，參加只有貴族騎士才有資格的「長槍比武大賽」。歷經多次過關斬將後，威廉贏得大賽，並擄獲貴族女子喬絲琳的芳心。請問：下列敘述何者錯誤？

(A) 騎士制度盛行的背景為中古時代地方勢力割據、相互爭戰
(B) 威廉須要捏造貴族身分，是因中古時期的階級區分嚴明
(C) 威廉若成為騎士，他和領主之間必須依靠血緣來建立關係
(D) 威廉追求喬絲琳，代表當時騎士自由對貴婦表達情意的風氣。

42. 阿海的朋友設計了一個新軟體，只要輸入某些關鍵字串之後便可得到該時期對應的地圖。阿海帶著興奮的心情嘗試後得到右圖，請問：哪一筆資料是他所輸入的關鍵字串？

(A) 重新領悟「神」的尊貴和重要性，藝術作品展現柔美的風格
(B) 文學作品採用方言進行創作，出現了但丁、佩脫拉克等作家
(C) 聖索菲亞大教堂兼具伊斯蘭教與基督教風格，是當時建築的典範
(D) 卡斯提爾和亞拉岡兩王國聯姻，合力趕走伊斯蘭勢力。



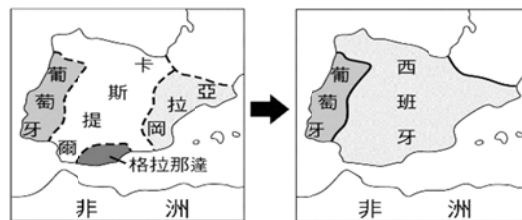
43. 益謙是文藝復興時代義大利地區的人文主義學者，下列哪個選項絕對不會是他的主張？

(A) 主張「以人為本」的思想，鼓吹教會加緊對人性的約束
(B) 喜愛閱讀但丁與薄伽丘的作品，並著手方言文學的創作
(C) 欣賞拉斐爾「聖母像」中的親和力
(D) 注意馬基維利的《君王論》，闡述君主治國的方式。

44. 寶寶在電影院觀看一部西洋影片，電影片段談到：「法國諾曼第公爵威廉很早即對海峽對岸的英國領地感興趣，諾曼第公爵威廉宣聲稱當他 1052 年在倫敦訪問英王愛德華時，後者許諾給他王位。後來威廉援救遭遇海難的哈羅德，他也同時誘導哈羅德，透過一個隱藏的聖徒骸骨對自己宣誓願支持威廉成為未來英王。然而英王愛德華最終的遺囑將英王之位傳給哈羅德。威廉知悉後渡過英吉利海峽，打敗英王哈羅德占領了英國，並自立為英國國王。之後英王一直由法國諾曼第公爵出任，兩國之間的封建關係糾纏複雜，至十四世紀因而爆發了戰爭。」寶寶所觀看的電影，是在描述哪場戰爭？

(A) 十字軍東征 (B) 英法百年戰爭 (C) 宗教戰爭 (D) 蒙古西征。

45. 張老師講解某個歷史主題時，在黑板上放了右邊兩張地圖，依兩張地圖情勢的演變，老師應該在講解哪一個主題？



(A) 基督教的發展 (B) 文明重心的轉移
(C) 王權國家的形成 (D) 帝國主義的興起。

46. 西班牙在歷史評價兩極化，它既是發現者也是破壞者。下列有關西班牙的評論何者正確？

(A) 祐銘：「15 世紀末，卡斯提爾王國與亞拉岡王國聯手驅逐南方伊斯蘭國家格瑞那達，之後兩國合併為西班牙王國，發展成為王權國家，並積極從事海外探險。」
(B) 懋翔：「西班牙還曾經在西元 1626 年時入侵台灣，佔領台灣南部，作為赴日傳教的中心。今日的三貂角就是西班牙音譯的聖地牙哥(San Diego)而來。」
(C) 嘉慧：「西班牙人將稻米、蕃薯及馬鈴薯傳到歐洲、亞洲各地，豐富了歐洲、亞洲各地的糧食種類。」
(D) 僑偉：「西班牙位在巴爾幹半島，而這個地區歷史上曾受到羅馬帝國、西哥德王國、阿拉伯帝國所統治，所以建築風格多樣化。」

47. 新莊區公所舉辦「誰是航海王」知識大賽，根據下圖來判讀正確知識，本校派出四位同學參賽。請問：下列哪位同學敘述有誤呢？

(A) 阿福：甲路線是第一個由西班牙王室資助，由哥倫布率領船隊成功橫渡大西洋
(B) 大雄：乙路線是狄亞士發現非洲南端的好望角，最後順利抵達了印度
(C) 胖虎：丁路線是唯一從中國沿海出發的，應該是鄭和下西洋的路線
(D) 靜香：丙路線經過了菲律賓，判斷這是麥哲倫的團隊完成環繞世界一周的路線。



48. 阿美參加美洲古文明文化遺址之旅，參觀了位於墨西哥的阿茲提克金字塔、秘魯的馬丘比丘古城，親眼見識到古文明的偉大建築，卻也嘆息如今只能幻想當時輝煌帝國的盛況。請問，是因為哪一原因導致這些古文明的滅亡？
(A)火山活動頻繁 (B)西班牙的侵略
(C)鼠疫傳播致命 (D)非洲黑奴輸入
49. 耀文正在撰寫一篇歷史報告，內容提到：「某位人物在宗教改革中主張『預選說』，認為上帝已經預先決定個人是否能夠得救，人無法改變或預先得知；並認為累積財富並非罪惡，信徒應以世俗成就來榮耀上帝。」請問：耀文所撰寫的報名與何人有關？
(A)馬丁路德 (B)羅耀拉 (C)亨利八世 (D)喀爾文
50. 宗教改革運動中，馬丁路德強調聖經是信仰的最終依歸，甚至將聖經翻譯成德文，讓信徒能夠自行閱讀。請問：馬丁路德翻譯聖經的行為，應是受到哪個時期的哪一項潮流所影響？
(A)十字軍東征後，歐亞接觸頻繁，聖經的翻譯有助於東西方文化交流
(B)文藝復興時期，方言文學興起
(C)中古時期，神是一切的權威
(D)十九世紀追求民主自由的思潮。

新北市立新莊國民中學 109 學年度第 1 學期第 2 次段考 9 年級社會領域試題
解答

1	2	3	4	5	6	7	8	9	10
C	D	C	D	B	A	C	D	D	A
11	12	13	14	15	16	17	18	19	20
B	C	A	B	A	B	A	C	C	C
21	22	23	24	25	26	27	28	29	30
A	D	B	C	D	A	B	B	D	C
31	32	33	34	35	36	37	38	39	40
D	D	C	D	D	C	B	D	C	D
41	42	43	44	45	46	47	48	49	50
C	B	A	B	C	A	B	B	D	B