

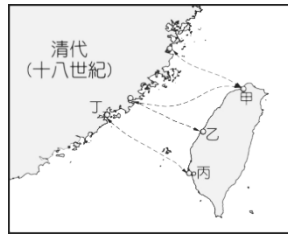
※ 選擇題：本試卷共 50 題，每題 2 分，總分為 100 分。
每一題均為單選題，請選出最適當答案。

1. 寒假時，新莊國中七年級的歷史小老師型男們決定來一場台南歷史之旅，結業式結束後，他們跳上開往台南的火車，開始旅程：律碩在火車上回想鄭成功在北伐受挫之際，決定東取台灣，請問：他攻下台灣後所面對的第一個難題是？

(A) 台灣原住民野蠻難治 (B) 軍民糧食不足
(C) 明朝實施海禁政策 (D) 廈門失守

2. 附圖是臺灣與中國大陸對渡港口示意圖。請問：圖中乙港口應該是下列何者？

(A) 鹿耳門 (B) 大員
(C) 鹿港 (D) 八里坌



3. 歷史劇《鄭氏政權的興衰》即將於 2018 年上檔，其中由男星彭小晏扮演的角色，素有「鄭氏諸葛」、「臥龍」等稱呼。他的文學形象是金庸小說《鹿鼎記》中，領導反清復明事業的天地會總舵主陳近南。請問此人為何？

(A) 沈光文 (B) 鄭成功 (C) 陳永華 (D) 鄭經

4. 「此地」在臺灣近代史中，扮演舉足輕重的角色。它曾是趕走歐洲政權的重要據點，亦曾為政府指定與中國之間唯一合法港口。然而一場洪水夾帶大量泥沙淤塞，使它成為廢港，舟船連天的風光歲月就此一去不返。」請問：此地指的是下列何者？

(A) 鹿港 (B) 艋舺 (C) 淡水 (D) 鹿耳門

5. 清領時期，郭錫瑠父子在臺灣北部進行土地開墾的工作，為了農耕灌溉，其開始投資興建水圳。然而在興建的過程中，除了遭受生番破壞水源，還必須克服橫越溪流的困難……。水圳完成後，灌溉地區的農墾迅速發展，成為臺北盆地最重要的灌溉渠道。」請問：上述的水圳位於右圖中何處？

(A) 甲 (B) 乙 (C) 丙 (D) 丁



6. 萬華龍山寺為乾隆 3 年(西元 1738 年)泉州移民，將福建省晉江龍山寺的觀世音菩薩分靈至臺灣，合資興建而成。寺中有一塊匾額，下方落款為「淡水艋舺北郊金萬利」、「泉郊金晉順」等。「艋舺」名稱源於平埔族稱呼獨木舟的音譯，關於萬華區的情形，下列敘述何者正確？

(A) 萬華區剝皮寮老街的繁榮是因為八里坌開放作為對渡港口後，因地利之便貿易興起
(B) 艋舺有一條不見天街，店鋪林立，有防風避雨的涼棚
(C) 萬華有一條繁榮的神農老街，是清領後期商業中心
(D) 清領前期艋舺發展的順序早於鹿港

7. 林鳳將軍是鄭成功的部將，率兵到曾文溪北方屯田，開墾的地方叫「林鳳營」，位在台南縣六甲鄉。康熙二年，荷蘭幫清廷打仗，攻廈門，林鳳奉令驅逐荷蘭人。小明在「明鄭時期臺灣地區的農業發展」一文中，發現部分內容如下列所示。請問當中哪一段文字出現錯誤？

(A) 寓兵於農的方法可以達到自耕自食的好處
(B) 拓墾地區以中、北部地區為主
(C) 左鎮、後營就是鄭氏軍屯後出現的地名
(D) 拓墾有軍屯、官墾與民墾三種方式，以軍屯為主

8. 老師上課時介紹由下圖(一)到圖(二)的變遷，請問老師應該會提到哪位歷史人物的貢獻？

(A) 鄭成功 (B) 鄭經 (C) 陳永華 (D) 施琅



9. 清領前期，清廷對臺灣採取「為防臺而治臺」的消極政策，起初在入山處，立石為界，後「以山溪為界，其無山溪處，亦一律挑溝堆土，以分界限」。界限的土堆，外型如臥牛故稱土牛，其側的深溝，則稱為土牛溝。請問「土牛」或「土牛溝」的設立，與下列哪項政策有關？

(A) 頒布渡臺禁令 (B) 需申請渡臺證照
(C) 禁止攜帶家眷 (D) 實施劃界封山

10. 「全臺首學」建築氣勢不凡，象徵儒家文化在臺灣的奠基，也是鄭氏時期重視教育的表現。若想親身參觀臺灣第一座孔廟需到下列圖的那一城市？

(A) 甲 (B) 乙 (C) 丙 (D) 丁



11. 崇崇說：「我的家如果在鄭成功時代是屬於天興縣管轄，康熙年間是屬於諸羅縣管轄，嘉慶年間則屬於淡水廳管轄。」請問，崇崇的家應該在哪裡？

(A) 台北 (B) 彰化 (C) 嘉義 (D) 台南

12. 吳沙為福建漳浦人，曾至三貂社，看見大片肥沃的田野尚未開發，便招募來自漳、泉、粵的民眾來此，每人給米一斗、斧一把，進行拓墾。漢人移民先到烏石港，建築土圍作為根據地，陸續由頭圍拓展到四圍，後世尊稱吳沙為「開蘭第一人」。請問：上文的主題應為何者？

(A) 荷治時期的土地拓墾
(B) 鄭氏治臺時期的軍屯計畫
(C) 清康熙年間的土墾開發
(D) 清乾隆、嘉慶年間拓墾東北部的先驅者

13. 煜軒來到古色古香、懷舊氣息濃厚的神農街遊覽，走進水仙宮裡拜拜時，發現水仙宮的出巡用旗，其上仍寫著「臺郡三郊三益堂」的名號。二人滿頭霧水，上網搜尋後才發現臺灣的商人曾經在臺組織「行郊」這樣的商業組織，這個組織成立的目的為何？

(A) 整合地方宗教，使宗教衝突減低
(B) 從事社會公益，扶持相關行業成立
(C) 拓展貿易範圍，對外搶奪市場
(D) 控制商品價格，維護商人利益

14. 子豪在《漫畫台灣史》看到如右圖漫畫，請問，其中的「大臣」及「皇帝」分別是誰？

(A) 陳永華；鄭成功
(B) 吳沙；康熙
(C) 陳永華；鄭經
(D) 施琅；康熙



- 15.右圖是新竹縣國定古蹟「金廣福公館」，「金」取其發財多金之意，「廣」代表廣東，「福」代表福建，為清領時期閩南與客家籍移民共同開墾土地的辦公處所。請問：此座古蹟見證下列何項史實？



- (A) 政府以贈送土地鼓勵漢人來臺開墾
(B) 因為拓荒艱難，大家共同開墾，風險一同承擔
(C) 當時因漢番衝突嚴重，閩南人與客家人一起合作對抗原住民
(D) 因為開墾需要很多資金，合資開墾的情況普遍

- 16.資料一：「統計臺灣當時的人口分布，除了臺灣府所屬的地區有正常的夫妻、子女等社會關係，其他如諸羅、彰化直至淡水、雞籠等地，婦女人數甚至不及數百人。」

資料二：「清朝一位官員向朝廷報告臺灣的情況：『數十萬無父母、妻子之人，沒有感情足以維繫，其中更有諸多無業者，相當容易釀成事端。』建議政府應該及早進行一些必要的措施。」

會出現資料一與資料二所形容的情況，主要是因為哪一個政策？

- (A) 海禁政策 (B) 渡臺禁令 (C) 劃界封山 (D) 鎖國政策
17.施琅在「邊患宜靖疏」中說道：「伏思賊黨盤踞台灣，沃野千里，糧食匪（不）缺，上通日本，下達呂宋、廣南等處，火藥軍器之需，布帛服用之物，貿易備具…」施琅認為鄭氏政權之所以能夠整軍經武，與清朝對抗，主要是靠

(A) 文教發達 (B) 外國援助 (C) 貿易活動 (D) 政治清明

【題組一】：參考附圖，請回答下列問題：

- 18.圖中何處的坡度最陡？

(A) 甲 (B) 乙 (C) 丙 (D) 丁

- 19.等高線「？」處應為多少公尺？

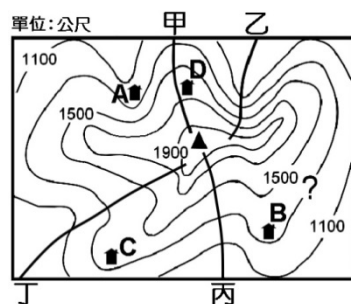
(A) 1200 公尺 (B) 1300 公尺
(C) 1400 公尺 (D) 1600 公尺

- 20.哪一棟民宅位在有河流通過的河谷地帶？

(A) 民宅 A (B) 民宅 B (C) 民宅 C (D) 民宅 D

- 21.圖中最高的地點「▲」，其高度可能為何？

(A) 1900 公尺 (B) 2050 公尺 (C) 2100 公尺 (D) 2150 公尺



【題組二】：附圖是臺灣海岸分布圖，請問：

- 22.哪一段海岸線沿岸有發達的珊瑚礁景觀，深具研究與觀光價值？

(A) 甲 (B) 乙 (C) 丙 (D) 丁

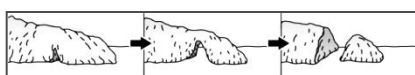
- 23.哪一段海岸因為岩石軟硬不同及海水風浪差異侵蝕的關係，形成曲折海岸線，並具有許多奇岩怪石景觀聞名？

(A) 甲 (B) 乙 (C) 丙 (D) 丁

- 24.圖中的「乙」和「丁」海岸線雖然景觀大不相同，但卻具有下列哪一項共同的特色？

(A) 多沙洲、潟湖 (B) 由珊瑚礁構成
(C) 海岸線較平直 (D) 多懸崖峭壁

- 25.右圖較常見於哪一段海岸，其成因與何者相關？請選出正確組合。



(A) 甲-外營力 (B) 丙-內營力 (C) 丙-外營力 (D) 甲-內營力



【題組三】：附圖是臺灣五大地形分布簡圖，請問：

- 26.臺灣群山之首，百岳排名第一，也是東北亞的最高峰是哪一座山脈？

(A) 甲 (B) 乙 (C) 丙 (D) 丁

- 27.歐亞板塊與菲律賓板塊交界處位於何地？

(A) 丁 (B) 戊 (C) 己 (D) 庚

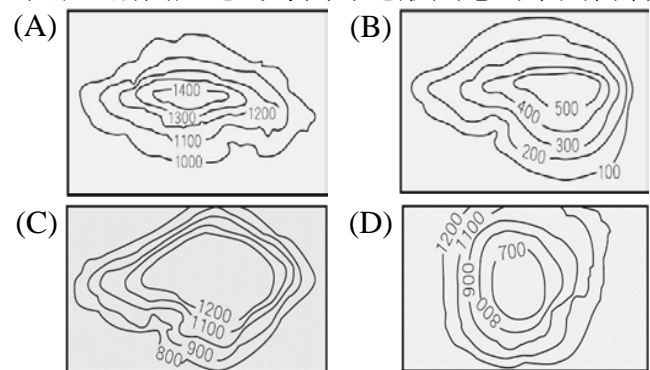
- 28.湯瑪士在寒假期間出遊，他從台北盆地出發途經桃園台地、大肚台地、嘉南平原等地方，請問「依序」是圖中的哪些代號？

(A) ㄅ ㄆ ㄇ (B) ㄅ ㄆ ㄇ
(C) ㄆ ㄇ ㄅ (D) ㄅ ㄆ ㄇ

- 29.蘇花公路是由宜蘭蘇澳前往花蓮市的重要通道，全長 102.4 公里，沿路可看太平洋與峭壁山色，為世界著名的景觀公路。請問：蘇花公路沿途經過的山脈是下列何者？

(A) 乙 (B) 丙 (C) 丁 (D) 戊

- 30.位於丁區的太魯閣國家公園，其特殊地質景觀成為觀光景點，請問此地的等高線地形圖應為下列何者？



【題組四】：附圖為臺灣離島分布圖，請問：

- 31.臺灣有個離島因為西北邊的火成岩裸露，在夕陽照射之下，船隻遠望有如紅色人頭，因此舊名為「紅頭嶼」；後來因島上盛產蝴蝶蘭，因此而改名為蘭嶼，此島嶼為下列何者？

(A) E (B) F (C) G (D) H

- 32.承上題，紅頭嶼的紅頭山是臺灣離島最高山，龜山島海拔最高為 401 公尺排名第二，其龜首海域的海底可見一座座仍在噴發的熱泉噴口，請問此島位於圖中何地？

(A) B (B) F (C) D (D) I

- 33.附圖為某種島嶼的成因示意圖，此圖可以用來說明下列哪些島嶼的形成原因？

(A) A、C (B) D、F
(C) E、G (D) I、B



- 34.下列四人的對話中，親屬關係觀念正確的有幾項？

(A) 1 項 (B) 2 項 (C) 3 項 (D) 4 項

大雄：「叔叔和嬸嬸是一家人，都是我的旁系血親。」
靜香：「表嫂是血親的配偶，所以與我是姻親關係。」
胖虎：「阿姨是我的旁系血親，表哥是我的直系血親。」
小夫：「大嫂和我沒有血緣關係，所以我倆不是親屬」

新北市立新莊國民中學 106 學年度第 1 學期第 2 次段考 7 年級社會領域試題卷
班 座號_____ 姓名_____

- 35.三國演義第四十四回【孔明用智激周瑜，孫權決計破曹操】，周瑜和孫權之兄孫策，分別娶了江東二喬，大喬小喬為親姐妹，請問周瑜和孫策之間的親屬關係為下列何者？
(A) 血親的配偶 (B) 血親的配偶的血親
(C) 配偶的血親的配偶 (D) 配偶的血親
- 36.下列關於收養行為的敘述，何者有「誤」？
(A) 養父母與養子女為法定血親
(B) 養父母與養子女間一定有血緣關係
(C) 必須向法院聲請認可，成立收養關係
(D) 在法律上的權利義務關係，與自然血親相同
- 37.下列四位學生對於自己家庭型態的敘述，正確的有幾項？
(A) 1 項 (B) 2 項 (C) 3 項 (D) 4 項

大元：我家的成員有祖父母、父母、我，我們還跟姑姑住在一起，所以我們家是大家庭。

勇俊：我家的成員有外公外婆、父母、我，所以我們家是隔代教養家庭。

捷伊：我爸爸之前娶了第二任妻子，目前我們三人同住，所以我家是單親家庭。

時珍：阿姨與姨丈剛新婚，他們倆各自擁有工作，目前打算繼續享受兩人世界，所以我阿姨的家庭型態是頂客家庭。

- 38.新聞報導指出，由於東協崛起，光是從台灣過去越南、泰國、馬來西亞設廠的企業就有 1 萬多家，隻身就任的超過 20 萬人，加上西進中國的移動人力至少百萬，導致另一半配偶有如偽單親，一季返家一趟的「候鳥家庭」有越來越多的趨勢。請問依據上文的敘述，「候鳥家庭」與下列何種家庭型態相同？
(A) 單親家庭 (B) 兩地家庭 (C) 頂客家庭 (D) 重組家庭
- 39.《兒童及少年福利與權益保障法》明定兒童、少年不得超時、非合理使用電子產品，導致有害身心健康，情節嚴重者，父母、監護人可處 1 至 5 萬元罰鍰。」請問政府修訂《兒童及少年福利與權益保障法》的目的是要父母或監護人負起哪些家庭功能的責任？
(A) 生育功能與教育功能
(B) 教育功能與經濟功能
(C) 教育功能及保護與照顧功能
(D) 經濟功能及保護與照顧功能
- 40.「凡未成年之青少年因無照駕駛而肇事，其父母必須負連帶的賠償責任」，上述法令制定的目的是希望發揮家庭的何種功能？
(A) 生育功能 (B) 生產功能 (C) 教育功能 (D) 消費功能
- 41.根據雜誌的報導，台灣已經名列全世界生育率較低的國家之一，此種少子化現象，將會帶來何種影響？(甲)年輕人扶養老人的負擔加重；(乙)勞動人口減少，影響經濟發展；(丙)晚婚及不婚率增加；(丁)女性勞動參與率提升
(A) 乙丙 (B) 甲丙 (C) 乙丁 (D) 甲乙
- 42.下列四種家庭衝突，哪一個與其他三項是不同的類型？
(A) 巧婦難為無米之炊~太太罵先生錢賺得太少
(B) 阿公要吃鹹，阿嬤要吃淡，兩人起衝突
(C) 基督徒的媳婦拒絕拿香拜拜，公婆非常不滿
(D) 弟弟常亂扔東西令愛整潔的姐姐生氣

【題組五】「有情人終成眷屬」~來自印尼的凱莉和志銘結婚了，婚後小倆口和父母同住，凱莉也順利生下一子，因為信仰關係不能吃豬肉，坐月子期間，婉拒婆婆燉的麻油腰子，對此婆婆相當不開心。(請回答 43-45 題)

- 43.凱莉和志銘是何種家庭型態？
(A) 重組家庭 (B) 新移民家庭 (C) 頂客家庭 (D) 單親家庭
- 44.凱莉和婆婆是屬於哪一種類型的家庭衝突？
(A) 家務分工 (B) 經濟事務 (C) 生活習慣與意見 (D) 所得分配
- 45.下列哪些方式可協助凱莉早日適應台灣的生活？(甲)參加識字班(乙)加入生活適應班(丙)提供居家照顧服務(丁)增設公立幼稚園
(A) 甲乙 (B) 乙丙 (C) 丙丁 (D) 甲丁

【題組六】《高年級實習生》(The Intern)，描述一個獨居且高齡 70 歲的老人，仍然投入職場，利用燃燒生命的方式，傳達新世代正確的觀念以及原則，以一種很柔軟的姿態，在新興的產業中發揮出微妙的作用，甚至感染周遭的人事物，做出某種程度的正面啟發。(請回答 46-47 題)

- 46.一群有錢、有人脈、有經驗、重視養生與保健的健康老人，稱為金領銀髮族。他們退休後，投身公益、獻身教育、興建圖書館等，繼續用生命的餘燼發光發熱。上述內容使我們重視社會上那一種現象？
(A) 性別平權觀念興起，女性勞動參與率上升
(B) 都市化及商業化影響下，人們改變消費習慣
(C) 平均壽命提高，人口結構改變
(D) 婚姻價值觀念改變，單親家庭日益增多
- 47.台灣於 2005 年扶養比為 13.51% 即每 7.4 位年輕人需扶養一位老人，推估至 2030 年，每 3 位年輕人必須扶養一位老人，由數據顯現未來台灣老人的照護負擔沉重，請問：政府應規劃何種社會福利政策，來解決老人安養與照顧的問題？(甲)開辦老人日間照顧中心(乙)推動長期照顧十年計劃(丙)宣導三代同鄰(丁)設立公立安養中心(戊)設置 113 婦幼保護專線
(A) 甲乙丙戊 (B) 乙丙戊 (C) 乙丁戊 (D) 甲乙丙丁

【題組七】報載：「雲林地檢署發布一起駭人聽聞的父母連續虐死親生子女案，一對因刑事案遭通緝逃亡多年的夫妻，涉嫌虐死逃亡六年所生三名小孩，直到父母去年落網，母親才向檢警承認兒子已遭丈夫虐打死亡棄屍，檢警進一步追查出男童的弟妹出生不久也先後遭殺害及猝死，父母連殺三名子女，慘絕人寰。」(請回答 48-50 題)

- 48.請問，父母對子女有哪些責任及義務？(甲)共同保護子女；(乙)養育子女；(丙)必要時才可拆閱未成年子女的信件；(丁)可隨自己的意思處罰子女
(A) 甲乙丙 (B) 乙丙丁 (C) 甲乙丁 (D) 甲丙丁
- 49.關於《家庭暴力防治法》的規範，下列敘述何者正確？
(A) 《家庭暴力防治法》規定的家庭成員與《民法》的親屬關係相同
(B) 只針對家庭成員實施身體上的侵害
(C) 被害人可向社會局聲請保護令
(D) 加害人違反保護令時，將負法律責任
- 50.請問：遭遇家庭暴力時，受害人和身為社會大眾的我們可以如何做呢？(甲)撥打 113 婦幼保護專線或 110 報警；(乙)清官難斷家務事，抱持著「法不入家門」的觀念是最好的；(丙)協助受害人向法院聲請保護令(丁)通報社會局停止父母的親權。
(A) 甲丁 (B) 丙丁 (C) 乙丙 (D) 甲丙

新北市立新莊國民中學 106 學年度第 1 學期第 2 次段考 7 年級社會領域試題

解答

1	2	3	4	5	6	7	8	9	10
B	C	C	D	D	A	B	D	D	C
11	12	13	14	15	16	17	18	19	20
A	D	D	D	D	B	C	B	B	A
21	22	23	24	25	26	27	28	29	30
B	C	A	C	A	B	D	D	C	A
31	32	33	34	35	36	37	38	39	40
D	C	A	A	C	B	B	B	C	C
41	42	43	44	45	46	47	48	49	50
D	A	B	C	A	C	D	A	D	D