

※ 選擇題：本試卷共 50 題，每題 2 分，總分為 100 分。  
每一題均為單選題，請選出最適當答案。

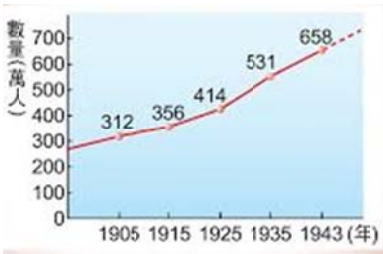
1. 右表顯示日治初期到末期台灣學齡兒童就學率的變化。請問：下列敘述何者正確？
- | 西元     | 臺灣人   | 在臺日人  |
|--------|-------|-------|
| 1917 年 | 13.1% | 95.1% |
| 1920 年 | 25.1% | 98.0% |
| 1925 年 | 29.5% | 98.3% |
| 1930 年 | 33.1% | 98.8% |
| 1935 年 | 41.5% | 99.3% |
| 1940 年 | 57.6% | 99.5% |
| (甲)年   | 71.3% | 99.6% |
- (A) 在台日人的就學率始終不如台灣人高  
(B) 總督府的教育政策對台灣人與在台日人一視同仁  
(C) 圖中(甲)年台灣學童就學率的提升是因六年國民義務教育的推動  
(D) 1917 年台灣人只有 13.1%就學是因學習能力不如日本人

2. 呂小花是生活在日治時期的台灣小朋友，1920 年時她 10 歲。請問：下列何者可能是她生活中所遇到？
- (A) 就讀高雄第一小學校  
(B) 30 歲時因應政府政策改姓名為宮內花子  
(C) 學校老師用「國語研究讀本」教導中華文化  
(D) 她接受初等教育時課程、設備和鄰居日本人松浦太郎就讀的學校相同

3. 「昭和三年（1928 年）創校，起初只有文政學部、理農學部，1936 年合併臺灣總督府醫學校而設立醫學部。1944 年熱帶醫學、南方人文、南方資源研究所均已完備，此時學生有 394 人，其中 117 名為臺灣人。」請問：關於上述教育機構，下列何者正確？
- (A) 為日治時期第一所專收台灣人子弟的中學  
(B) 主要功能是培育公學校的教師  
(C) 設立目的是為了提供台灣人子弟在台灣深造的機會  
(D) 為日治時期台灣唯一的一所大學

4. 1915 年總督府在《保甲規約》中明訂：「婦女纏足有害身心，故嚴禁之。但從前纏足者，務使漸次解放，早馴於天然足。」請問：下列何者與此政策「並無」關聯？
- (A) 使女子的生產力大為增加，有助於經濟發展  
(B) 保甲在地方上推動「天然足」不遺餘力  
(C) 造成女子的審美觀念改變，穿著也更多樣化  
(D) 日治時期新知識分子鼓吹三寸金蓮為社會風尚

5. 右圖表示日治時期台灣人口成長的情況。請問：1905 年到 1943 年人口數量的變化，與下列何者最有關聯？
- (A) 守時習慣的養成  
(B) 現代衛生觀念的建立  
(C) 放足斷髮的普遍  
(D) 守法觀念的建立



6. 1920 年代以後，台灣知識分子受到世界上某思潮的刺激，勇於表達自身訴求，爭取台灣人的權益。請問：關於此思潮的敘述，下列何者正確？
- (A) 倡導者是美國總統羅斯福  
(B) 主張弱小的民族應被強大的民族所統治  
(C) 在第二次世界大戰後被首度提出  
(D) 影響台灣知識分子勇於改善不合理的殖民統治

題組一 下圖是蔣渭水對台灣所做的診斷書－「臨床講義」，請回答第 7 至第 8 題：

姓名：台灣島  
年齡：遷移至目前住所後算起 27 年  
目前住所：大日本帝國台灣總督府  
診斷：世界文化的低能兒  
原因：智識之營養不良

7. 台灣這位病人遷移至目前住所，是由於下列哪一個戰爭的緣故？
- (A) 甲午戰爭 (B) 中法戰爭  
(C) 英法聯軍 (D) 第二次世界大戰

8. 請問下列哪一措施「不可能」是蔣渭水針對台灣病情而提出的解決方案？
- (A) 設立讀報社 (B) 鼓勵民眾接受學校教育  
(C) 推行皇民化運動 (D) 發行台灣民報

9. 右圖是日治時期總督府宣導某項政策的海報。請問：下列何者與此政策最有關聯？
- (A) 鼓勵民眾以天干地支來計時，一天分為 12 個時辰  
(B) 建立西式醫院、廁所等醫療與公共衛生設施  
(C) 舉辦宣傳活動，如訂 6 月 10 號為「時的紀念日」  
(D) 設置法院，引進現代的司法制度



10. 林小明在西元 1900 年出生，請問下列何者「不可能」是他的生活經歷？
- (A) 45 歲時聽廣播說第一次世界大戰結束，日本戰敗  
(B) 35 歲時參加總督府舉辦的議員選舉  
(C) 29 歲時前往東京向日本政府請願設立台灣議會  
(D) 27 歲時參加台灣民眾黨討論民權的演講會


11. 戰後初期的台灣，在政治、文化等各方面問題叢生，導致民眾對政府不滿逐漸累積，最後釀成二二八事件的悲劇。請問：下列何者為 228 事件的背景？
- (A) 台灣省主席權力過大，與日治時期的台灣總督相差無幾  
(B) 高級官員與地方首長多由台灣人擔任，大陸來台人士苦無機會  
(C) 台灣與中國大陸民情、語言互有不同，誤解與衝突由此而生  
(D) 政府推行市場經濟，對民生物資不加管控而造成貧富差距過大

12. 右圖顯示戰後台灣物價的變化。請問：下列何者與此圖最有關聯？
- (A) 物價不斷下降，民眾購買力提升  
(B) 物價飛漲，造成通貨膨脹的危機  
(C) 幣值上升很快，有錢可購買足夠的民生物資  
(D) 台灣的米糧運往中國大陸支援中日戰爭，導致經濟惡化



13. 請將下列歷史事件依時間順序排列：(甲)制定動員戡亂時期臨時條款 (乙)開放縣長、縣議員民選 (丙)發佈戒嚴令 (丁)實施省長和直轄市市長選舉 (戊)實行中華民國憲法 (己)民主進步黨成立
- (A) 甲丙戊乙丁己 (B) 戊甲丙乙己丁  
(C) 乙丁丙己甲戊 (D) 丙甲丁乙己戊
14. 民國 68 年 12 月 10 日高雄市舉辦國際人權日紀念大會，卻發生民眾與憲警之間的激烈衝突，許多人被逮捕入獄。請問：關於此事件的敘述，下列何者正確？
- (A) 事件結束後黨外人士仍透過選舉與宣傳的方式推動民主運動  
(B) 該事件與自由中國雜誌社有關  
(C) 事件發生的背景是解嚴後人民對政治民主的要求提高  
(D) 當時民眾的訴求是希望成立中國民主黨

15. 右圖是戰後初期報導某事件的報紙內容，請問下列敘述何者正確？
- (A) 報紙發行的日期是民國 38 年 2 月 28 號  
(B) 這起事件在成立二二八事件處理委員會後和平落幕  
(C) 官員開槍擊斃老百姓是因查緝私菸不慎  
(D) 事情結束後任用陳儀擔任行政長官，並讓台灣人從事公職以彌補傷害



16. 下圖是某法令的部分內容。請問：關於此法令的敘述，下列何者正確？
- 意圖擾亂治安，有下列行為之一者，依法處死刑：造謠惑眾者；聚眾暴動者；罷工罷市擾亂秩序者；鼓動學潮，公然煽惑他人犯罪者……
- (A) 保障人民的集會與結社自由  
(B) 為「動員戡亂時期臨時條款」  
(C) 由台灣省主席兼警備總司令蔣中正所頒布  
(D) 未經公正、公開審判就對民眾逮捕、判刑，造成白色恐怖

17. 下表是中華民國行憲後的歷任總統簡介。請問：表格中哪一格內容是正確的？
- (A) 甲 (B) 乙 (C) 丙 (D) 丁

任期	第 1~5 任	第 6~7 任	第 8~9 任	第 10~11 任	第 12~13 任	第 14 任
時間 (民國)	37~67	67~79	79~89	89~97	97 年迄今	105~迄今
姓名	(甲) 蔣經國	蔣中正	李登輝	馬英九	(丁) 陳水扁	蔡英文
說明	任內開始實施戒嚴	(乙) 任內終止動員戡亂	(丙) 首位民選總統	任內解嚴	第二次政黨輪替	首位女性總統

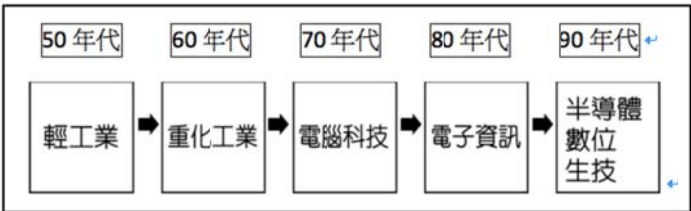
18. 蝦皮拍賣為近年來興起的買賣平台，其利用手機 APP 便可進行貨物的上架與銷售。此種類似網路、電視購物等平台，除了買賣速度快，商品價格也更便宜。試問：蝦皮的商品較便宜與下列何者關係最密切？
- (A) 不用負擔運輸費用  
(B) 不用負擔行銷費用  
(C) 不用負擔店面租金費用  
(D) 不用負擔人事費用
19. 台灣高鐵票價會依行駛距離長短而不同，已知從台北站出發前往台中的標準車廂全票票價為 700 元，台中前往高雄左營的標準車廂全票票價為 790 元，台北站前往高雄左營的標準車廂全票票價為 1490 元。小至手上拿著一張票價為 920 元的標準車廂全票，其搭乘的路線最有可能為下列何者？
- (A) 桃園往新竹 (B) 嘉義往桃園  
(C) 彰化往高雄 (D) 台南往雲林

20. 下表為四個國家的都市化程度，關於這四個國家的敘述，若依表判斷，何者正確？
- | 國家    | 印尼  | 芬蘭  | 韓國  | 比利時 |
|-------|-----|-----|-----|-----|
| 都市化程度 | 52% | 63% | 81% | 97% |
- (A) 印尼：鄉村人數最多  
(B) 芬蘭：經濟發展程度最好  
(C) 韓國：生活品質最佳  
(D) 比利時：都市人口比例最高

21. 右圖為台灣 105 年與主要國家的進出口貿易產值比例圓餅圖，由圖中可以看出，台灣對於哪個地方的貿易呈現嚴重入超？
- (A) 中國 (B) 日本 (C) 美國 (D) 東南亞
22. 民國 60 年代的十大建設，將高雄市打造成台灣的石化產業重鎮。2014 年高雄市區發生嚴重的氣爆事件，造成重大生命財產損失，凸顯出埋藏於地下的石化管線安全問題。高雄之所以能成為石化產業的重心，除了政府政策的推動外，更與當地的何項特色有關？
- (A) 擁有大型的國際商港 (B) 位於高速鐵路的終點  
(C) 沿海生產豐富的石油 (D) 環島鐵路的南端樞紐

23. 行政院提出前瞻基礎建設計畫，其中捷運建設經費，成為許多地方政府所欲爭取的項目，若以捷運興建的目的來看，哪個地區最不可能爭取到經費？
- (A) 基隆市 (B) 台中市 (C) 新竹市 (D) 台東市

24. 下圖表示台灣各階段工業的產業類別，請根據圖中的資料判斷，關於產業的說明何者正確？



- (A) 所需資本愈來愈低 (B) 勞工需求越來越多  
(C) 所需技術愈來愈高 (D) 附加價值愈來愈低



**題組二**「交通革新」泛指交通工具隨著技術的發展，使得運輸工具或者通訊技術，在速度或者運量上皆有大幅提升的現象。台灣從過去的陸運、水運到今日的空運，也受到交通革新的影響。

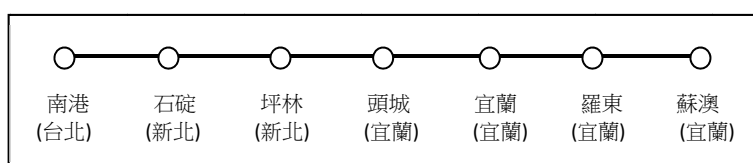
25. 交通革新讓台灣的海運、陸運與空運皆大幅成長，唯獨河運從來不是台灣交通運輸的選項，下列何者可以解釋此一現象？  
 (A) 台灣河運費用較高 (B) 台灣河運運量較低  
 (C) 台灣河流無河運之利 (D) 台灣河運機動性較低
26. 空運是地球上速度最快的運輸工具，但因費用極為昂貴，僅有少部分物品適合利用空運運輸。請問：下列何者適合利用空運運輸？  
 (A) 美國玉米 (B) 南非鑽石  
 (C) 泰國榴槤 (D) 杜拜石油
27. 若要將進口的液化天然氣，從港口送到瓦斯公司的儲存槽，何者是最好的運送方式？  
 (A) 河運 (B) 公路 (C) 鐵路 (D) 管線

**題組三** 工業發展是現代國家重要的發展目標，不同類型的工業，為了降低生產成本、提高利潤，其工廠或工業區必須選擇合適的地點設置，才能有效的進行生產。

28. 下列名詞何者可以用「為了降低生產成本、提高利潤，其工廠或工業區必須選擇合適的地點設置」來解釋？  
 (A) 工業區位 (B) 國際貿易  
 (C) 工業革命 (D) 工業創新
29. 台灣中南部地區有不少地名有「廊」，通常是因早期當地有製糖產業，如台南市後壁區的「後廊」。過去這些地區會有製糖產業，其考量的因素與現在下列哪項產業類似？  
 (A) 台灣的玻璃工業 (B) 花蓮的水泥工業  
 (C) 竹科的半導體工業 (D) 外移中國的紡織業
30. 世界麵包冠軍師傅吳寶春預計在新地點開設麵包店，請根據麵包店的屬性來判斷，圖中何處是麵包店的最佳設置地點？  
 (A) 甲 (B) 乙 (C) 丙 (D) 丁
31. 臺灣某些「夕陽工業」，如製鞋、成衣等不斷將工廠移往東南亞或中國設廠，其考慮的因素為下列何者？  
 (A) 技術進步 (B) 原料產地  
 (C) 廉價勞工 (D) 廣大市場



**題組四** 蔣渭水高速公路(國道五號)通車後，讓台北、宜蘭兩地的互動更為頻繁，每逢假日便有大量車潮湧入，造成塞車情況嚴重，如遇連假更是雪上加霜。下圖為此高速公路簡化路線圖，圖中標示的地點為交流道，請根據此圖回答下列問題：



32. 若依據此簡圖內容判斷，下列敘述何者正確？  
 (A) 蘇澳交流道在南港交流道正東方  
 (B) 每個交流道之間的實際相隔距離一樣  
 (C) 由宜蘭往坪林需行駛北上的交流道上國道五號  
 (D) 國道五號行經花蓮縣、宜蘭縣與新北市等行政區
33. 根據台北及新北兩地的區域發展特色判斷，若在平日下班時間觀察車流，不考慮各路段是否有車禍或其他突發狀況，下列哪一個路段最有可能因車流量大導致塞車狀況最為嚴重，車輛行駛速度最為緩慢？  
 (A) 南港往石碇 (B) 坪林往石碇  
 (C) 石碇往南港 (D) 坪林往南港
34. 社會規範是人與人互動的過程中，所發展出來共同遵守的行為標準。下列有關社會規範的敘述何者錯誤？  
 (A) 社會上相沿成習、約定成俗的慣例即為風俗習慣  
 (B) 倫理道德是人與人之間相處的行為準則，以及判斷是非善惡的標準  
 (C) 法律是依一定程序所制定的最高限度的行為準則  
 (D) 宗教信仰透過經典、教義、戒律來約束信仰者
35. 社會規範對於民眾行為的影響力都不相同，下列四人的行為與社會規範的配對，何者錯誤？  
 (A) 薇薇認為善有善報，惡有惡報--倫理道德  
 (B) 紫琪到廟裡祈求神明保佑平安--宗教信仰  
 (C) 馮影坐公車時會主動讓位給老弱婦孺--倫理道德  
 (D) 星宇替滿周歲的兒子舉辦抓周儀式--風俗習慣
36. 下列項目屬於『文化』範疇的有幾項？(甲)野柳女王頭(乙)布袋戲(丙)夜市美食(丁)除夕夜圍爐(戊)阿美族豐年祭。  
 (A) 2 項 (B) 3 項 (C) 4 項 (D) 5 項
37. 國立故宮博物院今年第四度現身臺灣文博會，攤位意象嘗試顛覆以往傳統形象，以古典水墨畫的渲染結合文青復古風，呈現時尚的黑與白、墨色的濃與淡，呈現多元豐富的文物內涵。現場還有「故宮熱銷文創商品」及「文博會限定故宮扭蛋區」等精采規劃，故宮以老靈魂結合新時尚，展現文物元素轉化的無限能量。請問：上述屬於文化的哪一種現象？  
 (A) 文化傳承 (B) 文化創新  
 (C) 文化失調 (D) 文化衝突
38. 身為多元文化社會的一分子，在與不同文化背景的人相處時，態度較為正確的有幾項？  
 (甲) 對落後的文化應該鄙視它  
 (乙) 全盤接受對方的文化，放棄本身的文化  
 (丙) 視對方為異類，避免接觸，以免發生衝突  
 (丁) 須先了解彼此的社會規範，以免產生誤會  
 (戊) 先認同自己的文化，認為自己的文化是最好的  
 (己) 面對不同文化，我們應該秉持尊重、包容的態度去看待  
 (A) 1 項 (B) 2 項 (C) 3 項 (D) 4 項

39. 網路技術日益發達，犯罪的手法也推陳出新，主計總處公布國情統計通報，106 年網路犯罪發生數 1 萬 4853 件，較 105 年增 11.2%。類別以詐欺案 4223 件、占 28.4% 最多，若從年齡層來看，網路犯罪嫌疑犯以青壯年居多。而我國法律制定須透過民主程序，往往還要討論一段時間，才能制定出來，因此有時會出現有人以網路侵害人權，卻無法可管的現象，請問：上述指的應是下列何種情形？

- (A) 文化多元 (B) 文化失調  
(C) 文化內涵 (D) 文化特徵

40. 有關主流文化與次文化的相關敘述，正確的有幾項？

- (甲) 次文化和主流文化有高低優劣之分  
(乙) 主流文化與次文化之間並無共通性  
(丙) 主流文化與次文化並存是社會相當普遍的現象  
(丁) 主流文化與次文化之間可同時發展出不同的特色內涵  
(戊) 有時候次文化會逐漸變成主流文化  
(己) 次文化是一種相較於主流文化以外的次等文化  
(A) 2 項 (B) 3 項 (C) 4 項 (D) 5 項

41. 文化資產局日前於於台博館土銀展示館簡報室召開「南北平行預備線保存及活化座談會」。台糖南北線鐵道係基於日本時代眾多製糖會社所屬的糖業鐵道網路而來，而當公路交通及汽車發達以後，便逐漸取代鐵路，也使得糖業鐵路逐步走入歷史。請問致力於文化資產保存及肩負文化傳承使命的政府單位為何？

- (A) 教育部 (B) 內政部 (C) 文化部 (D) 交通部

**題組五** 報載：清明連假首日車流量湧入國道，就連交通部長賀陳旦在前往宜蘭的路上也被塞住，原因是許多掃墓地點集中，加上天氣好，湧入大量出遊車流，可能是歷年最塞的清明連假。

42. 清明節家人們團聚，一起前往祖先墳前掃墓祭祖與下列何種文化內涵的層次相同？

- (A) AI 人工智慧漸漸運用於醫療、金融等生活層面  
(B) 科技新貴放棄百萬年薪，投入有機稻米的栽種  
(C) 闖紅燈的行為，警方可依《道路交通管理處罰條例》加以取締  
(D) 酒後不開車，找代駕或改搭計程車的觀念，逐漸被接受

43. 清明時節，遠在外地工作的子女大都會趕回家祭祖掃墓，可見人類文化的何種特徵？

- (A) 制約性 (B) 累積性 (C) 普遍性 (D) 差異性

44. 台北市環保局於清明期間特別規劃紙錢集中收運及代燒的便民措施。環保局呼籲民眾祭祖貴在誠心，凡事心誠則靈，從事祭拜活動時盡量減少燒紙錢、燒香或點蠟燭的行為，減少露天燃燒金紙影響空氣品質及火災之發生，是考量何種觀念？

- (A) 群己倫理 (B) 環境倫理  
(C) 傳統五倫 (D) 資訊倫理

45. 下列何者與清明節屬於相同的『社會規範』？

- (A) 中秋節月圓人團圓 (B) 舉頭三尺有神明  
(C) 父慈子孝、兄友弟恭 (D) 騎乘機車頭戴安全帽

**題組六** 世界三大宗教慶典之一的大甲鎮瀾宮「天上聖母遶境進香」每年都吸引成千上萬的民眾參與，祈求來年平安順利。逢甲大學團隊連續 13 年公益贊助建置 App，提供媽祖鑾轎衛星定位等相關資訊服務，今年更新增遶境路線沿線 YouBike 微笑單車站點資訊，讓信眾可以有更多不一樣的跟轎方式。此外，大甲媽祖文創館，各式文創小物陳列在展示櫃上，三太子奶嘴、哨角隊衣、文昌筆通通有，以文創方式和在地產業結合，文創小物也方便信眾珍藏。

46. 請問「媽祖遶境活動」包含哪兩種社會規範？

- (A) 風俗習慣、倫理道德 (B) 倫理道德、法律  
(C) 法律、風俗習慣 (D) 風俗習慣、宗教信仰

47. 每年進行大甲媽祖的遶境活動，能夠傳承及保存文化的價值，呈現何種文化概念？

- (A) 文化衝突 (B) 文化創新  
(C) 文化交流 (D) 文化傳承

48. 請問媽祖鑾轎即時資訊及現場 Live 直播及 APP，是屬於文化的哪一種層次？

- (A) 器物 (B) 制度 (C) 理念 (D) 法律

49. 大甲媽祖回鑾行經彰化，每年都是搶轎的一級戰區，全武行常常上演，必須出動刑警護轎，此舉顯示何種社會規範的重要性？

- (A) 倫理道德 (B) 宗教信仰  
(C) 風俗習慣 (D) 法律

50. 大甲鎮瀾宮以往只有媽祖遶境活動，現在廟方推出多款文創小物，還有 APP 衛星定位，信眾可以用手機追媽祖，傳統宗教盛會結合新科技擦出新火花，讓傳統遶境活動能夠展現不同風貌。請問：下列敘述，何者最能解釋上述內容？

- (A) 社會規範對其成員有依循的行為準則，皆具有強制力  
(B) 各種社會規範互相輔助配合，有助於社會穩定  
(C) 社會規範並非一成不變，可以與時並進  
(D) 各種社會規範會相互影響，以建立和諧社會

新北市立新莊國民中學 106 學年度第 2 學期第 2 次段考 7 年級社會領域試題

解答

1	2	3	4	5	6	7	8	9	10
<b>C</b>	<b>B</b>	<b>D</b>	<b>D</b>	<b>B</b>	<b>D</b>	<b>A</b>	<b>C</b>	<b>C</b>	<b>A</b>
11	12	13	14	15	16	17	18	19	20
<b>C</b>	<b>B</b>	<b>B</b>	<b>A</b>	<b>C</b>	<b>D</b>	<b>C</b>	<b>C</b>	<b>B</b>	<b>D</b>
21	22	23	24	25	26	27	28	29	30
<b>B</b>	<b>A</b>	<b>D</b>	<b>C</b>	<b>C</b>	<b>B</b>	<b>D</b>	<b>A</b>	<b>B</b>	<b>A</b>
31	32	33	34	35	36	37	38	39	40
<b>C</b>	<b>C</b>	<b>A</b>	<b>C</b>	<b>A</b>	<b>C</b>	<b>B</b>	<b>B</b>	<b>B</b>	<b>B</b>
41	42	43	44	45	46	47	48	49	50
<b>C</b>	<b>C</b>	<b>A</b>	<b>B</b>	<b>A</b>	<b>D</b>	<b>D</b>	<b>A</b>	<b>D</b>	<b>C</b>