

新北市立新莊國民中學 110 學年度第 2 學期第 1 次段考 9 年級社會領域試題卷

班級 _____ 座號 _____ 姓名 _____

- ※ 選擇題：本試卷共 50 題，每題 2 分，總分為 100 分。
每一題均為單選題，請選出最適當答案。
※ 請用 2B 鉛筆在答案卡上相應的位置畫記。

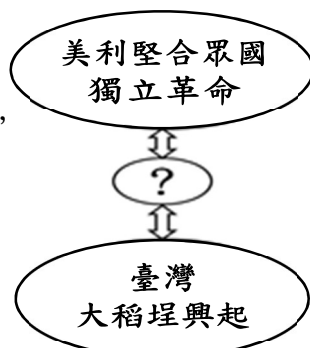
1. 附圖左是於 1997 年上映美國浪漫災難影片—鐵達尼號宣傳海報。「鐵達尼號」是一艘英國籍郵輪，在 1912 年 4 月 10 日，展開首航，也是唯一一次的載客出航，最終目的地是美國紐約。附圖右是當時《紐約論壇報》在 1910 年 11 月 27 日的頭版，該報標題「當她到達紐約港時，我們可以在哪裡停靠這個海怪？」，就是在討論鐵達尼郵輪的超大尺寸，尤其是巨大的蒸汽設備，是人類在交通史上的重要革命。請問，這要歸功於下列哪一位人物改良蒸汽機？
- (A)牛頓 (B)瓦特 (C)盧梭 (D)培根



2. 英國作家查爾斯·狄更斯 (Charles Dickens)，他是維多利亞時期最偉大的作家，作品總是呈現懲惡揚善的人道主義精神，也反映當時的現實生活。其中最著名的《Oliver Twist》孤雛淚就是描述在倫敦某一時期有童工受虐、幫派吸收貧窮青少年參與犯罪社會慘狀，希望藉此喚起大眾的注意，拯救無辜的孩童。而且此時代的資本家往往不顧勞工福祉，貧富差距極大，形成嚴重的社會問題。請問，以上情況的背景是指下列哪一個時期？
- (A)工業革命 (B)文藝復興 (C)科學革命 (D)宗教改革

3. 承上題，因為出現許多嚴重社會問題，所以也開始有各種經濟學說紛紛提出解決之道，例如：亞當斯密—「自由主義學說」；還有一位主張廢除私有財產，提倡階級鬥爭推翻資本主義，要讓無產階級領導社會，請問他是下列哪一位？
- (A)孟德斯鳩 (B)華盛頓 (C)馬克思 (D)狄更斯


4. 大航海時期，各國紛紛進行海外探險與殖民，全球貿易交流與競爭集中於海洋，人與人的距離不斷縮短，更是影響全世界的歷史發展。請問附圖[?]應該要選下列哪一項物品，才能解釋附圖中二者的歷史關聯？
- (A)棉花 (B)香料
(C)蔗糖 (D)茶葉



【第 5 至 6 題為題組】

【華人第一大藏書家在臺灣】2019 年底，天下雜誌發表一篇—〈拿破崙終身執政正本竟然在國圖！神秘華人家讓臺灣成為西文古書重鎮〉。神秘家族「澄定堂」，寄存國圖的拿破崙有關文件，是 1802 年「第一共和時期」，全民公投同意拿破崙終身執政的文件，這是拿破崙 2 年後稱帝的序曲。澄定堂家族第四代 Jason 說：「這文件是當時的內政部長簽名，拿破崙自己裝裱，所以封面上還會看到拿破崙的家徽。」

5. 如上述與右圖終身執政證書，可以說明拿破崙在當時人民心中的重要地位。請問，他是在哪一事件發生之後開始嶄露頭角？
- (A)法國大革命
(B)宗教改革
(C)美國獨立革命
(D)工業革命



6. 拿破崙曾說過：「我真正的光榮不在於打了四十次勝仗或是因為滑鐵盧之役而抹去關於這一切勝利的記憶……但……有一樣東西將永垂不朽，那就是我的[?]」他的[?]在征服之地頒行使用，也在他兵敗之後被傳承。請問[?]是指下列哪一項？
- (A)自由、平等、博愛精神 (B)拿破崙終身執政證書
(C)《拿破崙法典》 (D)《人權宣言》

7. 清朝魏源在自己所寫《海國圖志》(1842 年出版)一書中提到法國發生大革命之前的國家狀況，翻譯成白話為：「國王幫助美國戰勝，導致軍餉愈來愈少，因此叫『爵、僧、民』三品會集，想想可以增加國家財政的辦法。」請問：文中的叫『爵、僧、民三品會集』，指的是當時法國要召開下列哪一會議來解決國家財政問題？
- (A)國民會議 (B)三級會議
(C)維也納會議 (D)大陸會議

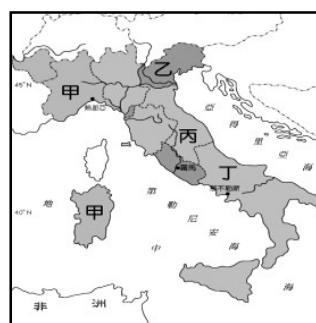
8. 美國紐約曼哈頓自由島的「自由女神像」是著名的觀光景點，也被列入聯合國教科文組織世界遺產。自由女神像右手高舉象徵自由火炬，左手緊抱的書板上刻著羅馬數字「JULY IV MDCCLXXVI」(1776.7.4)的字樣。請問：自由女神左手所抱的書板應該是下列哪一項？
- (A)《人權宣言》 (B)《美國憲法》
(C)《世界人權宣言》 (D)《獨立宣言》

9. 1812 年柏林發行第一版「格林童話」，收錄今日世界各地民眾均有讀過或聽過的童話故事，如：小紅帽、睡美人、大野狼與七隻小羊、青蛙王子、白雪公主……等。這是當時格林兄弟想從民俗文化開始建構「德意志精神」，用相同語言，從日常閱讀基礎教育，來凝聚失去的民族精神。請問這是屬於下列哪一種主義？
- (A)共產主義 (B)帝國主義 (C)社會主義 (D)民族主義

10. 《最後一課》(法文：La Dernière Classe)是法國小說家阿爾封斯·都德在 1873 年發表的一篇名作，是一部全世界愛國主義教育的典範小說，被翻譯成多國語言。內容敘述，在法國亞爾薩斯的一個小村莊，主角小弗朗士某一天原本想逃學，最後還是到學校上課，沒想到一進教室，老師韓麥爾先生說今天是最後一堂法語課了，因為國家戰敗，從此你們就要改學德語了！不過，只要大家牢牢记得自己的母語，無論是當了他國的奴隸，就好像有著一把打開監獄的鑰匙……請問，上述《最後一課》裡的法國學生為什麼要改學德語？
- (A)普法戰爭中法國戰敗 (B)拿破崙征俄失敗
(C)法國被反法聯盟擊敗 (D)馬志尼打敗俄國

11. 19 世紀前期，拉丁美洲開始意識到要保護自己的權利，獨立運動於是陸續展開，此時期美國門羅總統也發表宣言，支持各國獨立。請問關於門羅宣言的內容，下列哪一項正確？
- (A)推廣自由平等博愛大革命精神
(B)用武力威脅歐洲國家開放通商
(C)以正統為原則，主張恢復皇室
(D)美洲事務不需要歐洲國家干預

12. 拿破崙戰敗後，依照維也納會議，義大利也被重新劃分，被當時主導者梅特涅譏笑說：「義大利只是一個地理名詞。」到 19 世紀前期開始，有義大利三傑領導建國統一運動，更有一個核心領導王國，請問是右圖中的哪一個？
- (A)甲 (B)乙
(C)丙 (D)丁

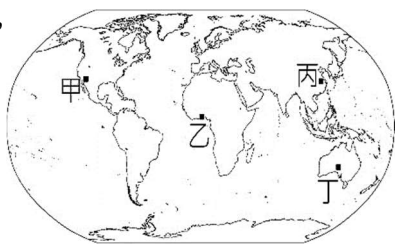


新北市立新莊國民中學 110 學年度第 2 學期第 1 次段考 9 年級社會領域試題卷

班級 _____ 座號 _____ 姓名 _____

13. 19 世紀末，日本明治維新成功，也變成新興帝國主義國家。請問，右圖中哪一個地點是他們最主要侵略的對象？

(A)甲 (B)乙
(C)丙 (D)丁



14. 右圖是歐美在 19 世紀的肥皂廣告，鼓勵白人教其他種族學會清潔。因為他們認為自己負有教化落後地區種族的使命。尤其工業革命後，歐美列強迅速強大，除了開始對外侵略，更以此說法合理他們的侵略行為。請問這就是哪一種主義的擴張？

(A)共產主義 (B)民族主義
(C)帝國主義 (D)社會主義



15. 右圖是 1892 年塞西爾·羅德斯的漫畫，宣布從開普敦到開羅的電報線開通，就是英國瓜分非洲的計畫成功。同時期也有多國競相在非洲陸續建立殖民地，直到 19 世紀末，僅存哪兩個國家沒有被殖民？

(A)埃及與奈及利亞
(B)賴比瑞亞與衣索比亞
(C)南非與衣索比亞
(D)奈及利亞與利比亞



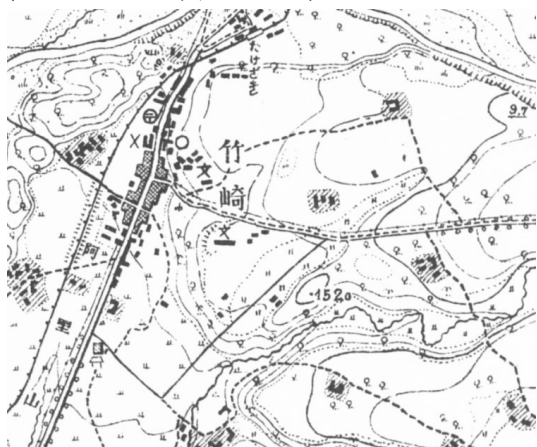
16. 1862 年被德皇威廉一世任命為宰相，他在 9 月 26 日首次演講中堅定對議會發表演說：「當前國家重大問題不是通過演說和多數決議可以解決的……只能用鐵和血來解決！」隨後不顧議會，堅持擴充軍隊與徵稅，最後終於完成德意志帝國的統一。請問，這位被冠上「鐵血宰相」名號的是下列哪一位人物？

(A)馬志尼 (B)俾斯麥 (C)加富爾 (D)加里波底

17. 鄭成功率兵攻取大員後，以故鄉的名字一福建安平稱呼熱蘭遮城的所在地為「安平鎮」，此命名原則與下列哪個地名具有相同的源起因素？

(A)新北市的「新莊」 (B)桃園市的「中壢」
(C)台中市的「大甲」 (D)嘉義縣的「東石」

18. 柏隆在查閱台灣「日治時期的兩萬五千分之一地形圖」時，發現到竹崎這個地名，從地形圖中的等高線與地名進行判斷，竹崎最可能描述何種地形特徵？



(A)地勢低窪，遇雨則淹
(B)地勢坡度較為陡峭
(C)地勢平坦，廣大廣闊
(D)地勢邊緣陡峭的遼闊高原

19. 在臺灣數百年歷史之中，有許多不同外來者先後來到臺灣開墾、殖民，其中對臺灣影響最深遠的應是日本人。日本人在殖民時期極建設臺灣西部，也曾派遣日本人前進東部區域開發，而許多地名也在日本人前來開墾時，被改為日式地名。請問：下列地名何者與日本人改名有關？

(A)那瑪夏 (B)樹林 (C)礁溪 (D)松山

20. 下列關於臺灣地名特色的描述，哪些正確？(甲)可以方便指認地區 (乙)常有描述族群與自然環境間互動的歷史 (丙)地名一旦被命名後再也不會更動 (丁)地名所表示的空間範圍有時會因環境變化而變動

(A)甲乙丙 (B)甲乙丁 (C)甲丙丁 (D)乙丙丁

21. 聚落命名時，常會直接以周遭環境當作參照對象進行命名，其中臺灣地名主要以哪一種事物命名最為常見？

(A)地形 (B)氣候 (C)動物 (D)植物

22. 地理老師前往日本大阪旅遊，降落的機場名字為「關西空港」，與新竹關西地名相同，原來現今新竹關西多屬客籍移民，過去擅長醃製鹹菜，故有「咸菜礮」的舊名；日治時期，由於「咸菜礮」的客語讀音與日語的「關西」發音相近，所以改稱此地為「關西」。請問：下列地名何者有類似的過程，使現代地名已難以望文生義？

(A)芬園(彰化縣) (B)五結(宜蘭縣)
(C)瑞穗(花蓮縣) (D)溪口(嘉義縣)

23. 早年移民常以故鄉地名來作為聚落名稱，透過故鄉地名可以顯示移民的來源地和分布，附圖為臺鐵屏東線某站的站牌，該地名就是直接移植自故鄉。依此判斷，該聚落早期多為來自中國哪一個省份的移民入墾？

(A)福建省 (B)廣東省 (C)四川省 (D)雲南省



24. 「這座廟宇真的古色古香，很有歷史的感覺，原來這裡是全臺最早的天后宮。這座天后宮俗稱媽祖宮，簡稱為媽宮。」根據這段文字介紹，請判斷這間天后宮所在地最有可能位在下列何處？

(A)臺北市 (B)宜蘭縣 (C)台南市 (D)澎湖縣

25. 台灣某地的舊稱苓仔寮、綾仔(苓仔)，此地名的由來是漁業興盛，早期漁民捕魚後需要整理並存放魚網，故興建存放網具的場所得名，後來也成為某縣市的鄉鎮市區名，此地最可能位於哪個縣市？

(A)台北市 (B)花蓮縣 (C)南投縣 (D)高雄市

26. 下列哪個地名的由來與先民拓墾土地要合資協力的歷史背景無關？

(A)三民 (B)五結 (C)六腳 (D)七股

27. 附圖是台鐵某支線車站的站牌，依據該站的地名判斷，該地區的地形最可能為下列哪一種地形？

(A)高聳陡峭的山地
(B)略微起伏的淺山丘陵
(C)地勢平坦的沼澤地
(D)略微凹陷的山間小盆地



繼續作答下張試卷

新北市立新莊國民中學 110 學年度第 2 學期第 1 次段考 9 年級社會領域試題卷

班級 座號 姓名

28. 「我家鄉的名稱可是有濃濃的歷史味呢！聽祖父說是漢人來臺驅逐荷蘭人後，在此開闢軍屯所留下來的名稱！」請問：根據文中資訊，其最有可能居住在下列何處？
(A)基隆市暖暖 (B)台中市清水
(C)台南市新營 (D)屏東縣潮州
29. Tayovan、Tayouan、大員、大灣等類似地名，讀音都非常接近，此現象與台灣早期地名產生的何種特性有關？
(A)先有讀音才有字 (B)先有字才有讀音
(C)讀音與字同時出現 (D)無法判斷字與讀音誰先出現
30. 「窩」字是客家族群常用的地名，透過地名資訊服務網可以看到桃竹苗地區出現的頻率最高，如松樹窩、龍眼窩、安樂窩等，上述有窩字的地名其所代表的意義為何？
(A)山地的最高處 (B)平原的氾濫處
(C)泥沙堆積的小沙洲 (D)山凹處的小河谷
31. 台灣許多聚落地名常常反映出早年的環境特徵，其中名為「港墘」的聚落，最可能遭遇到何種天然災害？
(A)地震 (B)淹水 (C)乾旱 (D)海嘯
32. 曉娟在查詢台灣各地地名的課外補充資料時發現，沿海地區常常有『鼻』與『角』字的地名出現，如墾丁有貓鼻頭公園與鵝鑾鼻燈塔、北海岸有富貴角、三貂角等等，這些地名代表這裡的自然景觀可能有何相似之處？
(A)地勢坡度陡峭的山崖
(B)海岸線曲折的突出岬角
(C)河道彎曲角度極大的區段
(D)山坡地的下端處
33. 許多當地特產會冠上當地地名命名，地理老師在超市麵食區看到如附圖的某一項特產，此地名的由來是根據什麼意義來分類的？
(A)外來語言
(B)自然環境
(C)人文設施
(D)土地拓墾



【第 34 至 35 題為題組】

台灣在二〇〇二年一月一日，以「台灣、澎湖、金門、馬祖個別關稅領域」，副名中華台北的名義，正式加入世界貿易組織 (WTO)，成為 WTO 第一四四個會員。



WTO 成立的宗旨在追求全球貿易自由化，所有締約成員都必須遵守最惠國待遇、國民待遇、互惠、市場准許進入、公平競爭等規範，WTO 開啟台灣經貿國際化之門，使台灣可以走入世界。


34. 關於 WTO，下列敘述何者**錯誤**？
(A)是全球最重要的國際組織之一
(B)被稱為「經濟聯合國」
(C)會員國的貿易總額佔世界貿易額的絕大多數
(D)對會員國的所有產業都會帶來好處
35. 台灣加入 WTO 後可能帶來的情況，下列敘述何者**錯誤**？
(A)生產者可以有多样化的選擇且更具競爭力
(B)國內較具競爭優勢的商品可賺取更多外匯
(C)大量開放進口後產品安全問題更需被重視
(D)部份本國生產者須透過產業升級加以因應

【第 36 至 37 題為題組】

日本 MUJI「無印良品」在上世紀 80 年代誕生於日本，很快以產品質量和新穎實用的設計成為國際知名品牌。2005 年日本 MUJI「無印良品」上海公司成立，目前在中國有逾 200 家門市。北京棉田於 2001 年在中國搶先註冊「無印良品」，核定使用範圍是 24 類棉紡製品。從 2017 年起，北京「無印良品」棉田公司多次對日本 MUJI「無印良品」提起訴訟，日方多次敗訴，最終以承擔侵權責任收場。



36. 根據上文敘述所涉及的法律狀況，與下列何者相同？
(A)將自己拍攝的影片加上五月天的音樂當背景上傳 Youtube
(B)校園公佈欄公告學生比賽得獎名單不可全名公告
(C)公然販售仿冒的「Under Armour」、「NIKE」等多項知名品牌運動服飾
(D)LINE 的「搖一搖」加好友功能被京都市 IT 企業「future-i」控告侵權，法官認為，「這並不是項簡單的發明」需進行賠償
37. 承上題，該法律的制定是為了達到何項目的？
(A)促進產業發展 (B)促進國家文化發展
(C)維護市場公平交易 (D)調和社會公共利益
38. 一位來自賽普勒斯的視覺藝術家 Hayati，他將「無厘頭」的 PS 技巧與世界經典名畫相結合，就出現了一張張讓人忍不住莞爾一笑的作品。例如，蒙娜麗莎比出倒 OK 的手勢自拍。(註：左邊為「蒙娜麗莎的微笑」原圖，作者：李奧納多·達文西，年份：約 1502-1506。右邊為視覺藝術家 Hayati 之作品)請問：該名設計師是否違法，原因為何？
(A)違反著作權法，因為未取得原作者同意使用該畫作
(B)違反商標法，因為「蒙娜麗莎的微笑」屬於一種註冊商標
(C)不違法，因為此為專利技術上合理使用範圍
(D)不違法，因為原作品著作權保障年限已滿



39. 近日社群平台與群組流傳「十足目虹彩甲殼類病毒，不要吃蝦」，漁業署針對此假消息做出宣導海報，對國內螯蝦養殖場進行全面採樣監測及調查訪視，並保證國產泰國蝦及白蝦等蝦類品質佳皆安全無虞。關於此事件敘述下列何者正確？



- (A)網路上所有的報導都是以偏概全毫無可信度
(B)政府提供的訊息均是正確無誤可毫無保留相信
(C)民眾應該具備自我判斷能力並多方查證訊息真偽
(D)政府官員應具備媒體識讀能力向民眾說明事實

背面尚有試題

新北市立新莊國民中學 110 學年度第 2 學期第 1 次段考 9 年級社會領域試題卷

班級 座號 姓名

40. 小軒在尋找製作畢業影片的背景音樂，他決定採用有附註如右圖所示的音樂，請說明下列敘述何者**錯誤**？



- (A)該圖示代表只要在著作權人設定的授權條件下即可使用音樂
(B)有此圖示表示非商業性質且需另外取得授權即可使用音樂
(C)此圖示作法可讓創作者與利用者分享作品，使作品更流通
(D)該圖示應能化解知識共享及智慧財產的衝突問題

41. 一代武俠小說大師金庸先生 2018 年 11 月逝世。懷念金庸的同時，網上也出現一些新奇的評論。例如「這是不是意味著以後可以隨便使用他的作品內容，因為去世者是不找麻煩的……」金庸作品究竟是否還受法律保護？小穎整理了一些資料如表，請判斷哪些資料**有誤**？

(甲) <u>金庸</u> 先生所著小說著作權從他死後大家即可自由使用
(乙) <u>金庸</u> 先生完成小說創作當下無論銷售量如何都受法律保障
(丙)學校段考試題引用一段《 <u>神鵰俠侶</u> 》的文章屬合理使用
(丁) <u>金庸</u> 先生作品完成時需進行登記才受法律保障
(戊) <u>金庸</u> 先生目前仍保有著作權，若不慎觸犯僅需負民事責任

- (A)甲丁戊 (B)乙丙戊 (C)甲丙丁 (D)丙丁戊

42. 新聞報導：「曾經在 1999 年時，美國自然期刊上發表了一篇文章，一位讀者用基因改造玉米的花粉，餵食大樺斑蝶的幼蟲，沒想到 4 天後卻造成幼蟲的死亡！針對這些問題，我們目前仍無確切的數據去證實，基因改造作物對自然生態的影響是長遠的，總要經過許多年之後，才能看到真正的結果。」主要是在探討哪一項議題？

- (A)科技發展與隱私權問題 (B)多元文化的重視和營造
(C)生物科技的運用和省思 (D)國家加強提升科技水準

43. 樂施會（Oxfam）是國際發展及救援的非政府組織，在全球 90 個國家，和超過 1 萬 5 千個夥伴合作推展扶貧工作，據該組織公布的報告，指出在幾乎所有已開發與大多數開發中國家，勞工收入占國民所得的比重下降。文中畫底線的部分，其原因應該為下列何者？

- (A)跨國經濟活動因地理環境阻隔而受限
(B)國際分工下低技術勞工面臨減薪危機
(C)跨國企業總部均不設立於開發中國家
(D)開放他國進口產品國內廠商失去優勢

44. 人們手上的一台 iPhone，就可以涉及至少 500 種不同的零件，像是：晶片、機殼、鏡頭、電源供應等等。更甚之，像是一張小小的晶片，都還可以再切分成晶片設計廠、晶片代工廠、晶片封測廠等等一系列的供應商合作。蘋果之所以可以做大，是因為企業只掌握「核心技術」與「關鍵零件」，其他非核心的技術、較瑣碎的零件，就一律外包給廠商去做。從上文的說明可以發現何種經濟活動現象？

- (A)區域同盟合作 (B)國際產業分工
(C)資源全球共享 (D)國際勞動力提升

45. 上課時，老師解釋在跨國經濟活動中，企業將過去本地為主的生產模式，改以國際分工來從事，下列哪些情境可作為「國際分工」的例子？

- (A)日本連鎖拉麵店來台展店，引發民眾排隊嘗鮮風潮
(B)北宋每年固定給遼許多銀、絹，維持了兩國一百多年的和平
(C)家具公司總部設在台中，分公司及工廠則在高雄
(D)台灣手機大廠在印度設廠負責組裝手機

46. 新聞報導：「我國高中以下學校學生上學時間長，近年有學生在公共政策網路參與平臺上提議主張『延後上學』。教育部長潘文忠 2022-02-15 宣布，預計 111 學年起在全國各高中落實新制，規定各高中第一節前不得要求學生強行到校，也就是禁止考試等活動，鼓勵學生自由學習。教育部正與各縣市政府討論，預計今年 3 月公告正式方案。」根據上述，科技發展能帶來何種影響？

- (A)溝通互動不受國界限制 (B)影響公共政策制定方向
(C)自主學習取代學校制度 (D)限制各種訊息流動傳播

47. 小彤今天課堂小考關於「跨越國際的貿易」的相關問題，每題 20 分，全對為 100 分。請幫忙計算這份考卷得幾分？

- (A)100 分 (B)80 分 (C)60 分 (D)40 分

- (O) 1.跨國經濟活動中，開發中國家獲取大部分貿易利潤。
(X) 2.已開發國家中，國內高、低技術勞工的貧富差距逐步擴大。
(O) 3.跨國貿易的頻繁主因為科技進步、運輸系統發展完善所致。
(O) 4.跨國界的經濟活動帶來不全是正面的影響。
(X) 5.已開發國家將高汙染產業移往開發中國家，對開發中國家環境造成負擔。

48. 因應新冠肺炎疫情，行政院新開發推出的「簡訊實聯制」，這套系統不必加入會員、免填任何個人資料，回傳給電信公司的資料只有「手機號碼」、「當下時間」及「場所代碼」3 項資料，這些資訊都是民眾原本使用的電信公司已有的資訊，是最小範圍的個資提供，且保留 28 天後就會銷毀，只有當政府有疫調需求時，才會調閱這些資料，進而找出足跡。劃底線內容這樣的做法是希望可以避免何種風險？

- (A)避免民眾受到假訊息誤導
(B)防止生命基本尊嚴受到侵犯
(C)降低對社會秩序的破壞
(D)避免危害個人隱私權

49. 台灣在電動車的搶灘戰奪得先機，經濟部長王美花指出，電動車大廠特斯拉（Tesla）先前越洋尋找供應夥伴，曾找過日本與韓國業者詢價，但過程並不順利，只有台灣廠商能符合特斯拉開出的條件，「關鍵在於台灣廠商可以少量、多樣化」，再加上電動車的供應鏈中還有很多電子零組件，這是台灣廠商的優勢，現在包括和碩、台達電與富田電機等都已經是特斯拉供應商。根據上文敘述，我國廠商可加入電動車市場，是受惠於下列何項原因？

- (A)我國在電子零組件生產具有相對優勢
(B)我國汽車廠牌受到他國消費者喜愛
(C)我國盛產關於汽車製造的相關原料
(D)我國政府在汽車產業上採取補助措施

50. 谷阿莫，2015 年以「X 分鐘看完一部 XX 的電影」系列影片爆紅，製作內容擷取電影或影集片段，剪輯成 3 到 5 分鐘的影片並加以評論，隨後放在臉書、YouTube 等社群平台，遭 5 家片商指控侵權。他涉嫌改作的 13 部影片包括「動物方程式」、「屍速列車」等。請問：以下何者**並非**他被片商控告的主要原因？

- (A)影片經他剪輯之後，曲解原創作者拍攝影片內容的本意，易誤導觀眾
(B)他上傳 YouTube 後，點閱率又可創造分紅利潤，有營利及商業性質之嫌
(C)片商指控他侵犯著作權並已影響原著作在市場上的潛在價值
(D)利用他人影片剪輯，配上自己的旁白，此舉已超過合理使用範圍

新北市立新莊國民中學 110 學年度第 2 學期第 1 次段考 9 年級社會領域試題
解答

1	2	3	4	5	6	7	8	9	10
B	A	C	D	A	C	B	D	D	A
11	12	13	14	15	16	17	18	19	20
D	A	C	C	B	B	D	B	D	B
21	22	23	24	25	26	27	28	29	30
A	C	B	D	D	A	D	C	A	D
31	32	33	34	35	36	37	38	39	40
B	B	C	D	A	C	C	D	C	B
41	42	43	44	45	46	47	48	49	50
A	C	B	B	D	B	D	D	A	A