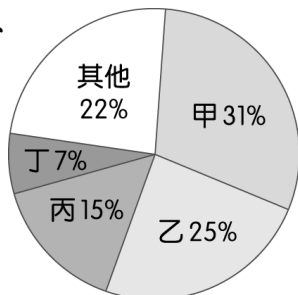
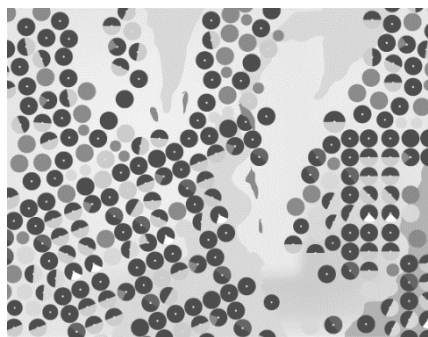


※ 選擇題：本試卷共 50 題，每題 2 分，總分為 100 分。

每一題均為單選題，請選出最適當答案。

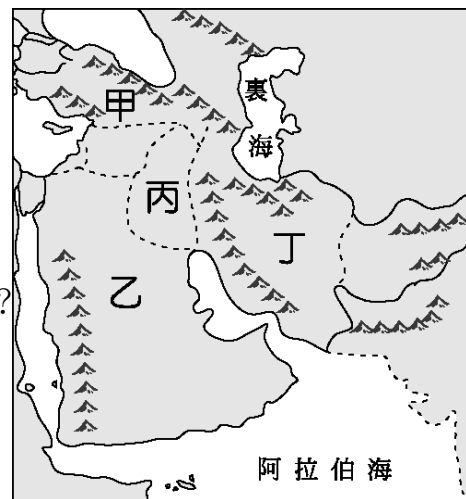
※ 請用 2B 鉛筆在答案卡上相應的位置畫記。

- 何都市地跨歐亞兩洲，是世界唯一橫跨兩洲的都市？
(A)開羅 (B)安卡拉 (C)德黑蘭 (D)伊斯坦堡
- 2021 年長榮海運的貨櫃輪船阻塞蘇伊士運河，引起世界關注，蘇伊士運河連接哪兩塊海域？
(A)地中海、紅海 (B)裏海、黑海
(C)波斯灣、阿拉伯海 (D)大西洋、地中海
- 西亞以何種地形為主體？
(A)平原 (B)高原 (C)盆地 (D)高山
- 西亞與北非以熱帶沙漠氣候為主，原因為何？
(A)高山環繞 (B)距海遙遠
(C)高氣壓籠罩 (D)低氣壓籠罩
- 若 1 月前往西亞的地中海沿岸地區旅遊，最可能遇到何種氣候狀況？
(A)炎熱乾燥 (B)涼爽多雨 (C)下雪冰封 (D)高溫多雨
- 參考附圖，阿拉伯高原的衛星影像圖可見到許多綠色圓圈，此種灌溉方式的水源為？
(A)河水 (B)湖水
(C)地下水 (D)高山雪水
- 附圖為世界宗教人口比例圖，北非、中南半島、印度的主要宗教信仰依序為何？
(A)甲丙丁 (B)乙甲丁
(C)丙甲乙 (D)乙丁丙
- 下列何宗教不是起源於西亞？
(A)佛教 (B)基督教 (C)猶太教 (D)伊斯蘭教
- OPEC 成立的宗旨為何？
(A)促進信仰伊斯蘭教國家間的合作
(B)推動太平洋周邊國家的經濟合作
(C)控制石油產量與價格
(D)提倡世界自由貿易
- 1947 年，聯合國決議在巴勒斯坦地區建立何民族為主的以色列，引發周邊國家的不滿？
(A)庫德族人 (B)猶太人 (C)斯拉夫人 (D)阿拉伯人
- 西撒哈拉地區原計畫舉行獨立公投，卻遭到何國的武力干涉？
(A)突尼西亞 (B)利比亞 (C)敘利亞 (D)摩洛哥
- 非洲的衣索比亞在哪條河川上游建立水壩發電，引起河川下游的埃及、蘇丹反對？
(A)尼羅河 (B)幼發拉底河
(C)底格里斯河 (D)恆河



【第 13 至 16 題為題組】

- 伊斯蘭教的聖城—麥加位於何國？
(A)甲 (B)乙
(C)丙 (D)丁
- 何國 2023 年 2 月發生大地震，造成嚴重傷亡，我國亦派遣救援隊前往協助？
(A)甲 (B)乙
(C)丙 (D)丁
- 何國的地形以高原為主，且大部分人民信仰伊斯蘭教的什葉派？
(A)甲 (B)乙 (C)丙 (D)丁
- 1990 年因石油利益而爆發波斯灣戰爭，起因是何國攻打鄰國？
(A)甲 (B)乙 (C)丙 (D)丁
- 請問對於「無罪推定原則」相關敘述何者正確？
(A)又稱罪刑法定原則
(B)被告即使因嫌疑重大，遭檢察官起訴，也不代表有罪
(C)不知法律者無罪
(D)偵查中遭收押即為有罪
- 假消息是現在媒體的亂象之一，下列是四個新聞標題，請問何者為假消息？
(A)恐龍法官！某立委助理涉侵占，法官僅判拘役
(B)法官針對案件，不為權貴影響，依法判處罰鍰
(C)80 歲老翁逆向駕駛，所幸被害人只有輕傷，法官酌予減輕其刑
(D)8 歲小孩肚子餓偷拿超商麵包，依刑法規定不以刑罰處罰
- 下列有關刑法與犯罪的討論，哪個人的觀念較為正確？
(A)小煜：刑事訴訟法主要規範犯罪的行為與類型
(B)小好：刑法規範犯罪的追訴及處罰犯罪的過程
(C)小雨：僅被害人能對犯罪嫌疑人提起刑事訴訟
(D)小瑜：檢察官不會主動調查告訴乃論的刑事案件
- 發生刑事案件時，偵查人員蒐集、鑑定相關證據，並研判嫌疑人的心態、動機等，以呈現犯罪事實，其目的在提供下列何人作為「判決」的依據？
(A)法官 (B)檢察官 (C)原告律師 (D)刑事警察
- 一名 20 歲的女子正要騎乘摩托車時，被林先生制止，認為該名女子欲竊取自己的摩托車，於是報警處理。隨後，調查的司法人員調查證實：該款摩托車型號：款式、顏色、廠牌均與報案民眾相同，且停放地點相距不遠，因此認為該名女子並無自己或他人不法所有的意圖，因此不起訴。請問以上案例，依刑法的相關規定，下列何者正確？
(A)只要是過失，誤觸刑法都不會處罰
(B)該名女子是因不知法律的情況下，所以未被起訴
(C)負責調查的司法人員應該是檢察官
(D)未遭起訴是因為該案例是屬於告訴乃論



背面尚有試題

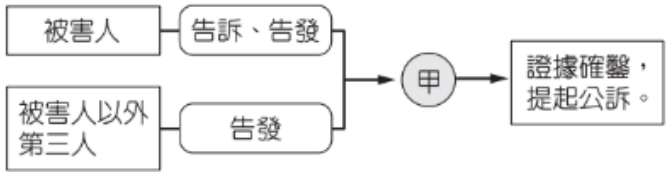
22. 下列資料為《漢摩拉比法典》中部分條文的內容，根據我國的法律類別判斷，何者相當於現行《刑法》的範圍？
- (A)自由民娶妻時未訂契約，則此婦女並非其妻子
 - (B)自由民竊取神廟或王宮財物者應被處死，而收受贓物者亦應被處死
 - (C)若自由民無法以銀償還債務，只能以穀物來償還，債權人必須接受
 - (D)若父親生前未承認與奴隸所生子女，則奴隸子女不得與配偶之子同分家產

23. 民眾向警察報案，警察機關在接受民眾行使那些權利時，必須開始刑事偵查程序？
- (A)自訴、告訴、告發
 - (B)自訴、自首、告訴
 - (C)自首、告訴、告發
 - (D)公訴、告訴、自訴

24. 新莊國中舉辦「生活中的法學」猜謎比賽，請問下列哪個選項適用該謎題的法律原則？

謎 題	○○原則
提 示 (Hint)	1.法律明文規定 2.不溯及既往 3.任何處罰以行為時的法律為限

- (A)小玲開車不小心在路上撞傷路人
 - (B)阿靈暗自詛咒跟他發生口角的鄰居發生車禍死亡
 - (C)林董上大學後常常翹課
 - (D)志霖不慎將朋友的手機弄壞
25. 公民老師為說明刑事訴訟程序，向學生展示追訴犯罪行為流程的海報，如下圖。根據圖中內容判斷，甲機關的工作內容，可能與下列哪一項敘述符合？



- (A)在法院中負責審判各種案件
 - (B)協助被告處理買賣糾紛訴訟
 - (C)代表國家偵查詐騙集團案件
 - (D)於法庭中擔任辯護相關工作
26. 公民課時，老師介紹完追訴犯罪者的角色與職權時，小政將筆記抄錄下來，但那一位的職權不小心抄錯了？
- (A)目擊民眾：我看到有輛車肇事逃逸，我將車號抄下來趕緊到警局告發他
 - (B)警察：我會協助檢察官偵查，但過程中是不公開的
 - (C)檢察官：我蒐集罪證之後，證明嫌疑人有無犯罪後，交由法院起訴或不起訴
 - (D)法官：我做出獨立審判，必須釐清事實與證據後，才會做出有罪或無罪的判決
27. 小祐準備上台報告對於「調解」的內容，由於時間匆促，在整理時，有一項不小心搞錯了，請你幫他找出來？
- (A)甲
 - (B)乙
 - (C)丙
 - (D)丁

甲	調解委員會設置在各地鄉鎮市區公所
乙	調解的事項包括民事案件與告訴乃論的刑事案件
丙	調解若沒完成，仍可提出民事或刑事訴訟
丁	申請調解的案例：車禍損害糾紛、詐欺案

28. 警局接獲民眾報案，派警員前往知名飯店破獲人蛇集團，救出被拘禁的男女數名，其中男女皆表示是在面試工作時，被誘騙後拘禁，帳戶、手機、財物等都被搶走，犯罪集團要求他們從事詐騙工作，若不聽從便會被毒打或電擊．．．將依傷害、詐欺、妨害自由等罪名起訴。關於上述報導的相關敘述，何者正確？
- (A)最初是由警察機關告發人蛇集團的犯罪事實
 - (B)訴訟中由法官公正審判及調查證據
 - (C)由檢察官予以偵查並對集團成員提起公訴
 - (D)其中成員如未滿 14 歲者，可獲得減刑

15 歲的阿沅因為最近課業壓力感到心煩，和父母口角後負氣離家，甚至開始逃學，到網咖、撞球場閒晃，也因此認識了 19 歲的猛哥。兩人一拍即合，一起四處遊盪，不務正業。某日，阿沅跟猛哥相約半夜飆車，他們在馬路上競速、蛇行，騎到一半時，阿沅突然失控打滑撞上停在路邊停車格的汽車。路人通報警方，警察將阿沅和猛哥帶回警察局，並告知他們飆車的行為已經觸犯公共危險罪，最高可處五年以下有期徒刑、拘役或五百元以下罰金。

29. 請根據以上短文，選出正確的答案？
- (A)阿沅是限制行為能力人，因此可以減輕刑責
 - (B)公共危險罪的罪責均屬於剝奪自由
 - (C)阿沅與猛哥的行為屬於犯罪，亦是違法
 - (D)公共危險罪是屬於侵害國家法益
30. 以下同學對於「刑罰」的見解，請問誰是錯誤的？
- (A)小新：刑罰的功能不僅有懲罰還有預防與矯正的功能
 - (B)莊仔：刑罰的主刑包括與死刑、無期徒刑、有期徒刑、拘役與褫奪公權
 - (C)阿國：刑罰是所有法律處罰中最為嚴厲的手段，因為剝奪人之生命與自由和財產
 - (D)阿中：毀損罪只罰故意，不罰過失，可說明「罪刑法定」原則
31. 為降低酒駕事件發生頻率，2022 年立法院 24 日三讀通過修正《道路交通管理處罰條例》、《刑法》及《陸海空軍刑法》部分條文，酒駕新規將「酒駕未肇事」的刑責從原本 2 年以下有期徒刑，提高為 3 年以下有期徒刑，得併科 30 萬元以下罰金。同時明定公路主管機關得公布「10 年內第 2 次酒駕累犯者」的姓名、照片及違法事實，並將同車乘客「連坐罰」金額，提高至 6000 元以上 1 萬 5000 元以下。
- 請根據上述新聞判斷，以下的敘述何者錯誤？
- (A)違反文中的《道路交通管理處罰條例》規定屬於犯法行為
 - (B)提高酒駕罰責是為了預防與懲罰犯罪
 - (C)《刑法》修正後，將由立法院公布
 - (D)《道路交通管理處罰條例》由立法院制定
32. 某縣市市議員由於詐領助理費 333 萬元，遭法院判處 2 年刑期、緩刑 5 年，褫奪公權 5 年。請問有關該則新聞的理解，何者正確？
- (A)褫奪公權指不能投票
 - (B)褫奪公權指不能擔任公職人員
 - (C)褫奪公權指不能投票也不能參選
 - (D)市議員可參選年齡為 30 歲

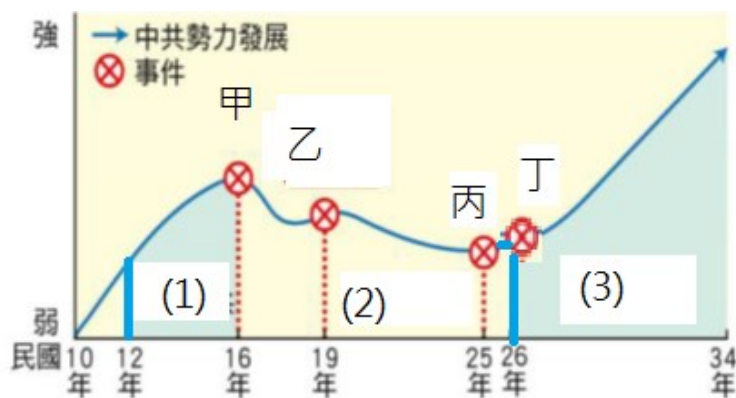
繼續作答下張試卷

33. 阿華看完電視劇「廉政英雄」與「最佳利益」之後，深受劇情影響，對於司法相關人員的角色充滿憧憬，於是他開始上網收集相關的資料。請問：下列哪項資訊錯誤？
 (A)檢察官身著鑲藍領的黑色法袍
 (B)律師身著鑲白領的黑色法袍
 (C)檢察官是刑事訴訟中的原告
 (D)律師可受被告委託，負責為其辯護

34. 民國 26 年 7 月 17 日，蔣中正在廬山發表著名的“最後關頭”演說和嚴正聲明，指出“再沒有妥協的機會，如果放棄尺寸土地與主權，便是中華民族的千古罪人”。蔣中正在最後關頭演說發表是在甲國發動“乙事變”後，表明了甲國的挑戰已經到了當時中國所能接受的底線。請問：乙事變指的是下列何事？
 (A)西安事變 (B)盧溝橋事變
 (C)九一八事變 (D)珍珠港事變

35. 黃埔軍校的設立，可以說是孫中山採取下列哪一個政策的成果？
 (A)護法運動 (B)全民皆兵 (C)全盤西化 (D)聯俄容共

36. 承上題，黃埔軍校曾經三度遷校：(一)黃埔時期(二)南京時期(三)成都時期(四)高雄鳳山時期，從以上軍校所在地的遷徙也可以看出中華民國的歷史發展，請問：從南京到成都的遷徙可以反映出下列何種情形？
 (A)配合政府以空間換取時間政策，遷徙到大後方
 (B)清黨後隨國民政府遷都而遷校
 (C)因為國共內戰失敗所造成
 (D)配合剿共的需求



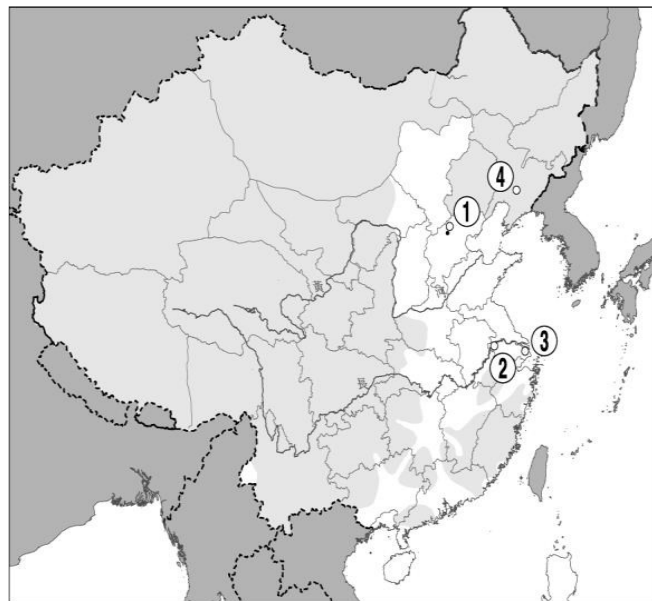
37. 上圖中的(1)(2)(3)代表國共關係的演變情況，請問：
 (1)(2)(3)按順序應為下列何種關係變化？
 (A)剿共—聯共抗日—聯俄容共
 (B)聯俄容共—聯共抗日—剿共
 (C)聯俄容共—剿共—聯共抗日
 (D)聯共抗日—剿共—聯俄容共

38. 承上題，請問：圖中發生於民國 25 年的丙事件應是指下列何事？
 (A)發生西安事變 (B)盧溝橋事變爆發
 (C)二萬五千里長征開始 (D)國共決裂

39. 由右圖報紙對西安事變所下之標題可以判斷出西北文化日報所採取的觀點傾向下列何者？
 (A)中國共產黨
 (B)國民政府
 (C)美國
 (D)日本



40. 731 部隊隸屬於日本帝國陸軍，是日本占領中國某地期間，專門從事生物戰、細菌戰和人體試驗相關研究的秘密軍事醫療部隊。名義上是以研究防治疾病為主，實際卻是對將近 1 萬名活體中國人、蘇聯人和朝鮮人，進行生物與化學武器的實驗，導致多人不幸喪命。請問：某地是在下圖中何處？
 (A) ① (B) ② (C) ③ (D) ④



41. 又嘉準備段考複習時，準備將國共關係演變整理好，但國共關係實在是太錯縱複雜了，他需要你們的協助，請協助他按時間順序排列下列的事件去了解國共關係演變：甲、國共雙方為了爭奪日軍占領區，爆發多次軍事衝突；乙、中華民國政府播遷來臺；丙、張學良發動西安事變；丁、蔣中正發動清黨，另行成立南京國民政府
 (A)甲乙丙丁 (B)丁甲乙丙 (C)丙乙丁甲 (D)丁丙甲乙

42. 這張郵票是紀念美英等國與中華民國簽訂平等新約那年所發行，請問：此郵票的發行時間在下列哪一個時期？
 (A)十年建設時期
 (B)八年抗戰時期
 (C)軍閥割據時期
 (D)國共內戰時期



43. 日本在 1868 年明治維新後，國力增強，開始對其周遭國家產生侵略野心，1930、40 年代，在軍國主義的影響下更促使日本積極向外擴張。下列哪一事件並非因日本侵略所致？
 (A)珍珠港事變 (B)盧溝橋事變
 (C)蔣中正清黨 (D)南京大屠殺

44. 承上題，日本軍國主義的興起是受到下列什麼事件的影響？
 (A)第一次世界大戰爆發
 (B)因為美國頻頻阻礙日本的利益
 (C)世界性經濟危機爆發，日本欲藉機取得資源穩定局面
 (D)美國總統提出民族自決原則的刺激

45. 底下是中華民國曾經使用過的法律，請按照使用過的先後順序排列：(甲)中華民國訓政時期約法 (乙)中華民國臨時約法 (丙)中華民國憲法
 (A)甲乙丙 (B)甲丙乙 (C)乙丙甲 (D)乙甲丙

46. 下列哪一個事件不是發生在十年建設時期？

- (A)發行法幣
- (B)孫中山採取聯俄容共政策
- (C)中共展開二萬五千里長征
- (D)日本扶植溥儀成立滿洲國

47. 曾老師在課堂上設計戲劇表演，戲劇以「中國八年抗戰」的歷史為背景，讓同學們進行角色扮演，請問：下列同學們拿到的臺詞中，哪一位扮演的是美國政府官員的角色？

- (A)宸菰：我國海軍基地珍珠港慘遭偷襲，因此決定參戰
- (B)若寧：我們利用對外戰爭壯大勢力，目的在取得中國政權
- (C)立翰：因為受到原子彈的攻擊，我們損傷慘重，最後只得投降
- (D)宇玔：我國藉此與各國另訂平等新約，擺脫百年不平等條約的束縛

48. 日本人在中日戰爭期間曾做過不少事情造成東亞人民的苦難，不過下列哪一件事情卻不是日本做的？

- (A)徵召殖民地的人民充作勞動力，甚至連兒童都不放過
- (B)派飛機轟炸台灣
- (C)誘騙或強迫朝鮮、台灣的婦女充當慰安婦
- (D)徵召台灣原住民從軍

49. (甲)官員貪汙腐敗 (乙)未解決通貨膨脹問題 (丙)美國提供精良武器給中共，使中共佔上風 (丁)財政金融全面崩潰。請問：政府在國共內戰失利撤往台灣的原因有哪些？

- (A)甲乙丙 (B)乙丙丁 (C)甲乙丁 (D)甲丙丁

50. 中國東北地區一直受到鄰國的覬覦，因此不時會發生一些與它有關的糾紛，請問：下列哪一個事件與東北權益無關？

- (A)雅爾達密約 (B)九一八事變
- (C)日俄戰爭 (D)牡丹社事件

試題結束

新北市立新莊國民中學 111 學年度第 2 學期第 2 次段考 8 年級社會領域試題
解答

1	2	3	4	5	6	7	8	9	10
D	A	B	C	B	C	D	A	C	B
11	12	13	14	15	16	17	18	19	20
D	A	B	A	D	C	B	B	D	A
21	22	23	24	25	26	27	28	29	30
C	B	C	A	C	C	D	C	C	B
31	32	33	34	35	36	37	38	39	40
C	B	A	B	D	A	C	A	A	D
41	42	43	44	45	46	47	48	49	50
D	B	C	C	D	B	A	B	C	D