

※ 選擇題：本試卷共 50 題，每題 2 分，總分為 100 分。  
每一題均為單選題，請選出最適當答案。

1. 「乾隆皇帝要他跪拜，他只肯行一膝一跪之禮，堅持不肯行三跪九叩之禮，乾隆大為不悅。等見到國書，才知使節來到中國，並非專為賀壽，實別有所請。」以上描述西歐國家首次向中國派出正式使節晉見皇帝的情景，請問下列敘述何者正確？

(A) 此位來到中國的使節為阿美士德  
(B) 出使的目的在於希望打破清廷所訂的通商限制  
(C) 英國因堅持天朝體制而導致協商困難重重  
(D) 乾隆皇帝答應使節的要求而增開通商口岸給英國

2. 兩廣總督曾向皇帝進言：「鴉片流毒於天下，法當從嚴。若猶泄泄視之，是使數十年後，中原幾無可以禦敵之兵，且無可以充餉之銀。」皇帝派他去查禁鴉片，他要求外商保證不能夾帶鴉片，「如有帶來，一經查出，貨盡沒官，人即正法，情甘服罪」，他將鴉片集中在虎門海灘銷毀，反毒決心震驚世界。請問：因上述事件而導致中英之間的戰爭，下列何者與其有關？

(A) 戰後在圖一中丙地簽訂條約  
(B) 戰爭結果開啟近代中國不平等條約的序幕



(C) 戰後割讓圖一中乙地給英國  
(D) 咸豐皇帝派林則徐到圖一中甲地禁煙而成為戰爭導火線

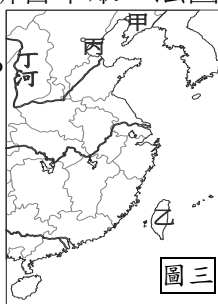
3. 圖二內容和清末某條約續約的規定有關。請問：下列何者與右圖的內容最為符合？

(A) 破壞中國領土主權的完整  
(B) 中國不能自行決定進出口貨物的稅率  
(C) 中國片面給予外國優惠，遭受不平等的對待  
(D) 外國人在中國犯罪，由該國領事依該國法律處理



4. 西元 1856 年廣西西林知縣張鳴鳳逮捕在當地傳教的馬賴和一些天主教徒，馬賴先遭重刑，又被關到小鐵籠子裡掛在監牢大門。最後馬賴死亡，屍體被斬首示眾。法國因此事件而和英國聯合進攻中國，請問下列何者與戰爭結束後簽訂的條約有關？

(A) 圖三中乙處因條約內容而進入清領後期  
(B) 割讓圖三中丙地給英國  
(C) 英、法公使可進駐圖三中甲地  
(D) 圖三中丁河沿岸多處開放為通商口岸



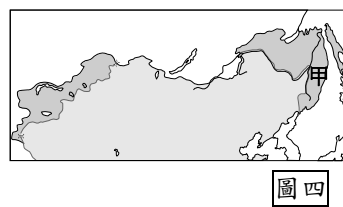
5. 電影《十二生肖》有以下對白：「多年前，戰爭的緣故，我的祖先帶回了不屬於他們的收藏。每次我看著銅首，它不應該只是一、二個人的專屬。」上述「銅首」原是西元 1860 年被焚燬的皇家園林中的噴水龍頭，請問「戰爭的緣故」是指何者？

(A) 第一次英法聯軍 (B) 鴉片戰爭  
(C) 第二次英法聯軍 (D) 八國聯軍

6. 「有田同耕，有飯同食，有衣同穿，有錢同使，無處不均勻，無人不飽暖也。」、「天下人人不受私，物物歸上主，則主有所運用，天下大家處處平均，人人飽暖矣。」請問：上述兩段文字和太平天國的何種措施有關？

(A) 主張男女平等、倡導一夫一妻  
(B) 借用基督教義來攻擊儒家學說  
(C) 提出具有共產思想的「天朝田畝制度」  
(D) 煽動信徒四處破壞寺廟與神像

7. 清末俄國極盡威脅恐嚇之能事，不費一兵一卒、一槍一彈即獲得中國東北廣大的土地。請問：關於割讓圖四中甲地的條約，下列敘述何者正確？

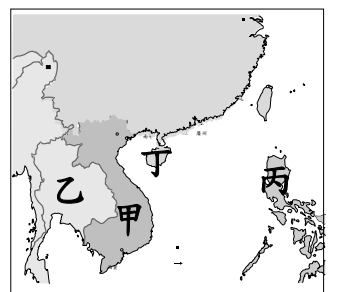


(A) 咸豐 8 年俄國出兵瑣琿而導致條約的簽訂  
(B) 中國割讓黑龍江以北給中國  
(C) 為清末喪失土地最多的條約  
(D) 第二次英法聯軍時俄國藉口調停有功而訂約

8. 「孩子們大多不願穿中式服裝，不少人把辮子剪掉，只在見清廷督導長官時再弄一根假辮子裝上。他們與外國女孩偷偷約會，也參加各類的體育活動。種種新變化被隨行的清朝官員視為大逆不道，上奏清廷，原本長達 15 年的留學計畫，卻在進行到第 10 年時，全部學生被召回國。」以上說明清末幼童出國留學的情況，請問下列敘述何者正確？

(A) 出國時間在道光年間  
(B) 從隨行清朝官員的做法可知當時守舊派的心態  
(C) 這些幼童是到英國留學  
(D) 留學時清朝正在推行戊戌變法

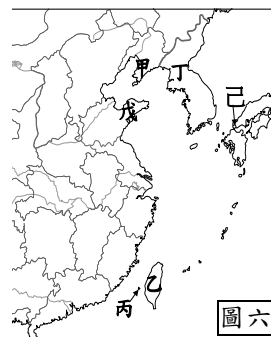
9. 「西元 1884 年法艦進攻台灣，劉銘傳抽調兵力防備淡水，最後法軍不敵只能撤退。法軍開始對台灣實行海上封鎖，並增兵攻向基隆，在林朝棟等人的支援防守下，法軍無功退回。法軍曾多次進軍台北卻受阻，始終未能渡過基隆河，基隆之法軍公墓就是戰後所留下，見證當時戰況之慘烈。」請問：中國因上述戰爭而喪失的藩屬國位於圖五中何處？



(A) 甲 (B) 乙 (C) 丙 (D) 丁

【題組一】請根據圖六，回答第 10-11 題：

10. 「西元 1894 年朝鮮農民起義，朝鮮高宗向北京告急，清軍屯駐於牙山。日本在維護朝鮮獨立的藉口下，圍攻朝鮮王宮，組成親日內閣。7 月 25 日日軍向停泊在豐島的清朝艦隊不宣而戰，9 月清軍撤出朝鮮，戰爭轉到中國本土。」請問：因上述事件而引發的戰爭，下列何者與戰後簽訂的條約「無關」？



(A) 圖六中乙地的割讓導致丘逢甲、劉永福等人領導民眾抗日  
(B) 中國承認圖六中丁地獨立  
(C) 條約簽訂的地點在圖六中己處  
(D) 俄、法、德聯合干預下，中國以白銀三千萬兩贖回原被割讓的戊地

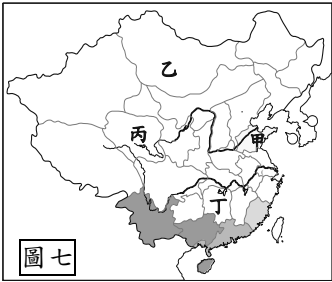
11. 日本自西元 1868 年起推行仿效西方制度、文化的運動—明治維新，改革的成功使日本成為亞洲唯一的新帝國主義國家，積極展開對外侵略。請問：日本的野心首先展現於對哪個地區的侵略？

(A) 甲 (B) 乙 (C) 丙 (D) 丁

12. 太平天國為清末規模最大、影響最深遠的內亂，歷時十四年才告平定。請問：下列何者與太平天國之亂的經過或影響「無關」？

(A) 富裕的長江中下游地區受到嚴重的破壞  
(B) 曾國藩的湘軍以維護傳統文化為號召，為平亂的主力  
(C) 漢人大臣平亂有功，漢人政治地位大為提高  
(D) 清廷體認西方船堅炮利，促使戊戌變法的展開

13. 第一次世界大戰爆發時，日本以英、日同盟為由向德國宣戰，進占德國在中國的勢力範圍，實則為得到原先德國在中國享有的權利。民國 8 年北京學生為抗議此事，還爆發了震撼全國的五四運動。請問：日本在第一次世界大戰時企圖獲得圖七中哪一地區的權利？



- (A) 甲 (B) 乙 (C) 丙 (D) 丁
14. 圖八是諷刺清末列強瓜分中國這塊大餅的漫畫。請問：未出現在圖片中的某個國家，使中國免於被瓜分的命運，關於這個國家提出的政策，下列敘述何者正確？



- (A) 主張列強畫分勢力範圍，以鞏固自身利益
- (B) 性質是強調閉關自守的「鎖國政策」
- (C) 提倡各國在中國的經濟利益均等
- (D) 政策提出的時代背景，是由於北京條約簽訂後的餘波盪漾
15. 下表為自強運動與戊戌變法的比較，請問哪一列的內容是正確的？

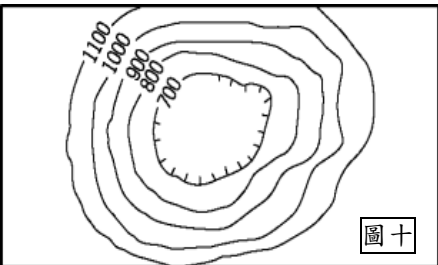
改革	自強運動	戊戌變法
(甲)背景	鴉片戰爭戰敗的刺激	英法聯軍戰敗的刺激
(乙)推動者	皇帝下詔改革	地方官員各自興辦
(丙)內容	延伸到政治、教育等制度層面	偏重武器、技術等器物層面
(丁)結果	成果有限，甲午戰爭證明改革失敗	除京師大學堂外，措施全被廢止

16. 百日維新之所以失敗告終，有人評論：「規模太廣，志氣太銳，包攬太多，同志太孤，舉行太大。當地排者，忌者、擠者、謗者盈衢塞巷，而上又無權，安能有成？」請問：「上又無權」是指何人並未掌握實權來推動改革？

- (A) 同治皇帝 (B) 光緒皇帝 (C) 咸豐皇帝 (D) 慈禧太后
17. 萍萍搭渡輪至中國南部沿海地帶遊玩，見到如圖九的海岸類型，請問下列敘述何者「有誤」？



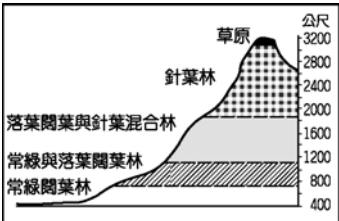
- (A) 適合闢建港口，利於當地發展漁業與航運
- (B) 在珠江、長江出海口容易見到的海岸類型
- (C) 主要由海平面上升，淹沒沿海低地而形成
- (D) 岸邊有許多跟金門、馬祖列嶼一樣的大陸島
18. 河流受限於地形、氣候等自然環境因素限制，易形塑成不同的水系形態，請問圖十的地形等高線圖最易出現何種水系類型？



19. 上海簡稱為「滬」，乃上海語的港口、小漁港之意，何以上海得以在短短百年時間內從一沿海小漁村，經濟躍升，快速超越中國各大城市，搖身一變成為國際級大都市，深受世界矚目？

- (A) 位置優越、腹地廣大 (B) 緯度適中、氣候溫和
- (C) 地勢低平、交通便利 (D) 礦產豐富、能源充足

20. 參照圖十一所示，中國南部某地因具備多樣化的生態系統而被喻為「植物王國」，請問最可能出現在下列何地？

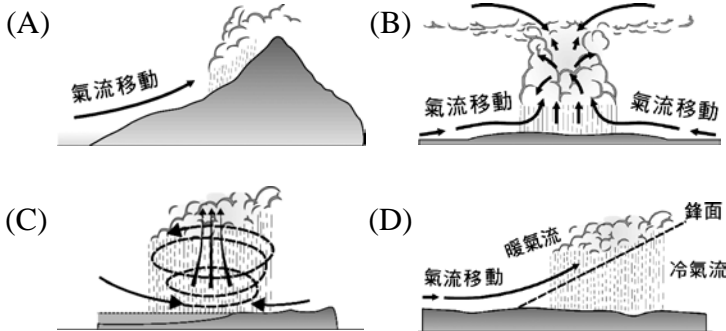


- (A) 號稱「中國夏威夷」的海南島
- (B) 名稱「魚米之鄉」的珠江三角洲
- (C) 俗稱「七山二水一分田」的東南丘陵
- (D) 世稱「一山有四季，十里不同天」的橫斷山脈

21. 「黃梅時節家家雨，青草池塘處處蛙」此詩主要在描寫梅雨季節的情境，請問下列對於梅雨的描述中，何者是「正確」的？

- (A) 多在冬、春季交界之際發生
- (B) 具有雨區大，雨時短的特徵
- (C) 華中區比起華南區更晚入梅
- (D) 是夏季西南季風帶來的降雨

22. 承上題，梅雨帶來的降水量常使南部地區河流水位上升，甚而形成洪患，請問梅雨主要的降水形態應屬於下列何種形式？

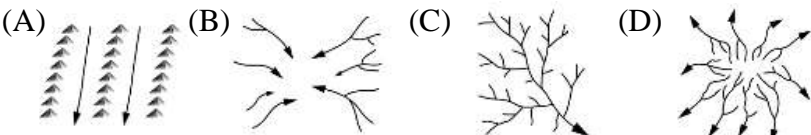


23. 秦嶺淮河以南的南部地區因氣候暖濕，是中國農業最蓬勃發展的地區，請問下列有關南部地區的敘述何者「正確」？

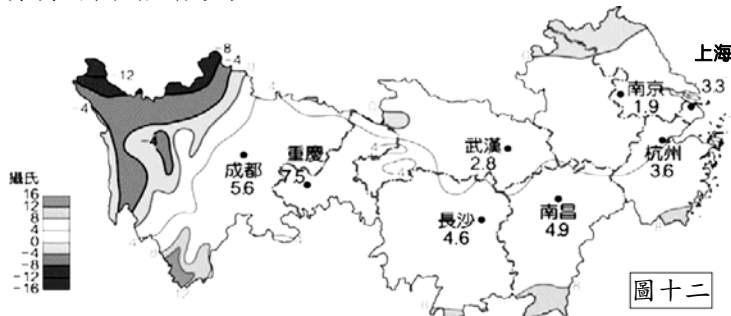
- (A) 以南嶺為界，以北屬於副熱帶季風氣候，以南屬於熱帶季風氣候
- (B) 農業發達的四川盆地被喻為「魚米之鄉」、長江三角洲美稱「天府之國」
- (C) 華南區受限緯度因素，年僅收穫兩次稻米，糧產不足促使人口選擇外移
- (D) 年降水量多超過 750 毫米，降雨高度集中夏季，一月均溫多超過攝氏 0 度以上


24. 早期華南地區人口大量向海外遷移，外移人數最多的福建、廣東兩省甚至被喻為「僑鄉」，請問造成此股推力的因素應為下列何者？

- (A) 族系眾多，械鬥頻繁 (B) 山多田少，糧食不足
- (C) 天災頻繁，收成不穩 (D) 氣候溼熱，不宜人居



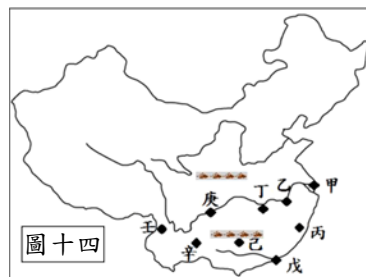
25. **圖十二**為華中一月分的等溫線分布圖，可得知成都與重慶一帶相較武漢、杭州一帶明顯溫度較高，請問可能是下列何種原因造成的？



- (A) 北有高山阻擋 (B) 緯度位置較低  
(C) 距海較為遙遠 (D) 地勢更為低平
26. 下列有關長江流域的環境災害與相對因應對策的組合，何者「無法解決」問題？  
(A) 中下游水患不斷→開闢長江三峽大壩控制流量  
(B) 中游荊江多曲流→採行截彎取直工程掌握河道  
(C) 中上游過度開發→下游積極實施圍湖造田計畫  
(D) 下游水汙染嚴重→立法管制汙染源並加強取締
27. 請問下列各個有關中國南部城市的組合敘述，何者「完全正確」？(甲)上海 (乙)廣州 (丙)香港 (丁)武漢 (戊)澳門 (己)重慶  
(A) 丙地—曾被葡萄牙殖民過，戊地—曾被英國殖民過，現皆設為特別行政區  
(B) 甲地—統管三峽大壩事務，己地—因經濟機能強盛，現皆為中國直轄市  
(C) 乙、丁地皆位於京廣鐵路上，水陸運暢通，兩地間可快速連通長江與珠江流域  
(D) 甲地—為避免舊港冬季結冰問題，闢建洋山新港增加運量，現成中國最大港口
28. 「山清、水秀、洞奇、石美」多在形容石灰岩地形之美，請問下列相關敘述何者「有誤」？  
(A) 多由「雨水溶蝕」作用而形成石鐘乳、石筍和峰林等奇景  
(B) 斷層陷落形成的山間盆地成為人口集中區，當地稱為「壩子」  
(C) 地表崎嶇，不利交通建設，觀光推展因而窒礙難行，經濟受困  
(D) 在「天無三日晴，地無三里平，人無三兩銀」的貴州省為常見景觀
29. 經濟特區的設立促使中國大陸經濟開始起飛，請參照圖十三沿海經濟特區位置圖，找出下列關於經濟特區的敘述何者「正確」？  
(A) 擁有鄰近港、台地區，兼具僑鄉與谷灣的優勢條件  
(B) 甲為廈門、乙為珠海、丙為深圳、丁為海南經濟特區  
(C) 原料豐富的優勢逐漸喪失，開始轉型為技術密集型產業  
(D) 以企業化方式大規模栽種甘蔗、茶葉等經濟作物提高獲利
- 



**【題組二】**請依照圖十四中的代碼回答第 30~33 題



30. 如圖十四所示，為適應特殊環境，此地居民發展出快速通過河谷的移動方式，成為當地主要交通工具，請問此種特殊交通工具出現在圖十四中何區？  
(A) 甲 (B) 丙 (C) 己 (D) 壬
31. 請問圖十四中哪一個地區因民眾的過度開發，超限的「圍湖造田」，造成洞庭湖的調洪能力大為縮減，以致於近年來出現水災頻仍的現象？  
(A) 乙 (B) 丁 (C) 戊 (D) 庚
32. 請問圖十四中何處具備如圖十六一般的江南景緻，出門見河渠與渡船，不見陸地與車馬的「水鄉澤國」景觀？  
(A) 甲 (B) 戊 (C) 己 (D) 辛
33. 1980 年代起，中國實施經濟改革開放政策，並在沿海地帶設立多個經濟特區，以吸引國外的資金、技術和管理經驗。請問早期在沿海所設立的經濟特區多位於圖十四中何處？  
(A) 甲 (B) 丁 (C) 戊 (D) 壬
34. 《憲法》是國家的根本大法，僅就最基本事項作原則性的規定。下列何者不是《憲法》的規定？  
(A) 人民的基本權利 (B) 五院的組織與職權  
(C) 實施義務教育的細節內容 (D) 人民應盡的義務
35. 關於法律的位階，附表中哪一組的內容，都是屬於狹義定義的“法律”？
- |     |                               |
|-----|-------------------------------|
| (A) | 《國籍法施行細則》、《公益彩券發行條例》          |
| (B) | 《少年矯正學校設置及教育實施通則》、《噪音管制法》     |
| (C) | 《中華民國憲法增修條文》、《社區發展工作綱要》       |
| (D) | 《高級中等學校多元入學招生辦法》、《道路交通管理處罰條例》 |
36. 下列四件事當中，何者的作法最可能是基於《憲法》第二十三條中的「防止妨礙他人自由」的規定？  
(A) 民眾不能隨意畜養危險動物，而影響鄰居的安全  
(B) 《傳染病防治法》規定，可對媒介傳染病之動物予以撲殺、銷毀  
(C) 政府制定《文化資產保護法》對人民私有古蹟的管理、整修有所限制  
(D) 無正當理由而攜帶具殺傷力刀械出入公共場所的民眾，警察可依法處以罰鍰
37. 參政權是指人民有參與政治的權利。下列選項中，那些屬於參政權的內涵？(甲)選舉；(乙)訴訟；(丙)創制；(丁)訴願；(戊)應考試。  
(A) 甲丁戊 (B) 甲乙丙 (C) 甲丙戊 (D) 乙丙戊

38. 目前行政訴訟為「三級二審」制度，政府設有司法機關（普通法院及行政法院），針對人民提起的訴訟依法審判與裁決。當個人權益受損時，得依法提起訴訟，這是屬於《憲法》對於人民哪種權利的保障？  
(A) 自由權 (B) 參政權 (C) 受益權 (D) 平等權
39. 當人民因政府機關的違法或不當處分而權益受損時，有權利向相關單位要求撤銷或變更原處分。上述是屬於下列何種權利？  
(A) 訴訟權 (B) 參政權 (C) 請願權 (D) 訴願權
40. 麗諭整理有關「訴願」、「請願」二者的不同，製作了比較表。請根據內容判斷，下列何者有誤？

項目	(A) 意義	(B) 提起時機	(C) 對象	(D) 舉例
訴願	行政上的 受益權	維護自身的 權益	行政機關	裕昇不服政府認定自己住家為違建，向主管機關要求撤銷或變更該處分。
請願	行政上的 受益權	不當的行政 處分	行政機關或 民意機關	社區的活動中心年久失修，人民向當地的里長陳情，請求重建。

41. 《優惠電價收費辦法》規定，庇護工場、立案社會福利機構及護理之家等團體，總電費會給予 85 折優惠。請問：《優惠電價收費辦法》是由下列哪一個單位依據法律而訂定的？  
(A) 立法院 (B) 制憲國民大會 (C) 經濟部 (D) 司法院
42. 麗影認為自己所屬選區內當選的民意代表，違背了當初競選時所提出的政見，於是發動聯署，提案罷免該位民意代表。上述麗影行使的人民基本權利類型與下列何者最類似？  
(A) 敏邑畢業後就出國留學了  
(B) 當地居民向縣政府要求，在治安死角設置監視器與巡邏箱  
(C) 低收入戶張先生依法申請生活補助金  
(D) 律碩參加醫師考試通過
43. 救護車或消防車在路上鳴笛以及闖紅燈，卻不會受到《道路交通管理處罰條例》的處罰，這是基於哪種理由而制定的法律？  
(A) 防止妨礙他人自由 (B) 避免緊急危難  
(C) 維持社會秩序 (D) 增進公共利益
44. 立法院已經通過《病人自主權利法》，明訂年滿二十歲、心智成熟者，可預立自己病危時的醫療決定。人的生老病死本是自然，末期病人接受插管治療，或可延長壽命，同時也增加痛苦。請問，《病人自主權利法》尊重不同病患擁有選擇「善終」的方式，此法具備的法律功能有哪些？  
(甲)保障人民權利(乙)維護社會秩序(丙)促進社會進步  
(A) 甲乙 (B) 甲丙 (C) 乙丙 (D) 甲乙丙

45. 裕鑫為區別憲法、法律與命令三者，而製作法律位階的表格，根據內容判斷，哪一項編寫正確？

項目	憲法	法律	命令
(A)效力強弱	弱	中	強
(B)公布機關	總統	立法院	行政機關
(C)修改機關	憲法法庭	立法院	行政機關
(D)解釋機關	大法官會議	大法官會議	大法官會議

46. 在法治社會中，政府權力必須受到法律的約束，不能無限擴張，才能保障人民的權利。由上述可知，下列哪項敘述正確？  
(A) 司法機關應依法獨立審判  
(B) 立法機關須依法行政  
(C) 行政機關可不遵守法律規定  
(D) 行政機關依法定程序制定條例
47. 大學剛畢業的馨誼在路上看到一則徵才廣告，回家和長輩討論，根據內容判斷，此徵才廣告已經違反《憲法》保障人民的那些基本權利？  
(A) 平等權、文化權 (B) 生存權、環境權  
(C) 財產權、人格權 (D) 平等權、受益權



48. 憲法保障人民權利，同時也規範人民應盡的義務。下列有關各種人民義務的相關敘述，何者正確？  
(A) 人民有選擇要不要讓學齡兒童受國民教育  
(B) 近年來，政府鼓勵國人志願服役，以期達到全徵兵制  
(C) 人民若未依法納稅，將處以刑事責任  
(D) 若未讓學齡兒童上學，將處以行政責任
49. 我國《憲法》所規定人民應盡的基本義務有三大項，下列四位國民所表現出來的行為，何者是在盡到憲法所規範的義務？

(A) 裕敦



到稅捐稽徵處繳交5萬元房屋稅。

(B) 馨雅



上個月出售給好友怡秀一筆宜蘭的土地。

(C) 裕明



星期六回澎湖老家參加博弈公投的選舉。

(D) 殷綺



上星期正式加入時代力量的政黨組織。

50. 立法院三讀通過的《再生水資源發展條例》，該法第一條明定：「為促進水資源永續利用，推動再生水之開發、供給、使用及管理事項，特制定本條例。」顯然該法希望帶動國人重視地球環境資源的循環與再利用，留給後代更多資源及美好環境。由上述畫線部分來判斷，該條例「最」具備下列何種法律功能？  
(A) 保障人民權利 (B) 促進社會進步  
(C) 促進經濟成長 (D) 維護社會秩序

新北市立新莊國民中學 106 學年度第 2 學期第 1 次段考 8 年級社會領域試題

解答

1	2	3	4	5	6	7	8	9	10
<b>B</b>	<b>B</b>	<b>C</b>	<b>A</b>	<b>C</b>	<b>C</b>	<b>D</b>	<b>B</b>	<b>A</b>	<b>D</b>
11	12	13	14	15	16	17	18	19	20
<b>B</b>	<b>D</b>	<b>A</b>	<b>C</b>	<b>D</b>	<b>B</b>	<b>B</b>	<b>B</b>	<b>A</b>	<b>D</b>
21	22	23	24	25	26	27	28	29	30
<b>C</b>	<b>D</b>	<b>D</b>	<b>B</b>	<b>A</b>	<b>C</b>	<b>C</b>	<b>C</b>	<b>A</b>	<b>D</b>
31	32	33	34	35	36	37	38	39	40
<b>B</b>	<b>A</b>	<b>C</b>	<b>C</b>	<b>B</b>	<b>A</b>	<b>C</b>	<b>C</b>	<b>D</b>	<b>B</b>
41	42	43	44	45	46	47	48	49	50
<b>C</b>	<b>D</b>	<b>B</b>	<b>B</b>	<b>D</b>	<b>A</b>	<b>D</b>	<b>D</b>	<b>A</b>	<b>B</b>