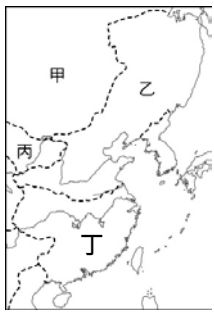


※ 選擇題：本試卷共 50 題，每題 2 分，總分為 100 分。
每一題均為單選題，請選出最適當答案。
※ 請用 2B 鉛筆在答案卡上相應的位置畫記。

1. 2020 年大選國會政黨辯論會在去年 12 月 15 日登場。為了讓民眾更了解各政黨的理念，國內多家傳播媒體共同轉播電視辯論會，希望讓選民藉由各黨代表的理性辯論，了解各政黨理念與各項政策內容，達到深化民主的目的。這次辯論會一共有八個政黨參與，針對經濟、兩岸以及國會改革等議題進行交鋒，包括時代力量、親民黨與綠黨等小黨，申論時都將焦點放在社會福利政策上，讓大選前第一場電視辯論會上，砲火四射。請問：上述內容主要能展現政黨的何種功能？
(A) 匯集民意與服務選民 (B) 提名候選人參與選舉
(C) 組織政府與監督政府 (D) 教育民眾增進民主知能
2. 中央選舉委員會在選舉投票前，拍攝影片呼籲選民不要攜帶手機或任何具照相、錄影功能的器材進入投票所，不然會被處以罰鍰，如果選民是使用攝影器材刺探選舉人圈選選舉票內容，還會被判處有期徒刑、併科罰金，被查獲的攝影器材也會被沒收。請問：上述規定，主要是在落實哪一項選舉原則？
(A) 普通 (B) 平等 (C) 直接 (D) 無記名
3. 周林今年 31 歲，曾擔任多屆市民代表，根據他的政治生涯規畫，他打算角逐此次公職人員選舉，投入地方行政首長的選戰。請問：依照我國目前的選舉法規規定，以及周林的年齡及規劃，他可以參選的公職人員有幾項？
甲：新北市長 乙：基隆市議員 丙：苗栗縣長
丁：羅東鎮長 戊：立法委員
(A) 5 項 (B) 4 項 (C) 3 項 (D) 2 項
4. 我國政黨時常處於競爭狀態，但在過程中仍須遵守政黨政治運作的原則。請問：下列選項何者有誤？
(A) 組織政黨是憲法保障人民的結社自由
(B) 民眾可以根據政黨法的規定組黨，向法務部申請備案設立
(C) 立委為杯葛議事爆發肢體衝突，缺乏理性協商與尊重包容的精神
(D) 選舉期間，散佈選舉黑函打擊對手，違反公平競爭原則
5. 新加坡自西元 1965 年獨立以來，每一屆的國會選舉，人民行動黨都以壓倒性的得票率取得大多數議會席次。2015 年國會大選結果，人民行動黨以將近 70% 的得票率取得國會九成席次。請問：由上述可知，新加坡屬於何種政黨型態的國家？
(A) 一黨專政制 (B) 一黨獨大制
(C) 兩黨制 (D) 多黨制
6. 獅子國是實行政黨政治的民主國家。下表為獅子國西元 2000～2016 年國會選舉結果。請根據資料判斷，獅子國政黨制度的型態與下列哪個國家相同？
(A) 美國 (B) 法國
(C) 北韓 (D) 德國
- | 選舉時間 | 執政黨 |
|------|-----|
| 2000 | 小獅黨 |
| 2004 | 大獅黨 |
| 2008 | 小獅黨 |
| 2012 | 大獅黨 |
| 2016 | 大獅黨 |
7. 相較於政黨，利益團體所表達的意見是為了保障或增進特定群體的利益。請問：下列哪一項活動最有可能是利益團體提出的訴求？
(A) 進行政黨輪替 (B) 穩固對外邦交關係
(C) 打造服務型智慧政府 (D) 提高基本工資與降低職災
8. 我國的選舉制度中規定，除了受監護宣告者外，一般公民只要要在選區設籍期滿，不因其財產、性別、種族、階級均具有選舉權，可參與公職人員的投票。請問：上述符合我國《憲法》的哪一項選舉原則？
(A) 普通 (B) 平等 (C) 直接 (D) 無記名
9. 下列關於我國公民投票的敘述，何者正確？
(A) 參與公民投票的選民必須年滿 20 歲
(B) 選民必須在選區設籍滿 4 個月
(C) 公民投票是決定政府公職人員的選舉
(D) 政府制定公民投票法，是在落實憲法中的創制和複決權

10. 在我國各項公職人員選舉中，候選人的政見常因參選的公職而有所差異。附表是某次公職人員選舉的候選人資料，請根據表中的主要政見判斷，最可能是下列哪一種公職人員的選舉？
(A) 總統 (B) 立法委員 (C) 地方民意代表 (D) 縣(市)長
- | 候選人姓名 | 政見內容 |
|-------|-------------|
| 玲玲 | 舉辦新課綱座談會 |
| 英英 | 推動長照 2.0 制度 |
| 昇昇 | 修改勞動基準法 |
| 良良 | 專業問政監督政府 |
11. 台灣太陽花學運爆發已屆滿五周年，台灣青年以佔領立法院、行政院等方式，表達對馬英九政府的不滿與憤怒。一連串的行動，除了迫使國民黨暫緩通過《服貿協議》外，也喚起台灣青年世代對公共議題的關注及參與。自 2014 年這場持續近一個月的社會運動以降，一群原本政治冷感、不願就公共議題表態的台灣青年，成了社運與政治改革的先鋒。請問：上述青年學子的行為最可能是屬於下列何種概念的展現？
(A) 地方自治 (B) 政治參與
(C) 分權制衡 (D) 均權制度
12. 下表是小螃蟹所整理的政黨與利益團體的比較表，請問：下面有幾項是正確的？
(A) 1 項 (B) 2 項 (C) 3 項 (D) 4 項
- | 選項 | 政黨 | 利益團體 |
|----------|---------|-----------|
| 甲 成員性質 | 同質性高 | 較多元 |
| 乙 參與選舉方式 | 推出候選人參選 | 支持理念相同候選人 |
| 丙 政策面向 | 較單一 | 面向多元 |
| 丁 目的 | 爭取執政 | 影響政府政策 |
| 戊 舉例 | 華山基金會 | 樹黨 |
13. 關於我國公職人員選舉的規定，下列敘述何者正確？
(A) 選舉順序：登記參選→選舉公告→競選活動→投票→開票、計票→當選公告
(B) 投票當日一定要攜帶身分證及印章，才可以進行投票
(C) 被宣告褫奪公權者即喪失投票資格
(D) 受監護宣告者同時喪失選舉權與被選舉權
14. 下列關於 2020 年 1 月 11 日立法委員選舉的敘述，何者有誤？
(A) 任期與連選得連任次數與總統相同
(B) 每個選區僅可選出一位最高票的立法委員
(C) 參選立委的年齡限制與地方民意代表、村(里)長相同
(D) 選民可同時領一張區域立委選票與一張政黨選票
- 題組 1** 右表為兩兩國、心心國、相相國、依依國在最近一次國會選舉後的席次資料。若此四國的政黨制度型態相當穩定，且各國前三大黨在每次國會改選後獲得的席次總和，占總席次的比例皆超過 95%。請根據右表回答第 15~16 題：
- | 國家 | 國會席次 |
|-----|----------------|
| 兩兩國 | 第一大黨獲得 70% 的席次 |
| 心心國 | 第二大黨獲得 42% 的席次 |
| 相相國 | 第三大黨獲得 30% 的席次 |
| 依依國 | 第三大黨獲得 8% 的席次 |
15. 根據表中資料判斷，下列何者的政黨制度型態最可能出現聯合政府？
(A) 兩兩國 (B) 心心國 (C) 相相國 (D) 依依國
16. 承上題，該國政黨制度型態特點何者正確？
(甲) 反映多元民意 (乙) 責任分明 (丙) 權力集中於少數
(丁) 人民的選擇機會較少 (戊) 行政效率低落
(A) 甲丁戊 (B) 乙丁 (C) 乙丙丁 (D) 甲戊
17. 北宋一場對抗外族的戰爭中，皇帝登上前線城樓督戰，結果「諸軍皆呼萬歲，聲聞數十里，氣勢百倍」。最後交戰雙方達成停戰協議，北宋給予對方歲幣以換取和平。請問：關於此場戰役的敘述，下列何者正確？
(A) 交戰雙方是北宋與金國
(B) 皇帝登上的城樓應位於當時的澶州
(C) 親自督戰的皇帝為宋太祖
(D) 盟約簽訂不久，雙方立刻又陷入戰爭狀態

新北市立新莊國民中學 108 學年度第 1 學期第 3 次段考 8 年級社會領域試題卷

18. 宋朝國策為重文輕武，邊境鎮守軍隊幾乎無禦敵能力，長期苦於外患侵擾，士兵人數過多亦使國家財政雪上加霜。請問：關於宋朝外患的比較，下列敘述何者正確？
- (A) 遼國、西夏、金國分別由契丹、党項、女真族所建
 (B) 遼國、西夏、金國均在北宋時亡國
 (C) 北宋以「聯蒙滅遼」的方式對付遼國
 (D) 國家被滅亡的順序是：金國→遼國→西夏
19. 梁啟超說《資治通鑑》是「皇帝教科書」，康熙也曾留下 107 條批註，為了不重蹈覆轍，君王們從歷史事件中借鑑，吸取教訓。那麼康熙皇帝在閱讀時，有哪些事件可以讓他學習？
- (A) 管蔡之亂、齊桓公尊王攘夷、商鞅變法
 (B) 赤壁之戰、永嘉之禍、北魏孝文帝漢化政策
 (C) 玄武門事變、安史之亂、澶淵之盟
 (D) 張居正變法、東林黨爭、明成祖派鄭和下西洋
20. 右圖為十三世紀前後中國的政治形勢，根據此圖，下列敘述何項正確？
- (A) 丙政權到後期遭乙政權所消滅
 (B) 丁政權建立後與甲政權聯合對抗遼國
 (C) 乙政權無法抵禦丁政權的攻擊
 (D) 甲政權實力強大，接連消滅鄰國擴大勢力
- 
21. 鮮卑人所建立的北魏，國勢長達百年，然同為胡人立國的元朝，卻統治不到百年就滅亡，極大原因出在種族政策的實施，請問下列敘述何者「錯誤」？
- (A) 元朝的種族政策下，蒙古人是最高的統治等級
 (B) 居住在廣州的漢族讀書人，屬於漢人等級
 (C) 遠從莫斯科來的商人，屬於色目人等級
 (D) 南人在社會中等級最低，生活備受歧視
22. 小樹歸納「東西方的接觸事件及其影響」，如附表所示，其中哪一項「錯誤」？
- | | 事件 | 影響 |
|---|--------|--------|
| 甲 | 張騫出使西域 | 絲路建立 |
| 乙 | 恒羅斯之役 | 印刷術西傳 |
| 丙 | 蒙古西征 | 火藥西傳 |
| 丁 | 鄭和下西洋 | 明朝聲威遠播 |
- (A) 甲 (B) 乙 (C) 丙 (D) 丁
23. 北宋神宗時期，生活在河南的富弼跑到四川遊玩，下列關於他在四川旅遊時的描述何項正確？
- (A) 上午邊喝茶邊欣賞馬致遠所寫的「曲」
 (B) 下午拿出宋徽宗的花鳥畫複製品臨摹
 (C) 中午拿著交子去正店吃飯
 (D) 晚上逛夜市時肚子餓買了烤番薯來吃
24. 下表是喬喬整理歷史課本中關於「靖難之變」的說明，請問喬喬的整理哪些正確？
- | | | |
|-----|----|-------------------|
| (甲) | 時間 | 發生於明太祖時 |
| (乙) | 原因 | 因削藩引起 |
| (丙) | 性質 | 是骨肉相殘所引起的內亂 |
| (丁) | 結果 | 造成國家滅亡 |
| (戊) | 影響 | 變亂平定後，設立錦衣衛刺探臣民言行 |
- (A) 乙丙 (B) 丙丁 (C) 甲戊 (D) 乙戊
25. 有學者認為明朝和清朝合稱『明清帝國』，可視為是中國歷史上繼秦漢、隋唐之後的第三帝國。關於『明清帝國』的敘述，何者最「不」恰當？
- (A) 明清兩代國勢穩定，美洲農作物傳入，緩和糧食不足問題
 (B) 清朝統治範圍大增，西藏、蒙古、新疆地區納入清朝版圖
 (C) 明清轉換之際，明末李自成引清軍入關，掀起巨變
 (D) 『明清帝國』在大多數時間皆以北京為首都
26. 鑫鑫在研究宋代城市生活，請問最恰當的參考資料是下列何者？
- (A) 宋徽宗的《芙蓉錦雞圖》
 (B) 李時珍的《本草綱目》
 (C) 宋應星的《天工開物》
 (D) 張擇端的《清明上河圖》

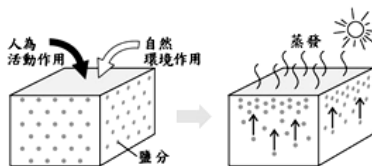
27. 以下是幾位官員談論他們在官場上的經歷：
- 甲：我被人歸為東林黨的一分子，朝中亂政的宦官是我最主要的敵人。
 乙：我是前朝遺臣，新任皇帝雖強迫我薙髮留辮，但其他時間對我還是非常禮遇的。
 丙：我出身科舉，受惠於國策，因此擁有比武官更好的待遇，同僚之間莫不以天下為己任。
- 請問甲、乙、丙談論的各是那一時期的官場情形？
- (A) 甲：元代、乙：明代、丙：宋代
 (B) 甲：明代、乙：元代、丙：清代
 (C) 甲：元代、乙：明代、丙：清代
 (D) 甲：明代、乙：清代、丙：宋代
28. 歷史老師請同學在黑板上寫下中國歷史上宗室之亂的比較表。請問：表中哪一項正確？
- | 亂事名稱 | 朝代 | 結果 |
|----------|----|--------------|
| (甲)管蔡之亂 | 西周 | 周武王平亂，擴大封建 |
| (乙)八王之亂 | 西晉 | 動亂時間長，晉室元氣大傷 |
| (丙)玄武門之變 | 宋 | 李世民登基為帝，年號貞觀 |
| (丁)靖康之變 | 明 | 惠帝失蹤，成祖即位 |
- (A) 甲 (B) 乙 (C) 丙 (D) 丁
29. 在明惠帝時，家住在泉州的阿俊終於考中舉人，趕緊準備盤纏，要接著出發應考「會試」，那阿俊應該前往何處考試？
- (A) 省會：福州 (B) 省會：廣州
 (C) 京城：應天 (D) 京城：北京
30. 有關清朝皇帝在位時局的敘述，何者正確？
- (A) 平定三藩之亂，又平定林爽文事件的是康熙皇帝
 (B) 建國號為金，改族名為滿洲的是皇太極
 (C) 攻取臺灣，將台灣納入版圖的是雍正皇帝
 (D) 清朝的盛世出現在聖祖、世宗、高宗在位時
31. 對於中國各朝代在沿海地區的經營情形，下列敘述何者正確？
- (A) 唐朝與宋朝時期，為有效控管海外貿易，將市舶司設立於洛陽
 (B) 元朝時期在澎湖設置市舶司，將澎湖稅收納入國庫
 (C) 明朝時期，因流寇大肆攻擊東南沿海地區，因而實施海禁政策
 (D) 清朝時期，為了防止沿海居民提供鄭氏政權資源，實施海禁政策
32. 下列有關科舉制度的敘述，何者正確？
- (甲)隋代創立科舉考試
 (乙)宋代科舉考試防弊嚴密，訂有彌封與謄錄規則
 (丙)元代以後，司馬光的《四書集注》成為科舉考試的定本
 (丁)明中期後以八股文取士，充分激發士人創造思考力
 (戊)明清時期經由科舉而取得功名的士人，享有司法特權
- (A) 甲乙戊 (B) 乙丙丁 (C) 丙丁戊 (D) 甲乙丙
33. 有「鍾山龍盤，石頭虎踞」之稱的南京城，歷史上名稱數次更換。請問以下何者「非」其名稱？
- (A) 建康 (B) 應天 (C) 汴京 (D) 建業
34. 下表是子維在地理課時上臺發表的報告，內容為中國三個經濟帶的分析資料，但其中錯誤不少。請問：這份資料哪幾項正確？
- | 經濟帶 | 優勢 | 困境 |
|-----|----------------------|-------------------|
| 東部 | (甲)人口多且密集，交通方便 | (丁)原料缺乏，是經濟開放最晚地區 |
| 中部 | (乙)煤、鐵、石油、水力、森林等資源豐富 | (戊)工資昂貴 |
| 西部 | (丙)海運發達，有利邊境貿易發展 | (己)人口較少，交通不便 |
- (A) 甲、乙、己 (B) 乙、丁、己
 (C) 甲、丙、戊 (D) 丙、丁、戊
35. 礦產資源是一個國家工業發展的基礎。中國煤、鐵、石油主要分布在北部，因此就()區位的條件而言，北部較南部利於重工業發展。上述()裡應該填入：
- (A) 原料 (B) 勞力 (C) 市場 (D) 交通

新北市立新莊國民中學 108 學年度第 1 學期第 3 次段考 8 年級社會領域試題卷

36. 如右圖，來自中國甲、乙、丙、丁四地的農夫，在市集裡聊著自己的農耕生活：
甲農夫：在 (A) 之後，目前這裡成為重要糧食出口區。
乙農夫：受 (B) 影響，我這裡很適合種植經濟作物棉花。
丙農夫：拜 (C) 所賜，一年可收穫三次呢！冬天時可種植生長期短的蔬菜。
丁農夫：生活越來越困苦，(D) 問題嚴重，本來水資源不足的問題更加嚴重了。
上文中空格應填入的答案，何者「正確」？
(A) 圍湖造田 (B) 年、日溫差大
(C) 降雨最多 (D) 河流斷流

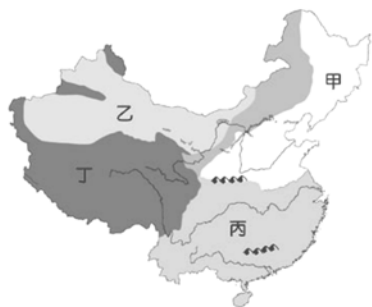


37. 右圖是中國某項環境問題形成過程的示意圖，此問題對於當地農業耕作十分不利。圖中鹽分的移動與下列哪一種人為活動作用最有關係？
(A) 過度放牧 (B) 不當灌溉
(C) 大量施肥 (D) 圍湖造田



38. 中國的南水北調工程，主要的引水方案為何？
(A) 將珠江的水調往黃河
(B) 將長江的水調往黃河
(C) 將黃河的水調往珠江
(D) 將黃河的水調往長江

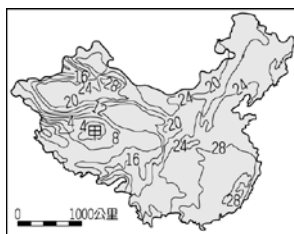
39. 中國各地受自然環境影響，農牧業發展各具特色。請依據右圖中國農牧業分區圖，下列關於各區的農牧業發展敘述，何者「正確」？



- (A) 甲—地狹人稠，盛行放牧
(B) 乙—雨量較多，盛行綠洲農業
(C) 丙—溫暖多雨，收穫次數年可 2-3 次
(D) 丁—盛行水平游牧，牲畜以犏牛為主

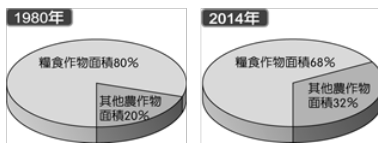
40. 中國提出「西部大開發」政策後，對於廣大西部地區帶來莫大影響。請問：當時中國提出此項政策最主要的目的為何？
(A) 加強邊境國防 (B) 均衡東西經濟差距
(C) 擴大領土範圍 (D) 保存少數民族文化

41. 右圖為中國某季節的氣溫分布圖，由圖中資料判斷，當時在『甲區』進行山牧季移的牧民會處於何種情境中？



- (A) 驅趕牛羊上山
(B) 牛羊在山頂吃草
(C) 驅趕牛羊下山
(D) 牛羊於山腳下避寒

42. 根據中國國家統計局的資料顯示，該國三十多年來的糧食作物栽種面積出現明顯變化，如右圖所示。



- (A) 一胎化政策造成出生率下降
(B) 經濟發展導致市場需求改變
(C) 氣候變遷造成優良耕地沙漠化
(D) 畜牧業放牧面積擴張

43. 近年來因經濟快速成長，中國傳統的農牧業漸漸轉型。請問：下列何者是中國農牧業的轉型現象？

- (A) 朝向自給自足的生產方式為主
(B) 東北地區大量的種植棉花
(C) 新疆地區開始種植咖啡樹
(D) 內蒙古有發展商業性的畜牧業

44. 沙塵暴是中國近年來常見的環境災害之一，請問下列關於沙塵暴的敘述何者錯誤？

- (A) 常發生在炎熱的夏天
(B) 沙源來自中國北方荒漠化土地
(C) 影響範圍包括台灣、日本
(D) 華北地區情況嚴重，北京飽受沙塵之苦

45. 中國與台灣貿易關係緊密，改革開放四十年來，台商前往投資的數量與日俱增，但近年來台商對中國的投資金額卻有下滑的趨勢，請問下列何者不是造成該情況的主要原因？

- (A) 中國工資上揚
(B) 中資企業興起
(C) 台商轉向東南亞投資
(D) 經濟特區增加為六個

題組 2 請根據下述短文回答第 46~48 題：

55 公里長港珠澳大橋 帶動大灣區起飛

一座跨越香港、澳門、珠海三地、長達 55 公里的世紀大橋，即將在年中正式通車。未來這座大橋，將讓廣東省、香港、澳門組成「一小時生活圈」，其中難度極高的「橋—島—隧」工程，更讓全世界看見中國建築工程的超高水準，甚至已被英國《衛報》列為「世界新七大奇觀」。

大橋通車，珠海台商協會會長指出，香港是金融經濟中心，澳門是旅遊中心，珠海將是觀光及物流中心，三個中心結合起來，距離縮短，前景相當廣闊。這座「升級之橋」，預告著粵港澳大灣區未來的騰飛。

※資料來源：遠見雜誌 2018/4

46. 中國為了經濟改革開放，自 1978 年開始在東南沿海設立經濟特區，而珠海即為其中之一，當時其具備的工業發展條件有：(甲)眾多廉價勞力 (乙)擁有豐富煤礦 (丙)原料供應充足 (丁)沿海交通便利 (戊)消費市場廣大。上述哪些條件是正確？

- (A) 甲戊 (B) 乙丙 (C) 丙丁 (D) 甲丁

47. 「港珠澳大橋」將會推動○○○經濟圈城市群中心的南移，○○○為東部經濟帶哪個經濟圈？

- (A) 環渤海 (B) 長三角 (C) 珠三角 (D) 京津唐

48. 珠海雖然是經濟特區，但發展始終落後於深圳有相當的差距，甚至被稱為是澳門的後花園。以文中敘述和右圖相對位置來看，珠海應該位於圖中哪個地區？



- (A) 甲 (B) 乙 (C) 丙 (D) 丁

題組 3 請參考下述短文及下圖回答第 49~50 題：

巴基斯坦的瓜達爾港

在巴基斯坦和中國合作之前，位於印度洋的瓜達爾港是默默無名。然而中國實行「一帶一路」政策之後，為了強化海上絲綢之路，和巴基斯坦簽約租用該港口 43 年。開港之後，中國可串聯阿拉伯海和中國西部的交通，使得從非洲和西亞進口的石油、天然氣可以在瓜達爾港上岸，然後透過中巴鐵路直接運送到中國新疆的喀什經濟特區。

49. 中國與巴基斯坦在這一次的合作中可帶動中國哪一個經濟帶的發展？

- (A) 北部經濟帶
(B) 東部經濟帶
(C) 中部經濟帶
(D) 西部經濟帶



50. 喀什具有『五口通八國，一路連歐亞』獨特區位優勢，藉由鐵路的延伸，並在『一帶一路』政策下可將中國的貿易延伸到許多地區，但不包括下列何者？

- (A) 中亞 (B) 北美洲 (C) 歐洲 (D) 非洲

新北市立新莊國民中學 108 學年度第 1 學期第 3 次段考 8 年級社會領域試題
解答

1	2	3	4	5	6	7	8	9	10
D	D	C	B	B	A	D	A	D	B
11	12	13	14	15	16	17	18	19	20
B	B	D	A	C	D	B	A	B	D
21	22	23	24	25	26	27	28	29	30
B	B	C	A	C	D	D	B	C	D
31	32	33	34	35	36	37	38	39	40
D	A	C	A	A	D	B	B	C	B
41	42	43	44	45	46	47	48	49	50
B	B	D	A	D	D	C	A	D	B