

※ 選擇題：本試卷共 50 題，每題 2 分，總分為 100 分。  
每一題均為單選題，請選出最適當答案。

1. 下表呈現某帝國的形勢演變，此帝國最可能是下列何者？

- (A) 鄂圖曼土耳其帝國 (B) 拜占庭帝國  
(C) 神聖羅馬帝國 (D) 俄羅斯帝國

時間	形勢演變
十三世紀	興起於安納托利亞高原
十六世紀	掌控巴爾幹半島，邁向全盛時期
十九世紀	因俄國、英國、法國的侵略而衰弱
二十世紀	第一次世界大戰戰敗，帝國瓦解
一戰後	在凱末爾的帶領下走向現代化

2. 安德烈的祖國在 1939 年遭德國、蘇聯攻陷，他因此參與地下反抗組織，並趁德軍搜捕罪犯時，混入隊伍，故意被送進納粹在他的祖國內成立的集中營，設法將內部消息傳遞出去，這些資料使盟國更加認識集中營的情況。1943 年，安德烈從集中營逃出，繼續反抗德軍。大戰結束，他回到祖國生活，幾年後因反對當時操控自己國家的外國勢力而被處死。直到 1990 年代，安德烈才得到平反，成為該國的英雄人物。請問：上文中安德烈能獲得平反，最可能與下列何者有關？

- (A) 法西斯黨勢力的衰微 (B) 「第三世界」的興起  
(C) 歐洲共產政權的瓦解 (D) 歐洲經濟共同體的建立

3. 「1991 年 8 月 19 日，保守派政治家和軍人趁 (甲) 在克里米亞度假時發動政變，他被軟禁了三天，被釋放後發現他的聲望已被時任俄羅斯共和國總統 (乙) 蓋過，(乙) 已取代 (甲) 成為全國的領袖。1991 年 12 月 25 日獨立國家國協成立後，(甲) 被迫宣布辭職，蘇聯正式解體。」請問：(甲) 應該是下列哪一位？

- (A) 列寧 (B) 戈巴契夫 (C) 葉爾欽 (D) 史達林

4. 下圖中甲、乙、丙三張照片，分別與某戰爭中的三個重要事件有關，若依這些事件發生的時間先後順序排列，下列何者正確？

- (A) 乙甲丙 (B) 丙乙甲 (C) 丙甲乙 (D) 乙丙甲



5. 下列是在第一次世界大戰後，受到民族自決思潮影響的亞洲民族復興運動，請選出配對錯誤者。

- (A) 台灣－林獻堂－台灣議會設置請願運動  
(B) 土耳其－凱末爾－現代化運動  
(C) 朝鮮－漢城三一運動  
(D) 印尼－甘地－不合作運動

6. 1955 年，亞洲、非洲許多國家在印尼召開會議，主張促進亞、非國家之間的友好合作；1960 年代，印度、埃及等國發起「不結盟運動」，參與國家強調獨立自主和不與美、蘇強權結盟。上述會議與不結盟運動，最可能反映出下列何者？

- (A) 聯合國的成立 (B) 第三世界的興起  
(C) 共產世界的瓦解 (D) 九一一事件的影響

7. 哈桑的家鄉自十七世紀以來長期受荷蘭殖民，從醫科學校畢業後，他即前往荷蘭深造，並積極參與反荷蘭統治、支持家鄉獨立的政治運動。第一次世界大戰後，西班牙的社會主義者掌控了政府。1936 年，主張反共的西班牙法西斯黨人發動奪權，企圖推翻政府，並得到二個同樣反共的極權統治國家的軍事援助；哈桑和許多國際志願軍因同情西班牙政府，則加入了反法西斯陣營，投身於西班牙內戰，擔任國際志願軍的隨隊醫生貢獻心力。之後，哈桑轉往中國，參與對日作戰。第二次世界大戰結束後，他繼續留在中國，參與聯合國善後救濟總署，協助中國重建。哈桑一生獻身於革命，以超越種族與國籍的行動，追求個人崇高的理想。

請問：上文提及有兩個反共的極權統治國家的軍事援助西班牙的法西斯黨人，此二個國家最可能是下列何者？

- (A) 德國、義大利 (B) 日本、蘇聯  
(C) 蘇聯、德國 (D) 美國、英國

8. 某人於 1925 年出版一部自傳（如右圖），講述其生活經歷及世界觀，核心思想為主張德國與奧地利合併，及對猶太人的仇視。此書在當時德國引起了巨大回響。請問：下列何者「並非」某人<sup>1</sup>之作為？



- (A) 支持共產黨在德國活動 (B) 撕毀〈凡爾賽條約〉  
(C) 重整軍備、對外侵略 (D) 領導納粹黨取得政權

9. 「第二次世界大戰的時間是 (甲) 1939 年至 1945 年，爆發的導火線主要是 (乙) 德侵捷克，兩大陣營是 (丙) 同盟國與軸心國，1941 年是戰局的轉捩點，這年因 (丁) 珍珠港事變爆發，造成 (戊) 蘇聯參戰，局勢因而扭轉，最後大戰由 (己) 同盟國獲勝。」上面有關第二次世界大戰的敘述，何者錯誤？

- (A) 甲戊 (B) 乙丙 (C) 乙戊 (D) 丙丁


10. 在 1947 年，歐洲某城市中，有位居住在英國占領區的居民一大早先通過檢哨站，到蘇聯占領區上班。下班後，經常要繞到美國占領區購買日常生活用品，然後再搭車回家。上述此人的生活狀況，最有可能出現在下列哪一座城市？

- (A) 莫斯科 (B) 倫敦 (C) 巴黎 (D) 柏林

11. 下列關於世界各地變化情形的敘述何者並不屬於「戰間期」之描述？

- (A) 經濟大恐慌從美國蔓延至全世界，造成失業人數遽增  
(B) 日本發動九一八事變侵略中國東北  
(C) 義大利經濟低迷，社會動盪，因此有野心家趁機進行獨裁統治  
(D) 俄國發生十月革命，建立共產政權

12. 下圖描繪 20 世紀某時期人類面臨的重大困難。請問關於下圖，下列敘述何者正確？



- (A) 歐美各國競相降低關稅，因而形成「關稅壁壘」  
(B) 最後導致股價急速上漲，投資人瘋狂投入股市  
(C) 凱因斯的理論被用來解決經濟問題  
(D) 各國商品生產不足，造成供需失衡



13. 珉豪將第二次世界大戰時重要的會議整理成下方表格，但是泰民在其中找到有一個欄位需要修正。請問：珉豪將哪一個欄位的資料寫錯了？

(A) 甲 (B) 乙 (C) 丙 (D) 丁

會議	開羅會議	雅爾達會議
【甲】參與國	中、美、英	美、英、蘇
【乙】重要決議	日本需將臺灣、澎湖、東北歸還給中華民國，解除對中國的不平等條約	戰後蘇聯接收東歐部分地區；犧牲中國東北權益，以換取蘇聯對德國宣戰
【丙】時間	1943 年	1945 年
【丁】影響	提高了中國的地位	戰後共產勢力大增

14. 關於國際聯盟與聯合國的比較下列何者錯誤？

(A) 甲 (B) 乙 (C) 丙 (D) 丁

	國際聯盟	聯合國
【甲】時間	第一次世界大戰後	第二次世界大戰後
【乙】倡導者	羅斯福	威爾遜
【丙】總部	瑞士日內瓦	美國紐約
【丁】制裁侵略	無武力制裁	安理會可用軍事制裁

15. 上課時老師要同學說明韓戰的發生經過，請問：下列哪些同學的說法正確？

泰亨：韓戰發生的時間是從 1954~1975 年  
枉國：韓戰爆發後美國派第七艦隊協防台灣  
碩珍：韓戰結束後，韓國分裂為南、北韓，兩國以北緯 30 度線為界  
智旻：韓戰是北韓軍隊加上中共的志願軍對上以美軍為首的聯合國部隊之區域性戰爭

(A) 泰亨、碩珍 (B) 泰亨、枉國  
(C) 枉國、智旻 (D) 智旻、碩珍

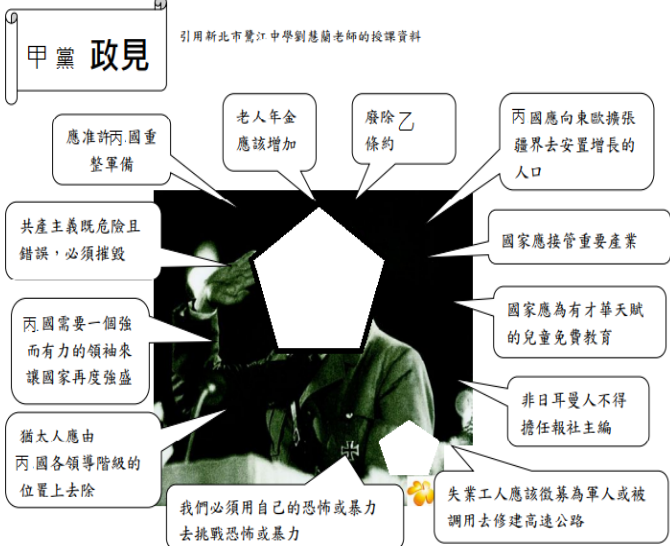
16. 英國已經在 2017 年 3 月 28 日，由首相德雷莎·梅伊(Theresa May)簽署六頁長的通知信知會□□，英國決定按照《里斯本條約》第 50 條，啟動脫離□□程序。3 月 29 日，由英國駐□□大使巴羅(Tim Barrow)，親手交與歐洲理事會主席圖斯克(Donald Tusk)。請問上述□□指的是下列哪一個區域統合組織？

(A) (B) (C) (D)



17. 下圖為丙國選舉時甲黨黨主席的政見內容，請根據政見內容推測甲黨黨主席是誰？

(A) 墨索里尼 (B) 列寧 (C) 史達林 (D) 希特勒



18. 若想形成全球相關連、天涯若比鄰的地球村，並達成將時間、空間距離對人類生活的限制降至最低的全球化目標，請問其需具備的先決條件是下列何者？

(A) 交通革新 (B) 教育優先 (C) 政策配合 (D) 能源充足

19. 從「市場經濟」的觀點來看全球化，現階段全球市場主要的參與者與支配者是何者？

(A) 本土商社 (B) 國家政府 (C) 跨國企業 (D) 第三世界

20. 正於中南美洲肆虐的茲卡病毒乃熱帶黃熱病的一種，除了可能使一般感染者併發神經系統疾病，孕婦感染者甚至可能產出畸形小頭症嬰孩，此病毒主要由熱帶病媒蚊叮咬而傳染擴散，在現今面臨全球暖化問題的當下，請問此病毒可能會如何擴散？

(A) 由低緯度擴張至高緯度 (B) 由農業區擴張至工業區  
(C) 由高海拔擴張至低海拔 (D) 由東半球擴張至西半球

21. 「近日政府決議重啟新北市的深澳燃煤發電廠，以達成穩定供電與逐步廢核的目標，更重申使用的是『乾淨的煤』(clean coal)，選用高效能、低硫、低汞、低氮的煤，再用超超臨界設備及最新除汙設備，讓排放空汙水準接近天然氣。」請問若是重啟燃煤廠後，當地居民可能遇到下列何種情形？

(A) 空汙指數在燃煤廠運作後逐漸下降  
(B) 鄰近房價因供電穩定而漲價不少  
(C) CO<sub>2</sub> 濃度飆高且過敏機率提升  
(D) 周邊賣場除濕機銷售額攀高

22. 全球化世代的來臨使得國與國、人與人的接觸愈來愈頻繁，自由貿易原則更促使各國家經濟往來愈來愈緊密，請問在現今講求「打破國界、自由貿易」的國際社會中，下列敘述何者不符合全球化的現象？

(A) 中國：推動一帶一路計畫擴張自己的經濟影響力  
(B) 美國：透過國際分工體系，美式企業快速擴張各國  
(C) 土耳其：針對進口減壓閥等產品，提高關稅至 5%~30%  
(D) 象牙海岸：依靠出口可可為收入，與富國間貧富差距擴大

23. 目前世界大部分的貿易和海外投資仍發生在三大特定區之間，即所謂「三極地區」，彼此之間既競爭又合作，請問下列哪一地區不包括在內？

(A) 北美 (B) 非洲 (C) 歐盟 (D) 東亞

24. 通訊媒體的發達造就出許多新創產業，近來直播平台的蓬勃成長更是其中翹楚，拿起手機就可成為直播主，人人都可成網紅的特性，更是吸引龐大年輕人前仆後繼的投入，請問下列何者並非直播的特性？

(A) 直接交談的互動性 (B) 實況轉播的即時性  
(C) 個性展現的趣味性 (D) 固定空間的拘限性

25. 針對全球環境議題「全球暖化」的研究與理論十分多樣豐富，請問下列敘述中何者並非造成地球升溫的原因？

(A) 工業發展多使用石化燃料為主要能源  
(B) 開發自動駕駛車輛成為代步交通工具  
(C) 牧場飼養大量牛羊牲畜排放過多甲烷  
(D) 因土地需求過度砍伐熱帶雨林與森林



新北市立新莊國民中學 106 學年度第 2 學期第 2 次段考 9 年級社會領域試題卷  
班 座號 姓名

26. 全球暖化現象若持續加劇，在不考慮其他因素下，請問下列哪些地理界線最有可能發生改變？

(甲)高山雪線的海拔高度上移 (乙)高山森林與草原的界線海拔高度下移 (丙)稻米與小麥的界線向低緯度移動 (丁)葡萄、橄欖栽種界線向高緯度移動

(A) 甲乙 (B) 甲丙 (C) 甲丁 (D) 乙丁

27. 「奧地利日前跟隨著法國和比利時等國家的腳步，從 2017 年 10 月 1 日起立法禁止國內人民以面具或面紗蓋住臉，首當其衝影響的就是信仰○○○宗教的女性，帶著槍的武裝警察在街上被拍到強制要求女性拿掉面紗，此舉引發人權團體和民眾的抗議，許多人戴著面具上街，凸顯該規定的荒唐。」根據上述文化衝突實例，請問最受該規定衝擊的宗教為何？

(A) 基督教 (B) 印度教 (C) 藏傳佛教 (D) 伊斯蘭教

28. 「世界各國的產業變化多由早期的農業經濟時代，過渡至工業經濟時代，現今更逐步轉型至知識經濟時代，在世界經濟增長主要依賴於知識的生產、擴散和應用的背景下，知識經濟時代的來臨，創造力就是經濟力。」，請問上文所述代表著下列何項區位因素愈來愈受重視？

(A) 勞工區位 (B) 市場區位 (C) 原料區位 (D) 交通區位

29. 現今全球事務持續的密切連結，連鎖效應愈形明顯，《今日美國報》(USA Today)更在 1998 年底對全球經濟市場作出一針見血的評論：「問題從一個大陸蔓延到另一個大陸，就像病毒一樣。」請問可能是指下列哪一問題？

(A) 大型國家的競爭 (B) 全球金融的危機  
(C) 跨國企業的擴張 (D) 殖民主義的侵略

30. 兩極地區乃地表氣候最嚴寒之區，成為又乾又冷的寒漠，請問隨著目前全球環境變遷的趨勢，下列哪一組合是其可能遭遇的狀況？

(甲)永凍土消融 (乙)沙漠化明顯 (丙)物種滅絕 (丁)海上航道出現 (戊)海平面上升 (己)土壤鹽鹼化加劇 (庚)臭氧濃度改變 (辛)水資源缺乏

(A) 甲丙丁辛 (B) 甲丁戊庚 (C) 乙丙己辛 (D) 丙戊己庚


31. 所謂經濟全球化，是指商品、服務、資訊、生產要素等的跨國界流動的規模與形式不斷增加，通過國際分工，在世界範圍內提高資源配置的效率，從而使各國間經濟相互依賴程度日益加深的趨勢。在二十世紀最後十年，全球化過程大大加速，其中一個重要原因是何者？

(A) 歐美經濟強國內需市場的帶動  
(B) 中國扮演著世界工廠角色  
(C) 各國服務業快速的發展  
(D) 資訊技術的飛速發展

32. 「美國《地球物理研究通訊》期刊於 2018 年一月發表的最新研究顯示，根據美國國家航太總署(NASA)衛星觀測，自 2005 年至 2016 年間，南極上空的臭氧層消耗率減少約 20%，意味著破洞正逐漸縮小。此為科學界首度證實，臭氧層修復是因為自 1987 年「OO」合約禁用「XX」物質奏效所致。」請根據上述新聞所言，填入適切的「OO」合約與「XX」物質為何？

(A) 巴黎協議；石油  
(B) 哥本哈根協議；煤礦  
(C) 京都議定書；二氧化碳  
(D) 蒙特婁議定書；氟氯碳化物

33. 請參考下圖中許多國際性與區域性經濟組織的標誌，選出臺灣參與的組織有哪些？



(A) 丙庚 (B) 甲乙壬 (C) 丁己庚辛 (D) 乙丙戊己庚

34. 以色列與巴勒斯坦因為種族的對立與領土的爭奪，經常爆發軍事流血衝突。今年 4 月因為數萬名巴勒斯坦人進行大型示威，示威者在以色列邊界與以軍爆發衝突，巴人官員宣稱至少 16 名巴人死亡，逾 1400 人受傷。此事件為 2014 年加薩戰爭後，以巴暴力衝突單日死傷最慘重的一次。請問:上述是國際社會的哪一種互動模式？

(A) 國際合作 (B) 國際交流 (C) 國際援助 (D) 國際衝突

35. 南極洲在過去 60 年來平均溫度上升了 3.2 度是全球平均值的 3 倍，海水溫度上升也讓冰山融化速度變快，而各國在當地大量捕撈磷蝦也剝奪了動物的食物來源，更可能造成不可逆的傷害。為了喚起各界對環境保護的意識，某國際組織在南極洲積極進行抗議活動，希望能保護這世界上最原始寶貴的南極冰川。請問:上文中的國際組織最有可能為？

(A) 聯合國 (B) 國際原子能總署  
(C) 國際綠色和平組織 (D) 國際世界展望會

36. 報載:近 3 年光歐洲地區就有逾 700 名台籍詐欺犯落網，儘管歐盟表示不會影響我國免簽證待遇，刑事局強調，仍會持續與各國警方合作打詐，今年 9 月將邀各國代表來台研商打擊詐欺犯罪，未來更可望在歐洲、澳洲等地派駐警察聯絡官，強化跨境合作打詐與查緝能量。請問:上述內容與哪一項全球性議題有關？

(A) 人權議題 (B) 環境議題  
(C) 國際犯罪議題 (D) 恐怖活動議題

37. 承上題，□□□□成立使命即是促使各國在預防和打擊犯罪方面進行合作。請問：□□□□所指的是哪一個國際組織？

(A) ICPO (B) ASEAN (C) ICBL (D) APEC

38. 新莊國中校園櫥窗公佈欄貼有「兩公約」的宣傳海報，它是國際社會重要的人權法典。在「兩公約」法條內提及「人人皆有生存權，應受法律保障，不得無理剝奪任何人的生命」。請問:「兩公約」所重視的人權議題與下列哪一個國際組織相同？

(A) 國際綠色和平組織 (B) 世界衛生組織  
(C) 聯合國教科文組織 (D) 國際特赦組織

39. 全球速食大老麥當勞立下目標，稱在 2025 年以前，全球分店使用的所有包裝都將要避免使用塑膠成分，所有像是提袋、吸管、食品包裝以及杯子，都要使用可回收或是可再生的材質。請問:麥當勞的作法，是致力於改善何項全球議題？

(A) 人權議題 (B) 環境議題  
(C) 國際犯罪議題 (D) 恐怖活動議題

40. 世界衛生組織將 4 月 7 日訂為世界衛生日，今年所關注的主題是推動「全民健康覆蓋」，衛生福利部及健保署為與國際同步響應，在台北市大安森林公園舉辦「世界衛生日健康大步走」健走活動，與民眾一同為健康而走！請問：關於世界衛生組織的說明，下列選項何者正確？

(甲)	區域性官方組織
(乙)	全球性非政府組織
(丙)	致力於世界衛生保健及疾病防疫工作
(丁)	 旗幟

- (A) 甲丙 (B) 乙丙丁 (C) 丙丁 (D) 丙
41. 學校升旗集會時，學務主任呼籲同學要培養世界公民的國際觀，對於國際事務不能置身事外。請問：下列何人的行為較符合世界公民的表現？
- (A) 國龍 每天準時收看外國影集  
(B) 逢太 隨時關注國內政經情勢  
(C) 崇隆 定期捐款救助非洲貧童  
(D) 稚齡 旅行各地，吃遍異國美食
42. 近年來非政府組織不但在數量上急速成長，重要性也逐漸提高。請問：下列關於非政府組織的敘述，何者錯誤？
- (A) 主要由民間團體或人民組成  
(B) 關注議題包含人權、環境、濟貧  
(C) 比政府組織更具強制力  
(D) 獨立於政府之外的組織，不具官方身分
43. 泰國國際書展臺灣館於今年 3 月在曼谷舉辦開幕儀式，由臺灣傳統藝術表演的最佳代言「九天民俗技藝團」擊響磅礴戰鼓迎接臺灣館的開幕，再由臺灣歷史悠久的「國立臺灣交響樂團」演奏蘭陽舞曲拉開臺灣館開幕序幕。請問：上述是國際社會的哪一種互動模式？
- (A) 國際合作 (B) 國際交流 (C) 國際援助 (D) 國際衝突
44. 我國退出聯合國後，採取務實外交，積極參與國際事務、拓展國際生存空間。請問：目前我國政府在外交上的成果，下列選項何者正確？
- (A) 以台灣的名義加入 APEC  
(B) 以中華台北名義加入 WTO  
(C) 以中華台北名義加入 WHO  
(D) 曾以中華台北名義獲邀出席 WHA
45. 歡歡去超市採買食品時，選購了一罐非洲地區生產的有機可可粉，她發現包裝外頭印有右邊的圖示，立即上網查詢資料。請問：下列敘述何者最不可能顯示在網頁中？
- (A) 該商品獲得國際公平貿易標籤組織認證  
(B) 購買此項商品，有助解決全球貧富差距問題  
(C) 推動商品認證，有助於跨國企業降低生產成本，增加利潤  
(D) 消費者可以享受到較高品質的產品
46. 世界展望會發起第 29 屆飢餓三十人道救援行動「飢餓不再 救是現在」，計畫要募集新台幣 2 億 5 千萬元投入國外緊急糧食救援、難民兒童保護與國內特殊家庭生活扶助等資助計畫。請問：下列哪一個國際組織的類型，與世界展望會相同？
- (A) 國際奧林匹克委員會 (B) 歐洲聯盟  
(C) 世界貿易組織 (D) 東南亞國協



47. 國際合作發展基金會為了協助我國友邦尼加拉瓜提升菜豆優良種子產量及研發新品種，自 105 年起與該國共同執行「尼加拉瓜菜豆種子研究發展與生產推廣計畫」，透過能力建構方式，協助尼國改良菜豆種子，從源頭來提高菜豆生產效率，並積極協助尼國純化及培育適合尼國市場與環境之菜豆品系，因此深受尼國政府與人民高度支持。請問：上述是國際社會的哪一種互動模式？
- (A) 國際合作 (B) 國際交流 (C) 國際援助 (D) 國際衝突
48. 響應 2018 世界地球日，台灣環境資訊協會邀請台灣各界共同舉辦各項環保行動響應，並發起連署支持環保署落實「2030 全面禁用吸管、飲料杯、購物袋、免洗餐具等塑膠製品」政策，減少塑膠垃圾的危害，保護森林，海洋和濕地。請問：下列 4 名國中生日常生活作法，何者不符合環保標準？
- (A) 戴戴 喝飲料自備不鏽鋼吸管、環保杯  
(B) 君君 三餐盡量選擇蔬食，少吃肉品  
(C) 嘉嘉 將冷氣溫度調高，家中裝設窗簾遮陽  
(D) 婷婷 經常使用一次性塑膠製品，方便又衛生
49. 因為看見全球糧食短缺，為救援糧荒下飢餓兒童，雲林縣揚子高中連續 8 年響應「飢餓三十」人道救援行動，今年有 330 名學生體驗飢餓 12 小時，並捐出當日午餐費共 3 萬 3000 元，以實際行動幫助貧苦兒童。請問：參與飢餓活動的揚子高中學生行為最足以展現世界公民的哪一項責任？
- (A) 關心國際情勢變化 (B) 付出實際行動  
(C) 展現國民外交 (D) 重視永續發展
50. 下表為 噹噹 在上課時所整理的「NGO 國際組織筆記」。請問：表中內容何者有誤？

國際組織	成立宗旨
(A) 國際原子能總署	推動裁減核武及軍事裝備、促進核能和平使用。
(B) 無國界醫生組織	提供受戰爭影響的人民醫療和物資的援助。
(C) 國際反地雷組織	削減地雷的製造與使用。
(D) 國際紅十字會	提供醫療援助及人道救援。

新北市立新莊國民中學 106 學年度第 2 學期第 2 次段考 9 年級社會領域試題

解答

1	2	3	4	5	6	7	8	9	10
<b>A</b>	<b>C</b>	<b>B</b>	<b>D</b>	<b>D</b>	<b>B</b>	<b>A</b>	<b>A</b>	<b>C</b>	<b>D</b>
11	12	13	14	15	16	17	18	19	20
<b>D</b>	<b>C</b>	<b>B</b>	<b>B</b>	<b>C</b>	<b>A</b>	<b>D</b>	<b>A</b>	<b>C</b>	<b>A</b>
21	22	23	24	25	26	27	28	29	30
<b>C</b>	<b>C</b>	<b>B</b>	<b>D</b>	<b>B</b>	<b>C</b>	<b>D</b>	<b>A</b>	<b>B</b>	<b>B</b>
31	32	33	34	35	36	37	38	39	40
<b>D</b>	<b>D</b>	<b>A</b>	<b>D</b>	<b>C</b>	<b>C</b>	<b>A</b>	<b>D</b>	<b>B</b>	<b>C</b>
41	42	43	44	45	46	47	48	49	50
<b>C</b>	<b>C</b>	<b>B</b>	<b>D</b>	<b>C</b>	<b>A</b>	<b>C</b>	<b>D</b>	<b>B</b>	<b>A</b>