

新北市立新莊國民中學 106 學年度第 2 學期第 2 次段考 8 年級社會領域試題卷
班 座號 姓名

※ 選擇題：本試卷共 50 題，每題 2 分，總分為 100 分。
每一題均為單選題，請選出最適當答案。

1. 清末列強欺壓，當時的大清帝國瀕臨亡國危機，故鄒容主張：「革命者，天演之公例也，……爭存爭亡過渡時代之要義也；革命者，由野蠻而進文明者也；……除奴隸而為主入者也。」請問支持上述觀點的人，最可能參與下列那一行動？
(A) 自強運動 (B) 武昌起義
(C) 百日維新 (D) 立憲運動

2. 請問，下列哪一事件不是發生在清光緒 31 年(西元 1905 年)？
(A) 日俄戰爭，日本戰勝俄國
(B) 廢除科舉考試制度
(C) 中國革命同盟會成立於東京
(D) 門戶開放政策


3. 由於鴉片戰爭以來列強對中國的侵略，陸續簽訂不平等條約與放棄藩屬國，使得朝野仇外的情緒益發高漲【如右-打鬼燒書圖】，最後由掌權的老佛爺向列強宣戰。但是，在某一區域的地方督撫卻與上海各國領事協議，雙方約定「剿拳匪，保教民，護商業」。請問，上述情況的出現與下列何者有關？



- (A) 義和團事變 (B) 辛亥革命
(C) 保路運動 (D) 君主立憲
4. 下列關於曾經學習過的中國歷史事件：「牡丹社事件」、「甲午戰爭」、「三國干涉還遼」、「立憲運動」、「五九國恥」、「五四運動」等，都與哪一個國家有關係？
(A) 英國 (B) 俄國 (C) 日本 (D) 朝鮮

5. 請問，中國各朝代曾經以「南京」為首都的有下列哪些？
(甲) 東漢 (乙) 六朝 (丙) 唐朝 (丁) 元朝 (戊) 太平天國 (己) 中華民國
(A) 甲乙丁 (B) 乙戊己 (C) 乙丙戊 (D) 甲丁己

6. 右圖是張戎女士所著《慈禧》一書。書內介紹慈禧從低等嬪妃成為全球三分之一人口的統治者，並帶領中國開啟現代化，而且下令廢除折磨女性的「三寸金蓮」；上述對於慈禧原本頑固守舊又殘忍的形象是如此不同！更何況，她竟然主動與八國宣戰，讓當時八國聯軍直攻首都，濫殺人民與劫掠中國文物，更被迫簽訂下列哪一喪權辱國條約？
(A) 庚子和約 (B) 戊戌條約 (C) 乙未條約 (D) 辛丑和約




7. 林覺民烈士(西元 1887-1911)，宣統三年參與廣州起義前夕曾寫了一封「與妻訣別書」，他的遺書所言：「犧牲吾身與汝身之福利，為天下人謀永福也。」在那動盪的中國，這份情操足以驚天地，泣鬼神。請問，當時林覺民烈士是參加了孫中山哪一個推翻滿清的組織？
(A) 同盟會 (B) 國民黨
(C) 中華革命黨 (D) 中國國民黨

8. 中華民國以民主共和國立國，但是民主共和體制卻遭到兩次恢復帝制被破壞。請問，下列兩次恢復帝制的整理表格中，哪些選項才是正確的？

	第一次恢復帝制	第二次恢復帝制
時 間	(甲) 民國 4 年	民國 6 年
人 物	(乙) <u>袁世凱</u>	(丙) <u>溥儀</u>
背 景	<u>袁世凱</u> 有擴權稱帝的企圖	(丁) 辦子軍 <u>曹錕</u> 趁黎段之爭擁立 <u>溥儀</u> 復辟
結 果	眾叛親離， <u>袁世凱</u> 憂憤而死	(戊) 被 <u>段祺瑞</u> 以武力推翻

- (A) 甲乙丁 (B) 乙丁戊 (C) 乙丙戊 (D) 甲丁戊
9. (甲) 東漢末年群雄割據、(乙) 唐朝末年藩鎮割據、(丙) 明朝末年流寇之亂、(丁) 清朝初立三藩之亂、(戊) 民國初建軍閥爭戰。請問，以上選項中，哪些符合中央政府權力式微，地方軍人不效忠，反而各爭天下？
(A) 丙丁戊 (B) 甲乙戊 (C) 甲丙丁 (D) 乙丁戊
10. 民國初立，政局持續動盪不安，請按照下列史實發生先後順序排列：(甲)第一次世界大戰爆發(乙)五九國恥(丙)五四運動(丁)中國共產黨成立(戊)洪憲帝制(己)二次革命。
(A) 己甲乙戊丙丁 (B) 己乙丙丁甲戊
(C) 甲乙丙丁戊己 (D) 甲己乙戊丙丁
11. 2018 年 11 月 24 日國內又將舉辦九合一選舉，目前各黨內初選已陸續啟動；關於國內各項選舉的激烈競爭，都會不時爆出賄選買票的新聞，所謂的樁腳與各派系鬥爭時有所聞。在民國 12 年就有某人為了當選總統，以每票五千元到一萬元代價，賄賂國會議員，收賄的議員和國會被譏為「豬仔議員」和「豬仔國會」。針對此事，請問下列何者正確？
(A) 行賄者-孫傳芳
(B) 因為此事結束南北分裂
(C) 行賄之人為直系將領
(D) 行賄者當時控制的是南京政府

12. 魯迅《狂人日記》揭露中國封建社會裡的家族制度和禮教的毒害，指出中國歷史每頁都寫著「仁義道德」，可是字縫裡卻都寫著「吃人」兩個字。從上述可以知道魯迅是在批評下列何者？
(A) 科學精神 (B) 儒家思想
(C) 民主思想 (D) 共產主義



13. 各朝歷史人民為了爭取更好的生活，都會出現重要的反抗行動，且有一個簡潔明瞭的口號，更是可以聚集認同群眾的向心力。請問清末山東出現的義和拳提出什麼口號，成為當時仇洋反教的要角？
- (A) 扶清滅洋 (B) 反清復明
(C) 驅逐達虜 (D) 創立民國

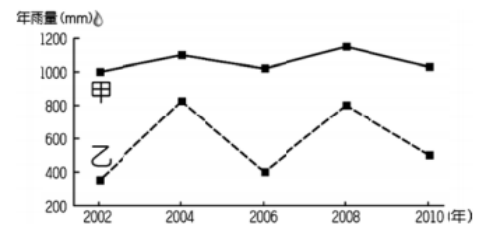
題組一 民國初年發生「五四運動」，是學生發起救亡圖存的愛國運動，除了促成各階層的覺醒，也加深了民眾的愛國意識。請回答第 14、15 題：

14. 請問，當時學生的訴求不包括哪一項？
- (A) 收回山東權益 (B) 外爭主權，內除國賊
(C) 廢除二十一條 (D) 變法維新，恢復中華
15. 請問，會發生「五四運動」的主因是因為哪一事件？
- (A) 段祺瑞掌權違法，參加第一次世界大戰
(B) 抗議蔡元培先生擔任北京大學校長
(C) 巴黎和會允許日本繼承德國在山東權益
(D) 袁世凱廢止臨時約法，開始醞釀帝制活動
16. 中國通商口岸是西方傳播近代文明的窗口，雖然自鴉片戰後陸續被迫開放，可是卻加速了中國現代化的腳步，也影響到當時人民的生活。下列有關清末民初的社會變遷，何者敘述錯誤？
- (A) 主張男女平等、女子放足，興辦女子學堂
(B) 新知識份子逐漸取代士紳，扮演傳播新知識角色
(C) 上海引進自來水、電燈、電話、電車等新式器物
(D) 婚姻還是遵照父母之命，媒妁之言成家
17. 陳獨秀主編新青年，揭開新文化運動序幕，此時期的新知識份子大力提倡西方流行學說，如：「德先生」與「賽先生」；儒學不再獨尊，學術思想又再度呈現百家爭鳴的局面。請問上述「德先生」與「賽先生」是指下列何者？
- (A) 民主；科學 (B) 民族；科學
(C) 民主；理性 (D) 民族；理性
18. 自二十世紀後期，黃河入海年輸砂量不斷地減少，目前已遠低於 16 億噸的歷史平均值，請問造成此一現象的原因可能為何？
- (A) 黃河流域的暴雨次數減少
(B) 下游地區廣設水庫攔截泥沙
(C) 黃土高原水土流失減輕
(D) 下游斷流導致河床淤積量增大
19. 地理老師在課堂中提到：「西套向來有『塞上江南』的美稱。」請問關於西套的敘述，下列何者為非？
- (A) 以種植水稻為主
(B) 利用渠道引黃河灌溉
(C) 分布於溫帶沙漠地區
(D) 為內蒙古自治區的精華地帶

20. 勇順至中國西部旅遊時，發現當地居民的臉孔很像外國人，根據地理課所學的知識，勇順判斷當地居民的血緣應與中亞地區的游牧民族較為接近。請問勇順最有可能位於何處？
- (A) 準噶爾盆地 (B) 塔里木盆地
(C) 柴達木盆地 (D) 藏南縱谷

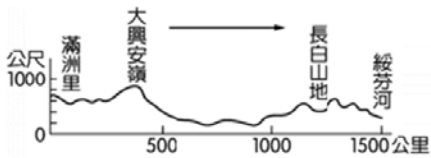
21. 凱正在段考前將相似成因的地理區歸納整理，請問他唯一歸納正確的是下列何者？
- (A) 內蒙古高原與黃土高原 (B) 橫斷山脈與柴達木盆地
(C) 雲貴壩子與河西走廊 (D) 祁連山與山東丘陵

22. 右圖是中國某兩地的年雨量變化圖。請問下列敘述何者正確？



- (A) 乙地若平均年雨量為 500mm，則 2004 年的年雨量變率為 20%
(B) 乙地河川較甲地穩定，水運便利
(C) 甲地可能為華北地區
(D) 乙地年雨量變率大，易發生水旱災
23. 迎晞與同學分享她至中國旅遊時所喝到的飲品：「格瓦斯」，它主要盛行於俄羅斯、烏克蘭等國家，由麵包發酵而成，是一款低濃度的酒精飲料。請問迎晞最有可能到哪一城市旅行？
- (A) 青島 (B) 哈爾濱 (C) 呼倫貝爾 (D) 秦皇島
24. 宥妮與朋友相約至天津的水上公園體驗放風箏的樂趣。請問若此時為冬季，風箏應會飄往何處？
- (A) 東北方 (B) 東南方 (C) 西北方 (D) 西南方
25. 新聞報導指出：「在綜藝節目《爸爸去那兒》的加持下，興起一股中國○○地區的旅遊熱潮，甚至因此出現一『炕』難求的現象。」請問○○地區最有可能是下列何處？
- (A) 兩湖盆地 (B) 柴達木盆地
(C) 河套平原 (D) 東北平原
26. 順玉看見旅遊節目介紹中國○○地區：「此處氣候乾燥，居民多興建坎兒井來取水使用。」請問○○地區最有可能為何？且興建此種水利灌溉工程的主因為何？
- (A) 河套平原；防止水分蒸發
(B) 吐魯番窪地；防止水分蒸發
(C) 河套平原；減緩土壤鹽鹼化
(D) 吐魯番窪地；儲存雨水灌溉
27. 請問地理老師在黑板中所寫下的板書何者錯誤？
- (A) 每年七、八月期間，蒙古族會舉辦那達慕大會
(B) 青海湖為中國最大鹹水湖
(C) 準噶爾盆地的雨量小於塔里木盆地
(D) 寧夏回族信奉伊斯蘭教

28. 下圖為東北地區的地形剖面圖。請問下列敘述何者正確？

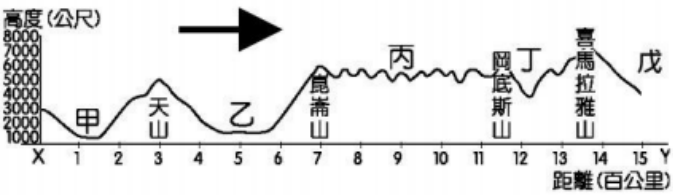


- (A) 箭頭所指的方向為東北方
- (B) 由季風到草原氣候
- (C) 由稻作轉為麥作
- (D) 年雨量逐漸增大

29. 試問青藏鐵路完工後，對青藏地區的發展有何影響？

- (A) 鄰近中亞，利於戰略部署
- (B) 有利人口移入，以保護環境生態
- (C) 利用密集的勞工，設立經濟特區
- (D) 交通條件獲得改善，提升產業發展

題組二 下圖為西部地區的地形剖面圖。請依據此圖回答 30、31 題：



30. 試問下列敘述何者正確？

- (A) 箭頭所指的方向為東方
- (B) 甲區由於礦產豐富，素有「聚寶盆」之稱
- (C) 丙區年溫差大
- (D) 戊最有可能是印度

31. 品蓁計畫暑假與家人前往丁地旅遊。故為了先對丁地有更進一步地了解，品蓁即搜尋了相關資料如下：①為怒江切割而成的谷地；②空氣稀薄且年日溫差皆大；③夏季有來自太平洋的水氣；④酥油茶、糌粍為其特色；⑤當地居民主要信奉伊斯蘭教；⑥可以造訪當地著名的布達拉宮。請問品蓁搜尋的資料下列何者有誤？

- (A) ①②③⑤
- (B) ①②③
- (C) ①③
- (D) ①③⑤

32. 古代天子祭天之處為五嶽之一泰山，係因其較接近天庭；孔子也曾有「登泰山而小天下」的感觸。請問上述所顯示的地理意義為何？

- (A) 泰山高度極高
- (B) 泰山周圍地形封閉
- (C) 泰山周圍多為平原
- (D) 山東省為一半島

33. 小統公司為台灣著名的沙拉油大廠，沙拉油以大豆為原料。近年來為降低成本，打算前往中國大陸設廠。請問：若依自然條件分析，下列何處是小統公司的最佳投資地點？

- (A) 雲貴高原
- (B) 河套平原
- (C) 東北平原
- (D) 塔里木盆地

34. 就讀國中八年級的小新原與母親相依為命，但母親突然過世，留下現金 100 萬元及 200 萬元的借款債務，令他不知所措。依現行法律規定，下列敘述何者正確？

- (A) 小新不必繼承母親所留下的全部債務
- (B) 小新母親生前的債權人可依法強制小新清償全部債務
- (C) 小新如果沒有拋棄繼承，就要清償母親全部債務
- (D) 小新如果沒有做限定繼承登記，就要清償母親全部債務

35. 公民老師請同學以新聞為題材，利用課堂所學為新聞內容訂標題，根據下表的内容判斷，哪一位同學寫的標題有誤？

	新聞標題
(A) 阿明	未依法申報所得稅，國稅局處以罰金
(B) 小方	工廠水質檢驗不合格，市政府將處罰鍰
(C) 大雄	酒駕撞死人，法官作出有期徒刑判決
(D) 阿智	行政機關浪費電，監察院提出糾正

36. 依據我國《民法》及相關法律規定，下列敘述何者正確？

- (A) 剛滿 15 歲的小華未經父母同意，無法在銀行開戶，是因其欠缺「權利能力」
- (B) 未滿 20 歲的男女若要結婚，需取得法定代理人同意
- (C) 現行法定繼承方式以「拋棄繼承」為原則，繼承人應向法院陳報遺產清冊
- (D) 消費者於網路所購買的商品，可隨時退回

37. 下表為小蓁報告「《刑法》對於年齡的相關規定」時，所製作的海報內容，但她寫錯一個地方。請問：哪個地方寫錯了？

	無責任能力人	限制責任能力人	完全責任能力人
年齡	(A)未滿 14 歲者	(B)14 歲以上未滿 18 歲者	(C)年滿 18 歲且精神健全者
責任能力	不處罰，(D)由法定代理人負起連帶責任。	若有犯罪行為，得減輕處罰	一旦犯法，須接受刑法制裁

38. 21 歲的阿美買了昂貴的鑽錶，但因某些原因，此交易行為無效；19 歲的小辰買了新車並完成相關手續，父母知情後雖不同意，但買賣契約仍然有效。根據上述內容判斷，文中兩人的情形「最不可能」為下列何者？

- (A) 阿美屬於無行為能力人
- (B) 小辰的婚姻狀況為已婚
- (C) 小辰屬於限制行為能力人
- (D) 阿美遭受了監護宣告

39. 大根在開車途中，不小心與騎自行車的國中生發生擦撞，造成汽車刮傷毀損，但雙方皆未受傷。依上述內容判斷，下列何者正確？

- (A) 僅汽車刮傷無人受傷，不會產生任何責任問題
- (B) 若肇事原因為國中生騎車搶快，其父母應負刑事責任
- (C) 若肇事原因為大根違規紅燈右轉，大根應負行政責任
- (D) 無論原因為何，未成年者皆不須負民事或刑事責任

40. 有關《民法》與《刑法》的差異，下列何者正確？

	《民法》	《刑法》
(A) 負完全法律責任	18 歲	20 歲
(B) 責任內容	以罰鍰為主	以徒刑為主
(C) 原則	契約自由	罪刑法定
(D) 規範行為舉例	無照駕駛	恐嚇取財

41. 以下敘述，何者符合我國《刑法》及相關法律之規定？
- (A) 行為對他人造成傷害，若出於過失，無須負刑責
- (B) 醫師摘除病患的器官以保全其生命，仍構成犯罪
- (C) 十六歲學生涉世未深，其販毒行為只能記大過，不負刑責
- (D) 刑法修正，將無故刪除他人電腦中電磁紀錄之行為列為犯罪，在此以前無故刪除的行為不構成犯罪，是符合罪刑法定原則
42. 下列關於《民法》原則的說明，何者正確？
- (A) 阿遠和哲夫訂定契約，說好敢裸奔的人就可以跟美珠結婚，此為契約自由原則
- (B) 店家任由員工和顧客在騎樓違規停車，阻礙鄰近住戶的通行，此行為違反誠實信用原則
- (C) 阿虎向蘇菲借款 10 萬元，因已超過消滅時效 15 年，阿虎可拒絕歸還
- (D) 某知名餅店竄改產品保存期限，再重新上架銷售的行為，違反權利濫用禁止原則
43. 依據我國《刑法》就年齡規定而言，下列何者因判斷能力有限，若有犯罪行為，得減輕刑罰？
- (A) 8 歲小唐為填飽肚子，偷喝超商牛奶
- (B) 19 歲阿緯缺錢花用，搶劫便利商店
- (C) 70 歲老張為打工貼補家用，偽造自己的身分證
- (D) 16 歲的小隆想騎車而偷取鄰居的機車
44. 下表為罰金與褫奪公權兩種處罰的比較，何者正確？

	罰金	褫奪公權
(A)	屬於從刑	屬於主刑
(B)	財產刑	資格刑
(C)	不可單獨科處	可單獨科處
(D)	依據《刑法》	依據《民法》

題組三報載：「□□□對《道路交通管理處罰條例修正草案》完成協商，未來拒測者(甲)罰鍰提高至十八萬元，並按次累加罰鍰，酒駕累犯罰鍰也將改為按次加罰九萬元；若肇事致人重傷或死亡，車輛將會當場沒入且(乙)吊銷駕照，終身不得再考領。此外，酒駕者的同車乘客可處六千元至一萬二千元罰鍰，此案最快本會期三讀後通過。」問：

45. 文中□□□應為
- (A) 立法院 (B) 行政院 (C) 司法院 (D) 監察院
46. 關於文中（甲）、（乙）之敘述，何者正確？
- (A) 甲、乙皆屬於刑罰中的從刑
- (B) 甲為刑事責任；乙為行政責任
- (C) 甲為民事責任；乙為行政責任
- (D) 甲、乙皆屬行政責任

47. 由上述內容可知，違反《道路交通管理處罰條例》的處分，與下列何種法律處分同類型？
- (A) 罰金 (B) 拘留 (C) 拘役 (D) 褫奪公權
- 題組四**涉及販售黑心油的強冠油品，以低價向地下油行購買動物飼料用油、皮革油熬煉成劣質油品，再製成豬油產品販售給下游廠商，犯罪所得達八千多萬元。高等法院依食安法及加重詐欺罪等因，判處公司負責人不得易科罰金的有期徒刑 17 年，及得易科罰金的 5 年徒刑。強冠公司也被判罰金 1 億 2000 萬元。問：
48. 負責人被判處有期徒刑，最主要是依據哪一種法律的規定？
- (A) 民法 (B) 刑法
- (C) 社會秩序維護法 (D) 中華民國憲法
49. 販售黑心油「有期徒刑」的處罰，與下列何者所應負起的法律責任類型相同？
- (A) 使用不當弄壞同學手機
- (B) 租屋卻積欠房租不給
- (C) 開車闖紅燈違反交通法規
- (D) 不滿男友劈腿，教唆好友毆打男友
50. 關於「罰金」與「罰鍰」的敘述，何者**錯誤**？
- (A) 罰款金額不同，罰金較高而罰鍰較低
- (B) 罰金屬刑事制裁，罰鍰屬行政處罰
- (C) 罰金目的為處罰犯罪行為，罰鍰為強制履行行政法規的義務
- (D) 罰金由法院宣告，罰鍰由行政機關科處

新北市立新莊國民中學 106 學年度第 2 學期第 2 次段考 8 年級社會領域試題

解答

1	2	3	4	5	6	7	8	9	10
B	D	A	C	B	D	A	C	B	A
11	12	13	14	15	16	17	18	19	20
C	B	A	D	C	D	A	D	D	A
21	22	23	24	25	26	27	28	29	30
C	D	B	B	D	B	C	D	D	D
31	32	33	34	35	36	37	38	39	40
A	C	C	A	A	B	D	C	C	C
41	42	43	44	45	46	47	48	49	50
D	C	D	B	A	D	B	B	D	A