

※ 選擇題：本試卷共 50 題，每題 2 分，總分為 100 分。  
每一題均為單選題，請選出最適當答案。  
※ 請用 2B 鉛筆在答案卡上相應的位置畫記。

1. 下列選票為某一項公職人員選舉的選票之一。請問：關於此項公職人員選舉的敘述下列何者正確？



- (A)採「單一選區」，即每一個選區選出一位以上的區域立委  
(B)政黨得票比例超過5%的政黨才能分配席次  
(C)此為政黨票，決定區域立委的席次  
(D)「兩票制」即政黨票代表兩票

2. 公民老師設計表格來說明選舉人及被選舉人的法定資格規定，以協助學生理解。  
打「○」表示有行使選舉權或被選舉權的資格，打「×」表示不能行使其權利。表中甲、乙、丙、丁的正確答案依序應為下列何者？  
(A)○○XX (B)X○XX (C)○X○X (D)XX○X

	選舉人	被選舉人
受監護宣告	甲	乙
褫奪公權	丙	丁

3. 下表有關於我國公職人員的參選規定，何者正確？

	公職人員的種類	代表權力	參選年齡	層級	連任次數
(A)	總統	行政權	35	中央	不限制
(B)	彰化市長	行政權	30	地方	連選得連任一次
(C)	立法委員	立法權	26	中央	連選得連任一次
(D)	蘇澳鎮鎮民代表	立法權	23	地方	不限制

4. 下列有關投票公平原則的敘述，下列何者正確？

(A)	2018 年九合一選舉投票日同時進行十項公提案，選舉秩序混亂，民眾在毫無遮蔽的桌上圈票，更有一牆之隔的兩間教室，一間在投票而另一間已傳出唱票聲。 — 違反祕密原則
(B)	美國總統的選舉是由各州選民先投票選出各州選舉人，再由各州選舉人同時在各州首府選舉正副總統。 — 符合直接原則
(C)	美國在 1965 年詹森總統在位時曾簽署《選舉法案》，禁止投票中種族歧視。美國南方許多地區的數百萬黑人被賦予投票權，只要符合資格，不分種族皆有投票權。 — 符合平等原則
(D)	有投票權的人，每人只能領取一張選票，而且選票的價值相同。 — 符合普通原則

5. 關於下則新聞的相關敘述，下列何者有「誤」？  
(A)甲機關為立法院  
(B)乙機關為省諮議會  
(C)乙機關和村里相同，皆非地方自治團體  
(D)修憲後省政府也予以「虛級化」

報紙新聞摘錄：拍板定案！(乙)【機關】2019 年預算歸零！  
…(甲)【機關】將派人選赴(乙)【機關】當任議長，雖然修憲以後，此機關失去地方自治團體的地位，但修憲以前它也是台灣省位階最高的立法機關，在臺灣民主過程中扮演過重要地位，雖然組織已被精簡，但其意義仍值得我們回憶省思。目前在預算部分…

6. 食藥署於民國 106 年進行日本核食風險評估，表示進口日本食品對臺灣人一生的健康風險低於 10 萬分之一，而在民國 107 年檢驗的 300 項日本食品輻射值也全數合格。但於 107 年底舉行公投，有八百多萬人壓倒性的反對日本核食進口，基於尊重公投結果，2 年內維持不開放日本核食進口。請問：關於此種政治參與的說明下列何者有「誤」？  
(A)實踐直接民權，可使政府施政更貼近民意  
(B)需戶籍設籍在投票區達 6 個月以上  
(C)通過條件為：有效同意票 > 不同意票；有效同意票 > 1/2 投票權人總數  
(D)此案若不通過，該議題 2 年內不得再提出

7. 小夏看見媒體的一段新聞節錄，深覺疑惑。後來才發現議員可能忽略了下列哪一個原則？

議員：針對共軍頻繁擾台及兵役是否延長一事，您有何看法與作為？  
市長：針對這個議題雖攸關台灣老百姓的權益，可以表達我的想法但非我所能決定的權限。  
(A)權力分立 (B)均權制度 (C)政治參與 (D)有限政府

【第 8 至 9 題為題組】

(甲)【機關】因應減碳趨勢，研擬氣候變遷因應行動自治條例、產業自治條例，分別今年及明年底送(乙)【機關】審議，但綠能產業聯盟理事長陳士章質疑欠缺誘因，新北市約 30 萬間企業都需要淨零科技，自治條例卻未針對淨零、永續企業補助或獎勵；某議員也批評配套不足。市府回應補助條件不會在自治條例母法訂定，將另訂內容公告。

8. 請問：下列何者正確？  
(A)甲機關負責議決地方預算  
(B)乙機關負責推動地方自治的工作  
(C)乙機關為新北市民代表會  
(D)乙機關負責議決地方預算

9. 請問：下列何者正確？  
(A)文中負責審議自治條例的機關為新北市議會  
(B)文中負責審議自治條例的機關為立法院  
(C)自治條例位階低於命令屬於法律位階  
(D)此自治條例可適用於全國各行政區

背面尚有試題

【第 10 至 12 題為題組】

無黨籍嘉義市長候選人不幸於選前突然過世，中選會定案嘉義市長選舉延至 12 月 18 日舉行投票，最後由市長黃敏惠成功連任。新聞報載：「她感謝對手提出對市政的質疑，讓市府有更進步的空間，更向中央喊話『兌現鐵路高架化全額補助、蓋輕軌的承諾』，也希望中央在社會福利政策要拿掉限制，特別是嘉義市是財政紀律佳的縣市，因為選舉結果反映出這就是『基層拚高層』的民意。」

10. 請問：文中所提的行政區內，**最不可能**出現下列何項公職人員？  
(A)區長 (B)鄉長 (C)市議員 (D)立法委員
11. 請問：文中所提的行政區內，**最不可能**「選」出下列何項公職人員？  
(A)區長 (B)市議員 (C)里長 (D)立法委員
12. 新科市長向中央喊話：「『兌現鐵路高架化全額補助、蓋輕軌的承諾』，也希望中央在社會福利政策要拿掉限制…」的意義為何？  
(A)基於地方自治，應由地方政府全權掌握各項建設  
(B)全交由中央統籌規畫  
(C)中央與地方政府須互相合作與協調  
(D)『兌現鐵路高架化全額補助、蓋輕軌的承諾』為攸關地方安全衛生的相關工作

【第 13 至 16 題為題組】

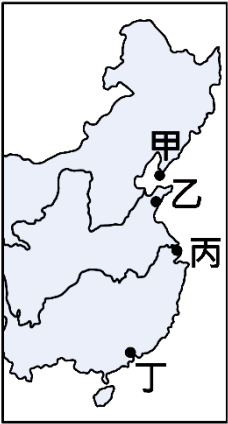
11 月 17 日 生活札記

今天是九合一地方選舉倒數第十天，各個候選人無不使出渾身解數來爭取選民支持，有的辦理造勢晚會、有的發放文宣品、還有站在路口和民眾拜票。

雖然我還沒有投票權，但候選人依舊很熱情的遞給我這個選區的競選面紙，上面寫道：「**區長請唯一支持②候選人○○○，政見：1....**」。我覺得很新鮮也很有意義，由地方上的人民自己選出政府和監督政府的人，是一件很重要的事！選舉當天，我一定要催促親朋好友投下神聖的一票！

13. 請問：根據札記的內容，請判斷和札記主人同戶籍的父母親與下列哪一個選區所領到的選票張數是一樣的？  
(A)南投縣南投市 (B)台南市白河區  
(C)基隆市暖暖區 (D)新北市新莊區
14. 請問：札記的內容隱含了下列哪些概念？共有幾項？  
(甲)垂直分權 (乙)水平分權 (丙)均權制度  
(丁)地方自治 (戊)政治參與  
(A)5 (B)4 (C)3 (D)2
15. 請問：下列是札記主人的親朋好友，何者尚「**不具備**」此次投票的資格？  
(A)正在就讀大學 19 歲的姊妹  
(B)7 月初從花蓮遷戶口來同住的外婆  
(C)40 歲設籍 15 年的爸爸  
(D)設籍 6 個月的鄰居林先生
16. 請問：關於此次選舉的相關敘述何者正確？  
(A)投票一定要攜帶國民身分證和印章  
(B)在《總統副總統選舉罷免法》中有相關規定  
(C)在《公民投票法》中有相關規定  
(D)選舉流程為：登記參選→競選活動→投票→開票、計票→公布選舉結果

17. 清廷沒有對外貿易的興趣，因此自康熙以來，只在沿海地區開放了四個對外貿易港，讓「番邦之國」有管道取得中國的絲綢、茶葉、瓷器等物品，算是天朝上國的一種恩賜。之後，更是將貿易港口縮減到只剩圖中哪一個地點？  
(A)甲 (B)乙  
(C)丙 (D)丁



18. 文億研究某地的歷史年代表如下表，請問他研究的是哪一地區的歷史？  
(A)台灣 (B)澳門 (C)東北 (D)香港

西元 17 世紀~西元 1841 年	屬於清帝國
西元 1842 年	因清朝戰敗割讓給英國
西元 1860 年	納入九龍司
西元 1941~1945 年	二戰期間被日本佔領
西元 1945~1997 年	英國拿回統治權
西元 1997 年	成為中華人民共和國特別行政區

19. 怡靜閱讀一份發生在清末中國境內的案件審判內容，被告為法國公民，因駕駛馬車撞傷中國公民並肇事逃逸，此案件審判地點在天津的法國領事法庭，裁決者是法國駐天津領事館總領事，最後依照法國法律判決被告須賠償三百法郎給家屬，免除坐牢刑責。根據上述內容判斷，此審判方式與清末簽訂的哪個條約有關？  
(A)《南京條約》及其續約 (B)《天津條約》  
(C)《馬關條約》 (D)《辛丑和約》
20. 武漢由武昌、漢口、漢陽三個城市合併為武漢市。其中漢口因位於長江沿岸，為交通樞紐，工商業極為發達，被稱為「東方芝加哥」。早期由於租界林立，對外貿易頻繁，新移民不斷湧入，漢口現代化程度和城市建設規模遠遠領先於中國絕大部分城市，因此漢口也被稱為「大漢口」。漢口最有名的歷史景點莫過於「五國租界」，租界數目僅次於天津。漢口老租界江邊有不少百歲洋房，其中最著名的建物莫過於中國第二大海關——江漢關，有人稱它是漢口五國租界的起點。1861 年，英國政府根據《中英天津條約》第 10 款，迫使清政府將鎮江、九江、漢口關為對外貿易口岸，漢口海關於 1861 年 11 月正式成立。請問漢口海關的成立反映出外國人得以從沿海進入長江流域，應是哪一戰爭造成的結果？  
(A)鴉片戰爭 (B)英法聯軍 (C)甲午戰爭 (D)八國聯軍
21. 「容闈是近代中國第一位留學外國的中國人，他認為中國的復興之道在於教育，以西洋文化改進中國文化，因此大力鼓吹清廷派遣學生留學外國，最終獲得同意，並由清廷支付學雜費及生活費。但當時一般人仍視外國為蠻夷之邦，因此所招收的孩童大多為廣東人、商人的子弟，因他們常與洋人接觸。清廷先後派出四批共 120 名幼童赴美國留學，可惜因守舊派的抨擊，小留學生在數年間陸續被召回。」請問以上是關於哪場改革的敘述？  
(A)庚子後新政 (B)戊戌變法  
(C)自強運動 (D)立憲運動

繼續作答下張試卷



22. 日本的萬元大鈔（右圖）印有 19 世紀著名思想家，也是日本著名私立大學慶應義塾大學創辦人




人福澤諭吉的肖像。他曾提出「脫亞入歐」的觀點，指出「我國不可猶疑，與其坐等鄰邦之進步而與之共同復興東亞，不如脫離其行伍，而與西洋各文明家共進退。」請問：下列關於此論點的各项敘述何者有誤？

- (A)此風氣促成當時天皇推動大化革新
- (B)此論點出現在十九世紀中期以後
- (C)主張西方政治經濟與軍事制度引進日本
- (D)後來的中日甲午戰爭證明了此論點

23. 附圖是描繪刊登在某本英國雜誌上有關甲午戰爭的漫畫。請問：此一戰爭是因哪一地方爆發內亂所引起的？


- (A)琉球 (B)朝鮮
- (C)臺灣 (D)滿洲



24. 光緒在位的時候經歷被曾經看不起的小國打敗，及首都被攻陷的對外戰爭。並跟幾個年輕人憑著滿腔熱血推動改革，無奈天不從人願，後來改革失敗，落得被軟禁餘生的下場。而國家實際的掌權者，卻愚昧的對全世界宣戰，戰敗後卻去推動之前強力反對的皇帝改革內容，真是好不諷刺。上文中所提到對全世界宣戰後推動的改革指的是清末哪一場改革？

- (A)自強運動 (B)庚子後新政
- (C)戊戌變法 (D)立憲運動

25. 右圖為 20 世紀某兩大國為爭奪中國東北發生戰爭時，刊登在當時美國《Puck 雜誌》的諷刺漫畫。請問：這幅漫畫描繪的是哪一個戰爭且因受到此戰爭之刺激，朝野人士要求推動什麼西化運動？



- (A)鴉片戰爭，庚子後新政
- (B)英法聯軍，自強運動
- (C)甲午戰爭，戊戌變法
- (D)日俄戰爭，立憲運動

26. 亨利於 1900 年，隨著攻入北京的八國聯軍來到中國。在這次的隨軍過程中，他留下對於戰爭與當時清帝國的紀錄。請問：下列選項中，何者應該是他的紀錄中會出現的內容？

- (A)聯軍中的軍人包含了俄國、德國、法國、美國、日本、澳洲、義大利、英國等國的士兵
- (B)中國的民眾，對於實施多年的考試制度廢除議論紛紛
- (C)由於此時清帝國還沒有辦理外交的現代機構，因此聯軍在交涉時倍感困難
- (D)聯軍出兵是為了保護在中國的僑民，讓他們不受義和團的迫害

27. 娟娟整理了一個表格如附表，依表格內容判斷，小娟最有可能在整理下列哪一事件的背景資料？

職位	姓名	身分
內閣總理大臣	慶親王奕劻	滿·宗室
內閣協理大臣	那桐	滿
	徐世昌	漢（直隸天津人）
外務大臣	梁敦彥	漢（廣東順德人）
民政大臣	肅親王善耆	滿·宗室
	桂春	滿
	趙秉鈞	漢（河南汝州人）
度支大臣	鎮國公載澤	滿·宗室
學務大臣	唐景崇	漢（廣西灌陽人）
陸軍大臣	蔭昌	滿
海軍大臣	貝勒載洵	滿·宗室
司法大臣	紹昌	滿·覺羅
農工商大臣	貝子加貝勒銜溥倫	滿·宗室

- (A)百日維新 (B)皇民化運動
- (C)自強運動 (D)立憲運動

28. 歷史課堂正在進行對於近代東亞歷史事件的討論，同學們分別提出對於不同事件的敘述：

幼恩：此時主政者公布對外的宣戰令，作戰對象不是國家，也不是條例，而是「遠人」和「彼等」，事實上就是與中國接觸的所有外國。

鳳筱：他們的這項運動，希望以中國的文化為基礎，再學習西方的技術來打擊西方，說明學自西方的只不過是一種技術性之事物，因此國家內部也有許多人對此次的改革態度上較為消極。

薇婷：中國這項運動的發生是因為歐洲列強的俄國與東方新興的日本對戰之後，認為日本在某些方面更勝俄國與中國，因此許多士紳發起請願希望學習日本。

豪晉：皇帝頒布變法詔令，宣稱政府組織必須改造，預算將要編製，海陸軍將要現代化，所有教育制度和文官組織也要改組，所有農工商業一併都要提高以符合世界標準。但最終被保守勢力阻擋，導致最終失敗。

請排列上述事件的時間先後順序？

- (A)豪晉、鳳筱、幼恩、薇婷
- (B)豪晉、幼恩、鳳筱、薇婷
- (C)鳳筱、豪晉、薇婷、幼恩
- (D)鳳筱、豪晉、幼恩、薇婷

29. 下列為晚清數場對外戰爭及其帶來的影響，何者配對正確？

選項	戰爭	影響
(甲)	八國聯軍	立憲運動
(乙)	鴉片戰爭	戊戌變法
(丙)	英法聯軍	自強運動
(丁)	日俄戰爭	庚子後新政

- (A)甲 (B)乙 (C)丙 (D)丁

30. 下表關於清末各條約與內容的敘述，何者正確？

條約	內容
(A)《馬關條約》	割讓台灣、澎湖、香港島
(B)《南京條約》	中國開放上海等五個通商口岸
(C)《辛丑和約》	中國付出鉅額賠款並割讓土地
(D)《南京條約》的續約	給予英國設立租界特權導致國防洞開



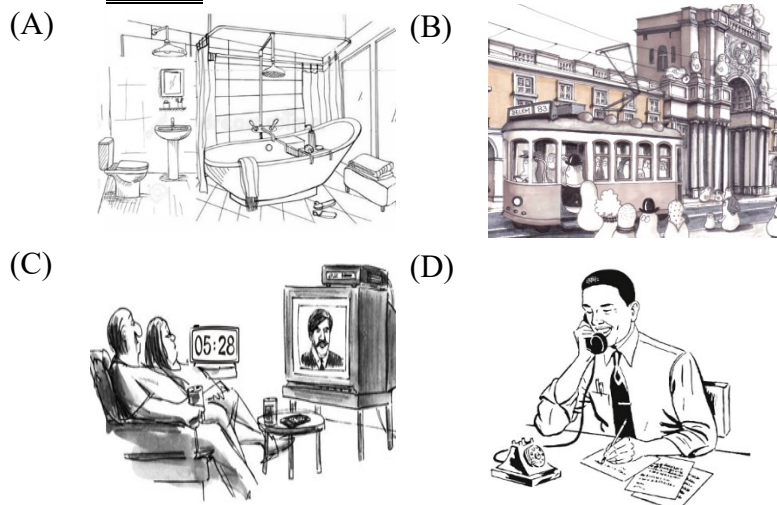
31. 林樂知在 19 世紀 60 年代創辦《教會新報》，內容著重刊登闡釋教義的文章，之後，《教會新報》改名為《萬國公報》，仍為周刊，報刊內容開始演變為非宗教性質，偏重於介紹西學新知，受到許多知識分子的欣賞。當時的知識分子若想了解西方的知識學問，一定要看萬國公報，萬國公報因此被稱之為「西學新知之總薈」。此外，林樂知也在上海創辦中西書院，培養諸多中國現代化運動的人才。請問：林樂知最有可能的身分為何？

- (A) 中國政府官員 (B) 外國傳教士  
(C) 中國富商 (D) 外國領事

32. 中國最早的女子學校是由外國傳教士來華創辦的。19 世紀 4、50 年代，大批傳教士進入中國，他們為了傳教，免費在華辦學，不少地方女校紛紛得以建立。如 1844 年，英國東方女子教育協會的傳教士阿爾德塞女士在寧波開設女塾，專收女生，被認為是基督教會在中國開辦的第一所女子學校。中國近代第一所自辦女校是維新派婦女團體女學會，於 1898 年 6 月 1 日在上海城南桂墅里創辦，名為中國女學會書塾。這所女校創辦近代中國第一份女報——《女學報》，提倡女學，反對纏足。基督教會能在中國開辦女子學校，應該是出現於哪一場戰爭之後？

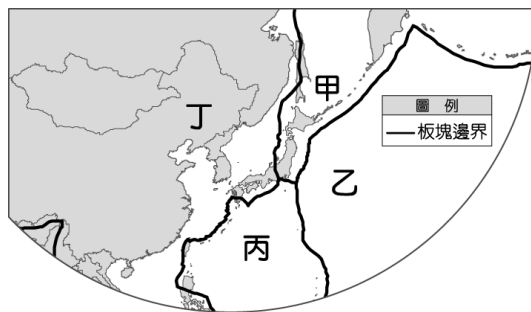
- (A) 英法聯軍 (B) 鴉片戰爭 (C) 八國聯軍 (D) 甲午戰爭

33. 電視戲劇「華麗年代」的製作團隊正在打造 19 世紀清末上海城市的街景和人民生活，以下哪一個場景的道具安排與時代不符合？



34. 參考附圖，2011 年 3 月 11 日下午日本本州島東北部外海發生大地震並引起海嘯，成因是哪兩個板塊間的擠壓？

- (A) 甲丁 (B) 丙丁  
(C) 甲乙 (D) 乙丙



35. 下列關於日本地形的敘述何者正確？

- (A) 山多平原少 (B) 多為沙岸少港灣  
(C) 主要山脈偏東 (D) 西側多平原

36. 日本四大島嶼中，何者冬季平均氣溫應為最高？

- (A) 本州 (B) 北海道 (C) 九州 (D) 四國

37. 承上題，何者人口、都市最多？

- (A) 本州 (B) 北海道 (C) 九州 (D) 四國

38. 下列城市中，何者位於近畿平原？

- (A) 東京 (B) 大阪 (C) 札幌 (D) 名古屋

39. 下列何者不是中國與北韓的國界？

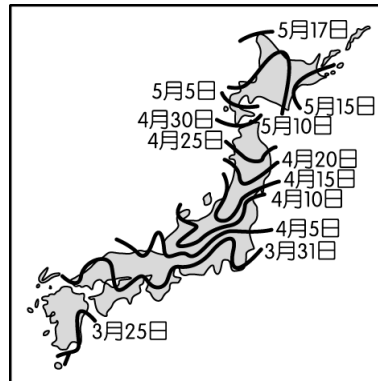
- (A) 鴨綠江 (B) 長白山脈 (C) 圖們江 (D) 太白山脈

40. 朝鮮半島以何區域地勢最高？

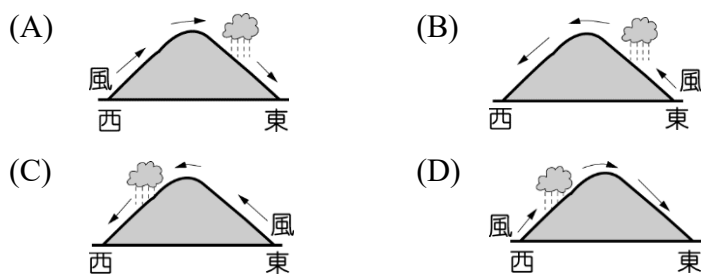
- (A) 西南 (B) 東南 (C) 西北 (D) 東北

41. 參考附圖，此圖最可能是何種現象的日期示意圖？

- (A) 楓葉轉紅日期  
(B) 櫻花綻放日期  
(C) 開始下雪日期  
(D) 冷氣團侵襲日期



42. 下列何圖為朝鮮半島夏季季風的風向與降水示意圖？



43. 下列何者不是日本發展漁業的有利條件？

- (A) 近西北太平洋漁場 (B) 海岸線曲折  
(C) 寒暖流交會 (D) 沿海多沙岸

44. 附表為南北韓的比較表，哪個項目的敘述錯誤？

- (A) 政治 (B) 地形 (C) 氣候 (D) 產業

項目	南韓	北韓
政治	民主國家	共產國家
地形	平原較多	地勢較高
氣候	較乾冷	較暖溼
產業	民生工業	國防工業

45. 釜山是南韓重要港口，其港闊水深的環境成為海運發展的有利條件，臺灣何港口的環境條件與釜山港類似？

- (A) 基隆港 (B) 台中港 (C) 安平港 (D) 高雄港

46. 日本的工業區多分布在沿海地區，原因為？

- (A) 方便礦產出口 (B) 方便產品出口  
(C) 使用海水冷卻 (D) 利用潮汐發電

47. 下列何者不是日本目前主要的發展產業？

- (A) 汽車製造業 (B) 文創產業 (C) 觀光業 (D) 成衣代工業

48. 第二次世界大戰後，朝鮮半島大致以北緯幾度為界線，分為北韓與南韓？

- (A) 23.5 (B) 28 (C) 38 (D) 48

49. 南北韓間的一處建有會議室，雙方可至此處會談，亦可感受國界線的肅殺氣氛，該處名為？

- (A) 板門店 (B) 新義州 (C) 平壤 (D) 仁川

50. 下列何者不是南韓的知名企業？

- (A) 三星電子 (B) 現代汽車  
(C) 樂金電子 (D) 任天堂電子遊戲

試題結束

新北市立新莊國民中學 111 學年度第 1 學期第 3 次段考 8 年級社會領域試題  
解答

1	2	3	4	5	6	7	8	9	10
<b>B</b>	<b>D</b>	<b>D</b>	<b>A</b>	<b>A</b>	<b>C</b>	<b>B</b>	<b>D</b>	<b>A</b>	<b>B</b>
11	12	13	14	15	16	17	18	19	20
<b>A</b>	<b>C</b>	<b>A</b>	<b>B.C</b>	<b>A</b>	<b>D</b>	<b>D</b>	<b>D</b>	<b>A</b>	<b>B</b>
21	22	23	24	25	26	27	28	29	30
<b>C</b>	<b>A</b>	<b>B</b>	<b>B</b>	<b>D</b>	<b>D</b>	<b>D</b>	<b>D</b>	<b>C</b>	<b>B</b>
31	32	33	34	35	36	37	38	39	40
<b>B</b>	<b>B</b>	<b>C</b>	<b>C</b>	<b>A</b>	<b>C</b>	<b>A</b>	<b>B</b>	<b>D</b>	<b>D</b>
41	42	43	44	45	46	47	48	49	50
<b>B</b>	<b>B</b>	<b>D</b>	<b>C</b>	<b>A</b>	<b>B</b>	<b>D</b>	<b>C</b>	<b>A</b>	<b>D</b>