

新北市立新莊國民中學 110 學年度第 1 學期第 3 次段考 7 年級社會領域試題卷

班級

座號

姓名

※ 選擇題：本試卷共 50 題，每題 2 分，總分為 100 分。

每一題均為單選題，請選出最適當答案。

※ 請用 2B 鉛筆在答案卡上相應的位置畫記。

【第 1 至 4 題為題組】

《斯卡羅》(排灣語：seqalu，英語：Seqalu: Formosa 1867) 是 2021 年的公視電視劇。劇名源自曾存在於臺灣琅璦(今稱恆春)的部落聯盟政權—斯卡羅酋邦。

「斯卡羅」本來是排灣族人居住地，後來東海岸知本卑南族人也南遷至此，包含四個番社。

1867 年 3 月，美商船隻羅妹號(Rover)遭遇風暴觸礁瑯嶠(古恆春)，13 名船員上岸被排灣族視為領土入侵者，全數遭殺害，在美方看來是偷襲，搶劫的野蠻行為，因而對台發動戰爭，史稱「羅妹號事件」。

斯卡羅大股頭(股意指家系，頭是頭目，部落族人領袖)卓杞篤，智慧化解紛爭，整合各族群力量。美領事李仙得，與卓杞篤雙方達成共識，書面紀錄為諒解備忘錄，史稱「南岬之盟」。

- 關於原住民族在台灣的敘述，何者為非？
(A)早期漢人移民社會稱原住民的部落為社
(B)排灣族部落領袖產生方式是選舉產生
(C)每個族群都有不同的歷史與文化
(D)目前台灣原住民共有 16 族 745 個部落
- 關於上文中畫線的敘述，原住民部落面臨何項挑戰？
(A)文化與法律的衝突 (B)部落經濟的停滯
(C)傳統文化的斷層 (D)傳統領域的保護
- 根據上文的敘述，請問以下何者正確？
(A)原住民族傳統領域因歷史發展，現在全歸私人土地
(B)傳統領域的保護是部落發展權與生態維護的重要議題
(C)各族對於部落領袖的稱謂都相同，以前都稱頭目，現在都稱長老
(D)部落獨特生活經驗，凝聚族人向心力，塑造其身分認同，展現原民的生命力
- 近年來，知本的卡大地布部落開始重振部落文化運動，其中不少卡大地布人認同自身亦為斯卡羅人。這些原住民族透過公民參與，主要為達到哪一目的？
(A)擴大部落領域
(B)取得執政權力
(C)部落營造，鼓勵部落年輕人至都會區發展
(D)爭取身分認同及權益保障
- 開班會是學生自治事務中，重要的一環。請問：各項角色的負責事項，何者正確？
(A)主席：賦予參加人員發言地位
(B)司儀：宣達會議程序，宣布散會
(C)紀錄：不需要記錄幹部的工作報告，只要記錄表決的方法及票數
(D)導師：提示會議規則，要參與意見提供，加入表決
- 內政部《會議規範》規定，會議進行中主席需裁決的「權宜問題」和「秩序問題」情況，下列何者正確？
(A)秩序問題可處理與會人員聊天干擾開會的情況
(B)與會人員發生爭吵擾亂開會，可提出權宜問題
(C)議場偶發的緊急事件要提出秩序問題
(D)議事的程序發生錯誤要提出權宜問題
- 班會流程的討論事項，下列敘述何者錯誤？
(A)同票的處理方式：對事的表決，由抽籤決定
(B)表決結果必須依照「多數決」原則
(C)表決順序：先提議(名)，先表決
(D)提案後充分討論再進行表決

8. 有關開會時討論事項的提出方式，下列何者正確？

- (A)提案在開會中用口頭方式提出
(B)動議是在開會前用書面方式提出
(C)提案需要一人以上附署才能成立
(D)動議需要全體參與者附議才能成立

【第 9 至 11 題為題組】

原住民族委員會成立於民國 85 年 12 月，原民會從 10 月起舉辦 71 場次座談會，深入全台部落。出身花蓮的原住民族委員會主委夷將·拔路兒(Icyang-Parod)，對於族人關心族語、土地議題，夷將允諾會研析後提出解決方法。原民會說明推動族語、歲時祭儀、文化健康站、禁伐補償、原住民保留地所有權免 5 年等待期、居住環境、部落道路及興建聚會所等成果。族語推動，全國設置推廣人員，族語老師專職薪資提升，補助原鄉公所營造族語友善環境。

9. 根據上文相關的敘述，請問以下何者錯誤？

- (A)依據原住民族自治法規定，部落是指原住民於一定區域內，依其傳統規範、共同生活結合而成的團體
(B)行政院原住民族委員會，是中央原住民族主管機關
(C)補助原鄉公所族語友善環境，可傳承日益流失傳統文化的斷層
(D)設置族語推廣人員，努力推動部落文化

10. 承上題，文中的行政院原民會主委，選擇恢復傳統姓氏，是族人透過何種公民參與的方式，來爭取權益保障？

- (A)原住民族運動 (B)原住民族部落活力計畫
(C)部落營造 (D)人格發展權

11. 關於部落對原住民族的重要性，以下何者是不對的？

- (A)阿美族豐年祭感謝神靈，歲時祭儀是文化傳承與教育的基石
(B)排灣族人老屋重建，部落文化是共享互助
(C)部落是原住民族生產與營利的單位
(D)部落與土地高度連結，若離開原本生活空間，易有文化失根的危機

【第 12 至 13 題為題組】

位於臺東市郊的達魯瑪克民族實驗小學是一所道地的東魯凱族原住民學校。課程規劃完全以原住民文化內涵為核心，學習母語及工藝、傳唱歌謠、溯源文史，也與當地耆老合作，指導學生就地取材實作，傳承部落精神。

該校彭校長說，他推動原住民實驗教育，是基於「不能以漢人思維，去看待原住民教育」的理念。達魯瑪克民族實驗小學，也不忘基本學科的加強，等進入國、高中，就不至有學習失衡或落後的現象發生。

12. 請問：上文中達魯瑪克民族實驗小學，主要想維護學生在校園中的哪一種權利？

- (A)能夠接受多元課程的學習權
(B)不受霸凌恐懼的身體自主權
(C)享受基本醫療服務的健康權
(D)保障個人隱私的人格發展權

13. 承上題，推動原住民實驗教育最主要的目的為何？

- (A)發展部落的旅遊觀光 (B)以教育推動部落永續發展
(C)落實互助與關懷的精神 (D)透過會議達到部落共識

14. 請問：我國哪一部法律規定人民有受國民教育之權利與義務？

- (A)兒童權利公約 (B)憲法
(C)幼兒教育及照顧法 (D)世界人權宣言

背面尚有試題

15. 學校是團體生活彼此關懷接納尊重，如遇到同學之間或師生之間的性騷擾事件，校園的處理流程，下列哪一項是正確的？

(A) 加害人（或其父母）／檢舉人有權提出申訴
(B) 由學生申訴評議委員會受理案件
(C) 根據性騷擾防治法
(D) 學校調查後彙報教育主管機關

16. 穎柔想在學校裡成立拼圖社，並列出三項實施步驟，依據學生自治原則，其先後順序應該是下列何者？

(A) 甲→乙→丙
(B) 甲→丙→乙
(C) 乙→丙→甲
(D) 丙→甲→乙

甲	向學務處報備成立拼圖社
乙	舉辦拼圖社勇士練習賽
丙	訂定拼圖社組織章程

【第 17 至 18 題為題組】

❖ 清領時期臺灣土地陸續開墾，但是需要水源才能灌溉土地，所以興建水利設施是當時人民最重要的工作之一。請搭配右圖 1 回答下列問題：

17. 長輩常教導我們做人要懂得

「飲水思源」，例如喝水時候就要想到水的源頭，提醒我們不能忘記他人曾給予的恩惠，做人不可忘本。如右圖 2 現在人緬懷郭錫瑠等先民開圳的奮鬥事蹟，所以設立紀念碑、紀念公園，更是以此見證當時筆路藍縷的開創。請問郭錫瑠等先民是在圖 1 哪一區開墾水圳？

(A) 甲 (B) 乙
(C) 丙 (D) 丁

18. 岸裡社為清代臺灣平埔族—「巴則海」群居部落區，臺灣中部早期之開發以岸裡社較早，故其在臺灣開拓史上佔有相當重要地位。其第三代頭目潘敦仔在康熙 60 年(1721)

「朱一貴之役」時，與通事張達京率岸裡社眾守禦大肚溪，擔任官兵嚮導，蒙清廷賞賜六品功職。1733 年（雍正十年），潘敦仔想墾圳卻沒有資源，於是求助於張達京，張達京答應採「割地換水」方式合資興建，促成了漢原合作開墾水圳。請問這水圳是位於圖 1 哪一地點？

(A) 甲 (B) 乙 (C) 丙 (D) 丁

19. 下列是歷史課時，同學們正在講解清代臺灣的「郊商」，根據同學講解的內容判斷，請問哪一位同學的講解才是正確的？

(A) 由貿易地相同的商人所組成的有糖郊、布郊等。



(B) 隨著臺灣人口增加，海外貿易日漸擴大，而興起從事海外貿易的商人。



(C) 由從事特定商品買賣的商人組成的有泉郊、廈郊等。



(D) 此為一種商業組織，在當時的重要市鎮中郊商林立。



20. 右圖 3 是清代臺灣與中國大陸對渡港口圖，請問關於各港口的說明，下列哪一項錯誤？

(A) 丙港口是因為臺江內海淤積逐漸沒落，之後被安平港取代
(B) 乙港口在清領初期是諸羅縣管理，朱一貴事件之後由新增的彰化縣管理
(C) 乙港口是最早的合法貿易港口，稱「正口」
(D) 甲港口是因為嘉慶中期以後，新莊地區河道淤積無法再航行，所以取而代之，成為北部重要港口



21. 清代開港雖然是因為戰敗的關係，但是開港後卻因此造就了臺灣的經濟繁榮；這時期的臺灣居民從事以農為主的工作，所以可出口的商品，是以農產品為主。當時出口商品與輸出港口或銷售地區的配對，請問下列何者正確？

(A) 茶葉主要由北部淡水港輸出至歐美
(B) 樟腦主要由南部安平港輸出至美國
(C) 茶葉主要由中部鹿港輸出至東北亞
(D) 砂糖主要由北部雞籠港輸出至日本

22. 以下是台灣各地區古今地名，請問正確組合是下列哪一組？

(甲) 諸羅=嘉義 (乙) 府城=旗津
(丙) 艋舺=臺北萬華 (丁) 後山=東部
(戊) 打狗=臺南安平

(A) 甲乙丙 (B) 乙丁戊 (C) 乙丙戊 (D) 甲丙丁

23. 臺灣首部海陸腔客語劇—「茶金」，是以 1950 年代為背景，描述新竹北埔的茶產業。而「茶金」是指二戰後，南洋產地茶園尚未復耕，歐美茶市又有迫切需求，臺灣茶趁勢大量外銷歐美，因而站上世界舞台。請問，臺灣茶產業其實從哪一個時期就已經是重要出口商品，使得當時臺灣貿易出口值超越進口值？

(A) 荷蘭時代 (B) 鄭氏時期
(C) 清代開港前 (D) 清代開港後



圖片來源-公視海報

24. 關於清帝國時期，因為商業發展興盛而出現的組織—「郊」與「洋行」的敘述，請問下列哪一項錯誤？

(A) 「郊」：設立會館讓商人有辦公、互相連絡之地
(B) 「洋行」：多設立在台灣各通商口岸
(C) 「郊」：是在臺灣開港通商之後出現
(D) 「洋行」：讓臺灣從兩岸貿易轉變為國際貿易

25. 他的一生被以「寧願燒盡，不願朽壞」(Rather burn out, than rust out) 讚賞。他在臺灣傳教期間，總共為病人拔掉兩萬多顆蛀牙，治好無數人的瘡疾；為了女性教育，在淡水設立女學堂，自己更是娶一位臺灣女子(噶瑪蘭女子張聰明)為妻。請問這位傳教士是誰？

(A) 巴克禮 (B) 馬偕 (C) 甘為霖 (D) 馬雅各

26. 臺灣俗諺：「少年哪無一次愁，路邊哪有有應公」、「仙拚仙，拚死猴齊天」是在說明清領時期的臺灣移墾社會有下列哪一狀況？

(A) 實施劃界封山 (B) 秘密結盟盛行
(C) 分類械鬥頻繁 (D) 移民開墾艱辛

繼續作答下張試卷

新北市立新莊國民中學 110 學年度第 1 學期第 3 次段考 7 年級社會領域試題卷

班級 座號 姓名

27. 下列臺灣俗諺，請問那幾項是在敘說移民渡海來臺的辛苦？

- (甲) 一個某，卡贏三個天公祖
(乙) 唐山過臺灣，心肝結歸丸
(丙) 有唐山公，無唐山媽；無番仔公，有番仔媽
(丁) 六死三留一回頭

(A) 甲乙 (B) 丙丁 (C) 甲丙 (D) 乙丁

28. 歷史課後，同學們正在討論長老教會牧師—馬雅各的事蹟，請問，哪一位同學敘述正確？

- (A) 設立牛津學堂。
(B) 於臺灣北部傳播基督教信仰。
(C) 建立了臺灣第一間西醫醫館。
(D) 以羅馬拼音為原住民創造文字。

29. 雍正年間，臺灣中部一帶道卡斯族因為官吏指派勞役過多，不想再忍受被迫奴役，於是發動武裝抗官行動，這是平埔族群武力反抗事件中規模最大的一次。請問是指下列哪一事件？

- (A) 牡丹社事件 (B) 大甲西社事件
(C) 麻豆社事件 (D) 郭懷一事件

【第 30 至 31 題為題組】

❖新莊廟街（新莊人稱老街），已經有三百多年的歷史，曾是北部商業重心，街上有許多百年傳統老店林立，古蹟廟宇密集可說是臺灣發展史的縮影。新頭殼（newtalk）新北市報導：「2021 藝起來新莊串門子」今(110)邁入第 2 年，新北市政府更首度與國際知名動漫《名偵探柯南》合作，要在新莊廟街一起解謎三部曲，讓民眾透過輕鬆有趣的解謎活動，同步遊覽百年古蹟。其中二部曲「小蘭與新一穿梭百年古蹟」於 24 日中午 12 點開放線上報名、明(111)年 1 月 8 日登場，免費報名中。



30. 國定古蹟新莊廣福宮是二部曲「小蘭與新一穿梭百年古蹟」的解謎地點之一。學者尹章義認為，此廟是早期客家人經營新莊的具體證明，別具意義。請問此廟供奉主神是下列哪一位？

- (A) 關聖帝君 (B) 三山國王 (C) 天上聖母 (D) 福德正神

31. 隨著新莊的拓墾發展，移民愈來愈多，到雍正年間，新莊因地利之便，成為南北交通要衝與貨物集散中心，成就「千帆林立」的景象；移民在生活安定富足之餘，為了感念媽祖的庇佑，在雍正 7 年（1729 年）由福建運來石材磚瓦、杉木，將過去奉祀媽祖的小廟，改建成相當規模的「天后宮」，一般也稱媽祖廟。請問，和媽祖廟一樣成為漢人共同信仰的是下列哪一尊神明？

- (A) 福德正神 (B) 清水祖師 (C) 開漳聖王 (D) 三山國王

32. 下表為清代臺灣地區科舉人數統計表，從此表可以看出嘉慶、道光年間，考上舉人、進士人數突然增加許多，請問，為什麼會有如此轉變？

年代	舉人	進士
康熙、雍正時期（1684~1735）	15	0
嘉慶、道光時期（1796~1850）	74	6

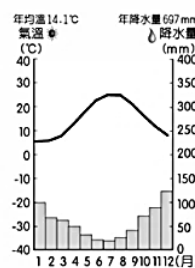
- (A) 渡臺禁令解除，科舉興盛
(B) 少有械鬥，社會較為安定
(C) 洋行設立，推動科舉考試
(D) 經濟生活改善，文風日盛

33. 臺灣社會風氣的轉變也展現在宗族組織。請問關於宗族組織的敘述，下列何者錯誤？

- (A) 唐山祖一同姓，有血緣關係
(B) 唐山祖一祭祀在中國大陸的同姓祖先
(C) 開臺祖一同姓，有血緣關係
(D) 開臺祖一祭祀來臺第一代祖先或後代

34. 右圖為某地區氣候圖，請根據此圖判斷，下列敘述何者正確？

- (A) 一月均溫 -20 度
(B) 七月雨量 335 公釐
(C) 年溫差 5 度
(D) 十二月雨量 125 公釐



35. 彼得打開氣象 APP 查詢天氣相關資訊，他可以查詢到下列哪些訊息？

- (A) 年溫差 21 度 (B) 降雨機率 30%
(C) 一月均溫 18 度 (D) 年雨量 207 公釐

36. 右圖為近日氣象局根據部分溫度測站資料所繪製的等溫線分布圖，請由這張圖判斷台灣正遭遇何種天氣災害侵襲？

- (A) 對流旺盛豪大雨來襲
(B) 大陸冷氣團寒流南下
(C) 熱帶低氣壓逐漸靠近
(D) 滯留鋒面持續南移



37. 下左圖為金門獨特的人文地景風獅爺雕像，相傳是居民為了鎮住冷冽強勁的盛行風所塑造的鎮風辟邪物，大多面朝迎風面。下中表為金門各鄉鎮風獅爺雕像數量統計，其中金沙鎮人口密度低，但設置數量卻最多，受風害影響最深。若以自然環境推測，金沙鎮應在下右圖中何處？

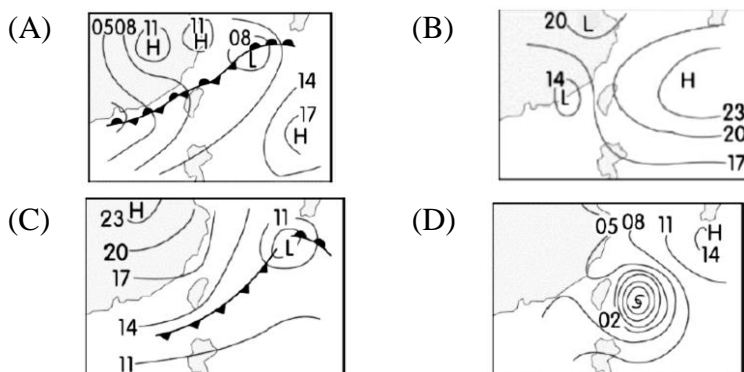
- (A) 甲 (B) 乙 (C) 丙 (D) 丁



鄉鎮	金沙鎮	金湖鎮	金寧鄉	金城鎮
數量	46	15	10	8



38. 氣象局根據地面天氣圖判斷，2021 年入冬以來最強冷氣團在聖誕節報到，24 日開始愈晚愈涼，且降雨機率提高，並於清晨轉冷，北台灣持續低溫 12 度，南台灣也剩下 14 度，且持續 3 天，請民眾做好保暖措施，以免感冒。試問：氣象局判斷此波冷氣團的地面天氣圖，可能為下列何者？



背面尚有試題

39. 下表為台灣四個海拔高度相同之氣象局觀測站的統計資料，由此觀測資料判斷，哪個測站的緯度最高？

	甲	乙	丙	丁
一月月均溫 (°C)	14	12	10	16
七月月均溫 (°C)	28	28	26	28
年降水量 (mm)	3,000	2,000	1,500	2,500

(A)甲 (B)乙 (C)丙 (D)丁


【第 40 至 42 題為題組】

新聞報導：「新北市某旅遊公司帶團於新北市雙溪虎豹潭梳子壩進行溯溪活動，領隊於下午出發，原本晴朗無雲，沒想到 1 小時後天空一黑，下起暴雨，導致山洪爆發，更有多名團員遭洪水衝走，下落不明。」根據新聞內容，請回答下列問題：

40. 文中造成山洪爆發的大雨，最可能與下列何種降水類型有關？

(A)位處東北季風的迎風坡面
(B)大範圍的冷、暖氣團交會
(C)地表吸收太陽輻射產生強烈對流
(D)強烈的熱帶性低氣壓自海面登陸

41. 文中虎豹潭的梳子壩為攔沙壩，如右圖所示，其功用為攔阻河川砂石避免水庫堆積，試問：在那段河川可以見到大量的攔沙壩？



(A)水庫集水區
(B)河川出海口
(C)河川下游平原地區
(D)河川山地入平原地區

42. 溯溪專家警告，台灣山林野溪因受河川自然條件影響，山洪爆發頻繁，建議參加活動要隨時注意天氣狀態，以避免憾事發生。試問：文中河川的自然條件影響，指的可能是台灣河川的哪項特性？

(A)河川坡陡流急 (B)多為荒溪型河川
(C)河川含沙量大 (D)河川東西分流

【第 43 至 45 題為題組】

台灣降水時間與空間分布不均，下表為台灣北部、中部、南部、東部四個區域的年降水量時間分布，請根據此表回答下列問題：

	甲	乙	丙	丁
4~9 月	52%	89%	81%	65%
10~隔年 3 月	48%	11%	19%	35%

43. 由表中資料判斷，何者可能是南部區域的年降水量時間分布資料？

(A)甲 (B)乙 (C)丙 (D)丁

44. 請依據表中資料判斷，下列關於四個區域的河川描述，何者正確？

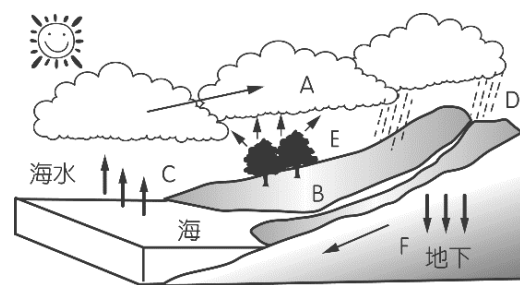
(A)甲區域河川長度最長
(B)乙區域有荒溪型特色河川
(C)丙區域河川流量最穩定
(D)丁區域河川可供船舶通行

45. 表中各區域的年降水量時間分布不同，與下列何者關係較為密切？

(A)季風風向 (B)緯度高低 (C)距海遠近 (D)經度大小

【第 46 至 47 題為題組】

「JW 防災導水鋪面施工法」是一種讓鋪設過的土地保持滲水功能的地面鋪設工法，能有效回收暴雨期間的洪水，大量洪水會先經由導水管快速進入地下生態儲水層，形成地下水庫，



再讓土壤有更多時間吸收且回補地下水。此種環境友善工法，逐漸受到重視，並有許多公務機關採用。試問：

46. 若要運用水循環概念圖 A~F 流程說明『回收暴雨期間的洪水，讓土壤有更多時間吸收且回補地下水』的概念，下列說明何種正確？

(A)增加 D 降水，減少 C 蒸發
(B)增加 B 地表逕流，減少 F 地下逕流
(C)增加 C 蒸發，減少 A 凝結
(D)增加 F 地下逕流，減少 B 地表逕流

47. 此類環境友善工法，有助於解決下列哪項環境問題？

(A)沿海地層下陷 (B)河川含沙量大
(C)河川用水汙染 (D)河川海岸線倒退

【第 48 至 50 題為題組】

台灣自譽為水果王國，水果的種類不僅多元且糖分極高，因此成為台灣農業出口的重要產品。下表為台灣部分水果的盛產期統計表，請根據此表回答問題：

	1月	2月	3月	4月	5月	6月	7月	8月	9月	10月	11月	12月
桶柑	●	●	●	●								
西瓜					●	●						
梅			●	●	●							
茂谷柑	●	●	●								●	●
荔枝					●	●	●					
鳳梨釋迦	●	●	●	●							●	●
百香果					●	●	●	●	●	●		
瓦崙西亞		●	●	●								
葡萄	●	●			●	●	●	●	●	●	●	●
火龍果					●	●	●	●	●	●	●	●
美濃瓜	●	●	●	●	●	●	●	●	●	●	●	●
小蕃茄	●	●	●									●
桑椹				●	●	●						
金煌芒果					●	●	●	●				
玉荷包					●							

48. 政府發布輕度颱風警報，為避免颱風影響收成，建議農民應立即採收水果。若根據表中的生產季節判斷，種植何種水果的農民需立即採收？

(A)瓦崙西亞 (B)鳳梨釋迦
(C)百香果 (D)小番茄

49. 荔枝產於台灣中南部的淺山丘陵，根據表中的生產季節判斷，其產季的降水來源不包括下列何者？

(A)對流降水 (B)西南季風
(C)鋒面梅雨 (D)東北季風

50. 大陸冷氣團南下常會造成農作物損失，因此政府會發布警告要農民留意。試問：依據表中的生產季節判斷，下列何種水果易受冷氣團來襲而影響收成？

(A)茂谷柑 (B)西瓜
(C)金煌芒果 (D)玉荷包

試題結束

新北市立新莊國民中學 110 學年度第 1 學期第 3 次段考 7 年級社會領域試題
解答

1	2	3	4	5	6	7	8	9	10
B	D	D	D	A	B	A	C	A	A
11	12	13	14	15	16	17	18	19	20
C	A	B	B	D	B	A	B	D	C
21	22	23	24	25	26	27	28	29	30
A	D	D	C	B	C	D	C	B	B
31	32	33	34	35	36	37	38	39	40
A	D	A	D	B	B	A	C	C	C
41	42	43	44	45	46	47	48	49	50
A	A	B	B	A	D	A	C	D	A