

※ 選擇題：本試卷共 50 題，每題 2 分，總分為 100 分。  
 每一題均為單選題，請選出最適當答案。  
 ※ 請用 2B 鉛筆在答案卡上相應的位置畫記。

- 憑藉英語是官方語言優勢的某國，近年發展成僅次於新加坡的亞洲英語教學中心，並超越印度成為全球最大英語電話客服中心 (call center)。某國最有可能是下列哪一國？  
 (A) 印尼 (B) 菲律賓 (C) 泰國 (D) 越南
- 四月底某日的新聞標題指出：「印度 COVID-19 疫情海嘯式失控，五月份預估每日逾 50 萬人確診，宿敵巴基斯坦伸出援手」，由此標題可知印度與巴基斯坦長期外交關係緊張，請問影響主因為下列何者？  
 (A) 宗教差異 (B) 貿易糾紛 (C) 種族歧視 (D) 種姓制度

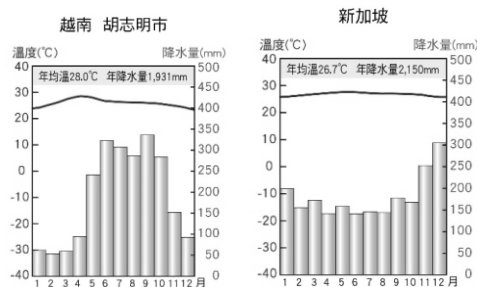
- 近年來，東南亞跨境電商平台如噴泉式爆發成長，其中 Shopee(蝦皮) 是東南亞最受歡迎電商平台，中國阿里巴巴集團投資的 Lazada(來贊達) 則緊追在後。請問這些電商看中東南亞哪一方面的發展潛力？  
 (A) 廉價勞力充足 (B) 工業技術進步  
 (C) 自然資源豐富 (D) 消費市場廣大
- 菲律賓是美國的传统軍事同盟國，印尼是美國維持在伊斯蘭世界影響力的跳板，越南則是美國亟欲拉攏制衡中國崛起的合作對象，請問上述三國圍繞的哪一片海洋，其重要性不言而喻？  
 (A) 孟加拉灣 (B) 阿拉伯海 (C) 南海 (D) 麻六甲海峽

- 【宗教多樣性指數】是以全球 6 大宗教為統計基礎，包括佛教、基督教、印度教、猶太教、伊斯蘭教、民間信仰等等，統計各國的各宗教人數比例，比例愈接近，指數就愈高。在全球 232 個國家中，指數最高分為新加坡，台灣位居第二，而宗教多樣性指數較低的國家則幾乎以伊斯蘭教國家為主，請問下列何國排名較落後？  
 (A) 緬甸 (B) 菲律賓 (C) 斯里蘭卡 (D) 孟加拉

- 印度目前為全球資訊技術和商業流程委外服務 (IT BPO) 最主要的基地，跨國企業將企業流程的某些部門外包給印度，其最主要的目的為何？  
 (A) 增加企業資金流動 (B) 增進企業語言能力  
 (C) 減少企業環境汙染 (D) 降低企業勞力成本

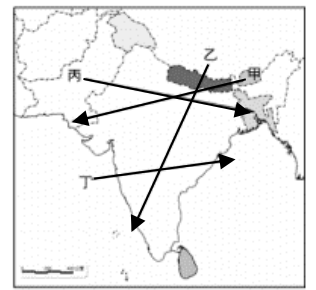
- 泰國、越南為世界重要稻米出口國，泰國香米及越南河粉、米線皆為居民主食。請問兩國盛產稻米的原因與下列哪些條件有關？  
 甲：受佛教文化影響 乙：高溫多雨的季風氣候  
 丙：河口三角洲平坦肥沃 丁：受殖民統治的歷史  
 (A) 甲乙 (B) 甲丙 (C) 乙丙 (D) 乙丁

- 右圖為東南亞胡志明市與新加坡當地的氣候圖。可發現兩地終年高溫，但新加坡的降雨較平均，越南乾溼較分明，請問造成此現象的主要原因為何下列何者？  
 (A) 緯度 (B) 洋流  
 (C) 地形 (D) 距海遠近



- 英國風險顧問公司指出，全球「對天災最無招架之力」的第一名國家是孟加拉，面臨「極度風險」的第一名國家也是孟加拉。下列對孟加拉克面臨的天災描述，何者較正確？  
 (A) 因高氣壓籠罩，形成沙漠，乾旱問題嚴重  
 (B) 位於低濕的恆河三角洲，經常洪水氾濫  
 (C) 多火山、地震，容易遭巨型海嘯襲擊  
 (D) 由地勢低平的珊瑚礁島組成，國土易被海水淹沒

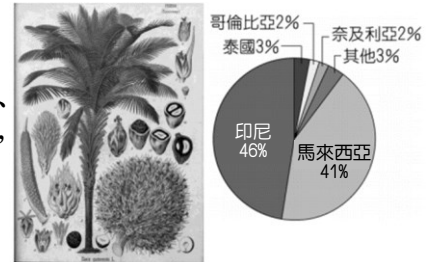
- 若想紀錄印度半島雨量由少至多的變化趨勢，要以右圖中的哪條路線來蒐集資料最能清楚呈現？  
 (A) 甲 (B) 乙  
 (C) 丙 (D) 丁



- 澳洲研究人員近年利用 3D 列印技術製造出世界最大的人工珊瑚礁，並將它放入某國海底，期望協助當地珊瑚再生，恢復海洋生態。請問此人工珊瑚施放海域最可能位於下列哪一國？  
 (A) 紐西蘭 (B) 馬爾地夫 (C) 尼泊爾 (D) 寮國

【第 12 至 14 題為題組】

右圖(一)為某種經濟作物，該作物可提煉油品，也可製造肥皂、化妝品、清潔劑、汽車燃料等，用途相當廣泛；右圖(二)為該作物的出口國比例排名。請問：




圖(一) 圖(二)

- 根據上文及圖片特徵，該作物名稱為何？  
 (A) 橡膠 (B) 椰子 (C) 油棕 (D) 可可
- 該作物的主要產地有何氣候特徵？  
 (A) 四季如夏，一雨成秋 (B) 朝穿皮襖午穿紗  
 (C) 一日見四季，一年無四季 (D) 四季如春，舒適宜人
- 此種作物所代表的農業類型通常具有下列哪些特徵？  
 (甲) 充足且廉價的勞力 (乙) 氣候溼熱 (丙) 內銷市場導向的自給性作物 (丁) 屬粗放式的農業經營 (戊) 曾淪為歐美的殖民地  
 (A) 甲乙戊 (B) 甲丙丁 (C) 乙丙丁 (D) 乙丙戊

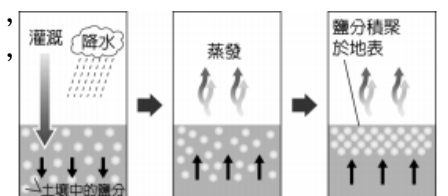
【第 15 至 16 題為題組】

排燈節 (印地語：दिवाली、Diwali) 是印度教慶祝「以光明驅走黑暗，以善良戰勝邪惡」的節日，如同新年一樣重要的節慶。每年排燈節舉辦時，使人不耐的溽暑開始消退，一年中最宜人的季節就要來臨。但是近年排燈節舉辦時印度各地都會遭遇一波嚴重的季節性霾害，除了因為節慶會點燃鞭炮、煙火慶祝之外，汙染也與農業焚林闢地、交通工具排廢及燃燒垃圾有關。2019 年印度宣布在排燈節期間民眾只允許燃放兩款環保鞭炮，政府也以連續 4 天的雷射燈光秀取代傳統煙火表演。請問：



- 根據上文可推知印度「排燈節」的時間最可能為西洋曆的幾月開始舉辦？  
 (A) 1 月 (B) 5 月 (C) 8 月 (D) 10 月

- 南亞地區有許多環境問題，除了文中提及的空氣汙染，右圖所示的環境問題最可能在下列何地發生？



- 恆河三角洲
  - 印度河流域
  - 喜馬拉雅山
  - 錫蘭島

【第 17 至 18 題為題組】

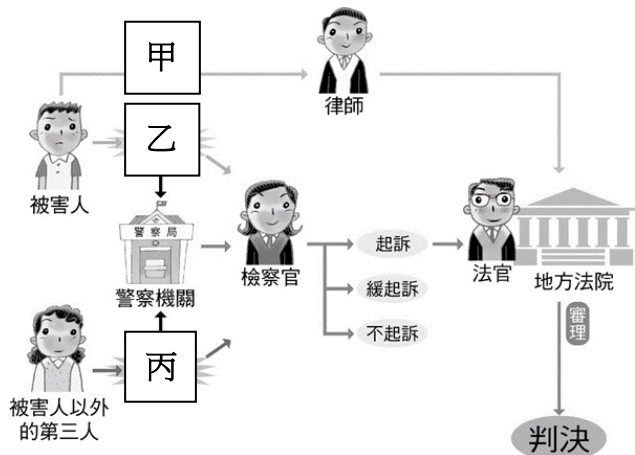
2021 年清明連續假期第一天，台鐵發生令人遺憾的重大交通事故。事故發生後，交通部法規會表示：台鐵對於太魯閣列車事故的責任追究，除了對營造公司李姓負責人請求損害賠償外，由於他既是營造公司負責人卻又違反營造業法兼任工地主任，將處以 20 到 100 萬罰款，同時本案將涉及過失致死罪，將由【甲】進行主動偵查後起訴。請根據上文回答下列問題：

背面尚有試題



17. 文中「...將由【甲】進行主動偵查後起訴」，請問：下列何項最可能是【甲】的職務範圍？  
 (A)負責調解告訴乃論刑事案件  
 (B)判決侵權賠償損失  
 (C)審理總統彈劾案  
 (D)偵查毒品走私
18. 關於該案件的敘述，下列何者**錯誤**？  
 (A)請求損害賠償屬於民事責任  
 (B)「過失致死罪」屬於刑事責任  
 (C)「20到100萬罰款」屬於契約不履行責任  
 (D)法官尚未確定判決前李姓負責人仍屬無罪狀態

【第 19 至 20 題為題組】以下是我國刑事訴訟的流程：



19. 關於圖中相關說明，下列何者**有誤**？  
 (A)法官的職權是「起訴犯罪」  
 (B)檢察官的職權是「執行判決」  
 (C)警察的職權是「協助犯罪偵查」  
 (D)律師的職權是「為當事人辯護」
20. 請依照上圖判斷，甲、乙、丙分別應依序填入何者？  
 (A)「自首」、「告訴」、「告發」  
 (B)「自訴」、「告訴」、「告發」  
 (C)「告訴」、「自訴」、「告發」  
 (D)「公訴」、「告發」、「告訴」

21. 下圖是一則網路上有關「醫療暴力」的《刑法》規範分類，請從內容判斷，下列相關敘述何者正確？



- (A)圖片中的強制罪和恐嚇罪如果雙方和解就可以免除刑責  
 (B)非告訴乃論是指被害人及其家屬需提告檢察官才會追究的案件  
 (C)告訴乃論是指國家具有主動追訴、處理的權力  
 (D)告訴乃論的刑事案件原則上可以進行調解
22. 近年來新興毒品氾濫，毒品工廠不斷藉由變更毒品化學式來脫罪，由於需要行政院公告的毒品才可以論罪，導致於列管的腳步跟不上結構變異的速度。因此法務部先前提出「毒品危害防制條例修正案」，試圖把化學結構類似的變異毒品一次納管，但草案卡在立法院仍無下文，目前聯合國揭示的新興毒品已達971種，而國內新興毒品僅列管348種；法務部希望立委儘速通過修正案，以免影響緝毒成效。根據上述內容判斷，法務部希望將變異的毒品一次納管，與哪一項法律原則的考量有關？  
 (A)權力濫用禁止原則 (B)無罪推定原則  
 (C)罪刑法定原則 (D)誠實信用原則

23. 鄰家女孩小花尚未成年，但她已經可以和經紀公司簽約成

為藝人，且無須法定代理人同意，不過她竊取他人信用卡而盜刷卻可以減輕其刑。根據上述內容，下列最可能符合小花的狀態？  
 (A)年滿18歲 (B)23歲卻受監護宣告  
 (C)19歲但為瘖啞人 (D)17歲的已婚者

24. 小軒正在整理公民段考重點，關於「告訴乃論」與「非告訴乃論」的比較表格，請同學們幫他指出**錯誤**的地方？

	告訴乃論	非告訴乃論
(A)定義	國家具主動追訴處罰的權力	國家不能主動追訴處罰
(B)提出者	由被害人提出	檢察官可依職權逕行起訴
(C)救濟方式	調解、訴訟	訴訟
(D)例子	誹謗、毀損	竊盜、殺人

25. 水果日報在Facebook刊登以下新聞：「三人入侵店家行竊，被警方逮捕，將處以刑罰...」，目前看到三位網友留言（如右圖），請判斷①、②、③這三則留言，依序分別為刑罰的哪種目的？  
 (A)處罰、預防、矯正  
 (B)預防、處罰、矯正  
 (C)預防、矯正、處罰  
 (D)矯正、處罰、預防



26. 名偵探柯南正在調查一起縱火案件，他聽四位關係人的說詞如下表。以年齡判斷，四人年齡由小至大排序分別為？

小南	我雖然未成年但可以負擔完全刑事責任，正在與女朋友逛街時，與他擦肩而過，有聞到汽油味...
小悠	我本來要跟那個男人結婚的，但離法定年齡差一歲，後來他入獄服刑，我們就分手了...
小郡	我肚子餓去買麵包，店員告訴我必須請我媽媽來買才可以，我走路回家就發現失火了...
小鈞	我因為偽造文書罪入獄服刑，犯罪當時已成年卻因年齡增加一歲而獲得減刑，曾經聽他說他住這附近，出獄後要報復...

- (A)小南→小悠→小郡→小鈞  
 (B)小悠→小南→小鈞→小郡  
 (C)小郡→小悠→小南→小鈞  
 (D)小鈞→小南→小悠→小郡
27. 上課時，老師拿出四張海報，結果一不小心海報掉到地上，順序全亂了，請你幫老師把海報順序重新排列，必須符合「刑事訴訟的過程」，並正確將過程依序寫出來？

海報(甲)	警察循線找到小強，發現他撿到手機，卻未物歸原主反而侵占使用，檢察官對小強追訴犯罪...
海報(乙)	小穎發現手機不見了，立刻到警局報案，警察受理後，移送檢察官偵辦...
海報(丙)	移交檢察署，交由檢察官執行判決的處罰...
海報(丁)	小強撿到手機，卻未物歸原主反而侵占使用，法官判處小強罰新台幣一萬兩千元...

- (A)乙：偵查→甲：起訴→丁：判決→丙：執行  
 (B)甲：起訴→丁：判決→乙：偵查→丙：執行  
 (C)乙：起訴→甲：偵查→丁：判決→丙：執行  
 (D)丙：偵查→乙：起訴→丁：判決→甲：執行

請繼續作答下張試卷

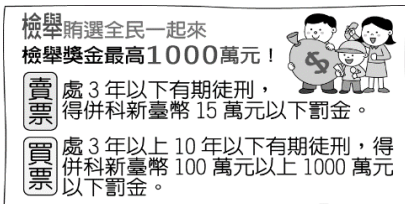


新北市立新莊國民中學 109 學年度第 2 學期第 2 次段考 8 年級社會領域試題卷

班級 座號 姓名

28. 社會素養課程，正在進行關於犯罪的相關議題討論，哪個人的觀念較為正確？  
 (A)小彤：刑事案件種類可以分為「告訴乃論」及「非告訴乃論」  
 (B)小遠：刑法主要規範追訴及處罰犯罪的過程  
 (C)小斌：刑事責任追訴方式可分為「告訴」及「公訴」  
 (D)小丞：刑事訴訟法主要規範犯罪的行為和處罰方式

29. 右圖是宣導反賄選的海報，根據圖中內容判斷，關於賄選行為的處罰，與下列何者所應負起的法律責任類型相同？  
 (A)小程拒絕還小晨的錢  
 (B)小霓不慎摔壞小錡的手機  
 (C)小恩騎機車沒戴安全帽  
 (D)小霆因誹謗罪被起訴



30. 媒體報導：「李黃○○議員係於89年至99年間，利用其擔任新竹市議員聘請公費助理之職務上機會，以人頭助理之名義向市議會詐領助理費後，供己私用，李黃○○在此過程中共詐得942萬6千餘元，經檢察官於99年6月間將李黃○○議員起訴後，經臺灣高等法院3次審理，最後於108年8月1日將李黃○○判處(甲)有期徒刑4年，(乙)褫奪公權3年，並將上開犯罪所得宣告(丙)沒收。」針對(甲)、(乙)、(丙)的敘述，何者正確？  
 (A)(甲)與拘留同屬主刑  
 (B)(乙)與沒收同屬從刑  
 (C)(丙)依現行法令可以單獨宣告  
 (D)只有(丙)可能單獨出現於判決中

31. 小慈今天公民課小考，每題20分，總分100分，請你幫他判斷一下他應該得幾分？

1. (○)	偵查是刑事訴訟的重心，展開偵查的原因可能為告訴、告發、自首…等。
2. (×)	刑事偵查權屬於檢察官，起訴與否決定權在於法官。
3. (○)	國民法官法規定將由6位國民法官及3位職業法官一起決定被告是否有罪。
4. (○)	檢察機關隸屬於行政院，法院則隸屬於司法院。
5. (×)	檢察官在刑事訴訟法庭上擔任原告，與被告同屬於平等地位。

(A)100分 (B)80分 (C)60分 (D)40分

32. 新聞報導：「大甲警方破獲詐騙集團，除了女車手「小宇」年僅15歲，其他3名車手也都未成年，年紀最小竟只有10歲負責把風，其他分別為12歲及14歲，堪稱詐騙集團史上最年輕，而擔任車手原因都只是想打工賺錢花用。警方除依詐欺等罪嫌將4人移送法辦外，也提醒青少年暑假打工務必對工作內容多加了解，以免誤觸法網，後悔莫及。」根據內容判斷，其相關行為人各要負擔哪些責任？  
 (A)小宇要負完全刑事責任，其他三人可以減刑  
 (B)小宇和14歲少年可以減刑，另外10歲及12歲兩人可以免刑  
 (C)僅10歲少年免刑，其他三人均為限制責任能力人  
 (D)小宇與14歲少年須負完全責任能力，另外10歲及12歲兩人可以減刑

33. 假消息是媒體亂象之一，常常是媒體在未經查證其內容的真實性及正確性，即透過報導形式公開播送。以下新聞標題，哪些是屬於「假消息」？

甲	關於這起詐欺案件，屬告訴乃論，全案將交由檢察官進行偵辦
乙	81歲老先生逆向行車，造成被害人輕傷，法官減輕其刑
丙	恐龍法官！某立委助理酒後傷人，法官僅判褫奪公權

丁	朱嫌因罪嫌重大，今遭警方逮捕後即入獄服刑
戊	法官針對案件，不授權貴影響，依法判處罰金
己	國小男童家境可憐，偷麵包給妹妹吃，依刑法規定可予以減刑

(A)乙丙丁戊 (B)甲丙丁己 (C)丙丁戊己 (D)甲乙丁戊


34. 請將以下民國12-17年發生的史事按時間順序加以排列：  
 (甲)創辦陸軍軍官學校  
 (乙)蔣中正率國民革命軍北伐  
 (丙)孫中山採行「聯俄容共」政策  
 (丁)蔣中正以武力掃除國民黨內的中共分子  
 (戊)成立廣州國民政府  
 (A)甲丁丙乙戊 (B)乙甲丁戊丙  
 (C)丙甲戊乙丁 (D)丁戊乙甲丙

35. 北伐完成、全國統一後，依據孫中山先生《建國大綱》的理念，國家發展進入訓政時期。請問：關於此時期的敘述，下列何者正確？  
 (A)以《中華民國臨時約法》為國家最高法律  
 (B)容納不同黨派意見，落實民主政治  
 (C)蔡元培推動平民教育不遺餘力  
 (D)鐵路、公路、航空運輸均有所發展

36. 「1934年10月至1936年10月，這些軍隊穿越大面積的雪山、高寒的高原草甸、永久凍土帶和無人區，共經過11個省、18座大山、24條大河、5座連續的雪山，最終抵達陝西省北部，作為其根據地。」請問：何者和上述歷史事件有關？  
 (A)日本展開大規模侵華戰爭  
 (B)國民政府五次剿共  
 (C)國民革命軍北伐  
 (D)國民黨發動二次革命

37. 請問右方兩則資料描述的內容，最有可能發生在下列哪一時期？  
 (A)民國1到5年  
 (B)民國5到17年  
 (C)民國17到26年  
 (D)民國38到42年

新稅則規定了不超過12.5%的新關稅稅率，新關稅實行後，所有的關稅均由海關徵收，海關自此成為了民國政府財政部的下屬機構。



38. 有一首歌的歌詞寫道：「我的家在東北松花江上 那裡有森林煤礦 還有那滿山遍野的大豆高粱 我的家在東北松花江上 那裡有我的同胞 還有那衰老的爹娘 ...從那個悲慘的時候 脫離了我的家鄉 拋棄那無盡的寶藏 流浪流浪 整日在關內流浪 哪年 哪月 才能夠回到我那可愛的故鄉」請問：歌詞中「從那個悲慘的時候」，是指哪一歷史事件的發生？  
 (A)盧溝橋事變 (B)一二八事變  
 (C)珍珠港事變 (D)九一八事變

39. 家康看到一張郵票（如右圖），對於印在上面的肖像感到好奇，如果他查詢該人物的相關資料，下列何者符合其事蹟？  
 (A)改民國5年為洪憲元年  
 (B)民國元年被袁世凱脅迫而退位  
 (C)民國21年受蘇聯扶持而成為傀儡皇帝  
 (D)民國17年率東北軍歸順國民政府



背面尚有試題



40. 下圖A與下圖B是某一事件發生時，立場不同的兩份報紙所刊載的報導。請問：根據這兩則報導的內容，下列敘述何者正確？



- (A) 事件發生在十年建設期間
- (B) 上圖B偏向於親共人士的立場
- (C) 「張學良率部叛變」的原因是不滿中央「先攘外後安內」的政策
- (D) 「對蔣兵諫」結果是中央持續剿共至八年抗戰結束

【第 41 至 43 題為題組】根請據下圖回答下列問題：



41. 「民國26年7月7日夜11時，日本軍隊在國民革命軍駐地附近進行夜間軍事演習，並以『一名士兵失蹤』為理由，要求進城內搜查。由於時間已是深夜，中國駐軍拒絕日軍的要求，日軍開始從東西兩門外炮擊城內，城內守軍未予反擊。在日軍強化攻擊後，中方守軍以正當防衛為目的開始反擊，雙方互有傷亡。」請問：上述事件發生在上圖何處？

- (A) 甲 (B) 乙 (C) 丙 (D) 丁

42. 1937年12月13日《東京日日新聞》報導日軍少尉向井敏明和野田毅在攻佔中國首都時進行殺人競賽，商定先殺滿100人者為勝。兩人各稱殺了106人和105人，但是不知道誰先殺滿100人，所以決定重新比賽。請問：上述報導的內容發生在上圖何處？

- (A) 甲 (B) 乙 (C) 丙 (D) 丁

43. 抗日戰爭爆發後，國民政府認為日本國力強盛，中華民國可能會被擊敗，所以採取「以空間換取時間」的拖延戰術，爭取後方製造武器、兵力編排等整體的規劃。請問：國民政府決定遷都上圖何處以進行長期抗戰？

- (A) 甲 (B) 乙 (C) 丙 (D) 丁

44. 「1941年12月7日，日本戰機攜帶大量炸彈轟炸夏威夷的海軍基地，第1枚炸彈是在早上7點55分爆炸，9點時日軍全部收隊回去，日本僅損失了29架飛機和4艘袖珍潛艦。受攻擊的一方則損失慘重，20艘軍艦翻覆和沉沒，300多架飛機在地面被擊毀，2400名軍人與平民死亡、1千多人受傷。」請問：何者為上述事件的影響？

- (A) 開啟第一次世界大戰的太平洋戰場
- (B) 中華民國加入軸心國陣營，和德、義並肩作戰
- (C) 美國對日宣戰，成為戰局扭轉的關鍵
- (D) 第二次世界大戰的歐洲戰場因而爆發

45. 1945年8月14日昭和天皇宣讀《終戰詔書》，內容如下：

「...朕陸海將兵之勇戰、朕百僚有司之勵精、朕一億眾庶之奉公，各不拘於盡最善；而戰局未必好轉，世界大勢亦不利我。加之敵新使用殘虐爆彈，頻殺傷無辜，慘害所及，真至不可測。而尚繼續交戰，終乃招來我民族之滅亡而已，延可破卻人類文明。」請問：詔書提到「敵新使用殘虐爆彈」的「敵」指的是哪一個國家？

- (A) 蘇聯 (B) 英國 (C) 中華民國 (D) 美國

46. 1945年召開的一場國際會議中，在列強有求於蘇聯的情況下，史達林開了一系列的開戰條件。會議結果影響的國家太多，決定了東歐、北歐十幾國，以及中國的戰後命運，但是這些國家卻無一知悉。東歐各國原本是納粹侵略下的受難者，在戰爭結束後卻成為蘇聯的附庸，直到1991年蘇聯解體為止。請問：關於此會議的敘述，下列何者正確？

- (A) 參加者為中、美、英、蘇四國的領袖
- (B) 聲明戰後日本應將東北、臺灣、澎湖歸還中華民國
- (C) 會議召開的背景是為了爭取蘇聯對德國作戰
- (D) 同意戰後蘇聯取得中國東北權益

47. 在這個國際組織中，即使決議獲大部分成員國支持，中、美、英、法、蘇五國仍可投反對票，使任何的決議無效。若於投票時上述五國缺席或投棄權票，則不視為對議案表示反對。請問：中華民國取得上述權利的歷史背景為何？

- (A) 中華民國參與國際聯盟的創建
- (B) 中華民國擔任安全理事會的常任理事國
- (C) 中華民國與美、英等國簽訂平等新約
- (D) 中華民國參與開羅會議，國際地位提升

48. 電影《稻草人》描述日治時代後期，佃農陳發、陳闊嘴收成不好，牛又被徵收做牛肉罐頭，兄弟倆也徵召去做軍伕。後來稻田裡落下一枚未爆彈，兄弟倆認為炸彈更價值連城，打算運送到日本軍部去領取巨賞。無奈日本人不領情，兩人只好把炸彈運到海邊丟棄，不料炸彈在海中爆炸，許多魚兒被炸上水面，大家都爭搶著撈魚。請問：關於電影劇情描繪的歷史背景，下列敘述何者正確？

- (A) 發生在第一次世界大戰期間
- (B) 當時總督府在臺灣推行皇民化運動
- (C) 兄弟倆被徵召為中華民國作戰
- (D) 掉在田中的未爆彈為日本所投擲

49. 右圖為民國37年中華民國政府所發行的新貨幣「金圓券」，以取代不堪使用的法幣。請問：根據此貨幣的面值，可知當時面臨的問題「不」包括下列何者？



- (A) 購買力下降
- (B) 幣值下降
- (C) 物價下降
- (D) 財政金融崩潰

50. 第二次世界大戰結束後，中華民國並未走向長治久安的盛世，隨之而來的內戰和經濟危機，令政府疲於奔命、百姓生活墜入困境。請問：關於這段期間發生的史事，下列敘述何者正確？

- (A) 民國34年頒布《動員戡亂時期臨時條款》
- (B) 民國36年1月1日實施《中華民國憲法》
- (C) 民國37年孫中山當選行憲後第一任總統
- (D) 民國38年政府遷台並實施《戒嚴令》

試題結束

新北市立新莊國民中學 109 學年度第 2 學期第 2 次段考 8 年級社會領域試題  
解答

1	2	3	4	5	6	7	8	9	10
<b>B</b>	<b>A</b>	<b>D</b>	<b>C</b>	<b>D</b>	<b>D</b>	<b>C</b>	<b>A</b>	<b>B</b>	<b>C</b>
11	12	13	14	15	16	17	18	19	20
<b>B</b>	<b>C</b>	<b>A</b>	<b>A</b>	<b>D</b>	<b>B</b>	<b>D</b>	<b>C</b>	<b>A</b>	<b>B</b>
21	22	23	24	25	26	27	28	29	30
<b>D</b>	<b>C</b>	<b>D</b>	<b>A</b>	<b>B</b>	<b>C</b>	<b>A</b>	<b>A</b>	<b>D</b>	<b>C</b>
31	32	33	34	35	36	37	38	39	40
<b>B</b>	<b>B</b>	<b>B</b>	<b>C</b>	<b>D</b>	<b>B</b>	<b>C</b>	<b>D</b>	<b>B</b>	<b>A</b>
41	42	43	44	45	46	47	48	49	50
<b>A</b>	<b>C</b>	<b>B</b>	<b>C</b>	<b>D</b>	<b>D</b>	<b>B</b>	<b>B</b>	<b>C</b>	<b>D</b>