

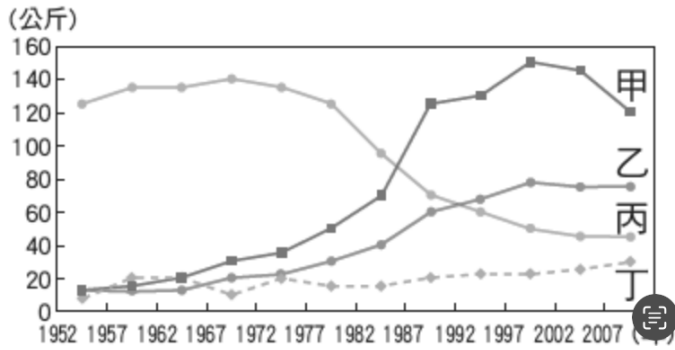
# 新北市立新莊國民中學 112 學年度第 2 學期第 2 次段考 7 年級社會領域試題卷

班級 \_\_\_\_\_ 座號 \_\_\_\_\_ 姓名 \_\_\_\_\_

- ※ 選擇題：本試卷共 50 題，每題 2 分，總分為 100 分。  
 ※ 請用 2B 鉛筆在答案卡上相應的位置畫記。

1. 下圖為台灣 1950 年代~2007 年代的稻米、花卉、蔬菜、水果的銷售量統計圖，請根據此圖判斷，下列何者最可能是稻米？

(A)甲 (B)乙 (C)丙 (D)丁



2. 下表為台灣某年的前六大進出口貨品明細表，請根據表中資料判斷，下列敘述何者正確？

排名	進口貨品	金額	出口貨品	金額
1	積體電路	814	積體電路	1,555
2	生產半導體之機械	254	電腦零組件	176
3	原油	199	電腦及其附屬單元	120
4	液化天然氣	114	儲存媒體	106
5	石油煉製品	95	手機及通訊器	102
6	煤	84	石油煉製品	97

(單位：億美元)

3. 近年來農業部積極整合 AI、自動化機械與無人機，導入農業耕作體系，以提高農業耕作的效率。試問：農業部的計畫可能是為了因應台灣農業的何種現象？

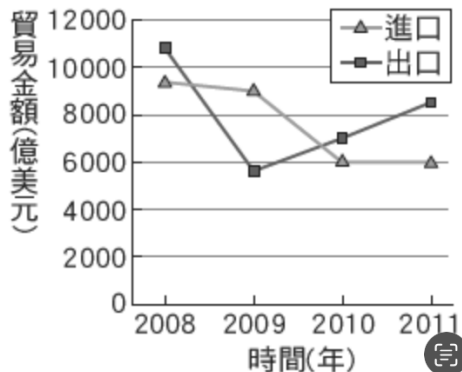
(A)農作種類多元 (B)農業耕地狹小  
 (C)農村人力不足 (D)農產品商品化

4. 附表為台灣與其他國家生乳價格統計表，由表中資料可見台灣生乳價格比其他國家高上許多，但市面上仍以台灣生乳為主，此與乳品的何項工業區位特質有關？

生乳價格(新臺幣/每公斤)			
臺灣	美國	德國	紐西蘭
28.8	12.6	10	7.9

(A)原料 (B)交通 (C)市場 (D)勞工

5. 附圖為某國 2008 年~2011 年的進出口貿易金額統計表，請根據此表判斷其哪一年度的貿易入超額度最多？

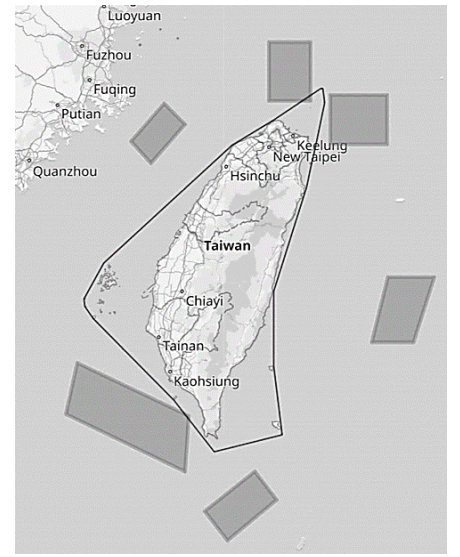


(A)2008  
 (B)2009  
 (C)2010  
 (D)2011

6. 『在眾人不看好的情況下，位在高屏地區的多位農夫投入大農場計畫，將附近的荒地整併成好幾千公頃的農地，從播種到採收全面機械化，創造出年產值上億的毛豆傳奇，並且外銷至日本。』從以上敘述可知，台灣農業經營面臨下列哪項困境？

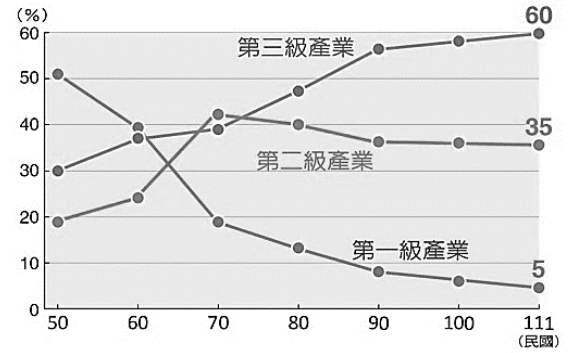
(A)傳統粗放農業無法面對機械化衝擊  
 (B)加入世界貿易組織，面臨開放市場壓力  
 (C)雨季與生長季不相符，無法提高產量  
 (D)耕地狹小且零碎，導致生產成本較高

7. 附圖中灰色為中國 2022 年封鎖環台軍事演習的公告射擊警戒範圍，黑色線條為領海基線，若以此圖來看，台灣何種漁業作業範圍受到的衝擊最大？



(A)沿岸漁業  
 (B)近海漁業  
 (C)遠洋漁業  
 (D)養殖漁業

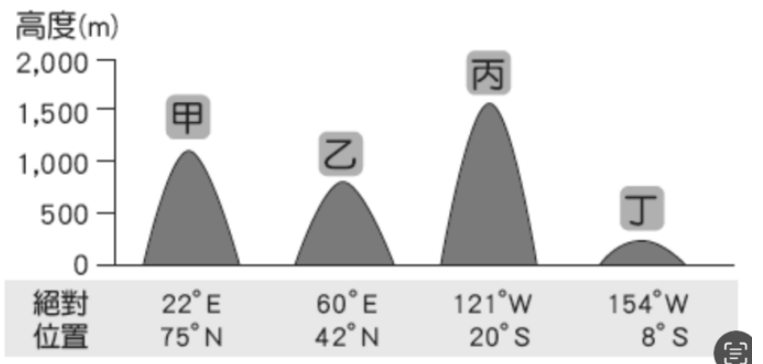
8. 附圖為台灣不同時期的三級產業比例折線圖，圖中 50~60 年的工業人口比例逐漸增加，此增加的比例大多從事下列哪種工業？



(A)輕工業  
 (B)重工業  
 (C)高科技工業  
 (D)農產加工業

9. 農場經營科的學生，想來一趟國外水果特產知性之旅，希望能到水果種類最多元的地方進行考察，試問下列四個地點當中，何地最能滿足考察團的期望？

(A)甲 (B)乙 (C)丙 (D)丁



10. 台灣鋼鐵、煉油工廠多分布在高雄一帶，此與當地的哪一項特色關係密切？

(A)擁有大型的國際商港 (B)位於高速鐵路的終點  
 (C)沿海生產豐富的石油 (D)高速公路的南端樞紐

11. 因應非洲豬瘟，政府輔導養豬業者改用飼料，並且查核廚餘是否有完善高溫蒸煮設備，以避免豬瘟傳染開來。試問：政府要輔導的業者，多分布在圖中哪些地方？



(A)ㄅ、ㄆ (B)ㄅ、ㄇ  
 (C)ㄆ、ㄇ (D)ㄇ、ㄏ

12. 台灣中部傳統農業以自給自足為主，但自民國 60 年代以後，逐漸轉變為專業化生產專區，如花卉、蔬菜專業區等，此轉變的主因最可能與下列何者有關？

(A)飲食習慣改變 (B)交通設施完善  
 (C)農村人口外流 (D)耕作技術進步

背面尚有試題

【第 13 至 14 題為題組】

玉兔文具為了就近使用太平山林場的木頭製造鉛筆，於 1971 年在宜蘭設廠，高峰時員工人數一度達 550 人，被喻為文具產業界的標竿，在同業利百代、雄獅紛紛前進中國、東南亞設廠的時候，仍堅持『Made in Taiwan』的精神。請問：

13. 玉兔文具於宜蘭設廠，最主要考量的區位因素為下列何者？  
 (A)市場 (B)交通 (C)勞工 (D)原料
14. 雄獅、利百代前往中國、東南亞設廠，可能考量的是下列哪項因素？  
 (A)當地生產技術先進 (B)當地勞工素質較高  
 (C)當地市場規模較小 (D)當地勞力薪資低廉

【第 15 至 16 題為題組】

地方政府為推行休閒觀光產業，於各地設立許多產業館，讓遊客有機會認識各地特產，除了介紹當地特產外，更可認識當地的產業文化。附圖為某一產業館展示的特產分布圖，請根據此圖回答下列問題：



15. 根據此特產圖的分佈位置判斷，此館的名稱可能為下列何者？  
 (A)高山茶產業館 (B)芒果產業館  
 (C)蔗糖文化館 (D)米食文化館
16. 下列解決農業困境的方法中，何者內涵與地方政府設立產業館的目的相同？  
 (A)品質提昇 (B)品牌經營  
 (C)改善通路 (D)多角化經營
17. 日前長榮航空機師為爭取調薪、提高外站津貼以及訴求禁用違法外籍機師，與長榮航空勞資爭議調解破局，並合法取得罷工權。後來在行政院副院長與主管機關勞動部次長努力協調下，雙方達成協議，宣告罷工危機正式落幕。機師加入「桃園市機師職業工會」，並參加工會所舉辦的相關活動，希望能讓工會組織的力量更大，以維護機師的權益。根據上述說明，請問藉由參加志願結社可獲得下列何者功能？  
 (A)滿足物質需求 (B)參與公益活動  
 (C)達成共同目標 (D)遵守法律規範
18. 有些團體非依據個人志願加入，而是成員未做選擇即歸屬於其中，又稱為非志願團體。下列何者為此團體？  
 (A)工會 (B)家庭 (C)政黨 (D)動物保護協會
19. 勵馨基金會於 1988 年由一群基督徒因關心台灣少女被人口販運之議題而成立，30 多年來，從少女中途之家到擴展家暴、性侵等性別暴力服務，目前在全國 15 個縣市有 50 餘個服務據點，以分工方式分層負責，每年服務近兩萬名性別暴力倖存者脫離暴力影響，展開新生活。上述畫線簡介中，最能看出該團體何種特性？  
 (A)民間性 (B)自主性 (C)組織性 (D)非營利性
20. 世界展望會網頁上說到：烏克蘭危機加速我們餐桌食材變貴，全球更有 8.28 億人陷入飢餓；氣候變遷使台灣缺水與酷暑益發平常，而過去 8 年是地球史上最熱的 8 年。此刻，遠方危機不再是遙遠的故事，更是需要你我共同搶救的未來。世界展望會以「翻轉危飢，救要現在」為主題，持續援助國內外脆弱兒童需要。上述內容最能看出該團體何種特性？  
 (A)民間性 (B)自主性 (C)組織性 (D)非營利性

21. 英國作家霍爾在書中以『我不同意你的意見，但我誓死捍衛你說話的權利』這段話來闡釋伏爾泰的思想，對於這段話的詮釋，哪一個選項最為正確？  
 (A)面對公共事務時，應附和大家意見才能維持良好人際關係  
 (B)面對社會處境不利的族群，我們應該協助表達意見  
 (C)討論公共事務時，只允許參與人員討論一種主流意見，以加速討論速度  
 (D)討論公共事務時，每個人都可以有表達意見的權利
22. 賢祐原本對於塑膠產品的使用覺得稀鬆平常，日前在學校聽到無塑宣導，看到海湧工作室講師播放從海龜氣管拔出塑膠吸管的影片，認為海洋環境需要重視，決定將減塑觀念付諸行動。上述內容可看出該組織帶來下列何種影響？  
 (A)發揮法治精神，提醒民眾遵守法規  
 (B)維護民眾利益，協助當地經濟發展  
 (C)促進社會大眾關注，達成組織共同目標  
 (D)藉由抗議行動挑戰政府權威
23. 俄烏戰爭期間，因為社群網站及手機普遍的情況下，許多移花接木的照片或影片搭配聳動的標題廣為流傳，這些假訊息可能影響民眾輿論風向。針對上述現象，下列何者應該更受到重視？  
 (A)媒體識讀的能力 (B)資訊設備的升級  
 (C)人性尊嚴的保障 (D)公共意見的形成
24. 隨著勞動權益日漸被重視，台灣對於五一勞動節的放假措施也有愈來愈多討論。現行軍公教不適用於 5 月 1 日勞動節休假，也造成政府機關、各級學校每年 5 月 1 日就存在多種出勤制度亂象。全國教師工會總聯合會召開記者會呼籲，政府不應分化勞動者，「五一國定假」今年就應開始實施。根據上文，全國教師工會總聯合會提出訴求引發討論，為公共意見的哪種特性？  
 (A)公開性 (B)差異性 (C)影響性 (D)不穩定性
25. 新聞報導：農委會日前預告《動物保護法》修正草案，禁止夜市攤商以娛樂或是遊戲方式，把動物當作贈品來交換，違者最高可罰 25 萬元，因涉及相關法案「撈金魚」恐成絕響，攤商覺得倉促應變不及而反彈。農委會隨後政策緊急轉彎，緊急改口，將優先禁止夜市攤商提供付費遊戲換天竺鼠、兔子等哺乳類動物，暫時不納入撈金魚和烏龜等水族類。請問上述為公共意見的哪種特性？  
 (A)公開性 (B)差異性 (C)影響性 (D)不穩定性
26. 適逢 5 月報稅的季節，有位民眾在 Join（公共政策網路參與）平台上反應：報稅軟體難用到爆炸。財政部就邀請罵得最兇的一群人參加共創工作坊，一起找出報稅軟體到底哪裡出了問題。」而該民眾表示：「參與這個案子，是我成為網路酸民之外的另一個選擇，更是我不用參選也可以改變政府的方式。」請問：上文劃線敘述主要展現何種參與公共事務的重要性？  
 (A)公共事務以官方處理為主  
 (B)讓決定更貼近群體成員的需求  
 (C)監督執行以防止少數人的操弄  
 (D)群體成員發揮遵守法律的精神

請繼續作答下一張試題

# 新北市立新莊國民中學 112 學年度第 2 學期第 2 次段考 7 年級社會領域試題卷

班級 \_\_\_\_\_ 座號 \_\_\_\_\_ 姓名 \_\_\_\_\_

27. 今年 3 月，有民眾在公共政策網路參與平台提出「讓台灣成為亞洲第一個週休 3 日的國家」，由於獲得許多人的回響，達到附議門檻，勞動部乃召開公聽會、專家諮詢會議等，彙整各方意見，就提案與相關規定進行評估，以作為修訂相關政策之參考依據。針對上文，若以公共意見的概念判斷，下列敘述何者正確？
- (A) 政府制訂政策前以召開公聽會等方式彙整各方意見，了解民眾需求  
 (B) 民眾的個人問題一旦透過社群網路公開發表後，即會形成公共意見  
 (C) 此一提案引發支持與反對的雙方激辯，顯示出公共意見的「不穩定性」  
 (D) 政府回應公共政策網路參與平台的提案，顯示公共意見的「差異性」

28. 現今臺灣的新聞媒體，時常把社群網路上的內容抄下來，並直接作為新聞報導的素材，顯示媒體在何種面向有待加強？
- (A) 遵守專業倫理，擷取各家媒體報導彙整成新聞  
 (B) 發揮媒體自律，報導前應善盡事實查證的義務  
 (C) 落實第四權，立場保持客觀中立不偏頗  
 (D) 強調新聞自由，保有新聞媒體的自主性

29. 部分節目透過聳動標題爆料或製造爭議性話題，引發民眾恐慌或造成業者業績受損。請問上述情形哪一個政府單位有職權可以開罰？
- (A) 行政院新聞傳播處 (B) 立法院  
 (C) 行政院文化部 (D) 國家通訊傳播委員會

30. 假新聞與假資訊破壞人類溝通最根本的真實原則，傷害民主運作最基礎的信賴原則，必須加以遏止，以免損壞公共生活的品質。特別是在數位時代的今天，錯誤資訊藉由新傳播科技不斷進化，已成為人類追求理想社會的巨大障礙。若要成為明智的閱聽人，避免誤信錯誤報導，下列哪一種做法最有助於培養媒體識讀的能力？
- (A) 利用台灣事實查核中心查證內容  
 (B) 抱持懷疑的態度並拒絕觀看新聞  
 (C) 參考大眾輿論的方向來選擇媒體  
 (D) 根據收視率的高低選看電視節目

### 【第 31 至 33 題為題組】

上公民課時，老師利用字卡來說明某一主題的內容。

- 由兩個或兩個以上的人所組成
- 由一群具有共同目標的人所組成
- 透過互動與溝通相互依賴與影響
- 加入「它」是憲法賦予的基本權利

31. 根據字卡內容判斷，老師主要是想介紹哪個主題？  
 (A) 家庭 (B) 學校 (C) 團體 (D) 政府
32. 下列何者最有可能是公民老師針對該主題所舉的例子？  
 (A) 電影院的觀眾 (B) 參與反毒大遊行的學生  
 (C) 捷運上的乘客 (D) 車禍受難者救援協會
33. 字卡中所述「加入『它』是憲法賦予的基本權利」，所指的是何項基本權利？  
 (A) 集會自由 (B) 言論自由 (C) 結社自由 (D) 意見自由

### 【第 34 至 35 題為題組】

**台灣文化協會成立百年**  
**台史博特展活潑登場**

台灣文化協會今年成立 100 週年，國立台灣歷史博物館策辦「樂為世界人：台灣文化協會百年特展」今天登場，以史料物件及趣味互動遊戲，展現文協活潑熱情的面貌。

策展團隊人員說，「樂為世界人：台灣文化協會百年特展」，以「前進、熱情、希望」作為特展精神，對照過去與當代情境，運用數位科技與歷史人物聯結……

以上出自 2021 年中央社 CNA

34. 上面新聞提到，今年是協會創立 100 周年，請問：關於這個協會的敘述何者正確？  
 (A) 發行台灣民報，設立讀報社  
 (B) 讓台灣人第一次行使投票權  
 (C) 成功爭取台中中學校的設立  
 (D) 成立時間在皇民化運動時期
35. 策展團隊人員說：「...運用數位科技與歷史人物的聯結...」請問：現場民眾會與哪些歷史人物互動？  
 (A) 林獻堂與蔣渭水 Podcast 聊時事  
 (B) 戴上 VR 眼鏡參觀白色恐怖時期牢房  
 (C) 利用 AR 裝置，尋找偷賣私菸的分子  
 (D) 與 AI 律師一起幫雷震辯論，讓他無罪

### 【第 36 至 38 題為題組】

監察院國家人權委員會今日舉行國際人權日特展，院長陳菊也與監委一同觀看《行過黑暗之路》影片。這七分多鐘影片裡，一開始先是播放 1979 年 12 月 13 日清晨，陳菊在內的政治犯被捕後，他們是眼睛被綁起來、手銬著，丟進調查局的「安康招待室」偵訊。陳菊回到該地點時向促轉會主委楊翠等人說明當時牢房裡他們如何被監視。

以上出自 2020 年 12 月 4 日 NEWTALK 新聞

36. 陳菊在影片裡回憶道：「你看不到他們，他們看得到你」，就連睡覺也是隨時被注視，經過 72 小時疲勞偵訊後仍要天天被訊問……」，請問：根據上面新聞判斷，當年發生什麼事件？  
 (A) 大學生要求修憲、中央民意代表全面改選  
 (B) 美麗島事件爆發，許多黨外人士被捕入獄  
 (C) 黨外人士創辦自由中國雜誌，遭政府壓制  
 (D) 蔣經國總統拒絕解嚴，引起社會大眾不滿
37. 請問：政治犯被關押在牢房後，在監獄裡最有可能看到哪個政治標語？  
 (A) 「勿纏足，強種族！勿纏足，強種族！」  
 (B) 「不可隨地大小便或吐痰」  
 (C) 「保密防諜，人人有責」  
 (D) 「剪髮不貴，染燙免費」
38. 根據上面新聞內容判斷，請問：當時台灣人民在日常生活中會遇到哪些現象？  
 (甲) 台灣總督府是當時台灣最高機構  
 (乙) 因為戒嚴令人民無法有集會自由  
 (丙) 國共內戰狀況危急，政府撤退來台  
 (丁) 發現「言行異常」的人要立刻通報  
 (A) 甲乙 (B) 乙丁 (C) 乙丙 (D) 甲丁

39. (圖一)是新竹火車站屋頂的鐘塔樓，這是新竹有名的地標，在 1913 年由日本人設計完工，請問：根據(圖一)判斷，下列敘述何者正確？



(圖一)

- (A) 日治時期新的休閒場所  
 (B) 日本建立刷牙洗澡觀念  
 (C) 培養台灣人的守時觀念  
 (D) 波麗路餐廳的西式餐點
40. 陳澄波是一位畫家，他的畫作曾入選日本「帝國美術展覽會」，在台灣藝術上有著卓越的貢獻，但 1947 年 3 月 25 日這一天，他的生命被強制畫下句號，未經審判直接在嘉義火車站被軍隊槍決，請問：陳澄波當時受到哪件事情的波及？  
 (A) 支持中國民主黨的建立，得罪政府機關  
 (B) 突破黨禁成立民進黨，遭到政府的迫害  
 (C) 政府下令「清鄉」，掃蕩反政府的分子  
 (D) 抗議動員戡亂的頒布，被視為叛亂分子

背面尚有試題

# 新北市立新莊國民中學 112 學年度第 2 學期第 2 次段考 7 年級社會領域試題卷

班級                      座號                      姓名

41. 1904 年「達邦蕃童教育所」成立，目前校名為「達邦國民小學」有 117 年的歷史，請問：關於這間國小，下列敘述何者錯誤？  
 (A)建立初期就讀者皆為原住民  
 (B)日治時期校內皆以日語教學  
 (C)1904 年校內已實施六年國民義務教育  
 (D)校內的設施與師資皆比不過「小學校」
42. 歷史舞台劇現在正演出 1940 年代的台灣社會，奶奶看的津津有味，興高采烈地說道：「這就是我小時候過的生活，但編劇有句台詞有瑕疵，要不然這部歷史劇拍得真是好啊！」請問：哪句台詞不符合演出年代？  
 (A)現在沒有分小、公學校，皆改稱國民學校  
 (B)隔壁鄰居跑去改日姓，我們要不要也去？  
 (C)日本戰敗了！日本天皇宣布無條件投降  
 (D)號外！號外！台北帝國大學宣布完工了
43. 2020 年 7 月 30 日，李登輝因為敗血性休克和多重器官衰竭在醫院去世，在他的任內期間，台灣結束威權體制、邁向民主轉型，也因此受到國際媒體譽為「民主先生」，請問：李登輝任內期間，台灣發生哪些改變？  
 (甲)宣布解除戒嚴令(乙)廢除臨時條款(丙)終止動員戡亂(丁)首次人民總統直選(戊)實行地方自治(己)首次政黨輪替  
 (A)乙丙丁己 (B)乙丁戊 (C)甲乙丙丁 (D)乙丙丁
44. ○○○對台灣的民主有重大的貢獻，在日治時期曾發表臨床講義，也成立台灣第一個政黨，現在連接宜蘭與大台北地區的國道五號，也是用他的名字命名的，請問：○○○應填入哪一個名字？  
 (A)蔣渭水 (B)林獻堂 (C)蔣經國 (D)蔣中正
45. 下面四個人正在回憶以前過往的事情，請問：哪兩位皆生活在日治時期？  
真淑：牡丹社事件後，台灣終於設省了  
意歡：昨天去台灣省政府繳交機密文件  
雲撤：今天心情不好，去了公園散散心  
李玉：菊元百貨昨天剛開幕，人非常多  
 (A)真淑、雲撤 (B)雲撤、意歡  
 (C)意歡、李玉 (D)李玉、雲撤
46. 1929 年一群人在新竹火車站前合影，他們正要動身前往東京請願，希望政府可以採納台灣人民的意見，請問：關於這次請願的目的，下列敘述何者正確？  
 (A)爭取台灣人民的投票權 (B)在台灣能設立台灣議會  
 (C)希望能成立台灣民眾黨 (D)能禁止鴉片出現在台灣
47. 聯合報寫道：「中正紀念堂野百合學運的學生靜坐抗議活動，持續至第五天，學生情緒也日益激昂，沒有從廣場撤退的意思，學生表示除了總統、行政院院長兩人外，不歡迎其他官員對話，同時抗議學生連夜趕製百合花雕塑...」，請問：後續還會看到哪些報導？  
 (A)學生提出廢除臨時條款、終止動員戡亂  
 (B)蔣中正總統親自到現場與大學生溝通  
 (C)雷震趁機批評時政，想要組成新政黨  
 (D)這次學運很成功，戒嚴令最終被廢除
48. 根據(圖二)的新聞標題，請問：這造成台灣哪一場悲慘事件的發生？  
 (A)美麗島事件 (B)二二八事件  
 (C)雷震事件 (D)白色恐怖

試題結束

開槍擊斃老百姓  
延平路昨晚查緝私菸

(圖二)