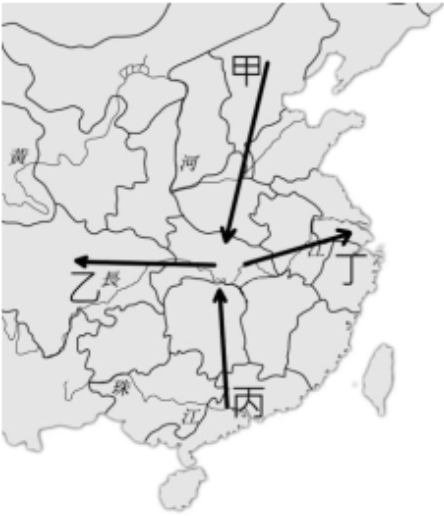


※ 選擇題：本試卷共 50 題，每題 2 分，總分為 100 分。  
 每一題均為單選題，請選出最適當答案。  
 ※ 請用 2B 鉛筆在答案卡上相應的位置畫記。

1. 武昌起義促使了中華民國的建立，武昌起義之所以能成功是因為當地的主力部隊為了鎮壓某地的騷亂因而調離武昌，根據右圖判斷，哪條移動路線是該部隊的行軍路線？  
 (A)甲 (B)乙  
 (C)丙 (D)丁



2. 清遜帝溥儀在自己的自傳中道：「有一天在養心殿東暖閣里，隆裕太后坐在靠南窗的炕上，用手絹擦著眼。她面前的紅氈子墊上，跪著一個粗胖的老頭子，也是滿臉淚痕。殿里別無他人，安靜得很。胖老頭抽縮著鼻子，聲響很大，一邊說著話。再後來太后帶著他舉行最後一次朝見儀式，頒布詔書。那天氣氛很不一樣，滿朝哀戚之色。但他只想著等一下要去逗蝸蝸玩，完全沒想過大清國在那天之後已經結束了。」請問：上述事件後，中國進入了何種新局面？  
 (A)終結兩千多年的帝制  
 (B)從此國家主權被少數革命派掌握  
 (C)從此一路施行民主下去  
 (D)成為亞洲第一個君主立憲國家

3. 民國初年國會修改總統制為內閣制，下表為第一次國會大選，參、眾兩院國會議員的選舉結果。由於採取內閣制，代表實權屬於內閣，將由國會最大黨的負責人來擔任內閣總理，根據表格判斷，當時實權屬於哪一政黨？  
 (A)國民黨 (B)進步黨 (C)跨黨派 (D)無黨籍

| 黨籍  | 國民黨 | 進步黨 | 跨黨派 | 無黨籍 | 總計  |
|-----|-----|-----|-----|-----|-----|
| 眾議院 | 269 | 154 | 147 | 26  | 596 |
| 參議院 | 123 | 69  | 38  | 44  | 274 |
| 合計  | 392 | 223 | 185 | 70  | 870 |

(單位：人)

4. 下列史料是一次大戰爆發後日本提出的 21 條要求部分內容，請推論當時的時代背景為何？

第一號為關於山東省：  
 甲國允許乙國繼承丙國在山東的一切利益；山東省內及其沿海土地島嶼不得讓與或租與他國，煙臺或龍口至膠州鐵路，由乙國建造。  
 第二號為關於南滿、東蒙：  
 甲國承認乙國在該地之優越地位，享有土地租借權及所有權，甲國有關該地之向外借債，聘請政治、軍事、財政顧問，均需得到乙國之同意。吉長鐵路由乙國管理。

- (A)甲乙兩國正在發生戰爭  
 (B)乙丙兩國聯合對付甲國  
 (C)甲乙兩國聯合抗衡丙國  
 (D)丙國正在歐洲發生戰爭

5. 亦安研究民國初年的報紙，如右圖。請問：報紙的內容反映出下列哪一項史實？  
 (A)孫中山就任臨時大總統遭到反對  
 (B)袁世凱製造帝制輿論為稱帝鋪路  
 (C)各地軍閥投書支持恢復君主專制政體  
 (D)慈禧主張立憲，並投書報紙恢復帝制

|       |          |         |         |         |              |
|-------|----------|---------|---------|---------|--------------|
| 主國體…… | 則尤不能不用君主 | 主為優，而中國 | 調君主制實較民 | 籌安會成立，強 | 北京日報<br>民國四年 |
|-------|----------|---------|---------|---------|--------------|

6. 日本對中國提出的「二十一條」要求中，第四、五大項沒簽訂，第三項要求則被刪除一條，至於中國被迫答應的要求，袁世凱這麼說：「購地租地，我叫他一寸地都買不到手；雜居，我叫他一走出附屬地，就遇到生命危險；至於警察顧問用日本人，我用雖用他，每月給他幾個錢罷了，至於顧不顧、問不問，決定權卻在我身上。其他各條，我皆有破壞之法。」而且袁世凱還在「二十一條」要求簽訂後，深刻體會國力不足只能被霸凌的屈辱，於是下令：「將 5 月 9 日列為國恥紀念日！」根據文章內容，你認為我們應該如何重新看待袁世凱簽訂的「二十一條」要求？  
 (A)袁世凱是賣國賊，為了一己之私出賣中國利益  
 (B)袁世凱已盡量將「二十一條」要求的傷害性降到了最低  
 (C)日本在與袁世凱簽訂「二十一條」要求後便成為在中國廣東的最大既得利益者  
 (D)5 月 9 日為國恥紀念日的訂定是反對袁世凱者對袁世凱的嘲諷

7. 下圖為清末民初的時間軸：



依據上圖，阿寶想瞭解近代中國在袁世凱死後的軍閥割據歷史，請問：須參考哪些時段的資料？

- (A)甲丁 (B)乙丙 (C)丙丁 (D)丙戊

8. 魯迅在其重要代表小說〈狂人日記〉中描寫一個患有迫害狂的精神病人之心理活動，將其對社會生活的清醒描寫和對狂人特有的內心感受揉雜在一起。小說中寫道：「這歷史沒有年代，歪歪斜斜的每頁上寫著『仁義道德』幾個字。我橫豎睡不著，仔細看了半夜，才從字縫裡看出來，滿本都寫著兩個字是『吃人！』」請問魯迅〈狂人日記〉中的「吃人」可知魯迅具有何種立場？  
 (A)對於西方文化思想的抵制  
 (B)對於中國傳統文化的批判  
 (C)對於新文化運動的反思  
 (D)對於精神病人具有同情心

9. 小弘為了完成報告，搜尋了下列資料，根據內容判斷，他報告的主題最有可能是？  
 資料一：歷史學者一致認為此時期戰爭是無休止的，由於個人忠誠在組織中扮演著主要角色，因此使用武裝力量與毫無節制地榨取財富，變成了決定權勢大小和職位高低的手段。  
 資料二：列強因擔心在華利益遭到損失，各國為了保有特權，轉而與地方上的組織合作，提供經濟、技術上的支持。  
 (A)《清末風起雲湧的革命運動》  
 (B)《近代中國的軍閥政治》  
 (C)《中國勞工與第一次世界大戰》  
 (D)《共產主義在中國的發展》

背面尚有試題



10. 下表為中國某一時期代表性雜誌所發表的著名作品列表，根據刊載的內容判斷，下列敘述何者正確？

| 年分   | 作品                           |
|------|------------------------------|
| 1916 | 胡適翻譯俄羅斯作家泰來夏浦的小說《決鬥》         |
| 1917 | 胡適發表〈文學改良芻議〉推動文學改革           |
| 1918 | 魯迅發表〈狂人日記〉                   |
|      | 李大釗發表〈布爾什維克的勝利〉等文章，傳播馬克思主義思想 |

- (A)這本雜誌對五四運動可能會採取反對態度  
 (B)這本雜誌為〈新青年〉，創辦者是胡適  
 (C)使用精簡扼要的文言文較容易被刊登  
 (D)這些文章的目的是在於推廣新文化運動

11. 在中國歷史上，因為政治、社會動盪不安，知識分子提出或引進各種學說，尋求解決辦法，也使得學術思想呈現百家爭鳴的局面？右表中哪兩個時期最能明顯呈現這種狀況？

|   |      |
|---|------|
| 甲 | 春秋戰國 |
| 乙 | 宋代   |
| 丙 | 清代   |
| 丁 | 民國初年 |

- (A)甲乙 (B)甲丁 (C)乙丙 (D)丙丁

12. 右圖為 1919 年針對時事的諷刺漫畫《民氣一致之效果》，內容是表達萬眾一心、齊口吹氣，把當時政府的外交官員—曹(汝霖)、章(宗祥)、陸(宗輿)吹個四腳朝天。請問：漫畫中所諷刺的時事，下列敘述何者**錯誤**？



- (A)漫畫家因巴黎和會的不公平待遇而畫出此圖  
 (B)大學學生自發性在北京發起五四運動  
 (C)打出「還我青島」、「廢除二十一條」訴求，希望爭取回遼東半島  
 (D)激發起社會各階層的愛國意識，擴大新文化運動的影響

13. 右圖為民國初年的中國簡圖，請問：武昌起事和五四運動的發生地分別位在圖中的哪一區？



- (A)甲己 (B)乙辛  
 (C)庚辛 (D)乙己

14. 姍姍對於歷史人物充滿興趣，以下是她整理的孫中山生平，請閱讀完選出正確的選項：

孫中山（1866 年 11 月 12 日－1925 年 3 月 12 日），名文，後化名中山樵。廣東香山（今中山市）人。孫是中國近代史上的革命家、政治哲學家，原為醫師，是中國國民黨及其前身的領導人之一。

孫早年到國外留學接觸歐美民主政治，回國後面對國內的腐敗的政權決定革命。1894 年，孫在檀香山成立興中會。1905 年，在日本東京組成中國同盟會，孫被推為總理；確定「驅除韃虜，恢復中華，建立民國，平均地權」，並提出三民主義學說。興中會及同盟會共有十一次革命起義，孫是主要倡議、推動及籌劃者，屢遭政府追緝。1911 年 12 月 29 日，被十七省代表在(甲)地推選為(乙)，隔年在(甲)地宣佈就職，建立中華民國臨時政府……後來(丙)運動時，孫帶領部分國會議員南下(丁)建立軍政府，之後試圖統一中國，可惜受到南方軍閥阻擾未成功……1925 年 3 月，孫因癌症惡化而病逝。孫過世後，國民政府尊稱他為「國父」。中國共產黨稱他為「偉大的革命先行者」。

- (A)甲是指北京 (B)乙是指正式大總統  
 (C)丙是指護法運動 (D)丁是指南京

15. 胡適曾於《新青年》中發表〈美國的婦人〉一文，該文章指出：中國古代傳下來的心理，以為「婦人主中饋」（中饋：婦女在家中職司飲食之事），「男子治外，女子主內」；婦人稱丈夫為「外子」，丈夫稱妻子為「內助」。這種區別，是現代美國婦女所絕對不承認的。他們以為男女同是「人類」，都該努力做一個自由獨立的「人」，沒有什麼內外的區別的。……我們中國的姊妹們若能把這種「自立」的精神來補助我們的「倚賴」性質，……定可使中國女界有一點「新鮮空氣」，定可使中國產出一些真能「自立」的女子。根據文章內容與這個時期的特色，此時期知識分子最有可能提出下列哪些主張？(甲)贊成男主外，女主內 (乙)推崇西方文化 (丙)不要學習美國婦女男女平權觀念 (丁)批評中國傳統文化 (戊)主張女性能更自立。  
 (A)甲乙丙 (B)乙丙丁 (C)乙丁戊 (D)丙丁戊

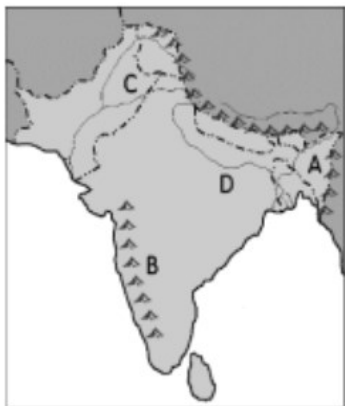
16. 兒童節(Children's Day)是為兒童們所特訂的節日，目的在鼓舞兒童並喚起社會注意兒童教育以培養健全的孩子。1925 年 8 月，54 個不同國籍的愛護兒童代表，在瑞士日內瓦舉行兒童幸福國際大會，通過《保障兒童宣言》呼籲世人善加保護自己的子女。中華民國的兒童節是在民國 20 年(1931)，由上海中華慈幼協會發起，建議政府明訂每年 4 月 4 日為兒童節，其理由為「時當春令，氣候相宜，又與往日之三三、五五、九九及今日之十十等節名互相輝映。後來由教育部制定兒童節紀念辦法，並於隔年的 4 月 4 日實施。政府遷台後，沿用至今，和清明節形成春季重要的假期。下列何者並非民初重視兒童權利所帶來的影響？  
 (A)各方開始關注兒童問題，保障應有的各種權利  
 (B)嘗試用科學的方法，研究兒童心理和兒童教育  
 (C)民國 18 年政府實施 12 年國民基本教育，保障就學權利  
 (D)透過兒童報刊的發行，開啟兒童文學的創作風氣

17. 近幾年東南亞的經濟成長有目共睹，在外資持續湧進下，製造業、服務業蓬勃發展，就業機會增加，讓嫁到台灣的越南媳婦阮月嬌感嘆:「沒想到家鄉現在都比台灣的鄉村進步繁榮。」下列關於阮月嬌家鄉的敘述，何者**不正確**？  
 (A)屬於 ASEAN 成員國之一  
 (B)憑藉先進的技術逐漸取代中國成為「世界工廠」  
 (C)文化深受中國影響  
 (D)佛教為多數人信仰的宗教

18. 受西方國家殖民統治影響，東南亞地區從 16 世紀開始發展熱帶栽培業。下列對於熱帶栽培業的敘述，何者正確？  
 (A)創造出健全的全國性基礎建設，以利產品運輸  
 (B)在熱帶地區大規模栽種糧食作物，如水稻  
 (C)作物自給自足，耕作高度機械化  
 (D)發展出許多港埠型都市

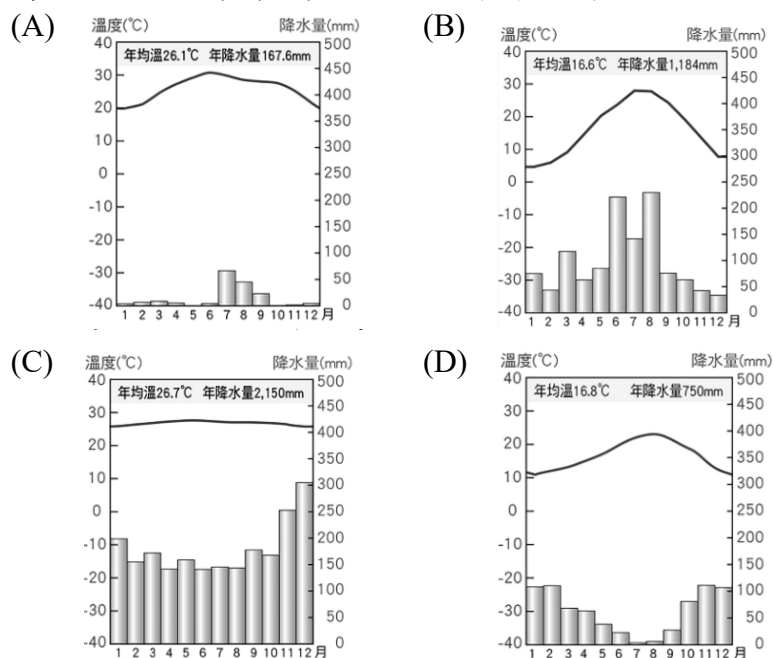
19. 老師要去印度朝聖恆河並實際體驗恆河水的神聖，規劃旅程時想要選擇一個印度最舒適的天氣來進行，請問老師應該規劃了什麼時候出發呢？  
 (A)10 月 7 日到 10 月 10 日國慶連假  
 (B)12 月 30 日到 1 月 1 日的元旦連假  
 (C)4 月 1 日到 4 月 5 日兒童清明連假  
 (D)7 月 1 日到 7 月 7 日的暑假初期

20. 在公視年度時代劇《茶金》劇情描述在茶葉比金子還貴重的 1950 年代，但不到幾年的時間隨著印度和南洋地區的紅茶區恢復，其產量大價格又便宜好喝，這樣的轉變重挫了台灣的茶葉出口。請問：附圖中何處為南亞重要的茶葉產地？



- (A) A (B) B  
(C) C (D) D

21. 油棕樹原產自西非，其果肉、果仁含油豐富，可提取棕櫚油，有“世界油王”之稱。馬來西亞和印尼皆大量種植，是現今世界上最主要的棕櫚油生產國。下列何張氣候圖為上述兩國油棕樹生長地區的主要氣候類型？



22. 東南亞地區許多國家有「港埠型都市」，呈現出港口以外的其他地區基礎建設相對落後的狀況。會有這樣的情形，是當地什麼樣的背景所導致的？

- (A) 其他地區地形惡劣，建設不易  
(B) 其他地區經常發生戰亂  
(C) 這些國家曾經被列強殖民  
(D) 國家資源不足只夠建設港口區域

23. 俄羅斯入侵烏克蘭引發世界各國對俄實施經濟制裁，但在這波國際制裁中，印度卻向俄國購買大量低價石油，導致西方各國不滿與批評。但印度外長對外表示：印度也想和西方各國保持友好關係，但長久以來與鄰國之間存在武裝衝突，而俄國是我國主要軍事裝備的供應國，無法一同制裁俄羅斯。請問，上文中印度外長所說的與鄰國間的紛爭，下列選項何者有誤？

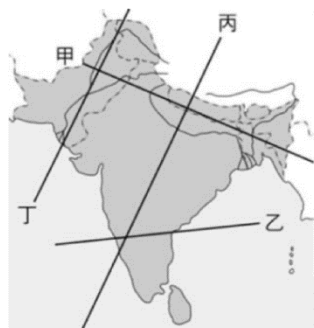
- (A) 鄰國為巴基斯坦  
(B) 衝突起因自宗教立場不同  
(C) 因為雨林開發引發衝突  
(D) 在喀什米爾有領土的政治爭議

24. 印度大平原由恆河與印度河沖積而成，是印度農業生產的精華區，關於恆河與印度河的比較，下表中何者有誤？

| 地理區      | 印度河     | 恆河      |
|----------|---------|---------|
| (A) 位置   | 印度大平原西側 | 印度大平原東側 |
| (B) 氣候   | 乾熱      | 濕熱      |
| (C) 注入海洋 | 阿拉伯海    | 孟加拉灣    |
| (D) 主要國家 | 印度      | 巴基斯坦    |

25. 元億在段考前複習到印度半島的地形，其地形分成三大地區：德干高原、印度大平原以及喜馬拉雅山。他在課本地圖上想要畫一條直線經這三大地形區揣摩地形的起伏變化，附圖中哪條直線是正確的？

- (A) 甲 (B) 乙  
(C) 丙 (D) 丁

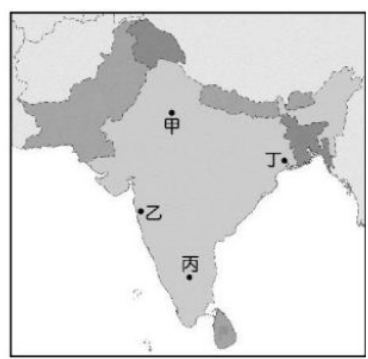


26. 有關南亞的環境問題，下列誰的說法錯誤？

- (A) 義杰：印度因大量人口湧入都市，居住空間不足，反而在都市邊緣形成貧民窟  
(B) 子云：恆河三角洲的國家因地勢低窪，容易在大雨後造成水患  
(C) 郁森：當工業和家庭汙水直接排入河川時，造成嚴重的河川汙染問題  
(D) 傳恩：孟加拉因氣候乾燥，容易因過度灌溉發生土壤鹽鹼化的問題

27. 邦加羅爾是印度首屈一指的高科技產業重鎮，有「印度矽谷」之稱。它被美國《新聞周刊》選入全球十大科技都市，園區周圍有多所綜合大學及技術學院，成為其最重要的資產。且因與美國矽谷的時差將近半天，當美國矽谷的廠商下班後，可將技術文件及相關資料傳到邦加羅爾的廠商接力製作，形成著名的「日不落經濟」。請問下列關於邦加羅爾的敘述何者正確？

- (A) 台商若要到此尋合作應到附圖的丁地  
(B) 因工資較低廉使得各國紛紛來此設廠  
(C) 高科技原料豐富是其發展主要因素  
(D) 與美國建構的日不落經濟來自緯度差異



28. 農業活動的分布主要受到自然條件的影響，因此形成不同的利用方式。附圖中的甲、丙兩地分別為印度半島的小麥及稻米的分布地區，請根據其位置判斷，影響其分布地區的主要因素為下列何者？

- (A) 地形種類 (B) 降水多寡  
(C) 土壤沃度 (D) 氣溫高低



29. 鴻鈞在 Instagram 上認識一個外國網紅，這個網紅平常挑食物吃的時候，都會選擇有特殊標章（如附圖）的食材購買，推測這個網紅來自哪個國家的機率最高？

- (A) 泰國 (B) 馬來西亞  
(C) 緬甸 (D) 柬埔寨



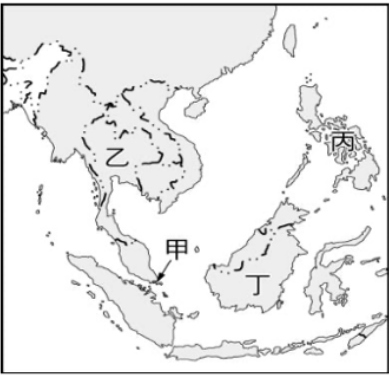
30. 宇恩檢到了一張介紹旅遊行程的廣告單，上頭寫著：「我們會先在新加坡轉機，再前往馬爾地夫，接下來的幾天都可以享受著馬爾地夫的美麗景觀，包含…」沒想到廣告單的後半部已毀損，請猜測接著的文字最可能為下列何項敘述？

- (A) 探訪恆河三角洲，能一探當地發展得相當好的紡織工業  
(B) 喜馬拉雅山壯闊的山景，連綿不絕的雪線和天空勾勒出動人的天然美景  
(C) 一望無際的印度大平原，延伸至西側甚至出現極大反差的廣大沙漠  
(D) 印度洋和珊瑚礁島結合的海天一色，是許多新婚夫妻前往旅遊的聖地



31. 早期這個國家的人民先被迫取了西班牙姓名，後因殖民者更替，不僅學習了英文，天主教也成了其主要宗教信仰。上文中的描述應位於附圖中哪個國家？

- (A)甲 (B)乙  
(C)丙 (D)丁



32. 現代社會普遍重視人權，不分種族、性別、職業... 皆應人人平等，但此國過去的種姓制度造成階級地位不平等的現象，雖然目前已廢除該制度，但觀念仍須長時間才能改變。請問：這是關於下表中哪一個國家的敘述？

- (A)甲 (B)乙 (C)丙 (D)丁

| 國家 | 印度教 | 伊斯蘭教 | 佛教 | 基督教 | 其他 |
|----|-----|------|----|-----|----|
| 甲  | 80  | 11   | 1  | 2   | 6  |
| 乙  | 2   | 95   | —  | 2   | 1  |
| 丙  | 12  | 87   | —  | —   | 1  |
| 丁  | —   | 8    | 70 | 8   | 14 |

各國宗教百分比(%)

33. 家豪看到印尼宣布遷都的新聞後，想要對此國家進一步了解，於是閱讀了許多相關資料。請問：下列哪一段文字有可能會出現在他所閱讀的文章中？

- (A)赤道經過，國土範圍橫跨南北半球  
(B)屬於熱帶季風氣候，對流旺盛，高溫多雨  
(C)曾受歐洲殖民統治，目前是最多天主教信徒的國家  
(D)利用肥沃的火山灰種植小麥，為當地主要的糧食作物

34. 八年級的小詩在記事本記下她生活中的重要事項，請問：下列哪些事項不需要法定代理人的同意？

(甲)和同學相約到麥當勞慶生 (乙)用自己存下來的零用錢購買 BLACKPINK 的音樂專輯 (丙)和經紀公司簽約當練習生邁向演藝之路 (丁)領取學校頒發的獎學金 (戊)到百貨公司買一條價值兩萬元的項鍊送給自己當生日禮物。

- (A)甲乙丙 (B)甲乙丁 (C)甲丁戊 (D)甲丙戊

35. 阿峰上個月向朋友阿和借了 5 萬元，這個月阿和向阿峰催討時，阿峰故意避不見面或找藉口推拖。根據上述情況，下列何者正確？

- (A)阿峰是債權人，阿和是債務人  
(B)雙方並未簽訂書面契約，借貸關係不存在  
(C)阿峰有清償債務的義務，阿和有取得還款的權利  
(D)阿峰要負起侵權行為的損害賠償責任

36. 下列為《民法》的原則及相關的各種情境，何者配對有誤？

| 選項  | 原則     | 情境                           |
|-----|--------|------------------------------|
| (A) | 誠實信用   | 美香麵包店堅持無添加香料、色素和防腐劑，深得消費者信賴  |
| (B) | 契約自由   | 阿誠看在好朋友的份上，將自己的房子便宜出租給小哲     |
| (C) | 消滅時效   | 榮哥在網路上購買商品，過了七天的鑑賞期無法退換貨     |
| (D) | 禁止權利濫用 | 小芳不小心弄壞阿德的小提琴，阿德要她賠償十倍金額並不合理 |

37. 阿金：「我已經 30 歲，但無法投票和成為候選人。」請問：就《民法》的規定，阿金與下列何者的行為能力相同？

- (A)康康：我要買便當，便利商店的店員請我找父母親幫忙購買  
(B)花花：男友送我昂貴的飾品，要徵求爸媽的同意  
(C)小林：我上星期和房東簽約，租下學校附近的房子  
(D)宣智：我到銀行開戶，要法定代理人的同意

38. 公民老師在上課時舉例了兩個法律行為，根據內容判斷，公民老師最主要是要說明下列哪一項差異？

|          |                                    |
|----------|------------------------------------|
| 法律行為 (一) | 購物時，在店家選定好商品後，以口頭承諾，即可完成買賣。        |
| 法律行為 (二) | 買賣土地時，買方付款後，必須前往地政事務所辦理登記，買賣行為才有效。 |

- (A)契約是否需以特定的方式為之  
(B)簽名和蓋章的效力是否相同  
(C)行為能力對契約效力的判斷  
(D)當事人的意思表示是否一致

39. 阿元最近在網路遊戲中認識了幾個網友，根據阿元網友各自的敘述，依年齡排列，由大到小依序為何？

小蝦：我現在即使自行使用零用錢買遊戲點數還要我父母親同意，兩年後在法律上他們才不能約束我。  
雪兒：今年終於可以自行申辦手機、信用卡，生活便利許多！  
瑋哥：我明年才符合結婚的法定年齡才可向女友求婚。  
小瑤：我今年終於可以投下心目中理想市長的選票。

- (A)小蝦、瑋哥、雪兒、小瑤  
(B)瑋哥、雪兒、小瑤、小蝦  
(C)小瑤、雪兒、瑋哥、小蝦  
(D)雪兒、小瑤、瑋哥、小蝦。

40. 小好年底要和大學就認識且愛情長跑多年的學長結婚。請問：下列何者為結婚的要件？(甲)年滿 18 歲 (乙)書面為之 (丙)兩個以上的證人，年滿 18 歲且未受監護宣告 (丁)公開的儀式，並到法院公證 (戊)到戶政機關辦理結婚登記。

- (A)甲乙丙丁 (B)甲乙丙戊 (C)甲丙丁戊 (D)乙丙丁戊

41. 請問：下列敘述的內容，何者與上題同屬於《民法》中所規定身分上權利義務關係？

- (A)小華最近繼承了爺爺留下的一間房子  
(B)可馨上個月剛到流浪動物之家收養了一隻貓  
(C)家翔每天都騎 YouBike 上下學  
(D)珊珊最近在學校結交了一些乾哥、乾姊

42. 國中生小彥從不愛護學校的桌椅，亂劃亂刻。學期末總務處檢查時要小彥賠償，班上法律小達人分析小彥的狀況，下列何者有誤？

- (A)小彥的法定代理人要負起連帶賠償的責任  
(B)損害賠償的方式是以金錢賠償為原則  
(C)損害賠償是在彌補當事人的損失  
(D)損害賠償的金額要合理

尚有一張試卷

43. 成年的家豪在社群網路發表一則訊息，如下所示。根據法律規定，下列說明何者正確？

**動態分享**

我找到一份工作了！因為沒有工作經驗，所以時薪 150 元，雖然不符合最低薪資，但已經跟老闆口頭上說定了，明天開始上班。

- (A)依契約自由原則，由雙方自行決定  
(B)雙方未簽訂書面契約只口頭約定，無效  
(C)違反法律規定，薪資的約定可視為無效  
(D)依誠實信用原則，家豪應當承擔工作及接受薪資條件

**【第 45 至 46 題為題組】**

林小姐在下班途中被機車騎士小李撞傷，雙方當下約定賠償事宜並簽下和解書。但林小姐後來發現受傷的情形日益加重且復原時間拉長，於是對當時的約定反悔。雙方再進行調解，調解不成立，林小姐於是到法院提出訴訟，最後尚未等到法院判決結果就解決了賠償事宜。

44. 請問：最後最有可能是採取何種方式解決此糾紛？  
(A)訴訟上和解 (B)調解  
(C)訴訟外和解 (D)法院判決
45. 請問：與法院最終判決有相同效力的解決途徑應為下列何者？（甲）訴訟外和解（乙）調解（丙）訴訟上和解。  
(A)甲乙丙 (B)甲乙 (C)甲丙 (D)乙丙
46. 請問：關於下列敘述何者正確？  
(A)民事訴訟無須主動提告法官便會主動審理  
(B)民事訴訟時雙方當事人應提出對自己有利的主張及證據  
(C)民事糾紛中國家公權力會主動介入保障人民權益  
(D)警察局為調解的職權機關

**【第 47 至 48 題為題組】**

根據新聞報載：過年期間有知名餐廳遭踢爆事先收了價金，卻未如期提供年菜給消費者。律師指出，店家收取價金時（甲）即成立，未交付年菜則構成（乙）行為。受害的當事人可主張解除契約，若衍生出相關的損失，亦可要求損害賠償。

47. 請問：（甲）（乙）應分別填入下列何者？  
(A)租賃契約，侵權行為 (B)借貸契約，侵權行為  
(C)買賣契約，債務不履行 (D)租賃契約，債務不履行
48. 請問：若想要省時、省錢又具有法院強制執行的解決糾紛的方式，可透過下列哪一種？  
(A)訴訟外的和解 (B)調解  
(C)提起訴訟 (D)訴訟上的和解

**【第 49 至 50 題為題組】**

八年級的阿勳在教室外走廊奔跑嬉鬧，不慎撞傷隔壁班的學生阿寬，導致對方骨折送醫，校方通知雙方家長一同處理。阿勳誠心道歉且允諾不再於走廊奔跑嬉鬧，雙方也在學務處談妥相關醫療費用的責任負擔。

49. 請問：關於上述事件的法律責任，下列何者正確？  
(A)阿勳的行為並非故意，家長不需負起連帶賠償責任  
(B)阿寬的家長必須負起連帶賠償的責任  
(C)阿寬為限制行為能力人，故無法獲得任何賠償  
(D)阿勳的行為為過失，屬於侵權行為
50. 下列敘述何者正確？  
(A)此種處理糾紛的方式為調解  
(B)此種處理糾紛的方式為私下和解  
(C)此糾紛的解決途徑不具有契約效力  
(D)此糾紛的解決途徑具有強制執行力

新北市立新莊國民中學 111 學年度第 2 學期第 1 次段考 8 年級社會領域試題  
解答

|          |          |          |          |          |          |          |          |          |          |
|----------|----------|----------|----------|----------|----------|----------|----------|----------|----------|
| 1        | 2        | 3        | 4        | 5        | 6        | 7        | 8        | 9        | 10       |
| <b>B</b> | <b>A</b> | <b>A</b> | <b>D</b> | <b>B</b> | <b>B</b> | <b>C</b> | <b>B</b> | <b>B</b> | <b>D</b> |
| 11       | 12       | 13       | 14       | 15       | 16       | 17       | 18       | 19       | 20       |
| <b>B</b> | <b>C</b> | <b>B</b> | <b>C</b> | <b>C</b> | <b>C</b> | <b>B</b> | <b>D</b> | <b>B</b> | <b>A</b> |
| 21       | 22       | 23       | 24       | 25       | 26       | 27       | 28       | 29       | 30       |
| <b>C</b> | <b>C</b> | <b>C</b> | <b>D</b> | <b>C</b> | <b>D</b> | <b>B</b> | <b>B</b> | <b>B</b> | <b>D</b> |
| 31       | 32       | 33       | 34       | 35       | 36       | 37       | 38       | 39       | 40       |
| <b>C</b> | <b>A</b> | <b>A</b> | <b>B</b> | <b>C</b> | <b>C</b> | <b>A</b> | <b>A</b> | <b>C</b> | <b>B</b> |
| 41       | 42       | 43       | 44       | 45       | 46       | 47       | 48       | 49       | 50       |
| <b>A</b> | <b>B</b> | <b>C</b> | <b>A</b> | <b>D</b> | <b>B</b> | <b>C</b> | <b>B</b> | <b>D</b> | <b>B</b> |