

※ 選擇題：本試卷共 50 題，每題 2 分，總分為 100 分。每一題均為單選題，請選出最適當答案。
 ※ 請用 2B 鉛筆在答案卡上相應的位置畫記。

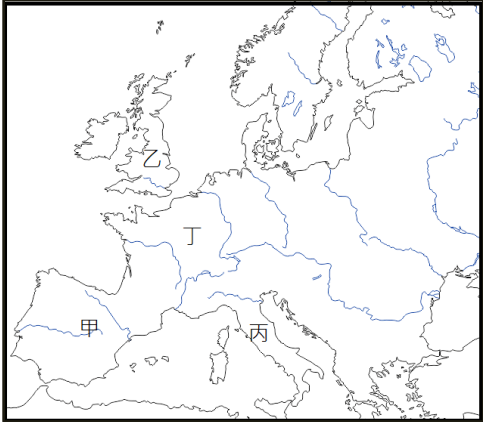
1. 各國國慶日的選定，通常以呈現該國立國精神的事件為依據。請問：以下各國的國慶日與事件配對何者『錯誤』？
 (A)美國國慶日－發表【獨立宣言】
 (B)法國國慶日－發表【人權宣言】
 (C)中華民國國慶日－武昌起義
 (D)中華人民共和國國慶日－宣布建國的紀念日

2. 銀優參觀「科學與工業博物館」，博物館展出該國工業革命期間的大事年表（如右表）。請參考右表，回答下列問題：表格中的乙人物改良蒸汽機成功，提供了穩定的動力能源，請問：乙人物應該是誰？

年分	機械與交通工具	發明或改良者
1733	飛梭	凱伊
1765	珍妮紡紗機	甲人物
1767	水力紡紗機	阿克萊特
1769	蒸汽機	乙人物
1807	汽船	丙人物
1814	火車	丁人物

(A)愛迪生 (B)富爾頓 (C)史蒂芬生 (D)瓦特

3. 承上題，銀優所參觀的博物館應位於右圖中的哪一個國家？
 (A)甲 (B)乙
 (C)丙 (D)丁

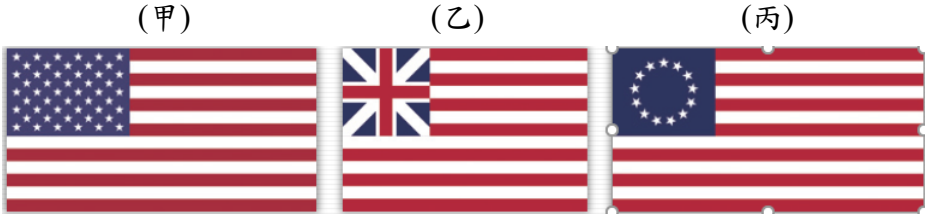


4. 右圖是 1899 年刊載於美國雜誌上的政治漫畫，標題為「日本在美國的主持下初次參加社交活動」，在圖片中日本能夠獲得介紹，正式「參加社交活動」是因為日本先後完成下列哪些事情（請按時間先後順序排列）？甲、擊敗中國；乙、明治維新；丙、取得日本的第一個殖民地：
 (A)甲乙丙 (B)甲丙乙 (C)乙甲丙 (D)乙丙甲



5. 請問：下列四件事情的敘述哪一件更偏向於歷史事實而非歷史解釋？
 (A)華盛頓當選總統，依據憲法組成聯邦政府
 (B)德國利用在凡爾賽宮建國這件事羞辱法國，因此引起法國在一戰後簽訂對德和約時也採取嚴苛的條款羞辱德國
 (C)義大利能夠統一可以說是賴於統一三傑（靈魂馬志尼、頭腦加富爾及利劍加里波底）的努力
 (D)工業革命促進了物質生活的進步與社會經濟的發展，因此工業革命可以說是 18 世紀的重大革新

6. 以下三幅旗幟是美國歷史上（含獨立前）曾使用過的，請根據三幅旗幟的使用順序排列：



(A)甲乙丙 (B)甲丙乙 (C)乙丙甲 (D)乙甲丙

7. 19 世紀中期起，歐洲各國在非洲陸續建立殖民地瓜分非洲，在這種情形下有兩個國家仍然可以保持獨立，顯得難能可貴。請問：維持獨立的兩個非洲國家分別在圖中何處？
 (A)甲、乙
 (B)乙、丙
 (C)丙、丁
 (D)甲、丁



8. 珉豪參加班級話劇比賽，以下是他拿到的劇本節錄：
 場景：梅特涅在維也納會議中演講，振振有詞。
 梅特涅：今日我們聚在這裡，是因我們把拿破崙這顆絆腳石除掉了。身為○國的首相，我在此向諸君呼籲，希望在會議中，我們秉持△△為原則，讓歐洲能恢復 1789 年以前的樣貌！
 請問：劇本中的○、△△分別是指什麼？
 (A)法，平等 (B)英，民族自決
 (C)德，自由 (D)奧，正統

9. 拿破崙法典在歐洲被廣泛採用（雖然只限於拿破崙征服的土地），而在拿破崙兵敗之後仍然得到繼承。拿破崙曾經說過：「我真正的光榮不在於打了四十次勝仗，（甲戰爭名稱）抹去關於這一切勝利的記憶……但……有一樣東西將永垂不朽，那就是我的《民法典》。」這一法典至今仍然對歐洲、美洲和非洲的法系具有十分重要的影響。請問：（甲戰爭名稱）指的是下列哪一場戰役？
 (A)普法戰爭 (B)滑鐵盧之役
 (C)英法七年戰爭 (D)遠征英國之戰

10. 在統一的路上總是要有人犧牲奉獻，請問：以下對國家統一有貢獻的人與其成就配對何者『錯誤』？
 (A)加里波底—率領軍隊征服義大利南部，將征服的土地獻給國王
 (B)馬志尼—以「恢復古日耳曼光榮」為口號，宣揚民族意識
 (C)俾斯麥—主導普魯士參與戰爭先後打敗奧、法國最後完成統一
 (D)加富爾—與國王合作謀求富國強兵，排除奧國勢力有助統一
 11. 印加帝國的滅亡與下列哪一個事件皆屬於同個時期的帝國主義行為所造成？
 (A)荷蘭在亞洲建立巴達維亞做為荷蘭聯合東印度公司的亞洲總部
 (B)英國對中國發動鴉片戰爭
 (C)日本發動牡丹社事件
 (D)美國派培里率軍艦前往日本要求開港通商

12. 「你今天又扮演了誰？」是現在很受歡迎的一款桌遊遊戲，在這遊戲中設計了人物角色與對話的卡牌，需要配對成功才能得分，因此現在請你把錯誤的角色與對話配對陷阱找出來，贏得這遊戲。
- (A)馬克思—為了讓無產階級能夠過著幸福生活，我主張廢除私有財產，提倡公有財產並用革命手段改造社會
- (B)俾斯麥—國家的統一需要「鐵」和「血」，所以我們需要擴軍和加稅才能透過戰爭完成統一
- (C)華盛頓—為了獨立成功，我們接收了法國和其他國家的幫助，終於完成獨立革命
- (D)羅斯福—美洲的事務應該由美洲國家自行解決，你們歐洲國家不要來干預

13. 雨霏上課很認真抄下了歷史老師所寫關於「科西嘉怪物」拿破崙他一生遭遇的事件，但是因為不小心眼花抄錯了，請問：抄錯的是下列哪一條筆記？

- (A)他在稱霸歐洲期間，將法國大革命「民有、民治、民享」的精神傳播到歐洲各地
- (B)他數度擊敗反法聯盟、被法國人視為民族英雄
- (C)他在遠征俄國時，慘遭敗績
- (D)他掌握大權後在 1804 年稱帝

14. 拉丁美洲的獨立運動背景不包含下列哪一個？

- (A)受啟蒙思想影響 (B)受民族主義影響
- (C)德國統一的刺激 (D)法國大革命的鼓舞

15. 以下是 18 世紀兩場重要革命時發生時誕生的重要文獻，請問：按甲乙丙三文獻的順序與其反映出來的相關思想排序何者正確？

- (甲)美國獨立宣言——我們認為下面這些真理是不言而喻的：人人生而平等，造物者賦予他們若干不可剝奪的權利，其中包括生命權、自由權和追求幸福的權利。
- (乙)法國人權與公民權的宣言——本主權的來源是國家人民。任何團體與個人都不能行使主權未授與的權力。
- (丙)美國憲法——
- 本憲法所規定的立法權，全屬合眾國的國會
 - 行政權力賦予美利堅合眾國總統
 - 合眾國的司法權屬於一個最高法院以及由國會隨時下令設立的低級法院

- (A)天賦人權、主權在民、三權分立
- (B)主權在民、三權分立、天賦人權
- (C)天賦人權、三權分立、主權在民
- (D)三權分立、天賦人權、主權在民

16. 德國的歷史發展：…東法蘭克王國—神聖羅馬帝國—萊茵邦聯（拿破崙成立）—○○○邦聯—德意志帝國成立…。請問：維也納會議時將使用德語的邦國組成的○○○邦聯是下列何者？

- (A)斯拉夫邦聯 (B)法蘭克邦聯
- (C)日耳曼邦聯 (D)多瑙河邦聯

17. 玉山是東亞第一高峰，日治時期稱為「新高山」。但是在日治之前，西方出版的地圖上曾將玉山註記為 Mt. Morrison (莫里遜山)，起因於一位美國船長見玉山山勢獨特，將其記錄於航海日誌，也是西方人對玉山最早的記載，故以船長名紀念之。上述如為屬實，與下列哪一地名由來相似？

- (A)延平 (B)苓雅 (C)民雄 (D)五峰

18. 「廊」是製糖的工作場，製糖的地方就叫做蔗廊或廊仔，因此出現廊後、頂廊、下廊等地名，請問此種地名命名依據與下列哪一地名「不相同」？

- (A)樟腦寮 (B)鹽埕 (C)草屯 (D)芬園

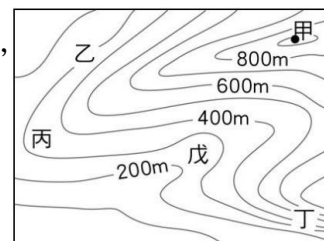
19. 行政院內政部的「地名資訊服務網」提供多種地圖展示和地名查詢。透過這個網站，提供使用者查詢地名，並可檢視各種地名的分布。小新以某個字進行搜尋，結果呈現如右圖，請問該字最可能是下列何者？

- (A)崙 (B)窩
- (C)鹿 (D)廊



20. 右圖為台灣某地的等高線地形圖，請問圖中最可能出現「港」字地名的是何地？

- (A)乙 (B)丙
- (C)丁 (D)戊



21. 承上題，請問圖中標示甲的地點最可能出現下列哪一個地名用字？

- (A)嶼 (B)墘 (C)腳 (D)湖

22. 「地形景觀」常是一地的命名依據，若以此來判斷，下列哪一個地區的海拔高度較高？

- (A)中壢 (B)湳仔 (C)竹崎 (D)新埔

23. 宜蘭縣的龜山島現今並無常住人口，然而過去不僅有民眾居住，還曾設有國小。直至民國 66 年，因政府軍事需要，居民遷至宜蘭頭城，其居住地區改名為龜山里，遷居的社區則稱為「龜山島社區」。根據上文，下列哪一個地方的命名方式與「龜山里」不同？

- (A)屏東的潮州 (B)嘉義的溪口
- (C)台中的同安厝 (D)宜蘭的阿里史

24. 下列關於「臺灣」的名稱由來資訊，何者正確？

- (A)清領時期開始以臺灣稱呼全島
- (B)鄭氏政權時期將臺灣作為官方行政區命名
- (C)日本稱此地為小琉球
- (D)美國出版地圖上標註著 Formosa

25. 桃園「復興」、花蓮「光復」、南投「信義」這些地名較有可能是何時產生的？

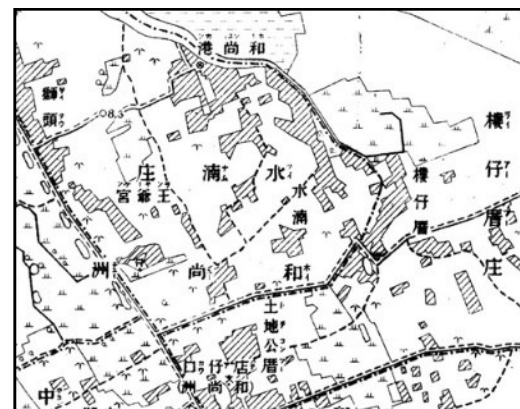
- (A)史前時期 (B)戰後時期 (C)明鄭時期 (D)清領時期

26. 南投縣仁愛鄉合作村於 2021 年底正式恢復為 72 年前賽德克族使用的地名-德鹿谷村，道路、橋梁、學校都一併改為此傳統地名，是近年推動正名的鄉鎮中，最全面回復傳統名字的行政區域。請問下列哪一個地方也完成了正名，彰顯政府對於原住民族群文化的尊重？

- (A)瑞穗 (B)麻豆 (C)春日 (D)那瑪夏

27. 日治時期繪製的「台灣堡圖」是全世界唯一同時結合土地調查、地籍測量與地形測量成果的地圖，涵蓋許多訊息，包含當時土地利用、地名、聚落名稱、聚落範圍、街道、水圳等。右圖為蘆洲（和尚洲）的堡圖，在此堡圖的地名中「看不到」下列哪一項命名來源？

- (A)自然環境 (B)人文設施 (C)產業活動 (D)族群語言



28. 十六世紀中葉，第一批葡萄牙人抵澳時，詢問居民當地名稱，居民誤以為詢問廟宇名稱，答稱「媽閣」(媽祖廟)。此後葡萄牙人以「媽閣」廣東話發音而譯成「Macau」，成為澳門外文名稱的由來。請問臺灣哪一個縣市最大聚落也是以媽祖廟為名？
(A)金門 (B)苗栗 (C)雲林 (D)澎湖

29. 宜蘭縣羅東鎮，昔日滿布樟木、老榕、相思樹的叢林，林相茂密，林中棲息大群的猴子，平埔族語稱猴子為「Rutung」或「Roton」，後來被漢人依其發音轉譯成「老懂」後，再雅化為「羅東」。請問：下列哪一個地名與羅東地名由來相似？
(A)台北市北投區 (B)新北市石門區
(C)宜蘭縣五結鄉 (D)高雄市蔴松區

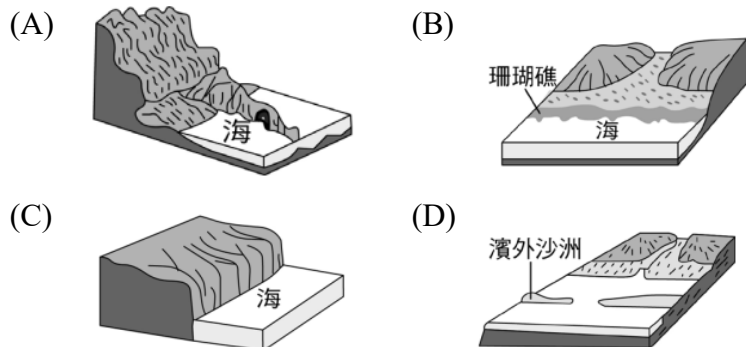
30. (甲)高雄「前鎮」(乙)基隆「中山」(丙)臺北「松山」(丁)屏東「潮州」。上列四個地名中，若依照該地名出現的年代排列，由近代回推的順序應是下列何者？
(A)甲乙丙丁 (B)乙丙丁甲
(C)丙甲丁乙 (D)丁甲丙乙

31. 鄭治初期採取屯墾之治，以利提供軍隊充足糧食，而此類軍隊屯墾駐紮地會被稱作為「營」。右圖中的臺鐵站牌就可見到當時留下的地名，請問此車站位於下列哪一個縣市？
(A)雲林 (B)屏東 (C)台南 (D)苗栗



32. 荷蘭人於西元 1624 年在安平建造了臺灣第一座城堡「熱蘭遮城」，也就是現在的安平古堡，這裡曾是對外貿易的總樞紐，今日因為這段歷史帶來許多觀光客。請問關於安平一帶的敘述何者正確？
(A)曾有稱為台窩灣社的平埔族聚落
(B)荷蘭人最早將此地改稱安平
(C)受侵蝕影響古堡已遠離海邊
(D)目前屬於「鄉」級行政區

33. 「筏仔頭」、「鹽場」、「蚵寮」、「塭岸」…以上是小新在臺灣靠海縣市觀光遊覽時所經過的地名，請問他最可能在當地觀賞到下列選項中哪一種海岸特色？



34. 下列關於我國智慧財產權的相關法律內容，何者**錯誤**？
(A)根據《著作權法》之規定，當著作完成時，就享有著作權，無須經過任何申請審查
(B)根據《著作權法》之規定，著作財產權保障年限為著作人著作完成後，開始計算 50 年期間
(C)根據《專利法》之規定，發明者須經申請審查通過，才能取得專利權
(D)根據《商標法》之規定，商標所有人須經申請審查後，才能取得商標權

35. 為了兼顧創作人的權益保障與知識流通，政府已在智慧財產權的相關立法中明定著作的「合理使用」範圍。請問下列行為符合「合理使用」之範圍的有幾項？

(甲)在粉絲群組上傳翻拍的演唱會內容 (乙)在課堂中報告研究《哈利波特》的部分內容 (丙)將達文西的畫作印製在班服來穿 (丁)經過創作者同意將其小說公開分享 (戊)在自己的 blog 中引用他人的作品，未經同意 (己)為了進行公益募款而播放相關活動影片的片段。

- (A)3 項 (B)4 項 (C)5 項 (D)6 項

36. 由韓國流行起的「吃播文化」帶動不少大胃王紛紛加入吃播行列，也慢慢建立起不同的特色。而在網路上擁有百萬粉絲追隨的人氣吃播主，遭到網友爆料影片「疑似作假」，引發網友熱烈討論。請問：閱聽人應具備何種能力以思辨、分析及批判所見所聞的內容？

- (A)終身學習 (B)置入性行銷
(C)新聞專業 (D)媒體識讀

37. 主持人請讀書會同學們分享運用社群媒體參與公共事務的經驗，下列哪一位的發言符合上述主題？

- (A)阿嘎：「我常使用網路平台購物」
(B)二伯：「我利用遠距課程自學韓語」
(C)桃貴：「我在網路連署支持環境保護政策」
(D)波能：「我會觀看直播主線上玩遊戲」

38. 阿默針對特定族群進行問卷訪問，根據附表的調查結果，該族群可能面臨何種問題？

- (A)容易受到假訊息的誤導 (B)言論自由遭受限制
(C)生物科技應用風險 (D)排斥使用科技產品

問卷題目	是	否
1.你是否主動查證社群網路上的消息？	15%	85%
2.你是否相信來自親友分享的網路文章？	96%	4%
3.收到任何訊息，你是否會轉傳出去，共享資訊？	92%	8%

39. 紀錄片《訂製理想寶寶》(Dream Babies)深入探討最新的基因科技，可望讓人類擁有近似「造物主」的權力，可以決定寶寶的智商、膚色、髮色、五官與健康，讓家長有「訂製理想寶寶」的客製化服務。現今強大的科技，讓人們著迷於「修正一切」的權力。然而，自我滿足跟醫療的界線在哪裡？將是全人類未來即將面對的難題。請問上述內容主要探討的議題為何？

- (A)資訊公開侵犯個人隱私
(B)生物科技所衍生的倫理爭議
(C)生物科技產業的快速進步
(D)智慧財產權的分享與保障

40. 新聞報導：新冠肺炎疫情使得許多藝文活動隨之停擺。業者將原本需要付費的舞台劇與歌劇影像上傳網路無償分享，期待用藝術撫慰民眾的心靈。而民眾在觀影後，如果想要表達心意，也可以透過該網站進行捐款，款項將平分給提供影像的藝文場所及捐助弱勢團體。請問：根據上文判斷，下列何者最適合用來說明該報導呈現的內涵？

- (A)多元文化下的文化交流與衝擊
(B)科技發展所帶來的衝擊與隱憂
(C)智慧財產與社會公益的調和
(D)國際組織的成立及國際互動關係

41. 跨國企業透過國際分工進行生產，為現代經濟普遍的面貌。下列四位勞動者接受媒體採訪，他們分別來自已開發國家 A 國或開發中國家 B 國，其中何人較可能與其他人來自不同國家？
 (A)展榮：跨國工廠雖為我國增加就業機會，但都是高污染的產業
 (B)石頭：我們政府極力爭取跨國企業設置成衣廠，以促進經濟發展
 (C)苗聲：提供充足低廉的工資和人力成本是我國主要的競爭優勢
 (D)展瑞：國內經濟產業的部門多是從事設計、研發等較高的技術
42. 每個國家都選擇生產本國最有利的產品，再進行產業分工與國際貿易，這樣的結果可以帶來哪些好處？甲—可充分利用其生產資源；乙—提高資源的使用效率；丙—可享受到世界各國商品；丁—可消弭國際間的貧富差距
 (A)甲乙丙 (B)甲乙丁 (C)甲丙丁 (D)乙丙丁
43. 我國於 2002 年加入世界貿易組織，對國內農產品市場帶來許多挑戰，正在考慮投身農業工作的友人正在分享相關訊息，請問下列何人的認知最正確？
 (A)小滴：臺灣農業屬於精緻農業，可運用大範圍耕地
 (B)小莫：我國農業勞動力過剩，可大量僱用人力生產
 (C)小進：轉型成精緻化農業，產品品質上升，在價格上比較有競爭力
 (D)小光：消費者拒絕進口商品，寧願購買高價國產品
44. 「臺灣素有自行車王國的稱號，1950 年代臺灣開始發展相關產業，在 1984 年成為自行車出口量第一位的國家。1985 年開始走向自創品牌及國際化營銷的道路，大舉移至中國深圳、昆山等地設廠，臺灣則以高附加價值的成車為產品核心，歐洲則為主要市場的行銷部門。」根據上述內容判斷，臺灣自行車產業呈現下列何種現象？
 (A)環境保育 (B)國際分工 (C)深耕本土 (D)政府主導
45. 某報導：「警方近日查獲商家違法販售走私進口的豬肉，內含非洲豬瘟病毒，請民眾多加警覺，勿購買來路不明的肉品，以免非洲豬瘟傳入，造成國內豬隻疫情。」此報導內容是想表達何種問題的嚴重性？
 (A)國際經濟活動頻繁互動，隱含傳染疾病危機
 (B)國內肉品產量不足，迫使民眾購買走私豬肉
 (C)政府違反國際貿易原則，拒絕開放肉品進口
 (D)外國豬肉品質優於國產品，受到消費者青睞
46. 加入世界貿易組織，對我國部分產業造成衝擊，有毛巾業者為求生存將毛巾製作成蛋糕、點心模樣，色彩繽紛的毛巾商品，締造了銷售佳績，業者更因此轉型為觀光工廠，開創毛巾產業的第二春。根據上述，業者採取何種方式來面對危機？
 (A)提升銷售技巧 (B)結合政府力量
 (C)拓展海外市場 (D)從事產業轉型

【第 47 至 48 題為題組】

日前立法院已三讀通過「甲法」及「乙法」部分條文修正草案，使我國智慧財產權相關法律符合「跨太平洋夥伴全面進步協定」(CPTPP)之規定，有利於未來加入 CPTPP 諮商談判。經濟部智慧財產局表示，前「甲法」通過後，像是盜版電影網站等非法數位盜版，將從告訴乃論改為公訴罪；「乙法」則把協助仿冒品去製作吊牌、布標的廠商也納入，課以刑責。過去這種輔助侵權行為只有民事處罰，未來觸法最重就可判 1

年以下有期徒刑、拘役或併科 5 萬元罰金。

47. 政府為加入「跨太平洋夥伴全面進步協定 (CPTPP)」進行智慧財產權相關法律之修訂，將侵權情節重大之非法數位盜版、散布及公開傳輸行為改列為非告訴乃論罪（即公訴罪），請判斷「甲法」的法律名稱為何？
 (A)商標法 (B)專利法
 (C)著作權法 (D)智慧財產權法
48. 「乙法」修正後將對進口仿冒商標標籤、包裝等準備及輔助侵權行為科以刑責，可提升商標權人商品銷售與獲利，強化商標保護。請判斷「乙法」的法律名稱為何？
 (A)商標法 (B)專利法
 (C)著作權法 (D)智慧財產權法

【第 49 至 50 題為題組】

食安問題一直是國內民眾關心的焦點，例如日本核電廠發生爆炸事件，民眾擔心遭到核災汙染的日本食品進口；美國外銷我國豬肉，引發含有萊克多巴胺的疑慮。即使政府採取嚴格的國際標準控管，使用嚴謹科學技術驗證進口商品食用安全無虞，但並非所有的民眾都能接收到這些訊息，因此屢屢引發社會輿論紛爭。處於國際互動緊密連結的全球經濟市場，政府雖致力發展國際貿易，但更應多方面考量，審慎做好把關動作，盡力消除民眾疑慮。

49. 上文顯示民眾對於外國商品的疑慮應為下列何者？
 (A)進口數量不足 (B)銷售價格過高
 (C)打擊國內產業 (D)食用安全危機
50. 根據文末的論點，政府應有何種作為才能消除民眾的疑慮？
 (A)拓展外銷市場 (B)切實保障民眾權益
 (C)提供多元商品 (D)鼓勵民眾消費

試題結束

新北市立新莊國民中學 111 學年度第 2 學期第 1 次段考 9 年級社會領域試題
解答

1	2	3	4	5	6	7	8	9	10
B	D	B	C	A	C	D	D	B	B
11	12	13	14	15	16	17	18	19	20
A	D	A	C	A	C	A	C	B	D
21	22	23	24	25	26	27	28	29	30
A	C	B	D	B	D	C	D	A	B
31	32	33	34	35	36	37	38	39	40
C	A	D	B	B	D	C	A	B	C
41	42	43	44	45	46	47	48	49	50
D	A	C	B	A	D	C	A	D	B