

新北市立新莊國民中學 111 學年度第 2 學期第 1 次段考 7 年級社會領域試題卷

班級 座號 姓名

※ 選擇題：本試卷共 50 題，每題 2 分，總分為 100 分。

每一題均為單選題，請選出最適當答案。

※ 請用 2B 鉛筆在答案卡上相應的位置畫記。

1. 丘逢甲曾有詩句寫道：「宰相有權能割地，孤臣無力可回天。扁舟去作鴟夷子，回首河山意黯然。」請問：下列敘述何者正確？



- (A) 詩中「宰相」是指簽訂天津條約的李鴻章
(B) 詩句內容描述抗日成功後，丘逢甲返回中國
(C) 丘逢甲的抗日組織以右圖為國旗，目的為脫離清朝而自立
(D) 詩中「割地」的原因是甲午戰爭清朝戰敗

2. 日治時期，日本在臺灣以右圖建築為統治中心。凡是有關臺灣政策的制定，須先由右圖機構內的官僚商討，確立政策內容後，再命令所轄各官署、地方政府執行。請問：下列敘述何者正確？

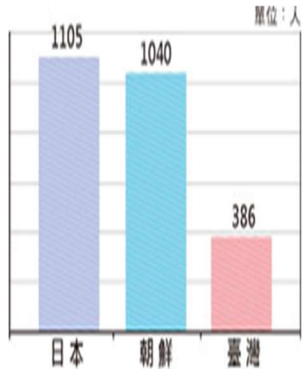


- (A) 1906 年發布的「三一法」授權臺灣總督可以制定與日本法律具有同樣效力的律令
(B) 右圖建築於 1919 年落成，現今作為行政院使用
(C) 臺灣總督集各項大權於一身，其專制的統治體制與中國古代的皇帝類似
(D) 右圖建築 1895 年於臺南設立，是日本在臺灣的最高統治機構

3. 圖（一）為日治時期關於警察職權的海報，每隻手分別寫著「惡疫豫防」、「蕃人授產」、「救助救護」、「左側通行」、「思想取締」、「犯人逮捕」。圖（二）為 1924 年日本國內及朝鮮、臺灣每名警察的管轄人數。請問：下列敘述何者正確？



圖（一）



圖（二）

- (A) 由圖（二）可知臺灣的警察比例比日本、朝鮮兩地為低
(B) 圖（一）顯示警察無所不管、權力很大，因而有「大人」之稱
(C) 圖（二）之數據背後原因為臺灣人缺乏知識、盜賊橫行，因此需要密度較高的警察來維持秩序
(D) 圖（一）中的「蕃人授產」是指教授漢人農業、畜牧等生產技術

4. 右圖為日治時期某制度的宣傳海報。請問：下列敘述何者正確？



- (A) 每十戶為一保，每十保為一甲，負責人分別為「保正」、「甲長」
(B) 由 60 歲以上的男子組成壯丁團，來防範匪賊和水、火災
(C) 協助警察進行戶口調查、預防傳染病等工作
(D) 為日治時期首創，目的是用來嚴密監控臺灣社會

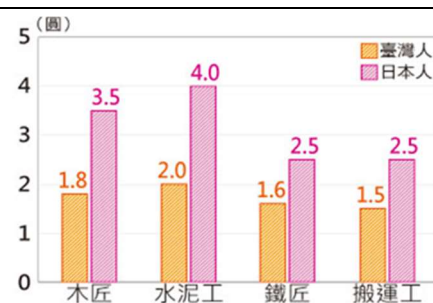
5. 「從 1915 年 7 月初開始，臺灣民眾發動了一連串的攻击事件，燒毀許多派出所。8 月初，日本警察和軍隊反攻，雙方在噶吧嘰虎頭山兵鋒交接，起事眾人不敵而死傷慘重，帶頭者被捕並處死，有一些百姓遭到報復性的殺害。此事件被捕者有 1,957 名，判處死刑者高達 915 人。」請問：關於此事件之敘述，下列何者正確？

- (A) 主要的發動者為莫那魯道
(B) 是利用宗教信仰吸引民眾而進行的抗日活動
(C) 事件後臺灣民眾持續以大規模的武裝抗日行動來表達不滿
(D) 起事地點位於今日的臺北市

- 6.

資料（一）
總督府實施『日臺共學』制度，明訂中等教育以上的學校，臺灣人可與日本人共同學習，然而實際上共學結果只是為在臺日人子弟提供更多教育機會，臺灣人進入高等教育的人數反而日益減少。

資料（二）
臺灣人、日本人一日工資比較表



請問：關於資料（一）及資料（二）描述的情況，下列何者正確？

- (A) 發生在 1895 至 1919 年間
(B) 「日臺共學」的實施是為了因應二戰結束後民族自決風潮的盛行
(C) 此時期臺灣總督由武官來擔任
(D) 顯示臺灣人實際上未獲得和日本人一樣的待遇

- 7.

總督府取消學校的漢文課與漢文報紙，並禁唱歌仔戲、採茶歌。此外，臺灣民眾入選「國語家庭」者可獲得較好的待遇。

總督府公布《改姓名法命》，想改姓名的人以戶為單位，提出申請。有些人為了反諷而取了奇怪的名字，如記者黃周將自己的日本名字改為「吾黃周也」。

請問：何者符合上面兩段文字的歷史背景？

- (A) 描述 1919 至 1937 年臺灣總督府的政策
(B) 總督府強調尊重臺灣人民的風俗習慣，以籠絡人心
(C) 培養臺灣人的愛國心，以使其在第一次世界大戰時為日本犧牲
(D) 此時總督府也鼓勵臺灣人穿和服、到神社參拜，實踐日本風俗習慣

8. 「軍方害怕士兵在她們身上留下『證據』，因此有人一懷孕就被強灌避孕藥、甚至有人被強迫拿掉子宮。…她們本以為戰爭後可以回歸平靜生活，殊不知長達數十年的身心煎熬才正要展開。…陳桃阿嬤原本打算成為老師再進修，卻無奈地說：『我回來都已經 25 歲了，要怎麼念書？』戰火無情，那些年輕的臺灣女孩，所有親情、愛情、夢想與人生，都已斷送在異鄉的慰安所裡。」請問：上述婦女的遭遇應發生於哪一時期？

- (A) 皇民化運動時期 (B) 殖民地特殊統治時期
(C) 內地延長主義時期 (D) 無方針主義時期

背面尚有試題

9. 「此人與山地日警曾有許多摩擦，妹妹嫁給日本警察也被遺棄。1930 年 10 月，因為婚宴敬酒衝突而起事抗日，日方派遣軍隊進剿。12 月，他見大勢已去，先擊斃家人，再舉槍自盡，4 年後發現屍體，被製成標本，放置於臺北帝國大學。」請問：關於上述抗日事件，下列何者正確？
- (A)文中的抗日領導者為賽夏族的頭目
- (B)事件發生在今日的臺中縣
- (C)日軍鎮壓原住民時使用毒氣、飛機轟炸，十分殘忍
- (D)事件後日人將原住民部落拆散，在原地進行管理

10. 右圖呈現某水圳的主要灌溉水道。請問：下列敘述何者與此水圳有關？
- (A)由施世榜籌款興建，取濁水溪之水灌溉農田
- (B)為清帝國統治時期規模最大的水利工程
- (C)由後藤新平規劃、設計並於 1930 年完工
- (D)完工後水田比例大幅增加，突破原本看天種田的耕作限制



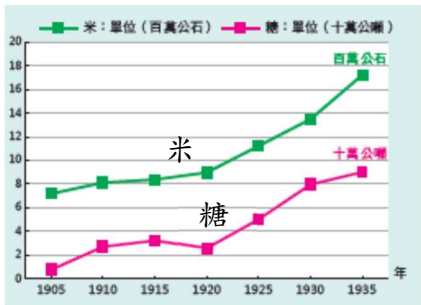
11. 右圖顯示 1896-1906 年臺灣的田賦收入。請問：圖中曲線的走向和下列何者最有關聯？
- (A)修築公路和機場
- (B)推行土地調查
- (C)建立通訊設施
- (D)整建基隆港和高雄港



12. 陳宏濂生活在日治時期的臺北，1905 年時他 20 歲。請問：下列何者「不」可能出現在他的生活之中？
- (A)拿著右圖的貨幣去買東西
- (B)坐火車到臺東參觀風景名勝
- (C)遇到警察到他家進行人口普查
- (D)60 歲時聽到日本天皇在廣播中宣布戰敗的消息



13. 右圖描繪 1905-1935 年臺灣米、糖產量成長的情形。請問：形成右圖曲線發展趨勢的歷史因素，並「不」包括下列何者？
- (A)新式糖廠的設立
- (B)大型水利設施的興建
- (C)稻米品種的改良
- (D)日月潭發電所的完工



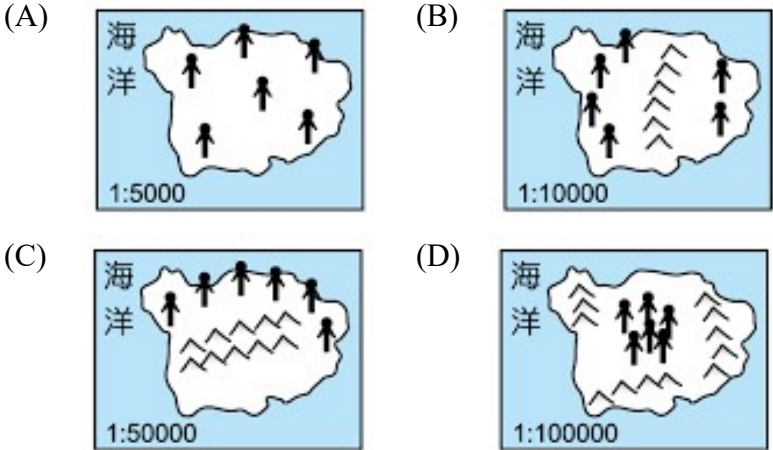
14. 某次一車甘蔗進入工廠過秤時，秤出的重量與蔗農估算差了一大截，在場的三個保正不信邪，跳上原車再磅一次，卻只增加 80 臺斤（48 公斤），因此有『三個保正，八十斤』的笑話。」請問：何者和上文描述的情景有關？
- (A)當時新式糖廠多為臺灣企業家所設立，時常剝削蔗農
- (B)臺灣成為世界糖業王國，蔗農從中得到很多利益
- (C)製糖會社壓榨蔗農，秤重時偷斤減兩
- (D)蔗農可自由將甘蔗賣給製糖會社，不肖蔗農趁機抬抬價格

15. 右圖為 1912-1941 年的臺灣輕工業生產指數。請問：圖中甲時期之後曲線陡升，下列何者與之「並無」關聯？
- (A)臺灣西半部的電力供應得以充足穩定
- (B)總督府實施「工業日本，農業臺灣」的經濟政策
- (C)臺灣逐漸從農業社會走向工業社會
- (D)日本欲建設臺灣為侵略東南亞等地時的補給基地

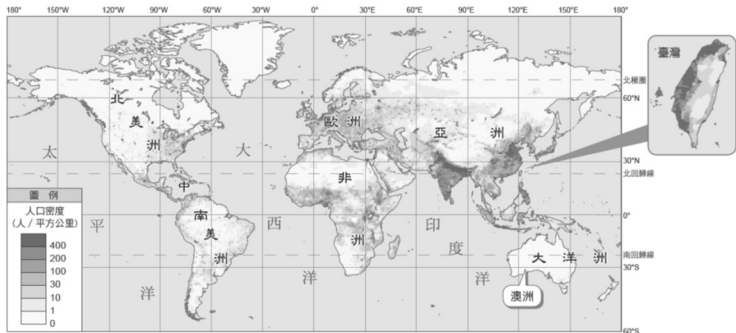


16. 楊有蓄假期到阿里山遊玩，搭乘森林鐵路列車時覺得新奇有趣。導遊介紹這條鐵路是當時政府為了運送阿里山的林木資源而建造，不但沿途可以將熱帶、溫帶的森林風貌一覽無遺，「之」字形的爬升技術更是傲視全球。請問：他所遊覽的這一條鐵路，最早應在何時通車？
- (A)1912 年 (B)1885 年 (C)1802 年 (D)1973 年

17. 下列四個海島國家，各國人口數量皆相同，請問哪一個國家的人口密度值「最低」呢？



18. 觀察下方的世界與台灣的人口密度圖，可看出人口分布十分不平均，請問下列敘述何者是「錯誤」的呢？
- (A)亞洲為各大洲中人口分布最平均的一洲
- (B)人口多分布於溫帶與熱帶氣候區
- (C)人口密度最高處位於亞洲
- (D)台灣人口高度集中西部與都市



19. 根據右圖的即時世界人口時鐘進行檢視，請問下列資訊何者完全正確？
- (A)世界人口已超越八十六億人口
- (B)世界性別比超越 100%
- (C)世界的社會增加率為負數
- (D)世界人口仍處於正成長趨勢

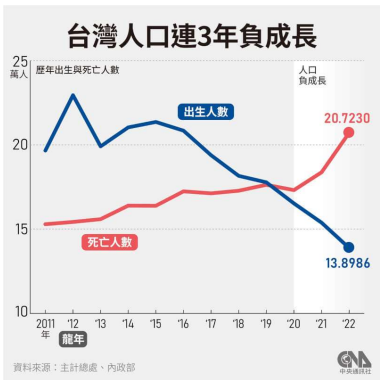
世界人口時鐘

28-02-2023 13:31:59

8 063 114 980	目前的人口
4 068 286 527	目前的男性人口
3 994 828 452	當前女性人口
26 212 382	今年出生的人數
252 388	今天出生的人數
10 126 593	今年死亡的人數
97 505	今天死亡的人數
0	淨遷移今年
0	今天的淨遷移
16 085 789	人口增長今年
154 884	人口增長的今天

20. 2018 年底《國家語言發展法》三讀通過，定義「國家語言」為台灣各固有族群使用的自然語言及台灣手語，由於這些語言許多已瀕臨衰微，必須儘速復振。透過修法後，台灣中小學現已納入本土語言課程，但因台灣族群多元，語言十分多樣化，請問我們的本土語言課程尚不包含何者？
 (A)閩南語 (B)客語 (C)原住民語 (D)越南語

21. 如右圖所示，台灣至 2020 年開始，已連三年進入人口負成長狀態，主要還是肇因於長年來持續下降的出生率。請問台灣長年的出生率低速與下列何者原因關聯性「最低」？
 (A)經濟結構的轉變
 (B)教育的提升與普及
 (C)社會住宅的興起
 (D)女性意識的覺醒

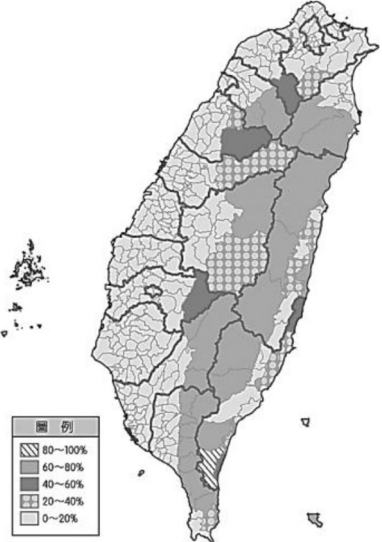


22. 跌宕的歷史因素讓台灣成為現今複雜多元的移民社會、美食天堂，擁有許多在地化兼具異國風情的特色美食，請問下列美食的來源與台灣各族群的配對何者「有誤」？
 (A)阿拜—原住民 (B)生春捲—新住民
 (C)豆漿、油條—閩南人 (D)薑絲炒大腸—客家人

【第23至24題為題組】右圖為臺灣各鄉鎮原住民比例圖，請依照圖中提示與訊息回答下列問題：

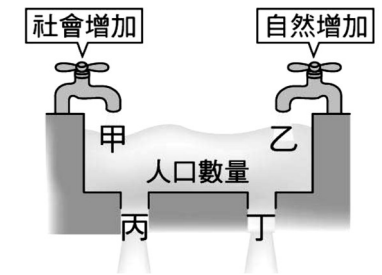
23. 參考臺灣各鄉鎮原住民比例圖，請問台灣原住民族風情最濃厚，可以體驗原民生活方式與傳統美食的主要觀光地點為下列何者？
 (A)花東地區 (B)雙北地區
 (C)竹苗地區 (D)嘉南地區

24. 承上題，在原住民部落中，除了傳統的祖靈信仰外，較常看到原住民的代表性圖騰與當地主要信仰的何種宗教建築相結合呢？
 (A)伯公廟 (B)清真寺 (C)教堂 (D)道觀



【第25至27題為題組】右圖為人口成長影響四要素的示意圖，請依照圖中提示與訊息回答下列問題：

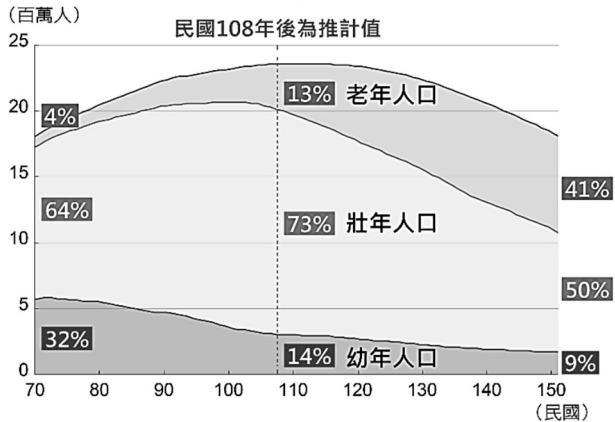
25. 請參照圖中的人口數量影響要素，若想了解一國的人口增加率，採用的是下列何種計算方法？
 (A) (甲 + 乙) - (丙 + 丁) (B) (甲 - 丙) + (乙 - 丁)
 (C) (乙 + 丙) - (甲 + 丁) (D) (丙 - 甲) + (丁 - 乙)



26. 疫情時代的來臨，讓本就飽受少子化衝擊的該國選擇封鎖邊境，管制人流只出不進，但國內仍因病毒感染力強而快速擴散，導致死亡人數急遽上升，甚至超越出生人數，現已面臨嚴峻考驗。請問該國此時面臨何種情境？
 (A)乙、丁皆減少，自然增加率仍為正值
 (B)丙、丁皆增加，人口呈現負成長
 (C)甲、乙皆為停滯狀態，數值為零
 (D)社會增加率應為正值，自然增加率應為負值

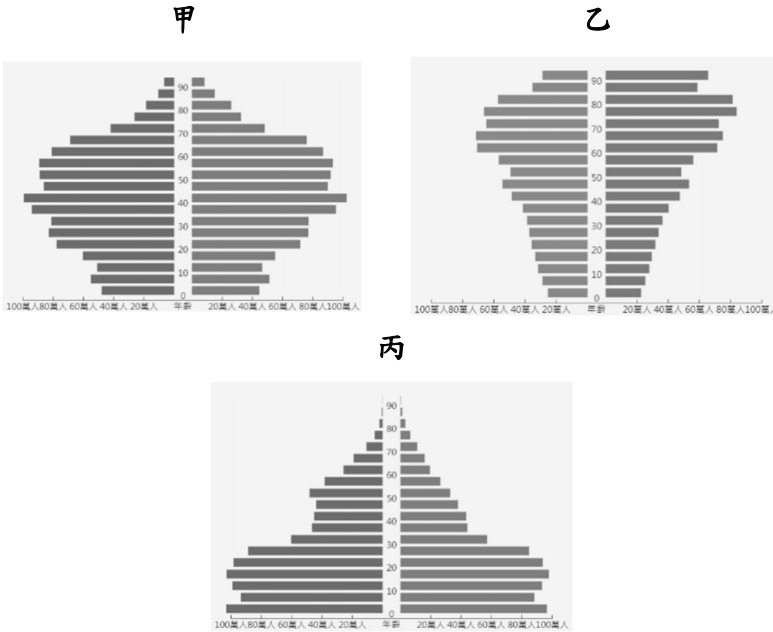
27. 當乙的數值為 1.6‰，請問代表該國的何種人口指標意義呢？
 (A)每 100 人中，有 16 人出生
 (B)每 1000 人中，有 1.6 人出生
 (C)每 100 人中，有 16 人移入
 (D)每 1000 人中，有 1.6 人移入

【第 28 至 30 題為題組】下圖為台灣的人口結構推估圖，請依照圖中資訊回答下列問題：



28. 請問在民國 70 年至未來民國 150 年間，台灣扶養比的變化趨勢為何？
 (A)先上升後下降 (B)先下降後上升
 (C)逐漸上升 (D)逐漸下降

29. 觀察台灣的人口結構變化趨勢後，請依時間序排出台灣的人口金字塔圖，由歷年至未來的演變趨勢為何？
 (A)甲→乙→丙 (B)乙→甲→丙
 (C)丙→甲→乙 (D)丙→乙→甲



30. 承上題，為因應未來趨勢，台灣可以著重發展哪些因應政策？
 (甲)擴充長照 2.0 服務，廣設社區長照柑仔店 (乙)六歲學齡前兒童政府養，增設幼托與各級學校
 (丙)延後退休年齡，提升高齡長者勞動參與率 (丁)降低金融貸款利率，並減少勞動人口稅賦比率
 (戊)開創友善家庭，創造兼顧育兒與就業的工作條件
 (A)甲乙丙 (B)甲丙戊 (C)甲丁戊 (D)乙丙丁

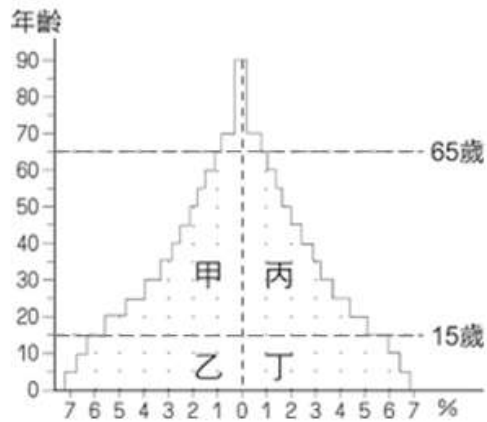
【第31至33題為題組】下文為烏克蘭近一年來戰爭爆發後導致的大量人口變遷概況，請依照文中敘述回答下列問題：



2022年2月俄羅斯揮兵烏克蘭國土，烏俄戰爭開打，僅一個月時間，烏克蘭已有1000萬人逃離自己的家園，相當於烏國

逾四分之一人口。聯合國難民署指出，其中近340萬人逃往鄰近各國，絕大多數逃往波蘭邊界，如上圖所示。逃亡的民眾約9成都是婦孺，至於烏克蘭18歲至60歲的男子皆符合受徵召當兵資格，不能離境。戰事延續至今已逾一年，戰火未熄，烏克蘭民眾死傷無數，且難民亦在異國他鄉飄盪，返國之願遙遙無期。

31. 根據上文所述，請問逃至波蘭的百萬烏克蘭婦孺應是屬於何種類型的人口遷移？
- (A)暫時性、國際遷移 (B)暫時性、國內遷移
(C)永久性、國際遷移 (D)永久性、國內遷移
32. 請問這波逃往波蘭的烏克蘭難民遷移的原因為何？
- (A)波蘭的拉力強 (B)波蘭的推力強
(C)烏克蘭的拉力強 (D)烏克蘭的推力強
33. 此戰役中，烏克蘭全民抵抗入侵，但是男性傷亡尤為顯著，請以下圖為例，烏克蘭的人口金字塔結構最可能如何改變？
- (A)甲區向右偏移，比例降低
(B)乙區比例向左偏移，比例增加
(C)丙區向左偏移，比例增加
(D)丁區向右偏移，比例降低



34. 每年農曆正月十五元宵節這一天，人們會吃湯圓、賞花燈、猜燈謎，各地張燈結綵舉行慶祝活動……請問這是彰顯了文化的何種特性？
- (A)普遍性 (B)差異性 (C)累積性 (D)制約性

35. **巴黎教師遭斬首 血案背後是法國的深層社會衝突**
法國有一名中學教師在課堂上向學生展示嘲諷伊斯蘭教先知穆罕默德的漫畫，讓他因此惹來殺身之禍，在巴黎附近被伊斯蘭教狂熱的犯嫌斬首。血案發生後，巴黎、里昂等主要城市數萬民眾上街示威，呼籲言論自由，哀悼遇害者。法國總統對此事件表示：「我們不接受仇恨言論，會捍衛合理辯論的言論自由…我們將永遠支持人性尊嚴和普世價值。」

- 根據上述新聞事件的內容判斷，下列說明何者正確？
- (A)言論自由應受到法律保障而不該設立任何限制
(B)宗教信仰是具有強制力的社會規範
(C)對於不同的文化應抱持理解與尊重的態度
(D)強勢文化擴張可能會引起弱勢文化的抵抗

36. 阿榮為了研究社會規範對法律的影響，蒐集了相關資料製成下表；根據表中資料判斷，下列說法何者正確？

	風俗習慣	倫理道德
舉例說明	農曆過年與家人團聚	維護環境整潔是美德
對法律的影響	明定除夕春節為國定假日	規定處罰亂丟垃圾的行為

- (A)法律都是依據風俗習慣與倫理道德制定而成
(B)若演變為法律其規範就具有強制力
(C)僅有法律具有穩定社會秩序的功能
(D)法律的規定是倫理道德的判斷標準



37. 如上圖所示，下列何者與圖中內容屬於同一類型的社會規範？
- (A)穆斯林齋戒月，十六小時斷食
(B)溜狗繫狗鍊，隨手清狗便
(C)君臣有義，父子有親
(D)清明返鄉祭祖，慎終追遠

38. 玲玲針對臺灣青少年喜好的戲劇類型進行調查，結果如右表所示。若她想為此研究訂一個主題，下列何者最為適合？
- | 時間 | 喜好的戲劇類型 |
|--------------|---------|
| 1970~1980 年代 | 香港戲劇 |
| 1990 年代 | 日本戲劇 |
| 2000 年至今 | 韓國戲劇 |
- (A)從娛樂文化探討臺灣文化資產的傳承
(B)文化位階與青少年流行文化的探討
(C)從青少年流行文化談次文化的變遷
(D)文化交流造就「哈日」與「哈韓」現象

39. 早期農村社會在處理家庭婚姻事件時，常會讓做錯事的一方在公開場合下跪認錯，這樣的處罰方式沿用多年，被稱之為「洗門風」，但是此作法在現今社會飽受爭議，因為可能會涉及公然侮辱與妨害自由的問題……
- 根據畫線部分判斷，「洗門風」的作法會有爭議，主要是因為哪些社會規範之間的衝突？
- (A)風俗習慣與倫理道德 (B)倫理道德與宗教信仰
(C)風俗習慣與法律 (D)倫理道德與法律

40. 下列四則新聞標題中，何者呈現的內容最有助於消除文化位階？

- (A) **國家語言發展法通過**
閩、客、原住民、手語皆是國家語言
- (B) **非裔超級英雄即將推出**
漫威電影角色刻板印象惹爭議
- (C) **推行原住民改漢姓**
原住民族依規定改用漢人姓名
- (D) **說國語運動開跑**
學校、電影院等公眾場所勿說方言

41. 蘭嶼的招魚祭在紅頭部落率先舉行後，接著由各部落陸續舉辦飛魚祭，部落主祭者依循傳統儀式，到海邊取海水並灑在船身。蘭嶼鄉鄉長向族人宣布：「招魚季後大家就不能再下海打魚，魚獲以魚網捕撈飛魚及鬼頭刀為主，讓底棲魚類可以休養生息。」根據鄉長的說法，下列敘述何者正確？
- (A)原住民的祭典屬於社會的主流文化
(B)傳統的風俗習慣可以兼顧倫理道德
(C)共同為爭取原住民族的權益而努力
(D)違反規定者會受國家公權力的處罰

42. 下列是四位同學在公民課時討論「社會規範」的內容，請問哪些同學的說法為正確？
- 大雄：風俗習慣是最容易隨著時代而變遷的社會規範
- 胖虎：法律是人與人相處的行為準則，以及判斷善惡是非的標準
- 靜香：倫理道德有提醒和監督的作用，讓人們能自發性地遵守
- 小夫：宗教信仰是人類生活中最早發展出來的社會規範
- (A)大雄、靜香 (B)大雄、小夫
- (C)胖虎、靜香 (D)胖虎、小夫
43. 瑋瑋在電影院時看到以下(左)、(右)兩張宣傳海報，分別透過不同的社會規範加以約束人們；根據圖中內容判斷，下列敘述何者有誤？



- (甲)左圖是依據一定程序制定的社會規範
- (乙)右圖是社會中相沿成習的慣例
- (丙)左圖的規定是以國家公權力作為後盾
- (丁)右圖只能啟迪人們的內在良心
- (A)(甲)、(乙) (B)(乙)、(丁)
- (C)(丙)、(丁) (D)(甲)、(丙)
44. 西班牙戈梅拉島上的原住民族在幾百年前生存環境充滿危機，為了分辨敵我傳遞訊息，創造出口哨語，無論在海邊還是森林都能透過口哨溝通。但是 15 世紀末，西班牙人征服該島後，居民改以西班牙語作為溝通語言，使得口哨語瀕臨消失。面臨這樣的情況，戈梅拉島政府主動爭取官方重視，將口哨語列為教育必修課程，期待全島年輕一代都能學會使用這獨特的語言。下列哪一項敘述最符合戈梅拉島政府的作為？
- (A)推動文化傳承，認同自我文化
- (B)消除文化位階，突顯文化的優越性
- (C)尊重文化的差異性，普及次文化
- (D)加速文化交流，追求文化融合

【第 45 至 46 題為題組】

臺灣社會對於刺青從過去被視為偏差及叛逆的刻板印象，(甲)轉化成為某一部分人表達自我與展現身體藝術之美。

追溯刺青的發展，臺灣許多原住民族即有類似的做法，其中最具代表性的就是泰雅族的紋面。(乙)泰雅族青年在 17、18 歲時，需要經過一番考驗(男性主要是打獵、女性則為紡織)，才可以刺紋於臉上，代表成年的象徵；在祖靈信仰下，紋面者必需遵循祖先遺訓，才能得到祖靈的眷顧，致使傳統泰雅族人皆視紋面為榮譽的象徵。

45. 根據上文中的(甲)畫線處內容判斷，下列何者最符合文意？
- (A)主流文化的普遍 (B)次文化的展現
- (C)文化位階的現象 (D)文化衝突的表現
46. 上文中的(乙)提及泰雅族的紋面做法，其中包含哪些社會規範？
- (A)倫理道德、風俗習慣 (B)宗教信仰、法律
- (C)法律、倫理道德 (D)風俗習慣、宗教信仰

47. 老師在課堂說明文化的特性，並請四位同學各自舉例說明，下列哪一位同學的說法有誤？
- (A)每個社會都會制定法律來維持社會秩序→文化的普遍性
- (B)世界各地的舞蹈各具特色，例如：義大利的鈴鼓舞、墨西哥的帽子舞→文化的差異性
- (C)居家清潔工具，從過去的掃帚演進為今日的掃地機器人→文化的累積性
- (D)世界各國皆存在婚姻制度→文化的制約性

48. 下列有關社會規範的比較，何者有誤？

	風俗習慣/倫理道德/宗教信仰	法律
(甲)產生背景	長期累積而成	司法機關依照一定程序所制定
(乙)作用	只能啟迪內在良心	規範外在行為
(丙)處罰方式	良心譴責、輿論壓力	國家公權力處罰
(丁)異動	會隨著社會變遷而變更	會隨著社會變遷而變更

- (A)(甲)、(乙) (B)(甲)、(丁)
- (C)(乙)、(丙) (D)(丙)、(丁)
49. 文化是人類社會特有的現象，其內涵可以說是人類生活的全部；下列各項有關文化的敘述，何者正確？
- (甲)阿里山與 101 大樓都是文化的範疇
- (乙)社會規範也是屬於文化的範圍
- (丙)主流文化與次文化之間具有某些共通性
- (丁)相較於主流文化，次文化屬於文化位階較低的文化
- (A)(甲)、(乙) (B)(甲)、(丁)
- (C)(乙)、(丙) (D)(丙)、(丁)
50. 新聞報導：鄒族達邦村頭目以保護原住民自然資產為由，涉嫌在公路上強行沒收漢人鄉民採集的蜂蜜，遭法院判決有罪，事發後引起了許多爭議。在鄒族族人的觀念裡，對於傳統領域享有自然主權，可以進行農業、林業、狩獵與採集，但是他們也尊重自然、確保資源的永續利用，因此不會將野生蜂蜜的巢摘除。
- 根據報導內容，下列說明何者正確？
- (A)以鄒族的傳統來管理部落事務，屬於文化的累積性
- (B)原住民族對於違反規定者給予懲罰，屬於文化的制約性
- (C)法院依照法律進行審判，並未忽略多元文化的精神
- (D)法院的判決使得鄒族族人被迫接受漢人的文化內涵

試題結束

新北市立新莊國民中學 111 學年度第 2 學期第 1 次段考 7 年級社會領域試題
解答

1	2	3	4	5	6	7	8	9	10
D	C	B	C	B	D	D	A	C	D
11	12	13	14	15	16	17	18	19	20
B	B	D	C	B	A	D	A	D	D
21	22	23	24	25	26	27	28	29	30
C	C	A	C	B	B	B	B	C	B
31	32	33	34	35	36	37	38	39	40
A	D	A	D	C	B	D	C	C	A
41	42	43	44	45	46	47	48	49	50
B	A	B	A	B	D	D	A	C	D