

新北市立新莊國民中學 112 學年度第 2 學期第 2 次段考 8 年級社會領域試題卷

※ 選擇題：本試卷共 50 題，每題 2 分，總分為 100 分。

每一題均為單選題，請選出最適當答案。

※ 請用 2B 鉛筆在答案卡上相應的位置畫記。

【第 1 至 3 題為題組】

自去年十月以巴衝突升溫後，以色列仰仗著美國為首的西方陣營支持，現面臨多戰線衝突，有來自巴勒斯坦伊斯蘭主義組織哈瑪斯（Hamas）陣線外，還有以色列北部邊境的黎巴嫩真主黨（Hezbollah）、葉門叛軍「青年運動」胡塞（Huthi）武裝組織，以及敘利亞和伊拉克的親伊朗軍事派系的攻擊。

今年四月伊朗為報復以色列轟炸駐敘利亞的伊朗大使館事件，雙方採以牙還牙的方式直接以飛彈攻擊對方領土，態勢越演越烈，經國際調停衝突仍尚未完全平息，引發全球政治與經濟持續動盪。

1. 參考下圖資訊可知，「反以色列」勢力—葉門叛軍以其地利之便，於自家沿海大肆襲擊與以色列友好的國家船隻，造成世界海運航道大亂，也引發美英聯軍對葉門叛軍展開軍事空襲，並派遣軍艦至亞丁灣執行相關護航行動，此事件目前仍舊方興未艾。請問下列相關衝擊「並非」此事件造成的？

- (A)埃及政府管理的跨境運河收入銳減
- (B)臺灣長榮海運公司選擇繞道非洲南部至歐洲市場
- (C)地中海危機促使 OPEC 組織減產以便調漲能源價格
- (D)英國保險商對航商趨勢推出地中海至印度洋海域的貨運戰爭險保單



2. 長期旅居以色列首都的臺灣僑民與其以色列籍家人，四月遭遇伊朗空襲時急忙躲進家中防空洞，幸而 99% 的飛彈皆以先進飛彈防禦武器—鐵穹系統於高空攔截撞毀，受損甚微，民眾生活依舊如常上班、就學。為因應煙硝隨時再起，平時亦嚴加戒備，以色列男性需服役三年，以色列女性則需服役兩年，防範於未然。請問下列有關長期定居、早已融入以色列生活的台僑日常敘述，何者並「不相符」？

- (A)生活中多接觸猶太信仰與文化
- (B)採全民皆兵態勢，以色列籍家人不論男女皆需服兵役報效國家
- (C)首都為三教聖地「耶路撒冷」，可在一天內參觀佛寺、清真寺與猶太聖殿西牆
- (D)省水科技發達，日常水源來自再生水或海水淡化，日常蔬食農產多以滴灌設施養成

3. 今年四月十八日聯合國安理會，巴勒斯坦加入聯合國的議案因美國一票否決，失敗告終，巴勒斯坦無緣成為聯合國會員國。美國眾議院又在四月二十日通過法案，將撥款 264 億美元援助以色列，並向加薩提供人道援助。巴勒斯坦自治政府隨即表示，美國對以色列的金援與軍援，是在「攻擊巴勒斯坦人民」，將造成數以千計的巴勒斯坦人死亡。結合題組文章與本題敘述，請問下列關於以巴衝突的比較何者「有誤」？

- (A)多年衝突不僅為確保自身族群、宗教而戰，也為爭奪

班級 座號 姓名

領土、水源、石油資源而打

(B)同為伊斯蘭文化的黎巴嫩、敘利亞、伊朗主要支持價值觀相近的巴勒斯坦

(C)這是「猶太民族」與「阿拉伯民族」彼此間長期抗戰

(D)美國以實際行動支持科技發達的以色列政府

【第 4 至 8 題為題組】

沙烏地阿拉伯善於將荒漠化為良田，人定勝天的在沙漠找到水源，創造了一個個圓形人工綠洲，生產大量農產。又於 2022 年宣布，要在該國西部海濱打造一座可提供 900 萬人居住的豪華新綠洲，預計耗資高達 1 兆美元的新建築名為「THE LINE」，全長 170 公里、500 公尺高、200 公尺寬，是一座被鏡面包覆且兼具最新科技的垂直城市，預計耗時 50 年時間完工，將矗立在塔布克省的新未來城（Neom），位置如下圖所示。

根據規畫，在「THE LINE」內部，人們不需要開車，高速鐵路能在 20 分鐘內將你送達任何一處，整座城市完全以 100% 可再生能源提供動力。目前建造工程已經開始動工，初步計畫期望在 2030 年之前，讓 150 萬人入住這座新綠洲。



4. 沙烏地阿拉伯當地創造的一個個圓形人工綠洲，生產出的大量農產主要使用的是何種灌溉方式呢？
(A)渠道引用河水 (B)坎井引流雪水
(C)滴灌精算再生水 (D)水井噴灌地下水
5. 承上題，氣候乾燥的人工綠洲常因過度開發造成生態破壞。請問該區農業帶常因超限利用引發什麼環境問題呢？
(A)高山冰河快速消失，水源短缺
(B)表土層遭遇鹽鹼化，地力衰退
(C)極端天氣洪災來襲，糧產減少
(D)河川垃圾汙染嚴重，水質不佳
6. 高度仰賴石油經濟的沙烏地阿拉伯，開發新型態城市時，迎合世界節能減碳的環保潮流，積極推動再生能源取代傳統化石燃料。考量該國的自然環境條件，要達成淨零碳排的綠建築目標，請推測 THE LINE 未來新建築最可能以何種再生能源為主要能源？
(A)地熱能 (B)生質能 (C)海洋能 (D)太陽能
7. 請問未來入住 THE LINE 新建築的穆斯林，其生活型態與下列何者敘述較吻合呢？
(A)生活敬拜真主阿拉，複誦聖經
(B)遵行五功，每日朝東南方朝拜五次
(C)飲食遵守禁食豬肉，但可飲酒的習慣
(D)齋戒月在日落後才開始禁食，以利白日工作
8. 積極推動建設未來新型態城市的沙烏地阿拉伯，正試圖將經濟結構轉型，當此城建成，將成為世界著名觀光景點。若以最近距離考量，請問下列哪國觀光郵輪到訪「無需」經過蘇伊士運河？
(A)西班牙 (B)印度尼西亞 (C)利比亞 (D)土耳其

9. 世界盃足球賽往年大多選擇在夏季開踢，但在 2022 年的賽事，考量主辦國—波斯灣畔的「卡達」當地的氣候環境，決定挪移至該年的十一月開賽，這是首次在北半球秋冬季舉辦世界盃足球賽。請問此區氣候條件受下列何者因素影響最大？

(A)夏季遇西風帶南移 (B)距海遙遠水氣稀薄
(C)副熱帶高氣壓籠罩 (D)山脈阻擋低壓氣旋

10. 承上題，受到氣候的影響，下列何者「並非」卡達當地居民的生活寫照？

(A)與猶太人常為爭奪水源引發衝突
(B)帶領觀光客體驗騎乘駱駝的沙漠巡禮
(C)傳統夯土建築多配有風塔設備以利通風
(D)伊斯蘭婦女多著傳統頭巾、面紗和長袍防曬

11. 今年四月三日早晨約八點，臺灣花蓮外海發生規模 7.2 強震，撼動全台，造成了十餘人死亡與零星建物倒塌，土耳其無人機隊感念去年土耳其敘利亞邊界發生規模 7.8 強震造成近六萬人死亡時，臺灣救難隊的迅速援助，隨即出發至花蓮受落石嚴重毀損的砂卡礑步道幫忙協尋失蹤者，維持國際間「善的循環」。請問土耳其與臺灣間的積極相互援助，是因為兩國間有何共同之處？

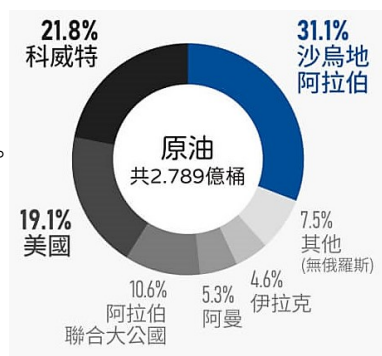
(A)互為雙方友邦國 (B)夏季均有颱風襲擊
(C)都位於太平洋火環帶 (D)皆為板塊頻繁擠壓處

12. 有鑒於氣候環境的快速變遷與地球人口的持續增加，資源競爭的情形愈趨火熱。近年國際間關於水資源的爭議日益增長，其中衣索比亞復興大壩的計畫遭受埃及與蘇丹的強烈抨擊與反對，但衣索比亞政府仍堅決付諸實行，雙方間態勢緊張、一觸即發。請問此水壩蓋在哪一條河流上？

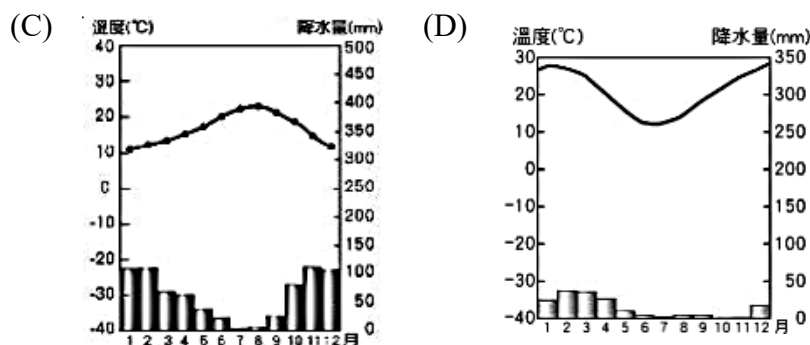
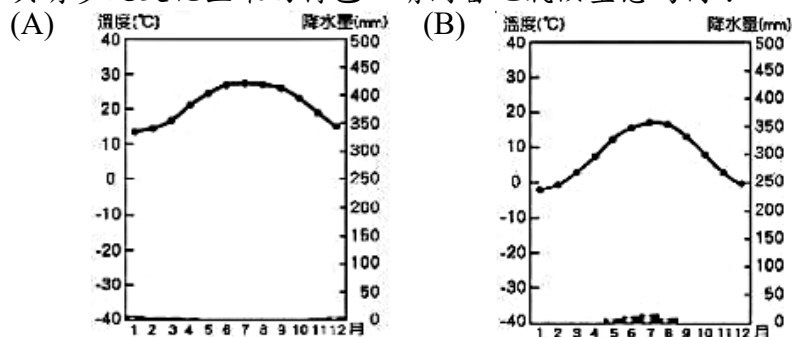
(A)底格里斯河 (B)幼發拉底河
(C)尼羅河 (D)約旦河

13. 臺灣的能源政策為配合節能減碳目標，積極轉型再生能源，但目前仍高度仰賴石油為主要能源，右圖為 2021 年臺灣主要原油進口國示意圖。請參考相關數據，推論出臺灣的能源多數由何區取得？

(A)紅海 (B)波斯灣
(C)兩河流域 (D)安納托利亞高原



14. 「馬格里布」該詞在古代原指亞特拉斯山脈至地中海海岸之間的地區，有時也包括穆斯林統治下的西班牙部分地區，後逐漸成為摩洛哥、阿爾及利亞和突尼西亞三國的代稱，具有多元文化匯聚的特色。請問當地氣候型態為何？



15. 承上題，依據該地氣候環境，若到馬格里布地區旅遊，觀光客可購買的代表性特產是什麼？

(甲)葡萄酒、(乙)椰棗乾、(丙)水蜜桃乾、(丁)橄欖油、
(戊)波斯地毯、(己)喀什米爾毛衣

(A)甲丁 (B)甲己 (C)乙戊 (D)丙丁

班級 座號 姓名

16. 二十一世紀「半導體」重要性被喻為等同二十世紀的石油資源，臺灣這蕞爾小島製造了全球超過一半的晶片，引發世界的關注與覬覦，兩岸關係亦受矽盾影響而日益緊張，台海區域衝突的可能性遽增。請問與臺灣一樣掌控當代關鍵資源的某產油國，在二十世紀末因掌控豐富石油引發強大鄰國覬覦入侵，後引起國際聯軍介入衝突調停的史上第一場石油戰爭指的是下列何者？

(A)敘利亞什葉派與遜尼派的相爭
(B)庫德族與伊拉克、伊朗的衝突
(C)摩洛哥與西撒哈拉組織的對抗
(D)伊拉克領袖佔據科威特的出征

17. 下表是某地區的案件數量統計結果，其中一位調解委員說自己可以調解的共有 60 個案件，根據表中資料判斷，他最有可能是下列何人？

	損害賠償 案件	告訴乃論 案件	非告訴乃論 案件	侵權案件
索隆	20	20	20	10
娜美	30	30	0	20
香吉士	20	10	10	30
佛朗基	30	20	0	30

(A)索隆 (B)娜美 (C)香吉士 (D)佛朗基

18. 警察局接獲民眾報案電話，派警員出動前往何姓男子的租屋處，救出一名被拘禁的女子，並發現她的身體有傷勢，立即將她送醫治療。事後，該名女子表示她在面試工作時遭何姓男子誘騙拘禁，手機和財物都被偷走…涉案的何姓男子被逮捕後，將依妨害自由、竊盜等罪嫌被起訴。關於上述事件的追訴過程與相關敘述，何者正確？

(A)最初是由警察機關告發何姓男子的犯罪事實
(B)接著是由檢察官訊問嫌犯、調查證據並作成起訴書
(C)最後是由法官依照證據進行審判並指導判決的執行
(D)該事件屬於告訴乃論的刑事案件，侵害的是個人法益

19. 以下四人皆為精神狀況正常，請依據敘述判斷其行為能力與責任能力各是為何？

(A)10 歲就讀小學的花輪，屬於無行為能力人、無責任能力人
(B)18 歲大學生的丸尾，屬於限制行為能力人、完全責任能力人
(C)19 歲既聾且啞的永澤，屬於完全行為能力人、限制責任能力人
(D)85 歲銀髮爺爺的友藏，屬於限制行為能力人、限制責任能力人

20. 前幾年，新冠疫情持續延燒，部分不肖商人惡意囤積防疫物資或哄抬價格；政府相關單位依據《嚴重特殊傳染性肺炎防治及紓困振興特別條例》對於違法者處以 5 年以下有期徒刑，得併科新臺幣 500 萬元以下罰金。請問：以下敘述何者正確？

(甲)上述處罰前者屬於主刑，後者屬於從刑
(乙)上述處罰須由檢察官執行
(丙)若人民不服上述處罰可提起訴願
(丁)上述法規與民法屬於同一法律位階

(A)甲丙 (B)甲丁 (C)乙丙 (D)乙丁

21. 老師在公民課分享以下兩則新聞，並點名學生發表意見，請問下列哪位同學的發言最為正確？

新聞一

某女星因出演連續劇中的壞女人，被觀眾惡意在網路上留言攻擊，在不堪其擾之下，決定依刑法的妨礙名譽罪到地檢署按鈴提告。

新聞二

某政治人物透過土地收購來洗錢，經過相關單位的調查蒐證後，被依貪污罪起訴，在多年的纏訟後，由最高法院判決一年有期徒刑。


(A)哈利：新聞一的女星提告方式稱為自訴
(B)榮恩：新聞二的犯罪行為是侵害個人法益
(C)妙麗：新聞一屬於告訴乃論的刑事案件，只能以訴訟的方式尋求救濟
(D)馬份：新聞二屬於非告訴乃論的刑事案件，只能以訴訟的方式尋求救濟

22. 一則新聞報導如下所示，根據我國民事與刑事訴訟的概念判斷，下列敘述何者正確？

17 歲的小宇與 18 歲的大宇是兩名高中生，兩人趁著元旦連假學校無人，在校園內點煙火慶祝玩耍，卻不慎釀成火災，所幸無人傷亡，僅造成財產損失。在釐清案發經過後，警方將兩人依公共危險罪移送法辦。

- (A) 僅一人的父母需要負連帶賠償責任
(B) 僅一人依其行為能力可以減輕刑罰
(C) 全案由警察協助偵查並做成起訴書
(D) 全案由檢察官負責偵查後提起告訴

23. 右圖是欣鈴參加的一場法院旁聽，請依據法律規定判斷，下列關於訴訟制度與角色的敘述，何者正確？



- (A) 甲負責進行偵查與起訴犯罪
(B) 乙負責協助委託人進行訴訟
(C) 丙在法庭上扮演原告的角色
(D) 丁主動調查案件並執行刑罰

24. 2021 年，臺鐵的太魯閣號在花蓮發生出軌事故，經過調查疑似是承包商操作機械不當，造成重大死傷；在偵查終結後，認定承包商犯過失致死、肇事逃逸等罪行。本事件也引發社會大眾認為「過失致死罪」刑度太輕的疑慮，建議修法提高刑期才能讓犯罪者得到應有的處罰。關於上文中提及的鐵路事故引發修法的言論，下列分析何者正確？

- (A) 若想達成上文中的修法結果，人民可以向立法院提起訴願
(B) 若修法後將刑度提高，可以達成刑罰的處罰之目的
(C) 可以透過公民投票，決定嫌犯的刑期，落實主權在民的精神
(D) 日後若能修改法律，基於罪刑法定原則，上文事件適用新的法律規範

25. 屏東市某家刺青店遭一名許姓男子縱火，造成老闆夫妻死亡；經過法定的犯罪追訴程序，法院審判後認為犯嫌手段殘忍，認定是「情節重大之犯罪」，無教化之可能，最終判決（甲）死刑、（乙）褫奪公權終身，且（丙）不得再進行訴訟。針對上述新聞內容，以下四人的分析，何者正確？

道格：甲和拘役皆屬於主刑，可以單獨科處
彼得：乙和沒收皆屬於從刑，不能單獨科處
蘇珊：丙是剝奪嫌犯憲法所保障的自由權
凱莉：甲和乙都由檢察官指揮裁判的執行

- (A) 道格、凱莉 (B) 道格、蘇珊
(C) 彼得、蘇珊 (D) 彼得、凱莉

26. 以下是阿瑋在公民課做的筆記，請問哪一項內容是錯誤的？

項目	說明
(A) 公訴	針對犯罪行為，檢察官依調查所得的證據，向法院提起的訴訟。
(B) 自訴	被害人委任律師向檢察官提起的訴訟，以請求判決被告有罪。
(C) 告訴	針對犯罪行為，被害人或其家屬向警察機關報案。
(D) 告發	任何人只要發現犯罪事實，都可以向偵查機關報案。

27.

新聞一

19 歲的大學生阿聖因缺錢花用，竟然和朋友組織詐騙集團，騙取他人的存摺和提款卡，引誘被害人到銀行或提款機轉帳，最後遭到警方的逮捕並移送法辦。

新聞二

小六學童小良和小庾在下課時間拿教室的漂白水玩鬧嬉戲，不幸波及一名路過的同學，造成同學的眼睛二度灼傷，其父母氣得出面提告並求償一千萬元。

根據以上兩則新聞內容，下列何人的說法是正確的？

甲：阿聖是完全責任能力人，在逮捕並遭起訴後，就能視為有罪

班級 座號 姓名

乙：小良和小庾的行為依罪刑法定原則，已構成過失傷害罪，但可減輕其刑

丙：新聞一的被害人若未主動提告，國家也會偵查與追訴犯罪行為

丁：新聞二的雙方家長可用調解的方式處理糾紛，且效力等同法院判決

- (A) 甲、乙 (B) 甲、丁 (C) 乙、丙 (D) 丙、丁

28. 右圖是學校即將舉辦的法學講座海報，請依照內容推論哪位同學對演講內容的理解最為正確？

- (A) 被害人提出告訴後，法官才能依據證據進行審理
(B) 行為之處罰，以行為時的法律有明文規定者為限
(C) 各級法院皆不得就未經起訴的犯罪行為進行審判
(D) 未經審判證明有罪確定之前，都要推定其為無罪

29. 關於刑法與刑事訴訟法的規定與相關說明，以下何者正確？

甲. 年滿 80 歲以上者、瘡啞人屬於無責任能力人，若有犯罪行為，得減輕其刑

乙. 因過失而撞到停在路邊的汽車，導致汽車出現刮痕，仍未構成刑法的毀損罪

丙. 刑事訴訟的過程先後為偵查→起訴→執行→審判

丁. 檢察官隸屬行政院，負責進行偵查與起訴犯罪

- (A) 甲、丙 (B) 甲、丁 (C) 乙、丙 (D) 乙、丁

30. 下表是小蘭、園子、灰原、和葉四人所發生的案件及對應的法律責任，僅就下表所列舉的資料條件並依據刑法的規定判斷，哪些配對是完全正確？

	案件	責任能力	該案件的法律責任
甲	15 歲的小蘭因金錢糾紛而刺殺班上同學，造成這名同學不幸喪命	限制責任能力	得減輕其刑
乙	25 歲的園子在褫奪公權期間，因偷取鄰居家的財物而被當場逮捕	完全責任能力	負完全刑事責任
丙	45 歲的灰原因精神障礙導致辨識違法能力明顯減低，某日無故用石頭砸傷路人	無責任能力	不以刑罰處罰
丁	82 歲的和葉騎機車到市場買菜，不小心把停在路邊的機車後照鏡撞壞	限制責任能力	得減輕其刑

- (A) 甲、乙 (B) 甲、丁 (C) 乙、丙 (D) 丙、丁

31. 大法官會議做出釋字第 791 號解釋，認定刑法第 239 條通姦罪違憲，立即失效。因此，通姦行為基於【甲】原則已不是犯罪，但配偶若有通姦行為，可主張權利受到侵害，透過訴訟向對方要求賠償損害…依據上文判斷，何者正確？

- (A) 此案顯示大法官有修改法律的職權
(B) 甲是刑事訴訟法中的無罪推定原則
(C) 配偶求償的訴訟由檢察官偵查後起訴
(D) 配偶的通姦行為依法須負擔民事責任

32. 2022 年 6 月 1 日起，

跟蹤騷擾行為入罪化正式實施，如右圖的八種行為只要持續或反覆違反特定人意願且與性或性別有關，警察機關將可介入調查。此罪屬於告訴乃論罪，可處 1 年以下有期徒刑、拘役或科或併科新台幣 10 萬元以下罰金。若甄聰明要對上文補充說明，下列敘述何者正確？

- (A) 附圖的八種行為在 2022 年 6 月之前屬於犯罪行為
(B) 上文所提及的刑罰，只有罰金屬於從刑
(C) 上文所提及的跟騷行為，檢察官可以主動偵查與起訴
(D) 跟騷的加害人可以透過和解，雙方約定對於刑事部分不提起訴訟

跟騷法的 8 個行為態樣



圖片來源：內政部警政署全球資訊網

@lawyer_sunny

33. 右圖是某地區在一段時間內發生的法律案件類型與數量統計表，根據表中資料判斷，下列何者最為正確？

案件類型	數量(件)
詐欺案件	20
債務糾紛案件	30
過失傷害案件	40
損害賠償案件	50

- (A)可以調解的案件共 70 件
(B)可以調解的案件共 80 件
(C)只能透過訴訟解決的案件共 20 件
(D)只能透過訴訟解決的案件共 60 件
34. 《總理遺囑》：「余致力國民革命，凡四十年，其目的在求中國之自由平等。……現在革命尚未成功，凡我同志，務須依照余所著《建國方略》、《建國大綱》、《三民主義》及《第一次全國代表大會宣言》，繼續努力，以求貫徹。……」以上是為孫中山(總理)遺囑；請問其所著《建國大綱》將國家建設分成哪三個時期？
(A)訓政→軍政→憲政 (B)軍政→訓政→憲政
(C)憲政→訓政→軍政 (D)軍政→憲政→訓政
35. ☐☐☐位於中國西南部、長江上游地區，是中國中西部地區唯一的直轄市，簡稱「渝」，目前是全球最大的筆記型電腦生產基地。1937 年 8 月淞滬會戰打響後不久，國軍陷入被動，為防止首都南京被日軍攻陷後陷入混亂，國民政府於 1937 年 11 月頒布《國民政府移駐☐☐宣言》，定☐☐為戰時首都；1940 定為永久陪都，1941 年 12 月，中華民國政府在☐☐發表文書與納粹德國宣戰，德國大使館關閉。此時與華盛頓、倫敦同為反法西斯指揮中心之一，開始和同盟國陣營並肩作戰。請問：☐☐是下列哪一座城市？
(A)重慶 (B)北京 (C)西安 (D)瀋陽

【第 36 至 37 題為題組】

36. 2024 年 4 月 3 日早上 7:58 新莊國中剛好是全校大升旗時間，正當全校唱著國歌：「三民主義，吾黨所宗，以建……」之時，突然防災警報大響，隨即發生地震，所幸當時全校已在平面集合，所有師生平安。而在重要集會所唱的「國歌」，其實原文出自右上方圖 1《黃埔軍官學校訓詞》。請問黃埔軍校的建立是因為哪一個國家願意援助孫文？
(A)美國 (B)日本 (C)蘇聯 (D)英國
37. 黃埔軍校成立約 2 年，為了全國統一誓師北伐軍閥，請問：當時率軍北伐總司令是下列哪一位？
(A)孫中山 (B)張學良 (C)張作霖 (D)蔣中正
38. 關於中共之「二萬五千里長征」：

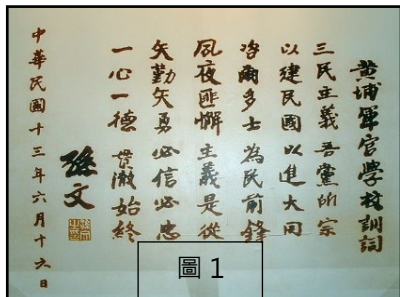


圖 1

第一任中華人民共和國主席毛澤東說：「長征是歷史紀錄上的第一次，長征是宣言書，長征是宣傳隊，長征是播種機。長征是以我們勝利、敵人失敗而告終。」
中共現任最高領導人習近平也曾說：「長征是一次理想信念的偉大遠征。崇高的理想，堅定的信念，永遠是中國共產黨人的政治靈魂。」

請問中共展開「長征」，是在下列哪一個時期？

- (A)十年建設 (B)聯俄容共 (C)動員戡亂 (D)聯共抗日
39. 中國西安華清池景區內留有右圖 2 石碑，是東北軍與國民政府對峙的兵諫之地，當年激戰之下的彈孔仍留在磚牆與玻璃窗戶上。請問：「西安事變」的發生，是因為當時國民政府領導人採取什麼政策？
(A)中國人不打中國人
(B)攘外必先安內
(C)聯俄容共統一全國
(D)以空間換取時間



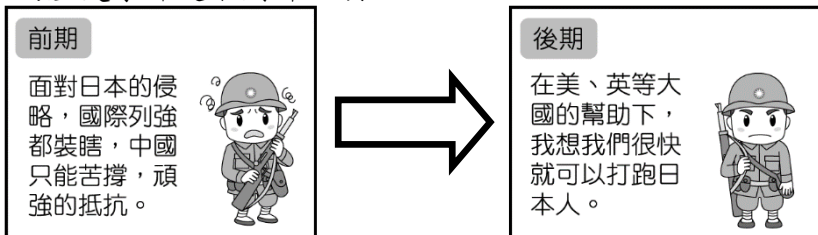
圖 2

【第 40 至 41 題為題組】

40. 1975 年蔣中正過世後，☐☐☐曾寫了一副「關懷之殷，情同骨肉；政見之爭，宛若仇讎」輓聯悼念蔣，並稱蔣對他是「白粉知己」，但是兩人的情誼最後卻因西安事變而鬧翻。1995 年，☐☐☐95 歲生日時又說：「回憶近一個世紀的人生歷程，我對 1936 年發動的事變無悔，如果再走一遍人生路，還會做西安事變之事。」請問☐☐☐是下列哪一位？
(A)張作霖 (B)毛澤東 (C)陳獨秀 (D)張學良

班級 座號 姓名

41. ☐☐☐是因為發生在自身的國仇家恨，而引發西安事變！他無法忘記的國仇-日本侵略占領他的家鄉東北，家恨-其父親被日軍暗算襲擊身亡。請問他父親被日本暗算的事件稱為？
(A)九一八事變 (B)國民黨剿共
(C)皇姑屯事件 (D)南京大屠殺
42. 蔣中正是中國史上統治過台海兩岸的重要人物，他也和中共經歷了多年的爭鬥，最後在台灣走完他的人生旅程。請按照下列時間先後順序排列他與中共交手的重要歷史事件。
(甲)開始剿共 (乙)國共內戰爆發
(丙)發動清黨 (丁)遭遇西安事變
(A)丙丁乙甲 (B)丙甲丁乙 (C)甲丁丙乙 (D)乙丙甲丁
43. 1932 年，中國東北又增加一個日本殖民地-滿洲國，當時為了加速此區的建設，在臺灣宣傳：「到滿洲國工作，薪水是在臺灣的三倍！」於是滿洲國第一任外交總長-謝介石就是在這樣的背景，遠赴他鄉，也因為一些機緣巧合認識了溥儀，被招攬至外務部；當時也曾到滿洲國工作的還有一位蔡潔生，是臺灣第一位女性元首蔡英文的父親。請問：滿洲國的成立與日本哪一項擴張行動有關？
(A)盧溝橋事變 (B)西安事變 (C)九一八事變 (D)聯俄容共
44. 中華民國艱苦的對日抗戰又稱「八年抗戰」，其實是分為如下附圖中的前期、後期兩個階段；請問分成這兩個時期的歷史事件是下列哪一項？



- (A)珍珠港事件 (B)南京大屠殺
(C)盧溝橋事變 (D)國民黨剿共
45. 從國民革命軍北伐到對日抗戰結束，國民政府首都不斷搬遷，請問首都搬遷順序下列何者正確？
(A)北京→南京→武漢→廣州 (B)廣州→武漢→南京→重慶
(C)廣州→南京→上海→重慶 (D)北京→上海→廣州→南京
46. 現今承平時代表幸福的我們，真的無法想像，如果哪一天臺灣突然發生戰爭，該要如何應對？1930 年代開始，中國與東亞地區人民因為日本軍國主義擴張，不斷發動戰爭，導致生活困頓、嚐盡生離死別之痛苦…請問，下列哪一項不是當時東亞人民遭遇過的苦難？
(A)滿洲國 731 部隊秘密執行非人道活體實驗
(B)徵調占領區人民與孩童彌補戰爭時勞動力
(C)用一般工作名義誘導單純少女充當慰安婦
(D)中國陷入南北分裂各地戰禍不斷人民困苦

【第 47 至 48 題為題組】

☞中日戰爭轉成為第二次世界大戰的一環，中國加入美、英等盟國一起並肩作戰，此時盟國陸續放棄清朝時期在華特權，與中國另訂新約，提升中華民國國際地位，同時也舉行幾項會議，共同商討戰後各地區的安排。

47. 請問中國當時與美、英兩國舉行哪一項會議，並聲明日本應將東北、臺灣、澎湖歸還中華民國？
(A)雅爾達會議 (B)珍珠港會議 (C)遵義會議 (D)開羅會議
48. 此時期因為美國重歐輕亞戰略，一直希望蘇聯可以盡早向日本宣戰，早日結束亞洲戰事，所以沒有通知中國，以犧牲中國利益交換蘇聯出兵，請問：這是指下列哪一項會議？
(A)開羅會議 (B)珍珠港會議 (C)雅爾達會議 (D)遵義會議
49. 艱苦的八年對日抗戰終於獲得最後勝利，但是緊接著國共內戰越演越烈，此時國民政府宣布動員戡亂，並同時實施憲政體制，但是蔣中正所率領國軍節節敗退，導致民心急速離去，最終撤退來臺灣，以待反攻大陸……請問國民黨最終失去整個中國大陸，與下列哪一項原因無關？
(A)日軍贏得太平洋戰爭的勝利
(B)國民黨內部分官員貪污腐化
(C)蘇聯大力支持中共對抗國民黨
(D)因戰亂導致通貨膨脹金融崩潰
50. 毛澤東曾說：「蔣先生以為天無二日，民無二王，我不信邪！偏要出兩個太陽給他看看。」毛澤東在對日八年抗戰後敢誇口說出上述字句，請問：下列哪些敘述正確？
(甲)歷經八年對日抗戰後毛澤東當選總統
(乙)八年對日抗戰期間中共逐漸壯大勢力
(丙)日本無條件投降後，美國支援中共
(丁)日本無條件投降後，蘇聯支援中共
(A)甲乙 (B)乙丁 (C)乙丙 (D)甲丁