

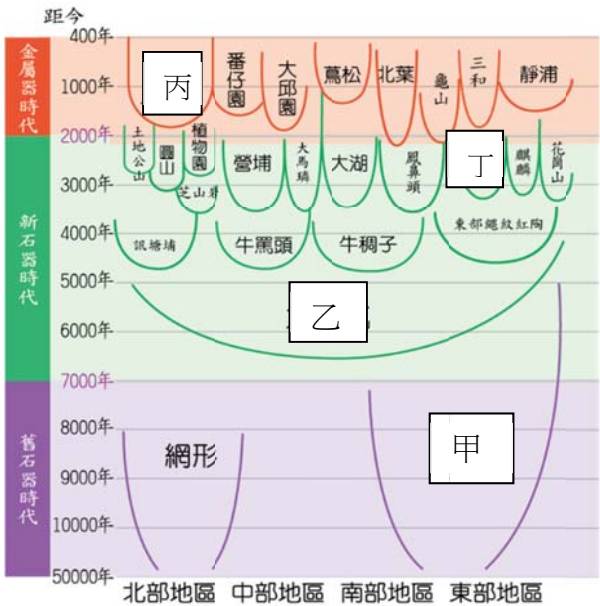
※ 選擇題：本試卷共 50 題，每題 2 分，總分為 100 分。
 每一題均為單選題，請選出最適當答案。
 ※ 請用 2B 鉛筆在答案卡上相應的位置畫記。

1. 史前文化實習隊在某處挖掘出下列三個遺址，請依據遺址的出土物，判別丙遺址應該是下列哪一個代表文化？

遺址	甲	乙	丙
考古發現	紅褐色陶器. 煉鐵作坊. 玻璃	灰燼. 打製石器. 獸骨.魚叉	石斧. 貝塚. 淺棕夾砂陶

(A)大坌坑文化 (B)圓山文化(C)卑南文化(D)十三行文化
 2. 承上題,若假設這三個遺址皆在同一區請問:實習隊由上到下挖掘出這三個遺址的順序應該是下列哪一個?
 (A)甲→乙→丙 (B)乙→丙→甲
 (C)甲→丙→乙 (D)丙→甲→乙

3. 下圖為臺灣史前文化的時空架構圖，請問：下列有關這張圖的解讀，何者內容有誤？
 (A)甲文化的維生方式為採集與漁獵
 (B)乙文化分布範圍最廣，遍及全臺
 (C)丙文化出土玻璃手環.中國銅錢與鐵渣
 (D)丁文化遺跡可證明臺北湖的存在。



4. 干支紀年是一種非線性的循環紀年法，今年(2020 年)是庚子年,請問:「第二個千禧年」是干支紀年中的_____年呢?
 (千禧年=1000 年)
 (A)庚辰 (B)己卯 (C)辛巳 (D)己巳

天干	甲	乙	丙	丁	戊	己	庚	辛	壬	癸		
地支	子	丑	寅	卯	辰	巳	午	未	申	酉	戌	亥

5. Dora、Nina、Tina、Jisoo—四個來自不同國家的女孩，在一場「國際南島語族研討會」中相遇，她們同住一間房，彼此分享自己國家的特色及生活趣事……。其中，有關於她們的簡介如下：
 Dora：我是第二個「千禧年」時在紐西蘭基督城出生的。(千禧年=1000 年)
 Nina：我是西元 2003 年在美國夏威夷州的檀香山出生。
 Tina：我是民國 90 年在台灣台東出生的。
 Jisoo：我是西元 2002 年在韓國的首爾出生的。

請問：這四位女孩，誰的年紀最小？
 (A)Dora(B)Nina(C)Tina(D)Jisoo。

6. 承上題,此次研討會的活動，包括南島語族歷史文化演講、南島語族介紹與藝術品展覽…等。在與會過程中，她們才發現□所在的國家的原住民並「不屬於」南島語族。□應是指？
 (A)Dora(B)Nina(C)Tina(D)Jisoo

7. 西元 1453 年是拜占庭帝國滅亡的時間也是英法百年戰爭結束的時間,請問:這兩件大事均發生在第幾世紀？
 (A)14 世紀 (B)15 世紀 (C)16 世紀 (D)13 世紀

8. 下表呈現史前人類生活情形的變化,若要以「新石器時代→金屬器時代」的方式來表示新石器時代至金屬器時代的文化變遷,表中甲、乙、丙、丁何者最為適切？
 (A)甲 (B)乙 (C)丙 (D)丁

甲	燒製陶器→種植稻米
乙	不知用火→用火煮食
丙	打製石器→磨製石器
丁	燒製陶器→冶煉鐵器

9. 解讀下方鄭氏在臺期間對外貿易示意圖片並結合歷史課程所學,請問以下之敘述何者有誤？
 (A) 台灣的出口商品以蔗糖、鹿皮為主,沒有稻米的出口,顯示是因為人口自然增加過於快速導致糧食不足,無法出口。(註:自然增加率是人口出生率-人口死亡率)
 (B) 台灣的貿易對象是中國(走私)、日本、英國、南洋地區(南洋地區以菲律賓為主)
 (C) 進口商品以軍用物資為主,顯示鄭氏以台灣為抗清基地,所以需要大量的軍用物資
 (D)和中國進行走私貿易是因為清朝實施海禁政策



10. 據說○族的祖先原來住在臺南府城附近。很久以前，○族獵人在山中打獵時，發現了一隻肥碩的大白鹿，獵人一路翻山越嶺地追逐，追了好幾天，正當大家精疲力盡時，看到眼前竟然出現一片湖光水色，不但景色優美怡人，而且湖中有取之不盡的魚類，從此○族便於日月潭定居下來。請問:在日月潭定居的是哪一族？
 (A) 布農族 (B) 鄒族 (C) 邵族 (D) 賽德克族

11. 銀優的台灣史期中報告內容有以下四個標題:一、盤據東南謀復明 二、東征攻台驅紅毛 三、漢人社會始紮根 四、兵敗薙髮終降清,請根據四個標題內容從底下的選項中幫銀優的報告選擇一個適當的主題命名
 (A)大航海時代荷西的競爭 (B)郭懷一抗荷事件的始末
 (C)海商顏思齊在台灣的活動 (D)鄭氏在台灣的經營

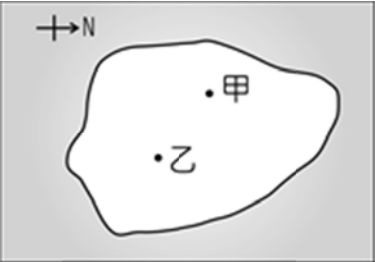
請翻面繼續作答

班級 _____ 座號 _____ 姓名 _____

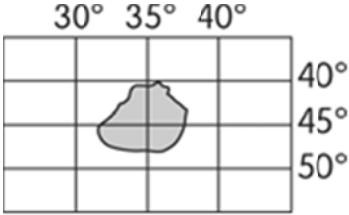
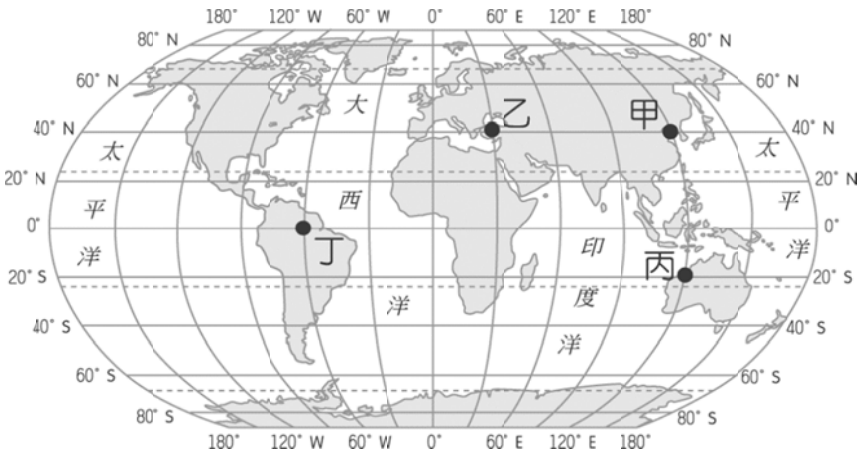
12. 珉豪為了準備段考,整理出荷蘭人和西班牙人在台統治的比較表,如下表,請問:表中的哪些項目寫錯了?
- (A)甲乙 (B)乙丙 (C)丙丁 (D)甲丁

	項目	荷蘭人	西班牙人
(甲)	亞洲貿易據點	巴達維亞	馬尼拉
(乙)	築城	熱蘭遮城	聖多明哥城
(丙)	登陸台灣時間	1626	1624
(丁)	驅逐者	鄭經	荷蘭人

13. 同學們以「大航海時代」這段歷史為背景,進行角色扮演。請問:下列哪一位同學扮演的是當時西班牙人的角色?
- (A)產賀:我們跟隨鄭芝龍登陸台灣西南沿海一帶,建立海商據點
- (B)泰民:我們以巴達維亞為殖民基地,曾占領台灣南部進行貿易
- (C)文彬:我們為了發展東亞貿易,曾占領台灣北部
- (D)真祐:在政府鎖國前,台灣是我們進行貿易相當重要的地點之一
14. 請針對以下事件所發生的時間進行排序:(甲) 荷蘭成立聯合東印度公司 (乙)日本實施鎖國政策 (丙)荷蘭驅逐西班牙 (丁)荷蘭佔領澎湖與明軍對峙,後來在海商李旦斡旋下撤出澎湖
- (A)甲乙丙丁 (B) 甲丁乙丙 (C)丁甲丙乙 (D) 甲丙丁乙
15. 歷史老師在課堂上向各位同學介紹海商時,提到某人善於經商並精通多國語言,使他勢力日益龐大,稱霸東南沿海。後來,他還得到明朝政府的招撫,封他為官,透過他對付其他海商,維持東南沿海秩序,猶如日本知名動漫《航海王》的王下七武海,得到世界政府的允許,擁有私掠許可的特權。請問:某人是指下列哪位歷史人物?
- (A)鄭芝龍 (B)顏思齊 (C)郭懷一 (D)鄭成功
16. 統治者說:「據前線的探子回報,清廷頒布一項政策,下令禁止居住在沿海的居民出海貿易及捕魚,所以我們的商團也無法順利取得貿易所需的中國物資,你們認為該如何是好?」大臣說:「微臣建議可以在中國沿海進行走私貿易,以突破清廷對我們的經濟封鎖,並繼續維持貿易的進行。」請問:以上對話的內容中的統治者可能是哪個政權(國家或組織)的領導者?
- (A)台灣鄭氏 (B)荷蘭聯合東印度公司
- (C) 西班牙 (D)倭寇
17. 下列何敘述方式屬於絕對位置?
- (A)新莊國中在新莊捷運站旁邊
- (B)新莊國中在慈祐宮後面
- (C)新莊國中在新莊分局對面
- (D)新莊國中在新莊區中正路 211 號。
18. 仔細觀察附圖,甲在乙的何方位?
- (A)東北方 (B)東南方 (C)西北方 (D)西南方。

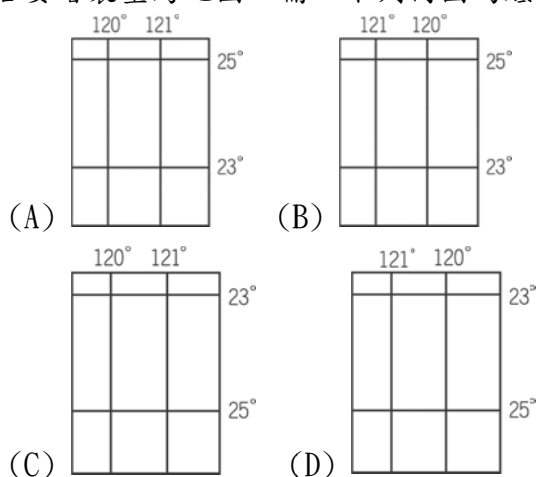


19. 1884 年,國際上同意將通過何國的經線定為 0 度經線?
- (A)美國 (B)英國 (C)中國 (D)德國。
20. 180°經線位於哪片海域?
- (A)太平洋 (B)印度洋 (C)大西洋 (D)地中海。
21. 參考附圖,當丙點的日期時間為 10/20 9:00 時,丁點的日期時間為?
- (A)10/19 21:00 (B)10/20 5:00
- (C)10/20 13:00 (D)10/20 21:00。
22. 承上題,何點和臺灣的時差最大?
- (A)甲 (B)乙 (C)丙 (D)丁。
23. 假設下列四點皆為海拔高度相同的陸地,何者的冬季氣溫會最低?
- (A)(60°E,32°N) (B)(90°E,44°S)
- (C)(80°W,68°N) (D)(170°W,51°S)。
24. 假設某地圖的比例尺為 1:100000,地圖上兩點相距 10 公分,實際距離為多遠?
- (A)1 公里 (B)10 公里 (C)100 公尺 (D)10 公尺。
25. 假設下列四張地圖都是 A4 大小的紙張,何者的比例尺最小?
- (A)新莊國中地圖 (B)臺灣地圖
- (C)亞洲地圖 (D)世界地圖。
26. 參考附圖,該島嶼在臺灣的哪個方位?
- (A)西南方 (B)西北方 (C)東南方 (D)東北方。



27. 下列何洲沒有環繞北極海?
- (A)非洲 (B)北美洲 (C)亞洲 (D)歐洲。
28. 下列何洲距離南極洲最遠?
- (A)大洋洲 (B)非洲 (C)歐洲 (D)南美洲。
29. 俗稱的「澳洲」並不是一個洲,而是哪個洲的一部分?
- (A)亞洲 (B)中南美洲 (C)南極洲 (D)大洋洲。
30. 赤道沒有經過何洲?
- (A)亞洲 (B)北美洲 (C)非洲 (D)大洋洲。

31. 若要繪製臺灣地圖，需以下列何圖為底？



32. 臺灣所管轄的島嶼中，何者位於最南方？

- (A)馬祖 (B)蘭嶼 (C)太平島 (D)東沙群島。

33. 臺灣與菲律賓兩國有時因漁業問題發生糾紛，與何海域重疊有關？

- (A)領海 (B)經濟海域 (C)公海 (D)緣海。

34. 依據科技部與教育部公布「2016 國際公民教育素養」研究成果顯示，台灣國中生的公民素養教育是知識大於行動參與，參與校外公民活動的比例偏低。請問：國中生可以採取哪些行動，學習關心公眾事務、發揮公民素養？

- (甲)參與世界展望會飢餓體驗活動
(乙)假日到育幼院擔任志工，陪小朋友看書及遊戲
(丙)擔任校園環保志工，維護環境整潔
(丁)參加植樹愛台灣減碳活動

- (A)甲乙丙 (B)乙丙丁 (C)甲丙丁 (D)甲乙丙丁。

35. 下列為我國公民參政權的範圍，何者配對**正確**？

- (A)滿 18 歲可以投票選舉總統—選舉權
(B)滿 23 歲可以成為市議員候選人—被選舉權
(C)滿 18 歲可以參加公務員考試—服公職權
(D)滿 20 歲可以參加公民投票—公民投票權。

36. 法國思想家伏爾泰曾說：「我不同意你的觀點，但我誓死捍衛你說話的權利。」請問：上述這句話是哪一項公民德性的具體表現？

- (A)和平尊重包容 (B)理性批判思考
(C)參與公共事務 (D)捍衛公平正義。

37. 近年行人於路口遭汽機車撞擊之交通事故有攀升趨勢，為建立行人優先概念、宣示維護路口安全，交通部與警政署共同宣布自今年 9 月 1 日起進行為期一個月路口安全大執法；執法重點包括汽機車不停讓行人、闖紅燈及紅燈右轉、行人未依規定行走行人穿越道、未依標誌、標線、號誌指示穿越道路等。請問：交通部的作法，主要目的是要提醒民眾發揮下列哪一項公民素養？

- (A)捍衛公平正義 (B)理性批判思考
(C)參與公共事務 (D)遵守法律規範。

38. 下列是四位來賓在受訪時的談話內容，若其中一人不是我國國民，僅根據他們的敘述判斷，何者**最不可能**具有中華民國國籍？

- (A)我的父母親雖然都是外國人，但我在台北就讀大學
(B)我雖然長期定居美國，但出生時，媽媽已經擔任新北市政府公職多年
(C)我雖然不在台灣出生，但今年已經取得身分證
(D)去年總統大選時，我已經行使了我的投票權。

39. 在公視旗艦大戲《斯卡羅》中飾演排灣族少女「蝶妹」的溫貞菱趁著戲劇殺青，擔任至善社會福利基金會年度愛心大使，6 月初前往新竹縣尖石鄉馬里光偏鄉部落擔任「陪伴志工」，與小小孩一起玩耍、一起念故事書、一起吃飯，徹底融入部落生活。溫貞菱表示，「一開始以為能夠教這些孩子們什麼東西，沒想到是他們帶給我如何用真誠愛這個世界。」希望一有空就能回去陪伴這些孩子。請問：溫貞菱關懷弱勢的善舉，可表現出現代公民具備的哪一項德性？

- (A)捍衛公平正義 (B)理性批判思考
(C)參與公共事務 (D)和平尊重包容。

40. 小艾上網搜尋兒福基金會網站，看到一篇文章強調小朋友在成長的過程當中智能的發展不僅僅是靠閱讀的能力，同時也透過各種不一樣的方式來跟這個世界做接觸與互動，從這當中健全小朋友的身心。閱讀對小朋友有一定的助益，但卻不能完全取代其他發展所需的功能，因此從遊戲當中學習就成了小朋友們最特殊的一項權利了。請問：這篇文章主題應該是在探討《兒童權利公約》的那一項權利？

- (A)生存權 (B)發展權 (C)參與權 (D)受保護權

41. 請根據「權力」與「權利」的意涵來判斷，下列何者與其他三者**不同**？

- (A)人民有權要求政府提供最低生活條件，滿足其基本需求
(B)警察依據《道路交通管理處罰條例》，取締違規用路人
(C)空污問題嚴重，人民走上街頭向政府陳情，要求政府提出改善方法
(D)我國凡 6~15 歲的國民，皆可以接受國民義務教育。

42. 新北市立板橋高中 108 學年度起開放男生穿裙子上學，對此，台南一中學生認為，板橋高中的做法是尊重個人的自由，自己雖然不穿裙子，但尊重別人的選擇。台南一中校方則表示，板橋高中打破性別刻板印象，但學生服儀規定有一定的流程，需由學生會提案，並辦理公聽會，聽取學生多元意見後，經服裝審議委員會審議，再經校務會議通過才能實施。請問：台南一中舉辦公聽會的目的，主要應該為下列何者？

- (A)維護學生個人受教權益 (B)捍衛弱勢維護正義
(C)鼓勵學生參與公共事務 (D)增進社會公共利益。

★為了幫助經濟弱勢家庭，使弱勢家庭的孩子能安心上學並兼顧身心健全發育，新北市「幸福晨飽」早餐補助計畫推動至今已逾 8 年，平均每日皆有 3 萬多名學童享用供應無虞之早餐，進而能在學校安心學習，不被經濟問題所累。

43. 請問：新北市政府的作法，主要在落實《兒童權利公約》的那一項權利？

- (A)生存權 (B)發展權 (C)參與權 (D)受保護權。

44. 承上題，此種權利與下列何者屬於同一範疇？

- (A)舉辦校園小記者活動，讓學生提出研究報導，學習表達意見
(B)在校園各樓層增設飲水機，定期檢查水質
(C)針對學生不同需求，設計多元學習課程
(D)推動友善校園環境，避免校園霸凌事件發生。

★上公民課時，老師發下一篇文章讓同學閱讀後分組討論：判斷性騷擾的方法是看當事人的反應！即使只是一個輕微的動作或是一個你認為的所謂「無傷大雅」的玩笑，只要是對方不喜歡或是令對方感到困擾的，都有可能算是性騷擾，絕對不應繼續下去。也就是說，性騷擾的認定標準要以「接受者」而非「行為人」之主觀感受為主。

45. 請問：關於性騷擾的敘述，下列哪一組的說法**最正確**？

- (A) 第一組：因為女生行為不檢、衣著暴露，才會引來性騷擾
- (B) 第二組：因為女生沒有當場拒絕或反抗，所以不能算是性騷擾
- (C) 第三組：男生也有可能是性騷擾的受害者
- (D) 第四組：同學在班上開黃腔，並不會構成性騷擾。

46. 在校園遭遇到性騷擾事件時，(甲)被害人可以向輔導處提出檢舉，(乙)學校會根據《性騷擾防治法》的規定，(丙)交由性別平等教育委員會調查處理，(丁)最後再彙報司法警察機關。請問：上述處理流程，有哪幾個環節需要更正？

- (A) 甲乙 (B) 乙丙 (C) 丙丁 (D) 甲乙丁。

★以下是七年某班學期中召開班會時所發生的狀況：

狀況一：全班在選舉班級模範生時，小英突然打斷大家，提出製作班服的要求。

狀況二：討論過程中，小安和小新因為提名人選不同，兩人發生口角爭執。

狀況三：投票結果出爐，候選人小文和小玉剛好同票數，此時主席決定加入表決，最後由小玉當選。

狀況四：小傑不滿表決結果，大聲敲打桌面以示抗議。

47. 請問：針對上述狀況的處理方式，小星、小龍、小詩、小紫哪兩位同學的發言符合《會議規範》的規定？

小星：我提出權宜問題，兩人同票應該要抽籤決定。

小龍：我提出權宜問題，應該處理小安和小新爭吵的行為。

小詩：我提出秩序為題，小傑的行為已經干擾會議秩序。

小紫：我提出秩序問題，小英製作班服的提議，應該留待臨時動議再發言。

- (A) 小星、小龍 (B) 小龍、小詩
- (C) 小龍、小紫 (D) 小詩、小紫。

48. 班會課結束前，老師進行講評，與同學討論開會時應該注意的事項。以下是四位同學舉手發言的內容，記錄如下：

甲：由主席負責裁決權宜問題與秩序問題

乙：表決順序為先提名先表決，並且依照多數決原則

丙：對事的表決若票數相同時，應由主席抽籤決定

丁：如果開會時間不許可，可不經討論逕行表決

請問：甲、乙、丙、丁四位同學的發言內容，有哪些**正確**？

- (A) 甲乙丙 (B) 乙丙丁 (C) 甲丙丁 (D) 甲乙。

★假新聞不是今天才有，也不會因為社會愈來愈重視假新聞，它就突然消逝。民眾不能只期待專業媒體負起責任，個人也有相應的社會責任，最基本該做的是「放亮罩子」、「耳聰目明」地觀看所接觸到的每一則影音，才能終止假消息亂竄，停息它們造成的傷害。

49. 請問：這篇文章主要是期許民眾展現哪一項公民德性？

- (A) 捍衛公平正義 (B) 理性批判思考
- (C) 參與公共事務 (D) 和平尊重包容。

50. 依文中所述，面對假訊息充斥的傳播環境，民眾應該要如何因應？

- (A) 選擇以收視率為導向的節目
- (B) 提升對公共事務參與的意願
- (C) 多加強媒體識讀的素養
- (D) 要求新聞媒體報導立場一致。

新北市立新莊國民中學 109 學年度第 1 學期第 1 次段考 7 年級社會領域試題
解答

1	2	3	4	5	6	7	8	9	10
B	C	D	A	B	D	B	D	A	C
11	12	13	14	15	16	17	18	19	20
D	C	C	B	A	A	D	C	B	A
21	22	23	24	25	26	27	28	29	30
A	D	C	B	D	A	A	C	D	B
31	32	33	34	35	36	37	38	39	40
A	C	B	D	B	A	D	A	A	B
41	42	43	44	45	46	47	48	49	50
B	C	A	B	C	D	C	D	B	C