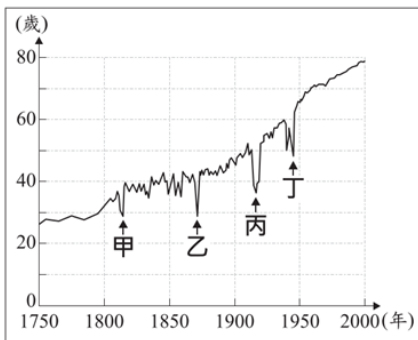


※ 選擇題：本試卷共 50 題，每題 2 分，總分為 100 分。每一題均為單選題，請選出最適當答案。

※ 請用 2B 鉛筆在答案卡上相應的位置畫記。

1. 附圖(一)，是法國「1750 至 2000 年」人民平均壽命曲線圖。圖中甲、乙、丙、丁四個箭頭處，平均壽命變動的主要原因是因為參與對外戰爭，造成青壯年人口減損，請問：關於甲乙丙丁的敘述，下列何者正確？

- (A) 甲：拿破崙戰爭時期，因為征俄失敗導致法軍死傷慘重
 (B) 乙：德法戰爭時期，傷亡雖然慘重，但法國取得戰爭的勝利
 (C) 丙：第一次世界大戰時期，德國採閃電戰造成法國很快淪陷
 (D) 丁：第二次世界大戰時期，法國面臨壕溝戰的僵局



圖(一)

2. 附表(一)，是美國在第二次世界大戰期間的軍費支出統計資料：

年份	軍費(億美元)	軍費占國內生產毛額(GDP)的比例
1939	12	1.3%
1940	22	2.17%
1941	138	10.89%
1942	494	30.53%
1943	794	40.17%
1944	874	39.78%
1945	762	34.17%

關於表中內容的解讀，下列何者最不適當？

表(一)

- (A) 1942 年國防費用暴增是因為珍珠港事變爆發
 (B) 戰爭初期軍費支出偏低是因美國當時並未參戰
 (C) 戰時投入大量軍費是因支持同盟的國家在歐洲對抗德國
 (D) 龐大的軍費支出造成美國戰後經濟大恐慌
3. 一篇時事報導如下：英軍和日軍聯手攻打山東膠州灣的德國駐軍，使當地許多德國婦孺逃到上海避難。請問：上述報導最可能出現在下列何時？
- (A) 甲午戰爭時期
 (B) 八國聯軍時期
 (C) 第一次世界大戰期間
 (D) 韓戰開打期間
4. 民族自決是一戰後的重要思潮，請問下列關於它的敘述何者正確？
- (A) 由法國總理克里蒙梭提出來
 (B) 造成日本治台政策改採皇民化運動
 (C) 造成戰後許多帝國瓦解
 (D) 刺激台灣人民發動許多武裝抗日事件
5. 關於第一次世界大戰的敘述下列何者正確？
- (A) 俄國中途退出是因為列寧發動二月革命
 (B) 美國中途參戰，因為德國煽動墨西哥反美
 (C) 中國中途參戰是因為袁世凱的主張
 (D) 日本對德宣戰出兵遼東半島
6. 英人塞西爾·羅德曾任英國在開普敦殖民地的總理，其「不列顛南非公司」曾控制今日的辛巴威和尚比亞。羅德堅信：我們是最優秀的種族，在世界上居住區域越廣，對人類就越有好處。想想，目前世界上被那些最可鄙的種族占住之地，如果我們將之置於英國的影響之下，會帶來多大改變？再看看，那些新納入我們領域的國家，產生了多少工作機會？

根據上述羅德堅信的內容，我們可以得出哪一個正確的推論？

- (A) 羅德相信「白種人的負擔」理論
 (B) 羅德反對帝國主義
 (C) 羅德落實民族自決
 (D) 羅德支持廢除黑奴制度

7. 作家雨果在《九三年》書中以法國大革命進入恐怖統治階段為背景，提到：「這個可怕的議會充滿了致命的氣息，這些氣息吹過那燃燒了 18 個世紀的古老專制火炬，把這火炬吹熄了。議會對這個國王的審判，就是對過去所有的國王做決定性的審判……。」請問上述文字所指的內容，何者跟當時的歷史背景不符合？

- (A) 這時的法國還面臨了其他國家反法聯盟的進攻
 (B) 古老專制火炬可能是代表君主專制
 (C) 被審判的國王是路易十六
 (D) 可怕的議會指的是三級會議。

8. 二十世紀時，有人將蘭姆酒和源於美國的可樂調製成「自由古巴」。此調酒的命名有個歷史性的傳說，象徵美國支持十九世紀古巴獨立運動。當時美國政壇對古巴獨立運動曾做出評論：關於任何歐洲國家對美洲的入侵，美國有權進行干預，使歐洲勢力撤離。西班牙政府正失去對古巴的控制，且無力保護當地美國公民的生命和財產，因此美國政府應介入使當地恢復和平，並確保古巴獲得獨立。上文中關於美國政壇支持古巴的言論，最可能援引了下列何者的概念？

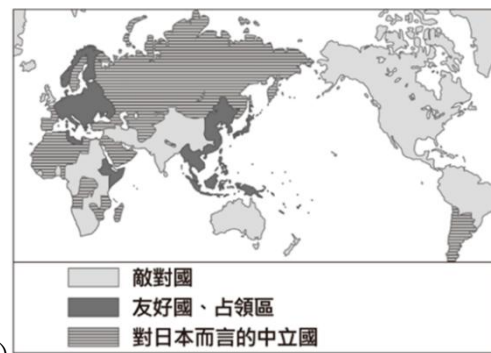
- (A) 三權分立 (B) 開羅宣言 (C) 共產主義 (D) 門羅宣言

9. 一列火車在德國官方秘密安排下，從蘇黎世出發前往俄國，車上乘客包括列寧及其布爾什維克黨同志，這些人曾因為反對俄國政府而流亡海外。列寧等人沿途經過德國、瑞典、芬蘭，最後抵達俄國的首都彼得格勒(今聖彼得堡)。半年後，他們領導革命成功，推翻當時的政府，組織新的政權，對俄國產生重大影響。下列對這場革命的正確敘述為何？

- (A) 推翻沙皇尼古拉二世，建立共和政府
 (B) 列寧在這場革命喊出「和平、土地、麵包」口號
 (C) 這場革命是 1917 年的二月革命
 (D) 德國安排列車是為了讓俄國退出第二次世界大戰

10. 附圖(二)，是日本繪製的第二次世界大戰形勢圖。三種圖例，分別代表該區域與日本的三種不同關係。從圖中標示的圖例關係，推測這地圖應該是發生何事之後所畫？

- (A) 日本對德宣戰後
 (B) 中日戰爭爆發後
 (C) 1941 年底太平洋戰爭爆發後
 (D) 德國入侵波蘭後



圖(二)

11. 「1989 年 8 月 19 日，奧地利及匈牙利曾在邊界上相鄰的兩個小鎮間，舉辦一場野餐交流活動。活動中，兩鎮之間的木製國界圍籬會被打開三小時，象徵支持沒有隔閡的歐洲。然而，這場野餐會卻成為政治性的脫逃活動。當圍籬一打開，從其他國家特別前來此地的數百男女就迅速衝過邊界，逃離受到共產集團控制、實施計畫經濟的家鄉，抵達了『自由的歐洲』。」上述利用野餐脫逃的民眾，他們的國家成為共產國家的原因應該與下列何事有關？

- (A) 開羅會議 (B) 雅爾達會議
 (C) 慕尼黑會議 (D) 巴黎和會

背面尚有試題

12. 約翰·亞當斯和湯瑪斯·傑佛遜等人簽屬的宣言：
「……政府之正當權力，則來自被統治者的同意。任何形式的政府，只要破壞上述目的，人民就有權力改變或廢除它，並建立新政府。……」上述所提到的宣言有可能是美國在何時發表的哪一個宣言？
(A) 1776 年，獨立宣言 (B) 1789 年，人權宣言
(C) 1823 年，門羅宣言 (D) 1943 年，開羅宣言

13. (甲) 說：「如果人生途程上沒有障礙，人還有甚麼可做的呢？」當代的重大問題不是通過演說與多數議決所能解決的——這正是 1848 年和 1849 年所犯的錯誤——，所以是要用鐵血來解決國家統一問題吧。
(乙) 說：「為了上帝，為了我的祖國，為了我的尊嚴。我發誓，只要西班牙政權的殖民枷鎖還套在我們身上，我就要不停地戰鬥」
(丙) 說：「人生的光榮，不在於永不言敗，而在於能夠屢撲屢起」可惜他在滑鐵盧之役後卻難以再起，但他留下的那道光卻永遠照亮法國。
(丁) 說：「努力讓你心中那多被稱之為良心的火花永不熄滅。」所以他在帶領國家獨立後為建國後第一任大總統，不論聲望多高，都沒有貪戀權力遵守憲法規定，塑立了總統任期不能超過兩屆的先例。





請問：上述語錄與下列人物的配對何者正確？

- (A) 甲-加富爾 (B) 乙-俾斯麥 (C) 丙-拿破崙 (D) 丁-威爾遜
14. 請問下列四圖哪個侵略的性質與其他不同？

(A) 美國控制拉丁美洲	(B) 列強瓜分中國
	
(C) 西班牙佔領菲律賓	(D) 英國占領非洲
	

15. (甲) 電影「間諜橋」內容描述冷戰年代一位美國律師，他代表美國官方與蘇聯官方進行斡旋，協助美、蘇雙方換囚，成功將一位被美國捕捉的蘇聯間諜，交換被蘇聯抓走的美國飛行員與前往東德被拘留的大學生。
(乙) 電影《西線無戰事》是改編自德國作家雷馬克半自傳式的反戰小說，故事描述大戰期間，一名年輕德國士兵在西部戰線的經歷。戰爭一開始的滿腔熱血最後如何冷卻成絕望和恐懼，保羅和軍中同胞全都親身體驗。他們身在壕溝中，必須為自己和彼此的性命而戰。
(丙) 《螢火蟲之墓》以第二次世界大戰期間的日本神戶市為背景，講述了出身自軍人家庭的清太和節子兩兄妹，在戰爭最後幾月中為了生存而經歷的絕望故事。
(丁) 紀錄片《諾曼地登陸》描述登陸期間改變大戰進程的五個關鍵轉折點，是通過那些有所作為的人的眼睛講述的。利用罕見的檔案、戲劇性的重建和目擊者的書面陳述以及五位英雄的個人證詞，這是前所未有的諾曼地登陸日。

- 請按照上述四部影片所描述的事件先後順序排列
(A) 甲乙丙丁 (B) 乙丁丙甲 (C) 乙丙丁甲 (D) 丁丙乙甲
16. 冷戰時期，國際間仍不斷有區域衝突發生，下列幾場區域危機或戰爭，請依照其發生先後順序排列

(甲) 越戰 	(乙) 柏林危機 
(丙) 韓戰 	(丁) 古巴危機 

- (A) 甲乙丙丁 (B) 丙丁甲乙 (C) 丙乙丁甲 (D) 乙丙甲丁
17. 發音近似「臺灣」的地名最早是指何地附近？
(A) 新北淡水 (B) 彰化鹿港 (C) 臺南安平 (D) 高雄旗津
18. 臺灣南部有許多包含「鯤鯓」的地名，「鯤鯓」是指何種地形？
(A) 沙洲 (B) 潟湖 (C) 珊瑚礁 (D) 岬灣
19. 參考附圖，鄭氏政權在臺灣留下許多與軍隊圍田相關的地名，其分布多位於何處？
(A) 甲 (B) 乙
(C) 丙 (D) 丁



20. 下列何者為日治時期更改的地名？
(A) 高雄 (B) 臺北 (C) 新竹 (D) 花蓮
21. 參考附圖，何縣市的名稱取自原住民族用語？
(A) 甲 (B) 乙
(C) 丙 (D) 丁



22. 承上題，何縣市的名稱是依據方位命名？
(A) 甲 (B) 乙 (C) 丙 (D) 丁
23. 淡水漁人碼頭旁有地名為「沙崙」，該地名與何種地形有關？
(A) 潟湖 (B) 沙丘 (C) 盆地 (D) 丘陵
24. 出現何字的地名常與市集相關？
(A) 崎 (B) 墟 (C) 崁 (D) 墩

請繼續作答下一頁

25. 屏東縣佳冬鄉的地名由來與何者有關？
 (A)植物 (B)動物 (C)地形 (D)氣候
26. 下列地名中，何者與原住民族語有關？
 (A)潭墘 (B)員嶼 (C)鵝鑾鼻(D)陸豐
27. 下列聚落中，何處的客家人比例可能較高？
 (A)陳厝 (B)大寮 (C)東石 (D)新屋
28. 移民者抵達新的地方時，常以故鄉地名作為聚落名稱，何處即為此種地名？
 (A)木柵 (B)深坑 (C)石碇 (D)潮州
29. 下列何者**不是**臺灣現代化農業的特色？
 (A)商業性農業 (B)區域專業化
 (C)企業化 (D)種植自家所需農產品
30. 下列食材中，何者的食物里程最長？
 (A)智利櫻桃 (B)日本干貝
 (C)泰國榴槤 (D)南韓泡菜
31. 下列何者**不是**臺灣大量進口的農產品？
 (A)玉米 (B)毛豆 (C)黃豆 (D)小麥
32. 下列何國的稻米、小麥生產量皆排名全球前五名？
 (A)越南 (B)澳洲 (C)印度 (D)美國
33. 下列關於基因改造作物的敘述何者**錯誤**？
 (A)美洲的基因改造作物產量最高
 (B)臺灣已開放種植基因改造作物
 (C)可能喪失生物多樣性
 (D)可能會造成生態失衡
34. 知名言情小說作家瓊瑤（本名陳喆）生於 1938 年，逝於 2024 年，在華文世界極具影響力。她在 1963 年發表了第一部長篇小說《窗外》後，一炮而紅，著有《窗外》、《還珠格格》等經典作品，其中多數改編成暢銷的電影、電視劇，影響了多個世代的讀者。根據我國著作權法規定，瓊瑤的第一篇長篇小說《窗外》，其智慧財產權的存續期間為何？
 (A)1938 年~2024 年 (B)1938 年~2074 年
 (C)1963 年~2024 年 (D)1963 年~2074 年
35. 2026 年 1 月初，美軍突襲委內瑞拉首都逮捕總統馬杜洛，消息公布後數小時社群媒體充斥現場畫面，影像中馬杜洛雙手上銬卻對鏡頭微笑比讚、特戰隊第一視角攻入官邸逮捕馬杜洛的短影音、馬杜洛身穿西裝被特務帶走、馬杜洛血衣狼狽在停機坪被押解等等，累計數百萬點閱，卻多為 AI 生成假圖，帶有手指畸形、光影失真等破綻。權威媒體、事實查核機構也迅速針對湧現的 AI 生成內容，提出警示。對於假訊息、詐騙事件頻傳，身處網路科技資訊世代的我們應如何因應較為恰當？
 (A)利用網路搜尋系統，相信 Google 及 AI
 (B)看到文章或即時訊息不需查證，立即轉傳給親友
 (C)強化資訊防護，提升媒體識讀能力
 (D)網路投資穩賺不賠，好消息趕緊邀請好友一起加入
36. 阿富汗東北部 2025 年 9 月深夜發生規模 6 且深度僅 8 公里的淺層地震，已知至少造成 812 人死亡，數千人受傷。不少災民哭訴，自己住的村莊幾乎全毀，孩子和老人們被困在廢墟下，急需援助。請問阿富汗所面臨的情形與下列何者屬於同一類型的國際互動？
 (A)台南藝術博覽會以「群島思維」作為策展想像，適逢台南運河通航 100 週年，也象徵城市與海洋文化的歷史連結，並邀請韓國和日本共 6 家國際畫廊參展，透過跨越海洋而來的藝術創作，讓台南成為藝術對話的重要平台
 (B)海地目前面臨多重危機交織的極端困境，目前外交部正透過提供啟動資金、農業培訓與安全部隊派遣等方式，試圖改善當地的脆弱處境
 (C)由美國主導的印太經濟架構(IPEF)希望加強與印太地區各國的經濟層面聯繫，並持續強化半導體等重要物資與尖端技術的供應鏈
 (D)伊朗、以色列與美國之間的衝突已演變成一場波及整個中東地區的區域性戰爭，目前局勢處於「邊談邊打」的極度不確定狀態，牽連受害的民眾越來越多
37. 根據國際特赦組織蒐集的證據顯示，美軍對伊朗霍爾木茲甘省米納布一所學校發動的違法空襲，該校舍連同鄰近的伊斯蘭革命衛隊一處設施內的另外 12 棟建築，遭精確制導武器直接擊中，造成 168 人死亡，其中包括逾 100 名兒童，這表示美軍在實施襲擊時未採取措施避免平民傷亡，嚴重違反國際人道法的規定。有關國際特赦組織，下列何者與其性質最為相近？
 (A)世界衛生組織 (B)聯合國
 (C)無國界醫生 (D)世界貿易組織
38. 從著作權法的內容來看，主要在規範兩大範疇，一是如何保障著作人的權益，二是公眾有哪些合理使用的權利，「合理使用」的法律效果，是為了某些學術、言論、新聞或其他公益考量，讓利用人未經授權，在一定範圍內利用他人著作，法律上明文不會構成著作財產權的侵害。關於「合理使用」的判斷規準，下列何者**不包括**在內？
 (A)被利用的著作性質是否具有原創性
 (B)利用的目的及性質是否具有公益目的
 (C)所利用的質量占原著作的比例
 (D)利用的結果是否影響原著作潛在市場與現在的價值
39. 國內新聞媒體在播報國外重大事件時，常引用《紐約時報中文網》、《BBC 中文網》、《華爾街日報》、《德國之聲》這些媒體的新聞，造成台灣民眾的國際觀，常以歐美國家的觀點為主，上述內容主要與全球化的何種現象相關？
 (A)世界各國經濟相互依賴程度日漸提高
 (B)強勢文化主導全球民眾對世界的認知
 (C)資訊科技發達使得訊息傳遞無遠弗屆
 (D)文化交流造成文化衝突與對立現象加劇
40. 麥當勞的連鎖店分散世界各地，每一家麥當勞除了美國口味的食品外，有些分店會因應當地特色而做出相對應的配合，例如，印度的麥當勞因宗教信仰販售以素食為主的「馬鈴薯可樂餅堡」及「印度起司捲」，日本的麥當勞推出「日式照燒豬肉堡」，泰國的麥當勞推出了「甜辣醬雞肉飯」。根據上述內容，下列何者正確？
 (A)體認全球文化是由多元文化構成，展現共存融合現象
 (B)各地本土文化終於走上國際舞台，形成一股時尚潮流
 (C)全球文化多元發展，使得各國文化產生認同危機
 (D)全球文化必須改變本土文化，才能提升產品品質
41. 高雄港深化與歐洲波羅的海鏈結，與波蘭主要門戶海港之一格丁尼亞港簽署合作備忘錄，象徵臺灣與中東歐地區港口合作再進一步，雙方期望透過建立長期交流機制，在港口智慧化、安全管理及科技發展與創新等領域深化合作，為亞歐航運與貿易往來注入新動能。上列敘述國際互動的方式與下列何者相同？
 (A)世界棒球經典賽進入八強之爭，各國選手齊聚美國競技
 (B)土耳其大地震，我國派出救援隊伍前往當地協助救災
 (C)以色列與巴勒斯坦因族群、宗教、土地等因素而對立
 (D)台中副市長攜手美國蒙哥馬利郡首長於人工智慧、生技醫療、智慧城市及經濟貿易等多元領域展開合作，攜手開創雙城發展新契機

42. 新冠肺炎肆虐全球期間，各國民眾紛紛呼籲：病毒不分國界，沒有國家可以獨立抗疫。請問台灣在防疫方面的國際參與，下列何者敘述**錯誤**？

- (A) 中國主張「一個中國原則」，使我國不能以主權國家身份參與世界衛生組織
- (B) 曾以「中華台北」的名義成為世界衛生組織的會員國
- (C) 向各國提供醫療物資，強調「Taiwan can help」
- (D) 向世界衛生組織的會員國報告新型流感的防疫工作經驗

43. 繼 2023 年中美洲國家宏都拉斯因經濟援助爭議與我國斷交，2024 年南太平洋島國諾魯因中國利誘而轉向，以致目前外交國數量下滑至 12 國。請問：我國應如何調整，取得參與國際事務的機會？

- (A) 提高外國貨品關稅，保護本國貨品與產業
- (B) 減少國際移工輸入，創造本國勞工就業機會
- (C) 進行實質會談與經貿交流，強化與無邦交國關係
- (D) 進行「金錢外交」，提供邦交國無上限的金援

44. 日前檢察官在偵辦全台最大男性偷拍案時感嘆：「影像外流的傷痛會綁著被害人一輩子。」為了遏止此類犯罪，我國刑法針對「以強暴、脅迫手段」取得他人性影像的行為，加重刑責。關於這類透過網路或數位方式，對他人進行性別暴力的行為，下列敘述何者正確？

- (A) 維護社會秩序與保護被害人的隱私權及名譽
- (B) 只要被害人原諒，加害者就不必受罰
- (C) 只要不認識對方，網路上脫衣視訊就不會有法律風險
- (D) 法律只保障女性，男性被害人僅能尋求民事賠償

【第 45 至 46 題為題組】

俄烏戰爭自 2022 年 2 月開始的全面入侵行動已邁入第 5 年，目前的戰事已演變為曠日費時的消耗戰，前線僵持且無大幅變動。雖然 4 年多來美、歐各國持續給予烏克蘭經濟與軍事上的援助，烏克蘭也靠著無人機造成俄國大量損失，但俄羅斯仍控制著烏克蘭 20% 的領土，雙方高達數十萬人死傷。據聯合國估計，這場戰爭造成近 800 萬人逃離家園。

45. 根據上文，「800 萬人逃離家園」後，最有可能成為下列哪一種身分？

- (A) 合法移民 (B) 難民 (C) 新住民 (D) 外籍配偶

46. 有關於這些逃離家園的人移入其他國家後，可能造成的影響，下列敘述何者正確？

- (A) 可減緩文化間的對立與衝突
- (B) 將減少移入國的勞動力
- (C) 不會衝擊移入國的經濟與文化
- (D) 會占用移入國原有的公共資源

【第 47 至 48 題為題組】

韓國新聞報導，韓國代表性眼鏡品牌「Gentle Monster」已對新創品牌「Blue Elephant」提起訴訟，主張對方不僅仿冒太陽眼鏡、眼鏡等核心產品，連分店的室內設計也一併抄襲。Gentle Monster 母公司對外表示，目前正對一家仿冒產品與線下空間設計的眼鏡品牌 B 公司採取法律行動，並強調將強硬應對，避免品牌識別與創作成果遭到模仿，進而損害品牌價值、造成消費者混淆。

47. 請問上文的案件如果發生在台灣，是違反了什麼法律？

- (A) 智慧財產權法 (B) 商品標示法 (C) 商標法 (D) 公司法

48. 承上題，關於韓國代表性眼鏡品牌遭受侵害的該「權利」，下列敘述何者**錯誤**？

- (A) 屬於政府立法保障智慧財產權的一種
- (B) 該權利應申請審查通過後，才能主張
- (C) 主張該權利可避免因侵權而造成不公平競爭
- (D) 該權利的保障不用申請即可取得

【第 49 至 50 題為題組】

美國總統川普的關稅政策以「美國優先」為核心，主要透過對進口商品課徵高額關稅，試圖迫使製造業回流美國、減少貿易逆差，並將其作為外交談判的籌碼。川普的「關稅核彈」衝擊全球股市崩跌，各國陸續啟動與美國的經貿談判，以謀求降低關稅。同時，中國也已向相關國際組織提出正式申訴，指控美國的新關稅措施違反自由貿易原則。

49. 美國的關稅核彈嚴重衝擊全球各國的情況，符合下列哪項重要概念？

- (A) 政治全球化 (B) 經濟全球化
- (C) 文化全球化 (D) 組織全球化

50. 文中畫線的組織單位最有可能為下列何者？

- (A) 世界貿易組織 (B) 亞太經濟合作會議
- (C) 世界銀行 (D) 世界衛生組織

試題結束