

新北市立新莊國民中學 110 學年度第 2 學期第 2 次段考 9 年級社會領域試題卷

班級 座號 姓名

※ 選擇題：本試卷共 50 題，每題 2 分，總分為 100 分。
每一題均為單選題，請選出最適當答案。

※ 請用 2B 鉛筆在答案卡上相應的位置畫記。

- 「中國自去年 3 月起陸續暫停我國鳳梨、釋迦與蓮霧輸銷案，行政院農業委員會今日(3/26)表示，中國對我國 14 度要求科學對話技術性諮商遲遲未予回應，已經由我國常駐 OOOO 組織代表團，於台北時間 25 日下午 6 時，再次提出特定貿易關切，要求中國依據國際規範提出科學證據，儘速恢復我國 3 項鮮果實輸銷。」請問上文提及的國際貿易紛爭，我國應是向哪個國際組織提出關切與仲裁呢？
(A)APEC (B)CPTPP (C)UN (D)WTO
- 承上題，我國加入該組織後，貿易環境面臨極大變化，請問下列何者敘述「有誤」？
(A)有機農產品銷售量飆升
(B)稻米業者面臨更大競爭壓力
(C)開放貿易市場，消除關稅壁壘
(D)國內超市陳列更多異國商品與飲食
- 臺灣漁產早期多外銷中國大陸，尤其是石斑魚九成都銷往中國，近年受中國漁產訂單大幅萎縮影響，遭遇困頓，但危機即轉機，臺灣官民轉而開拓美國與東南亞外銷市場，促使漁產出口值於 2021 年大幅升高。請問漁產品早期僅能運銷鄰近地區，現今得以遠距運輸，相較以往，更不受地理空間限制的原因為何？
(A)捕撈技巧優化 (B)冷鏈技術改良
(C)養殖方式調整 (D)行銷通路增加
- 承上題，臺灣漁業的發達得利於臺灣四面環海、海岸多樣、洋流交會的自然環境，請問臺灣周邊經過的寒流、暖流分別為何？
(A)親潮、黑潮
(B)福克蘭寒流、阿拉斯加暖流
(C)中國沿岸流、黑潮
(D)拉不拉多寒流、北大西洋暖流

【第 5 至 10 題為題組】閱讀文章與表格資訊回答下列問題：

根據農委會最新出爐的農業貿易統計如下表顯示，2021 年我農產品出口值 56 億 6776 萬 4000 美元，較前一年增加 15.4%；但進口值也增加，進口 179 億 8588 萬 9000 美元，比前一年增加 17%。

在出口部份，中國大陸仍是我國最大出口國，去年因為介殼蟲問題，禁止我鳳梨、鳳梨釋迦、蓮霧外銷，鳳梨因此外銷出口值大減 90.7%；蓮霧減少 51.6%；芒果減少 45.4%；茶葉減少 58.5%；農委會國際處副處長林志鴻表示，水果大幅減少，主要還是因為受到禁運事件影響，而茶葉非民生必需品，可能受到疫情影響有關。另外，增加出口的品項也不少，林志鴻說，石斑活魚增加 2300 多萬美元、比前年多了 77.8%；冷凍魷魚多了 1100 多萬美元、增加 549.2%、羽毛羽絨增加 3200 多萬美元、增 78.9%，酒類也增加了 1600 多萬、增 23.1%。

而進口部份，林志鴻說，大陸、美國、巴西是我農產品進口三大國，三國加起來占了大半比例，主要還是採購黃小玉等大宗物資；2021 年大宗物資價格高漲，但這是整體的國際大宗物資都上漲，是國際趨勢。

項次	農產品主要出口國家與地區 (單位：千美元 / %)			
	國名	出口值	占比	年增率
1	中國大陸	1,119,857	19.8	10.1
2	美國	922,097	16.3	36.7
3	日本	771,078	13.6	1.4
4	香港	475,087	8.4	20.6
5	越南	351,950	6.2	1.7
6	泰國	266,636	4.7	18.3
7	大韓民國	237,635	4.2	-0.8

項次	農產品主要進口國家與地區 (單位：千美元 / %)			
	國名	進口值	占比	年增率
1	美國	3,919,418	21.8	13.1
2	中國大陸	1,311,610	7.3	9.1
3	巴西	1,255,013	7.0	20.7
4	日本	1,009,015	5.6	18.9
5	紐西蘭	927,175	5.2	13.8
6	澳大利亞	842,352	4.7	26.1
7	泰國	822,103	4.6	18.7

- 請問臺灣 2021 年農產品的國際貿易屬於下列何種狀態？
(A)逆差約 123 億美元 (B)順差約 123 億美元
(C)出超約 1.6% (D)入超約 1.6%
- 請問在 2021 年與臺灣有較多進出口貿易額，往來較密切的國家有那一些？(甲)巴西 (乙)美國 (丙)越南 (丁)中國大陸 (戊)紐西蘭 (己)泰國 (庚)日本 (辛)大韓民國
(A)甲、丁、己、辛 (B)甲、乙、丁、庚
(C)乙、丙、戊、己 (D)乙、丁、戊、庚
- 請問向我國購買農產品總值有減少趨勢，值得我國農委會多加留意，甚至需要在此國增加宣傳、行銷我國農產的國家為何？
(A)日本 (B)泰國 (C)大韓民國 (D)澳大利亞
- 承上題，若想達成上述目的，我國政府以下推行的方案，何者並「不可行」？
(A)官民合建國際行銷平台網站
(B)積極推動基改食物合法栽種
(C)貼補國際運費，拓展外銷範圍
(D)媒合小農產品與國際通路串接
- 文中提及臺灣所進口的大宗商品，最可能是何種類型的農產品？
(A)黃米、小麥、愛玉 (B)薑黃、小米、玉黍
(C)黃麻、小粟、玉米 (D)黃豆、小麥、玉米
- 承上題，2021 年大宗物資國際價格整體呈上漲趨勢，導致臺灣進口值大升，試推測其原因為何？
(A)歐洲戰事爆發，導致糧產不足
(B)科技農產當道，成本定價皆高
(C)經濟組織壟斷，強勢調漲價格
(D)疫情橫行全球，海運交通受阻

【第 11 至 13 題為題組】依據文章回答下列問題：

85 度 C 全球第一千店將於 2017 年 7 月在美國德州休士頓開幕的前夕，「我，唐納，宣布七月七日為德州休士頓市的 85 度 C Bakery Cafe Day。」這是首度有美國地方政府，直接將台灣品牌的開幕日期定為當地的品牌日。

85 度 C 美國總經理鄭吉隆表示，過去，85 度 C 只賣紅豆、芋頭、甚至是蔥花麵包這類華人熟悉的口味。但近年，85 度 C 意識到，要想在美國扎根，就得先跳出只做華人生意的舒適圈，「但對台灣人來說，烘焙只是點心；對老美來說，烘焙卻是正餐，用來抹奶油、蘸湯，這是與生俱來的文化隔閡。」而要讓西方人買單，就得先打破根深柢固的傳統思惟，「一開始，師傅很排斥，馬芬、可頌難度太低，沒有挑戰性。我讓他們保留台式鬆軟麵團優勢，再加入台灣人擅長的創意，做出堅果肉桂捲，老美很愛。」

根據 2017 年資料顯示，位於南加州金融區 Glendale 門市，非亞裔客群占比高達八〇%，顯示策略奏效。

背面尚有試題

新北市立新莊國民中學 110 學年度第 2 學期第 2 次段考 9 年級社會領域試題卷

班級 座號 姓名

11. 來自臺灣小島的烘焙業者，請問是依靠何種策略打進美國市場站穩腳步？
(A)注重差異化，在地化調整商品
(B)標榜臺灣原汁原味，複製再現
(C)嚴選在地食材，著重友善環境
(D)強調國際化，飲食文化漸趨近
12. 隨著時代價值觀演變，現代人的環保與健康意識抬頭，對於 85 度 C 提供的飲料、麵包和蛋糕等加工食品，開始有了更多疑慮，甚而開始注重食用原型食物，以維繫健康體態。請問大眾對於加工食品的主要疑慮為何？
(甲)無法了解加工食品的銷售歷程 (乙)無法確認食品添加物的安全性 (丙)無法得知加工前食材的新鮮度 (丁)無法確定加工後食品的新鮮度
(A)乙丙丁 (B)甲丙丁 (C)甲乙丁 (D)甲乙丙
13. 承上題，85 度 C 美國門市為了持續吸引當地消費者上門購物，在行銷商品時，亦開始強調友善環境飲食觀點，請問下列何者情境並「不符合」此價值觀？
(A)研發不需冷藏的虎皮小卷常溫蛋糕
(B)標示金桔檸檬飲中的在地檸檬生產履歷
(C)使用碳足跡較高的臺灣麵粉，製作胚芽吐司
(D)選擇當季水果，製作冬季限定的草莓甜心蛋糕

【第 14 至 16 題為題組】參考文章回答下列問題：

臺南市於 3 月 26、27 日，由學甲區農會在光華里民活動中心旁小麥田，舉辦學甲小麥文化節活動暨農特產品展售會。農業局長李建裕指出，學甲區小麥栽種品種為「台中選二號」，是臺中農業改良場育成非基因改造小麥品種，品質更勝國外進口之產品，目前種植面積約 60 公頃，為臺灣本產小麥重要產區，依據農糧署統計資料顯示為南臺第一。

農業局表示，臺灣生產的小麥，不必經過長程運輸，新鮮、食物里程低，且需水量少、適地適種，小麥成熟時引來的大批鳥類，雖讓農人苦惱，但消費者認同度高，讓農人能夠持續低碳永續經營，也維護麥田裡的生物多樣性；學甲區小麥採收期間，由農友自動報送農藥殘留檢驗，落實食品安全把關工作，讓消費者可以安心食用；每年 2 月下旬到 3 月間是採收期，目前以契作為主，主要供應給金門農試所及國內麵粉加工廠。

14. 請問上文提及的理念「不包含」下列何者？
(A)食品安全的重視 (B)基因改造食物的優化
(C)友善環境飲食的融入 (D)低碳、環保飲食文化的推廣
15. 臺灣小麥大多採取契作方式耕種，產量並不多，僅供給國內少數業者的需求，請問臺灣小麥為何自給率偏低，大量仰賴進口呢？
(A)食品加工成本過高，獲利偏少
(B)國內需求不高，農民栽種意願低落
(C)小農結構，單位生產成本高，競爭力較低
(D)山多平原少且氣候濕熱，不利栽種此類農作物
16. 學甲區小麥品種為臺灣育種而成的「台中選二號」，在濕熱環境產出小麥，使農產更為精緻化，可知臺灣現代農業透過技術應用，已突破了自然環境的限制，請問下列何項「並非」科技發展造就出來的臺灣農業特色？
(A)宜蘭於低海拔環境，種植出當地特色上將梨
(B)沙岸發展箱網養殖，急凍設備助力遠洋漁業
(C)開發文心蘭的切花保鮮技術，以利外銷日本
(D)稻田普遍集約耕種，乳牛牧場大多採行欄牧
17. 美國總統拜登 2021 年 1 月上任之後，大幅調整川普較為激烈的外交政策。包括重新加入巴黎氣候協定、WHO 世界衛生組織。國務院相關人士表示美國經歷了 2020 年疫情尚未結束，而全球持續壟罩在疫情陰霾之下。請問：上述巴黎協定是在探討全球化的何項議題？
(A)資源分配不均議題 (B)勞動權益議題
(C)文化議題 (D)環境議題

18. 《巴黎協定》是具有法律約束力的國際協議，全球 195 個締約國於 2015 年在巴黎舉行會議簽署，隔年生效，預計將改變人類長期以來的經濟發展與生活型態。請問：下列何者應是此協定的主要目的？
(A)協調國際之間水資源衝突 (B)避免臭氧層持續遭受破壞
(C)要求簽署國遏阻碳排放 (D)購買公平貿易認證商品
19. 課堂上，同學們針對全球化的議題進行討論，下列哪位同學的發言正確？
(A)雨娟：全球化的自由貿易模式，帶來許多利潤，但也引起許多社會弊端
(B)立恩：有助於經濟發展，縮短各國貧富差距，促進勞工權益
(C)冠志：傳播媒體發達，移民或移工的流動增加各國交流的機會，是政治全球化
(D)冠宇：跨國往來的貿易通商，是全球化才出現的現象

20. 全世界皆面臨許多跨國議題亟待解決，請判斷下列問題與解決對策的配對，正確的有幾項？
(A)1 (B)2 (C)3 (D)4 項

問題項目	解決對策
全球糧食危機	國際有許多組織致力於改善分配不均問題，例如食物銀行的糧食募集分配行動。
勞動權益議題	人人平權是基本人權，依國際勞工公約規範，本國籍、外國籍勞工的工資，不能有差別待遇。
文化議題	以市場為出發點的文化全球化，透過獨大的傳播媒體影響力，可保存各國的在地文化與價值觀。
環境議題	台灣政府雖然不是相關組織的締約國，仍自我要求，訂定國家溫室氣體長期減量目標。

21. 「水能載舟，亦能覆舟」，全球化有正面影響，也帶來負面隱憂，各國必須通力合作共同面對。請問：關於全球化的負面隱憂，何者敘述是錯誤的？
(A)犯罪集團透過科技與交通的進步，從事不法交易，已非單一國家的問題
(B)跨國疾病流動，有害人體健康，且不利於各國經濟發展
(C)疾病全球大流行，成因於疾病藉由旅遊、貿易、移民等人或物的流動傳播
(D)開放移工來台，有些國人得以減輕家務負擔，有些國人增加就業機會
22. 下列哪一項措施對於改善文化單一化沒有實質的幫助？
(A)開設本土語文課程等母語外，新增新住民語文課程
(B)新北市政府每年 4 月中在中和舉辦潑水節，提升市民對泰國、緬甸文化的了解
(C)限制國際移工的活動範圍
(D)舉辦文化交流活動
23. 我國樂於參與國際事務，卻在參與國際事務會面臨許多限制。我國幾乎無法參與各種政府之間的國際組織或活動，可能原因為何些？

甲	美國與我國斷交
乙	我國未遵循國際組織制定的規章
丙	中華人民共和國取代我國進入聯合國
丁	我國固有疆域範圍不大對世界經濟影響力有限

- (A)甲乙 (B)丙丁 (C)乙丁 (D)甲丙

繼續作答下張試卷

24. 請問：關於國際援助的相關敘述，以下何者是正確的？
 (A)專指民間各界對世界上需要幫助的國家或人民，進行各種援助的活動
 (B)基於政治目的，給予邦交國經濟、物資、技術或人道賑災等協助
 (C)援助對象是中度開發國家或受災國家
 (D)國際援助是台灣參與國際社會的方式，獲得國際社會高度評價

25. 在全球化的時代，不同型態的國際組織紛紛成立，其中聯合國屬於下列哪一種類型的國際組織？
 (A)國際非政府組織 (B)政府間國際組織
 (C)非官方的國際組織 (D)志願工作者的國際組織

26. 跨國企業規模的擴大與數量的增加，顯示出哪一面向的全球化發展？
 (A)政治全球化 (B)文化全球化
 (C)經濟全球化 (D)生態全球化

27. 以下為麗穎所蒐集的資料，依內容判斷，她所探討的報告主題最可能為下列何者？

- ◎法國法令禁止國內女性穿伊斯蘭教的傳統服飾
 ◎印度當地民眾抗議美國速食業者販售牛肉商品
 ◎雇主命令信奉伊斯蘭教的員工食用豬肉
 ◎大批穆斯林信徒坐在台北車站大廳慶祝開齋節

- (A)文化衝突 (B)宗教改革 (C)勞資糾紛 (D)國民外交

28. 全球疫情肆虐，許多國家受到病毒的侵害，導致每天確診人數暴增。有些國家擁有完善的資源醫療，且病患可於妥善照顧下痊癒康復；有些國家卻因醫療資源匱乏，無法醫治病患，只能放任其染病死亡，並集中焚燒。請問：此現象凸顯出下列何項議題的嚴重性？
 (A)資源分配不均議題 (B)環境議題
 (C)勞動權益議題 (D)文化議題

29. 調查顯示全球每年供人類食用的糧食，約有三分之一被白白浪費或損失。全球糧食危機根源，不再生產不足，而是嚴重的分配不足。針對上述全球化面臨的挑戰，身為國中生我們可以採取下列哪一行動？
 (A)加入工會，募集更多糧食給需要幫助的人
 (B)成立國際非政府組織，與跨國企業協商談判
 (C)日常減少飲食浪費、飲食適量，響應世界展望會的飢餓活動
 (D)遊行請願，促使政府制定社福政策，讓資源有效分配

30. 好萊塢影片是指美國加州南部的電影工業，其所製作的影片常能席捲全世界，也造成許多國家的傳統電影產業陷入生存危機。請問：上述文字是從哪一議題探討全球化帶來的弊端？
 (A)開發中國家的勞工受到剝削
 (B)全球資源分配不均
 (C)在地文化的生存空間受壓縮
 (D)國際移工的勞動權益被忽略


31. 去年 10 月，二十國集團(G20)在義大利羅馬召開領袖高峰會，此次會議討論氣候變化、全球經濟與新冠肺炎疫情等重要議題。會後各國發表聯合公報，呼籲各國應採取有效行動將全球氣溫升幅控制在攝氏 1.5 度。請問：在生活當中下列哪一行動無法達成節能減碳的效果？
 (A)購買節能標章商品
 (B)使用環保餐具
 (C)食用本土當地食材
 (D)冷氣 24 度最宜，善用風扇更節能

32. 國際公平貿易標籤組織建立起認證制度，呼籲民眾多多購買經由公平貿易認證的商品，讓第三世界國家的生產者及環境得以享受到合理的報酬。由此可知，該項認證制度是為達成何項目標？
 (A)減少貿易障礙 (B)促進貿易自由
 (C)從事國際援助 (D)改善貧富差距

33. 去年 5 月世界衛生組織舉行年度「世界衛生大會」，連續 4 年，台灣接被拒於門外，由於台灣肺炎疫情控制得宜，使得國際社會支持聲浪大增，在美國聯邦參議院及眾議院外交委員會發起「#Let Taiwan Help」全球社群串聯活動中，更獲得 50 國、250 多位國會領袖、議員等國際友人響應，支持台灣參加世界衛生大會。請問：我國積極參與國際社會，並期望加入各種性質的國際組織。下列何者不是我國參與國際社會的目的？
 (A)爭取國際活動空間 (B)確保國家領導人的統治權
 (C)提供國際實質貢獻 (D)促進國際間的交流及合作

34. 右表為三國同盟與三國協約形成的示意圖，請問下列敘述何者正確？

- (A)圖片出現的時間順序為丙→乙→甲
 (B)丁國因德國積極發展海軍對其產生威脅，故參加敵對陣營
 (C)德國為孤立戊國而與其他國家結盟
 (D)俄國呼籲日耳曼民族團結，使己國趁機拉攏德國結盟



35. 1914 年 6 月 28 日奧匈帝國皇儲弗朗茨·斐迪南及其妻子蘇菲遭到刺客成加夫里洛·普林西普槍殺，此事件導致奧匈帝國和刺客所屬國進入緊張關係，



- 1914 年 7 月 28 日奧匈帝國發出最後通牒被部分駁回後，奧匈帝國遂向其宣戰，一星期內奧匈帝國的盟友、敵對方的盟友紛紛加入戰爭，導致第一次世界大戰的爆發。請問：以下敘述何者正確？
 (A)斐迪南夫婦在圖中甲地被殺
 (B)奧匈帝國向圖中的乙國發出最後通牒
 (C)圖中丙國為奧匈帝國的盟友
 (D)圖中丁國在戰爭開始後轉而和戊國成為盟友

36. 1914 年的聖誕節期間，西線戰場部分地區出現了官兵自主的休戰，有些地方的士兵們甚至拜訪敵軍的戰線，彼此分享食物、交換禮物、進行球賽，共享一個沒有戰火的聖誕節。這種因為宗教性共同節日的休戰活動，於往後幾年仍零星出現，表現出一種跨越國界，追尋和平與信仰的共同理念。請問：下列敘述何者正確？
- (A)戰爭初期同盟國的進展較為順利
- (B)文中提到的「西線戰場」主要位於亞洲
- (C)壕溝戰的使用讓協約國勢如破竹
- (D)官兵自主休戰和他們宗教信仰中「因果報應，靈魂輪迴」的觀念有關

37. 請問：下列何者為右圖中向人民呼喊口號者的事蹟？

- (A)領導國家在第一次世界大戰時力抗德國，直至戰爭結束
- (B)推動十月革命，臨時政府的統治遂告結束
- (C)推翻沙皇尼古拉二世，建立共和政府
- (D)發動二月革命，將國號改為「蘇維埃社會主義共和國聯邦」



38. 滿載著乘客的郵輪「盧西塔尼亞號」從紐約出發，在愛爾蘭外海被 U20 潛艇以魚雷擊沈，造成船上 1198 名乘客和船員死亡。不久後墨西哥收到某國的電報，以歸還美墨戰爭時墨西哥割讓給美國的領土作為交換條件，被邀請參加第一次世界大戰以對抗美國。請問：根據文中所描述的歷史事件，下列敘述何者正確？
- (A)美國因群情激憤而加入了同盟國的陣營
- (B)向墨西哥發出電報的是日本
- (C)美國參戰為戰局扭轉的關鍵，情勢轉而對同盟國有利
- (D)U20 潛艇罔顧人命的作法，目的在對英國進行海上封鎖

39. 關於簽署下方條約所召開的會議，下列敘述何者正確？

德國失去 25,000 平方英里 (65,000 平方公里) 的領土和近 7,000,000 的人口

德國軍人數量不得超過 100,000 人，武器的類別和數量受到限制，不能擁有潛艇，禁止組織空軍

德國需支付 1320 億金馬克的賠款 (約今日的 4,500 億美元)

- (A)會議成員為第一次世界大戰所有的參戰國
- (B)對德國不公平的對待，種下第一次世界大戰的禍因
- (C)會議決定讓日本接收山東權利，導致中華民國爆發五四運動
- (D)美國總統華盛頓、英國首相勞合喬治、法國總理克里蒙梭為主導會議進行的「三巨頭」

40. 下圖為某一時期的歐洲各國形勢圖。請問：下列敘述何者正確？



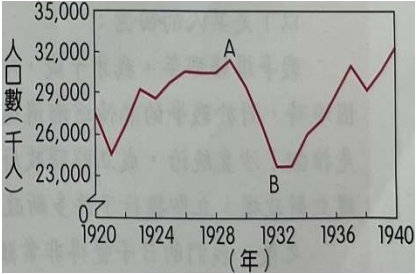
- (A)此為 1914 到 1918 年的歐洲地圖
- (B)圖中出現許多新興國家和美國總統威爾遜提出的民族自決原則有關
- (C)圖中甲、乙、丙三國是由瓦解後的德意志帝國獨立而出
- (D)圖中丁國曾於史達林掌權時推行「計畫經濟」，使人民生活趨於富裕

41. 下表為國際聯盟與聯合國的比較，請問哪一個列是正確的？

- (A)甲 (B)乙 (C)丙 (D)丁

組織	國際聯盟	聯合國
(甲)總部	美國紐約	瑞士日內瓦
(乙)武力	會員國組成維持和平部隊	缺乏武力
(丙)會員	美國秉持孤立主義而未加入	中、美、英、法、蘇為安理會常任理事國，擁有否決權
(丁)貢獻	1931 年九一八事變發生時，能有效制裁日本	致力於解決國際糾紛、經濟、文教等問題


42. 右圖為 1920 年至 1940 年美國「非農業就業人口數」的統計圖。請問：關於導致圖中 A 至 B 的變化之歷史背景，下列敘述何者正確？



- (A)美國降低關稅以保護國內工商業，各國起而仿效
- (B)美國農工商品的出口產生供不應求的情況
- (C)美國總統羅斯福主張限制人民消費、停止興建公共工程來改善經濟困境
- (D)外銷困難、國際貿易停滯，造成全球性恐慌

43. 關於下圖（一）與圖（二）的甲人物之敘述，請問下列何者正確？

- (A)利用暴力手段取得政權後，宣布廢除《凡爾賽條約》、重整軍備
- (B)此人崛起的背景為雖屬一戰的戰勝國，但國內經濟蕭條
- (C)提出「恢復古羅馬光榮」等主張，獲得人民支持
- (D)與圖（二）的乙人物簽訂互不侵犯條約後，進攻波蘭



繼續作答下張試卷

44. 1930 年代，德國積極向外擴張，侵吞歐洲的野心日益強烈。根據右圖，請問下列敘述何者正確？

- (A) 第二次世界大戰爆發前，最早被德國併吞的是乙國
(B) 對於德國的侵略行為，英、法等國一開始就表達強烈抵制
(C) 1938 年召開的慕尼黑會議要求甲國將蘇臺德區割讓給德國
(D) 德國入侵圖中丙國，揭開第二次世界大戰亞洲戰場的序幕



45. 「日本聯合艦隊司令山本五十六認為必須給予美國海軍太平洋艦隊致命的打擊，日本海軍派出了 6 艘航空母艦、300 多架飛機進行兩波攻擊。由於美軍受到奇襲，日軍取得重大成果。」請問：何者是發生在上述事件之前？

- (A) 盟軍攻擊柏林，希特勒宣布將堅守至最後，然後飲彈自盡
(B) 為開闢第二戰場，盟軍於法國北部動員大批戰艦、士兵強行登陸
(C) 德軍運用閃電戰，荷、比、法等國不敵而淪陷
(D) 高溫、強光使離爆炸點 900 公尺以內的地面上人們絕大多數被殺，日式房屋被摧毀殆盡

46. 「會議召開時，德國雖然投降在望，但美軍在太平洋上的對日戰鬥尚在艱苦進行之中，原子彈也未製造成功，依當時美國的估計，倘要攻占日本，尚須耗損約 1 百萬的兵力，美國為求早日結束對日戰爭，減少傷亡，邀請蘇聯對日作戰，史達林即針對美國想要蘇聯參戰的弱點，乘機提出苛刻的要求。」請問：關於此會議的敘述，下列何者正確？

- (A) 參與國為中、美、英、蘇
(B) 聲明日本應將東北、臺灣、澎湖歸還中華民國
(C) 同意蘇聯接收中國東北、取得該地權益
(D) 決定由蘇聯接收西歐部分地區，導致西歐各國於戰後相繼成立共產政權

47. 下方圖（一）與圖（二）為 1960 年代的諷刺漫畫。請問：下列敘述何者正確？



圖（一）

圖（二）

- (A) 這兩張圖呈現戰間期美、蘇對立的歷史
(B) 圖（二）呈現美國的視角，暗示蘇聯勢力的向外擴張對美國造成威脅
(C) 美國為了防止蘇聯壯大，結合西歐各國成立「華沙公約組織」
(D) 美國為防堵共產勢力，韓戰後提供給臺灣軍事與經濟的援助

48. 美國實行空運，派出大批飛機向柏林居民空運糧食及各種日用品，在一年間飛行次數 277,728 次，空運貨物 211 萬噸，同時對蘇聯占領區所缺的鋼、焦煤及電力等實行反封鎖。蘇聯於封鎖中蒙受損失，遂於 324 天後宣布撤銷封鎖。請問：根據右圖，下列敘述何者正確？

- (A) 事件發生於 1962 年
(B) 圖中乙區在二戰後由美、英、法掌控
(C) 蘇聯切斷圖中甲區的水陸對外交通
(D) 事件起因是蘇聯在古巴興建飛彈基地，射程遠達柏林



49. 中東地區錯綜複雜種族、宗教之歷史糾葛，剪不斷、理還亂。戰火頻繁，人民只能祈求上蒼賜予和平的到來。請問：根據右圖，下列敘述何者正確？

- (A) 第一次世界大戰後，甲區得到英、美等國支持而建國
(B) 甲區建國後與原住在此地的猶太人不斷產生衝突
(C) 西元 11 至 13 世紀因鄂圖曼土耳其人阻撓基督徒往丁城朝聖，導致十字軍東征的展開
(D) 1967 年的戰爭甲國大勝後，占領乙、丙等地



50. 1985 年蘇聯領導人為解決嚴重的經濟問題，上臺後提出兩項主張：開放與改造，他說道：「我們正在從一種國家制度和社會制度走向另一種制度…我們必須改變每一種事務」、「任何國家均有權自行決定它自己的命運」。請問：關於上述領導人的政策所產生的影響，下列何者為「非」？
- (A) 美、蘇之間的冷戰宣告落幕
(B) 造成「獨立國家國協」解體
(C) 東歐共產政權陸續瓦解
(D) 柏林圍牆遭到民眾拆除

試題結束

新北市立新莊國民中學 110 學年度第 2 學期第 2 次段考 9 年級社會領域試題
解答

1	2	3	4	5	6	7	8	9	10
D	A	B	C	A	B	C	B	D	D
11	12	13	14	15	16	17	18	19	20
A	A	C	B	C	D	D	C	A	C
21	22	23	24	25	26	27	28	29	30
D	C	D	D	B	C	A	A	C	C
31	32	33	34	35	36	37	38	39	40
D	D	B	B	D	A	B	D	C	B
41	42	43	44	45	46	47	48	49	50
C	D	D	A	C	C	D	B	D	B

新北市立新莊國民中學 110 學年度第 2 學期第 2 次段考 9 年級社會領域試題
解答

1	2	3	4	5	6	7	8	9	10
D	A	B	C	A	B	C	B	D	D
11	12	13	14	15	16	17	18	19	20
A	A	C	B	C	D	D	C	A	C
21	22	23	24	25	26	27	28	29	30
D	C	D	D	B	C	A	A	C	C
31	32	33	34	35	36	37	38	39	40
D	D	B	B	D	A	B	D	C	B
41	42	43	44	45	46	47	48	49	50
C	D	D	A	C	C	D	B	D	B