

# 新北市立新莊國民中學 107 學年度第 2 學期第 1 次段考 9 年級社會領域試題卷

班 座號 姓名

※ 選擇題：本試卷共 50 題，每題 2 分，總分為 100 分。  
每一題均為單選題，請選出最適當答案。

※ 請用 2B 鉛筆在答案卡上相應的位置畫記。

1. 【圖一】顯示 19 世紀某強國對拉丁美洲的外交策略，牌子上寫著「NO TRESPASS」（禁止擅自進入）代表將歐洲列強拒之於門外。請問：下列敘述何者正確？
- (A) 此策略由羅斯福總統提出  
(B) 歐洲列強中的葡萄牙殖民地在【圖二】的甲處  
(C) 在加里波底的領導下，【圖二】中眾多國家陸續獲得獨立  
(D) 此策略提出的目的在於日後便於控制拉丁美洲



【圖二】

2. 巴爾幹半島由於地理位置重要，引來列強諸多干涉，再加上既有的宗教矛盾、領土爭議，致使這一地區的衝突頻繁甚至引發戰爭，因此有「歐洲火藥庫」之稱。請問：關於此地區的敘述，下列何者正確？



【圖三】

- (A) 19 世紀時為拜占庭帝國所統治，國勢積弱不振而導致列強覬覦  
(B) 右圖中的乙帝國號召日耳曼民族一同起來反抗殖民者的統治  
(C) 第一次世界大戰的導火線發生在右圖中的甲處  
(D) 15 世紀起統治者信仰希臘正教，與信仰伊斯蘭教的當地民眾觀念不合

3. 若將日耳曼與義大利地區的統一過程列表加以比較（如下表），請問哪一列寫「錯」了？  
(A) 甲 (B) 乙 (C) 丙 (D) 丁

地區	日耳曼	義大利
(甲)領導核心	普魯士王國	薩丁尼亞王國
(乙)領導君主	威廉一世	伊曼紐二世
(丙)輔佐首相	俾斯麥	加富爾
(丁)統一阻礙	均為奧國與俄國	

4. 綜觀日耳曼地區的政權演變，從中古時期至 19 世紀各有不同的名稱。右圖粗線代表維也納會議後該地區的領域範圍，其中成員國有三十九個，彼此保證相互防守，並聯合保衛一些堡壘和要塞。由奧國首相領導，成員國定期在法蘭克福舉行會議。請問：上述是指哪一政權？



【圖四】

- (A) 德意志帝國 (B) 日耳曼邦聯  
(C) 東法蘭克王國 (D) 神聖羅馬帝國

5. 「奧利佛是一個孤兒，他出生時母親去世，父親則不知下落。他在濟貧院撿麻絮，常常吃不飽飯。有一天，孩子們決定抽籤，抽中了可再要一勺稀粥。奧利佛中籤，拿著碗提出他最著名的請求：『對不起，先生，我還要一點。』」上述為 19 世紀某著名小說的內容，請問作者應是下列何人？  
(A) 狄更斯 (B) 歌德 (C) 雷馬克 (D) 拜倫

6. 義大利的統一過程中，外交與軍事手段的有效運用居功厥偉。請問：【圖五】甲城的收復和下列哪一場戰爭關係最密切？



【圖五】

- (A) 薩奧戰爭  
(B) 普奧戰爭  
(C) 普法戰爭  
(D) 普丹戰爭

7. 19 世紀的日本和中國都曾經有救亡圖存的改革運動，但結局卻大不相同。請問：關於日本明治維新與中國自強運動的比較，下列敘述何者正確？

- (A) 自強運動偏重器物層面的改革，明治維新則涉及制度層面  
(B) 英法聯軍證明自強運動失敗，明治維新則使日本成為亞洲的新帝國主義國家  
(C) 英國脅迫日本開港而有明治維新的推行，中國則因鴉片戰爭戰敗而有自強運動的展開  
(D) 明治維新在性質上是屬於「唐化運動」，自強運動則是強調「全盤西化」

8. 地理大發現後，西方商人和傳教士來到東方的中國和日本，帶來先進的知識和技術，也因東西方文化的不同產生許多衝突，兩國都採取閉關自守的政策來應對。請問：下列敘述何者正確？

- (A) 康熙皇帝禁教以致中西文化交流中斷，造成日後無力對抗列強入侵  
(B) 鎌倉幕府驅離外國商人與傳教士，禁止日本船隻外航  
(C) 乾隆時期外國商人僅限廣州一口貿易，道光年間則開放五口通商  
(D) 鎖國時期仍有西班牙人帶來西方學術，有益近代日本科學、文藝發展


9. 「不同於之前歐洲繪畫藝術強調模仿寫實，19 世紀開創出新的風格，借助光線與色彩的變化，表現出瞬間所捕捉到的感覺，更真實地認識、重現畫家眼中的景物，也傳達畫家內心的感受。」請問：哪一個作品最能符合以上敘述？



10. 帝國主義國家會利用強勢的政治、軍事力量壓迫其他國家或地區，甚至建立殖民地來進行全面的掌控。請問：關於新舊帝國主義國家的比較，下列敘述何者正確？

- (A) 舊帝國主義國家因工業革命而擁有先進技術，新帝國主義國家則因地理大發現而競爭奪海上霸權  
(B) 強調「適者生存」的社會達爾文主義助長舊帝國主義國家向外侵略的氣焰  
(C) 西班牙、葡萄牙、荷蘭等國為新帝國主義國家的代表  
(D) 舊帝國主義國家主要的侵略地區為亞洲及美洲，新帝國主義國家的侵略則擴及非洲

11. 老師在課堂上畫了【圖六】，並談道：「人的意識組成就像一座冰山，露出水面的只是一小部分，但隱藏在水下的絕大部分是內心深處被壓抑而無從意識到的欲望，會對人的性格和日後行為產生決定性的影響。」請問：老師正在解釋何人提出的理論？

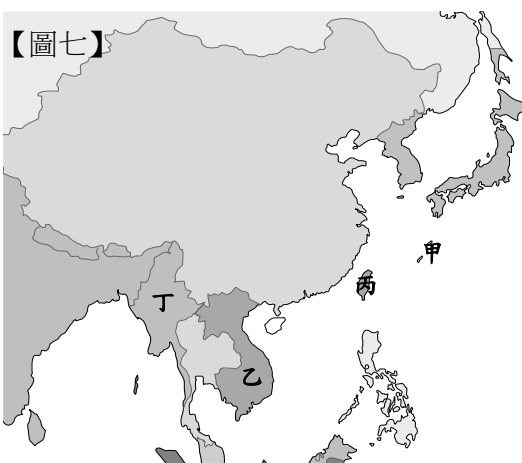


【圖六】

- (A) 愛因斯坦 (B) 居禮夫婦 (C) 佛洛伊德 (D) 海明威

背面尚有試題

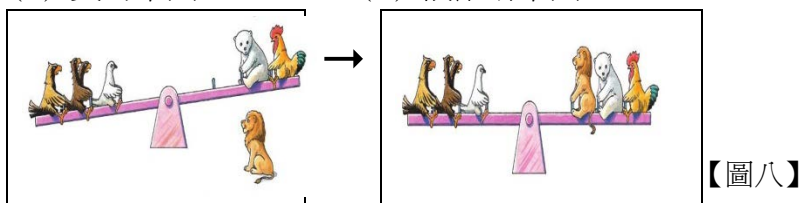
12. 新帝國主義國家在亞洲大肆擴張侵略，許多地區紛紛淪為殖民地，政治、經濟為外國人所掌控。請問：




- 【圖七】中哪一地區最先成為列強的殖民地？  
(A) 甲 (B) 乙  
(C) 丙 (D) 丁

13. 【圖八】中原來在蹺蹺板下方的獅子（英國）後來坐在蹺蹺板上，形成「三國協約」與「三國同盟」對峙的局面，請問是和哪個國家積極發展海軍而威脅到英國有關？

- (A) 義大利王國 (B) 德意志帝國  
(C) 奧匈帝國 (D) 俄羅斯帝國



14. 【圖九】為第一次世界大戰期間美國的徵兵海報，被美國比喻為怪獸猩猩的某國，是何原因刺激美國參與戰爭？



- (A) 偷襲美國海軍基地珍珠港  
(B) 實施無限制潛艇政策  
(C) 利用壕溝戰削弱對手實力  
(D) 國內兩次爆發革命而退出戰場

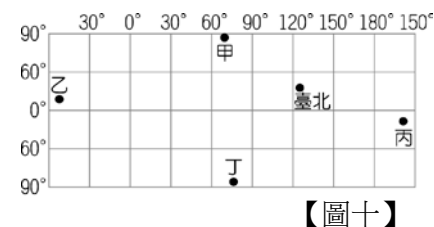
15. 第一次世界大戰結束後，戰勝國在法國巴黎召開會議，並依據美國總統威爾遜提出的「十四點原則」來處理國際事務。請問：下列敘述何者正確？

- (A) 對奧國簽訂苛刻的「凡爾賽條約」，釀成第二次世界大戰的遠因  
(B) 日治時期的知識分子受民族自決原則的影響，提倡政治社會運動  
(C) 與會列強將山東權益讓給日本，導致中國新文化運動的產生  
(D) 1920 年成立聯合國，對維護世界和平貢獻卓著

16. 「19 歲的學生保羅在老師的激勵下跟同學一起參加國民志願兵，被派往前線與法軍作戰，戰壕內都是老鼠、虱子，傳染病威脅士兵的生命。保羅眼看同學們一個個受傷或陣亡，還有中毒的傷兵一連幾天喉嚨哽塞，差點沒把灼傷的肺給一塊塊地咳出來。1918 年 10 月保羅陣亡，那一天前線十分沉寂寧靜，第二天德國報紙刊載：『西線無戰事』」。請問：上述小說所欲闡釋的精神為何？

- (A) 鼓吹人民參與戰爭以爭取國家榮譽  
(B) 譴責第二次世界大戰為民眾帶來的傷害  
(C) 贊揚新式武器（如毒氣）的運用為戰爭致勝關鍵  
(D) 反省國家對人民的宣傳與戰爭本質的荒謬

17. 因紐特人多就地取材建立冰屋作為傳統居所，平日以獵殺麋鹿、海豹維生，於天寒地凍的環境與殘酷大自然奮勇搏鬥，請問因紐特人主要住在【圖十】中何處？



- (A) 甲 (B) 乙 (C) 丙 (D) 丁

18. 大洋洲多為分布於太平洋上的熱帶小島所組成，請問大洋洲三大群島密克羅尼西亞群島、美拉尼西亞群島、玻里尼西亞群島的分界線為何？

- (A) 本初子午線、南回歸線 (B) 180 度經線、赤道  
(C) 赤道、北回歸線 (D) 北極圈、南極圈

19. 觀賞澳洲的袋鼠與無尾熊、紐西蘭的奇異鳥是當地極受歡迎的旅遊行程，請問紐、澳擁有許多特有種動、植物，此種現象和當地何種特色關係最大？

- (A) 高山地形，生態系統垂直分層  
(B) 熱帶區廣，物種多樣性豐富  
(C) 位置孤立，偏離其他陸地  
(D) 政府培育，從他國引進

20. 非洲濕潤區盛行由殖民者帶來的熱帶栽培業，以企業化方式大規模栽培熱帶經濟作物，請問下列哪一個國家「並非」熱帶栽培業盛行區？

- (A) 東南亞—印尼 (B) 南美洲—巴西  
(C) 北非—突尼西亞 (D) 中美洲—宏都拉斯

21. 承上題，請依照熱帶栽培業的特徵，於【圖十一】三個層面，「作物或牲畜為主」、「集約或粗放農業」、「自給性或商業性農業」，找出熱帶栽培業的位置應在何處？



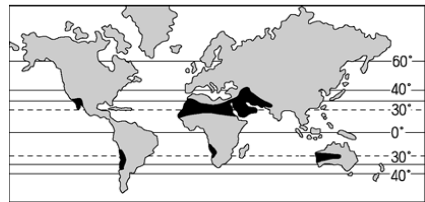
- (A) 甲 (B) 乙 (C) 丙 (D) 戊

【圖十一】

22. 吐瓦魯位於太平洋，由 9 個環形小珊瑚礁島群組成，不幸的是這個國家預計在五十年後從世界地圖上消失，人民被迫遷移到其他國家。請問造成此國家消失的原因是什麼？

- (A) 火山爆發，多地地震海嘯 (B) 超抽地下水，地層下陷  
(C) 全球暖化，海平面上升 (D) 核子彈試爆，輻射汙染

23. 【圖十二】為「XX 的全球分布位置圖」，請依據此圖黑色區塊分布位置，判讀出「XX」最可能是下列哪個選項？



- (A) 「地中海型農業」分布圖，廣布著橄欖園與葡萄園  
(B) 「熱帶沙漠氣候」分布圖，沙漠可見耐旱的仙人掌  
(C) 「5000 公尺高原」分布圖，皆因板塊碰撞隆升而成  
(D) 「伊斯蘭文化」分布圖，風俗習慣遵循可蘭經教義

【圖十二】

24. 「澳洲外交部長伊凡斯 (Ewans) 提出：『我們要放棄歷史，學習地理。』他並提及在澳洲普遍存在的一個認同危機——在英國歷史的澳洲以及現代澳洲之間的一個矛盾。」下列澳洲推行的政策中，哪一項最能代表上述文句的意思？

- (A) 脫歐入亞，發起 APEC 組織  
(B) 白澳政策，僅接納白人移民移入  
(C) 種族隔離政策，嚴格區分黑人與白人區  
(D) 設立原住民保留區，提供毛利人傳統獵場

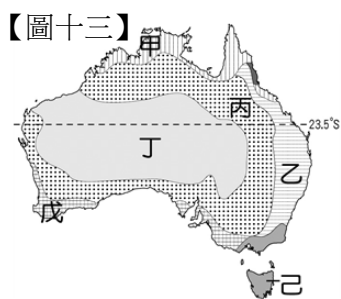
25. 紐西蘭與別稱「冰火之島」的北歐國家冰島，自然環境十分相似，而被稱為「活的地形教室」，請問下列關於兩國的敘述何者正確？

- (A) 都位於環太平洋火環帶上，多火山與溫泉資源  
(B) 都出現冰河侵蝕形成的峽灣海岸，觀光業興盛  
(C) 都因地廣人稀，偏重發展機械化農業勝於牧業  
(D) 都因氣候嚴寒，人口分布多集中住在北方為主

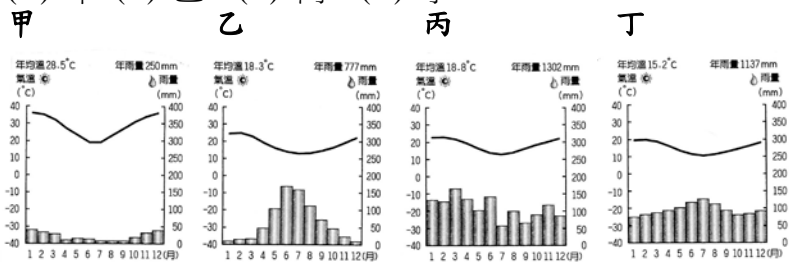
26. 每年 1 月 1 日，新聞台實況轉播著全球各著名城市的跨年煙火，請依據經緯度位置來做判斷，依序排列出威靈頓、約翰尼斯堡、夏威夷和臺北四地的煙火燃放順序？  
 (A) 威靈頓→臺北→約翰尼斯堡→夏威夷  
 (B) 約翰尼斯堡→夏威夷→臺北→威靈頓  
 (C) 夏威夷→威靈頓→約翰尼斯堡→臺北  
 (D) 臺北→威靈頓→夏威夷→約翰尼斯堡
27. 南極測站曾出現  $-80.6^{\circ}\text{C}$  的低溫，而北極透過衛星所測得的最低溫是  $-48.9^{\circ}\text{C}$ 。一樣位處高緯寒帶環境，為何南極地區氣溫較北極地區低溫這麼多？  
 (A) 南極的永夜時間比北極長  
 (B) 有暖流流入南極地區使溫度升溫  
 (C) 南極不受地球暖化影響，所以氣候異常寒冷  
 (D) 南極是高原大陸，而北極是海域，陸地比海洋散熱快

**題組一** 【圖十三】為澳洲氣候分布圖，請依圖中資訊回答第 28~30 題

28. 小輝一家人預計在七月暑假至澳洲旅遊，將沿著【圖十三】中南回歸線由西向東前進，下列行程請依旅程規畫找出正確的順序為何？(甲)感受烏魯汝孤絕矗立乾燥岩漠高原中(乙)在大堡礁中浮潛體驗海底世界(丙)欣賞由自流井水餵養的剃羊毛秀(丁)翻越澳洲最高山後降雨機率大增  
 (A) 甲→丙→丁→乙 (B) 甲→丁→乙→丙  
 (C) 乙→甲→丙→丁 (D) 丁→乙→甲→丙



29. 請問澳洲因氣候暖濕多雨，地勢又平坦，成為人口分布最密集的地區，亦是澳洲主要酪農帶的位置在【圖十三】中何處？  
 (A) 甲 (B) 乙 (C) 丁 (D) 戊
30. 位於己區的澳洲塔斯馬尼亞島因緯度稍高，氣候環境與紐西蘭的氣候較相似，請問塔斯馬尼亞與紐西蘭的氣候圖應是下列哪一張圖？  
 (A) 甲 (B) 乙 (C) 丙 (D) 丁



**題組二** 【圖十四】為非洲氣候分布圖，請依圖中資訊回答第 31~33 題

31. 請問由【圖十四】中「甲區」一路向南至「丁區」，氣候的特徵依序有何變化？  
 (A) 夏雨為主→乾燥少雨→冬雨為主→終年有雨  
 (B) 乾燥少雨→夏雨為主→終年有雨→冬雨為主  
 (C) 終年有雨→夏雨為主→乾燥少雨→冬雨為主  
 (D) 冬雨為主→乾燥少雨→夏雨為主→終年有雨



32. 尼羅河灌溉農業的發達孕育了古埃及帝國，於 1970 年代興建了亞斯文高壩後，耕地面積更是大為擴張，糧產大增，請問下列有關尼羅河灌溉農業的敘述，何者正確？  
 (A) 水壩蓋好後，河岸地的土壤沃度更高  
 (B) 代表作物可可樹、橄欖樹多出現在乙區  
 (C) 尼羅河夏季的定期氾濫多因河流上游經過丙區  
 (D) 尼羅河是一條由高緯度流向低緯度的世界最長河流
33. 「由太空中也可看到的地球傷疤最深陷的大規模峽谷中，有噴發的火山、覆蓋著森林的高山、廣袤的草原、巨大的湖泊和壯觀的河流瀑布」，請問上文描述的地點可能出現在【圖十四】中何區？  
 (A) 甲 (B) 乙 (C) 丁 (D) 戊
34. 全球化使世界成為一個關係緊密的「地球村」，某國發生的事件往往產生跨越國界的影響。下列哪一事件顯示出全球化下的「全球關連」現象？  
 (A) 來自非洲的豬瘟蔓延全球，引發各國恐慌  
 (B) 臺灣農產館今年 3 月初，將在東京國際食品展亮相  
 (C) 全台慶元宵，北市引進了曾在歐洲、美國、日本、韓國等跨年活動展出的光雕展  
 (D) 日本北海道發生地震，造成交通大亂，居民被迫疏散避難
35. 為落實精準醫學普及化概念，國內知名業者推出「全基因資訊銀行」服務，標榜個人化基因檢測，降低患病風險，也可以在懷孕時做檢測，降低生下異常胎兒的機率。請問：依上述內容判斷，這是哪一項科技的應用？  
 (A) 資訊科技 (B) 生物科技 (C) 傳播科技 (D) 環境科技
36. 宜靜 和 大雄 是國中同學，由於 宜靜 個性直爽外向，有不少男生主動追求，大雄 趁電腦課時，破解 宜靜 的電子郵件帳號，偷看並下載 宜靜 與朋友的聯絡信件。請問：大雄 侵入他人電腦的行為，下列敘述何者正確？  
 (A) 觸犯刑法，構成妨害電腦使用罪  
 (B) 違反個人資料保護法，須負起行政責任  
 (C) 大雄 是未成年人，家長必須負起連帶的刑事責任  
 (D) 大雄 侵害他人隱私權，生命倫理觀念需要加強
37. 「水能載舟，亦能覆舟。」藉由生物科技的發展改善人類生活，但相對也帶來許多潛藏危機。請問：下列何項不屬於生物科技的衝擊？  
 (A) 基因改造作物可能造成生物多樣性消失  
 (B) 基因解讀技術可能侵害到個人隱私  
 (C) 生物復育過剩，可能會超過環境負載力，危害生態系統  
 (D) 人工生殖讓不孕夫妻孕育下一代
38. 某政府機關公布去年第四季業務報告，指出民眾對於電視內容申訴以「新聞報導」及「廣告」兩大類型最多，其中申訴電視新聞報導的案件中，又以「內容不實、不公」最多，其次為「妨害公序良俗」。請問：這是哪一個政府機關的業務報告？  
 (A) 法務部調查局 (B) 行政院新聞局  
 (C) 國家通訊傳播委員會 (D) 內政部警政署
39. 小丸子 收看晚間新聞時，看到一則生活情報：全球最賣座的百老匯音樂劇《獅子王》，今年 7 月將在台北小巨蛋盛大演出。請問：上述媒體所發揮的功能與下列何者相同？  
 (A) 小美 上網查詢一週氣象概況  
 (B) 小乖 收看生活保健頻道  
 (C) 曉華 假日收看綜藝節目  
 (D) 大根 收看政論節目

40. 花花 平常很喜歡上網瀏覽美食部落客發表的文章或照片，也常常利用電子郵件，將她覺得有趣的文章或照片，轉寄給親朋好友，或是轉貼在臉書以及 BBS 站上，以便與更多人分享。請問：上述 花花 的行為法律責任如何？
- (A) 只要有註明文章與照片的出處來源，即可以自行轉載  
(B) 花花 並沒有營利意圖，所以不算違法  
(C) 花花 已經違反著作權法的相關規定  
(D) 公開分享資訊，屬於合理的使用範圍，並無不妥
41. 某次公民課全班分組討論我國著作權法相關規定，各組發言內容如下。請問：為表示對作者的尊重，關於著作財產權的保障時間哪一組說法正確？
- (A) 第一組：自著作人創作完成開始後 50 年為止  
(B) 第二組：自著作人創作完成開始，至死後 50 年為止  
(C) 第三組：只要著作人死亡，即可以自由流通  
(D) 第四組：著作人沒有提出申請，就不受著作權法保障
42. 霹靂 國中的法律常識大會考部分填充試題如下表所列。請問：依據我國智慧財產權的法律規範，正確解答依序應該為下列何者？
- |                             |
|-----------------------------|
| a. 小胖去圖書館借書，整本影印成冊--違反( )法。 |
| b. 大胖在網路販售仿冒的名牌包包--違反( )法。  |
| c. 胖胖竊取他人的創作發明--違反( )法。     |
43. 國內智慧科技發展日趨成熟，路燈融入影像監控是下一波智慧校園與智慧城市趨勢，然而精準的人臉辨識功能，會衍生個人隱私被侵犯的問題，未來可能以個人特徵做為辨認資料主體、人臉辨識影像只當輔助之用，讓智慧科技合法合理被應用。上述內容最可能反映出下列哪一項議題？
- (A) 生物科技的發展與衝擊  
(B) 智慧財產權的合法保障  
(C) 科技發展與隱私權的兼顧  
(D) 資訊汙濫造成真偽難辨
44. 華語歌壇 90 後創作才子 小傑 將西洋的嘻哈曲風與中國的傳統戲曲結合，巧妙的將樂壇流行歌曲改編，饒舌與花旦唱腔在中國歌唱競賽節目中，獲得全場觀眾的掌聲與音樂製作人的肯定。請問：針對上述 小傑 的作為，何項敘述正確？
- (A) 肯定自我文化，呈現文化創新面貌  
(B) 受外來文化影響，出現文化認同危機  
(C) 在地文化消失，出現文化失調現象  
(D) 融合不同文化，使文化趨向一致性
45. 小寶 收到一張在台北舉行的異國美食嘉年華傳單，傳單內容如下：「不能環遊世界就吃遍全世界吧！地方美食忠實呈現風味民情，一起用味道記憶世界吧！日本壽司、韓國部隊鍋、墨西哥捲餅、美式漢堡、港式點心、印度咖哩、義大利冰淇淋、阿根廷馬黛茶、越南河粉、馬來西亞肉骨茶...等全球美食，全球指標美食就等你來品嚐。」除了傳統中式料理，異國美食在台灣都有機會品嚐。請問：造成此種現象的主要原因為何？
- (A) 文化交流頻繁 (B) 強勢文化入侵  
(C) 文化的融合與創新 (D) 弱勢文化的式微

近年隨著商業媒體發展，收視率成為電視台好壞評斷標準，點閱率成為媒體遵循的守則，許多媒體為了短時間能抓住閱聽者的眼球，誇大其辭報導，餵養片面瑣碎的資訊，間接擴大族群標籤汙名。群體間的差異被形塑成為單一樣貌，被報導的群體往往在事件裡是被消音的。

據調查 2017 年台灣 30 歲以下，每周在網路上時間高達 15 小時，媒體生態不斷改變，許多不良的影片及資訊廣為流傳，如果若我們不具有高度識別資訊的能力，又該如何遏止亂象呢？

46. 上述文章內容主要在喚起民眾對於什麼的重視？
- (A) 媒體經營理念應優先考量自身商業利益  
(B) 新聞專業與社會公益難以兼顧  
(C) 媒體識讀能力的教育與培養  
(D) 資訊過度氾濫，媒體缺乏科技倫理
47. 當新聞媒體報導內容有誤時，當事人有權要求媒體給予答辯、更正的機會，且媒體不得以拒絕。下列選項何者最符合本題題意？
- (A) 媒體工作者給予的資訊往往都是片段瑣碎的訊息  
(B) 閱聽人享有接受媒體採訪的自由  
(C) 大眾享有公平接近使用媒體的權利  
(D) 媒體經營者不應該有個人的主觀立場
48. 某位評論家曾公開表示：「專業記者不是有特權的文化流氓或無冕王，為搶收視率或製造八卦新聞淪為狗仔，盲從炒新聞而忘了「我是誰」？令人嘆哉！」請問：上述內容最主要在強調什麼？
- (A) 呼籲媒體自律 (B) 捍衛新聞自由  
(C) 閱聽人的多元角色 (D) 加強媒體素養教育
- 星巴克 曾在台灣農曆春節推出一款應景飲料，以東方飲食喜愛的白芝麻食材為靈感來源，融合芝麻風味與豆奶那堤，再加上香甜脆口的黃金芝麻糖灑，讓消費者有更多的選擇。星巴克 解釋，主要看準健康訴求提供更多元選擇，因此，選上東方飲食中深具健康概念的白芝麻與豆奶，獻上不同以往的新春年味。
49. 根據上文判斷，星巴克 的產品銷售策略，最能展現那些全球化面向？
- (A) 政治、經濟 (B) 經濟、文化  
(C) 文化、政治 (D) 政治、經濟、文化

50. 不論是上述 星巴克 將西式咖啡加入東方食材或是台灣 麥當勞 推出米漢堡餐點，都顯示出何項社會趨勢？
- (A) 強勢文化擴張、本土文化式微  
(B) 發展文化產業，發揚本土文化  
(C) 融入在地特色，呈現文化創新  
(D) 尊重本土文化，抵制外來文化

新北市立新莊國民中學 107 學年度第 2 學期第 1 次段考 9 年級社會領域試題

解答

1	2	3	4	5	6	7	8	9	10
<b>D</b>	<b>C</b>	<b>D</b>	<b>B</b>	<b>A</b>	<b>C</b>	<b>A</b>	<b>C</b>	<b>D</b>	<b>D</b>
11	12	13	14	15	16	17	18	19	20
<b>C</b>	<b>A</b>	<b>B</b>	<b>B</b>	<b>B</b>	<b>D</b>	<b>A</b>	<b>B</b>	<b>C</b>	<b>C</b>
21	22	23	24	25	26	27	28	29	30
<b>B</b>	<b>C</b>	<b>B</b>	<b>A</b>	<b>B</b>	<b>A</b>	<b>D</b>	<b>A</b>	<b>B</b>	<b>D</b>
31	32	33	34	35	36	37	38	39	40
<b>D</b>	<b>C</b>	<b>D</b>	<b>A</b>	<b>B</b>	<b>A</b>	<b>D</b>	<b>C</b>	<b>A</b>	<b>C</b>
41	42	43	44	45	46	47	48	49	50
<b>B</b>	<b>B</b>	<b>C</b>	<b>A</b>	<b>A</b>	<b>C</b>	<b>C</b>	<b>A</b>	<b>B</b>	<b>C</b>