

新北市立新莊國民中學 110 學年度第 1 學期第 3 次段考 9 年級社會領域試題卷

班級

座號

姓名

※ 選擇題：本試卷共 50 題，每題 2 分，總分為 100 分。
每一題均為單選題，請選出最適當答案。

※ 請用 2B 鉛筆在答案卡上相應的位置畫記。

- 由於疫情因素，小政因旅行社倒閉而待業在家，便上網報名了政府所開辦的實用烘焙班，請問政府開辦職業訓練課程的目的是要幫助哪一種類型的人們？
(A)缺少求職行動者 (B)缺乏工作能力者
(C)缺乏工作意願者 (D)缺乏求職履歷者
- 「甲公司僱用勞工 A 擔任作業員一職，勞工 A 於 106 年 3 月 6 日告知甲公司會計懷孕一事，並表示因懷孕身體不適，為安胎而申請留職停薪，惟遭甲公司拒絕，並表示只能申請離職。勞工 A 認甲公司涉嫌懷孕歧視，遂於 106 年 5 月 12 日向臺南市政府勞工局提出申訴。案經臺南市就業歧視評議委員會 106 年度第 6 次會議評議審定，認甲公司違反○○法第 11 條第 1 項規定性別歧視（懷孕歧視）成立。臺南市政府遂處甲公司罰鍰新臺幣 15 萬元。」請問文中的○○法應是何者？
(A)勞動基準法 (B)性別工作平等法
(C)憲法 (D)民法
- 當新台幣兌人民幣由 5：1 變為今 4.3：1，此項匯率的變動後，下列敘述何者正確？
(A)新台幣升值對出口業有利
(B)新台幣的購買力變弱
(C)新台幣升值對進口業不利
(D)中國大陸人民來台旅遊，會較為昂貴
- 請問以下有關通貨膨脹的敘述，何者不正確？
(A)民眾紛紛將錢從銀行領出來購買物資
(B)領固定薪水的人，購買力會下降
(C)流通在市面上的貨幣數量大幅增加
(D)物價持續下降，廠商因無利可圖而倒閉
- 新聞報導了一個溫暖的故事：「東部有一對小兄妹，各自拿到某集團董事長提供的 5,000 元獎學金，他們用這筆錢買了一臺熱水器，並主動寫信給董事長，說他們不用再洗冷水澡了！董事長行善的此舉，感動且擴散到集團內部，同仁以個人名義成立的慈善基金會，就多達 25 個。」請問：該集團董事長提供給小兄妹的協助，是何種企業的社會責任？
(A)重視消費者的權益 (B)建立公司企業形象
(C)追求公司最大利潤 (D)取之社會回饋社會
- 勞動部為保障身心障礙者就業機會，強制規定員工總人數達一定規模的公、私立單位需僱用一定比率的身心障礙者。依身心障礙者權益保障法第 38 條規定，公立機關（構）員工總人數在 34 人以上，進用身心障礙者人數不得低於員工總人數 3%；私立機關（構）員工總人數在 67 人以上，進用身心障礙者人數不得低於 1%。請問以上政府所做的規定跟何者最有關係？
(A)避免就業歧視 (B)避免性別歧視
(C)改善勞動條件 (D)保障員工待遇

7. 以下是小軒對老師所介紹的貨幣所做的整理表格，請幫他找找看哪裡寫錯了？

	信用卡	悠遊卡
(A)使用時機	先消費後付款	先儲值後消費
(B)貨幣功能	交易媒介	延遲支付
(C)消費額度	視銀行及信用狀況決定	視儲值金額決定
(D)別稱	塑膠貨幣	塑膠貨幣

【第 8 至 9 題為題組】

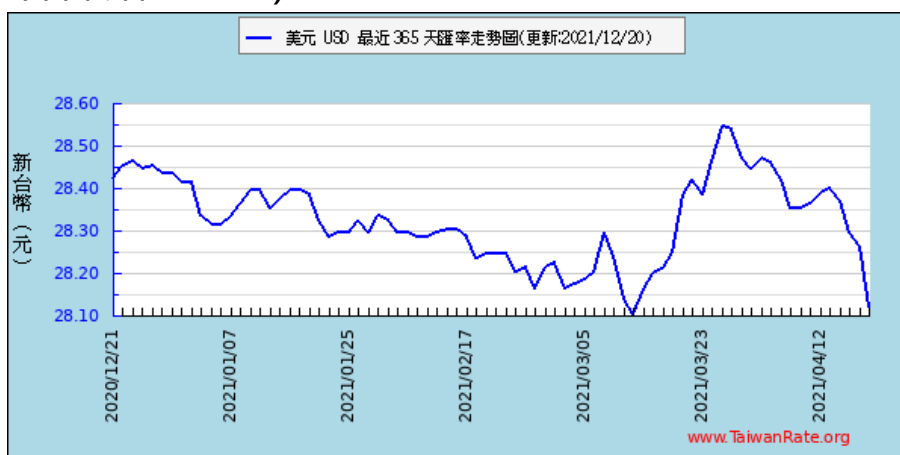
外資匯出潮方興未艾，匯市連兩日爆量貶值。匯銀主管估計，外資昨日匯出約 8 億美元，連兩日累計流出 18 億美元，拖累新台幣匯率貶值 3.9 分，收 28.008 元，連兩貶，並為近一個月低點；相較於熱錢搶買美元，出口商則是瘋狂拋售外匯，市場交投熱絡，匯市一天爆出 20.775 億美元的成交巨量。

受到國際美元走強、外資賣股匯出衝擊，新台幣昨日應聲貶破 28 元大關，據匯銀主管觀察，新台幣匯率重返 28 元大關後，出口商樂不可支、蜂擁進場拋售美元，使新台幣貶勢受到壓抑。

「出口商現在只要看到 28 元就會出來賣（美元），畢竟很長一段時間，新台幣匯率都停在 27 字頭」，匯銀主管說。

- 請根據新聞的報導，判斷台幣貶值時的敘述何者正確？
(A)台幣貶值使進口產品價格下降，降低出口商的成本
(B)出口商出來賣美元，兌換成新台幣的數量會較多
(C)出口的意願降低，與他國的競爭力也較低
(D)出口商能以更優惠的價格來增加國內銷售量
- 承上題，由此可知，新台幣與美元匯率間的關係是由何者決定的？
(A)市場供需 (B)各國政府討論
(C)中央銀行 (D)出口商

下圖為最近 1 年美元對新台幣外匯匯率走勢圖趨勢圖 (最近 1 年台幣升值 1.08%)：



- 請根據以上匯率走勢圖，判斷以下敘述何者錯誤？
(A)買一隻定價 1000 美金的 iPhone，在 2020 年底時，美元兌新台幣匯率（1：28.4）較 2021 年 4 月時（1：28.1）便宜 300 元台幣
(B)以最近一年(2020 年年底至 2021 年的 4 月底)的美元趨勢而言(最近 1 年台幣升值 1.08%)，在 2021 年 4 月底購買美金是較有利的
(C)美元在 2021 年的 3 月底可換到最多的新台幣
(D)在 2021 年 4 月底時，對台灣的出口商較不利

背面尚有試題

全台夾娃娃機店數超過 1 萬家，比 7-11 家全家超商的總門市還多，也因加盟金額門檻不高及高獲利，台灣娃娃機公司數已達 3353 家，整體從業人數高達 10 萬人。立委江永昌表示，以明年預算數來看，券幣發行成本將近 17 億，而其中發行預算數高達有 10 億是在發行 10 元硬幣，也就是說，發行 10 元硬幣占比超過 6 成，比 1 元、5 元、50 元發行預算數都還來的高。像是 50 元幣發行成本一枚要 5.71 元、10 元幣發行成本一枚要 4.75 元。立委質疑為何 10 元硬幣發行量爆量？○○銀行總裁楊金龍表示，自己沒有玩過夾娃娃機，但近期因為娃娃機非常盛行，若社會有需求，該行庫就會滿足市場需求。而娃娃機盛行，意外導致鑄幣成本增加，自去年開始，便積極要求民眾把窖藏硬幣拿出來使用，多多用小豬撲滿，以降低政府發行硬幣的成本。

11. 根據上文的敘述，請問以下何者正確？

- (A) 文中的○○銀行是台灣銀行
- (B) 硬幣是我國政府發行的商品貨幣
- (C) 娃娃機店家數眾多，可用需求法則解釋
- (D) 我國貨幣以紙鈔與硬幣並行

汽車產業是德國經濟的重要支柱，也是高度創新又成功的產業，但德國最大的車廠福斯汽車 (Volkswagen) 被傳將被歐盟罰款超 1 億歐元，原因是未達到 2020 年歐盟碳排放目標。

福斯汽車表示，2020 年歐盟車隊的平均二氧化碳排放量降低了約 20%，至 99.8 克/公里，但仍比目標高出約 0.5 克/公里。正是這不起眼的 0.5 克/公里，給福斯帶來了 1 億歐元的罰款。而這筆罰金，福斯在去年 10 月就已準備好。

為了避免罰款，其他汽車製造商紛紛採取了不同措施。最簡單的方法，就是盡可能多推出電動汽車。可以說，正因為歐盟嚴管碳排放，才推動歐洲傳統車企向電氣化紛紛轉型，促進電動汽車的發展。

12. 根據上文所述，福斯汽車的作為是因為忽略了何者的重要性，而付出慘痛的代價？

- (A) 同業車廠的競爭
- (B) 生產成本控管
- (C) 員工教育訓練
- (D) 企業社會責任

【第 13 至 14 題為題組】

「信用卡很大的魅力是你可以隨時隨地買到想要的東西、昂貴的商品。你也可以大量採購或支付緊急費用，不需要馬上付清這筆費用。

信用卡分期付款是很棒的事，它可以讓你大量採購或買昂貴的商品，並延後付帳單的日期。讓信用卡取代現金成為你的付款方式，並好好管理你的個人信用。」

小萱看了以上信用卡的廣告台詞，便跟業務辦了一張信用卡，之後去電影院，刷卡買了一張蜘蛛人的電影票 250 元，還可享二人同行，第二張電影票七折的優惠。

13. 請問有關信用卡的相關敘述何者正確？

- (A) 信用卡又稱塑膠貨幣，也是貨幣的一種
- (B) 一張優惠電影票 250 元，此處展現了價值儲存的功能
- (C) 信用卡為中央銀行所發行
- (D) 透過信用卡買電影票，可發揮債務延遲支付的功能

14. 以下有關貨幣的敘述，請問何者正確？

- (A) 交易方式演進的過程為：以物易物→法定貨幣→商品貨幣→塑膠貨幣
- (B) 貨幣價值的高低是以其面額來決定
- (C) 法定貨幣應有方便攜帶、可以分割、不易腐壞與發行量穩定等特徵
- (D) 民眾需要出國旅遊時，是跟銀行以匯率告示牌的買入價格購買外匯

以下為近日的網路熱搜文：

「現代的女性不像從前的女性沒有教育的機會，在家庭中沒有選擇的，只能擔任妻子和母親的角色，我們很幸運的有機會接受高等教育，有知識、學識，也有機會見識，也有謀生能力，也同樣能為社會貢獻。無論是過去或是現代的女性，選擇為家庭全心付出當家庭主婦，雖然實質上是屬於無酬的工作。但，這只是家庭成員角色的分配，也是家中重要的支撐，甚至是一個全年無休，24 小時多重角色(例如：保姆/老師/打掃阿姨/司機/總管/伴侶/特助等工作)。這份工作的薪酬應該加總計算，加上以你的能力不外出工作的機會成本。這應是所有家庭主婦透過自己努力應得的薪酬，而不是被贈與或施捨的。.....沒有在外工作的女性，如果沒有做錯什麼，卻因為男方無正當理由而被迫離婚，通常會不知所措，所以女孩們！一定要好好的防範於未然！」

15. 請根據文中內容，選出錯誤的敘述？

- (A) 家庭主婦與社會上的志工是屬於相同的勞動參與類型
- (B) 家庭主婦對家庭與社會並無貢獻
- (C) 擔任家庭主婦仍具有價值，只是不容易以市場價值來衡量，是機會成本的概念
- (D) 有關婚姻中，私人之間的財產與身份關係，屬於民法規範的內容

16. 以下有關於童工的敘述，何者錯誤？

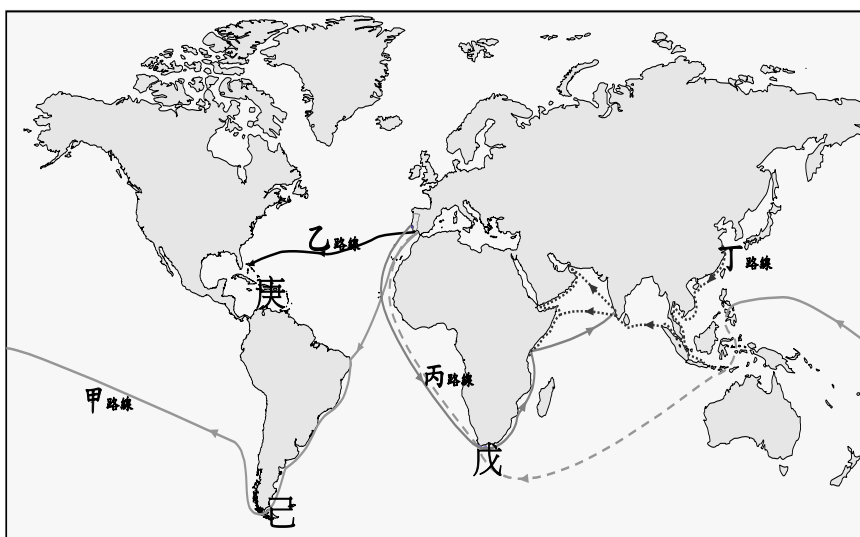
- (A) 15 歲以下的受僱者，稱之為童工
- (B) 每週工作不可超過 40 小時
- (C) 童工不得於午後八時至翌晨六時之時間內工作
- (D) 童工不得從事危險性或有害性之工作

17. 15 至 17 世紀，歐洲人前仆後繼向海上尋找往東方新航路的原因，應為下列何者？

- (A) 義大利和東羅馬帝國的商人從中操控，使商品的價格居高不下
- (B) 十字軍東征促進東西文化交流，歐洲人對於東方的貴重物品深感興趣
- (C) 英、法、德、義形成王權國家，國王支持海外探險
- (D) 火藥的使用象徵航海技術進步，歐洲人得以遠航

【第 18 至 21 題為題組】

下圖為大航海時代的航路圖。請根據下圖回答下列問題：



18. 1486 年此位航海家尋找一條通往東方「黃金樂土」的海上通道，當船隊航行至大西洋和印度洋交界的水域時，海面狂風大作，驚濤駭浪差點讓整個船隊覆沒，最後巨浪把倖存船隻推到一個岬角上。航海家認為只要繼續航行便可到達印度，但船隊資源缺乏，只得返航回國。請問：關於上述航海家的事蹟，下列何者正確？

繼續作答下張試卷

- (A)他返航時回到的國家是西班牙
(B)船隊被推到的岬角位於圖中的戊處
(C)船隊航行路線為圖中的乙路線
(D)支持此位航海家的國家其航海路線均是往西方走

19. 某位航海家深信只要向西航行就能找出另一條前往亞洲的航線，在到處游說了十幾年後，1492 年終於得到西班牙女王伊莎貝拉一世的資助而展開遠航。他從未承認當時到達了一個歐洲人所不知道的大陸，而以為是到了出發所訂下的目的地—東印度群島。他將這個大陸上的原住民叫做「印第安人（indios，西班牙語的印度人）」請問：關於上述航海家的事蹟，下列何者正確？

- (A)他所到達之地，後世以他的名字來為此大陸命名
(B)船隊航行的路線為圖中的丙路線
(C)他完成了繞行地球一周的壯舉，證實地球果然是圓的
(D)西班牙因而佔領中南美洲，展開血腥的殖民統治史

20. 關於圖中甲路線的敘述，下列何者正確？

- (A)船隊橫渡大西洋、繞過北美洲，往亞洲前進
(B)船隊是由葡萄牙所支持
(C)船隊的領導者在圖中庚地遇害，其船員繼續西行
(D)圖中的己地因船隊的領導者被而命名為「麥哲倫海峽」

21. 關於圖中丁路線的敘述，下列何者正確？

- (A)清聖祖在位時船隊開始遠航
(B)船隊共十次航行於西太平洋、印度洋一帶
(C)遠航的影響為奠定華僑在東南亞的基礎
(D)船隊最遠到達美洲東岸

【第 22 至 24 題為題組】

右圖是美洲古文明分布圖。根據右圖請回答下列問題：



22. 馬丘比丘（Machu Picchu）之意為「古老的山」，是國王帕查庫特克於 1440 年左右所建立的，直到 1532 年歐洲征服者出現時都有人居住。140 個建築物分布在海拔 2350-2440 公尺的山脊上，包括廟宇、避難所、公園、居住區等。此地可能是貴族的鄉間休憩場所，居住人數在 750

人以內。請問：關於此遺蹟的敘述，下列何者正確？

- (A)為英國人所消滅
(B)位置在右圖的甲處
(C)位於墨西哥的安地斯山脈上
(D)顯示印加帝國的建築技術十分高超

23. 古文明於 3 世紀達於鼎盛，他們創製的象形文字是當時美洲唯一成熟的書寫系統，常見於石碑和陶器。他們發展出了高度精密的曆法，後世據其曆法的推算甚至出現「2012 年為世界末日」的預言。數學領域的造詣也很高，先於歐洲人引入「零」的概念。如此先進的古文明卻因內戰及其他因素，於 13 世紀逐漸衰弱。請問：此古文明應位於右圖中的何處？

- (A)甲 (B)乙 (C)丙 (D)丁

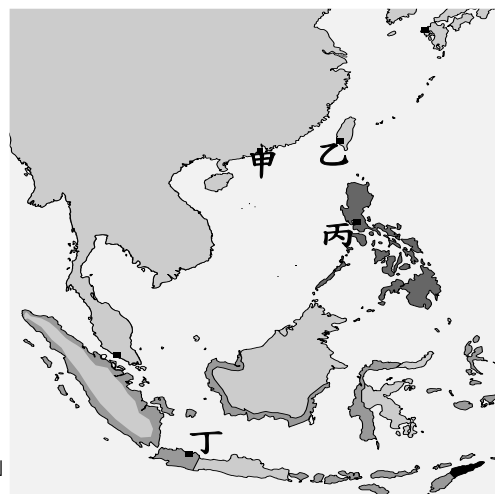
24. 1500 年 4 月 22 日，葡萄牙航海家佩德羅·卡布拉爾到達此處，之後的三百年裡，葡萄牙人陸續來此定居，一開始從事紅木的採伐，後來擴展到淘金、甘蔗種植，該地漸成為葡萄牙殖民地。請問：此地位於右圖中的何處？

- (A)甲 (B)乙 (C)丙 (D)丁

25. 大航海時代的開啟，對歐洲以外的國家和民族而言，其影響是複雜而矛盾的，除了物資交流外，帶給原住民的死亡和佔領，可說是一部血淚交織的大侵略史。請問：下列何者為地理大發現的影響？

- (A)歐洲殖民者將美洲人運到非洲販賣，黑奴貿易盛行
(B)唐朝時番薯、馬鈴薯等美洲作物傳入中國，抒解人口壓力
(C)歐洲人帶來天花等傳染病，導致美洲人口銳減
(D)殖民者傳入伊斯蘭教，衝擊美洲傳統信仰

26. 公司是 1602 年由政府特許成立的，目的在於向東方發展與殖民，全盛時期甚至壟斷了從麻六甲海峽到好望角的海上貿易。1619 年設立東方總部後，將英國與葡萄牙勢力趕走，獨占香料群島的香料貿易，1652 年也在好望角一帶建立殖民地。請問：上述公司的「東方總部」位於右圖中的何處？



- (A)甲 (B)乙 (C)丙 (D)丁

27. 老師在課堂上介紹著名古蹟（如右圖）：「這座建築建於 1632 年至 1653 年，見證了國王沙賈汗對皇后慕塔芝·瑪哈美麗動人的愛情。皇后在生第 14 個孩子時，不幸感染產褥熱而死，國王承諾為她建造一座全世界最美麗的陵墓，且終身不再娶。」家康若針對此古蹟查閱相關資料，請問下列何者為其結果？



- (A)興建時當地已由英國東印度公司所統治
(B)沙賈汗為蒙古帝國的君主
(C)建築風格融合波斯、伊斯蘭教色彩
(D)沙賈汗在位時帝國走向衰亡，而後淪為法國的殖民地

28. 在澳洲，每年的 1 月 26 日是澳大利亞日 (Australia Day)，也就是歐洲的國慶日。某艦隊於 1788 年 1 月 26 日抵達雪梨灣，當天被視為澳洲殖民地的誕生日。然而也有越來越多不同意見的出現，對澳洲原住民而言，1 月 26 日不是國慶，反而是苦難的開始。殖民者佔領土地、開發資源，澳洲原住民從土地的主人變成被奴役的對象，原有的政治社會組織隨之瓦解。請問：下列敘述何者正確？

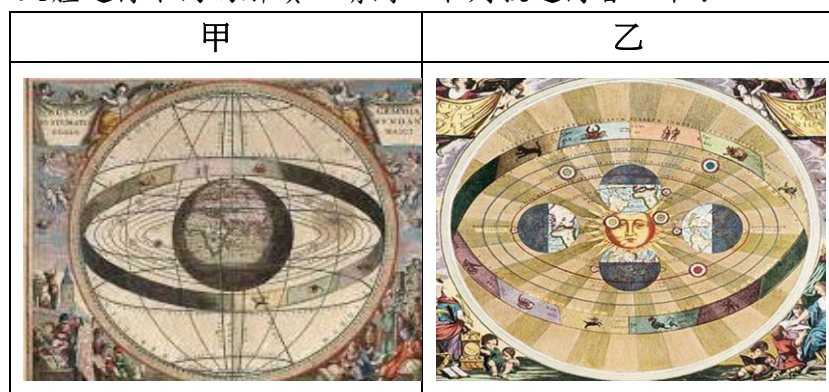
- (A)澳洲原住民因奴隸貿易的盛行而導致人口大量減少
(B)「澳大利亞日」象徵西班牙開始統治澳洲
(C)1788 年到達澳洲的艦隊主要是為了流放囚犯
(D)將 1 月 26 日訂為國慶日受到越來越多印第安人的反對

29. 老師以「瑪麗死了，路易死了，瑪麗、路易都是人，所以人都會死」為例，來說明科學革命時代的新研究方法。請問：關於提出此方法的學者，下列敘述何者正確？

- (A)主張觀察、實驗個別的事物，再得出普遍的原則
(B)強調「我思故我在」，質疑傳統看法的正確性
(C)認為先設立普遍原則，再用具體的事例加以驗證
(D)笛卡兒為此研究方法的倡導者

背面尚有試題

30. 無盡蒼穹中的日月星辰，向來吸引古今中外學者一探究竟。下圖呈現歐洲人對於宇宙的兩種觀點，顯示當時人們對於天體運行不同的解讀。請問：下列敘述何者正確？



- (A) 甲圖代表太陽中心說的理論
(B) 哥白尼提出乙圖的觀點，開啟「哥白尼革命」
(C) 中世紀教會認同乙圖的觀點
(D) 伽利略利用望遠鏡觀察天體運行，證實了甲圖的理論

31. 18 世紀法國「人權與公民權宣言」部分內容如下：

第一條：自由與平等是人與生俱來的權利，且始終不變，
第二條：一切政治結社的目的都在於維護人類不可剝奪的權利。這些權利是自由、財產安全與反抗壓迫。
第三條：一切主權均根源於人民。任何團體、個人都不得行使人民未直接授予的權力。
第十一條：自由傳達思想和意見是人類最寶貴貴的權利之一；因此，各個公民都有言論、著述和出版的自由，但在法律所規定的情況下，應對濫用此項自由負擔責任。

請問：下列敘述何者正確？

- (A) 第一、二條的內容是受到孟德斯鳩學說的影響
(B) 第三條的內容與盧梭的主張最相近
(C) 第十一條的內容與洛克的論點最符合
(D) 這份宣言的提出的歷史背景，和宗教改革的展開有關

32. 「個人只關心自己的安危，其致力於產業發展也不過是為了自利，然而他卻被一隻『看不見的手』所引導，進而促進社會整體的效率。因此，統治者若在經濟問題上企圖引導人民，去做出最佳的選擇，其結果不僅不好，而且也將造成政府權力的不當擴充。」上述為 18 世紀某學者的著作中提到的論點，請問下列敘述何者正確？

- (A) 「看不見的手」是指市場運作的機制
(B) 中共推行人民公社符合文中的論點
(C) 文中主張政府對經濟進行干預，以免供需失衡
(D) 此文內容應出自於「社會契約論」一書

33. 他想要全面總結科學、藝術和技術成果，希望透過這一本書整理並推廣知識，他邀請當時不少著名的思想家來參與書本的編寫工作。這部書主題明確，並勇於攻擊政治專制與宗教迷信，因而受到政府的阻撓，但他不畏強權，擔負主編的權責，親自撰寫 1000 多條的條目或文章。經過 20 多年（1745-1772 年）的努力，共 28 卷的巨作終於完成。請問：上文是描述何人的事蹟？

- (A) 亞當斯密 (B) 孟德斯鳩 (C) 狄德羅 (D) 伏爾泰

34. 北美洲稱為「盎格魯美洲」，而中、南美洲稱為「拉丁美洲」。這樣的劃分具有下列哪一層意義？

- (A) 原住民文化的類型 (B) 經濟結構的不同
(C) 殖民文化的差異 (D) 地形特徵的差異

35. 龍捲風是北美大平原著名的天氣災害，全球有超過八成的龍捲風發生在北美洲，尤其是美國境內明尼蘇達州、俄克拉荷馬州、德克薩斯州等，更有「龍捲風走廊」之稱。其發生的季節大多在下列哪個時段？

- (A) 春夏交替 (B) 夏秋交替 (C) 秋冬交替 (D) 冬春交替

36. 右圖為墨西哥國旗，中間國徽圖案是一隻叨著蛇的雄鷹立在仙人掌上。墨西哥高原北部為沙漠氣候，盛產仙人掌。請問：造成墨西哥北部為沙漠氣候的主因最可能為下列哪兩個？（甲）位居西風背風側（乙）深居內陸（丙）副熱帶高壓籠罩（丁）涼流影響



- (A) 甲乙 (B) 甲丁 (C) 乙丙 (D) 丙丁

37. 巴拿馬運河完成於西元 1914 年，全長約 82 公里，因為它縮短許多國家東西岸的海上運輸里程，可說是溝通兩大洋間的海上捷徑。請問：下列哪一個國家縮短的里程最多？

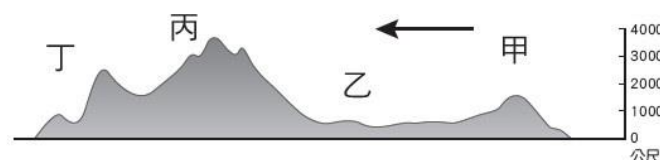
- (A) 巴西 (B) 美國 (C) 智利 (D) 俄羅斯

38. 右圖為北美洲簡圖，哪個代號區所在的位置因地形、氣候等條件，成為美國常常遭到颶風襲擊，造成嚴重的災情？



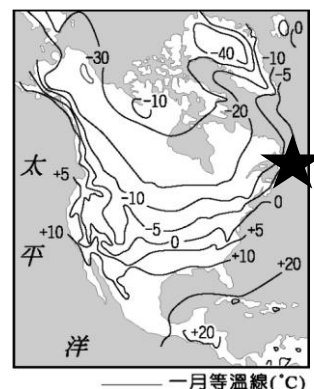
- (A) ① (B) ②
(C) ③ (D) ④

39. 下圖是北美洲的地形剖面簡圖，箭頭指向是西方，何處為古老地塊，形成年代久遠，蘊藏豐富礦產，但久經侵蝕，地勢低緩？



- (A) 甲 (B) 乙 (C) 丙 (D) 丁

40. 「誰先發現美洲！」維京人早在哥倫布航行的 500 年前就已經到達北美洲，地點是位於聖羅倫斯河口的紐芬蘭島北部（右圖星號處），但由於維京人多次和島上的原住民發生衝突，加上該地區比其家鄉挪威寒冷，維京人最終並沒有定居下來。請問：紐芬蘭島北部的緯度比挪威還要低，但氣溫卻明顯較低的主因為何？

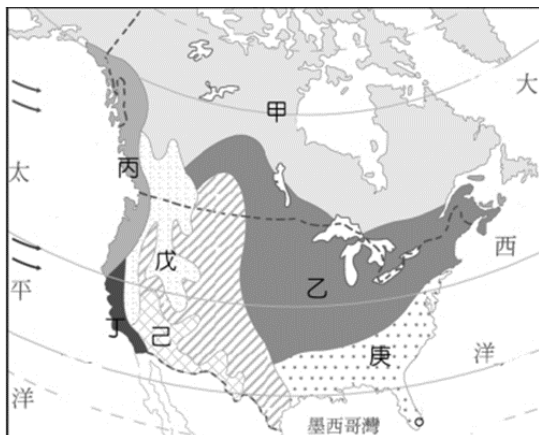


- (A) 地勢較為高聳 (B) 東北信風吹拂
(C) 沿海寒流經過 (D) 冬季高壓盤據

繼續作答下張試卷

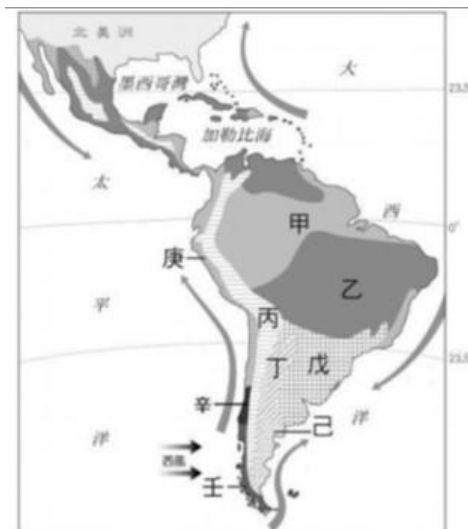
41. 右圖為北美洲氣候類型分布圖，關於各個氣候區的敘述何者正確？

- (A) 丙及丁的分界約在北緯 60 度，降雨皆靠西風攜帶水氣而來
(B) 乙區為海洋性氣候，東部沿海有暖流調節，溫和而濕潤
(C) 戊區為熱帶沙漠氣候，主要是因為副熱帶高氣壓影響
(D) 庚區為夏雨型暖溫帶氣候，受信風及暖流影響，夏秋常有颶風侵襲



42. 右圖為中南美洲氣候及洋流分布圖，請問圖中何區的氣候特徵與美國著名的「賭城」拉斯維加斯為同樣的氣候類型？

- (A) 甲
(B) 乙
(C) 庚
(D) 己



43. 美國資源豐富、資金充足、技術先進，全球百大企業佔世界 1/3 以上，工業區蓬勃發展，下列關於各工業區的配對何者正確？

- (A) 甲—電影工業，乙—石化工業，丙—航空業，丁—資訊、半導體業
(B) 甲—航空業，乙—電影工業，丙—資訊、半導體業，丁—石化工業
(C) 甲—資訊、半導體業，乙—航空業，丙—石化工業，丁—電影工業
(D) 甲—航空業，乙—資訊、半導體業，丙—電影工業，丁—石化工業



44. 中南美洲國家的貧困和殖民地式的經濟型態有關，關於當地的農業型態描述，下列何者「錯誤」？

- (A) 需利用海運外銷，港口型都市發達
(B) 易受國際市場價格波動影響，經濟不穩定
(C) 國家經濟仰賴一、兩種農/礦物的出口
(D) 大量外銷糧食作物，導致國內缺糧

45. 美墨加協定(USMCA)，是加拿大、墨西哥和美國之間新的自由貿易協定，經過長時間談判後終於達成新共識，過去美國認為舊有的協定(NAFTA)讓國內製造業工作機會流失，主要是因為會員國之一的墨西哥主要具有何種優勢吸引美國企業前往投資設廠？

- (A) 高效率的生產 (B) 農礦原料豐富
(C) 工資低廉、關稅減免 (D) 充足的資金與技術

46. 川埔是個崇尚「美式文化」的年輕人，舉凡 MLB 職業棒球、漫威英雄的系列電影及嘻哈流行音樂，他都十分熱愛且結交了許多同好。請問：「美式文化」之所以推銷至世界各地與下列何者關係最密切？

- (A) 美中貿易戰的連鎖效應 (B) GDP 成長率居世界之冠
(C) 全球暖化所帶來的影響 (D) 網路及媒體的快速傳播

47. 地理老師買晚餐時發現店家布告欄上多了如附圖的台灣豬標示，原來從去年開始，政府開放美國豬進口了！美豬的特色為利用美國的玉米為養豬生產提供了充足和廉價的飼料。請問依據美國農業分布圖，美豬最可能來自於右圖中何地？

- (A) 甲 (B) 乙
(C) 丙 (D) 丁



48. 新聞報導：「生意盎然的亞馬孫雨林，堪稱是『地球之肺』。不過地球暖化嚴重，加上人類濫墾濫伐，讓亞馬孫雨林快要喘不過氣，這片雨林不但吸收二氧化碳的能力變差，反過來還排放了大量的溫室氣體……」上述報導中所描述的地區在右圖中何處？

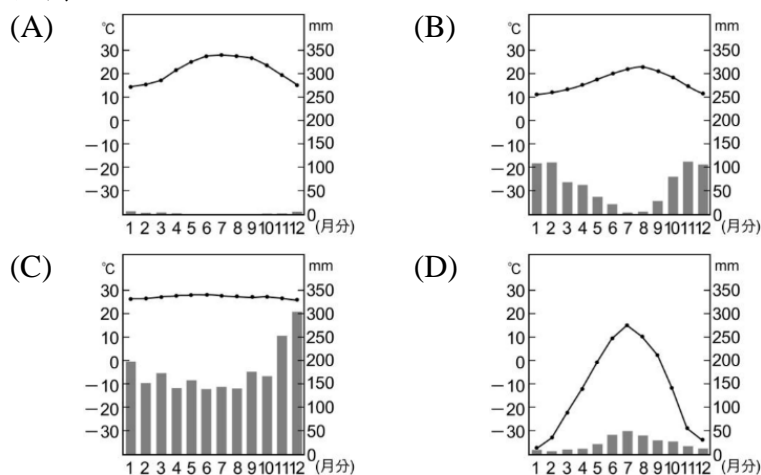
- (A) 甲 (B) 乙
(C) 丙 (D) 丁



49. 美國農業就業人口比例不到總人口的 2%，但生產量卻十分龐大，被稱為「工業化的農業」，其主要是指美國在農業經營方面，具有下列何種特徵？

- (A) 實施共同富裕、計畫經濟的農場
(B) 農業土地利用的面積狹小
(C) 機械化程度高
(D) 單位面積產量高

50. 美國加州的氣候得天獨厚，陽光充足，使得加州成為美國最大的葡萄酒產區，且葡萄酒種類繁多，幾乎所有歐洲的主要品種，此地均有種植。加州的氣候近似於下列哪張氣候圖？



試題結束

新北市立新莊國民中學 110 學年度第 1 學期第 3 次段考 9 年級社會領域試題
解答

1	2	3	4	5	6	7	8	9	10
B	B	D	D	D	A	B	B	A	A
11	12	13	14	15	16	17	18	19	20
D	D	D	C	B	A	B	B	D	D
21	22	23	24	25	26	27	28	29	30
C	D	B	D	C	D	C	C	A	B
31	32	33	34	35	36	37	38	39	40
B	A	C	C	A	D	B	D	A	C
41	42	43	44	45	46	47	48	49	50
D	D	D	D	C	D	B	B	C	B