

※ 選擇題：本試卷共 50 題，每題 2 分，總分為 100 分。  
每一題均為單選題，請選出最適當答案。  
※ 請用 2B 鉛筆在答案卡上相應的位置畫記。

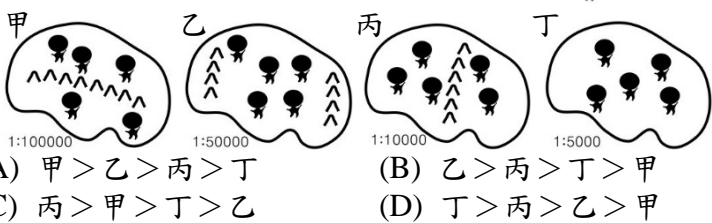
1. 中國的秦嶺與淮河為重要的地理界線，請問下列甲~己選項的分界線何者與秦嶺淮河是相符的？
- (A) 甲乙丙  
(B) 甲丙己  
(C) 乙丙戊  
(D) 丙丁己

甲、南麥北稻  
乙、南船北馬  
丙、一月均溫 0℃  
丁、年降水量 500 毫米  
戊、副熱帶與溫帶分界線  
己、乾燥氣候與季風氣候分界線

2. 下表為中國氣候特徵的整理，請問：哪個氣候特徵和形成原因的配對是「錯誤」的？

選項	氣候特徵	形成原因
(A)	青藏地區無論冬夏皆較同緯度低溫	地形
(B)	冬季南北溫差將近攝氏 50 度	緯度
(C)	降水時間高度集中夏季	季風
(D)	年降水量由東南向西北遞減	緯度

3. 環境負載力是指「一地供養生物所需資源及承受其廢棄物的能力」，請將下圖四個島嶼的環境負載力由高到低排列，順序為何？

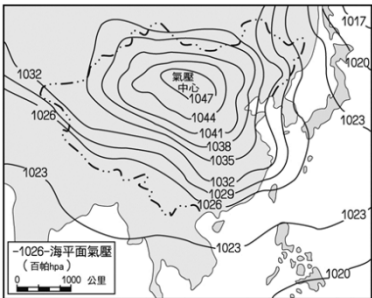


- (A) 甲 > 乙 > 丙 > 丁  
(B) 乙 > 丙 > 丁 > 甲  
(C) 丙 > 甲 > 丁 > 乙  
(D) 丁 > 丙 > 乙 > 甲

4. 中國正計畫在西藏墨脫縣建造大型水電站，將在世界海拔最高的雅魯藏布江建造水壩以利發電，據悉建成後該水電站的發電量將是三峽大壩的兩倍。請問下列有關此水壩的敘述何者錯誤？
- (A) 發電效能高與地勢高度落差大關係密切  
(B) 屬於印度洋外流區，夏季河水流量較多  
(C) 下游國家泰國、緬甸旱災機率可能大增  
(D) 是當地藏民的民生用水與農業灌溉水源

5. 右圖為亞洲某時的地面天氣圖，請問下列四選項何者有誤？

- (A) 中國此時主要盛行東北季風與西北季風  
(B) 適逢梅雨與颱風季來襲，是主要的降水季節  
(C) 因大規模海陸性質差異在此時形成了蒙古高壓  
(D) 臺灣北部、海南島東北部、日本西岸此時仍有降水



6. 2019 年 10 月 30 日的氣象預報顯示著「沙塵來了！台北 101 被消失，境外沙塵隨著□□風入境，今天凌晨開始台灣北部空氣品質陸續亮紅燈，預計午後逐漸影響中南部地區。位於迎風側的□□降雨機率因此提升，請當地居民外出記得準備雨具。」請問預報文章中的空格應填入何項資訊才是正確的？
- (A) 東南；台東 (B) 東北；宜蘭  
(C) 西北；桃園 (D) 西南；高雄

7. 承上題，此次台灣空氣品質的惡化，境外沙塵來源最可能來自於下列何處？
- (A) 蒙古高原 (B) 青藏高原  
(C) 四川盆地 (D) 塔里木盆地

8. 2019 年 10 月 7 日新聞提及「NBA 切割火箭總經理挺港推文，美議員砲轟無恥：香港反送中示威動盪加劇之際，火箭隊總經理摩瑞 4 日貼文寫上 FIGHT FOR FREEDOM (爭取自由)、STAND WITH HONG KONG(挺香港)等字眼，引發中國球迷與火箭商業夥伴的激烈反彈，NBA 聯盟表示，摩瑞的言論嚴重傷害中國球迷的感情。摩瑞後來迅速刪文，今天還上推特致歉並澄清他的言論不代表火箭隊和 NBA 的立場。」請問 NBA 聯盟與摩瑞在此事件選擇向中國致歉的最可能原因為何？
- (A) 中國人口素質低落，公德心不足  
(B) 中國族群多元複雜，言論多分歧  
(C) 中國的球迷眾多，消費潛力驚人  
(D) 北美區的中國移民強烈抗議示威

9. 雙 11 原本是中國大學生為脫離單身創造的「光棍節」，中國電商將這天行銷為網購節，採降價促銷方式鼓動雖沒對象也要對自己好的單身男女給

甲、重男輕女傳統觀念束縛  
乙、教育水平不高素質不佳  
丙、一胎化政策的嚴格執行  
丁、醫療費用高昂經濟負擔大  
戊、人口城鄉分隔政策的限制

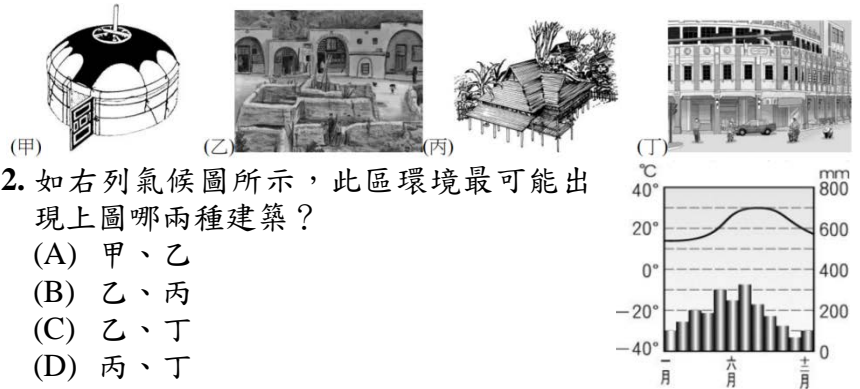
- 自己買禮物，藉此對應「情人節」傳統。近年中國單身人數漸增，預估恐超過四千萬人，農村多剩男將成為客觀事實。請問中國光棍問題的形成與上列哪些因素有關？
- (A) 甲、丙 (B) 甲、戊 (C) 乙、丁 (D) 丙、戊

10. 中國實施一胎化政策後，形成「四二一」家庭，也就是兩對祖父母、一對父母與一個孩子的家庭結構，這種結構將使社會發展失衡，應如何調整因應為佳？
- (A) 廣設各級學校，提升人口素質  
(B) 完善老人安養制度，老有所終  
(C) 提倡少生優生、男女平權觀念  
(D) 進行產業升級，鼓勵壯年創業

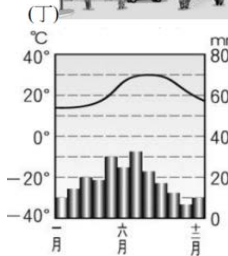
11. 右圖為中國政府為保存少數民族文化而設立的五個自治區，請問下列各自治區與主要民族特色的配對組合何者正確？
- (A) 甲區—滿族曾建立清朝，傳統服飾為旗袍，定期舉辦那達慕活動  
(B) 乙區—回族多居於沙漠綠洲，以駱駝為交通工具，多信仰伊斯蘭教  
(C) 丙區—壯族是少數民族中人數最多的一族，開採鹹水湖湖鹽維生  
(D) 丁區—藏族是政教合一的社會，以達賴喇嘛為最高精神領袖



題組一：下列為中國各地特色建築，請依圖中資訊回答第 12~13 題。



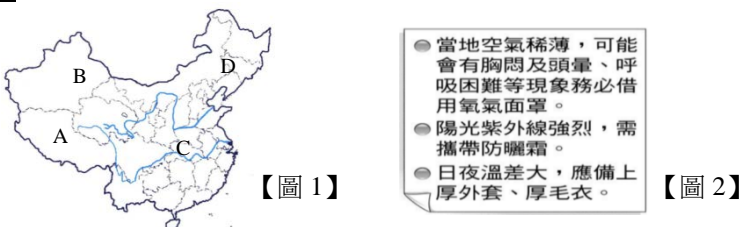
12. 如右列氣候圖所示，此區環境最可能出現上圖哪兩種建築？
- (A) 甲、乙  
(B) 乙、丙  
(C) 乙、丁  
(D) 丙、丁



13. 甲圖建築的環境最可能出現下列何種情境？
- (A) 畜牧業發達，牧民取用融雪、肉乳維生  
(B) 藏民穿著易穿脫的袍子以適應日夜溫差  
(C) 冬冷夏涼，生態群落呈現垂直分布變化  
(D) 因梅雨與颱風降水多，夏季常豪雨成災

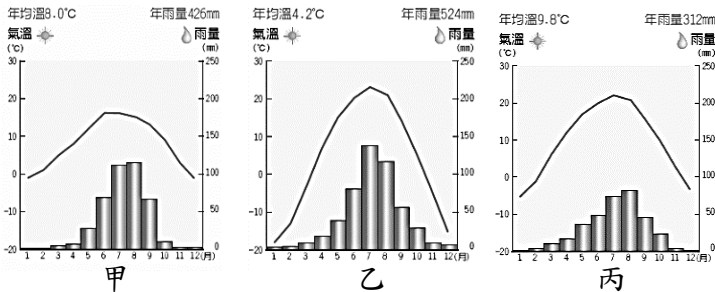


【題組二】：【圖 1】為中國兩大長河分布位置，請依圖中資訊回答第 14-15 題。



14. 小新一家準備在六、七月至中國旅遊，旅行社給了一張注意事項(如【圖 2】)，請問他最可能選擇到達【圖 1】中何處遊玩？  
(A) A 區 (B) B 區 (C) C 區 (D) D 區

15. 若小新一家想要搭乘羊皮筏沿黃河源頭順流而下至海洋，會經過多個氣候區，請依序排列出下列三張氣候圖的順序為何？



- (A) 甲→乙→丙 (B) 甲→丙→乙  
(C) 乙→甲→丙 (D) 丙→乙→甲
16. 課堂上地理老師介紹了中國順口溜提及「新疆人說他民族多，雲南人就笑了。」請問影響新疆與雲南兩個地方族群複雜多元的主要原因，依序為下列何者？  
(A) 氣候、位置 (B) 地形、經濟  
(C) 位置、地形 (D) 地形、氣候

17. 以下為三位行政首長的發言內容：  
甲縣長：「感謝縣議會的支持，本縣將爭取舉辦今年度國慶煙火活動。」  
乙市長：「因應颱風來襲，本市已達停班停課標準，明天停班停課一日。」  
丙縣長：「未來本縣是否要設置觀光賭場，將交由本縣縣民公投決定。」  
上述三位首長的發言，足以彰顯何項概念？  
(A) 中央集權 (B) 地方自治  
(C) 權力分立 (D) 權能區分

18. 柏融上公民課要做簡報，他上網找了三張圖片，請問：根據圖片，你認為哪一項主題最符合他的報告內容？  
(A) 公共造產 (B) 地方稅收 (C) 區域發展 (D) 中央補助

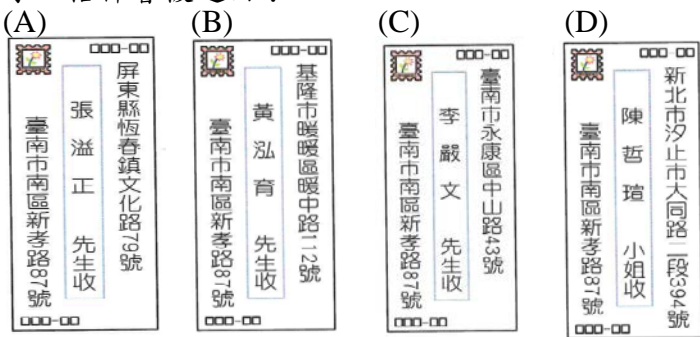


19. 我國地方制度法對於行政層級劃分及所轄的次級地方組織，都有詳細規定。下列關於「台中市東勢區」與「宜蘭縣三星鄉」的比較，何者敘述正確？  
(A) 兩者皆屬於縣級行政單位所轄的次級地方組織  
(B) 前者為市政府的派出機關，後者為地方自治團體  
(C) 前者首長為區長，後者首長為鄉長，均由選舉產生  
(D) 前者設區民代表，後者設鄉民代表，均為地方立法機關

20. 現行中華民國身分證統一編號的首碼為大寫英文字母，代表初次登記時的戶籍地。2010 年行政區合併改制後，部分縣的代碼因而停止發行。下圖是行政區合併前的地圖與部分縣的英文代碼，下列哪一英文代碼還有可能出現在 2019 年新生兒的身分證統一編號中？  
(A) J (B) L (C) R (D) S



21. 俊秀自 10 歲就出國念書，在國外待了 20 年後回國，他準備給他的四位好友寄信，請問：哪一封信的地址可能寫錯了，信件會被退回？



22. 政穎整理一個表格關於各項政府的收入類別配對，敘述正確的有幾項？  
(A) 1 項 (B) 2 項 (C) 3 項 (D) 4 項

項目	政府收入類別	事項
甲	財產收入	晨威在超商購買新北市專用垃圾袋
乙	規費收入	健富收到台灣電力公司寄發電費帳單
丙	租稅收入	寅倫在高速公路休息站買飲料收到一張發票
丁	公營事業盈餘收入	承飛承租社會住宅每月付租金 4000 元
戊	舉債收入	育賢購買政府公債進行投資理財

23. 附表為財政部公布 2018 年 1~9 月的部分賦稅收入，總稅收較去年同期增加 747 億元，創歷史同期新高。根據表中內容判斷，下列敘述何者正確？

	稅目	總稅收 (億元)	年增減金額 (億元)	年增幅 (%)
甲	綜合所得稅	4430	+168	3.9
乙	營業稅	3413	+267	8.5
丙	房屋稅	777	+17	2.3
丁	使用牌照稅	631	+7	1.1

- (A) 中央給地方的統籌分配款包括甲、丁稅收  
(B) 按課徵對象分類屬於財產稅的總稅收為 1408 億元  
(C) 屬於國稅亦屬於銷售稅的總稅收為 4190 億元  
(D) 乙、丙稅收增加對地方稅收有直接助益
24. 地方自治是指選出地方首長及民意代表來管理地方上的公共事務。下列選項(甲)(乙)(丙)(丁)(戊)為人民可以選舉的地方行政及立法機關人員，請判斷下列行政區人民與可選舉之項目配對完全正確？  
(甲)直轄市長、直轄市議員  
(乙)縣市長、縣市議員  
(丙)鄉鎮市長、鄉鎮市民代表  
(丁)村里長  
(戊)直轄市山地原住民區長、直轄市山地原住民區民代表  
(A) 桃園市復興區：甲、丙、丁  
(B) 台中市豐原區：甲、丁、戊  
(C) 屏東縣屏東市：乙、丙、丁  
(D) 嘉義市東區：乙、丙、丁

25. 以下是政軒一家人針對為民服務的政府在經濟作為上的相關聊天內容，下列四人說法何者正確？

- (A) 阿公：現行油品在油價中加徵空汙費，用來改善空氣品質，使其內部成本外部化  
(B) 大伯父：專家提出「徵富人稅、徵豪宅稅、調高最低薪資、青年房貸利息補貼」四項建議，就是希望可以維持經濟秩序  
(C) 姑姑：國家強化國防設備，讓每一位國民都受保障，此即政府所提供的公共財  
(D) 爸爸：政府制定著作權法，保障人民的智慧財產權，以達縮短貧富差距之目標

26. 右表為小李一家人在近三個月內的支出部分明細表，根據內容判斷，依據「受益原則」被政府所徵收的金額為多少錢？

支出項目	金額(元)
全民健保費	2100
個人綜合所得稅	30000
汽車牌照稅	7200
海鮮餐廳午餐費	3000
高速公路過路費	2400

(A) 9300 元 (B) 37200 元 (C) 9600 元 (D) 10200 元

27. 政府為達成國家目標及滿足人民需求，必須發揮適當的經濟職能，則下列哪一項的措施是政府在實現「保障私有財產」的職能？

(A) 政府制定《著作權法》保障音樂人的創作

(B) 行政院公平交易委員會制裁廠商聯合漲價之行為

(C) 政府提供各種中低收入戶生活津貼補助

(D) 興建運動公園，提供民眾運動休閒的地方

28. 地方政府有各種不同部門，其工作事項與人民生活息息相關，請針對下列事項與負責部門配對，選出何者正確？

(A) 辦理結婚登記-社會課

(B) 丟棄大型家具-衛生所

(C) 役男出境申請-兵役課

(D) 辦理房屋登記-戶政事務所

29. 關於我國「地方自治」相關敘述，下列敘述何者正確？

(A) 我國中央與地方分權方式採用「權力分立」原則

(B) 民國 86 年修憲之後將「省」予以虛級化，屬於地方自治團體

(C) 依據地方制度法規定，我國地方自治團體包括省、縣市、鄉鎮市

(D) 「省」虛級化之後，省長改為省主席，產生方式與教育部長相同

30. 每逢連續假期，為紓解交通及分散車流，高速公路收費站常會實施暫停收費措施，但此舉必會對國家財政收入造成部分衝擊。請問：上述政府收入的來源與下列何者屬於同一類？

(A) 申請戶籍謄本的手續費

(B) 台灣電力公司的營收

(C) 騎機車沒戴安全帽的交通罰單

(D) 出租國有社會住宅租金

31. 新聞報導：「彰化火車站後站機車停車場，長期讓民眾免費停放機車，天天停滿一、二千台以上的機車，在空間不足下，違停亂象日益嚴重，連出入通道都被佔用，民眾怨言四起，有人建議啟動使用者付費機制，才能遏止亂停和長期佔用的行為。」根據上述內容判斷，下列何者正確？

(A) 文中啟動付費制度將使地方稅收增加

(B) 立法院可以監督上述付費制的政策產生

(C) 彰化火車站位於彰化市其地方自治層級與嘉義市相同

(D) 若新政策的通過正式實施有助於降低外部成本發生

題組三：2018 年世界花卉博覽會於 2018 年 11 月 3 日至 2019 年 4 月 24 日在臺中市舉辦，外埔區是三大展示主場之一，配合農業局宣導，由當地馬鳴國小學童、外埔區農會一起種下秧苗，利用綠、黃、紅及白色不同顏色的水稻，排繪出「2018 台中世界花博」字樣、花博 LOGO 及吉祥物石虎家族中「虎爸」、「虎媽」的圖案，面積廣達 1.3 公頃，隨著秧苗長成，彩繪稻浪迎風飄逸，創造不少話題，吸引許多人潮，請根據上文回答第 32~33 題。

32. 根據內容判斷，外埔區農會打造彩繪稻田，創造不少話題，吸引許多人潮，較接近哪些地方政府的職權？

(A) 安全衛生、社會服務 (B) 經濟建設、教育文化

(C) 安全衛生、教育文化 (D) 社會服務、經濟建設

33. 關於臺中市舉辦世界花卉博覽會，下列敘述何者正確？

(A) 臺中市政府可調高所得稅率來籌措財源

(B) 外埔區民代表會負責執行上級政府委辦事項

(C) 臺中市議會負責監督花博執行狀況

(D) 花博預算應由臺中市政府負責審議

題組四：認識三國時期，請參考下圖回答第 34~35 題。

34. 赤壁之戰，是歷史上著名以少勝多，以弱勝強的戰役，不僅是軍事家研究之話題，更是文人墨客喜愛吟詠的詩史。李白借《赤壁歌送別》，把歌詠赤壁和送友藝術結合，慷慨雄壯，也蘊含其濟世救民的情感。蘇軾借《念奴嬌·赤壁懷古》表達自己懷才不遇、功業未成的憂憤之情，但也因此對自己人生展現豁達之心。請問，如果你想到赤壁思懷古之幽情，應該要到上圖中哪一個地點？

(A) A (B) B (C) C (D) D

35. 關於三國時期的歷史發展敘述，請問下列哪一項正確？

(A) 圖中甲國賢相是鞠躬盡瘁的周瑜

(B) 三國滅亡順序是：甲→乙→丙

(C) 圖中乙國的建國者是曹操

(D) 圖中丙國被大臣司馬遷篡位

36. 下面整理表格是將中國從分裂局勢走向一統天下的皇帝比較。請問哪一個選項整理錯誤？

(A) 甲 (B) 乙 (C) 丙 (D) 丁

	統一者	國號	定都
春秋戰國	秦始皇嬴政	秦	(甲)咸陽
三國時期	(丁)晉武帝司馬睿	(丙)西晉	洛陽
南北朝時期	隋文帝楊堅	隋	(乙)長安

37. 「這裡」被稱為六朝古都，依山傍水，龍蟠虎踞，山川秀美，自古是長江下游地區的政治、經濟與文化中心，也有豐富的自然景觀與歷史遺跡，三國時期諸葛亮曾經稱「此地」為真帝王之宅。請問，「這裡」、「此地」是指現今哪一個城市？

(A) 南京 (B) 成都 (C) 北京 (D) 杭州

38. 南朝宋劉義慶召集門下共同編撰《世說新語》中，內容有記述當時政治混亂狀況與士人放蕩不羈的行為，如：「我以天地為棟宇，屋室為禪衣。諸君何為入我禪中？」的劉伶，就是此一時期的代表人物；他們藉此解放個性、忽視禮教，以消極的態度來表達對當時朝廷的不滿，但是他們興起的清談風氣主要談論哪一家學問？

(A) 經學 (B) 儒學 (C) 玄學 (D) 史學

39. 魏晉南北朝時期，北方各族與漢民族接觸頻繁，尤其以五胡受到漢文化影響最深。如，北魏孝文帝親政後積極推動漢化，為了減少保守派貴族的阻力先從平城遷都到洛陽，接著一連串的漢化措施，使得胡漢之間隔閡逐漸消除，更加速胡漢文化的相互影響。請問，北魏孝文帝是五胡中哪一族人？

(A) 羯 (B) 鮮卑 (C) 匈奴 (D) 羌

40. (甲) 張陵創立五斗米道 (乙) 佛教傳入中國

(丙) 大秦景教流行中國碑 (丁) 中國第一座佛寺-白馬寺

(戊) 北魏太武帝奉道教為國教

請將以上中國宗教歷史按照時間先後順序排列。

(A) 甲乙丙丁戊 (B) 甲丙戊乙丁

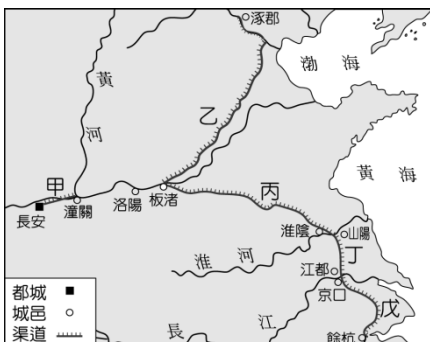
(C) 乙丁甲戊丙 (D) 丙戊乙丁甲



41. ①中國歷史上曾出現「上品無寒門，下品無世族」的現象。  
 ②掌控政治權力的世族，還享有減免賦稅、免除勞役的特權。  
 ③負責選拔人才的中正官偏袒名門望族。  
 ④凡事講求門當戶對，連皇帝都不敢多干涉。  
 請問，上述現象與下列哪一個制度的施行有關？  
 (A) 察舉制度 (B) 科舉制度  
 (C) 禪讓制度 (D) 九品官人法

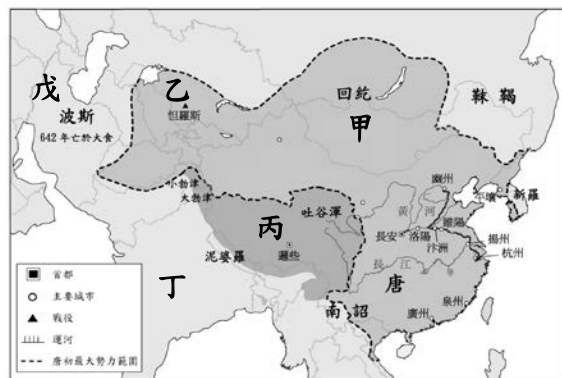
**題組五：認識隋唐時代運河，請參考下圖回答第 42~43 題。**

42. 自唐初隋書記載，隋煬帝就背負著奢侈、殘酷的暴君形象。因為他是中國歷史上暴君的代表之一，連死後的諡號都被封為「逆天虐民、好內怠政」的「煬」字。他在位時，除了屢次南巡江都，役使民力建造龍舟，來滿足個人貪圖享樂的慾望外，還曾三次征伐高麗，更是好大喜功、窮兵黷武的行為，故三次遠征高麗皆以失敗收場，造成國家元氣大傷。請問：根據上圖的運河圖來判斷，隋煬帝為了征伐高麗，開鑿了哪一條運河？  
 (A) 甲 (B) 乙 (C) 丙 (D) 戊
43. 唐玄宗天寶 14 年發生的安史之亂，歷時 8 年，整個黃河流域皆在安祿山、史思明的為亂範圍內。郭子儀等人平定亂事後，唐朝還能維持 100 多年的時間，主要是因為江南一帶富庶區域沒有被破壞。請問，唐朝在安史之亂後，若想將江南的糧食物資運送到首都，依序要經過哪幾條運河？  
 (A) 丁丙乙甲 (B) 戊丁丙乙  
 (C) 甲丙丁戊 (D) 戊丁丙甲



**題組六：認識唐代疆域，請參考下圖回答第 47~49 題。**

48. 唐玄宗天寶 10 年，為了西域藩國唐將高仙芝領兵引發怛羅斯之役，但是唐軍戰敗，許多士兵被俘，這些被俘的士兵中有些是懂得造紙的工匠，讓中國的造紙術西傳。請問，當時與唐朝交戰於怛羅斯的是圖中哪一個國家？  
 (A) 甲 (B) 丙 (C) 丁 (D) 戊
49. 唐初，松贊干布統一吐蕃，屢次向唐朝求婚，唐太宗時以女文成公主下嫁和親；文成公主是虔誠的佛教徒，當時攜帶了中國書籍、穀物等至吐蕃，促進漢藏之間的文化交流，也有助於佛教在當地的發展。請問，吐蕃位於圖中的哪一區？  
 (A) 甲 (B) 丙 (C) 丁 (D) 戊
50. 佛教的發展在唐朝時達於鼎盛，這得力於玄奘的貢獻。貞觀3 年玄奘從長安出發西行求法，沿著今新疆、中亞一帶前往求取佛經。回國後致力於翻譯佛經，由於他有系統的翻譯佛經，促進佛教中國化。也將自己途中所見所聞口述成《大唐西域記》，是研究西元 7 世紀時中亞、南亞各國歷史的重要文獻。請問，當初玄奘是前往圖中的哪一個國家去求取佛法？  
 (A) 甲 (B) 丙 (C) 丁 (D) 戊



44. 隋、唐兩代均有明君，所以國家富裕，人民安康。請問（甲）開皇之治（乙）開元之治（丙）貞觀之治三盛世，按照時間先後順序排列，下列哪一個選項正確？  
 (A) 甲丙乙 (B) 丙乙甲 (C) 甲乙丙 (D) 乙丙甲
45. 下列關於唐朝文化成就的相關敘述，何者正確？  
 (A) 顏筋柳骨（顏柳）：中國楷書重要代表  
 (B) 擅長山水、人物畫，被譽為「畫聖」-杜甫  
 (C) 詩聖李白才華洋溢，詩多浪漫，極富想像力  
 (D) 吳道子創作唐三彩，各個栩栩如生，可以讓後人了解當時唐人生活風貌
46. 唐朝強盛的國勢與經濟發展有密切關連。根據《新唐書·地理志》記載，當時唐代商船已經可以通往印度洋，直達波斯灣，促進唐朝與東南亞各國的貿易往來。關於當時唐朝社會經濟狀況，請問下列哪一項**錯誤**？  
 (A) 首都城內畫分整齊明顯，坊市區隔，都有固定的開放與關閉時間  
 (B) 阿拉伯商人介紹伊斯蘭教至中國，由於當時大多是西域的回紇人信仰而稱回教  
 (C) 因為商業繁榮，為了方便貨幣的攜帶與使用，發明了飛錢，讓商人可以輕鬆帶著紙鈔到處交易買賣  
 (D) 唐末因為黃巢之亂，江南經濟受到嚴重破壞，使得唐朝國力衰竭，加速其滅亡

47. 附圖為韓服與韓國文字。韓服的歷史主要與中國唐朝的絲製長袍傳到朝鮮半島有關。當時○○與唐朝交往甚密，服飾與唐朝幾乎沒有差別。請問當時如此慕唐風，傾全力學習唐代文物禮樂制度，而被稱為君子國的是下列哪一個國家？  
 (A) 新羅 (B) 百濟 (C) 高麗 (D) 日本



新北市立新莊國民中學 108 學年度第 1 學期第 2 次段考 8 年級社會領域試題  
解答

1	2	3	4	5	6	7	8	9	10
<b>C</b>	<b>D</b>	<b>D</b>	<b>C</b>	<b>B</b>	<b>B</b>	<b>A</b>	<b>C</b>	<b>A</b>	<b>B</b>
11	12	13	14	15	16	17	18	19	20
<b>D</b>	<b>D</b>	<b>A</b>	<b>A</b>	<b>B</b>	<b>C</b>	<b>B</b>	<b>A</b>	<b>B</b>	<b>A</b>
21	22	23	24	25	26	27	28	29	30
<b>D</b>	<b>B</b>	<b>B</b>	<b>C</b>	<b>C</b>	<b>C</b>	<b>A</b>	<b>C</b>	<b>D</b>	<b>A</b>
31	32	33	34	35	36	37	38	39	40
<b>D</b>	<b>B</b>	<b>C</b>	<b>C</b>	<b>B</b>	<b>D</b>	<b>A</b>	<b>C</b>	<b>B</b>	<b>C</b>
41	42	43	44	45	46	47	48	49	50
<b>D</b>	<b>B</b>	<b>D</b>	<b>A</b>	<b>A</b>	<b>C</b>	<b>A</b>	<b>D</b>	<b>B</b>	<b>C</b>