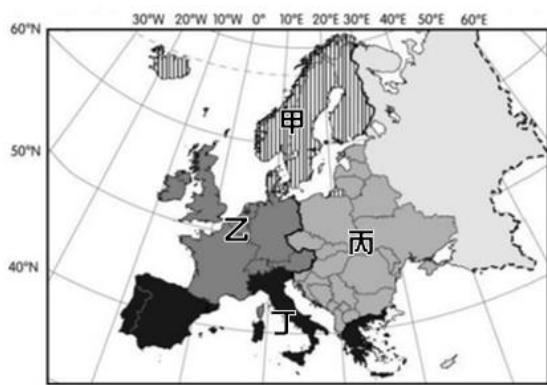


※ 選擇題：本試卷共 50 題，每題 2 分，總分為 100 分。  
每一題均為單選題，請選出最適當答案。

※ 請用 2B 鉛筆在答案卡上相應的位置畫記。

【第 1 至 7 題為題組】下圖為歐洲分區圖，請依圖回答問題：

1. 漫長的冬季，甚至有幾日終日見不到陽光，使得當地人「十月底開始陷入「冬季憂鬱」，容易患上「憂鬱」程度的季節性情緒失調症狀。為了減少這種憂鬱情緒，當地已有健康中心開設人工「陽光屋」模擬白日情景，並在生活中儘可能製造光亮，以抵抗冬季所帶來的憂鬱。據上文描述，請問此狀況最可能發生在歐洲何區？



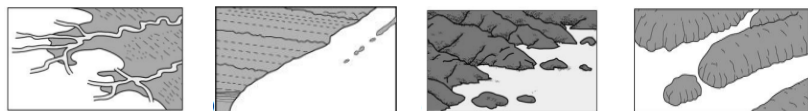
(A) 甲區 (B) 乙區 (C) 丙區 (D) 丁區

2. 地中海飲食是很受現代營養學推薦的一種飲食模式，強調食用大量蔬菜水果為每天的點心、橄欖油為主要脂肪來源及乳製品，適量魚、蛋及家禽類，少量紅肉及紅酒為主要特色，少煎煮、油炸，多涼拌的料理方式，日益受到人們青睞。請問此種飲食方式起源於歐洲何處？

(A) 甲區 (B) 乙區 (C) 丙區 (D) 丁區

3. 承上題，在此區飲食文化海鮮亦不少，自古以來即是漁業發達的地方，請問當地因海平面上升淹沒谷地而形成的曲折海岸，應是下列何種型態呢？

(A) (B) (C) (D)

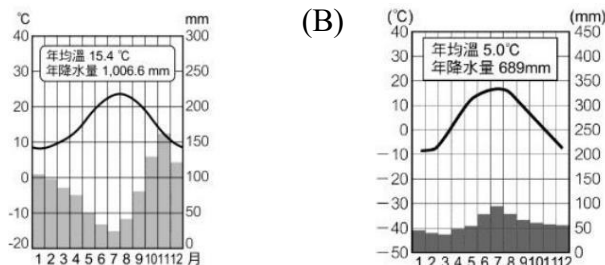


4. 先進發達的歐洲，乃世界經濟發展的火車頭，亦是工業革命的起源，同時具備豐富自然資源、先進技術以及方便的海陸交通，甚至創建出舉世聞名的英法海底隧道穿越海洋，整體上工商業發達為世人所稱羨。請問上文描述的應是何區特色？

(A) 甲區 (B) 乙區 (C) 丙區 (D) 丁區

5. 承上題，此區氣候受西風與北大西洋暖流影響，明顯較同緯度來的暖濕，請問下列四圖何者符合該區的氣候類型？

(A) (B) (C) (D)



(C) (D)

6. 中國政府正逐步擴張自身影響力至歐洲，部分歐洲國家因對共產主義有更深入的理解，因為它們曾經經歷過那種制度，因此最近慢慢改變對中政策，轉而與價值觀相近的台灣進行積極交流，但也引發此區國家與中國之間的政經緊張態勢。請問上文指的應是歐洲哪區？

(A) 甲區 (B) 乙區 (C) 丙區 (D) 丁區

7. 承上題，此區產業資源與台灣產業恰好具有互補性，吸引台商前往評估投資計劃，經濟合作機率提升，請問下列敘述何者「有誤」？

(A) 此區大量的廉價勞力可降低台商的勞工成本  
(B) 台灣的科技實力與研發技術可促進此區產業與產值的提升  
(C) 台商可在本區的歐盟成員國進行生產，產品可減免歐洲市場的入境關稅  
(D) 此區溫暖濕潤的氣候與豐富的希臘羅馬遺跡，有利台灣觀光業者拓展市場

8. 歐洲三面環海，如巨型半島深入海洋，海岸綿長且曲折，具有「海中有海，灣中有灣」的特色。請問下列哪種地理現象與此項特色有密切關係？

(A) 地形平坦交通佳 (B) 區域經濟易整合  
(C) 氣候濕潤無沙漠 (D) 族群宗教極複雜

9. 右圖為阿爾卑斯山區的聚落與鐵公路交通系統，多建立於山區裡低平的谷地中，如右圖所示，請問此種地形的作用力，與下列何者地理現象的成因是一樣的？



(A) 芬蘭境內湖泊眾多，而有千湖國之封號  
(B) 歐洲大平原由西歐延伸至東歐、歐俄地區  
(C) 義大利龐貝城在瞬間被大量塵土就地掩埋塵封  
(D) 俄羅斯東部西伯利亞山地，地勢陡峻、地震頻傳

10. 歐洲一直以來以壯麗美景與豐富文化吸引世界各地旅人造訪，依據下表歐洲部分國家的資訊以及台灣旅行社規劃的三條旅遊行程：【法、德、比七日遊】、【瑞、丹、波七日遊】、【挪、英、愛七日遊】，請「依序排列」出花費最多簽證費的行程，以及需多次匯兌貨幣、損失最多匯差的行程分別為何？

國家	歐盟國	歐元區	申根區
法國	O	O	O
德國	O	O	O
比利時	O	O	O
瑞士	X	X	O
丹麥	O	X	O
波蘭	O	X	O
挪威	X	X	O
英國	X	X	X
愛爾蘭	O	O	X

(A) 【法、德、比七日遊】、【瑞、丹、波七日遊】  
(B) 【瑞、丹、波七日遊】、【挪、英、愛七日遊】  
(C) 【挪、英、愛七日遊】、【法、德、比七日遊】  
(D) 【挪、英、愛七日遊】、【瑞、丹、波七日遊】

11. 歐盟視為共同市場，彼此減免關稅、工業產品規格統一，更為了內部整合，創造出共同貨幣、開放國界，讓人民自由移動、商品自由流通，好處多多，為何英國卻決定退出歐盟組織呢？

(A) 連鎖效應強，受制於歐盟政策，自主性降低  
(B) 地緣上孤立海中，屬於邊陲地帶，無法受益  
(C) 依然使用英鎊為主要貨幣，匯差損失龐大  
(D) 北海石油能源開發利益，不願與歐盟共享

12. 「依數據顯示，2020 年歐盟約有一半的天然氣供應來自俄羅斯。目前北溪二號天然氣管道已完工，如右圖所示，輸氣管線由俄羅斯經由波羅的海直達德國北部，一旦啟用，俄羅斯便可繞過烏克蘭，直接向歐洲輸送天然氣。多年來，美國不斷警告，一旦啟用輸氣，將會危及歐洲的能源安全。俄羅斯恐利用能源供應，做為牽制歐洲的槓桿。」依據上文所述，請問下列敘述何者與文章「不符」？



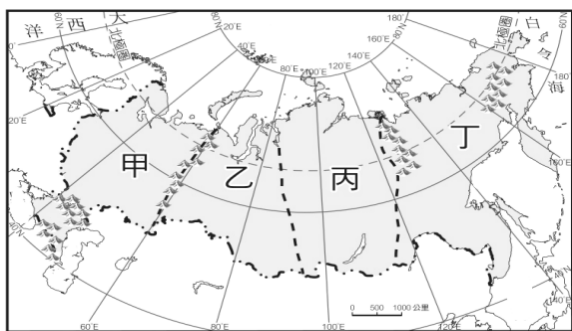
(A) 烏克蘭可能因北溪二號啟用，導致財政收入減少  
(B) 北溪二號可沿著北極航道，由俄羅斯輸送天然氣至西歐  
(C) 俄羅斯因國土遼闊、資源豐富，可仰賴能源輸出以賺取外匯  
(D) 歐盟國過度仰賴俄羅斯能源供應，不僅經濟，連政治亦可能受到影響



# 新北市立新莊國民中學 110 學年度第 1 學期第 2 次段考 9 年級社會領域試題卷

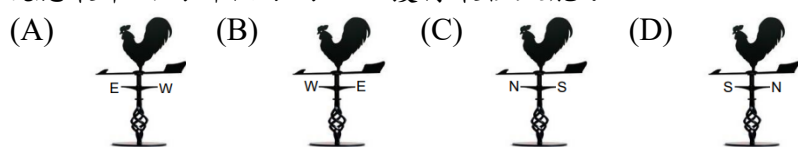
班級 座號 姓名

13. 右圖為俄羅斯各區分布圖，小艾一家人趁著一月春假搭乘世界路線最長的西伯利亞鐵路列車，沿途經過高聳的山林、溝谷遍布的高原的平原，最終抵達俄羅斯首都拜訪著名的聖巴希爾教堂。請問依據以上行程，下列何者敘述是正確的呢？

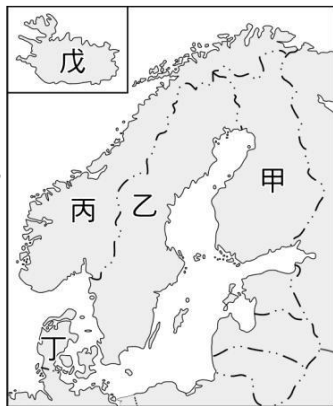


- (A) 行經路線應是甲→乙→丙→丁  
(B) 氣溫多降到零度以下，此時會是整年降水最多的時候  
(C) 聖巴希爾教堂為當地斯拉夫民族虔誠信奉的東正教信仰中心  
(D) 首都—奧斯陸，是俄羅斯主要的農業、工業、人口和交通精華區

14. 低地國荷蘭的著名景觀為隨處可見的風車，主要作為排水設施的動力來源。請問從行星風系的尺度來看，此風車系統應最常面向哪個方向，以獲得最佳效能？



15. 瑞典因家家有電腦的社福政策，給予每戶窮人家孩子一台電腦，使網路快速普及，且高保障的社福制度使得創業者即便遭遇失敗，仍有生存空間，可以在失業 300 天內領取 80% 薪資的補助金維生，形成了鼓勵創業的環境，今日瑞典首都斯德哥爾摩已成為網路服務新創事業大本營，生出如 Spotify 等線上服務平台，使瑞典新創獨角獸企業(預估市值高於十億美元)比例能達全球第二，僅次於美國矽谷。請問此國的位置位於圖片何處？



- (A) 甲 (B) 乙 (C) 丙 (D) 丁
16. 承上題，瑞典因創業風險較低，新創企業數量頗多，但是多數企業在發展成熟後，往往難以在瑞典存續，甚至選擇遷往他國發展。請問這些企業選擇外移，主要面臨的是何種困境？
- (A) 勞工薪資與權益過高，企業難以負擔  
(B) 冰河地形發達，地表崎嶇，交通不便  
(C) 鄰近北極圈且氣候嚴寒，不利客戶造訪  
(D) 需繳納高額稅率給政府，壓縮獲利空間

17. 老師指派公民是非題作業如下表，小禎如果要全部答對，正確答案依序應為？

市場經濟可以決定資源的效率分配，下列由市場經濟決定價格的項目畫 O，非者畫 X
(1) 地方政府預算
(2) 賣場的液晶電視
(3) 勞基法的最低薪資
(4) 全民健保費用
(5) 網路商城的口罩

- (A) OOXOX (B) XOOOX (C) XOXXO (D) XOXOO

18. 下表是我國攤商整理某一商品的價格、購買及生產數量的統計表。由表中內容判斷「？」最可能是下列何者？

價格 (元)	購買數量	生產數量
17	48	10
23	30	18
?	26	26
45	19	31
58	11	43

- (A) 34 元 (B) 20 元 (C) 48 元 (D) 60 元

19. 今年受疫情影響，有不少餐廳業績下滑，下表是某餐廳為了拯救業績所提出的因應方案。關於下表方案的敘述，何者正確？

項目	因應方案
甲	推出一天一項十元餐點
乙	延長營業時間至晚上 12 點
丙	空調溫度調高至 28 度
丁	尋找便宜租金的店面
戊	提供外送服務

- (A) 只有丙、戊方案會減少生產成本  
(B) 甲、丁方案可增加銷貨收入  
(C) 乙、丁方案會增加生產成本  
(D) 甲、戊方案可增加銷貨收入

20. 下表是好喝飲料店三項茶飲的分析表。若老闆設定每項茶飲的獲利金額都相同，則表中甲、乙應為？

品項	成本 (元/杯)	售價 (元/杯)	數量 (杯/日)
紅茶	8	20	150
綠茶	6	甲	200
奶茶	20	30	乙

- (A) 甲：18；乙：180 (B) 甲：15；乙：160  
(C) 甲：15；乙：180 (D) 甲：16；乙：190

21. 下表是好美味點心坊推出三種均一價的商品，每日各供應 50 份，其單日獲利為 3000 元：

品項	成本 (元/份)	售價 (元/份)	數量 (元/份)
布丁蛋糕	?	35	50
紅豆麵包	10	35	50
抹茶餅乾	20	35	50

- 下列相關敘述，何者正確？  
(A) 抹茶餅乾的利潤最高  
(B) 布丁蛋糕的成本為 15 元  
(C) 好美味點心坊單日銷貨收入為 1750 元  
(D) 提高紅豆麵包的成本可增加利潤

## 【第 22 至 23 題為題組】

報載：「Foodpanda 要求餐廳在 Foodpanda 平台刊登價格必須與「店內價」相同，縱使其他外送平台向餐廳收取的抽成較低，餐廳也不會降低在該外送平台上的售價，消費者將無法享受到其他外送平台低抽成反映在餐點價格的好處。公平會認為，Foodpanda 店內與外送價相同的要求，間接削弱其他外送平台與 Foodpanda 競爭的能力。違反「甲」規定，除命其停止該違法行為，並處 200 萬元「乙」。

22. 文中「甲」、「乙」分別應為？  
(A) 消費者保護法；罰鍰 (B) 公平交易法；罰鍰  
(C) 消費者保護法；罰金 (D) 社會秩序維護法；罰鍰
23. 產品可分為有形財貨和無形勞務，Foodpanda 所提供的產品與下列何種相同？  
(A) 腳底按摩 (B) 美式咖啡 (C) 蛋捲禮盒 (D) Switch 遊戲機

## 【第 24 至 26 題為題組】

根據經濟部的統計指出，疫情爆發後，台灣在今年 5 月中的電子購物及郵購業年增至少 27.1%，電商購物這樣的趨勢將會成為常態。為了讓線上購物流程更便捷，像 (甲) PChome 24h 購物 APP 也新增生活繳費功能，結合 Pi 拍錢包可快速完成電費、學費、甚至健保費等生活繳費，提供完善的生活應用服務。而許多品牌也開始進行令人意想不到的跨界結盟，如 (乙) 手機品牌三星，與師園鹽酥雞跨界聯名，師園推出創意「三星蔥摺疊雞」套餐，也在 Uber eats 上架。此外，品牌若利用自身資源提供正能量，更能在消費者心中加分，如 (丙) Line 看見疫情下貧童陷入更加艱難的困境，便攜手家扶基金會推出公益貼圖，將收入捐予助貧計畫，邀請消費者一起傳遞正能量。

24. 文中有關 (甲) 使用的行銷策略，下列敘述何者正確？  
(A) 採取價格競爭方式以增加銷售量  
(B) 推出新產品以滿足不同消費者的需求  
(C) 提供多元服務以增加消費者的忠誠度  
(D) 善用企業影響力投入社會服務工作
25. 文中有關 (乙) 的營運模式，下列敘述何者正確？  
(A) 屬於價格競爭的方式  
(B) 研發新產品以提供更多元服務  
(C) 透過企業合作以強化市場的競爭力  
(D) 可善盡企業社會責任

繼續作答下張試卷



26. 文中（丙）的做法是採取何種競爭方式？

- (A)重視服務的價格競爭
- (B)重視企業形象的非價格競爭
- (C)重視售價的價格競爭
- (D)重視生態的非價格競爭

【第 27 至 29 題為題組】

氣象專家預告，「今年冬天會很冷」，竟然引發暖暖包搶購潮！美式賣場好市多（COSTCO）就發生暖暖包缺貨狀況，業者指出暖暖包目前已賣光了，下一批也將採每卡限購 1 盒方式販售。美式賣場的貼式暖暖包，40 入售價 429 元，等於一片 10 元左右；網購平台價差可就大了，部分賣家，開出 40 入 589 元，等於一片 15 元。不少網友都懷疑，恐怕是代購業者大量購入，趁機哄抬價格。

27. 根據內容判斷，下列敘述何者正確？

- (A)好市多賣場與網購平台同為有形的交易市場
- (B)搶購暖暖包是受到所得的影響
- (C)暖暖包缺貨是供不應求的現象
- (D)搶購暖暖包是一種供給的變動

28. 有關文中畫線內容的敘述，何者正確？

- (A)由政府主導經濟制度
- (B)民眾應囤貨來抑制物價上漲
- (C)廠商用降低成本來提高利潤
- (D)交易市場由市場價格掌控

29. 若有業者趁機哄抬價格，政府機關可依哪一部法律進行立案調查？

- (A)消費者保護法 (B)公平交易法
- (C)民法 (D)社會秩序維護法

【第 30 至 31 題為題組】

報載：「在台灣走路平均 5 分鐘就有一家便利商店，取得咖啡方便，如果這家超商結帳客人太多，你可以找下一個路口的便利商店，完全「不受地點控制」。雙 11 將至，超商率先祭出優惠搶客，全家推出中杯單品美式買 6 送 6，7-ELEVEN 則祭出大杯美式買 1 送 1，搶攻咖啡消費市場。」

30. 由文中可知台灣便利商店的市場型態呈現何種情形？

- (A)廠商多，市場競爭程度高
- (B)對手少，市場競爭程度低
- (C)成本低，市場競爭程度低
- (D)利潤高，市場競爭程度低

31. 文中畫線內容所採取的競爭方式與下列何者相同？

- (A)餐廳推出壽星用餐免費活動
- (B)網路購物享有運送到家服務
- (C)線上會員累積點數換贈品活動
- (D)線上訂貨，超商取貨

【第 32 至 33 題為題組】

麥當勞與韓國天團 BTS 聯名推出套餐「The BTS Meal」，陸續在 50 個國家售出，菜單包括飲料、薯條、10 塊麥克雞塊、特殊沾醬。台灣麥當勞開賣後同樣引發熱潮，限賣 20 天。除了主打紫色系包裝的餐點，還有限量聯名合作如連帽衫、紫色浴袍、襪子等周邊商品，都讓粉絲為之瘋狂。

32. 麥當勞與韓國天團 BTS 合作的策略，主要考量何項因素對消費行為的影響？

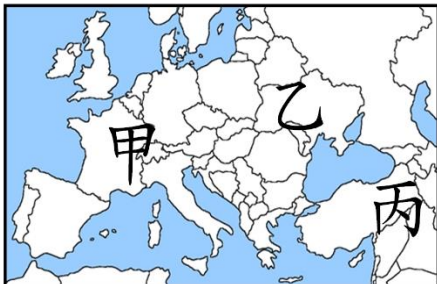
- (A)商品價格 (B)預期心理 (C)個人偏好 (D)薪資所得

33. 文中麥當勞的做法，其目的在於透過下列何者來提高利潤？

- (A)提高商品價格 (B)降低生產成本
- (C)提供多元服務項目 (D)增加銷貨收入

34. 右圖是 11 世紀中後期，世界三種宗教分布圖。請問，依照圖中甲、乙、丙位置，這三種宗教正確分布位置應該是下列哪一組？

- (A)甲：希臘正教、乙：羅馬公教、丙：伊斯蘭教



- (B)甲：羅馬公教、乙：東正教、丙：伊斯蘭教
- (C)甲：伊斯蘭教、乙：希臘正教、丙：羅馬公教
- (D)甲：羅馬公教、乙：伊斯蘭教、丙：東正教

35.

（法新社仰光 10 月 24 日電）聯合國緬甸人權情況特別調查員安德魯斯（Tom Andrews）22 日呈交年度緬甸人權報告，緬甸軍政府今天稱這份報告是「煽動暴力」，並指控聯合國，藉人權干涉緬甸內政。法新社報導，自今年 2 月軍方發動政變以來，這個位於東南亞的國家情勢動盪，據當地的人權監督團體指出，因軍方鎮壓異議分子估計超過 1100 人喪命。

（路透社報導）僧侶張開雙臂，擋在軍警前替人民求情，更有僧侶加入示威行列，被軍警毫不留情攻擊而受傷，雖然佛教協會由政府任命，但他們直接譴責軍方，等於跟軍政府畫清界線。緬甸是佛教國家，因此佛教團體的影響力是巨大的。

上述新聞報導關於緬甸軍事政變已經過數月，至今仍未解決；而緬甸佛教僧侶社會地位崇高，也被軍警攻擊受傷。請問，關於緬甸佛教是屬於哪一種佛教？

- (A)南傳佛教 (B)藏傳佛教 (C)北傳佛教 (D)漢傳佛教

36. 基督教根源於猶太教，第一代信徒大多是猶太人，所以，他們的信仰當然與猶太教傳統相連結，而耶穌的追隨者也是猶太教重要的改革力量。請問這兩種宗教的比較，下列何者錯誤？

	猶太教	基督教
(A)主張	猶太人是上帝的選民	平等博愛
(B)創立地點	巴勒斯坦	巴勒斯坦
(C)主要經典	《新約》	《聖經》
(D)一神信仰	是	是

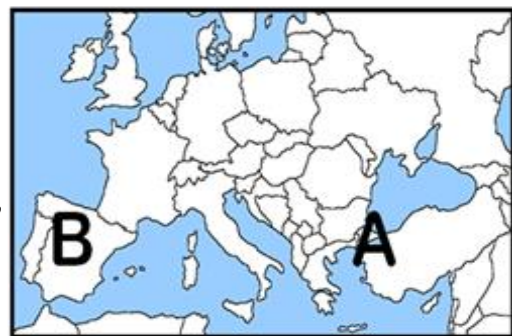
37. 11 世紀末時，教宗烏爾巴諾二世對著教徒說：「如大家所知，敵人已經入侵我們東方兄弟的國家，又侵占了我們的聖地。……讓我們投入一場神聖的戰爭，一場為主而重獲聖地的偉大東征吧！凡是動身前往的人，假如在途中，無論是路上或海上，或是在反異教徒的戰爭中失去生命，你們的罪過將在哪一瞬間獲得赦免。向著東方出發吧！不要猶豫，不要彷徨，為榮耀我主，去吧！主會保佑你們戰無不勝！」請問，有關以上教宗的發言，下列敘述何者正確？

- (A)被侵占的聖地為「麥加」
- (B)教宗代表「希臘正教」領袖
- (C)教宗此號召稱為「十字軍東征」
- (D)異教徒是指「鄂圖曼土耳其人」

【第 38 至 39 題為題組】請參照下圖回答問題：

38. 這兩年因為 COVID-19 疫情關係，全世界都無法正常到處旅遊，高寶也只能看著原本預計的旅遊行程表，和歐洲地圖上的「B」地點，期望可以自由來去各國度假的心願早日實現。請問關於「B」地點的敘述，下列哪一項正確？

- (A)這裡曾經被鄂圖曼帝國統治過
- (B)這裡的通用文字是使用希臘文
- (C)這裡是亞歷山大征服的最遠端
- (D)這裡曾經被伊斯蘭世界統治過



39. 地圖上的「A」地點，位於歐亞交接處，地理位置優越，是黑海通往地中海必經之地，更是兩大帝國首都，屹立了千年之久；該市最重要的景點，仍是其歷史城區，有部分已經被列為聯合國教科文組織世界遺產。請問地圖上的「A」地點是指現今哪一座城市？

- (A)伊斯坦堡 (B)大馬士革 (C)巴塞隆納 (D)耶路撒冷

40. 《古蘭經》有明確規定鼓勵、保護商業是所有穆斯林必備的義務和道德。因為地理位置、商人帶來巨大的商業收益，使得阿拉伯帝國出現了與當時東西文明不一樣的繁榮局面，更是成為東西貿易溝通的重要媒介。請問，當時哪一項文化不是經由阿拉伯人傳播至世界各地？

- (A)中國的造紙技術 (B)羅馬的十二銅表法
- (C)穆斯林的商業制度 (D)印度的數字符號



- 41.《諸蕃志》是由南宋泉州市司提舉趙汝適於寶慶元年（1225 年）著成。卷上《志國》提到「大食國」，即是阿拉伯帝國；此帝國的著名城市—「巴格達」，興盛繁榮，位於肥沃月灣中部地區，底格里斯河流經市區，是伊斯蘭文明的政治、宗教、經濟、商業、學術、交通中心，是神恩賜的禮物。請問，有一本關於此城市的著作，其書名是？  
 (A)《幾何原本》 (B)《古蘭經》  
 (C)《馬太福音》 (D)《天方夜譚》

- 42.「禪宗」為北傳（大乘）佛教流傳於東亞的一佛教宗派，由南天竺禪師菩提達摩（一作達磨）傳到中國，其要旨為：「教外別傳，不立文字；直指人心，見性成佛。」意思是禪宗不假文字，直指清淨本心。關於「禪宗」的敘述，請問下列哪一項錯誤？  
 (A)強調「頓悟」成佛  
 (B)最生活化，認為人人皆有佛性  
 (C)隨時要誦念「南無阿彌陀佛」  
 (D)與中國文化融合，成為中國本土宗派

- 43.【他】是義大利的一位博學、「通才」者，在藝術、科學、音樂、天文…等各領域都有研究，還發明設計許多機械、兵器等；現今醫學還有一種手術系統以【他】命名，醫師坐在螢幕前操作控制手術，不再直接接觸病患，可消除主刀醫師因生理產生不必要之顫抖，避免對病患產生影響。【他】也關注當時人性與社會現況，也是歷史上著名的畫家之一，與米開朗基羅、拉斐爾並稱為文藝復興藝術三傑。請問：【他】是誰？  
 (A)薄伽丘 (B)達文西 (C)佩脫拉克 (D)莎士比亞

- 44.中世紀羅馬教宗為建造伯多祿大殿而需要信眾捐獻金錢，那教宗將會為他頒賜全大赦，這就是「贖罪券」的開始。當時有一句俗語說：「銀幣叮噠落進箱底，靈魂雀躍跳出煉獄」。這種扭曲了宗教本意的斂財行為，在西歐地區引起統治當局的憤怒，更是引發基督宗教歷史上的第二次改革。請問，關於第二次宗教改革敘述，下列哪一項有誤？  
 (A)英王亨利八世因為婚姻問題而自創英國國教  
 (B)揭開宗教改革序幕是指在日耳曼的路德教派  
 (C)羅馬公教也開始改革，其中以長老教會最認真  
 (D)西班牙人羅耀拉創立耶穌會，積極向海外傳教

- 45.聖科羅納位於奧地利（如右圖）。這個默默無聞的小鎮因為新冠疫情而意外成為熱門旅遊打卡地點。小鎮的名字（St. Corona）與新冠病毒名字（novel coronavirus）的英文拼寫中都有“corona”（王冠），最初這只是當地人的一句玩笑，隨著疫情不斷蔓延，小鎮的名字也越來越受關注。在 14 世紀時，歐洲也曾發生三分之一以上人口死亡的黑死病！當時只要染病者就會被遺棄，親友也不敢出席喪禮，如同現在的我們，也是遇到同樣的狀況，只能依賴、希望科學技術早一日解除大家的困境，恢復如常生活。有一部作者如實描述親身經歷當時黑死病景況的書籍，請問作者和書名是下列哪一組？  
 (A)薄伽丘—《十日談》  
 (B)佩脫拉克—《十四行詩》  
 (C)但丁—《神曲》  
 (D)莎士比亞—《哈姆雷特》



- 46.利瑪竇（如右圖）1583 年（明神宗萬曆十一年）來到中國居住。在明朝頗受士大夫的敬重，被尊稱為「泰西儒士」。他是改革後天主教在華傳教的開拓者之一，也是第一位閱讀中國文學並對中國典籍進行鑽研的西方學者。關於他所屬教會耶穌會（IHS）的敘述，下列哪一項正確？  
 (A)提出預選說，信徒是否得救，上帝早已決定  
 (B)要認真工作賺錢，努力現世成就來榮耀上帝  
 (C)寫出《九十五條論綱》，宣誓加入宗教改革  
 (D)要求教士們嚴格自律，如：安貧、守貞、服從



47. 教務處通知：本校將於 12 月藝文週舉辦 9 年級英語話劇表演，因應劇本需求與各科課程相連結，各班場景布置以 14~16 世紀的歐洲社會生活為主。請各班同學提前安排時間演練，也敬請語文、社會、藝文領域老師們協助，感謝大家。  
 請問，依照教務處通知，下列哪一項相關作品不適合展示？  
 (A)拉斐爾—「椅上聖母」(B)荷馬—「伊里亞德」  
 (C)達文西—「蒙娜麗莎」(D)米開朗基羅—「亞當的誕生」

- 48.17 世紀，歐洲地區因為無法尊重彼此信仰，爆發嚴重的宗教戰爭—「三十年戰爭」；這也是在經歷宗教改革後，歐洲因為戰爭，死亡人數最多的時期。戰爭結束後，各國終於開始制定宗教寬容相關法律，確定之後人民有宗教信仰自由。請問，「三十年戰爭」是因為哪兩種不同信仰而引發？  
 (A)天主教；基督教 (B)羅馬公教；東正教  
 (C)天主教；伊斯蘭教 (D)東正教；伊斯蘭教

49. 臺北清真寺歷史沿革  
 臺北清真寺於民國 49 年 1 月完工於新生南路二段，並於民國 49 年 4 月 13 日舉行落成典禮。延續了麗水街清真寺發展臺灣回教的重要使命，也因為身負特殊國際交流任務，世界各回教國家國王、總統及各界領袖歷次來華訪問，均將蒞臨清真寺為重要行程，本寺成為當時遠東地區最宏偉的伊斯蘭教清真寺。

- 高寶為了更了解伊斯蘭教，到臺北市新生南路參觀清真寺，請問高寶不可能看到什麼景象？  
 (A)教長正念誦著：「萬物非主，唯有真主。穆罕默德，主之使者。」  
 (B)穆斯林人手一本《古蘭經》正虔誠的閱讀  
 (C)穆斯林正在膜拜真主阿拉神像  
 (D)合乎教法規定的食物，稱為合法（HALAL）食品，即是清真認證食品

- 50.歷史上橫跨歐、亞、非三洲大帝國：

帝國	起源地
B. C6 (甲) 帝國	伊朗高原
B. C4 (乙) 帝國	希臘北部
B. C3 (丙) 帝國 (共和)	義大利半島
A. D8 (丁) 帝國	阿拉伯半島
A. D15 (戊) 帝國	小亞細亞

請問表格內各帝國名稱哪一組正確？

- (A) (甲) 亞歷山大 ; (丙) 羅馬  
 (B) (乙) 阿拉伯 ; (戊) 塞爾柱  
 (C) (丙) 波斯 ; (丁) 阿拉伯  
 (D) (丙) 羅馬 ; (戊) 鄂圖曼

試題結束

新北市立新莊國民中學 110 學年度第 1 學期第 2 次段考 9 年級社會領域試題  
解答

1	2	3	4	5	6	7	8	9	10
<b>A</b>	<b>D</b>	<b>C</b>	<b>B</b>	<b>A</b>	<b>C</b>	<b>D</b>	<b>C</b>	<b>A</b>	<b>D</b>
11	12	13	14	15	16	17	18	19	20
<b>A</b>	<b>B</b>	<b>C</b>	<b>B</b>	<b>B</b>	<b>D</b>	<b>C</b>	<b>A</b>	<b>D</b>	<b>C</b>
21	22	23	24	25	26	27	28	29	30
<b>B</b>	<b>B</b>	<b>A</b>	<b>C</b>	<b>C</b>	<b>B</b>	<b>C</b>	<b>D</b>	<b>B</b>	<b>A</b>
31	32	33	34	35	36	37	38	39	40
<b>A</b>	<b>C</b>	<b>D</b>	<b>B</b>	<b>A</b>	<b>C</b>	<b>C</b>	<b>D</b>	<b>A</b>	<b>B</b>
41	42	43	44	45	46	47	48	49	50
<b>D</b>	<b>C</b>	<b>B</b>	<b>C</b>	<b>A</b>	<b>D</b>	<b>B</b>	<b>A</b>	<b>C</b>	<b>D</b>