

新北市立新莊國民中學 107 學年度第 2 學期第 2 次段考 9 年級社會領域試題卷

班 座號 姓名

※ 選擇題：本試卷共 50 題，每題 2 分，總分為 100 分。
每一題均為單選題，請選出最適當答案。

※ 請用 2B 鉛筆在答案卡上相應的位置畫記。

1. 假設某企業 2018 年的營業額為 200 億臺幣，海外分公司的營業額最少需達幾億臺幣以上才能被稱為跨國企業？
(A) 25 (B) 50 (C) 75 (D) 100

2. 哪位諾貝爾和平獎得主在孟加拉創辦鄉村銀行？
(A) 納爾遜·曼德拉 (B) 弗雷德里克·威廉·戴克拉克
(C) 萬加麗·瑪阿泰 (D) 穆罕默德·尤努斯

3. 何處為目前全球最大的跨國勞工來源地？
(A) 非洲 (B) 東北亞 (C) 東南亞 (D) 南美洲

4. 哪家電視台是伊斯蘭世界中最主要的電視媒體？
(A) 半島 (B) 外島 (C) CNN (D) NHK

5. 「維持幣值穩定，以利國際貿易」是何組織的主要目的？
(A) IMF (B) WTO (C) WHO (D) ASEAN

6. 何者為區域性的經濟組織？
(A) WTO (B) APEC (C) IMF (D) OPEC

7. 何國不在東協+6 的範圍內？
(A) 中國 (B) 南韓 (C) 孟加拉 (D) 紐西蘭

8. 何國不在全球三大經濟版塊中？
(A) 臺灣 (B) 西班牙 (C) 加拿大 (D) 南非

9. 海平面上升將威脅許多城市的安全，何城市受到威脅的時間最晚？
(A) 邦加羅爾 (B) 天津 (C) 洛杉磯 (D) 阿姆斯特丹

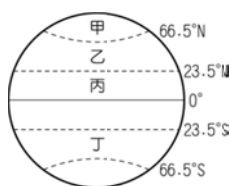
10. 全球的總水量中，何者不屬於水資源？
(A) 河水 (B) 淡水湖水 (C) 海水 (D) 地下水

11. 約旦、以色列、敘利亞等國間的衝突，原因之一為爭奪哪條河的水源？
(A) 底格里斯河 (B) 幼發拉底河 (C) 剛果河 (D) 約旦河

12. 要維持生物多樣性，哪項措施的效果最好？
(A) 設立紀念公園 (B) 保護生物的棲息地
(C) 引進外國相近物種 (D) 設立動物園展示區

13. 為了保護自然生態，許多國家已立法採取行動，以何措施的行政層級最高，效果最好？
(A) 國家公園 (B) 森林遊樂區
(C) 休閒農業區 (D) 生態公園

14. 參考附圖，哪個氣候帶的生物多樣性最高？
(A) 甲 (B) 乙 (C) 丙 (D) 丁



15. 因為京都議定書的成效不彰，2015 年各國領袖於何城市簽署協議，希望能控制全球溫度升幅？
(A) 倫敦 (B) 巴黎 (C) 布魯塞爾 (D) 柏林

16. 蒙特婁議定書的主要內容為控制氟氯碳化物的排放量，因氟氯碳化物會破壞什麼？
(A) 二氧化碳 (B) 水蒸氣 (C) 紅外線 (D) 臭氧層

17. 小萌在某網站上看到部分資訊如下，請問：小萌最有可能瀏覽的是下列哪一個國際組織的網站？

聯合國在「世界水資源日」的前夕指出，全球有超過四分之一的人口受到不乾淨水的影響。每天仍有 700 多名兒童受不乾淨飲用水的影響等原因，罹患腹瀉而活不過 5 歲。此組織邀請各界響應，透過資助缺乏乾淨水國家的兒童，讓乾淨水成為轉變貧困孩子生命的希望泉源。



18. 請問：根據下列的新聞報導，以下何者最符合報導的內容？
(A) 科技發展與政治毫無關連
(B) 以美國觀點，商業利益凌駕於國家安全
(C) 新軍備競賽造成國與國之間的不信任
(D) 中國跨國企業壟斷市場

摘錄新聞報導一則：新軍備競賽 美國全面防堵華為 5G

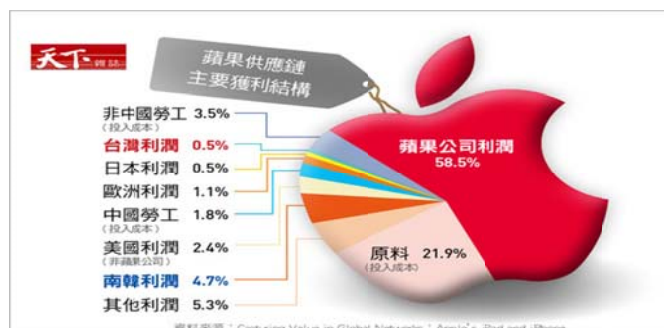
美國和中國正展開一場新的軍備競賽，其核心不是傳統武器，而是 5G 網路。任何主導 5G 技術的國家，將掌握經濟、情報和軍事上的優勢。《紐約時報》報導，美國長期以來擔心中國電信設備會成為中共情報和軍事部門的特洛伊木馬，尤其是中國可能利用華為設備進行間諜活動，破壞美國軍事通信，或發動其它類型的網路攻擊。

但截至目前，關於華為可能從事間諜活動的擔憂，都僅止於理論。美國情報機構的機密報告雖然提到華為可能參與中國間諜活動，但至今未發表公開文件證實。

歐洲電信商正面臨盡快開通 5G 通訊的沉重壓力，他們似乎淡化華為的安全疑慮，因為對他們而言，使用華為設備符合商業考量。因此，他們也質疑，美國的防堵行動是否真的是為了國家安全，或者只是為了阻止華為取得競爭優勢。

19. 下圖為蘋果公司利潤圖，其生產利潤回流到蘋果公司及其總部所在地的美國，可看出下列何種現象？

- (A) 貿易可縮短國家間的差距
(B) 跨國企業推動產品標準化
(C) 依比較利益分工，利潤得以合理分配
(D) 全球化發展下導致貧富差距更形擴大



20. 下表為公民老師上課時，將國際組織依參與成員的性質與分布區域所做的整理。請依下表判斷，下列何者正確？
- (A) 世界貿易組織和東南亞國協分屬於甲丙
- (B) 乙的組織具強制力來約束各國
- (C) 國際反地雷組織隸屬於乙，由各主權國家簽訂條約所建立
- (D) 歐盟為丙之中，全球貿易和製造業的樞紐

性質	政府	非政府
全球性	甲	乙
區域性	丙	丁

21. 下列為各國國際組織的相關行動，請問：何者最有可能為非政府組織？
- (A) 甲 (B) 乙 (C) 丙 (D) 丁

國際組織	相關行動
甲	本組織提供成員國情報，成功緝捕販毒組織首腦。
乙	一人一信，要求政府無條件釋放政治犯。
丙	我們將召集各國專家一同投入疫苗研究，防堵疫情擴散。
丁	我們對伊朗是否發展核武將持續展開調查，必要時予以制裁。

22. 「一帶一路」為中國國家主席習近平提出的概念，為「絲綢之路經濟帶」(一帶)和「21 世紀海上絲綢之路」(一路)的簡稱。請問：此計畫的目的與下列何項國際互動型態相同？
- (A) 共 145 個國家與地區參與由台北市舉辦的第二十九屆世界運動大會
- (B) 華府對價值 340 億美元的中國貨品加增關稅，北京亦對同等金額的美國貨品加增關稅回敬
- (C) 激進組織伊斯蘭國屠殺少數民族，美國協助難民撤離
- (D) G20 (20 國集團) 高峰會為全球經濟振興方案協商對策

23. 巴黎協定接替京都議定書，預期將改變人類長期以來的經濟發展與生活型態。請問：下列何者應是此協定的主要目的？
- (A) 控制全球氣溫上升度數
- (B) 協調國際間的水資源衝突
- (C) 推動瀕臨滅絕物種的復育
- (D) 避免臭氧層持續遭受破壞

24. □□□將於 5 月舉行，是○○○最高權力機構，每年開會一次，決定○○○政策方向。臺灣自 2009 年，連續 8 年以觀察員身分受邀與會。但直至今年四月已兩年未收到邀請函。請問：□□□指的應是下列何者？
- (A) WHA (B) APEC (C) ICPO (D) WTO

25. 西元 2009 年，我國立法院通過兩公約施行法，落實人權公約的效力，加強對人權的保護。請問：此兩公約指的是下列何者？甲、禁止核子武器擴散條約；乙、公民與政治權利公約；丙、經濟與社會文化權利國際公約；丁、禁止人員殺傷地雷條約。
- (A) 甲乙 (B) 甲丙 (C) 乙丁 (D) 乙丙

26. 就讀大學的阿智利用暑期參加青年海外志工服務隊，此行為最能彰顯下列何種意義？
- (A) 尊重多元文化 (B) 善盡世界公民責任
- (C) 展現良好國民禮儀 (D) 發揮才能降低失業率

27. 一般而言，國際難民可區分為因政治迫害或戰亂遷徙的政治難民，以及謀求脫離貧困或更佳生活條件的經濟難民。請根據下圖資料判讀，何者最為正確？
- (A) 南非為收容難民人數最多的國家
- (B) 提供此資料的聯合國難民署為非政府間的國際組織
- (C) 此為國際社會所面臨的重要人道挑戰
- (D) 此資料與國際綠色和平組織關注的議題相同



28. 下圖為某公司與速食業者合作其所自許高規格的食品供應鏈，為承諾食品安全、落實食物正義的決心與努力。請問：從下圖資料分析，何者最不可能？
- (A) 消費者可以享受到較高品質的產品
- (B) 確保農勞工在此交易上能得到較好的待遇
- (C) 部分利潤用於改善生產國當地的環境
- (D) 推動商品認證有助於跨國企業降低生產成本、增加利潤



29. 承上題，此速食業者推出自備環保杯買咖啡，可省 10 元。此銷售方式為鼓勵國人以何種方式為地球永續發展而努力？
- (A) 改變不當的生活習慣
- (B) 停止經濟活動的進行
- (C) 減少不健康的飲食習慣
- (D) 購買公平貿易認證商品

30. 全世界皆面臨許多跨國議題亟待解決，請判斷下列問題與解決對策的配對，正確的有幾項？
- (A) 1 (B) 2 (C) 3 (D) 4 項

問題項目	解決對策
環境議題	華盛頓公約禁止氟氯碳化物相關產品，逐步淘汰使用會讓臭氧層破洞的化學物質。
恐怖活動	聯合國成立反恐委員會，防範恐怖攻擊。
人權問題	國際勞工組織禁絕國際童工問題。
國際犯罪	透過國際刑警組織，打擊不法

31. 日前臺灣某些大學傳出有來自東南亞外籍生表示，原本是來臺灣讀書，沒想到自己一下飛機就被帶往屠宰場、工廠血汗勞動，甚至薪資遭傳被中介人以「繳納學費」之名拿走，引起立法院與各大媒體熱議。不管查證「以實習之名，行剝削之實」的情況是否屬實，這樣的報導除傷害臺灣在國際間的形象外，也讓下列何項作為蒙上一層陰影？
(A) 民族自決 (B) 人道救援 (C) 經濟合作 (D) 國民外交

32. WTO 與 APEC 兩個大型國際組織是我國政府最能發揮的場域。請問：關於這兩個國際組織的敘述，何者正確？

- (A) 美國亦是此兩組織的成員
(B) 臺灣加入 WTO 的時間早於 APEC
(C) 我們皆以「中華台北」名義加入這兩個國際組織

- (D)  分別為 WTO 和 APEC 的標誌

33. 下表為疾管署所發布的疫情通知，請問：此作為可預防下列何項全球議題的發生？

- (A) 人權議題 (B) 跨國疾病 (C) 環境議題 (D) 恐怖活動

主題	發送日期
赴 <u>泰國</u> 觀光旅行團發生麻疹群聚感染，籲請民眾、領隊導遊出國前先諮詢評估接種疫苗，返國如有疑似症狀，請戴口罩就醫並告知旅遊史。	2019 4/01
國內今年首例茲卡個案現蹤，籲請民眾前往茲卡流行地區做好防蚊措施，返國落實「1+6原則」。	2019 2/21
國內外流感疫情仍處流行高峰，籲請民眾賞燈、旅日做好手部衛生與咳嗽禮節，並留意個人健康。	2019 2/21

34. 日本電影《虎！虎！虎！》的內容以第二次世界大戰為背景，影片中日本海軍艦隊司令長官山本五十六，在某次軍事偷襲行動成功後，對前來祝賀的部屬說：「開心什麼！我們恐怕已喚醒了一個沉睡的巨人，他現在正怒不可遏。」請問：「沉睡的巨人」是指哪個國家？

- (A) 中國 (B) 英國 (C) 法國 (D) 美國

35. 第一次世界大戰結束後，有人宣稱：「我們戰鬥的時刻已到，四年來，國家和軍隊在大戰中所獲致的勝利，幾乎被苟且偷安者完全出賣了。……我們並不反對軍隊和警察，只反對懦弱無能的政府，……我們拔劍的目的，只在保障國家的安寧，……同胞們奮起吧！一座新的凱旋門即將豎立在大家眼前！」。此人旋即發動政變獲得該國的政權，請問他是誰？

- (A) 墨索里尼 (B) 凱末爾 (C) 希特勒 (D) 列寧

36. 由奧利佛史東執導，湯姆克魯斯主演的美國電影《七月四日誕生》描述 1960 年代一個愛國的理想青年到東南亞參加戰爭，結果身受重傷導致下半身癱瘓。返回家鄉後，不久便投入反戰運動，反對他曾經參與的戰爭。請問：電影中描述的是哪一場戰爭？

- (A) 第一次世界大戰 (B) 第二次世界大戰
(C) 韓戰 (D) 越戰

37. 毛澤東曾在某場會議上說：「亞洲人的事務應該由亞洲人自行負責，美洲對亞洲的出兵行動，將視為是對亞洲國家的挑釁行為，只能由亞洲人堅決抵抗，我們必須成立抗美志願軍來阻撓美軍的侵略。」上文中提及「美洲對亞洲的出兵行動」，應是下列何者？

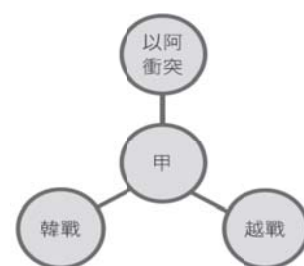
- (A) 柏林危機 (B) 韓戰 (C) 以阿戰爭 (D) 古巴危機

38. 下表是哲斌對於俄國兩次革命所做的整理，請問：其中有哪些部份需要修正？

	二月革命	十月革命
(甲) 時間	1917 年	1917 年
(乙) 領導者	尼古拉二世	列寧
(丙) 目的	推翻共和體制	推翻專制統治
(丁) 結果	建立臨時政府	建立共產政權

- (A) 甲乙 (B) 乙丙 (C) 丙丁 (D) 乙丁

39. 附圖是一幅示意圖，圖中的「甲」是其他三個事件的主題，此主題為何？



- (A) 一次大戰前的軍事衝突
(B) 蘇聯解體後的美蘇衝突
(C) 冷戰期間的區域衝突
(D) 二次大戰期間的反攻行動

40. 西元 1929 年 10 月 24 日，美國紐約出現瘋狂拋售股票的風潮，股票價格暴跌，一天之內竟有一千三百萬張股票賣出，而這一天也被稱為「黑色星期四」。此事件餘波盪漾，甚至影響全球經濟發展。請問：下列何者與此事件有相關聯？

- (A) 美蘇冷戰
(B) 經濟不景氣促使歐洲極權政治興起
(C) 不合作運動癱瘓政府
(D) 《門羅宣言》的發布

41. 電影《辛德勒的名單》，內容在描述德國人辛德勒來到波蘭尋找商機，此時猶太人的所有財產均被沒收，全被集中在只有十六街方圓大的猶太特區內居住，辛德勒自猶太人手中買下了工廠後；他不雇用一般的波蘭人，而是付錢給黨衛隊，以用其所俘虜的猶太人。他雖是個商人，但善待猶太人，而與被關在勞工營內，隨時有喪命之憂的猶太人相比，辛德勒的工廠簡直就是天堂，大家都希望能到辛德勒的工廠，最後有一千一百位猶太人因為辛德勒而存活了下來。請問：當時推行反猶太人運動，不斷剝奪德國境內猶太人基本人權者，是下列何人？

- (A) 希特勒 (B) 俾斯麥 (C) 威廉二世 (D) 墨索里尼

42. 西元 1989 年捷克發生「天鵝絨革命」，以和平非暴力的方式達成民主化的政權轉移，為民主轉型的政治革命樹立起標竿。請問：當時東歐各國出現非共化現象，與哪一位蘇聯領導人的改革政策有關？

- (A) 列寧 (B) 史達林 (C) 戈巴契夫 (D) 葉爾辛

43. 電影《驚爆十三天》是由真實的歷史事件改編而成，內容是蘇聯將共產勢力發展到拉丁美洲，並計畫於美國附近安置核子飛彈的故事，在短短的十三天內，美國採取強硬行動，終於迫使蘇聯拆除飛彈。從以上敘述可知，此影片的內容是指哪一個事件？

- (A) 柏林危機 (B) 古巴危機 (C) 珍珠港事變 (D) 中東危機

44. 下圖是一張歷史的經典照片，請同學閱讀圖文之後回答問題：

1945 年 8 月 14 日，紐約街頭和廣場上到處都是慶祝二戰勝利的人群，人們情緒亢奮，素不相識的人也彼此擁抱和親吻。在時代廣場，一名水兵和一名白衣護士偶然相遇，他們也相擁在一起，深情而吻。兩人擁吻的場景正好被攝影師阿爾弗雷德及時拍攝下來並刊登在了美國《生活》雜誌上。從此，這張被譽為「勝利之吻」的照片廣為流傳，成為象徵二戰結束的經典照片。



請問圖中的美國大兵之所以興奮地親吻素不相識的護士，與哪一史事最有密切關聯？

- (A) 諾曼第登陸大捷
(B) 美軍退出南越停止參加越戰
(C) 南北韓達成停戰協議
(D) 日本決定無條件投降
45. 歷史課時老師要大家依照右圖歷史照片的線索，找出 20 世紀初期民族復興運動資料，並做簡短的報告。請問：根據照片，同學們應查詢下列哪一資料才對？
- (A) 俾斯麥與鐵血政策
(B) 以色列建國史
(C) 甘地與不合作運動
(D) 俄國爆發革命
46. 一本傳記中提到：「他曾經四次擔任美國總統，打破憲法對總統僅能連選得連任一次的限制，此外，他在國家遭逢經濟危局時，常透過廣播強化人民的信心，並制定相關福利政策，緩解美國的經濟困境。」下列何者是他的事蹟？
- (A) 解決國內黑奴問題，不管是哪個民族都受到憲法保障
(B) 提出民族自決的主張，在戰後造成全球民族復興運動
(C) 在美國領土遭受攻擊之後對日本宣戰，促使歐亞戰場合流
(D) 反對歐洲國家干預美洲事務，協助拉丁美洲國家獨立
47. 第二次世界大戰結束後，在幾個國家的推動下，聯合國正式成立。請問：聯合國總部位於附圖中的何處？
- (A) 甲 (B) 乙
(C) 丙 (D) 丁
48. 電影《搶救雷恩大兵》中描寫在諾曼第登陸後，米勒上尉率領一小隊前往拯救一位傘兵詹姆斯雷恩的故事。詹姆斯雷恩是家中四兄弟的老么，他的三名兄長都在戰時相繼陣亡，華府的將領為了不再讓他的母親承受喪子之痛，於是決心將她僅存的兒子安全地救出戰區。這段故事是以哪場戰爭為背景？
- (A) 薩奧戰爭 (B) 德法戰爭
(C) 第一次世界大戰 (D) 第二次世界大戰



49. 大胖觀賞一部介紹希特勒的影片，內容描述希特勒在發動入侵波蘭的戰爭前，為減少戰力損耗，因此在正式與英、法撕裂之前，在國際上做了什麼佈局以免受到兩面夾攻？

(A) 與美國簽訂條約
(B) 協議與蘇聯互不侵犯條約
(C) 與奧匈帝國同盟
(D) 以波蘭東部土地取得俄國沙皇的支持

50. 近年來由於中國軍事力量的擴張導致兩岸情勢的緊張，有些人物開始倡導兩岸共同簽訂和平協定的主張，回顧世界歷史發展，和平協定多半未能帶來和平，最有名的例子莫過於第二次大戰爆發前，英法兩國為了安撫希特勒繼續向外侵略的野心，與其簽署某一協定，協定簽署完成後，當時負責談判的英國首相張伯倫返國後，還高興地向外宣稱『這是屬於我們這個時代的和平！』，結果不過半年，希特勒便毀約併吞捷克，六個月之後第二次大戰便爆發了，請問這個協定是在哪一場會議簽署的？

(A) 開羅會議 (B) 巴黎和會
(C) 雅爾達會議 (D) 慕尼黑會議

新北市立新莊國民中學 107 學年度第 2 學期第 2 次段考 9 年級社會領域試題參考答案

1	2	3	4	5	6	7	8	9	10
B	D	C	A	A	B	C	D	A	C
11	12	13	14	15	16	17	18	19	20
D	B	A	C	B	D	D	C	D	A
21	22	23	24	25	26	27	28	29	30
B	D	A	A	D	B	C	D	A	C
31	32	33	34	35	36	37	38	39	40
D	A	B	D	A	D	B	B	C	B
41	42	43	44	45	46	47	48	49	50
A	C	B	D	C	C	A	D	B	D