

新北市立新莊國民中學 109 學年度第 2 學期第 1 次段考 9 年級社會領域試題卷

※ 選擇題：本試卷共 50 題，每題 2 分，總分為 100 分。
每一題均為單選題，請選出最適當答案。

※ 請用 2B 鉛筆在答案卡上相應的位置畫記。

1. 「南美自由盃」或稱「南美解放者盃」，是南美洲各個頂級球隊之間競爭最高榮譽的國際足球賽事，其等級相當於歐洲的冠軍聯賽，其得名主要是紀念為南美洲國家爭取自由獨立的偉大領袖們而命名，這幾位領袖包含下列何者在內？
(A)加富爾 (B)俾斯麥 (C)華盛頓 (D)玻利瓦

2. 他出生於現今德國地區，是世界文學的巨匠之一，在詩歌、戲劇、小說方面都有重大的成就。西元 1774 年，他將在舞會中愛上夏綠蒂的感情，寫下了為世人所傾倒的《少年維特的煩惱》，表現出 18 世紀末浪漫主義的狂熱。請問：上文描述的他是指何人？
(A)貝多芬 (B)拜倫 (C)歌德 (D)狄更斯

3. 海明威的作品《戰地春夢》中提到：「美國青年亨利前往義大利，與德、奧軍隊作戰，與英國護士凱薩琳偶然相識，在戰爭中彼此相依相戀。然而就在即將獲得幸福之際，凱薩琳卻因難產而死，一切的歡樂瞬間消失於無形。」請問：書中「亨利」所參加的是哪一場戰爭？
(A)普法戰爭 (B)普奧戰爭
(C)第一次世界大戰 (D)第二次世界大戰

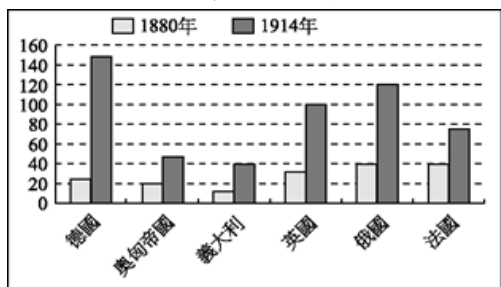
4. 裕展正在看《漫畫世界史》，書中出現如右圖的漫畫。請問：根據圖中內容判斷，這應該是在描述哪件史事？
(A)巴爾幹半島的獨立運動
(B)無限制潛艇政策的實施
(C)塞拉耶佛事件
(D)凡爾賽條約的簽訂



5. 右圖是一張 20 世紀前期英國的徵兵海報，要求人民志願從軍，儘管當時的人民認為戰爭很快就會結束，但沒想到死傷卻是史無前例的慘重。請問：上述是指下列哪一場戰爭？
(A)英法百年戰爭
(B)拿破崙戰爭
(C)第一次世界大戰
(D)第二次世界大戰



6. 幾位同學討論下面的統計圖。請問：哪個說法最正確？



- (A)這是各國軍費支出的情況，20 世紀初，各國積極從事軍備建設，軍費龐大
(B)這是各國挖掘壕溝的總長度，德國因為面臨兩邊作戰，所以總長度最長
(C)這是各國移往美國的人口數，20 世紀初美國的移民主要來自這些國家
(D)這是各國殖民地的統計，20 世紀初德意志帝國國力強盛，海外殖民地最多
7. 「……帶領國家走向統一，整個歐洲在他的腳下顫慄。唯血唯鐵，唯劍唯火，……新皇帝上任後他喪失表現空間，但挫折和打擊永遠屈服不了這巨人的心靈。……」上述是「○○○傳」的簡介節錄，請問：○○○應是指下列何人？
(A)拿破崙 (B)俾斯麥 (C)加富爾 (D)威爾遜

8. 右圖中的那個地區位於歐、亞、非三洲的交界，曾先後歷經希臘、亞歷山大帝國等政權的統治。近代時則因局勢動盪不安，被稱為「歐洲火藥庫」？
(A)甲 (B)乙 (C)丙 (D)丁



9. 狄更斯是寫實主義的代表作家。有一天，他在河邊釣魚，有一個陌生人走過來和他對話。陌生人詢問：「先生，您在釣魚？」狄更斯回答：「是啊，釣了半天，一隻都沒釣到。」狄更斯繼續說著：「但是昨天在這個地方，我可是釣了 15 隻魚呢！」這位陌生人聽了笑了一下說：「喔，先生，您知道我是誰嗎？我是在這個地方管魚的，這條河禁止釣魚。」陌生人邊說邊從口袋拿出小本子準備要記下狄更斯的姓名並罰款。狄更斯聽了回答：「那你知道我是誰嗎？我是作家狄更斯，所以你不能罰我錢。」陌生人答：「喔，為什麼？」狄更斯回答：「別忘了，我是作家，虛構故事本來就是我的職業啊！」請問：寫實主義的特色是？
(A)描述勞苦大眾的生活
(B)創新題材，顛覆傳統
(C)反省科技文明是否能帶來幸福
(D)強調人的情感以及崇拜英雄事蹟

10. 右圖為一幅雜誌插畫，命名為「1918 年 11 月」，圖中海邊滿是落地的皇冠，此圖象徵的時代意義為何？
(A)法國大革命追求自由、平等、博愛
(B)普魯士擊敗列強完成日耳曼統一
(C)一次大戰後專制王朝紛紛崩落
(D)國際聯盟缺乏軍事制裁力量



11. 晉韋是個愛唸書的孩子，最近閱讀了一系列有關十九世紀的書籍，其中一本為《義大利史》，晉韋非常欽佩書中提到「某位國王」忠於憲法的態度：「我必須完全遵守憲法，保持信譽。如果奧國要強迫我取消憲法，我情願作殊死戰。」他這種態度，博得義大利各地愛國志士的無限景仰，尊他為「最誠實的國王」。請問這位「最誠實的國王」指的是誰？
(A)路易拿破崙 (B)威廉一世
(C)明治天皇 (D)伊曼紐二世

12. 二十世紀的某位學者認為，理性或意識猶如冰山一角，對人類行為的影響是微乎其微，無意識和潛意識才是水底下看不見的冰山，是真正主宰人類活動的部分，且會影響到繪畫、電影與文學的創作等層面。請問這位學者可能是下列何者？
(A)達爾文 (B)愛因斯坦 (C)海明威 (D)佛洛伊德

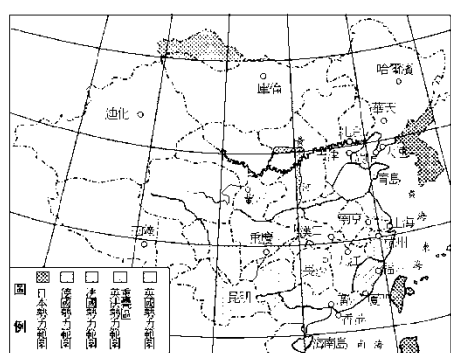
13. 第一次世界大戰期間，記者亨利訪問了四位士兵的心路歷程。請問：何人來自美國？
(A)大衛：「由於我軍未能即時攻陷巴黎，西線陷入壕溝戰。」
(B)約翰：「我國王儲被殺，對方不同意最後通牒，我軍只好宣戰。」
(C)麥可：「我國船隻被對方潛艇擊沉，政府決定加入戰爭。」
(D)傑米：「共產黨推翻了政府，建立新政權，我軍宣布退出戰場。」

背面尚有試題

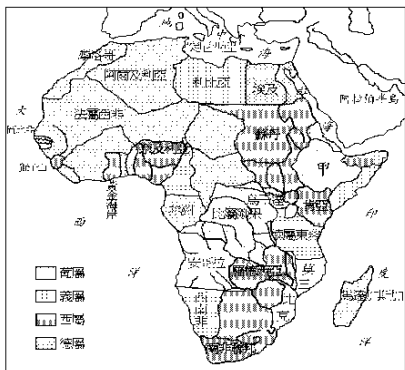
新北市立新莊國民中學 109 學年度第 2 學期第 1 次段考 9 年級社會領域試題卷

班級 座號 姓名

14. 下列圖(一)為列強在中國的勢力範圍圖，圖(二)為列強瓜分非洲圖，曉飛將兩圖加以判讀與比較後，歸納出下列歷史知識，請問哪些是正確的？



圖(一)

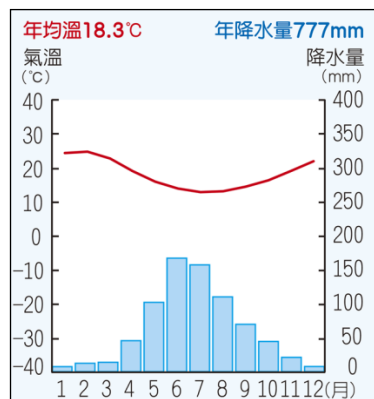


圖(二)

- (甲)兩圖的年代都在二十世紀中。
(乙)兩圖都可用於說明新帝國主義在中國和非洲的侵略活動。
(丙)圖(一)後來因美國提出「門戶開放政策」，使中國免於被瓜分的命運。
(丁)圖(二)中的「甲」，指賴比瑞亞，並未被列強瓜分為殖民地。
- (A)甲丙 (B)乙丙 (C)甲丙丁 (D)乙丙丁
15. 一次大戰結束，戰勝國召開會議處理戰後國際局勢，關於該會議的相關敘述，下列何者正確？
(A)法國總理克里蒙梭提出的「十四點和平原則」為會議指導原則
(B)美國總統提出民族自決原則，促使日本在臺灣推行皇民化運動
(C)會中決定要讓戰敗國負擔巨額的賠款與戰敗責任
(D)會中決議將山東讓給日本，引發中國的新文化運動
16. 知名的日本漫畫《神劍闖江湖》背景為明治天皇主政初期的社會，描述近代日本在國內眾多能人志士的努力下，國勢逐漸強盛。請問：依據史實，下列對當時日本的敘述何者正確？
(A)當時將大權交還給明治天皇的是鎌倉幕府
(B)日本曾實施鎖國政策，僅限英國船隻可到長崎進行貿易
(C)日本曾在英國艦隊的脅迫下，簽訂不平等條約，開放通商口岸
(D)明治維新使日本國力大增，其成效在中日甲午戰爭與日俄戰爭中得到驗證
17. 太平洋島國薩摩亞 2011 年 12 月 29 日頭條新聞宣布：「為促進與紐、澳地區的經濟貿易，12 月 29 日午夜鐘聲一響，薩摩亞將直接進入 12 月 31 日。」請推測薩摩亞的 12 月 30 日消失的原因為何？
(A)由北半球時間移至南半球時間
(B)由南半球時間移至北半球時間
(C)由東半球時間移至西半球時間
(D)由西半球時間移至東半球時間
18. 「吐瓦魯據說於 2030 年即將滅頂」、「南極極地白雪由紅轉綠，增生大量藻類」、「澳洲與俄羅斯野火肆虐頻率增加」、「非洲撒哈拉地區恐遇更長乾旱」，上述各個新聞大標揭示了我們的地球生態正面臨嚴重衝擊。請問造成上述生態變化的原因為何？
(A)太陽輻射增強 (B)板塊運動劇烈
(C)人口增長過快 (D)大氣暖化增溫
19. 世界最寒冷的南極大陸因冰雪遍布，被稱為「世界寒極」、「白色大陸」，請問南極相較北極低溫的原因與那些因素有關？(甲)海陸性質 (乙)植被分布 (丙)地勢高低 (丁)緯度位置 (戊)洋流性質
(A)甲丙戊 (B)甲乙丁 (C)甲丙丁 (D)乙丙戊

20. 集約農業指的是在單位面積土地上，投入大量勞力、成本，以追求單位面積產量的農業經營模式。請問下列何者不屬於此定義？
(A)埃及的綠洲農業 (B)剛果的游耕農業
(C)台灣的稻作農業 (D)象牙海岸的熱帶栽培業

21. 請依據下列氣候圖資訊，找出其位於澳洲何處？



- (A)甲區 (B)乙區 (C)戊區 (D)己區

22. 紐、澳地區因地緣關係鄰近，向來都是友誼之邦，請問下列陳述何者錯誤？

- (A)都是 APEC 成員，並積極與東南亞國協合作
(B)都擁有大片珊瑚礁海岸，有利觀光
(C)都因地廣人稀，粗放經營農牧業
(D)都具有獨特自然景觀與特有生物

23. 非洲至今仍以農礦為主的經濟模式，深深受到昔日殖民統治影響，偏重發展熱帶栽培業與礦產外銷。請問下列區域的農礦型態類似非洲的經濟發展歷程？

- (甲)中亞 (乙)東南亞 (丙)西歐 (丁)東歐
(戊)大洋洲 (己)北美洲 (庚)中南美洲

- (A)乙庚 (B)甲乙丁 (C)乙丁戊庚 (D)甲乙丙己戊

24. 右圖為非洲當地居民定期到訪的宗教場所，宗教儀式進行時多朝東方聖城方向進行跪拜。請問此宗教場所最可能出現在非洲何區？



- (A)北部非洲
(B)西部非洲
(C)南部非洲
(D)中部非洲

25. 有人說：「澳洲是褐色大陸，紐西蘭是綠色島嶼。」主要是氣候造成的差異，請依序找出「澳洲的褐色」與「紐西蘭的綠色」是由何種因素造成的？

- (A)西澳涼流；東北季風
(B)副熱帶高氣壓；東南信風
(C)副熱帶高氣壓；盛行西風
(D)赤道低氣壓；副熱帶高氣壓

26. 紐、澳地區保留著許多其他陸地所沒有的特有生物，例如澳大利亞的袋熊、袋鼠、無尾熊、鸛鵒，紐西蘭的奇異鳥，吸引世界各地遊客到訪。請問此現象與紐、澳地區哪一特色最有關係？

- (A)政府培育，從他國引進
(B)位置孤立，偏離其他陸地
(C)熱帶區廣，物種多樣性豐富
(D)高山地形，生態系統垂直分層

請繼續作答下張試卷

新北市立新莊國民中學 109 學年度第 2 學期第 1 次段考 9 年級社會領域試題卷

班級 座號 姓名

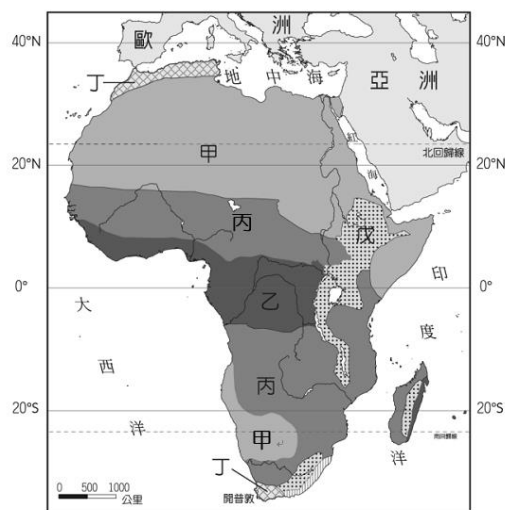
27. 庫克船長航行至紐西蘭後，經初步了解，製作了北島與南島的比較表，請幫他找出正確的部分？

選項	北島	南島
(A)地形	多冰河地形	多火山地形
(B)氣候	較寒冷	較溫暖
(C)人口數	較多	較少
(D)原住民	毛利人	因紐特人

28. 森林野火由 2019 年至 2020 年間，延燒了四個月之久，重創了澳洲當地生態環境，學者更警示大眾隨著當前的環境變遷，森林野火與長期乾旱未來出現機率會更頻繁。請問澳洲森林野火的好發季節，最可能是哪個時間？
 (A)5~8 月的冬天 (B)5~8 月的夏天
 (C)11~2 月的冬天 (D)11~2 月的夏天

【第 29 至 30 題為題組】

下圖為非洲氣候分布圖，請依照圖中資訊回答第 29~30 題：



29. 旅行社路線規劃如下圖，可看到非洲大陸多樣化的景觀，請依照箭頭指示，試著找出路徑中所經過的氣候區？



- (A)甲→丙→乙 (B)乙→丙→丁
 (C)甲→戊→丙 (D)丁→甲→戊
30. 生態紀錄片常見到非洲的野生動物們，如斑馬、瞪羚、大象等生物，必須隨著氣候的乾濕季變化，大規模遷徙移動以尋找水源，移動過程中，落單的幼仔隨時可能被潛伏在旁的獅群攻擊獵殺，生機勃勃且無污染的大自然極適合發展生態旅遊。請問上述景觀主要出現在哪一氣候區？
 (A)甲 (B)乙 (C)丙 (D)丁

【第 31 至 33 題為題組】

鑽石被賦予富裕與愛情的象徵，據資料顯示，2018 年世界十大鑽石產國依序如下表一，但同年度依據人均 GDP 排序的世界十大貧窮國家則如表二，請回答第 31~33 題：

2018 年十大鑽石產國	2018 年十大貧窮國家
1.俄羅斯	1.蒲隆地
2.波札那	2.賴比瑞亞
3.剛果民主共和國	3.索馬利亞
4.澳大利亞	4.厄利垂亞
5.加拿大	5.獅子山
6.辛巴威	6.剛果民主共和國
7.安哥拉	7.尼日
8.南非	8.中非共和國
9.納米比亞	9.辛巴威
10.巴西	10.阿富汗

31. 鑽石盛產國多為非洲國家，請問非洲得以蘊含大量礦產與哪一特色有關呢？

(A)遭遇副熱帶高氣壓沉降氣流
 (B)為地質年代久遠的古陸塊
 (C)裂谷帶板塊運動劇烈
 (D)多位於熱帶氣候區

32. 根據圖表所示，辛巴威與剛果民主共和國同時出現於鑽石產國與貧窮國家表列中，請問下列選項中何者「並非」是擁有大量高附加價值礦物的非洲國家，卻同時面臨窮困問題的原因？

(A)種族多元複雜 (B)戰爭衝突不斷
 (C)生產技術低落 (D)人口增長減速

33. 有許多非洲國家因不同因素至今仍舊借新債還舊債，陷於貧窮循環，難以逃脫，但鑽石產國中有一國已憑藉其擁有的大量礦產與鑽石資源，逐步邁向工業化，成為非洲經濟發展最佳國家。請問此國指的是哪個國家呢？

(A)南非 (B)安哥拉 (C)波札那 (D)納米比亞

34. 隨著資訊科技的進步，政府規畫推動多卡合一的數位身分證，也就是將健保卡、信用卡、駕照等功能整合為一，但卻被民眾質疑會導致個人資料外洩，產生不良後果，因此，爭議多時的換發計畫，在行政院長拍板下確定暫緩執行。請問：政府是考量人民的哪一項權益可能會被侵害才暫緩執行？

(A)人格權 (B)自由權
 (C)智慧財產權 (D)媒體接近使用權

35. 在全球化的趨勢下，世界各國在文化層面有更密切的互動，文化交流的途徑如下表所示，請問：表中敘述完全正確的有哪幾項？

	方式	舉例說明
甲	殖民	越南曾是法國的殖民地，因此許多建築物都具有歐式風格。
乙	移民	移居加拿大的華人群聚在一起，形成當地中式料理餐廳林立。
丙	傳播	國家地理頻道真實揭秘，介紹世界各地的地理奇觀。

(A)甲乙 (B)乙丙 (C)甲丙 (D)甲乙丙

36. 受到疫情的影響，新北市竹圍高中學生透過視訊與姐妹校交流，在元宵節前夕雙方協力製作天燈，包裝成牛好日子的青春福袋，送到日韓友校，讓國際友人感受臺灣特色的節慶風味。根據上述內容，下列何者最可能是該校舉辦此類活動的目的？

(A)調適強勢文化的衝擊 (B)擴展官方的外交關係
 (C)促進各國文化的交流 (D)推動多元文化的融合

37. 隨著新冠肺炎的延燒，國內外民眾人心惶惶；先前在網路上流傳「衛生紙的原料被拿去做口罩，未來衛生紙將會漲價」，此消息引起民眾的恐慌，也引發一股搶購衛生紙的熱潮。針對此說法，經濟部出面闢謠「誤會大了！口罩跟衛生紙的原料根本不同」，呼籲民眾勿恐慌也別再造謠。然而，卻有新聞台未經查證便加以報導，雖然事後緊急撤下該則新聞，但仍被國家通訊傳播委員會開罰。請問：根據上文，下列相關敘述何者正確？

(A)此事件反映了言論自由與公共利益的兩難
 (B)新聞台若不服裁罰可向檢調單位提出訴願
 (C)政府藉行政處分處理傳播媒體之外部效果
 (D)傳播媒體應善盡社會責任落實第四權功能

背面尚有試題

新北市立新莊國民中學 109 學年度第 2 學期第 1 次段考 9 年級社會領域試題卷

班級 _____ 座號 _____ 姓名 _____

38. 公民老師請學生針對「全球化」的意涵來收集資料，請問以下有幾位學生的答案是正確的？
 甲：中東緊張情勢升高，國際油價盤中大漲 30%
 乙：臺灣生育率比南韓還低，為全球排名倒數第一
 丙：新冠肺炎疫情擴散，使得各國機票全面降價
 丁：南亞發生大海嘯，造成斯里蘭卡、印尼等地人民生命財產的損失
 (A)1 位 (B)2 位 (C)3 位 (D)4 位

39. 經濟部在臉書分享一段音檔，包括提神飲料廣告「你累了嗎？」、眼藥水廣告詞「新一點靈 B12」、曾紅遍大街小巷的廣告歌曲「綠油精」、濃湯廣告詞「好湯在康寶」、三洋維士比廣告詞「福氣啦」等都是已註冊的聲音智慧財產。請問：以上敘述所提及的智慧財產類型與下列何者相同？
 (A)當紅的流行歌手推出暢銷歌曲，卻涉嫌抄襲國外樂手的作品
 (B)業者經營 KTV 或卡拉 OK 都必須購買有授權的公播歌曲
 (C)知名蛋糕店因家族分家而引起招牌、包裝字體、產品名稱的紛爭
 (D)私自剪輯電影，並用搞笑方式論述，上傳到網路平台，被電影公司提告

40. 下列何者當下的行為不屬於「閱聽人」的範圍？
 (A)開車聽著廣播的丁丁 (B)閱讀網路小說的迪西
 (C)在便利商店讀報的拉拉 (D)利用電腦寫報告的小波

41. 我國公共電視與 HBO Asia、新加坡傳播公司跨國合製的電視劇《通靈少女》，以本土宮廟文化為背景，且不觸及各國宗教文化的禁忌；此劇於亞洲多個國家播出後大獲好評，不僅讓臺灣本土文化躍上國際，臺灣民眾也開始了解與認同劇中的民俗文化。根據上文敘述，在觀賞此劇後，臺灣民眾的行為較符合下列何者的敘述？
 (A)保護傳統文化，積極擴展國際視野
 (B)肯定在地文化，重視自我文化價值
 (C)保護弱勢文化，致力追求文化創新
 (D)調和文化衝突，加強促成文化交流

42. 節慶活動是文化表現的一種模式，請問：以下各國節慶活動的配對，何者有誤？
 (A)開齋節—印度 (B)啤酒節—德國
 (C)狂歡節—巴西 (D)面具節—義大利

43. 鈞湛在上網瀏覽臉書時，看到了如下圖的新聞，請問：該則新聞主要呈現了傳播媒體的哪些功能？



- (A)提供訊息、監督政府 (B)休閒娛樂、教育文化
 (C)休閒娛樂、監督政府 (D)提供訊息、教育文化
44. 新聞報導：「華為是中國最大電訊設備與手機製造商，並擁有全球最多 5G 專利，但川普簽署法案中表示，由於涉及竊取機密與危害國安之虞，大幅禁止美國政府部門使用該公司的技術產品。現任總統拜登也表示將致力於保護美國的電信網路，不會使用像華為這樣威脅國安的供應商。」上述新聞說明哪一項事實？
 (A)使用資訊科技可能會造成隱憂
 (B)美國政府極力確保智慧財產權
 (C)資訊公開化能保障自身的權利
 (D)資訊氾濫會造成內容真偽難辨

45. 老師在課堂上分享以下兩則新聞，根據新聞標題判斷，該堂課的課程主題應為下列何者？

※麥當勞因未標示薯條含有牛油成分，引起印度教徒的不滿與抗議。
 ※許多德國人認為敘利亞難民家庭中孩子人口數多，嚴重影響社區安寧。
 ※布基尼代表對女性的控制與壓迫，法國政府禁止女性穿著這樣的泳裝。

- (A)文化認同的危機 (B)全球關聯的影響
 (C)文化衝突的現象 (D)強勢文化的擴張

46. 從美國國會暴動的起因可能是來自社群媒體上有心人士的煽動，到過年期間再度掀起話題的網紅，因為曾經拍了一部「肝膽排石法」的自然療法影片，遭到台大醫生指正的事件，都凸顯了網路資訊真實性的重要。【天下雜誌，2021.2】請問：上述內容提醒我們應重視下列何項議題？

- (A)科技與人權的兩難 (B)個人隱私權的保障
 (C)資訊科技的革新 (D)資訊倫理的建立

47. 全球化是一把雙面刃，能夠促使文化交流更加頻繁，但也導致強勢文化凌駕於弱勢文化之上，因此引發許多學者對本土文化的反思，認為在地社群與文化不只是被動地因應世界局勢演變與潮流，還需以全球觀點與在地角度的思維，將本土文化呈現在世界舞臺之上，意即「在地文化，全球思維」。請問：何者即為「在地文化，全球思維」的例子？
 (A)麥當勞在臺灣推出米漢堡，來迎合當地人的飲食習慣
 (B)星巴克在南韓推出五味子果露冰，成為夏季受歡迎的飲品
 (C)大甲鎮瀾宮舉辦媽祖國際文化節，吸引許多外國人共襄盛舉
 (D)芭比娃娃在穆斯林國家調整服裝打扮，以配合當地的宗教信仰

48. 根據智慧財產權相關法規規定：任何「合理使用」之外的利用，使用者都要事先取得授權，才可進行。請問：下列對於智慧財產權的敘述，何者正確？
 (甲)有關智慧財產權認定皆採申請註冊為原則
 (乙)智慧財產權保障的年限皆為所有權人死後五十年
 (丙)違反相關規定之法律責任，由智慧財產法院審理
 (丁)智慧財產權是屬於憲法中受益權的保障
 (A)甲乙 (B)乙丁 (C)甲丙 (D)丙丁

49. 檢調單位破獲史上最大宗的個資外洩案，不法集團利用駭客以惡意程式攻擊政府單位，竊取多達一億七千萬筆個資，製成「客戶開發搜尋系統」販售給房仲業者利用。請問：上述不法集團利用駭客的攻擊行為觸犯了何項法規中的何種罪？
 (A)個人資料保護法、竊盜罪
 (B)個人資料保護法、妨害電腦使用罪
 (C)刑法、妨害電腦使用罪
 (D)刑法、竊盜罪

50. 生物科技是指利用任何生物的特性來製造產品，藉以改善人類生活的科學技術；課堂上老師請學生發表「有關生物科技的發展與影響」，請問：哪幾位同學的說明是正確？
冠宏：基因改造會造成生物多樣性慢慢消失
筠婷：對個人基因特性檢測疾病風險，預防遺傳疾病
博易：為解決少子化的問題，各國開始進行複製人的研究
品均：科學家大量培養微生物，對大自然帶來許多傷害
 (A)冠宏、筠婷 (B)筠婷、品均
 (C)博易、品均 (D)冠宏、博易

試題結束

新北市立新莊國民中學 109 學年度第 2 學期第 1 次段考 9 年級社會領域試題
解答

1	2	3	4	5	6	7	8	9	10
D	C	C	C	C	A	B	C	A	C
11	12	13	14	15	16	17	18	19	20
D	D	C	B	C	D	D	D	A	B
21	22	23	24	25	26	27	28	29	30
C	B	A	A	C	B	C	D	A	C
31	32	33	34	35	36	37	38	39	40
B	D	A	A	A/D	C	C	B	C	D
41	42	43	44	45	46	47	48	49	50
B	A	D	A	C	D	C	D	C	A