

※ 選擇題：本試卷共 50 題，每題 2 分，總分為 100 分。
每一題均為單選題，請選出最適當答案。

※ 請用 2B 鉛筆在答案卡上相應的位置畫記。

1. 下表是明、清兩代中國每人平均耕地的變化比較表，由此表可看出清朝人口成長的幅度遠超過於耕地增加的速度，導致人均耕地明顯下降，導致清朝晚期耕地不足的問題。以下哪一起內憂即由此一民生問題所導致？

時期	人口數 (百萬)	耕地數 (百萬畝)	每人平均耕地 (畝/人)
明朝萬曆年間	120	700	5.83
清朝康熙、雍正之際	125	984	7.87
清朝道光末年	430	1254	2.92

- (A) 三藩之亂 (B) 義和團之亂
(C) 朱一貴事件 (D) 太平天國之亂

2. 律碩在一本介紹近代歷史的圖冊中見到一張圖片，如右圖。圖中描述的是 19 世紀末被列強欺凌的某東方大國，以下關於此圖的解讀，何者有誤？

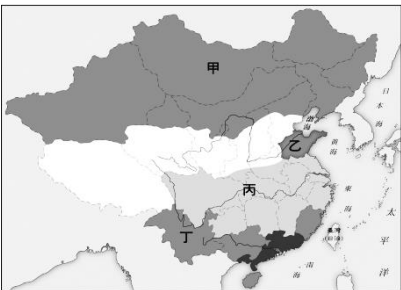


- (A) 圖中被宰殺的巨龍是指中國
(B) 宰殺巨龍的人物乃暗諷西方列強
(C) 圖中人物以荷蘭、西班牙等國為主
(D) 此圖象徵甲午戰爭後中國的處境

3. 把自強運動與戊戌變法的改革做比較，以下關於此兩次變法革新的特點，何者錯誤？

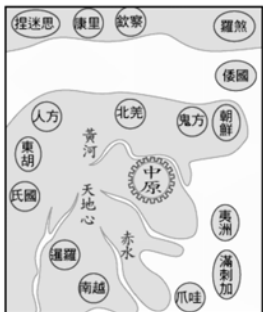
選項	變法	自強運動	戊戌變法
A	層次	器物	制度
B	刺激	甲午戰爭	鴉片戰爭
C	失敗的原因	各自為政，缺乏通盤計劃	引發守舊派人士反對
D	結果	甲午戰爭戰敗後，結束此運動	引發戊戌政變

4. 右圖是清末列強在中國所劃分的勢力範圍，甲、乙、丙、丁分別代表不同的列強。以下對於其所屬國家的相關描述，何者正確？



- (A) 甲國：曾威脅日本將山東半島歸還中國
(B) 乙國：支持興起於此地的太平天國
(C) 丙國：此前已接收台灣、澎湖
(D) 丁國：瓜分此地前已先佔領越南

5. 資料一：右圖為早期中國人想像的世界地圖，圖中的「中原」指的就是中國所在地。



資料二：某國商人表示：「到中國貿易真是太麻煩了，不能直接對中國商人貿易，必須透過□□來進行交易。」
請問：下列敘述何者『正確』？

- (A) 中國人抱持天朝思想，堅持對等貿易的形式
(B) □□指的是洋行，設置在唯一通商口岸廣州
(C) 清朝中期後唯一通商口岸位於杭州
(D) 英國曾兩度遣使來華溝通通商問題，因為禮節問題破局

6. 請問：右圖這幅清末歷史漫畫中描繪的情景會在下列哪一事件之後出現？



- (A) 鴉片戰爭 (B) 英法聯軍
(C) 中法戰爭 (D) 甲午戰爭

7. 圓明園設計的西式庭園中有以十二生肖為主題的噴水池，堪稱一絕。但在清末戰爭中被掠奪一空。因此，當其中的鼠首、兔首被拿出來拍賣，並以高價售出時，此事引起許多中國民族主義者的憤慨，進而引起要求外國博物館歸還掠奪自中國的文物。請問：引起爭議的鼠首、兔首應該是下列哪一群入侵士兵所掠奪？

- (A) 鴉片戰爭的英國士兵 (B) 英法聯軍的英法士兵
(C) 中法戰爭的法國士兵 (D) 甲午戰爭的日本士兵

8. 李鴻章致書曾國藩的信中寫道：「其大炮之精純，子藥之細巧，器械之鮮明，隊伍之雄整，實非中國所能及。」並推崇洋人的「戰守攻具，天下無敵」。請問：李鴻章與曾國藩是經歷哪一事件之後，體認西洋武器精銳，與訓練軍隊嚴謹，而有仿效之心？

- (A) 擊退英法聯軍 (B) 平定太平天國
(C) 剿滅流寇 (D) 殲滅日本海軍

9. 請問下述報紙描述的時代背景是

每日一報：山東發生曹州教案，德國出兵佔據膠州灣和青島，隔年迫使清廷簽約，取得膠州灣 99 年租期、鐵路修築權及採礦權等…

- (A) 自強運動期間，列強的侵略
(B) 太平天國內亂之際，趁火打劫
(C) 甲午戰後，列強加速侵略
(D) 戊戌政變之時，乘機逼迫

10. 如下文，根據文意判斷，請問這位歷史人物是？

- (A) 李鴻章 (B) 曾國藩 (C) 洪秀全 (D) 林則徐

在湖南訓練鄉勇鎮壓內亂的**他**，根據切身體會，說出：「購買外洋船炮為今日救時第一要務」

他憤恨的說：『讀書人不能讀有關孔子之書，逆賊卻提倡耶穌之說』

11. 小維在解決「保險箱密室殺人事件」時，發現現場遺留了一張字條：根據怪盜洋介所提供的線索，保險箱密碼的關鍵提示應該是下列哪一選項？

- (A) 左宗棠 (B) 林則徐 (C) 曾國藩 (D) 洪秀全

				攻		小伙子：
道			一	擊		皇帝、地點、制度理念
光			夫	儒		都給你了，你要找出誰
	天	下	一	家		是平定亂事的關鍵提示
	朝		妻		同	才能解開保險箱密碼。
金	田	村			治	
	畝					怪盜洋介 留

12. <新聞事件簿>BBC 中文網：

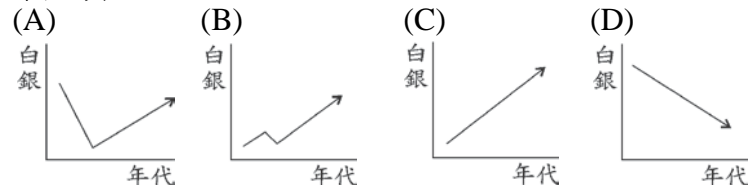
2015 年 3 月 1 日，英國威廉王子抵達北京，在中國展開為期三天的訪問，他此次訪華從官方角度來說是推動兩國文化交流，但在中國幾乎所有的兒童都知道維多利亞女王時期英軍在中國進行掠奪，有時會有中國人表示，英國人若想要了解中國人的想法，就應該想像中國軍隊在倫敦街頭掠奪，把大英博物館的珍品搶走，放火燒白金漢宮。一些被搶走的藝術品，目前仍還在英國陳列這一點，也似乎總在提醒人們這段歷史。請問：媒體會有如此假設，主要是在引述中英歷史上哪一件事情？

- (A) 鴉片戰爭 (B) 第一次英法聯軍
(C) 第二次英法聯軍 (D) 瓜分風潮


13. <數字會說話>下列數字顯示了十八世紀末到十九世紀中葉鴉片輸入中國的情形。

一七九九年	4,000 箱	一八二〇年	7,889 箱
一八二五年	12,576 箱	一八三〇年	20,331 箱
一八三五年	35,445 箱	一八三九年	40,200 箱

請根據其中數字變化，判斷出白銀當時在中國流通變化正確選項？



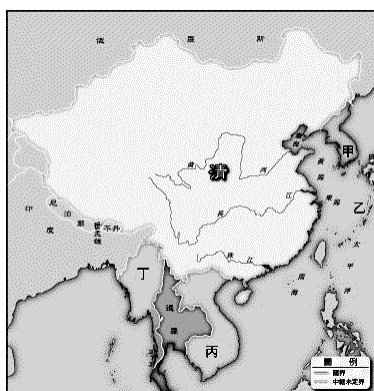
14. 西元 1793 年，英國國王派遣馬加爾尼來華向乾隆皇帝祝壽，他觀察中國內地的實際情況，使西方人對中國有了進一步的認識。參考下圖，我們對於此事件應有的正確認知是：



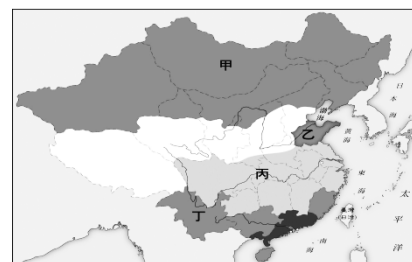
- (A) 這是中英官員在禁教以後第一次的會面
(B) 馬加爾尼來華的主要目的是向乾隆祝壽
(C) 清廷拒絕英使的理由因條約意見爭執
(D) 二十多年後英使團再來，兩國即兵戎相見

15. 右圖為光緒年間藩屬喪失圖，甲乙丙丁是中國當時的藩屬，企圖吞併各個藩屬的國家為何？並依照藩屬喪失時間先後順序選出最正確的選項。

- (A) 乙(日本)→丙(法國)→丁(英國)→甲(日本)
(B) 乙(日本)→丁(法國)→丙(英國)→甲(俄國)
(C) 丙(法國)→乙(日本)→丁(英國)→甲(日本)
(D) 乙(日本)→甲(日本)→丙(法國)→丁(英國)



16. 威達老師利用暑假期間到中國某地參觀啤酒廠，該啤酒廠始建於西元 1903 年，是為德國商人在中國成立的第一家啤酒廠。採用了德國的釀造技術以及原料，主要供應在中國的德國人以及西方人飲用。請問：威達老師暑假應該是到右圖中何地啤酒廠參觀？該啤酒廠為德國人投資最可能的因素是？



- (A) 甲，南京條約中開放更多通商口岸讓列強在中國經商
(B) 乙，列強在中國劃分勢力範圍
(C) 丙，列強在中國劃分勢力範圍
(D) 丁，南京條約中開放更多通商口岸讓列強在中國經商

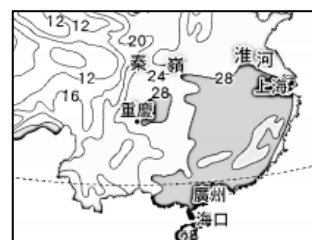
17. 海峽號是來往台北八里---福建平潭的快速客輪，不僅票價便宜，單趟更只要 3 小時，吸引不少精打細算的遊客搭乘。若搭乘海峽號抵達福建平潭，會觀察到下列何種類型海岸？



18. 攜程網是中國旅遊網站，近期為年輕人推出極限冒險的兩日行程，文中寫著「泛著激流極速衝刺的舟、溜著高空俯瞰翱翔的索，是追求冒險者不該錯過的體驗」。若有興趣報名此行程，應到下列何處集合？

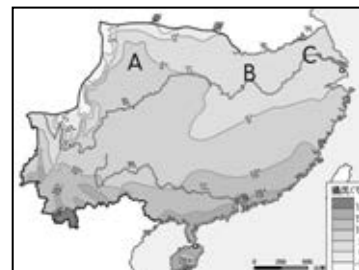
- (A) 長江三角洲 (B) 東南丘陵
(C) 兩湖盆地 (D) 橫斷山脈

19. 右圖為中國南部地區某月份等溫線圖，請根據此圖判斷，下列敘述何者正確？



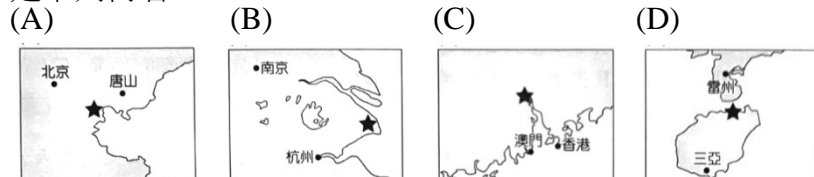
- (A) 此為 7 月等溫線圖
(B) 雲貴高原溫度較高
(C) 四川盆地溫度較低
(D) 橫斷山脈溫度最高

20. 右圖為中國南部地區的等溫線圖，由圖中可見溫度分布 A > B > C，不符合離海越近溫度越高的假設，請問這可能是受到下列何種因素影響，導致有此現象產生？



- (A) 北方高山阻擋 (B) 盆地散熱不易
(C) 所處緯度較低 (D) 近海洋流影響

21. 中國電台報導：「歡迎來到中國最有錢的都市，全年的進出口總額佔全國比重 30%，商品銷售總額比去年增長 12%。為了優化航運的集貨量和疏貨量功能，全球最大自動化碼頭洋山港已經開港試運，讓此港的集裝箱吞吐量連續八年位居世界第一。」請問：報導中所使用的地圖可能是下列何者？



22. 都市的興起皆有特定關聯性，如政策、鐵路、自然環境等，若以台北的『新莊、萬華、淡水』這三者發展的關聯性來看，下列選項中的都市群，哪一項與這三者的關聯性相同？

(A) 甲：『廈門、汕頭、海南』
(B) 乙：『廣州、香港、澳門』
(C) 丙：『重慶、武漢、上海』
(D) 丁：『上海、香港、澳門』

23. 中國的剪紙藝術已列入聯合國教科文組織的「人類非物質文化遺產代表作名錄」。右圖是一幅中國剪紙作品，其中所呈現的應該是下列哪一個地理區的景觀？

(A) 珠江三角洲 (B) 東南丘陵 (C) 長江三角洲 (D) 橫斷山脈

題組一 下圖表為中國 2018 年完工的跨海大橋位置與完工後的預期效益說明，請根據圖中資料回答下列問題：

24. 該大橋所跨越的是下列哪條河川的出海口？

(A) 珠江
(B) 長江
(C) 淮河
(D) 重慶市



25. 圖中代號所代表的都市，下列何者正確？

(A) 甲-廣州 (B) 乙-香港 (C) 丙-澳門

26. 去年香港因重大災害預警，導致此跨海大橋禁止通行，造成許多不便。試問：此重大災害預警可能為下列何者？

(A) 沙塵暴 (B) 暴風雪 (C) 颱風 (D) 地震

題組二 附圖為中國高鐵陸線示意圖，請根據此圖回答下列問題：

27. 圖中『甲』路線農業發達，下列何者不是用來形容此路線農業發達的諺語？

(A) 天府之國
(B) 湖廣熟、天下足
(C) 上有天堂、下有蘇杭
(D) 桂林山水甲天下



28. 中國高鐵輸出頻繁，近日協助寮國、泰國建設通往中國的鐵道工程已開工，預計連接『乙』線鐵道，完成泛亞鐵路的中程計畫。請問：這條鐵路開通後，可為中國帶來何種改變？

(A) 與中亞貿易往來加速 (B) 便於輸出中國棉花
(C)擴大經濟特區成果 (D) 強化與東南亞的經貿

29. 關於『乙』路線所經過的地區來判斷，下列何者可能是此建設最大的挑戰？

(A) 高原凍土遍地 (B) 黃土溝谷遍布
(C) 錐狀峰林崎嶇 (D) 風沙漫天狂舞

題組三 近年來，中國人口增長出現放緩，但人口向大都市聚集的態勢卻沒有減緩。根據調查，2018 年廣州市人口增長了 40.6 萬。附近的深圳人口也增加，其速度遠高於其他都市。請問：

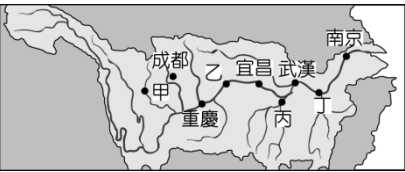
30. 自中國改革開放以來，此地區的發展突飛猛進，其具有的優勢不包括下列何者？

(A) 勞力充足 (B) 交通便利 (C) 政策開發 (D) 原料豐富

31. 改革開放前，華南地區受到自然條件限制，糧食不足，促使大量人口外移，成為中國著名僑鄉。此限制指的是下列何者？

(A) 緯度較低 (B) 雨量較多 (C) 平原較少 (D) 生長季長

題組四 近年來長江發生許多災害，導致沿岸地區居民的生命財產損失，圖為長江流域示意圖，請根據此圖回答下列問題：



32. 世界最大的水利工程-三峽大壩完工後，成為調控長江水源的重要樞紐。請問：此重要的水利工程在圖中何處？

(A) 成都 (B) 重慶 (C) 宜昌 (D) 武漢

33. 中國政府因地制宜，針對不同地區的長江水患問題，有不同的應對措施，下列各地區的措施配對，何者正確？

(A) 甲-汙染管控 (B) 乙-修築堤防
(C) 丙-退田還湖 (D) 丁-建造水庫

34. 行政院將促進臺灣經濟發展視為重要工作項目，行政部門將持續積極檢討鬆綁阻礙經濟發展的法規函釋或命令，務實排除企業投資障礙、減輕人民遵法成本，以促進產業結構調整，提升臺灣經濟動能。就畫線部分的文字下列何者最可能是行政部門可直接鬆綁的法令？

- (A) 《勞動基準法》
(B) 《外國人投資條例》
(C) 《職業災害勞工保護法》
(D) 《創業投資事業輔導辦法》

35. 政軒將老師上課解釋的我國「平等權」做了一些整理，根據內容判斷哪一項編寫錯誤？

	實質平等	形式平等
甲、狀況	相同情況、相同待遇	不同情況、不同待遇
乙、意義	考量環境、天賦的差異給予合理的差別待遇	對所有人都一視同仁、無差別待遇
丙、舉例	女性有生理假	男女均有病假
丁、說明	法律最終理想在追求實質平等	對不同條件者實施形式平等，可能造成假平等

36. 下列是政穎做的關於「請願、訴願、訴訟比較表」其中有一小部分寫錯，請幫他指出錯誤之處？

		請願	訴願	訴訟
(A)	類型	行政上受益權	行政上受益權	司法上受益權
(B)	提出原因	人民對於國家政策、公共利益或自身權益的維護	行政機關違法或不當的行政處分	人民權利受到政府或私人不法侵害
(C)	對象	行政或民意機關	行政或民意機關	司法機關
(D)	目的	僅為願望的陳述	要求撤銷或變更原處分	依法維護自身權益

37. 我國憲法規定：「凡人民之其他自由權利，不妨害社會秩序公共利益者，均受憲法保障。」以下其他權利之說明與配對，何者錯誤？

- (A) 人格權：指維護人的尊嚴與價值所需的權利。例如，個人資料保護法
(B) 文化權：個人對於自然生態及生活環境有享受的權利。例如，客家基本法
(C) 受健康照顧權：人民有權要求可達到的最高標準之健康狀態。例如，長期照顧服務法
(D) 勞動權：指勞工有組織或加入工會，與雇主協商或罷工的權利。例如，勞動基準法

38. 新聞報導：「根據越南政府發佈資訊，越南北部地區確認發生非洲豬瘟病例，越南成為非洲豬瘟疫情國，是亞洲地區繼中國、蒙古後第三國。非洲豬瘟中央災害應變中心緊急發佈消息，即日起，凡自越南攜帶豬肉產品入台者，第一次違規將裁罰 20 萬元，第二次開罰 100 萬元；外來人士若未繳清罰款者將移送移民署拒絕入境。」依我國《憲法》規定判斷，上述政府限制人民權利的理由，最可能與下列何者相同？

- (A) 不得任意拆閱他人信件 (B) 不得隨意棄置垃圾
(C) 不得違規停放個人車輛 (D) 不得於颱風天至海邊觀浪

題組五 行政院院會於 2019-02-21 通過「司法院釋字第 748 號解釋施行法」草案，即俗稱「同婚專法草案」給予同性伴侶和異性婚姻相似的法律保障，源於(甲)在 2017 年 5 月 24 日做出釋憲結論，判定民法婚姻規定否定同性婚姻權違憲，要求相關機關須在 2 年內完成相關法律修訂。美國時代雜誌表示，這是亞洲首份同性婚姻法提案。法新社形容，台灣擁有亞洲數一數二的同志人權。

39. 請問：「司法院釋字第 748 號解釋施行法」其法律位階為何？
(A) 憲法 (B) 法律 (C) 命令 (D) 行政法規

40. 請問：(甲)應該填入何者？

- (A) 大法官會議 (B) 憲法法庭 (C) 行政院會議 (D) 立法院

41. 請問：文中「判定民法婚姻規定否定同性婚姻權違憲」，這顯示出憲法哪一個特性？

- (A) 最高性 (B) 固定性 (C) 原則性 (D) 特殊性

42. 行政院院會於 2019-02-21 通過「司法院釋字第 748 號解釋施行法」草案，若想要讓此法正式的施行需透過什麼樣的步驟？

- (A) 司法院決議→總統公布
(B) 立法院三讀通過→總統公布
(C) 立法院決議→公民複決
(D) 行政院決議→立法院公布

題組六 蔡英文總統在 2014 年投書《蘋果日報》表示，對她來說，最重要的憲政問題有兩個，一是解決國會與民意脫節，二是直接民主「公投」的門檻過高。很多憲政議題台灣社會已經有過許多討論像「十八歲公民權」、「人權條款」、「票票不等值」，這些已經有高度社會共識的議題，不過修憲卻功敗垂成。總統在 2017 年的民進黨全代會中又提出，希望可以再度啟動憲政改革列車。但憲政學者指出，我國修憲門檻過高實屬不易。

43. 文中提及「修憲門檻過高實屬不易」，這顯示出憲法哪一個特性？

- (A) 最高性 (B) 固定性 (C) 原則性 (D) 特殊性

44. 若將文中「啟動憲政改革列車」的法定程序順序應為下列何者？

- (A) 立法院提出憲法修正案→公告一年→總統公布
(B) 大法官提出憲法修正案→公告一年→公民投票複決
(C) 總統提出憲法修正案→公告一年→立法院審議
(D) 立法院提出憲法修正案→公告半年→公民投票複決

45. 總統所指出的憲政問題其中之一為「公民投票」，關於公投之敘述下列敘述何者錯誤？

- (A) 屬於公民權利
(B) 已將公投年齡下修為 18 歲即可參與
(C) 是為實現創制複決權
(D) 屬於人民的表達意見自由

題組七 2010 年 9 月，苗栗縣長劉政鴻為徵收田地，以擴建「新竹科學園區竹南基地」為由，動用警察圍住大埔農地，強制徵收農民田地，過程被錄影後，激起農民憤怒，也引發社會議論。同年 7 月 17 日，住戶組成自救會並與約 3000 名農民團體，為了這件事在凱達格蘭大道集會抗議，要求修改《土地徵收條例》，控告內政部區段徵收違法並進行訴訟，堪稱是台灣農民最大集合。

46. 由此事件可知，苗栗縣政府是以下列何者為由強制徵收私人土地拆遷民宅？

- (A) 增進公共利益 (B) 防止妨礙他人自由
(C) 避免緊急危難 (D) 維持社會秩序

47. 關於文中《土地徵收條例》，下列敘述何者正確？

- (A) 該條例屬於命令之一
(B) 修改此條例的機關為立法院
(C) 若該條例違憲可由行政院做出解釋
(D) 該條例僅可以達到維護社會秩序的功能

48. 下列關於上文之敘述，何者正確？

- (A) 「住戶組成自救會」是集會自由的表現
(B) 「農民團體為了這件事在凱達格蘭大道集會抗議」屬於參政權
(C) 「自救會控告內政部區段徵收違法並提出訴訟」展現的是人民的受益權
(D) 「此事引發社會大眾的議論」屬人民的秘密通訊自由

題組八 台北市某中學老師，遭執行署認定有四個年度漏報綜合所得稅達四百餘萬元，被追繳期間非但未繳納，還攜全家出國旅遊，而其妻在無工作情況下又可買賣房屋。台北地院民事庭法官認定，該名老師明有可繳納之財力卻不理會，庭末裁准「管收」，當晚被送往台北看守所發監執行，可「抗告」。

說明：1. 所謂「管收」係指在一定期間內，將義務人拘束於一定處所之強制處分。

2. 所謂「抗告」係指在民事、刑事訴訟中，因為不服法院之裁定，而依訴訟法規定，向直接上級法院提起請求將原裁定撤廢或變更。

49. 依上文所述，該名中學老師因違反憲法中何種基本義務而遭到管收？

- (A) 服務兵役 (B) 納稅 (C) 受國民教育 (D) 服公職

50. 文中「…庭末裁准管收，當晚被送往台北看守所發監執行，可抗告。」此句話中，「庭末裁准管收」是「剝奪」他憲法所保障的何項權利？「可抗告」則說明憲法「賦予」他何項權利的展現？

- (A) 「剝奪」其人身自由權，「賦予」其受益權
(B) 「剝奪」其居住遷徙自由權，「賦予」其參政權
(C) 「剝奪」其表達意見，「賦予」其人身自由權
(D) 「剝奪」其平等權，「賦予」其受益權

新北市立新莊國民中學 107 學年度第 2 學期第 1 次段考 8 年級社會領域試題

解答

1	2	3	4	5	6	7	8	9	10
D	C	B	D	D	B	B	B	C	B
11	12	13	14	15	16	17	18	19	20
C	C	D	A	A	B	C	D	A	A
21	22	23	24	25	26	27	28	29	30
B	C	C	A	C	C	D	D	C	D
31	32	33	34	35	36	37	38	39	40
C	C	C	D	A	C	B	D	B	A
41	42	43	44	45	46	47	48	49	50
A	B	B	D	D	A	B	C	B	A