

# 新北市立新莊國民中學 108 學年度第 2 學期第 2 次段考 9 年級社會領域試題卷

班級： 座號： 姓名：

- ※ 選擇題：本試卷共 50 題，每題 2 分，總分為 100 分。  
每一題均為單選題，請選出最適當答案。  
※ 請用 2B 鉛筆在答案卡上相應的位置畫記。

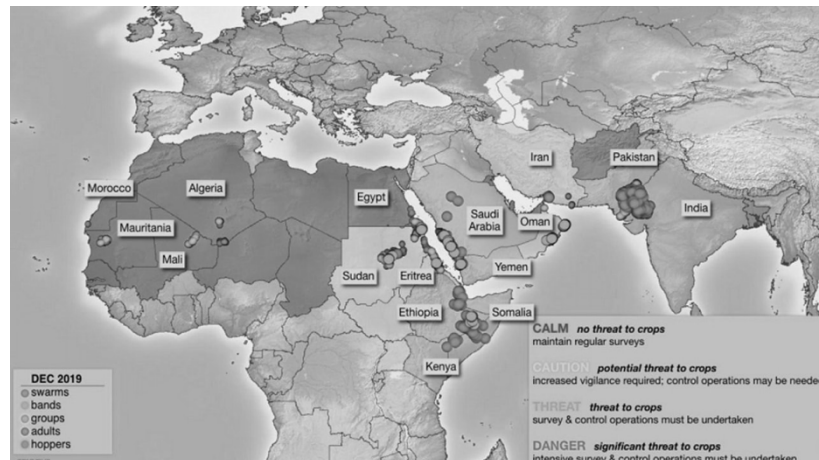
## 題組

疾管署官員 2019 年 12 月 31 日於網路上發現中國武漢地區不明肺炎消息，隔天於 Line 群組發起討論，並發信通告世界衛生組織尋求確認，翌日台灣針對武漢返國民眾進行登機檢疫，推行被稱為超前佈署的防疫政策，第一個禁止口罩出口、第一個利用行動大數據防疫，第一個口罩實名制等，截至 5 月 5 日為止全球已有 352 萬人受到感染者，並有 24.8 萬人不幸去世，對比台灣僅 437 個感染案例，顯得不真實；然而有學者疾呼，當世界疫情未停歇時，台灣就不可能從此疫全身而退。面對這百年大疫，地球上的每個人都受到了不等的衝擊，僅能慶幸我們能生活在這個安全許多的國家-台灣。

1. 疾管署官員得以發現不明肺炎消息，並通知相關單位立即啟動防疫機制超前佈署，是得益於下列何者？  
(A)全球化 (B)國際分工 (C)交通革新 (D)文化擴散
2. 與 1929 年的全球流感疫情相比，2019 年的武漢肺炎感染速度更快，短短三個月內即造成世界大流行，此與哪種交通工具發展的關係最大？  
(A)輪船 (B)飛機 (C)火車(D)汽車
3. 肺炎傳播速度與人口的移動有極大的相關性，當一地的交流愈密切、交通愈便利，則傳播速度愈快，若依此規則判斷，下列何地的傳播速度可能「最慢」？  
(A)土耳其 (B)吐瓦魯 (C)新加坡 (D)法國
4. 口罩是在無法維持社交距離的情境下，最好的防疫工具，但現今除了泰國、中國、越南等地之口罩可自給自足外，歐洲、北美洲、日本等地區皆需大量進口，由此判斷，口罩的生產具有何種區位特性？  
(A)需要廉價勞力 (B)需有充足動力  
(C)需要先進技術 (D)需有充沛資金
5. 本次疫情多國頒布封城令，限制商業活動，讓許多企業遭受經濟損失，而跨國企業因具有下列何項特性，使其難以避免虧損有關？  
(A)生產規模不大，因應各國市場特色  
(B)集中總部生產，有利節省運費  
(C)跨國性的廣告銷售，市場遍及世界  
(D)成本高於本國市場，依賴品牌行銷
6. 「對比全球國家，台灣案例僅 437 例，但當世界疫情未停歇時，台灣就不可能從此疫全身而退。」這句話充分反應下列哪項概念？  
(A)全球化 (B)國際分工 (C)交通革新 (D)文化擴散
7. 為了控制疫情，多數國家頒布邊界管制禁止跨國移動，並限制防疫物資出口，但此措施在某個國際組織遭受極大阻力，質疑會影響區域統合的傳統。試問：這組織可能為下列何者？  
(A)歐洲聯盟 (B)世界衛生組織  
(C)國際貨幣基金會 (D)亞太經濟合作會議
8. 紐西蘭疫情逐漸趨緩，為了重新活絡與他國的經貿活動，考慮針對疫情緩和的國家如澳洲、南韓、台灣、新加坡組成防疫隔離圈。請問：紐西蘭考慮邀請加入隔離圈的國家，有何共通性？  
(A)皆是世界衛生組織成員國 (B)皆是聯合國會員國  
(C)皆是亞太經濟合作會議成員國 (D)皆是大英國協成員國

## 題組

下圖為 2019 年末~2020 年間蝗蟲行進路線圖，圖中圓點越多的地方，表示受到蝗蟲危機的影響越大，請根據此張蝗蟲危害分布圖回答下列問題：



9. 由災害發生的地點判斷，若聯合國發佈蝗蟲災害預警，則下列哪種氣候型態的國家最容易受到影響？  
(A)溫帶海洋性氣候 (B)熱帶雨林氣候  
(C)溫帶大陸性氣候 (D)熱帶沙漠氣候
10. 當美國 CNN 播報聯合國發佈之蝗災預警時，多數民眾事不關己，只有卡達半島電視台正式發出預警，當地民眾才認為事態重大，這與當地民眾普遍不信任美國 CNN 的文化衝突有關。試問：當地民眾可能信奉的宗教為？  
(A)印度教 (B)藏傳佛教 (C)希臘正教 (D)伊斯蘭教

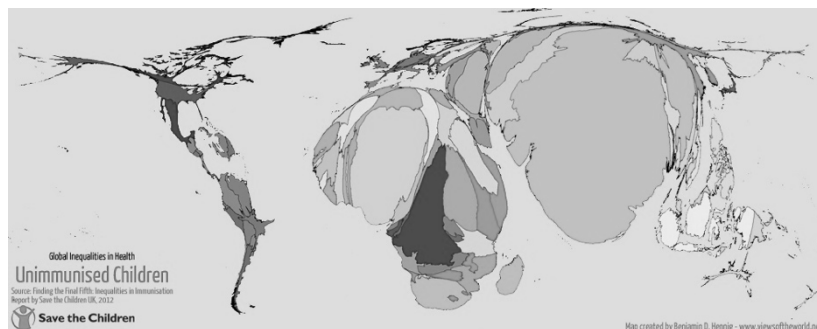
## 題組

湄公河為世界第 12 長，亞洲第 7 長河，發源自中國青藏高原，行經中南半島並由越南入海，近年來因中國於上游構築水壩，促使原本水源充足的中下游國家，竟面臨旱災威脅，更影響著中國與中南半島國家間的緊張關係，湄公河流域的聯合治理成了當地發展的重要課題。請問：

11. 中南半島河流沿岸，近年來對於中國的怨言漸深，對當地政府形成壓力，尤其是依賴湄公河水源維生的民眾，這樣的壓力通常在什麼時候最嚴重？  
(A)二月 (B)六月 (C)八月 (D)十月
12. 若以跨國流域的聯合治理成效來說服中國加入，下列哪條河流的經驗可供參考？  
(A)多瑙河 (B)密西西比河 (C)長江 (D)亞馬孫河

## 題組

疫苗接種是對抗疾病的重要方式，但並不是每個地方的兒童都有機會接種疫苗，這張圖是全球兒童『未接種疫苗』覆蓋率示意圖，由圖中可知道未接種疫苗的兒童多集中在印度與非洲。請根據此圖回答下列問題：



13. 依據此圖判斷，『未接種疫苗』覆蓋率高的國家，具有下列何種特性？  
 (A)緯度較高 (B)人均 GDP 較低  
 (C)都市化程度高 (D)出生率較低
14. 全球化的經濟體系中，『未接種疫苗』覆蓋率高的國家，其在國際分工中通常扮演何種角色？  
 (A)技術支援 (B)資金提供 (C)原料供應 (D)終端市場
- 題組**  
 國內新創業者『配客嘉 PackAge+』研發『可重複使用的網購循環包裝』平台，設計可多次使用的循環包裝，減少紙材使用，消費者可與合作之電商選擇以循環包裝寄送商品，取貨後將包裝袋送至回收點，並可獲得優惠，後由物流配送重新使用。此專案募資僅 4 天即破 200 萬的資金流入，並預計生產一萬個網購循環包裝，每個包裝將減少 80%碳排放。請問：
15. 此計畫的主要宗旨為何？  
 (A)降低進口依賴 (B)維持生物多樣性  
 (C)交通運輸革新 (D)落實永續發展
16. 若此新創業者的理念能行銷世界，則可以解決下列何種全球面臨的問題？  
 (A)貧富差距大 (B)臭氧層破洞  
 (C)海平面上升 (D)水資源不足
17. 下列有關各國際組織的敘述，何者**正確**？  
 (A)世界衛生組織屬於政府性的國際組織，負責解決各國爭端，防止戰爭發生  
 (B)國際綠色和平組織屬於保障人權的國際組織，成立目的在促使全人類盡可能獲得最高的健康水準  
 (C)東南亞國家協會屬於區域性的政府組織，目的在促進會員國間經濟、社會、文化合作  
 (D)紅十字國際委員會舉辦飢餓三十活動，邀請民眾透過參與活動發揮愛心。
18. 自 1971 年中華人民共和國進入聯合國後，我國在國際地位上處處受到中國大陸打壓，但我國政府仍以務實多元的外交方式，在政府與民間的努力下，積極參與國際事務。請問：下列對於我國國際參與的敘述，何者**正確**？  
 (A)1991 年，我國以「台澎金馬個別關稅領域」名稱加入亞太經濟合作會議  
 (B)2002 年我國以「中華台北」名稱加入世界貿易組織  
 (C)2009 年我國以「中華台北」名稱正式成為世界衛生組織會員國  
 (D)台灣路竹會組成醫療服務團，到國外醫療資源不足的地區，提供醫療援助。
19. 報載：「中央災害應變中心表示，印度於 5 月 3 日確認發生非洲豬瘟(ASF)疫情，提醒旅客若來自近三年曾發生非洲豬瘟的地區，攜帶豬肉製品未申報，最高可開罰 100 萬元。由於中國非洲豬瘟疫情向東南亞蔓延，東南亞多個國家之間沒有天然屏障，傳播風險極大，因此只要是從東南亞國家攜帶入境或是進口的產品，都將列為重點查緝。」請問：上述內容顯示全球關注的何種議題？  
 (A)貧富差距 (B)疾病傳播 (C)國際犯罪 (D)生態環境。

20. 國際太空站(簡稱 SSI)是指在微重力環境下的研究實驗室，研究領域包括生物學、物理學、天文學、地理學、氣象學等，主要由美、俄策畫，集 6 個太空機構、共 16 國耗資 1,000 億美元所完成的重要太空計畫。請問：這是何種國際社會的互動？  
 (A)國際衝突(B)國際交流(C)國際援助(D)國際合作
21. 故宮原定今年度有四大國際借展，其中除了「法國凱布朗利博物館面具精品展」，以及出借明代仇英的作品給美國洛杉磯郡立美術館辦理「真相所在—仇英藝術特展」，為已進行中的計畫，其他借展因為疫情關係，目前多已與合作方取得延期的共識。請問：上述最主要說明了何種國際互動？  
 (A)國際組織(B)國際交流(C)國際援助(D)國際衝突。
22. 外電報導：法國各地教堂同時鳴鐘支持遭大火重創的巴黎聖母院。另外法國開雲集團率先捐了 1 億歐元，各界紛紛慷慨解囊，民眾也發起贊助計畫，各方捐款加起來已經高達台幣約 283 億元，各國亦表達關切及捐款。綜合上述，就聖母院所在的區域及各方捐款而言，下列何者敘述**正確**？  
 (A)該區有歐洲聯盟、屬於國際援助  
 (B)該區有亞太經合會議組織、屬於國際援助  
 (C)該區有歐洲聯盟、屬於國際交流  
 (D)該區有美洲聯盟、屬於國際衝突。
23. 野生救援組織(WildAid)是一個由民間各界人士志願組成，致力於保護野生動物的全球性組織。該組織以「沒有買賣，就沒有殺害」的文字作為標語，並將臺灣列為重要的宣導地點，究其原因，在於我國傳統飲食文化中，魚翅象徵富裕與財力，因此對魚翅的使用量較高。由上文判斷，該組織的組成性質與下列哪一個國際組織最為相似？  
 (A)EU (B)GREENPEACE (C)ASEAN (D)APEC。
24. (甲)亞太經合會議(乙)國際特赦組織(丙)國際世界展望會(丁)世界貿易組織(戊)國際綠色和平組織(己)世界衛生組織(庚)聯合國，由於中共打壓我國國際空間，致使我國參與國際社會受挫，下列何者是目前我國「未能」加入的「政府的國際組織」？  
 (A)甲乙丙 (B)丁庚 (C)己庚 (D)乙丁庚。
25. 報載：全球暖化、氣候變遷的問題日益嚴重。由 16 歲瑞典少女桑柏格發起的學生罷課活動，有超過 100 個國家的學生響應。桑柏格從 2019 年 8 月起，每週五都會罷課到瑞典國會旁抗議，要求政府官員對氣候變遷採取積極作為。台灣也有基隆二信高中的學生陳颯頤發起響應活動、宣布加入的罷課行列，成立粉絲專頁「Fridays for future Taiwan」，以「沒有未來，何必上課」為口號宣傳活動，並在粉專上宣導世界面臨的氣候問題，氣象達人彭啟明、台灣綠色和平組織都轉貼粉專聲援這場活動。請問，上文牽涉的話題，跟下列「較無關」？  
 (A)全球化 (B)關心國際事務並付出行動  
 (C)環保議題 (D)恐怖活動。

26. 在全球化的今日，有許多跨國議題需要全人類共同關心，如附圖對話中所討論的，屬於下列哪一議題？

(A)國際犯罪議題 (B)跨國疾病議題  
(C)貧富差距議題 (D)環境議題。



27. 全球化使得世界似乎成為一個整體的地球村，個人身處其中，應善盡身為世界公民的責任，如附圖所示，兩人是以何種方式參與國際社會？

(A)進行學術交流 (B)展現國民外交  
(C)發揚在地文化 (D)關心國家事務。



28. 書靜在探討某項議題時，以剪報做為例子。請問：該議題應為下列何者？

(A)國際犯罪議題 (B)環境議題  
(C)人權議題 (D)貧富差距議題。

快報

美國最高法院通過判決—通過同性婚姻在美國每一州的合法性。美國總統表示，今日美國向平權邁進了一大步，同性戀者和所有人一樣，有結婚的權利。

29. 臺籍漁船日春財 68 號在印度洋海域遭索馬利亞海盜劫持後，又連帶被執行反海盜任務的美國軍艦開火攻擊，美國海軍與索馬利亞海盜交火後，美國軍艦雖勝利，但臺籍漁船船長已經不幸罹難。請問：這項不幸的消息顯示全球面臨的哪項問題日益嚴重？


(A)糧食短缺(B)疾病傳播(C)國際犯罪(D)貧富差距。

30. 臺灣的「綠生態」公平貿易咖啡店，結合了環保、公平貿易的理念。他們在貿易商的營業額中，抽取固定比例的金額，作為社會發展基金，為貧窮國家建立水、電、教育及醫療等基礎設施的經費，並推動不噴灑農藥的環保栽種法。請問：「綠生態」咖啡店獲得推動『國際公平貿易組織』的認證，下列選項中，何者可能是該國際組織的標章？


(A)



(B)



(C)



(D)



【題組】下列是新聞報導的部分內容：「新冠肺炎疫情最初在 2019 年 12 月於中國湖北省武漢市被發現，隨後在 2020 年初迅速擴散至全球多國，逐漸變成一場全球性大瘟疫，被多個國際組織及傳媒形容為自第二次世界大戰以來全球面臨的最嚴峻危機。截至 2020 年 5 月 10 日，全球已有 220 多個國家和地區累計逾 390 萬名確診病例，逾 27 萬名患者死亡。」請問：

31. 臺灣與中國大陸的人員與物資往來密切，以及全球疫情開始擴散，2020 年 1 月 21 日臺灣出現第一例境外移入確診個案，代表全球環境相互連繫，容易帶來哪種問題？  
(A)疾病傳播 (B)國際犯罪 (C)貧富差距 (D)環境生態。

32. 下列哪個全球性的國際組織，會定期公告疾病傳染地區與傳染方式的資訊？

(A)世界貿易組織 (B)國際綠色和平組織  
(C)國際特赦組織 (D)世界衛生組織。

33. 為了協助控制疫情，防止擴散或蔓延的情況，我們應抱持哪種正確的心態？

(A)積極做好健康管理 (B)嚴以律人寬以待己  
(C)物競天擇普世真理 (D)閉關自守自力救濟。

34. 在印度民族復興運動的過程中，哪一位人物提倡非暴力的「不合作運動」，號召印人不納稅、抵制英貨等，印度人尊其為「聖雄」？

(A)凱末爾 (B)凱因斯 (C)墨索里尼 (D)甘地。

35. 目前土耳其錢幣上面採用的肖像，乃是領導該國在戰間期免於被列強瓜分的危機，並建立土耳其共和國，帶領土耳其走向現代化的領袖。請問：該錢幣上面的肖像應是何人？

(A)凱末爾 (B)墨索里尼 (C)加富爾 (D)列寧。

36. 某書的簡介如下：「書中描寫一場革命結束了長達三百多年的沙皇專制統治，成立臨時政府，但在八個月之後，布爾什維克革命又推翻了曇花一現的臨時政府。」此書最可能是下列何者？

(A)《1789 年法蘭西的革命》  
(B)《1871 年德意志的崛起》  
(C)《1917 年變動的俄羅斯》  
(D)《1949 年共產中國誕生》。

37. 第一次世界大戰期間，俄國因戰事失利，社會經濟問題嚴重，國內先後發生兩次革命，最後由下列何人建立共產政權—蘇聯？

(A)史達林 (B)希特勒 (C)列寧 (D)戈巴契夫。

38. 西元 1929 年，在人類史上發生一場重大事件，造成國際間不論在經濟、外交、社會或政權上都有巨大的改變。請問：此事件應是下列何者？

(A)維持和平的國際聯盟終於成立  
(B)人類歷史上的第一個共黨政權出現  
(C)第一次世界大戰終於結束  
(D)世界性的經濟大恐慌從美國開始發生。

39. 第一次世界大戰後，義大利經濟低迷，人民對政府不滿，趁機建立極權政治的是何人？

(A)希特勒 (B)列寧 (C)史達林 (D)墨索里尼。

# 新北市立新莊國民中學 108 學年度第 2 學期第 2 次段考 9 年級社會領域試題卷

班級： 座號： 姓名：

40. 電影「辛德勒的名單」中，將當年納粹黨對猶太人進行慘無人道的屠殺場面血淋淋的呈現在觀眾面前。請問：在當時實施種族迫害政策，尤以對猶太人的迫害最為嚴重的罪魁禍首是為何人？  
(A)列寧 (B)史達林 (C)希特勒 (D)墨索里尼。
41. 第二次世界大戰前，英國、法國對於德國的侵略行為，採取何種態度？  
(A)樂觀其成 (B)姑息主義  
(C)透過國際聯盟予以制裁 (D)分享利益。
42. 電影《珍珠港》是一部描寫當時參戰軍人的浪漫愛情故事。這部電影的歷史背景為何？  
(A)美國國內南北戰爭  
(B)英美聯軍計畫登陸諾曼第  
(C)日軍侵略美國海軍基地  
(D)美國向日本轟炸原子彈。
43. 西元 1930 年代，哪一個國家積極向外侵略，先後兼併奧國與捷克，最後入侵波蘭引發了第二次世界大戰？  
(A)德國 (B)義大利 (C)蘇聯 (D)日本。
44. 在戰爭影片《搶救雷恩大兵》中，描述了西元 1944 年 6 月 6 日盟軍在法國西部海岸登陸，開闢了「第二戰場」的慘烈戰況。請問：當時登陸的地點是在下列哪一個地方？  
(A)北非 (B)諾曼第 (C)西西里 (D)珍珠港。
45. 日前發生臺灣學生打算參觀從第二次世界大戰後設立的某國際組織位於紐約的總部時，竟被要求攜帶臺胞證才能獲准進入，此事件被美國媒體批評該組織強調和平與人權，但卻歧視臺灣人民。請問：曉華想參觀的應該是下列哪一個組織？  
(A)聯合國 (B)國際聯盟  
(C)歐洲聯盟 (D)北美自由貿易協定。
46. 第二次世界大戰後，形成民主與共產兩大集團互相對抗的冷戰局勢，其原因為何？  
(A)納粹法西斯的死灰復燃  
(B)美國外交採孤立主義  
(C)美國與蘇聯兩大強權的鬥爭  
(D)區域性統合的產生。
47. 西元 1962 年蘇聯在中美洲裝置飛彈，威脅到美國本土的安全，於是美國以軍艦封鎖，阻止蘇聯船隻前往，結果引起哪一國際危機？  
(A)墨西哥危機 (B)古巴危機  
(C)巴拿馬危機 (D)哥倫比亞危機。
48. 第二次世界大戰後，中東地區爆發了長達半世紀之久的以阿衝突，其原因為何？  
(A)巴基斯坦追求獨立 (B)猶太人在巴勒斯坦建國  
(C)共產勢力介入 (D)伊拉克入侵科威特。
49. 1970 年代美國青年曾發起大規模的示威抗議，要求政府停止這場長達 20 年的戰爭，以免更多的美國青年死於戰場。請問：這場令無數美國人難忘的戰爭為何？  
(A)韓戰 (B)越戰 (C)波斯灣戰爭 (D)第二次世界大戰。
50. 蘇聯在哪一位改革派領袖的領導下，在外交方面強調有誠意與世界各國和平共處，使美、蘇敵對的冷戰步入尾聲，東歐共產政權瓦解？  
(A)史達林 (B)馬克思 (C)戈巴契夫 (D)列寧。

新北市立新莊國民中學 108 學年度第 2 學期第 2 次段考 9 年級社會領域試題  
解答

1	2	3	4	5	6	7	8	9	10
<b>C</b>	<b>B</b>	<b>B</b>	<b>A</b>	<b>C</b>	<b>A</b>	<b>A</b>	<b>C</b>	<b>D</b>	<b>D</b>
11	12	13	14	15	16	17	18	19	20
<b>A</b>	<b>A</b>	<b>B</b>	<b>C</b>	<b>D</b>	<b>C</b>	<b>C</b>	<b>D</b>	<b>B</b>	<b>D</b>
21	22	23	24	25	26	27	28	29	30
<b>B</b>	<b>A</b>	<b>B</b>	<b>C</b>	<b>D</b>	<b>C</b>	<b>B</b>	<b>C</b>	<b>C</b>	<b>A</b>
31	32	33	34	35	36	37	38	39	40
<b>A</b>	<b>D</b>	<b>A</b>	<b>D</b>	<b>A</b>	<b>C</b>	<b>C</b>	<b>D</b>	<b>D</b>	<b>C</b>
41	42	43	44	45	46	47	48	49	50
<b>B</b>	<b>C</b>	<b>A</b>	<b>B</b>	<b>A</b>	<b>C</b>	<b>B</b>	<b>B</b>	<b>B</b>	<b>C</b>

