

# 新北市立新莊國民中學補考題庫：九上英語科

年 班 座號： 姓名：

1. ( )附圖為希臘的某座遺跡。請問：古希臘人最可能在此地從事何種活動？(A)甲乙丙 (B)甲丙丁



甲、演出奧德賽的故事 乙、舉辦武士的格鬥  
丙、演出希臘神話的故事 丁、舉辦敬神的祭典

2. ( )西元前 2500 年，拉普生活在埃及 尼羅河一帶的城市，他最有可能看到下列哪一種景象？ (A)崇拜一神信仰，以上帝耶和華為唯一真神 (B)人們常受到官員的徵召去興建大型國王陵墓。
3. ( )雅典城邦是希臘古典文明的重要代表城邦。請問：下列有關雅典的敘述何者正確？ (A)實施軍事統治 (B)鼓勵公民參與政治
4. ( )某作品以 14 世紀遭受黑死病襲擊的佛羅倫斯為背景，以義大利文創作，反映當時的社會面貌。該書描寫幾位青年男女為躲避疫情而遷居鄉間，輪流說故事作為消遣，本書內容就是這些故事的集合。請問：本書的作者最可能是下列何者？ (A)但丁 (B)薄伽丘。
5. ( )附表為某四個國家對外主要的出口品清單，請由表中資料判斷，何者最可能為漠南非洲國家？ (A)丙 (B)乙。

國家	主要出口品
甲	電腦、汽車、肉品
乙	鋼鐵、汽車、紡織
丙	咖啡、可可、石油、鐵礦
丁	牛乳、稻米、鐵礦

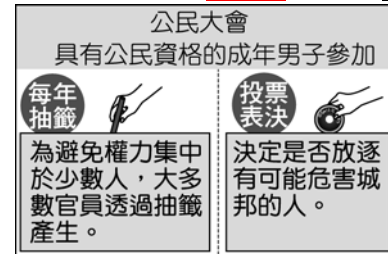
6. ( )「漠南非洲許多地區的居民仍維持傳統的一級產業活動……」引句中的「一級產業活動」最可能是指下列何者？(A)甲乙 (B)甲丙

(甲)游耕、游牧 (乙)採集、狩獵 (丙)採礦、工業  
(丁)灌溉農業、熱帶栽培業

7. ( )馬丁路德強調聖經在信仰上的重要性，因此希望能讓更多信徒直接閱讀聖經。請問：他使用哪一種語文翻譯聖經？ (A)拉丁文 (B)德文。
8. ( )小龍發現看的報紙標題缺了一角，只能看出「無現金社會不遠！○○○○比例逐年增，嚟經濟成市場主流」。請問：○○○○最可能為下列何項內容以及判斷理由？ (A)行動支付，因為減少現金使用 (B)行動支付，因為增加現金使用。
9. ( )下列四家航空公司宣傳標題，何者透過價格因素來提升消費者購買意願及數量？(A)甲 (B)乙

甲：你買去程機票，回程交給我們買單！本航空讓你出國無負擔！  
乙：現在訂票，可憑票根使用貴賓室及專屬快速通道，讓你出國盡享尊榮！

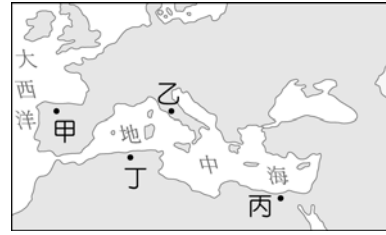
10. ( )某公司員工發現，公司加班費未依法律規定給付，甚至規定遲到 1 分鐘就扣 100 元。儘管老闆出面澄清，加班費都有照規定給付，而會對員工遲到行為作出懲處，是因為其出勤狀況不佳。不過，勞工局表示，遲到罰錢按薪資比例計算，否則既屬違法。勞工局所說的法律是哪部法律？ (A)憲法 (B)勞動基準法 (D)。
11. ( )附圖為某古代文明政治運作的特色，此文明最可能是下列何者？(A)雅典 (B)蘇美



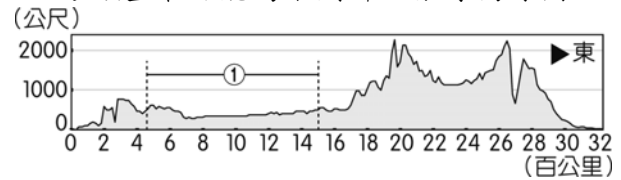
12. ( )育綺想參加某歌手的演唱會，但官方售票系統在 5 分鐘內所有票價均完售，因此沒買到門票。育綺上網查看臉書社群，希望能遇到想轉售門票的人，但她卻發現，社群上的票價高於官方售票系統，想購買的人也不少，她認為這就是「黃牛票」，於是拒絕購買。有關上文的情況，下列敘述何者正確？ (A)從官方售票系統來看，可知演唱會的門票數量多於消費者需求 (B)育綺在臉書社群上看到的票價，是由「看不見的手」引導產生。
13. ( )浩誠跟母親回到臺東老家參加豐年祭，同時也享受了新鮮空氣，而住在臺中的小燕卻需要花錢購買空氣清淨機。從經濟學的角度來看，下列敘述何者正確？ (A)浩誠在臺東享受的新鮮空氣具備稀少性 (B)臺中的空氣品質佳，清新的空氣不具備稀少性。
14. ( )今天，當人們希望初步了解某項事物時，常會為了方便借助網路上的「維基百科」等網站；在沒有線上百科的時代，則是借助大英百科全書等「百科全書」類的工具書。請問：開創此類著作風氣的是哪一位學者？ (A)伏爾泰 (B)狄德羅
15. ( )啟蒙運動時期，亞當斯密提出經濟理論，說明政府與經濟活動的觀點。下列何種政府對經濟活動的態度，最符合亞當斯密的理論？ (A)疫情前口罩自由買賣口 (B)疫情後限制口罩價格。
16. ( )1 月 26 日是澳洲的國慶日，為首批英國人移居澳洲的日子。近年來，澳洲的國慶日往往出現抗議的集會遊行，希望更改國慶日的日期。請問：此抗議聲浪的出現，主要是因為不認同下列何事？ (A)澳洲自英國獨立 (B)將殖民起始日訂為國慶日。

17. ( )「我不同意你的意見，但我以死捍衛你說話的權利。」一句最早出現於伊夫林·碧翠思·霍爾的著作中，用以歸納一位啟蒙時代學者的理念。請問：這本著作應是以下列哪位學者為主題？  
(A) 伏爾泰 (B) 盧梭。
18. ( )某家速食店在2018年開放使用信用卡付款，發行儲值卡（例如：點點卡），而後又陸續接受4大電子票證（悠遊卡、一卡通、icash、有錢卡）與LINE Pay 交易，使交易方式多元、便利。請問：上述未提起下列何項交易方式？ (A) 塑膠貨幣 (B) 商品貨幣。
19. ( )怡君在電視上看到巴西每年舉辦的嘉年華慶典活動頗為熱鬧，準備在隔年到里約熱內盧參加活動。請問：她應該學習下列哪種語言以便與當地人溝通？ (A) 西班牙文 (B) 葡萄牙文。
20. ( )在宗教改革的背景下，天主教受到新教的衝擊，本身也進行了改革。請問：天主教成立什麼組織，對明末清初的東西方文化交流有所貢獻？ (A) 耶穌會 (B) 喀爾文教派。
21. ( )佛教、基督教與伊斯蘭教是當今世界的主要宗教信仰，下列哪些是三個宗教的共通特色？(A) 甲乙丁 (B) 甲丙丁  
甲、曾獲統治者接納；乙、擁有自己的經典；  
丙、發源於地中海東岸；丁、受到其他宗教影響
22. ( )理化老師在進行「溫度與溫度計」教學時，提到發明溫度計的是義大利的一名科學家，他還使用自己改良的望遠鏡，證實先前的「地繞日動」學說。請問：此學者為何人？ (A) 哥白尼 (B) 伽利略。
23. ( )漠南非洲歷年饑荒不絕，面臨嚴重的糧食問題，成為國際長年關注的焦點。除氣候與戰爭因素外，漠南非洲常見饑荒主要尚與下列哪些原因有關？(甲)過度的開墾導致沙漠化加劇；(乙)出生率下降導致高齡化嚴重；(丙)經濟作物種植排擠糧食作物；(丁)大量技術移民進入境內謀生 (A) 甲乙 (B) 甲丙。
24. ( )理查是羅馬帝國時期某個宗教的信徒，他尊崇上帝耶和華，因為拒絕膜拜皇帝的畫像而遭政府迫害。但沒想到數百年後，他所信仰的宗教卻成為羅馬帝國的國教。從上述推論，理查信奉的應是下列哪一個宗教？ (A) 基督教 (B) 印度教。
25. ( )歐洲18世紀在生產技術上產生重大變革，以蒸汽動力的機器逐漸取代傳統人工的生產方式。英國因為盛產某礦產，能提供機械運作的動能，而成為工業革命的發源地。請問：前述所指礦產為下列何者？ (A) 煤礦 (B) 石油。
26. ( )阿里巴巴與四十大盜、阿拉丁神燈等耳熟能詳的故事都是出自經典文學名著天方夜譚，這本書常以下列哪個城市的繁榮與發展為背景？ (A) 羅馬 (B) 巴格達。
27. ( )西元前4世紀，亞歷山大創立橫跨歐、亞、非的

帝國，並在其征服的疆域內興建城市。下圖中的甲、乙、丙、丁，何者最可能是他所興建的城市？(A) 丙 (B) 乙



28. ( )附圖是赤道附近的非洲地形剖面圖，請問：①的地形類型最可能為下列哪一張等高線圖？



▲赤道附近的非洲地形剖面圖

- (A) (B)
29. ( )古希臘曾發展出許多在政治上和經濟上獨立的城邦，其主要因素為何？ (A) 血統語言差異 (B) 地形多山崎嶇。
30. ( )小翰搭飛機經過漠南非洲，從高空中往下看，發現一條長達數百公里的裂谷，這條裂谷被稱為「地球臉上最大的傷疤」，中間穿插了相當多個湖泊、火山群。請問：該裂谷形成的原因為何？ (A) 火山作用 (B) 斷層陷落 (C)。
31. ( )西元前6世紀末，羅馬人推翻王政，羅馬政治進入共和時期，共和時期的政治權力主要掌握在貴族手中。請問：當時由貴族所組成的權力組織為何？ (A) 元老院 (B) 公民大會。
32. ( )「羅馬不是一天造成的」、「條條大路通羅馬」，這些諺語表現了古羅馬哪方面的文化特質？ (A) 追求藝術美感 (B) 善於公共工程的建設。
33. ( )漠南非洲面積廣大、人口眾多，然而經濟發展仍有增長空間。如今其自然資源帶動某產業發展，成為經濟發展的新契機。請問：該產業為何？ (A) 酪農業 (B) 觀光業。
34. ( )育才與志偉在學校剛聽完老師講述「歷史上的宗教」相關內容，他們整理了幾件其中發生的重要事件。請問：下列哪些事件是基督教曾經歷過的？甲、被羅馬多神信仰取代；乙、遭到部分猶太人排斥；丙、成為羅馬帝國的國教；丁、成為中世紀西歐的生活中心 (A) 乙丙丁 (B) 甲乙丁。
35. ( )許多宗教詞彙已經成為日常生活中的用語，例如：「緣分」、「普渡眾生」、「覺悟」、「菩薩心腸」。請問：這些詞彙源於哪個宗教或宗派？ (A) 佛教 (B) 基督教。
36. ( )佛教自從在印度創立後逐漸向外傳播，如今在世界上有超過5億的佛教徒。有關於佛教的發展，下列何者是正確的？甲、由朝鮮傳入日本；乙、約於西漢末年傳入中國；丙、東南亞的佛教傳自



中國與朝鮮；丁、禪宗是源於中國本土文化的宗派 (A)甲乙丙 (B)甲乙丁。

37. ( )阿豪是位武士，信奉因果報應、靈魂輪迴的婆羅門教，聽從祭司的指示，並相信他的身分從出生起就被決定好了。依照上述內容，阿豪所處的社會應是實施下列何種制度？ (A)奴隸制度 (B)種姓制度。
38. ( )老師講述古代西亞歷史時，提供同學以下法典的內容，請同學們討論。(一)如果一個人毀了一個貴族的眼，他的眼也必須被打瞎。(二)如果他打斷了同等身分人的骨頭，他的骨頭也應被打斷。(三)如果他打瞎一個平民的眼，或打斷骨頭，他應付銀子。(四)如果他打瞎一個奴隸的眼，或打斷骨頭，他應付奴隸身價的半數。(五)如果妻子受丈夫百般虐待，妻子有取回全部嫁妝而回娘家的權利。根據上述資訊，請你判斷以下的說法何者正確？ (A)漢摩拉比法典主張傷人者只需付錢賠償 (B)漢摩拉比法典蘊含以牙還牙、以眼還眼的報復原則。
39. ( )啟蒙運動時期，曾提出「人類天生具有不被侵犯的生命、自由與財產等權，如果君主侵犯了這些權利，人們可起而反抗。」請問：這是何人的主張？ (A)洛克 (B)盧梭。
40. ( )16世紀歐洲宗教改革後，路德教派、喀爾文教派及英國國教派等統稱「新教」，這些教派雖然教義各有不同，但也有一些共同理念，下列何者為當時新教的共同理念？(A)鼓吹成立耶穌會 (B)否定羅馬教會的權威。

解答：

- 01-05 BBBBA  
06-10 ABABB  
11-15 ABBBA  
16-20 BABBA  
21-25 ABBA  
26-30 BABBB  
31-35 ABBA  
36-40 BBBAB