

# 新北市立新莊國民中學 110 學年度第 1 學期第 2 次段考 8 年級社會領域試題卷

班級 \_\_\_\_\_ 座號 \_\_\_\_\_ 姓名 \_\_\_\_\_

※ 選擇題：本試卷共 50 題，每題 2 分，總分為 100 分。  
每一題均為單選題，請選出最適當答案。

※ 請用 2B 鉛筆在答案卡上相應的位置畫記。

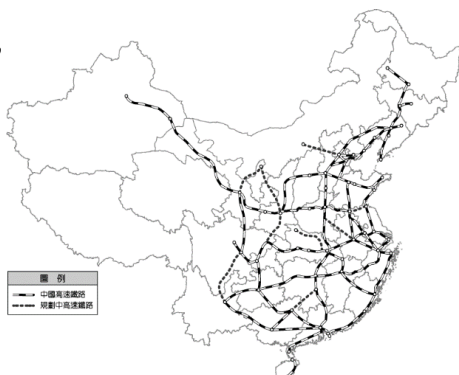
1. 中國自 1980 年代開始，農夫種植作物種類與過去有極大差異，下表為四種作物不同時間的年增長率變化，請根據此表判斷，下列敘述何者正確？

	稻米	小麥	棉花	蔬菜
1950~1969 年	2.9	3.4	-1.8	5.4
1970~1977 年	2.3	5.0	3.1	6.1
1978~1984 年	4.5	8.5	7.5	7.0
1985~1998 年	1.3	1.9	7.8	12.6
1999~2003 年	-5.1	-6.6	10	23

- (A)糧食作物產量愈來愈高  
(B)農產商品化程度愈來愈高  
(C)從事農業人口比例愈來愈高  
(D)畜牧產品需求愈來愈高

2. 右圖為中國高鐵路網圖，關於中國高鐵路網分布的疏密程度說明，下列何者正確？

- (A)與礦產資源豐缺有關  
(B)與經度大小有關  
(C)與緯度高低有關  
(D)與地勢高低有關



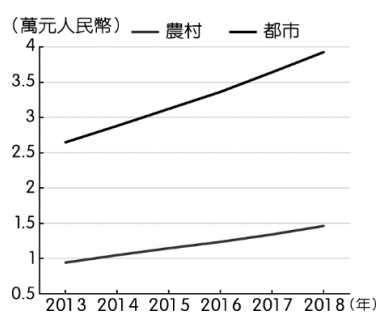
3. 右圖為中國水資源短缺省區市圖，請根據此圖判斷下列哪個地方的缺水危機最嚴重？

- (A)四川盆地  
(B)華北平原  
(C)塔里木盆地  
(D)珠江三角洲



4. 中國的經濟發展對於社會結構產生極大影響，圖為中國農村與都市居民的人均可支配收入統計圖，請根據此圖判斷下列敘述何者正確？

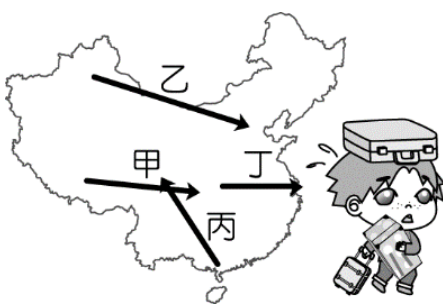
- (A)農村人口持續減少  
(B)農村收入持續降低  
(C)農村都市收入差距持續增大  
(D)都市居民數量比農村多



5. 中國多達 14 億人口，糧食的需求極為龐大，為了持續供應糧食所需，針對農業活動進行改革。關於此農業活動的改革，下列何者較為可行？

- (A)增加農田耕作面積 (B)提升農產出口數量  
(C)提高單位面積產量 (D)增加農業就業人數

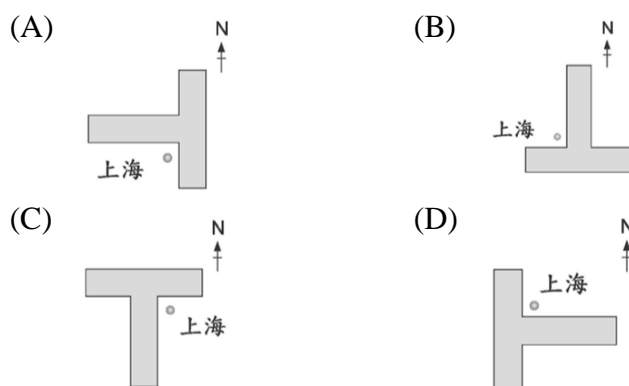
6. 中國為限制人口由鄉村移往都市，推行『戶籍制度』，但隨著改革開放後，大量鄉村人口離開戶籍地前往都市尋找工作，因無法獲得都市戶籍難以享受都市福利政策，衍生許多社會問題。因此，2000



年後中國推行『居住證』制度，讓這些無戶籍的鄉村人可享有都市的社會福利。每到過年時候，從『居住地』到『戶籍地』的移動人潮，是中國春運交通是否順暢的觀察指標，試問：下列路線何者是『居住地』到『戶籍地』的重要觀察指標？

- (A)甲 (B)乙 (C)丙 (D)丁

7. 聯合國定義巨型都市泛指規模特別巨大的都市，其人口數至少超過 1000 萬人口，而中國上海因其『優越的交通位置』，並經歷了幾十年的改革開放，都市規模不斷擴大，成為中國規模最大的巨型都市。上文中『優越的交通位置』，可用下列哪個圖示來說明？

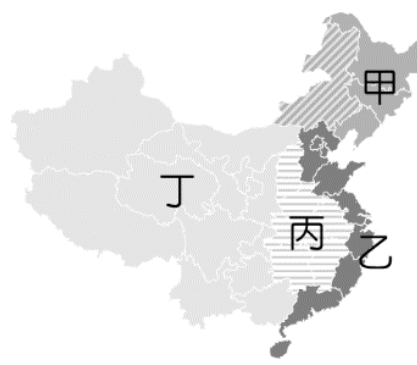


8. 非洲豬瘟於 2018 年七月傳入中國，並於 2019 年四月全國淪陷成為疫區，動植物傳染病防治所事後研究發現，中國的農業改革活動是非洲豬瘟快速傳播的重要關鍵。試問：上述的農業改革活動可能是下列何者？

- (A)集約化 (B)機械化 (C)都市化 (D)商業化

## 【第 9 至 11 題為題組】

2021 年中國實施「能耗雙控」政策，對能源消耗的總量與強度兩種指標進行控管，限制高耗能、高碳排的產業如化工、水泥、煉鋁、鋼鐵等重工業的煤、電用量。然而控管強度過強，加上國際煤炭價格大漲，導致中國各省分無預警停電、限電，不僅影響中國各級產業的運作，更讓國際供應鏈大亂，無法如期將商品出貨。下圖為中國四大經濟區示意圖，請根據此圖文回答下列問題：



9. 中國管制的高耗能、高碳排產業以圖中何處所受影響最大？

- (A)甲 (B)乙 (C)丙 (D)丁

10. 文中的國際供應鏈大亂，顯示中國在世界經濟體系中的扮演哪項重要的關鍵角色？

- (A)新興消費市場 (B)廉價世界工廠  
(C)一帶一路發起國 (D)對外國投資併購

11. 『能耗雙控』政策除限制高耗能、高碳排的產業用電，更希望大規模開發荒漠區的太陽能、風力等再生能源，以提供乾淨能源給工商業使用。若要達成此目標，應把開發重心放在圖中何處？

- (A)甲 (B)乙 (C)丙 (D)丁

背面尚有試題



【第 12 至 14 題為題組】

中國政府於 2013 年提出『一帶一路』政策，期望藉由此政策能與參與國在貿易、交通、能源供給、通訊等方面有更密切的往來，互通有無，達成彼此互惠的目標。下圖為此政策之路線圖，請根據此圖文回答下列問題：



12. 『一帶一路』文中的中國與參與國間能互通有無、達成彼此互惠的目標。下列何者符合此目標？  
 (A) 歐洲先進國家提供中國廉價商品  
 (B) 中亞貧窮國家提供中國礦產資源  
 (C) 南亞貧窮國家提供中國基礎建設貸款  
 (D) 中國提供歐洲國家生產技術
13. 由『一帶一路』的路線圖判斷，下列敘述何者正確？  
 (A) 串聯五大洲進行貿易往來  
 (B) 促進中國東北振興政策推廣  
 (C) 提供新疆發展機會  
 (D) 提高北京海陸交通地位
14. 『一帶一路』政策參與國的經濟發展程度普遍不佳，期望參與此政策可以提升經濟發展，但卻也面臨許多變數與問題而招致參與國內的民眾反對，下列何者不是民眾反對一帶一路政策的理由？  
 (A) 背負龐大債務負擔  
 (B) 導致人口大量外移  
 (C) 國內政治經濟受制於中國  
 (D) 與中國發生利益糾紛

【第 15 至 16 題為題組】

中國 1978 年改革開放，設立五大經濟特區吸引外國企業投資，並將特區成功經驗擴展至東部沿海與全國，經過幾十年的發展，境內工業產值已於 2012 年正式超越美國，以 3.7 萬億美元高居世界第一，成為世界經濟體系中不可或缺的一員。請問：



15. 中國 1978 年成立的五大經濟特區，多位於圖中何處？  
 (A) 甲 (B) 乙 (C) 丙 (D) 丁
16. 若要說明經濟特區的成功經驗，下列說明何者正確？  
 (A) 特區擁有豐富礦產資源  
 (B) 特區提供充足設廠資金  
 (C) 特區擁有高階生產技術  
 (D) 特區提供廉價勞動力
17. 艾克頓爵士曾說：「權力使人腐化，絕對的權力，帶來絕對的腐化。」為了避免中央政府權力過度集中所引發的濫權問題，應該以下列何種制度來因應？  
 (A) 地方自治 (B) 權力分立 (C) 均權制度 (D) 權能區分

18. 孫中山先生獨創五權分立學說，使我國成為全世界唯一採用五權分立的國家。下列何者最能用來說明孫中山先生將行政權與考試權各自獨立的理由？  
 (A) 考試權獨立有助於政府公正的聘用人才  
 (B) 避免行政機關把持行政權造成權力失衡  
 (C) 提高考試權的重要性避免立法權的專制  
 (D) 藉由行政權補足我國政府人力資源匱乏
19. 下列哪些公職人員的產生方式與司法院院長相同？  
 (甲) 大法官 (乙) 考試院院長 (丙) 行政院院長  
 (丁) 監察委員 (戊) 審計長 (己) 立法院院長  
 (A) 甲乙丁戊 (B) 丁戊己  
 (C) 甲丁戊己 (D) 甲乙丙
20. 憲政精神強調以《憲法》具體規範政府的組成與權力的行使，關於憲政精神的敘述，下列何者有誤？  
 (A) 主權在民：主張國家主權屬於全體國民  
 (B) 權力分立：將政府權力畫分給不同機關，使其互相制衡  
 (C) 法治政治：政府權力的運作只受《憲法》約束  
 (D) 違憲審查制度：政府的作為有逾越《憲法》規範的疑義時，司法機關解釋《憲法》，確保政府運作符合《憲法》要求
21. 現代民主國家的憲政精神主張限制政府權力，下列何者並非基於限制政府權力精神而發展出來？  
 (A) 主權在民 (B) 權力分立  
 (C) 法治政治 (D) 違憲審查制度
22. 歷史上倡導權力分立的第一人，主張行政權和立法權應當分開，而且立法權應該高於行政權，以防止專政。請問上述人物指的是誰？  
 (A) 洛克 (B) 艾克頓 (C) 孟德斯鳩 (D) 孫中山
23. 為穩定明年春節期間房價，北市觀傳局表示，若防疫旅館房價超過原核備的客房價格，將依《發展觀光條例》裁罰，並嚴禁惡意哄抬房價，否則將會同消保官或公平會至現場依法查核。上述做法展現何種憲政精神？  
 (A) 主權在民 (B) 權力分立  
 (C) 法治政治 (D) 違憲審查制度
24. 法國學者孟德斯鳩針對政府運作的原則提出「三權分立」學說，主張三種權力分別由不同的政府機關獨立行使，最主要是希望能達到下列何種目的？  
 (A) 政府機關可以最大的權力來為民服務  
 (B) 讓政府機關彼此互相競爭以求取績效  
 (C) 政府機關透過分工合作達到最佳效能  
 (D) 分權制衡避免權力過大侵害人民
25. 配合明年度軍公教待遇調整，(甲)院修正原編送的 111 年度中央政府總預算案，納入所需增加的支出，函請(乙)院進行審查。若審查通過後，(甲)院將依據通過的預算執行經費，執行後再由(丙)院審核決算。根據我國中央政府對經費的職掌判斷，下列敘述何者正確？  
 (A) 甲有權審理政黨違憲解散案  
 (B) 乙有權統一解釋憲法與法律  
 (C) 乙具有對丙提出覆議案之權  
 (D) 丙有權彈劾違法失職公務員

繼續作答下張試卷

新北市立新莊國民中學 110 學年度第 1 學期第 2 次段考 8 年級社會領域試題卷

班級 座號 姓名

26. 下列哪一位首長的主張最符合自己的身分？  
(A)行政院院長：「針對窒礙難行的法律提出覆議。」  
(B)司法院院長：「要求全國警察機關全力改善國內治安。」  
(C)考試院院長：「主動調查公務人員是否違法失職而予以彈劾。」  
(D)監察院院長：「督促院內法官們秉守司法公正審理的精神。」
27. 陳先生在政府機關工作，他的主要工作是針對行政機關送來的年度決算，做仔細的查核。在查核結束後，他所工作的政府機關，會將查核報告送到立法機關審議。請問：陳先生會在哪個地方工作？  
(A)考試院銓敘部 (B)監察院審計部  
(C)行政院法務部 (D)考試院考選部
28. 日前因新冠肺炎疫情升溫，□□部發布新聞稿表示，因應中央流行疫情指揮中心發布疫情三級警戒持續至 6 月 28 日，原定於近期舉行的第二次專技人員高考醫師考試分階段考試、專技人員普考外語導遊人員第二試、高普考三項國家考試均延期舉行。請問：文中的□□部是指哪個單位？  
(A)行政院教育部 (B)行政院衛福部  
(C)考試院銓敘部 (D)考試院考選部
29. 台中市政府辦理「實驗教育複合園區 12 年一貫公辦民營實驗教育學校」案，監委調查發現，該案未完成可行性、先期規劃及安全性評估，即發包辦理工程，虛擲公帑逾 1.16 億元，且公告核准委託後，遲未簽訂行政契約，歷時 1 年 7 個月後竟公告廢止該委託案，嚴重折損政府公信。監察院決議對台中市政府提出□□。請問：上述□□應是指監察院的何種職權？  
(A)糾正 (B)糾舉 (C)彈劾 (D)審計
30. 「(甲)對(乙)提出不信任案。不信任案通過後，(乙)應立即辭職，並得同時呈請(丙)解散(甲)……。」以上為我國不信任案與解散制度的部分內容，請問：甲、乙、丙依序應填入什麼？  
(A)立法院、大法官、行政院院長  
(B)監察院、立法院院長、行政院院長  
(C)立法院、行政院院長、總統  
(D)立法院、立法院院長、總統
31. 下列有關立法院提案權的敘述，何者有誤？  
(A)提出憲法修正案，交由公民投票複決  
(B)提出正副總統彈劾案，送交司法院大法官組成會議審理  
(C)提出領土變更案，交付公民投票複決  
(D)提出正副總統罷免案，交付公民投票決定
32. 日前高雄城中城大樓大火，造成嚴重死傷，引發各界對《消防法》修法的討論。修法流程如下：(甲)審議《消防法》部分條文修正案，若三讀通過須由(乙)公布，並由(丙)來推動。請問甲、乙、丙依序為？  
(A)行政院、總統、立法院  
(B)司法院、立法院、行政院  
(C)立法院、行政院、總統  
(D)立法院、總統、行政院
33. 監察院是我國最高監察機關，下列何者為監察院的職權？  
(A)審查國家總預算 (B)審議公務員懲戒案件  
(C)糾舉違法失職的公務員 (D)審理政黨違憲解散案
34. 甲：我統一蒙古各部落，建立蒙古帝國  
乙：冤枉！我因為「莫須有」的罪名被殺害  
丙：我親上戰場，並簽訂盟約維持百年和平  
丁：我們揮軍南下，攻入首都並且擄走皇帝  
請問：關於甲乙丙丁四個人的身分，下列敘述何者正確？  
(A)甲為忽必烈，日後建立元朝  
(B)乙為岳飛，奮力對抗女真族  
(C)丙為趙匡胤，成功維持和平  
(D)丁為契丹族，造成北宋滅亡
35. 宋代政府重視文人政治，提倡儒學。儒家學者融合佛、道思想，形成理學。南宋有位學者集理學的大成，撰寫四書集注，請問：這位學者為下列哪一位？  
(A)徐光啟 (B)鄭和 (C)利瑪竇 (D)朱熹
36. 皇帝一：我任內的期間把台灣納入版圖  
皇帝二：我平定規模最大的林爽文事件呢！  
皇帝三：我派艦隊到西洋，讓帝國聲名遠播  
皇帝四：因為宮廷紛爭，我將傳教士逐出國  
請問：上面哪三位皇帝，開創清帝國盛世？  
(A)皇帝一、皇帝二、皇帝三  
(B)皇帝一、皇帝二、皇帝四  
(C)皇帝二、皇帝三、皇帝四  
(D)皇帝一、皇帝三、皇帝四
37. 現在營業的時間與地點皆不受限制，城市的生活非常的熱絡，可以從清明上河圖中，感受到當時汴京城的繁榮，請問：造成上述情形的原因，最有可能是下列何者？  
(A)坊市制度的廢除 (B)市舶司的設立  
(C)伊斯蘭教的傳入 (D)蒙古西征的影響
38. 中國四大發明分別為造紙術，火藥、印刷術與指南針，有三項為北宋時期科技的代表，請問：要了解此時期的科技，應該去讀哪一本書？  
(A)四書集注 (B)坤輿萬國全圖  
(C)夢溪筆談 (D)回回藥方
39. 瓔珞：現在買東西，可以用白銀或銅錢  
朗華：晚餐有馬鈴薯可以吃，不用餓肚子了  
雲撤：我目前在專門製作瓷器的景德鎮打工  
璟瑟：政府引進早熟稻，使得稻米產量大增  
根據上面四個人的敘述，請問：哪一個人生活的朝代與其他人不一樣？  
(A)瓔珞 (B)朗華 (C)雲撤 (D)璟瑟
40. 下表為兩個中國朝代的比較圖，請問：四個選項的敘述，何者有誤？

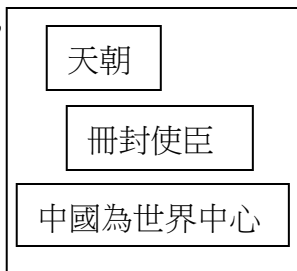
項目	元帝國	清帝國
(A)建國者	<u>滿族</u>	<u>蒙古族</u>
(B)實施政策	種族政策	高壓懷柔並用
(C)全國人民	差別待遇	一視同仁
(D)帝國狀況	不到百年滅亡	維持百年的帝國盛世

背面尚有試題



41. 根據右圖黑板上，老師課堂的筆記，請問：今天上課的主題應該是哪一個？

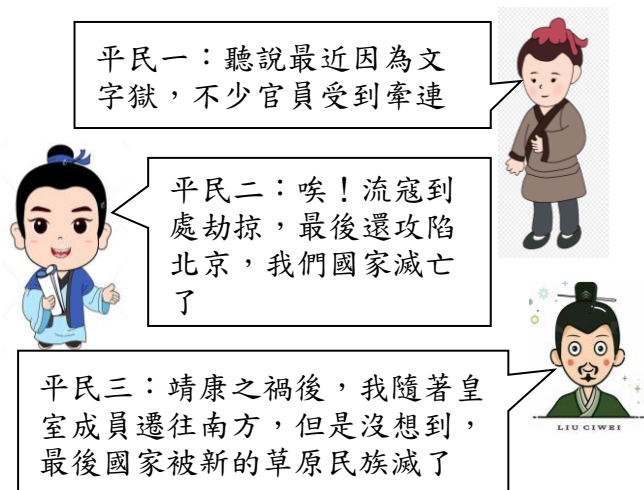
- (A) 明清兩國的朝貢貿易  
(B) 北宋盟約的談判內容  
(C) 蒙古帝國的擴張與制度  
(D) 海商集團與中國的合作



42. 在 1661 年，鄭成功攻佔台灣，次年，荷蘭人退出台灣，他說：「我要把這塊土地作為跟『中國政權』反抗的根據地」，請問：下面哪項敘述是正確的？

- (A) 當時中國的新政權是由滿人所建立的  
(B) 鄭成功實施海禁政策，削弱對岸勢力  
(C) 乾隆皇帝任內期間，鄭氏政權被瓦解  
(D) 這個中國新政權是之前宋朝的契丹族

43.



根據上面三位平民的敘述，請問：他們分別屬於哪個朝代？

- (A) 平民一：明朝、平民二：北宋、平民三：南宋  
(B) 平民一：元朝、平民二：南宋、平民三：北宋  
(C) 平民一：清朝、平民二：明朝、平民三：南宋  
(D) 平民一：清朝、平民二：明朝、平民三：北宋

44. 15 世紀末，歐洲人發現通往亞洲的新航路，他們透過亞洲殖民據點的運轉，大量購買中國的絲綢與瓷器等商品，請問：當時有哪項物品從國外傳入中國？

- (A) 銅錢 (B) 棉花 (C) 早熟稻 (D) 玉米

45. 幾何原本是希臘學家的著作，現在是學生必學的數學單元，請問：翻譯幾何原本的功臣是哪兩位？

- (A) 吳三桂、湯若望 (B) 徐光啟、張擇端  
(C) 徐光啟、利瑪竇 (D) 徐光啟、湯若望

46. 蒙古的三次西征，促進了歐亞的經濟與文化交流，下面四位學生，對於蒙古西征的影響發表自己的看法，請問：哪位的敘述是正確的？

- (A) 虎威：蒙古西征讓指南針被傳入到歐洲  
(B) 子歇：錯！蒙古西征只有火藥被帶到歐洲  
(C) 衛冉：反正蒙古沒有把印刷術傳進西方  
(D) 彌榮：蒙古人把印刷術與火藥帶入西方

【第 47 至 48 題為題組】

下圖為某朝代的地理位置圖，請根據地圖回答問題：



47. 雙方約為兄弟之邦，宋為兄、遼為弟雙方以白溝河為界線，互相不侵犯，請問：上述這個盟約，是上圖中的哪兩個國家所簽訂的？

- (A) 甲與乙 (B) 甲與丙 (C) 甲與丁 (D) 乙與丁

48. 士兵說：「以前這塊土地都是漢人在掌握的，但是現在卻被契丹族控制，我們一定要想辦法把這塊軍事重地奪回來，讓我們的長城再次發揮功用」請問：上述士兵講的是圖中的哪一塊土地？

- (A) 甲 (B) 乙 (C) 丙 (D) 丁

【第 49 至 50 題為題組】

馬可波羅遊記一書，是歐洲威尼斯商人馬可波羅，口述自己在 13 世紀時，來到中國經商的故事，遊記裡面提到，他受到忽必烈元世祖的重用，留居在中國 17 年。他注意到首都通往各地的道路，每隔一段距離就設置招待所，供官員和過往商旅使用。請根據上面短文，回答下列問題：

49. 依照元朝當時實施的種族政策，請問：馬可波羅應該是屬於哪一個階層？

- (A) 蒙古人 (B) 色目人 (C) 漢人 (D) 南人

50. 根據上述短文的敘述，「每隔一段距離所設置的招待所」，請問：這應該是什麼機構？

- (A) 市舶司 (B) 驛站 (C) 會館 (D) 商幫

試題結束

新北市立新莊國民中學 110 學年度第 1 學期第 2 次段考 8 年級社會領域試題  
解答

1	2	3	4	5	6	7	8	9	10
<b>B</b>	<b>D</b>	<b>B</b>	<b>C</b>	<b>C</b>	<b>C</b>	<b>A</b>	<b>A</b>	<b>A</b>	<b>B</b>
11	12	13	14	15	16	17	18	19	20
<b>D</b>	<b>B</b>	<b>C</b>	<b>B</b>	<b>B</b>	<b>D</b>	<b>B</b>	<b>A</b>	<b>A</b>	<b>C</b>
21	22	23	24	25	26	27	28	29	30
<b>A</b>	<b>A</b>	<b>C</b>	<b>D</b>	<b>D</b>	<b>A</b>	<b>B</b>	<b>D</b>	<b>A</b>	<b>C</b>
31	32	33	34	35	36	37	38	39	40
<b>B</b>	<b>D</b>	<b>C</b>	<b>B</b>	<b>D</b>	<b>B</b>	<b>A</b>	<b>C</b>	<b>D</b>	<b>A</b>
41	42	43	44	45	46	47	48	49	50
<b>A</b>	<b>A</b>	<b>C</b>	<b>D</b>	<b>C</b>	<b>D</b>	<b>C</b>	<b>C</b>	<b>B</b>	<b>B</b>