

新北市立新莊國民中學 110 學年度第 1 學期第 1 次段考 7 年級社會領域試題卷

班級 _____ 座號 _____ 姓名 _____

※ 選擇題：本試卷共 50 題，每題 2 分，總分為 100 分。
每一題均為單選題，請選出最適當答案。

※ 請用 2B 鉛筆在答案卡上相應的位置畫記。

1. 右圖表示臺灣史前文化層的形成，請問根據此圖，下列敘述何者正確？

- (A) 圖中甲層距離我們現在的年代最近
- (B) 圖中乙層的代表文化為長濱文化
- (C) 圖中丙層的人類與其他地區有貿易的往來
- (D) 圖中甲層的人類可以自主生產食物



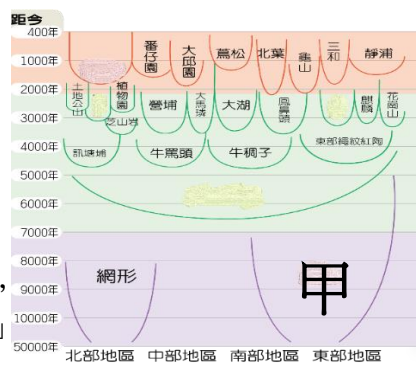
2. 小明在網路上查到一段資料：「有數以千計的蛇紋石板棺埋在建築物底部，成帶狀分布，而且與地上建築物的座向相同，均朝向人們心中的聖山—都蘭山，棺內更有豐富又精美的陪葬玉器、陶器，可見當時人已有靈魂觀念。」請問：這段資料應屬於右圖中哪一史前文化的特色？

- (A) 甲
- (B) 乙
- (C) 丙
- (D) 丁



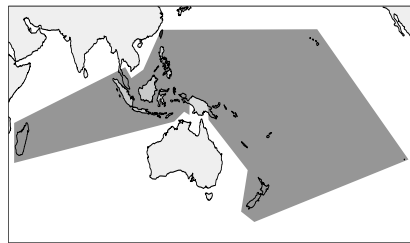
3. 「1955 年空軍飛行員潘克永執行任務時，突然發現飛機的羅盤出現了磁力異常的反應，他以為是發現了鐵礦所以才會影響到羅盤的運作。後來他找地質學家林朝榮及工程師一起現地勘查，才知道在地面上到處可見的鐵塊與鐵渣，其實是土法煉鐵的遺跡。」請問：關於潘克永所發現的史前文化，下列敘述何者正確？

- (A) 為右圖甲文化
- (B) 也出土當時人類丟棄貝殼所堆積成的貝塚
- (C) 採用打製的石器來切割獵物
- (D) 玻璃器取代玉器成為人們的裝飾品



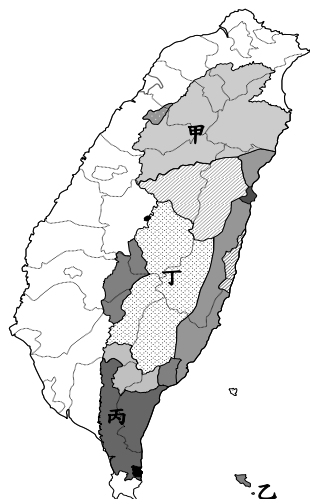
4. 右圖是某一族群的分布圖，根據此圖，請問下列敘述何者「錯誤」？

- (A) 臺灣位於分布範圍的最北端
- (B) 澳洲原住民和臺灣原住民同屬於此族群
- (C) 分布於太平洋和印度洋的島嶼
- (D) 由構樹的分布可以推論此族群是由臺灣向外擴散遷徙



5. 「太陽神生產下四顆卵，其中兩顆被一條大青蛇孵出一對男女，為平民的祖先；另外兩顆被一條百步蛇孵出另一對男女，為貴族的祖先。根據此傳說，族人階級的區分，頭目與貴族社會地位較高，身體可以刺百步蛇的花紋，也擁有較多土地資源。」請問：上述為右圖哪一族的傳說？

- (A) 甲
- (B) 乙
- (C) 丙
- (D) 丁



6. 小花將臺灣平埔族與高山族的特色製作成比較表格，請問她哪兩個欄位「寫錯了」？

族群	(甲) 分布	(乙) 漢化程度	(丙) 文化	(丁) 清領時期
平埔族	西部及東北部平原丘陵地區	較深	保存豐富傳統文化	歸順政府、繳納稅金，被稱為生番
高山族	山區與東部地區	較淺	逐漸融入漢人社會	未歸順政府、不納稅，被稱為熟番

- (A) 甲乙
- (B) 乙丙
- (C) 丙丁
- (D) 甲丁

7. 小珍以「大航海時代漢人在臺澎的活動」為主題來做報告，請問：下列何者可能是她報告的內容？

- (A) 14 世紀後期，明朝為防備鄭氏政權而實施海禁政策
- (B) 12 世紀時，漢人已在澎湖活動
- (C) 17 世紀時，顏思齊、鄭芝龍招募漢人開墾今臺南一帶
- (D) 16 世紀後期，因海商活動猖獗明朝派兵進駐臺灣

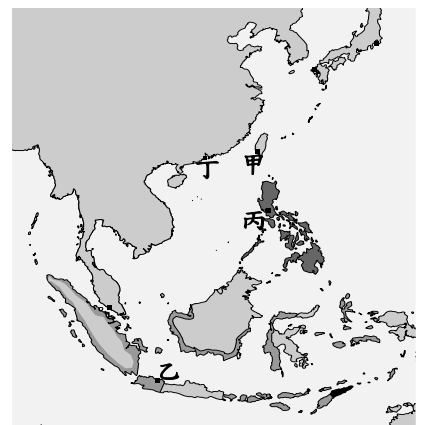
8. 下圖表示大航海時代葡萄牙、西班牙至東方的航路，請問下列敘述何者正確？



- (A) 西班牙人以甲地作為貿易據點
- (B) 葡萄牙人跨越太平洋和中國、日本貿易
- (C) 西班牙人發現繞過非洲南端到達亞洲的新航路
- (D) 葡萄牙人以乙地作為貿易據點

9. 「四百年前的阿姆斯特丹，街道上傳來一陣騷動，飄揚著橙色、白色、天藍色的三色親王旗 (Prinsenvlag)，浩浩蕩蕩地緩緩駛進港口，旗幟中央繡著漆黑的標誌『VOC』，那是從摩鹿加群島回來的船隊。阿姆斯特丹秋季拍賣會即將開始，歐洲商人們都會來競標這次船隊帶回來的東方商品；證券交易所裡面，這家公司股票又要瘋狂上漲。」請問：上文提到的「這家公司」，其總部應設於右圖何處？

- (A) 甲
- (B) 乙
- (C) 丙
- (D) 丁

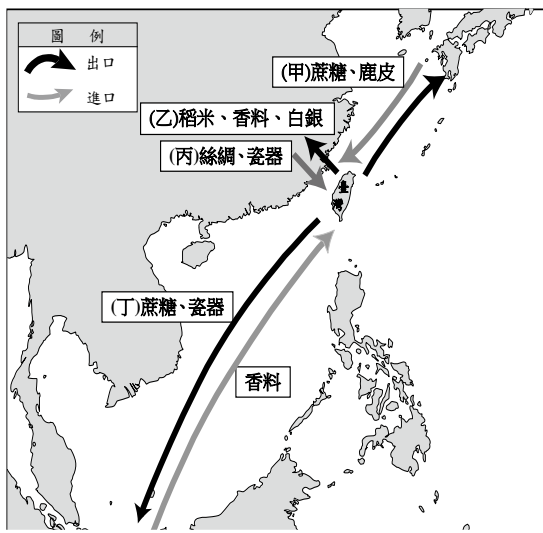


10. 關於興建下圖中甲城堡的國家，下列何者為其活動事蹟？



- (A) 在上圖的乙地建立商業市街，即為今日的安平古堡
- (B) 日本實施鎖國政策後，才停止與日本人的貿易糾紛
- (C) 1642 年遭西班牙人擊敗，結束了在臺灣 16 年的統治
- (D) 曾打敗明將沈有容，占領澎湖作為貿易據點

11. 右圖表示荷蘭在臺灣期間的對外貿易情形，請問哪一項是「錯誤」的？
 (A) 甲
 (B) 乙
 (C) 丙
 (D) 丁



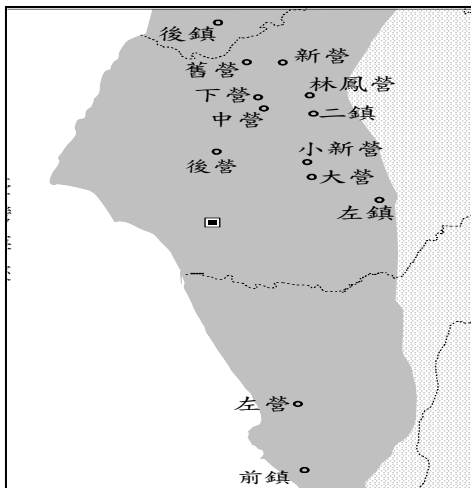
12. 小光將鄭式政權的事蹟整理成簡易表格，卻錯誤百出，請問他只有哪一格寫對了？

人物	時間	事蹟
鄭芝龍	17 世紀	(甲)壟斷中國對外貿易，成為東亞海域霸主
鄭成功	1662 年	(乙)設立臺灣府作為行政中心
鄭經	1666 年	(丙)在臺北設立孔廟，推行文化教育
鄭克塽	1683 年	(丁)打敗攻臺的施琅軍隊，清朝因而實施海禁政策

- (A) 甲 (B) 乙 (C) 丙 (D) 丁

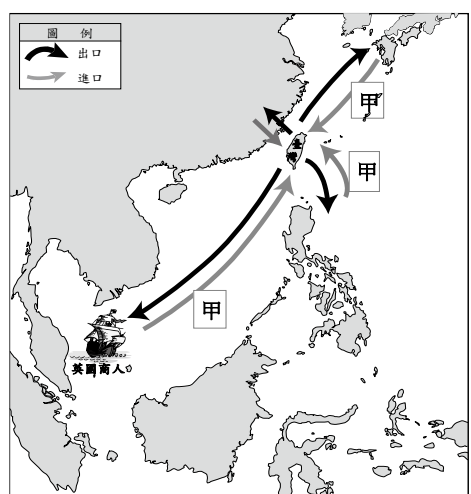
13. 請問右圖中的地名和下列何者最有關聯？

- (A) 走私貿易的盛行
 (B) 積極治台的策略
 (C) 寓兵於農的開墾
 (D) 劃界封山的措施



14. 右圖表示鄭氏政權在臺期間的對外貿易情形，請問圖中的甲物品，最有可能為下列何者？

- (A) 蔗糖
 (B) 軍用物資
 (C) 鹿皮
 (D) 瓷器

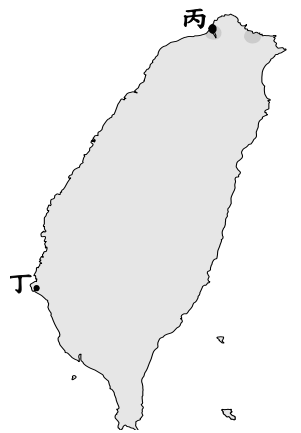


15. 「開闢荊榛逐荷夷，十年始克復先基。（太師會兵積糧于此，出仕後為紅毛荷蘭夷酋弟揆一王竊據。）田橫尚有三千客，茹苦間關不忍離。」這首復臺詩的作者談道家人曾開闢荒蕪的臺灣，自己又驅逐荷蘭人收復臺灣。臺灣曾是他父親會兵積糧之地，父親降清為官（太師）後被荷蘭人揆一趁機竊據。如今從荷蘭人手中奪回，可謂天經地義。請問：下列敘述何者正確？

- (A) 本詩的作者是鄭經
 (B) 詩中提到的「太師」是指鄭克塽
 (C) 鄭氏在臺灣的經營，大多是在本詩作者在位時期完成
 (D) 本詩作者克復臺灣的目的是做為反清復明的基地

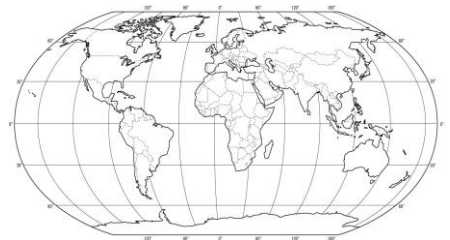
16. 基隆社寮地區的和平島上曾有一座「聖薩爾瓦多城」（聖救主城）是 1626 年甲國佔領雞籠後開始建造的城堡，十多年後才完工。聖薩爾瓦多城周長共約 400 公尺左右，為下寬上窄的堡壘，督軍堅造者為首任雞籠淡水長官伐爾得斯。1642 年發生雞籠之戰，乙國軍隊攻打聖薩爾瓦多城，經過激烈砲擊後，該城僅剩西邊稜堡。請問：下列敘述何者正確？

- (A) 甲國為最先占領臺灣的歐洲勢力
 (B) 乙國指的是西班牙
 (C) 甲國在臺灣還占領了右圖中的丙、丁兩地
 (D) 乙國以臺灣作為國際貿易的轉運站



17. 參考世界海陸分布圖，若台灣探險家阿興打算從台灣出發，一路搭飛機沿著北回歸線向東飛行，預計花費一年時間環球一圈，請問下列關於阿興的行程規劃，哪一項紀載「錯誤」了？

- (A) 起、終點都設定在亞洲
 (B) 預計將依序飛過太平洋、大西洋、印度洋
 (C) 可至北美洲、歐洲、非洲國家品嚐當地美食
 (D) 在非洲每往東飛行 15 度經度，應調快手錶時間一小時，以吻合當地時間

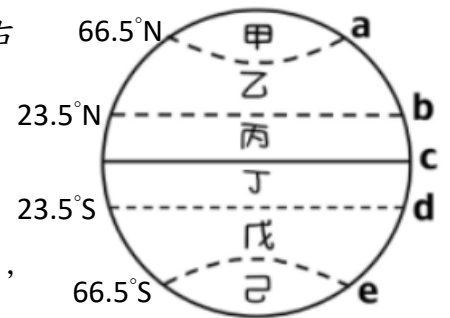


18. 人類為辨識自己在地球上的位置，設計了經、緯線，下列有關經線、緯線的敘述，何者是「錯誤」的呢？

類型	經線	緯線
(A) 定義	連結南、北極點的半圓弧線	赤道及與赤道平行的圓圈線
(B) 方向	南北向	東西向
(C) 長度	越往兩極越短	皆等長
(D) 度數	0~180 度	0~90 度

19. 緯度與氣候息息相關，根據右圖代碼，請找出何項是正確的？

- (A) 甲區與己區在 6 月冬至最熱，12 月夏至最冷
 (B) 丙區與丁區因太陽長期斜射，終年高溫
 (C) 乙區與戊區氣候四季分明，適宜人居
 (D) 平均溫度應是丙區 < 戊區 < 己區



20. 「台灣白海豚為台灣特有亞種，棲息於台灣西岸淺海，通體雪白，但在運動時因血管擴張呈現粉紅色，成為觀賞鯨豚的焦點，但因台灣沿海過度開發，美國國家海洋暨大氣總署漁業部在 2018 年正式將台灣白海豚列入瀕危物種。」由上文可知，台灣特有亞種在台灣一旦滅絕，即是全球滅絕，需民眾多關注環境生態危機。請問台灣多特有生物，是何種環境特質造就而成？

- (A) 位處海上孤島 (B) 位於東亞島弧
 (C) 板塊移動頻繁 (D) 北回歸線通過

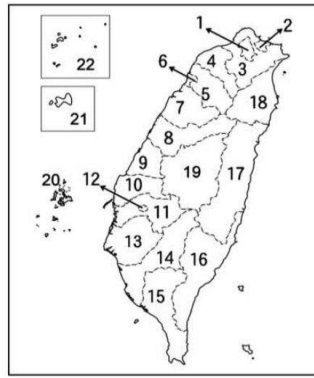
21. 薩摩亞，一個太平洋的小島國，位處國際換日線附近，2011 年 12 月 29 日宣布：「為促進與紐、澳地區的經貿關係，決定調整時間，在 12 月 29 日午夜鐘聲一響，薩摩亞將直接進入 12 月 31 日。」請推測薩摩亞的 12 月 30 日會消失，是因為時間如何調整呢？

- (A) 由「西」半球時間移至「東」半球時間
 (B) 由「東」半球時間移至「西」半球時間
 (C) 由「北」半球時間移至「南」半球時間
 (D) 由「南」半球時間移至「北」半球時間

請繼續作答下張試卷

新北市立新莊國民中學 110 學年度第 1 學期第 1 次段考 7 年級社會領域試題卷
 班級 _____ 座號 _____ 姓名 _____

22. 參照台灣行政區分布圖，台灣共分為六個直轄市、三個省轄市以及十三個縣，其中對國家具有特殊政治、經濟地位的地區將列為直轄市。請依照圖中代碼，找出台灣由中央政府直管的六個直轄市為何？



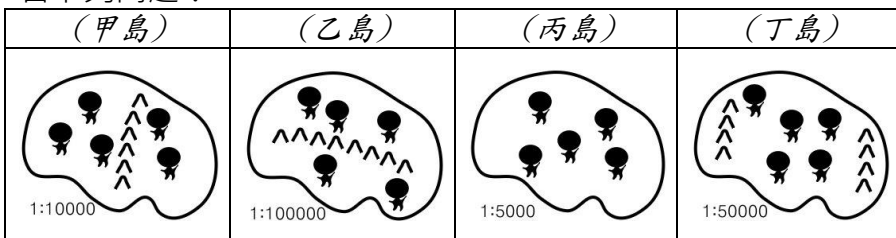
- (A) 1、3、4、8、13、14
 (B) 2、3、4、19、13、15
 (C) 5、6、9、12、18、20
 (D) 7、9、10、11、16、22

23. 第 76 屆聯合國大會為吸引年輕人注意力，邀請韓國偶像團體 BTS 赴紐約，代表青年世代和未來世代進行演講和表演，預定於紐約(60°W)時間 2021 年 9 月 20 日早上 8 點進行線上直播，請問 BTS 的台灣粉絲應該在台灣當地幾點實況收看？

- (A) 2021 年 9 月 19 日 20 時 (B) 2021 年 9 月 20 日 8 時
 (C) 2021 年 9 月 20 日 20 時 (D) 2021 年 9 月 21 日 8 時

【第 24 至 25 題為題組】

下列有不同地形、人口與比例尺的四個島嶼，請依圖中資訊回答下列問題：



24. 甲、乙、丙、丁四位島主，當初購島價格都是一樣的，四位島主在爭論著自己的土地交易是最划算的。請依照圖中資訊，幫助島主們釐清各島的單位面積價格，將各島單位面積價格由低排到高？

- (A) 乙甲丁丙 (B) 乙丁甲丙 (C) 丙甲丁乙 (D) 丙丁甲乙

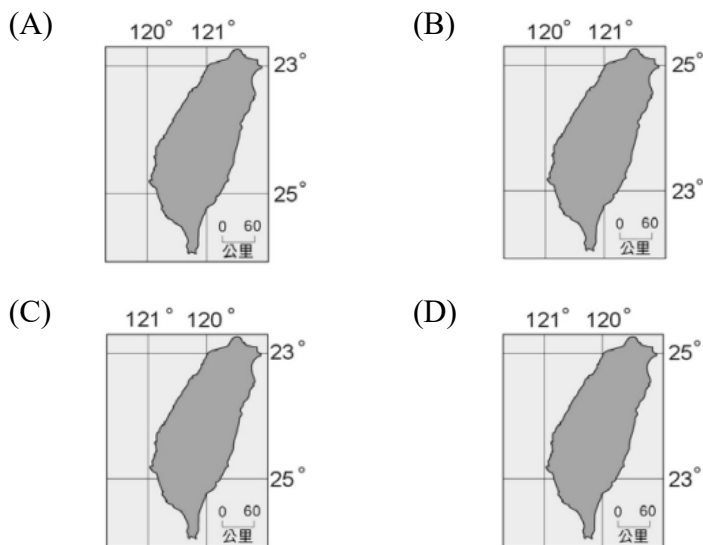
25. 丁島主想要鋪設一條實際長度一公里的柏油路，請問在地圖中應該會有多長呢？

- (A) 1 公分 (B) 2 公分 (C) 4 公分 (D) 8 公分

【第 26 至 30 題為題組】

小明是出生於海外的台籍華裔後代，近期決定舉家搬回台灣定居，請幫助小明一家適應台灣環境，回答下列問題：

26. 小明為海外華僑，即將隨父母搬遷回台，想要了解台灣環境，請幫忙找出正確的台灣島地圖是哪一張？



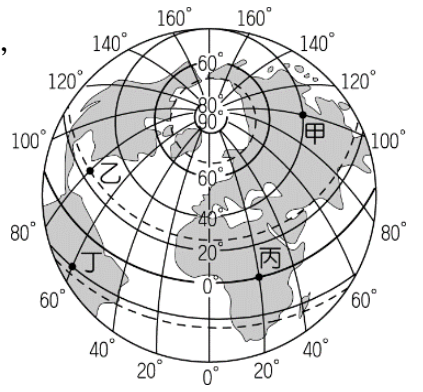
27. 小明為更了解即將就讀的學校，使用手機開啟電子地圖後，將手機螢幕由「臺灣全區」放大至「新莊國中」，請問下列敘述何者「錯誤」？

- (A) 由大比例尺漸成小比例尺
 (B) 地表涵蓋範圍漸漸變小
 (C) 建築地標越來越清晰
 (D) 可搜尋、定位、導航

28. 趁著暑假結束前，小明一家人為了辦理入學程序來到新莊區後，為了尋找學校詢問多位路人。請問以下答覆，何者屬於絕對位置的表示法？

- (A) 路人甲：新莊國中從新月橋走路 600 公尺就到了
 (B) 路人乙：新莊國中在新莊捷運站 2 號出口的南方
 (C) 路人丙：新莊國中在新莊警察局正對面
 (D) 路人丁：新莊國中在中正路的 211 號

29. 開學後，小明因初來乍到，對台灣環境陌生，陷入鄉愁，因而很想念故鄉好友，但因故鄉與台灣日夜顛倒，且季節也相反，想要即時通訊有些困難而心情鬱悶。請參考右圖，推測小明返台前住在海外何地？



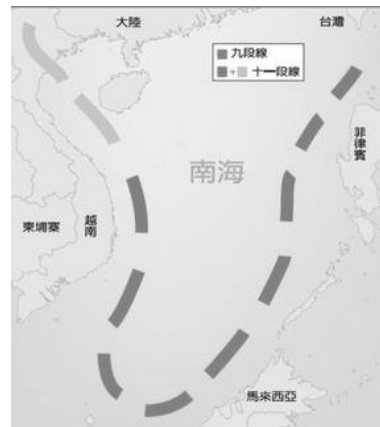
- (A) 甲地
 (B) 乙地
 (C) 丙地
 (D) 丁地

30. 承上題，小明經過數月適應期後，已與同學打成一片，但仍透過 Line 通訊軟體與海外各地網友交流，時近 1 月 1 日跨年時節，住在甲地的 Amy、乙地的 Ben、丙地的 Cindy、丁地的 Dell 開始在群組即時分享跨年煙火照片。請問群組裡的跨年煙火照片，依時間排列應是什麼順序？

- (A) Amy → Ben → Cindy → Dell
 (B) Amy → Cindy → Dell → Ben
 (C) Ben → Dell → Amy → Cindy
 (D) Cindy → Dell → Ben → Amy

【第 31 至 33 題為題組】

2021 年 2 月中國宣布實施海警法，允許海警局在「中國管轄海域」對外國船隻動武。美國國務院今天對此表達關切，質疑北京打算用海警法恫嚇鄰國，並重申中國南海九段線主張非法，不應威脅或動用武力。右圖為南海示意圖與中國所稱的九段線主張，請依圖文資訊回答下列問題：



31. 根據上文所言，中國海警法定義模糊不明，美國與南海諸國擔心海上國際軍事衝突，不只發生在具主權爭議的島嶼，更可能擴及「不應聲張具有軍事管轄權的海域」。請問此指的是下列哪個海域軍事衝突機率可能增加呢？

- (A) 南海諸島 12 浬海域內的領海海域
 (B) 南海諸島 12 浬海域內的經濟海域
 (C) 南海諸島 200 浬海域內的領海海域
 (D) 南海諸島 200 浬海域內的經濟海域

32. 受到中國制定海警法的影響，請問台灣漁民在我國哪些「南海島嶼」的周邊海域進行捕撈，遭遇海上衝突的機率會提升？

- (甲) 龜山島 (乙) 澎湖群島 (丙) 東沙島 (丁) 金門列嶼
 (戊) 釣魚台列嶼 (己) 太平島
 (A) 甲丁 (B) 乙戊 (C) 丙己 (D) 丁己

33. 承上題，漁民若在南海遭遇海上衝突，甚至遭受追擊，高雄海巡署需要即刻出發馳援我國漁民，船艦應往何方前進？

- (A) 東北方 (B) 東南方 (C) 西北方 (D) 西南方

34. 印尼籍的阿邦來台工作，認識了我國國籍的小琪，兩人相戀結婚。近日阿邦透過歸化取得我國的國籍，他很開心終於有投票選舉權了。問：關於阿邦的敘述，何者「錯誤」？

- (A) 阿邦來台工作，就享有和我國國民相同的權利
 (B) 阿邦取得我國的國籍，表示他成為我國國民
 (C) 阿邦有投票選舉權，顯示他具有我國公民的身分
 (D) 無論阿邦有無取得我國國籍，其人權皆受到保障

背面尚有試題

新北市立新莊國民中學 110 學年度第 1 學期第 1 次段考 7 年級社會領域試題卷

班級 座號 姓名

35. 報載：「切膚之愛基金會與全家便利商店，聯手合作「中秋愛心月餅一起幫認捐」活動，共募得 230 份禮盒，特地安排在中秋佳節前夕，由基金會帶領長照服務團隊，進行關懷探訪及贈禮，讓弱勢家庭能暖心過中秋。」問：文中業者與服務團隊展現何種公民基本德性？
(A)捍衛公平正義 (B)和平尊重包容
(C)遵守法律規範 (D)理性思考批判

36. 兩位國中生看到有男同學配戴粉紅色的口罩，出現以下對話：

甲說：「粉紅色口罩是女生戴的，我會選擇戴藍色的口罩」
乙說：「我也不敢戴粉紅色的，我怕會被同學嘲笑」

由上述對話內容判斷，可知甲、乙兩人受下列何種觀念所影響？

- (A)性別歧視 (B)性別平等 (C)性別刻板印象 (D)性霸凌
37. 報載：「南投傳出一名女性公務員請假長達四年，從未出勤卻薪水照領，直到打疫苗時才又現身。行政院人事行政總處強調，該名公務員請的是產假並申請育嬰假留職停薪，長時間未至機關工作，其實符合我國法律規定，不分公私部門均須遵守，且雇主和服務機關不能拒絕。」問：上述文中這部法律應為下列何者？
(A)性別工作平等法 (B)性別平等教育法
(C)性騷擾防治法 (D)世界人權宣言

38. 報載：「某國中一年級男生在校期間，經常伸出鹹豬手，觸摸女同學的胸部與臀部，全案經受害女學生的家長投訴後，學校依照法律規定，召開性別平等委員會，組成調查小組調查。」問：此事件應適用哪一項法律來處理？
(A)性別平等教育法 (B)性騷擾防治法
(C)少年事件處理法 (D)性別工作平等法

39. 中央流行疫情指揮中心指出，最近假訊息的數量非常多、樣態也非常多，面對當前疫情嚴峻時期，有心人士利用大家恐慌的心理來擾亂社會，這已不單單是一個假訊息，而是在防疫期間擾亂社會，非常不應該，大家要同聲譴責，並對相關的訊息多方加以查證，不要任意轉傳。問：文中底線處是希望大家能具備何種公民德性？
(A)捍衛公平正義 (B)和平尊重包容
(C)參與公共事務 (D)理性思考批判

40. 小欣在網路上看到有關國際特赦組織的介紹，發現其關注的議題如右圖：

* 性別與反歧視
* 推動廢除死刑
* 難民、移民與尋求庇護者
* 酷刑及不人道待遇

- 問：依上述內容判斷，何項是該組織重視的核心價值？
(A)權利與全球關聯 (B)個人與家庭生活
(C)人權與人性尊嚴 (D)公民與公民德性
41. 公民老師要同學們發表對「性騷擾」的看法，下列哪位同學的觀念是正確的？
(A)小丸子：「性騷擾的界定是以加害人的感受和意願為主」
(B)美環：「開別人性別氣質或性傾向玩笑就構成性騷擾」
(C)花輪：「男性或同性之間不會被性騷擾」
(D)丸尾：「趁機被擁抱親吻，沒當場嚴詞拒絕就不構成性騷擾」

【第 42 至 45 題為題組】

小傑為完成公民作業找了兩則新聞如下：

第一則：根據「公民投票法」規定，自 2021 年起，每 2 年舉行 1 次公投，投票日則訂於 8 月的第 4 個星期六。目前有 4 項公投確定成案，包括「重啟核四」、「反萊豬」、「公投綁大選」、「珍愛藻礁公投」。中選會因應 COVID-19 疫情影響，改定於今年 12 月 18 日辦理。

第二則：「振興五倍券政府經過多次討論，原訂依照去年三倍模式 1000 元換 3000 元，但在 8/13 晚間行政院宣布 5 倍券改為「全民免費領取」，不限年齡，且具中華民國國籍資格的民眾皆可免費領取。」

根據上述報導內容，回答下列問題：

42. 人民以公投方式表達對政府政策的看法，這是何種公民基本德性的發揮？
(A)遵守法律規範 (B)參與公共事務
(C)和平尊重包容 (D)捍衛公平正義
43. 下列何人最有可能領有公投選票？
(A)現在 16 歲就讀高中的阿國
(B)美國出生，返回台灣定居的 13 歲阿喜
(C)來台就讀研究所的大陸籍小敏
(D)下個月將過 19 歲生日的小青
44. 下列何人最有可能領取五倍券？
(A)出生地在加拿大，不過現在在台灣工作的小瑜
(B)父母都是美國人，但在宜蘭縣出生的大衛
(C)從越南嫁來台灣，還未申請歸化的小茹
(D)母親是現任立法委員的小芳
45. 有關我國「國民」與「狹義公民」的敘述，下列何者正確？
(A)只有國民是具有我國國籍者
(B)公民是指經政府審核，歸化為我國國籍者
(C)公民是指能行使參政權的國民
(D)不論國民或公民，都具有年齡門檻的限制

【第 46 至 48 題為題組】

馬拉拉現年 24 歲，生長在巴基斯坦西北部。15 歲時，恐怖組織「塔利班」控制當地，嚴格禁止女性受教育並關閉女子學校。她為女孩受教育的權利發聲，在放學時被塔利班份子槍擊，送到英國醫治，為躲避死亡威脅，現和家人住在英國，17 歲時成為最年輕的諾貝爾和平獎得主。

面對阿富汗近日的情勢巨變，馬拉拉接受媒體訪問時表示，阿富汗有嚴重人道危機，每個國家都有責任向阿富汗難民開放邊境，這不只為了阿富汗，也是為了全球和平。現在是英國和美國採取行動、保護阿富汗平民和難民的時候了，她坦言擔心在塔利班政權下，阿富汗婦女的未來…。

46. 馬拉拉對英、美國家的呼籲，是為維護阿富汗難民和平民哪方面的權利？
(A)社會地位 (B)人性尊嚴 (C)性別平等 (D)軍事外交
47. 文中「塔利班」組織嚴格禁止女性受教育並關閉女子學校的作法，為下列何者表現？
(A)性騷擾 (B)性別刻板印象
(C)性別歧視 (D)性別偏見
48. 從文章內容判斷，馬拉拉獲得諾貝爾和平獎的原因，應為下列何者？
(A)要求各國懲罰塔利班政權
(B)希望阿富汗制定法律保障人權
(C)要求各國提供難民生活協助
(D)致力為婦女及兒童人權發聲

【第 49 至 50 題為題組】

台灣外景節目《愛玩客》主持人吳鳳，原土耳其籍的他終於拿到台灣的國民身分證，他在臉書宣示：「以後別再叫我老外了！」他正式的台灣名字是「吳承鳳」，吸引萬名粉絲按讚恭喜。他表示 2016 年台灣國籍法修法通過，台灣外籍人士可以透過「高級專業人才」取得台灣身分證。當然這過程需要相關主管機關推薦，最後再由內政部審核通過。這過程真的得來不易，他希望可以鼓勵更多好的外國人才一起留在台灣。

49. 由上述內容得知，吳鳳是透過下列何種方式取得我國國籍？
(A)婚姻 (B)歸化 (C)屬人原則 (D)屬地原則
50. 在我國取得國籍的意義，是指享有下列何種權利？
(A)居住自由 (B)選舉罷免權
(C)具有我國公民資格 (D)受到國家的保護

試題結束

新北市立新莊國民中學 110 學年度第 1 學期第 1 次段考 7 年級社會領域試題
解答

1	2	3	4	5	6	7	8	9	10
C	D	D	B	C	C	B	D	B	B
11	12	13	14	15	16	17	18	19	20
A	A	C	B	D	D	C	C	C	A
21	22	23	24	25	26	27	28	29	30
A	A	C	B	B	B	A	D	D	B
31	32	33	34	35	36	37	38	39	40
D	C	D	A	A	C	A	A	D	C
41	42	43	44	45	46	47	48	49	50
B	B	D	D	C	B	C	D	B	D