

※ 選擇題：本試卷共 50 題，每題 2 分，總分為 100 分。
每一題均為單選題，請選出最適當答案。
※ 請用 2B 鉛筆在答案卡上相應的位置畫記。

1. 【圖一】表示中國史前時代的重要遺址分布，關於圖中甲文化的敘述，下列何者正確
- (A) 建築形式如【圖二】
(B) 依出土的陶器樣式，又稱為「黑陶文化」
(C) 當時的人們懂得飼養動物
(D) 種植的作物以小米為主。



【圖二】

2. 老師上課時在黑板上畫出史前人類的生活方式（如【圖三】），請問老師可能正在講解哪一主題？
- (A) 「新石器革命的重要意義」
(B) 「50 萬年前的史前人類」
(C) 「干欄式建築的特色」
(D) 「從定居到村落的進展」



【圖三】

3. 關於禪讓和世襲制度的比較，下列敘述何者正確？
- (A) 禪讓制度是傳子不傳賢
(B) 禹傳位給啟是屬於禪讓制度的一種
(C) 世襲制度是部落聯盟推舉有才能者為領袖的方式
(D) 中國從夏朝到清末都推行世襲制度


題組一 請根據【圖四】，回答第 4-5 題：



【圖四】

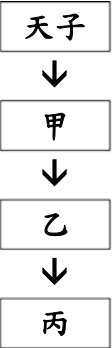
4. 考古學家在圖中戊處挖掘出一、二號兩座宮殿，建築群體呈現出中軸線的布局，主殿堂位於夯土台基北部，坐北朝南，四周由牆壁圍起來。兩座宮殿都擁有陶製的排水管道。請問：此考古遺址還可能出土下列哪一項文物？
- (A) 天干地支記日的農曆 (B) 鐵製農具
(C) 甲骨文 (D) 青銅酒器
5. 商朝前期時常遷都，直到盤庚定都於圖中何處時才安定下來？
- (A) 甲 (B) 乙 (C) 丙 (D) 丁

6. 關於【圖五】文字的敘述，下列何者正確？
- (A) 刻在青銅器上，又稱為「銘文」
(B) 屬於圖畫性質，與今日的漢字並無關聯
(C) 內容多為一般老百姓討論日常生活瑣事
(D) 中國的信史階段因有此文字記載而開始



【圖五】

7. 「他『內弭父兄，外撫諸侯』，征戰達 3 年之久，誅殺武庚和管叔、流放蔡叔，將霍叔貶為庶人。平定叛變後，他又揮兵降服東方諸國。」請問：以下何者並非此人的作為？
- (A) 制禮作樂
(B) 營建首都鎬京
(C) 擴大實施封建
(D) 將周朝的勢力擴張到黃河下游

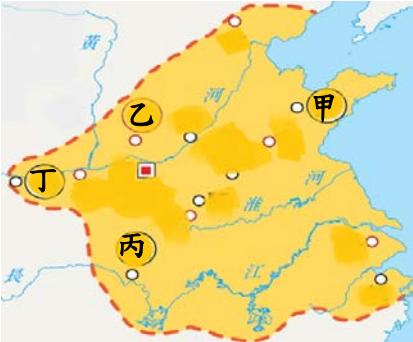


8. 【圖六】顯示西周封建制度下的貴族階層，請問下列敘述何者正確？
- (A) 甲階層為天子的嫡長子
(B) 乙階層對丙階層而言是小宗
(C) 甲、乙、丙階層彼此有血緣關係
(D) 甲、乙、丙階層都不能擁有土地

【圖六】

題組二 【圖七】為春秋各國形勢圖，請根據此圖，回答第 9-10 題：

9. 請問下列敘述何者正確？
- (A) 乙國在戰國時代分裂為韓、趙、魏三個國家
(B) 春秋時代第一個成為霸主的是丙國
(C) 春秋五霸中唯一稱王是圖中甲國的君主
(D) 春秋末期稱霸的吳、越兩國都位於黃河流域



【圖七】

10. 圖中丁國在戰國時代日趨富強，請問下列何人並未效忠於此國？
- (A) 商鞅 (B) 蘇秦 (C) 張儀 (D) 呂不韋
11. 老師請同學用一句話說明春秋戰國時代的特色，請問下面哪一位同學說的「不」符合史實？
- (A) 小新：「工商業者社會地位提高」
(B) 小丸子：「封建制度日漸穩固」
(C) 柯南：「布衣卿相的局面形成」
(D) 大雄：「學術思想百家爭鳴」
12. 花媽中秋節時看到好友在 FB 上 PO 了幾則關於烤肉的有趣文字（如下表），查詢資料後，發現和春秋戰國時代的思想不謀而合。請問：下列何者最有可能是花媽查詢到的結果？
- (A) 甲—道家；乙—儒家；丙—法家；丁—墨家
(B) 甲—儒家；乙—道家；丙—墨家；丁—法家
(C) 甲—法家；乙—墨家；丙—儒家；丁—道家
(D) 甲—墨家；乙—儒家；丙—道家；丁—法家

(甲)	(乙)	(丙)	(丁)
肉要呈九分熟才可以上桌，不然害人吃了拉肚子，就直接抓去關！	我每烤一塊肉，眾生就多得一塊肉，也就不會有爭奪發生了。	月圓人團圓，你沒有和家人聚在一起烤肉，就是不孝！	不用煽風點火，時間到了就自然而然會有肉可以吃！

13. 秦朝建立僅 14 年旋即滅亡，和君主的統治策略、對人民的態度不無關聯。請問：下列何者並非秦朝的不當措施？
- (A) 秦始皇徵用民力興建馳道、長城，百姓苦不堪言
(B) 秦二世任由趙高指鹿為馬，朝政敗壞
(C) 皇帝無權過問諸侯國的內政，導致反秦運動迭起
(D) 秦始皇焚書坑儒，知識分子受到壓制

14. 關於西漢和東漢的比較，下列敘述何者正確？
- (A) 兩漢衰亡的共同原因為外戚掌權
- (B) 西漢定都於【圖八】甲地，東漢則定都於乙地
- (C) 西漢、東漢時各派遣班超、張騫出使【圖八】中丙區
- (D) 西漢為劉秀所開創，東漢則為劉邦所建立



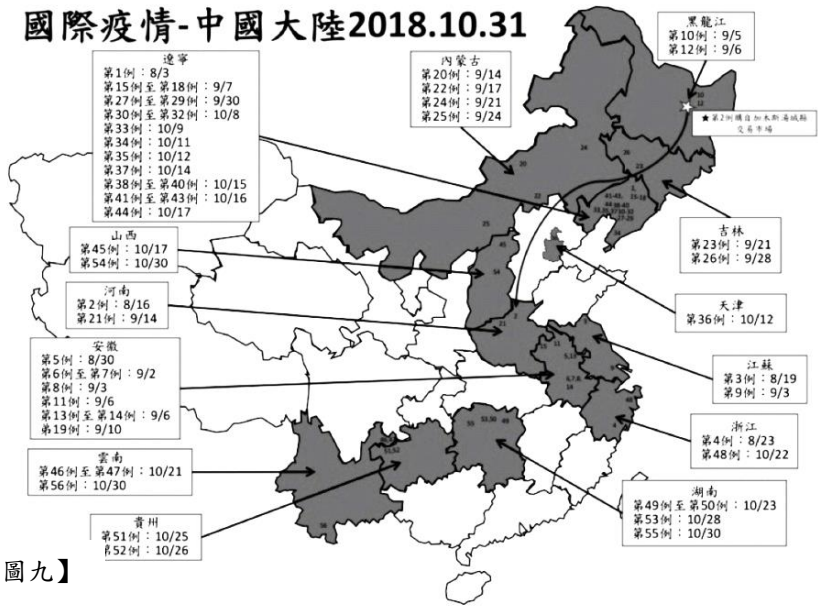
【圖八】

15. 2019 年 5 月 1 日日本把年號從「平成」改為「令和」，象徵新時代的開始，舉世矚目。日本昔日因受中華文化影響，歷任天皇推行年號制度，一直延續至今。追溯中國年號制度的起源，請問是由下列哪一位皇帝首創？
- (A) 秦始皇 (B) 漢武帝 (C) 東漢光武帝 (D) 漢高祖

16. 魯夫將兩漢的文化成就整理成一個表格（如下表），請問他只有哪一列完全寫對了？
- (A) 甲 (B) 乙 (C) 丙 (D) 丁

	作者	著作或發明	特色或影響
(甲)	華佗	傷寒雜病論	被後世譽為「醫聖」
(乙)	司馬遷	史記	首創編年體通史
(丙)	張衡	渾天儀	可得知地震發生的方位
(丁)	班固	漢書	為紀傳體斷代史

題組三 非洲豬瘟起於 1921 年東部肯亞，1957 年傳入歐洲，2007 年開始進入俄羅斯境內，並由此傳播至俄羅斯東部，距離中國邊界僅 1000 公里，威脅亞洲與中國。非洲豬瘟最終於 2018 年七月傳入中國東北，並於 2019 年四月全國淪陷，持續擴散至鄰國，東亞僅剩日本、台灣兩島國尚未失守。【圖九】為中國非洲豬瘟通報案例圖，請回答第 17、18 題：



【圖九】

17. 中國非洲豬瘟防疫失敗，除了政治因素影響，更因本身的防疫劣勢，使其難以防範非洲豬瘟由國外傳入，這劣勢指的是下列何者導致防疫困難？
- (A) 地勢西高東低 (B) 位於歐亞大陸上
- (C) 南北緯度差異大 (D) 地形多元複雜
18. 由 2018/10/31/非洲豬瘟通報案例圖判斷，下列敘述何者正確？
- (A) 非洲豬瘟是由第三級階梯開始擴散至其他區域
- (B) 特別行政區皆已淪為豬瘟疫區
- (C) 直轄市皆已淪為豬瘟疫區
- (D) 自治區尚未有豬瘟案例

題組四 中國是世界上陸地邊界最長的國家，擁有許多陸上鄰國，卻也常有紛爭，請根據【圖十】回答第 19、20 題：

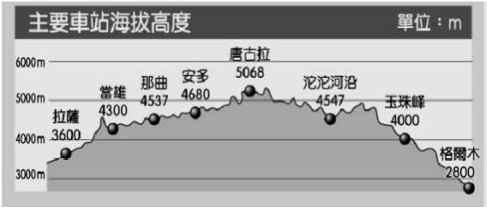


【圖十】


19. 「喀什米爾」為國際上的爭議性領土，中國、巴基斯坦、印度宣稱擁有主權，但印度於 2019 年 9 月片面取消「喀什米爾」自治權，並派兵進駐，限制居民出入，禁止集會與實施軍管，此舉導致周邊國家抗議，抨擊破壞區域和平。依上文推斷「喀什米爾」位置最有可能在圖中何處？
- (A) 甲 (B) 乙 (C) 丙 (D) 丁
20. 亞洲某國家於 2017 年 9 月進行核彈試射，引起國際化譁然，中國、俄羅斯、日本等週邊國家立即進行環境監控，以避免民眾恐慌。依上文推斷，此國最有可能位於？
- (A) 甲 (B) 乙 (C) 丙 (D) 丁

題組五 【圖十一】為中國西寧到拉薩鐵路沿線車站的標高示意圖，請根據此圖回答第 21、22 題：

21. 由【圖十一】可知多數車站大多受哪個行政區管轄？



【圖十一】



【圖十二】

- (A) 新疆維吾爾自治區 (B) 西藏自治區
- (C) 內蒙古自治區 (D) 廣西壯族自治區
22. 【圖十二】為搭乘此火車所拍攝之景觀照片，下列描述何者最適合用來說明此張照片的內容？
- (A) 地表崎嶇、寒冷荒涼
- (B) 平坦遼闊、森林茂密
- (C) 水土流失、千溝萬壑
- (D) 廣大遼闊、沙漠互布

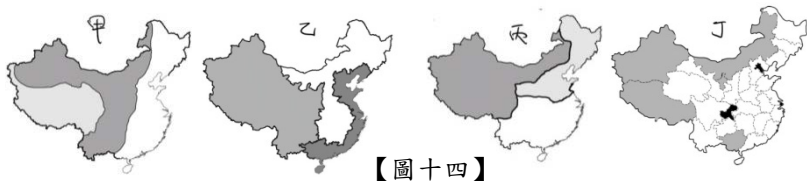
題組六 【圖十三】為渝新歐鐵路示意圖，中國以此路線得以讓重慶成為物流中心，將東亞的貨物送至歐洲，過去海運需時 36 天，現在僅要 12 天即可送達，縮短許多時間。請回答第 23、24 題：



【圖十三】

23. 雖然海運耗時，卻有運費低廉、運量大之優勢，然而受限於經濟海域與東南亞某國重疊，致使中國致力建設陸上軌道，以減少與某國衝突。試問：某國應為下列何者？
- (A) 日本 (B) 俄羅斯 (C) 越南 (D) 北韓
24. 渝新歐的火車行進當中，會搭配智慧型導航系統，以便增加效率。列車由圖中的起點重慶航向終點杜伊斯堡，經緯度有何變化？
- (A) 經度度數增加、緯度度數減少
- (B) 經度度數增加、緯度度數增加
- (C) 經度度數減少、緯度度數減少
- (D) 經度度數減少、緯度度數增加
25. 香港「返修條例」抗爭運動已持續三個多月，且仍未有緩解跡象，中國政府堅決反對他國對中國事務說三道四，干涉中國內政，但有不少港人認為，此法通過可能削弱其一國兩制的「特區地位」，失去當年殖民統治者所留下的司法獨立審判制度。試問：香港的獨立審判可能是何國留下的司法制度？
- (A) 中國 (B) 美國 (C) 英國 (D) 葡萄牙

題組七：中國疆域面積高達 960 萬平方公里，因此依據各地區的特性與標準來畫分不同的地理區，請根據【圖十四】回答第 26、27 題：



【圖十四】

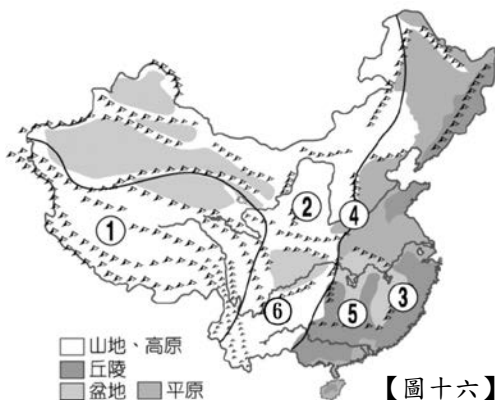
26. 【圖十四】中白色範圍地形，何者與【圖十五】之等高線地形圖的地形類似？

- (A) 甲 (B) 乙 (C) 丙 (D) 丁

27. 郭董若要理解中美貿易戰下，各經濟帶受影響的程度，哪張圖最適合拿來當底圖進行討論？

- (A) 甲 (B) 乙 (C) 丙 (D) 丁

題組八：中國境內地形多樣複雜，不同地區的差異極大，【圖十六】為中國地形分布示意圖，請根據此圖回答第 28-30 題：



【圖十六】

28. 中國環境學報發表一地區之環境報告：「當地景觀受外力影響呈現溝谷遍布，地形崎嶇不平，水土流失極為嚴重，需積極思考對應之道。」若由此學報判斷，這個地區應該是指圖中何處？

- (A) ① (B) ② (C) ③ (D) ⑤

29. 關於上圖中④的敘述，下列何者正確？

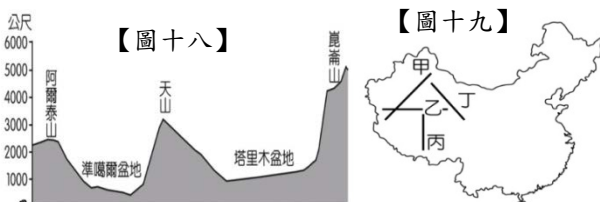
- (A) 第二級與第三級階梯的分界
(B) 最高峰是聖母峰
(C) 北部地區與南部地區的分界
(D) 山兩旁的地勢為東高西低

30. 【圖十七】為知名的石灰岩地形景觀天坑，若要觀賞此種特殊的地形，何處有最多選擇？

- (A) ① (B) ② (C) ③ (D) ⑥

31. 【圖十八】為中國某一地區之地形剖面圖，請問【圖十八】應該是根據【圖十九】中哪條剖面線所繪製而成？

- (A) 甲 (B) 乙 (C) 丙 (D) 丁



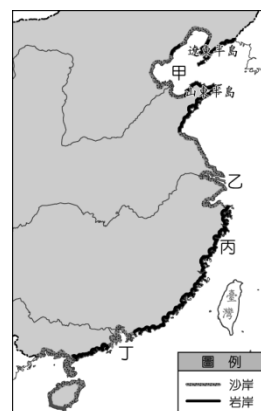
【圖十八】

【圖十九】



32. 受到非洲豬瘟影響，豬肉商品價格大漲，許多商人預見非豬肉之蛋白質肉品前景看俏，尤其是海產魚類市場，因此預先到海港跟漁夫大量批購出海所捕之漁貨。請問：商人應該是到【圖二十】中何處海岸批貨？

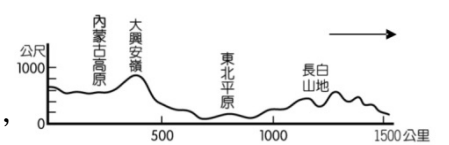
- (A) 甲 (B) 乙 (C) 丙 (D) 丁



【圖二十】

33. 【圖二十一】為中國東北部的地形剖面圖，由圖可知內蒙古高原以大興安嶺和東北平原相鄰，且形成農牧業活動不同的區域景觀，若依相對位置判斷，圖中的箭頭應指向何方？

- (A) 北方 (B) 西方 (C) 東方 (D) 南方



【圖二十一】

34. 為避免政府獨斷，權力的制衡相當重要；依據中華民國憲法及憲法增修條文的規定，中央政府五院的制衡關係，何者正確？

- (甲) 行政院編列預算，送交立法院審查通過後，才可使用該筆經費
(乙) 立法院認為行政院的預算案窒礙難行時，可向行政院提出覆議
(丙) 立法院通過對行政院長的不信任案，則行政院長必須辭職下台
(丁) 考試院負責公務員的考選，但司法院公務員懲戒委員會可彈劾違法的公務員
(A) 甲乙 (B) 乙丁 (C) 丙丁 (D) 甲丙

35. 總統在接受媒體專訪時表示：「大規模大面積的『公辦都更』是必然的趨勢，而且應該從雙北做起」。然而，總統不能直接指派行政機關動工拆除舊屋、建造新樓，必須要有相關單位提出正式法案，並且經過國會的同意，才能開始實施。請問：以上敘述符合民主政治的哪些特色？

- (A) 責任政治、政黨政治 (B) 政黨政治、民意政治
(C) 民意政治、法治政治 (D) 法治政治、責任政治

36. 烏克蘭總統 澤倫斯基 上任後爭議不斷，陸續聘任過去任職電視台時期的同事，擔任內閣成員或幕僚，其中至少 5 人沒有政治經歷，引發民眾反彈，質疑他在打造「演藝圈政府」，上台 5 天近 5 萬民眾連署罷免這位烏克蘭新任總統。若依據中華民國憲法，在我國要罷免不適任總統，其程序為何？

- (A) 立法院提案，憲法法庭審理
(B) 立法院提案，公民投票決定
(C) 監察院提案，憲法法庭審理
(D) 監察院提案，公民投票決定

37. 下列為我國中央政府的官員，請問：以下哪一個選項中的兩者，其職位的產生方式不相同？

- (A) 立法院院長、立法院副院長
(B) 司法院院長、監察院院長
(C) 行政院副院長、考試院副院長
(D) 大法官、審計長

38. 韓流再發威！韓星 8、9、10 月來不停！！男團「神話」在 8 月底來台會粉絲，而今年已來台 2 次的 Super Junior 也與師弟於 9 月登台開拼盤演唱會，人氣演員丁海寅確定在 10 月二度訪台舉辦粉絲見面會。

請問：掀起韓流熱潮的「南韓」與下列哪一個新聞報導中的國家屬於相同的國家類型？

- (A) 法國超市推出智慧購物車，不需要手推車，就會自動跟著顧客走
(B) 日本年輕族群掀起珍奶旋風，專賣珍奶的手搖杯店陸續在各地展店
(C) 隨著英國脫歐大限接近，專家預測水貨、甚至是假貨會滲透英國市場
(D) 汶萊實施加強刑罰強度的法典，內容包括竊盜者斬斷手腳、鞭刑女同性戀

39. 公民課時，老師請班上同學針對「行政院」蒐集資料與進行報告。
心恬：副院長與各部會首長由行政院長直接任命
大均：院長與各部會首長要向總統提出施政方針
力蓉：負責審查中央政府的總預算
予明：院長與各部會首長要接受立委的質詢
以上同學的發言，共有幾人的發言是正確的呢？
(A) 1 人 (B) 2 人 (C) 3 人 (D) 4 人
40. 司法院為我國最高的司法機關，設有院長、副院長與大法官若干人。請問：下列有關大法官的產生方式與職權，何者正確？
(甲) 由總統提名，司法院長任命
(乙) 審理政黨違憲解散案件
(丙) 審理正副總統的罷免案
(丁) 審理正副總統的彈劾案
(A) 甲乙 (B) 乙丁 (C) 丙丁 (D) 甲丙
41. 自 2018 年開始展開的中美貿易戰，爭端源於美國總統 川普 宣布以「中國偷竊美國智慧財產權和商業秘密」為由，指示美國貿易代表對從中國進口的商品徵收關稅；中國商務部其後作出反制措施向一百多項美國進口商品徵稅，其中包括美國向中國出口最多的貨品大豆。請問：中美貿易戰中主角的 中國與美國 的「國家型態」分別為何？
(A) 君主、民主 (B) 獨裁、民主
(C) 共和、共和 (D) 獨裁、共和
42. 我國監察院的創設，源自於五權憲法的理論，模倣古代中國御史諫官制度，由監察權監督行政權，同時避免立法院擅用此權，挾制行政機關。請問：依據我國憲法規定，下列何者屬於監察院的職權？
(甲) 調查內政部推動數位身份證的程序瑕疵
(乙) 向公務員懲戒委員會提出彈劾市長
(丙) 向主管或上級長官提出公職人員糾正案
(丁) 對中央政府各機關年度預算執行審計權
(A) 甲乙 (B) 乙丁 (C) 丙丁 (D) 甲丙
43. 下列有關「三權分立」與「五權分立」的說明，何者正確？
(A) 三權分立由英國 艾克頓 爵士所提出，五權分立由我國 孫中山 先生所提出
(B) 三權分立主張行政權兼考試權，能夠避免濫用私人的流弊
(C) 五權分立主張監察權從立法權中獨立，能夠杜絕議會專制
(D) 我國與西方民主國家都採用五權分立的制度來組織政府
44. 日本自 1989 年使用至今的年號「平成」已走入歷史，內閣官房長官公布新年號「令和」，於新天皇德仁 5 月 1 日正式繼位時啟用。以上是公民課時，老師在課堂上分享的國際要事，引發了同學們熱烈的討論，請問何人發言是正確的？
(A) 品均：日本天皇掌握政治實權，需向人民及國會負責
(B) 雅誼：日本天皇和北韓領導人都是世襲元首，皆為君主國
(C) 冠弘：日本首相為虛位元首，沒有真正統治國家的權力
(D) 秉澤：日本有民選政府掌握政治實權，屬於民主政體
45. 現代國家是為人民而存在，一般而言主要下列幾個目的，請問何者配對有誤？
(A) 保障基本人權：憲法第 14 條：「人民有集會及結社之自由」
(B) 伸張司法正義：警察追捕肇事逃逸駕駛，順利將嫌犯逮捕歸案
(C) 保衛國家安全：總統出訪加勒比海友邦國家，展開 12 天 11 夜的「自由民主永續之旅」
(D) 促進經濟發展：打造經貿園區，串聯科技產業，吸引國際企業總部進駐
46. 中華民國的國慶日又稱為雙十節，起源於 1911 年武昌起義的發動日 10 月 10 日，自政府遷臺以來，每年皆在總統府前廣場會舉辦升旗典禮以及慶祝大會。請問：以下有關於總統的職權，何者正確？
(A) 被動解散立法院，使立法委員重新選舉
(B) 對行政院長提出不信任案，使其辭職下台
(C) 發布緊急命令，並於 10 日內提交行政院追認
(D) 對於立法院提出的行政院長人選行使同意權
47. 國家是由人民、領土、政府、主權四個要素組合而成；下列相關說明，何者正確？
(A) 父母雙方都是英國國籍而在臺灣出生的約翰，藉由屬地原則，可以成為我國國民
(B) 在 200 浬的經濟海域之內，都是該國的領土，可以從事探勘、開發、使用的權利
(C) 政府是國家的管理機構，政府的更替，會影響國家在國際上享有的權利和地位
(D) 主權是由全體國民行使，對內有決策與執行的權力，對外則不受任何國家的干預
48. 下表是依據國家的國體與政體分類之整理，表中 X 國是屬於何種國家的類型？

政體 \ 國體	丙	丁
甲		中華民國
乙		X 國

(A) 君主立憲國 (B) 君主獨裁國
(C) 民主共和國 (D) 獨裁共和國
49. 某直播新聞記者：現場正在進行閣揆不信任案的投票表決，朝野雙方也展開攻防戰...
根據上述內容判斷，該政府機關除了提出不信任案之外，還具有下列哪項職權？
(A) 解釋法律與命令 (B) 提出憲法修正案
(C) 編列中央政府的預算 (D) 彈劾違法的公務人員
50. 甲：「我要提名阿仁為大法官」
乙：「我認為阿仁不適合，我不同意這個人事任命案」
以上為我國中央政府官員的對話，根據上述內容判斷，下列何者正確？
(A) 甲可以對乙提出彈劾案
(B) 甲要向乙提出施政報告
(C) 乙可以提出領土變更案
(D) 乙可以審理政黨違憲解散案

新北市立新莊國民中學 108 學年度第 1 學期第 1 次段考 8 年級社會領域試題
解答

1	2	3	4	5	6	7	8	9	10
C	B	D	D	A	D	B	C	A	B
11	12	13	14	15	16	17	18	19	20
B	C	C	A	B	D	B	A	C	B
21	22	23	24	25	26	27	28	29	30
B	A	C	D	C	A	B	B	A	D
31	32	33	34	35	36	37	38	39	40
A	C	C	D	C	B	C	A	A	B
41	42	43	44	45	46	47	48	49	50
C	A	C	D	B	A	D	A	B	C