

※ 選擇題：本試卷共 50 題，每題 2 分，總分為 100 分。每一題均為單選題，請選出最適當答案。

※ 請用 2B 鉛筆在答案卡上相應的位置畫記。

- 高實正在籌備一部關於「春秋戰國」時期的戲劇，請問下列哪一個場景不會出現在戲劇中？
(A) 貴族沒落，平民崛起 (B) 人民正認真製作兵馬俑
(C) 商鞅變法，編列戶籍 (D) 學術思想出現各家學說。
- 長安城(今陝西省西安市)是世界名都之一，其位在平原之處，四周地勢險要，易守難攻；請問，長安城的歷史變遷下列哪一項正確？
(A) 殷商建立都城之地
(B) 三國曹魏、西晉首都
(C) 北魏孝文帝遷都地
(D) 布局對稱，坊市分離

【第 3 至 4 題為題組】

請閱讀以下新聞回答問題：

【風傳媒-風生活 2025.05.03】

據報導，長城的修築，並非始於秦始皇，而是早在東周時期便已初見雛形。當時的燕、趙、秦等國，為防範□□等北方勢力侵擾，都在邊境興建築牆防禦。秦始皇統一六國後，將原本分段的邊防整合形成橫貫東西、規模空前的長城。

正因長城的防禦力強，更能切斷資源，使得無法從中國獲取所需的北方民族，只能將目光轉往西方。這場「被迫西遷」的連鎖效應，竟意外改寫了歐洲的命運。



- 根據風傳媒-風生活新聞報導，東周時期燕、趙、秦等國是為了防範□□等北方勢力侵擾而興建長城防禦。請問□□是指下列哪一北方族群？
(A) 鮮卑 (B) 突厥 (C) 匈奴 (D) 身毒
- 秦始皇嬴政歷經數年，終於一統天下。但是他統領六國後，開始一系列的暴政，為秦帝國短暫的國祚埋下伏筆。請問，下列哪一項並非秦始皇的措施？
(A) 統一文字、度量衡 (B) 中央集權、控制思想
(C) 嚴刑峻法，賦役繁重 (D) 種族歧視，打壓胡人。

甲	推動九品官人之法
乙	推舉孝廉，立太學教儒學
丙	推行科舉考試制度
丁	宗法制度，確立貴族世襲

小白在整理歷史大事記時，將幾件關於選才制度重要的歷史事件順序弄錯了！請由上圖表內容來判斷，正確的事件順序應該如何排列？

- (A) 丁乙甲丙 (B) 甲丁乙丙 (C) 乙丙丁甲 (D) 丙乙甲丁
- 秦始皇統一六國後，為了如何管理領土問題，激起朝中大臣相互辯論！
①丞相王綰：「統一六國後，六國舊地距離遙遠，應該重新分封諸王到當地，由諸王鎮守管控。」
②大臣李斯：「分封同姓諸侯的問題是，後代子孫關係會越來越疏遠，恐將釀成手足相殘之遺憾；應直接任命官員赴任管理，聽命中央。」
請問，這二者的辯論，秦始皇最終採納誰的意見？
(A) 丞相王綰：封建 (B) 丞相王綰：郡縣
(C) 大臣李斯：郡縣 (D) 大臣李斯：封建
- 本校校園矗立著一尊孔子塑像，一直守護著歷屆學生們。霓凰在大升旗時想到，歷史課第一章有提到，孔子是第一個把教育帶至平民生活的人。他在教育上強調「有教無類」，在政治上主張國君應施行「仁政」；請問，孔子是下列哪一家學術思想的主要代表人物？
(A) 墨家 (B) 儒家 (C) 法家 (D) 道家

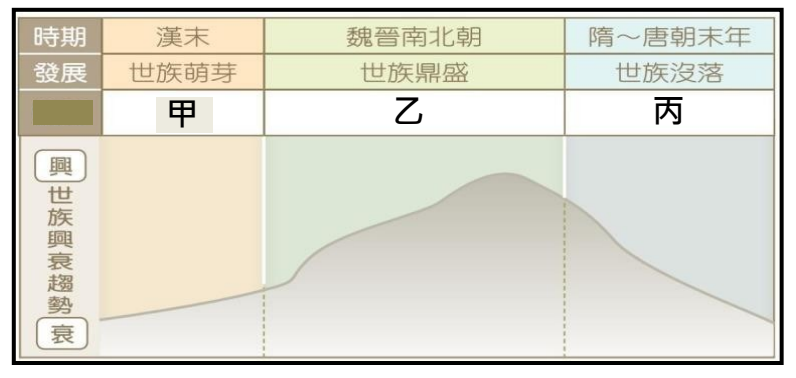


- 臺北外雙溪國立故宮博物院珍藏許多古物，其中翠玉白菜、毛公鼎、肉形石被喻為民間版的故宮三寶。其中毛公鼎腹內銘文全文長 500 字，內容敘述西周宣王冊封毛公歆，毛公為紀念自己的任命以及天子告誡，下令鑄鼎的經過。請問，周天子在冊封毛公的儀式中，除了給予爵位、封號之外，還會一併給予毛公下列何者，作為封建體制中的典型範例？
(A) 甲骨文 (B) 兵馬俑 (C) 禮樂器 (D) 葡萄酒



【第 9~10 題為題組】

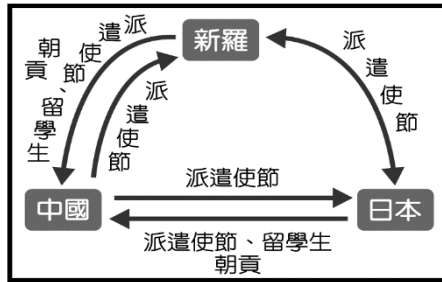
請參照下圖-「世族興衰趨勢」回答問題：



- 林殊是生活在圖表乙階段的世族豪門子弟，請問他會有哪些生活經驗？
(A) 依照祖父輩安排，即可任官職
(B) 貴為世家大族，也需要服勞役
(C) 雖為豪門子弟，不需繳納賦稅
(D) 需通過科舉考試，才可任官職
- 從圖表乙→丙，世家大族逐漸沒落，退出政治舞台是因為下列哪一制度影響？
(A) 郡縣制度出現 (B) 宗法制度出現
(C) 察舉制度出現 (D) 科舉制度出現
- 唐朝文成公主奉唐太宗之命下嫁給松贊干布，她除了宣揚大唐文化與佛教思想，更將農業技術帶到當地，松贊干布為她興建舉世聞名的布達拉宮；雖然她最後不幸染上天花過世，但當地佛教仍將她封為「綠度母」，將她視為觀世音菩薩右眼之光。請問，今日應該要前往何地才能見證歷史上這段佳話？
(A) 西藏 (B) 印度 (C) 日本 (D) 伊朗
- 西元 751 年，東、西方兩大強權爆發衝突，伊斯蘭軍隊在怛羅斯打敗唐朝高仙芝帶領的軍隊，部分唐軍被俘。此戰造成的影響有二：①□□□西傳、②中亞地區此後落入大食帝國之手，天可汗體系面臨崩壞的危機。請問，□□□是指下列哪一項技術？
(A) 指南針 (B) 造紙術 (C) 霹靂炮 (D) 印刷術
- 「達瓦孜」是維吾爾族在古爾邦節、諾魯孜節等重大節日時所表演走繩索技藝。東漢張衡在《西京賦》中就曾記載西漢元封三年，皇帝召集各族藝人表演之事，其中就包括走繩索-「臨回望之廣場，成角抵之妙戲……跳丸劍之揮霍，走索上而相逢。」在《續後漢書·禮儀志》中也有達瓦孜表演過程相關記載。請問，此項技藝會在中國出現，應該與下列哪一事件最有關係？
(A) 北魏孝文帝往南遷都，帶來不同技藝交流
(B) 唐初玄奘法師往西方求取佛經帶回此技藝
(C) 新羅國為了全力模仿唐文化所交流之技藝
(D) 漢武帝派遣張騫出使西域，促進文化交流

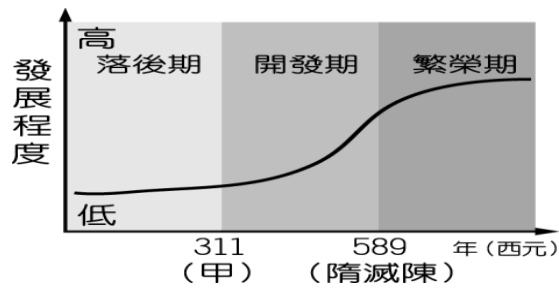
背面尚有試題

14. 右圖是亞洲三個國家在某一時期彼此交流的情形。請問下列敘述內容正確的是？



- (甲)新羅=君子國
 - (乙)日本與新羅接受從中國傳入的伊斯蘭教
 - (丙)此為唐文化外傳時期
 - (丁)此為魏晉南北朝時期
 - (戊)日本孝德天皇之唐化運動=大化革新
 - (己)日本片假名取漢字楷書偏旁簡化而成
- (A)甲乙丁戊 (B)丙丁戊己 (C)甲丙戊己 (D)甲乙戊己

15. 中國經濟發展的重心原本是在黃河流域，但是因為北方長期戰亂，在哪一事件(如附圖甲)之後，大批人士為了求生存所以遷往南方，為南方帶來進步的農耕技術與充沛人力，加速南方開發，奠定日後經濟與文化重心逐漸南移基礎。



16. 唐朝「東亞文化圈」的形成不僅改變當時中國本土文化，更讓當時民眾認識初步地球村概念。請問當時各民族交流之展現下列何者為非？

- (A)當時西域各族是沿著長城，再往南到中國首都長安
- (B)首都長安城胡商聚集，展現大唐兼容並蓄文化風貌
- (C)唐太宗滅東突厥後被尊天可汗，成為東亞秩序盟主
- (D)漢戴胡帽，胡穿漢服，呈現出多元融合的文化樣貌

17. 世界級的太空與天文觀測台通常設置在具備以下條件的地方:晴朗夜多、低濕度、大氣穩定、遠離光害與無線電干擾，並且為達最佳觀測效果，地點應視野開闊，地勢較高。請問中國有意建設亞洲最大型的天文望遠鏡，最有可能的選址地點為圖中何地？



- (A)甲 (B)乙 (C)丙 (D)丁。

18. 京港高鐵歷經預算超支、拆遷爭議...等困難，迄今已通車七年，載運量逼近一億人次，已成為中國內地與香港往來的重要交通工具。請問下列何者最可能是旅客一月份從香港出發前往北京旅途中感受到的變化？



- (A)降水逐漸減少 (B)人口逐漸減少
- (C)地勢逐漸升高 (D)氣溫逐漸升高。

19. 承上題，這段路程依序經過的地形區為下列何者？

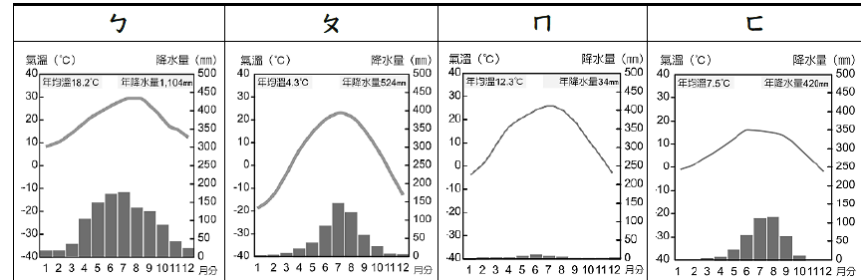
- (A)長江中下游平原、珠江三角洲、華北平原
- (B)長江中下游平原、華北平原、珠江三角洲、
- (C)珠江三角洲、長江中下游平原、華北平原
- (D)珠江三角洲、華北平原、長江中下游平原。

20. 報載中國某地的地形特色:「開一片荒地脫一層層皮，下一場場大雨流一回回泥。」請問上述景象最有可能在右圖中哪個高原見到？



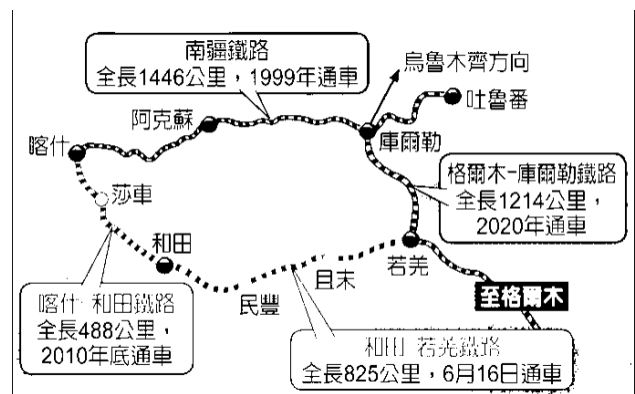
- (A)甲 (B)乙 (C)丙 (D)丁。

21. 有「高原人蔘」之稱的紅景天可說是相當神奇的藥用植物，具有抗疲勞、抗缺氧、抗寒冷、抗微波輻射，提高工作效率、提高腦力活動等藥效，對人體健康大有幫助，多數紅景天都生長在海拔三千五百公尺以上的高山或叢林中，其生長環境的氣候圖應為下列何者？



- (A)ㄅ (B)ㄆ (C)ㄇ (D)ㄊ。

22. 中國南疆地區完成環繞最大盆地的環形鐵路後，改善當地的交通便利性，也提升經濟效益，讓昔日的「死亡之海」變成「希望之地」，請問搭乘上述鐵路列車的乘客最有可能在行進中看見以下何種景象？



- (A)浩瀚大漠沙丘 (B)高寒稀氧荒漠
- (C)黃土溝谷交錯 (D)牛馬點綴草原。

23. 中國某地於2022年成功列名於聯合國教育科學文化組織頒布的世界遺產名錄上，此遺產位於「中國熱帶雨林生物地理省」，由於該地與大陸分離已逾千萬年，儘管冰期曾間歇性連接，生物群落與生態系統仍獨立演化為獨特的山地生態系統，孕育大量特有物種。請問此世界遺產位於圖中何地？



- (A)甲 (B)乙 (C)丙 (D)丁。

24. 中國在橫斷山脈的瀾滄江狹長峽谷上建立11座大壩，產生的電力遠遠超過該地區的需求，卻造成下游的農漁民苦不堪言，漁獲量急劇下降，在乾旱季節，下游國家70%水資源都仰賴中國控制的瀾滄江「高抬貴手」。請問關於瀾滄江的敘述何者正確？

- (A)瀾滄江位於中國地勢最低階梯
- (B)瀾滄江位於中國緯度較高地區
- (C)瀾滄江下游國家位於印度半島
- (D)瀾滄江位於南北走向縱谷區。

25. 金門縣金沙鎮石雕公園預計於2026年落成，園區有33公尺高的文殊菩薩石雕，為汲取管理經驗，金門縣長近期率團參訪福建省漳州東山縣「關聖帝君文化產業園」，考量金門與漳州兩地距離相近，且同為閩南宗教文化脈絡，園區之經營管理模式值得借鏡。請問福建關聖帝君文化產業園區位於哪一個地形區？

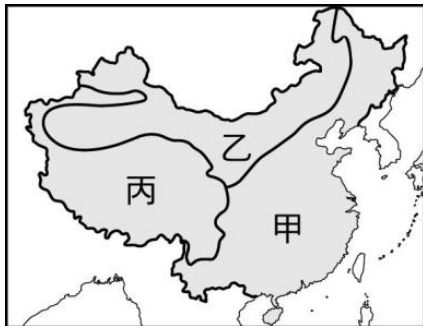
- (A)東南丘陵 (B)四川盆地
- (C)珠江三角洲 (D)山東丘陵。

26. 中國每年 11 月底會發布「凍手凍腳地圖」，依據寒冷程度將全國分為四個等級如右表，請問寒冷程度的變化趨勢受哪一因素影響？

地點	寒冷程度
東北	寒徹骨，小心凍傷
華北	北風刮，凍得發麻
華中	冷颼颼，手腳發涼
華南	暖融融，手腳舒適

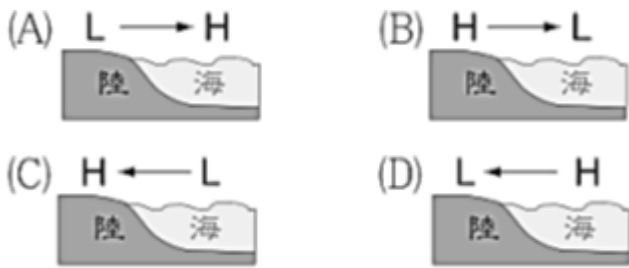
- (A)緯度高低
(B)距海遠近
(C)季風風向
(D)地勢高低。

27. 右圖為中國三大氣候分布圖，對其各區氣候的描述，下列何者正確？

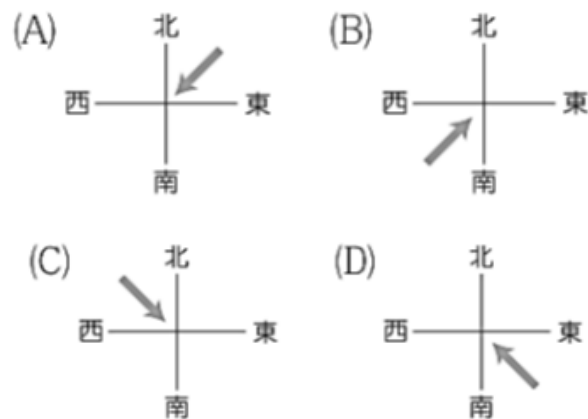


- (A)甲區氣溫及天然植被呈垂直變化
(B)乙區乾燥少雨，年、日溫差小
(C)丙區平均溫度比同緯度低
(D)甲、乙兩區的分界為年雨量 750mm 等雨量線。

28. 「七下八上」意指華北、東北地區通常在每年 7 月下旬到 8 月上旬雨勢過於集中，一個月的雨量就能佔全年的三分之一，因此容易發生土石流、暴雨等天然災害。請問當此現象發生時，中國大陸與鄰近海洋的氣壓示意圖與下列何者最相符？



29. 承上題，此時的風向應為下列何者？



30. 蒙古原羚喜歡生活在半乾燥的草原地帶，偶爾才到高山或峽谷區，從不進入沙漠，一般隨牧草的生長情況而移動。牠們以草為食，靠積雪來充飢和解渴，奔跑起來如同一陣黃色的旋風，是草原上的一道亮麗風景線。請問蒙古原羚主要棲息地為圖中何地？



- (A)甲 (B)乙 (C)戊 (D)丁。

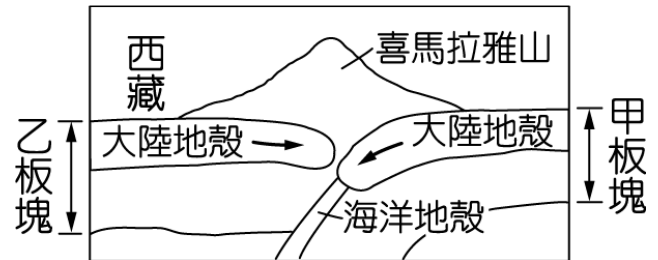
31. 承上題，蒙古原羚主要棲息地的氣溫、降水標準為下列何者？

- (A)年降水量 >500mm，一月均溫 <0°C
(B)年降水量 <500mm，七月均溫 <20°C
(C)年降水量 250~500mm，七月均溫 >20°C
(D)年降水量 <250mm，一月均溫 <0°C。

32. 「一江春水向東流」，說明中國主要河川多由西向東流，例如：長江、黃河等。若要說明上述現象的成因，用下列哪一張圖最適合？

- (A)中國年降水量的分布圖
(B)中國地勢三級階梯分布圖
(C)中國五大地形面積比例圖
(D)中國三大氣候類型分布圖。

33. 下圖為世界最高峰—喜馬拉雅山的成因示意圖，請問：甲、乙板塊分別應該為下列何者？



- (A)太平洋板塊、印澳板塊
(B)印澳板塊、歐亞板塊
(C)歐亞板塊、太平洋板塊
(D)歐亞板塊、印澳板塊。

【第 34 至 36 題為題組】

立法院通過某法律部分條文，加重行為人的刑責及增加社區監控機制等。其中針對無故下載、付費購買持有或付費觀覽兒少性影像者，可處 1 年以上、7 年以下有期徒刑，得併科新台幣 100 萬元罰金。另外，對於以強暴脅迫手段拍攝兒少性影像者，未來將比照性侵害加害人處遇及實施登記報到查訪。推動修法的委員表示，警察機關應建立被害人影像數位鑑識資料庫，作為修法後續配套。而網路上若有兒少性影像風險與急迫性的內容，主管機關可立即封網，遏止違法兒少性影像網站不停更換網域，減少性影像的散布。

34. 文中所指的法律最可能為下列何者？

- (A)性別平等教育法 (B)兒童及少年性剝削防制條例
(C)憲法增修條文 (D)校園霸凌防制準則。

35. 承上題，該法律的位階為何？

- (A)命令 (B)法律 (C)憲法 (D)增修條文。

36. 其所提到的警察機關，依法打擊犯罪以維護安寧，最能發揮何種國家存在目的？

- (A)福利 (B)文化 (C)安全 (D)秩序。

【第 37 至 39 題為題組】

近年社會中爆發多起職場主管霸凌員工之事件，不僅在私人企業，政府機關也層出不窮，引發民眾強烈抨擊。這些霸凌行為包括言語辱罵、指派過重業務、要求假日隨時待命等，已嚴重影響員工身心健康。某任職行政院勞動部分署的公務員，疑似因職場霸凌而輕生，該事件震驚全台；勞動部依法給予分署長記過及免職處分。因此行政院日前成立「人事總處職場霸凌通報平台」，藉由提供通報管道、列管通報案件後續執行情形，以保障公務員之職場安全。

37. 上述行政院成立人事總處職場通報平台，與下列何項人民的基本權利最相關？

- (A)參政權 (B)受益權 (C)自由權 (D)平等權。

38. 承上題，上述政府作為所要保障的人民基本權利類型，與下列何者最類似？

- (A)組織職業團體表達民意訴求
(B)禁止因性別差異而同工不同酬
(C)報考公務人員考試
(D)接受國民教育提升國民素質。

39. 勞動部依法給予分署長記過及免職處分，請問前述提及的「依法」這個概念最符合哪一項民主政治的特色？

- (A)法治政治 (B)政黨政治 (C)責任政治 (D)民意政治

40. 考試院為積極推動數位轉型，建設訴願管理資訊系統及訴願服務網，以提升訴願服務品質並保障人民權益。此舉將推動訴願業務電子化，提升案件處理效率，並縮短人工處理所需時間。上述提到保障的人民基本權利類型與下列何者相同？
 (A) 創作者擁有智慧財產
 (B) 男女可依法請育嬰假
 (C) 於立法院網站留言表達看法
 (D) 參與總統大選投票。
41. 在民主國家中，結社自由是一項重要的基本權利，許多人利用這項權利成立團體以促進共同利益。例如，一個環保團體可以透過遊行、請願等活動，推動政府加強環保政策。以下哪一項最能反映保障人民結社自由的意義？
 (A) 人民的教育程度普遍提升
 (B) 提升政府組織運作的效能
 (C) 政府施政受人民團體管制
 (D) 反映國家的民主自由開放程度。
42. 臺北市大安區有一座陸橋，已有超過 40 年的歷史，承載了過去臺北人的共同記憶。這座天橋以四邊通行並有頂蓋的設計提供了行人安全，也成為許多文化作品與電視劇的拍攝場景。然而，隨著馬路拓寬及行人動線的重新規劃，陸橋的使用率大幅下降。臺北市政府基於橋梁年限及結構安全的考量，決定拆除該天橋。部分市民發起守護活動，透過簽署連署書及至市議會抗議，呼籲政府重視此橋的文化價值及其代表的城市歷史景觀。對於上述情境，下列說明何者最正確？
 (A) 透過連署書闡述意見，是表現自由的展現
 (B) 民眾集結抗議是憲法賦予的結社自由
 (C) 反對拆除的民眾可向臺北市政府提起訴訟
 (D) 可以善用創制權要求臺北市政府修改決議。
43. 近年來，馬祖海域時常傳出中國漁船越界捕撈的新聞，這些事件引發了國人對於海洋主權和邊界的關注。海巡署在執行任務時，依據國家的哪一項組成要素，對越界的中國漁船進行查緝？
 (A) 領空 (B) 人民 (C) 主權 (D) 政府。
44. 每到寒暑假，新聞上常見學生申請就學貸款的報導，許多經濟弱勢的學生透過貸款支付學費，並在畢業後逐年償還。貸款利息的差額由政府預算補貼。請問，政府設立這項就學貸款政策，主要在履行哪一項現代民主國家的功能？
 (A) 發展經濟 (B) 維護秩序 (C) 實施福利 (D) 促進文化。
45. 新聞報導指出，某地方政府在未通知家屬的情況下，將原住民族公墓遷移，導致相關家屬提起訴訟。經法院判決，家屬獲得國家賠償。關於該事件中涉及的基本權利，下列敘述何者正確？
 (A) 提起訴訟以對抗不法侵害，為人民於憲法擁有的平等權
 (B) 尊重原住民族的殯葬文化，屬於憲法保障的多元文化權
 (C) 政府未以書面文件通知家屬，是確保憲法維護的隱私權
 (D) 移遷公墓對家屬造成侵害，可由憲法規範的環境權說明。
46. 媒體報導，有工會為女性空服員發聲，指出國內許多航空公司規定女性空服員必須著裙裝，且在妝髮、鞋襪款式上有具體要求。工會認為這些規定涉及性別歧視，違反了相關法律與憲法保障的基本權利。請問該工會活動傳遞的主旨為何？
 (A) 航空公司的服儀規定違反平等權
 (B) 不同文化的社會規範存在差異性
 (C) 航空公司依法行政屬於法治政治
 (D) 女性在職場上未獲合理薪資報酬。
47. 在公民課堂上，老師請同學們討論國家與政府的定義和區別，並讓每位同學發表自己的看法。以下是四位同學的發言，請選出說明最正確的一位：
 (A) 詩蓉：國家只是構成政府部門成立的數個要素之一
 (B) 唐玉：國家應屬於負責制定政策與執行的行政單位
 (C) 瀚鎧：國家主權需要政府機關執行公權力加以貫徹
 (D) 雨娟：國家通常會因政權轉移或者制度變遷而改變。
48. 由紐西蘭舉辦的第 29 屆 APEC 經濟領袖會議，以線上方式進行。我國由台積電創辦人張忠謀先生代表出席，與各會員國討論區域貿易及經濟合作等重要議題。這樣的參與，顯示我國能與其他會員國平等交流。請問這主要是基於下列哪一項國家組成要素？
 (A) 人民 (B) 領土 (C) 主權 (D) 政府。
49. 冠宇在觀看一則關於政府長期照顧政策的新聞時，聽到受訪官員提到：「政府計劃投入 800 億元預算，用於推動長照 2.0 計畫，包括居家服務、日間照顧、餐食提供及交通接送等，並結合醫療與社福資源，滿足民眾需求。」根據此內容，冠宇可能對政府運作的理解為何？
 (A) 能與他國建立平等國際關係
 (B) 以專業的組織管理國家資源
 (C) 具有穩定性與持續性
 (D) 會隨著主權輪替而產生改變。
50. 定憲正和裕佳在國際合作會議現場，定憲看著會議桌上的地圖，問裕佳關於 200 浬經濟海域的知識。以下哪個敘述最能正確描述這片區域？
 (A) 是國家統治權所能支配的地理區域
 (B) 包含上方的空域均為各國領土範圍
 (C) 侵入該海域視為對領海主權的侵犯
 (D) 距離領海基線 200 浬內。

試題結束