

新北市立新莊國民中學 109 學年度第 1 學期第 3 次段考 7 年級社會領域試題卷

班級 座號 姓名

※ 選擇題：本試卷共 50 題，每題 2 分，總分為 100 分。

每一題均為單選題，請選出最適當答案。

※ 請用 2B 鉛筆在答案卡上相應的位置畫記。

1. 根據右圖，這位演講者最想要傳達的理念為下列何者？

- (A) 人的身體自由應受到保障，任何人都不能加以干涉
(B) 未審先判是不公平的對待
(C) 人人在尊嚴及權利上一律平等
(D) 媒體和人民皆有言論自由應予以保障



2. 下列何者不是原住民族在現代社會所面臨的困境？

- (A) 狩獵文化與環境保護、槍枝管制的衝突
(B) 政府與原住民對傳統領域所劃設範圍認知的不同
(C) 西拉雅等原住民族追求正名運動的爭議
(D) 原住民沒有法定假日可以回部落參與歲時祭儀

3. 就讀國小的阿弟看著電視新聞正在播報關於殺人棄屍的新聞，新聞中加註「無罪推定」的字眼，阿弟問就讀國中的哥哥，什麼是「無罪推定」？請問：下列哪一個說法是最正確的答案？

- (A) 即使殺了人也因為有教化的可能而無罪
(B) 每個人都有權利得到公平公開審判
(C) 受刑人也有受國家保障的人性尊嚴
(D) 任何人在法官未做出判決前都是無罪的

4. 2019 年中斷百餘年的噶瑪蘭族傳統海祭，於宜蘭海邊重現。在奇立板社頭目的引領下，以酒和豬肉串等向祖靈及大海獻祭，祈求平安豐收。帶領族人的頭目表示，希望藉由文化的洗禮，重建噶瑪蘭傳統，進而讓族人可以恢復族群身分。請問：透過傳統海祭，所傳達的理念不包括何者？

- (A) 參加集會保障部落權益 (B) 增進族人對身分的認同
(C) 傳承傳統文化 (D) 凝聚族人向心力

5. 有民間的人權團體為了監督政府是否善盡落實人權的責任，透過研究各國人權指標，以建立適合我國的人權指標。同時藉由觀察我國在各項人權指標的表現，判斷我國人權保障與落實情形，得以向政府提出改善建議。請問：下列何者最有可能是該人權團體的人權報告內容？

- (A) 我國民眾租屋購屋比例調查統計
(B) 國立與私立大學設置比例調查統計
(C) 我國法院歷年司法誤判案件統計
(D) 我國歷年違反動物保護法案件統計

6. 達悟族人每年 3~6 月時捕撈飛魚，此期間不會捕撈其他魚類，等到 6 月過後，再捕撈其他魚類，透過此種方式，讓各種魚類都能獲得恢復的時間。請問：此種作法最符合下列何種概念？

- (A) 相信人定勝天 (B) 追求永續發展
(C) 追求商業利益 (D) 強調物競天擇

7. 身為原住民族的阿泰想選擇一位對原住民族最為了解的同學，跟他一起合作完成公民報告，根據下列四個人的發言判斷，何人最有可能成為他的搭檔？

- (A) 部落舉辦祭典是為了吸引觀光人潮。
(B) 一個部落內的族人都是來自不同祖先。
(C) 原住民族大多以部落為自治的基礎。
(D) 原住民族相信人類可以主宰一切。

8. 阿中分享了一位律師的貼文如下，關於其內容敘述何者正確？

我是一位公益律師，幫忙辯護的對象多為犯有重罪者。許多人質疑我為什麼要替罪大惡極、罪有應得的人辯護？泯滅良知成為魔鬼代言人。但我始終相信，即使是被判了死刑的人，也跟我們一樣擁有人權，這是身為人而與生俱來的權利。

- (A) 司法未能顧及被害者權益
(B) 受刑人的人身自由不該受到剝奪
(C) 受刑人犯下罪刑便應該失去享有人性尊嚴的權利
(D) 人權應該受到普遍性的保障

【第 9 至 11 題為題組】請根據下列敘述回答下列問題：

根據國際勞動組織統計，全球仍有高達 1.52 億名童工，其中 7 成是從事農業相關的工作，更有高達 3 成的孩子因此無法上學。其中有 7300 萬名兒童，是被迫從事高度危險的工作，嚴重危害孩童的健康與生命安全。在適逢國際勞動組織推動「終結童工」的一百周年之際，包括德國總理梅克爾、法國總統馬克宏，在日內瓦出席國際勞動組織成立百周年的紀念大會上，除了呼籲要終止一切形式的奴役行為，更目標要在 2025 年以前，將全球的童工人數歸零，還給兒童一個正常的童年。

9. 根據文中所述，「還給兒童一個正常的童年」代表的是下列何者？

- (A) 人性尊嚴並非與生俱來
(B) 人權保障是人性尊嚴的核心價值
(C) 人性尊嚴可能因年齡、族群、文化、國籍而不同
(D) 人應該是可以自我決定的主體，不能當成工具

10. 下列何者與被剝削的童工一樣，人權未受到重視？

- (甲) 美國試圖蓋邊界圍牆，拒絕墨西哥難民入境
(乙) 禁止宗教自由的中國，將維吾爾族人送至集體再改造營
(丙) 學校不得無故對學生進行尿液檢驗
(丁) 伊朗女性長久以來被禁止進入足球球場觀看男子賽事
(A) 甲乙丁 (B) 甲乙丙 (C) 乙丙丁 (D) 甲乙丙丁

11. 目前國際上公認的人權法典，也是人權最重要的法律基礎，是為這些童工發聲最有利的依據，指的是下列何者？

- 〔甲〕中華民國憲法〔乙〕世界人權宣言〔丙〕公民與政治權利國際公約〔丁〕兒童與少年福利與權益保障法〔戊〕經濟社會文化權利公約。
(A) 甲乙丙 (B) 乙丙戊 (C) 甲乙丙戊 (D) 甲乙丙丁戊

【第 12 至 13 題為題組】請根據下列敘述回答下列問題：

傳統泰雅族人有一精神文化核心「gaga」，是祖先的遺訓，更是部落共同的規範準則。即是部落一起耕作、打獵收成和收穫、一起分享，親族之間一起共食共享。

近年發展出「部落共同廚房」，共同廚房餐食與服務的提供，不一定要以金錢來交換，可以是案主的勞力（例如：幫忙廚房的清潔、食物料理等勞動）或是以物易物（家裡自己種的蔬菜等）。部落廚房將發展一種無形的部落貨幣機制，共同討論出一種另類的價目表（一個便當值幫忙廚房洗碗一次，或提供家裡豌豆一把）。

部落共享同農場的作物（短期蔬菜、放山土雞），不僅提供部落廚房成為食材，還可以賣到果菜市場賺取利潤，回饋到部落共同照顧基金；共同廚房除了中餐的共食團體外，還開發泰雅美食、特色咖啡、小米酒、傳統編織工藝、特色烘焙、深度旅遊等產品經營，獲利回饋共同照顧運作基金。

12. 根據上面文章第二段的描述，較符合「107 年度原住民族活力計畫」的哪一項目標？

- (A) 回復共工共耕文化，減少貨幣依賴
(B) 落實部落會議組織，奠定原住民族自治基礎
(C) 復振部落傳統文化，凝聚文化主體認同
(D) 營造民族生活環境，建構部落安全場域

背面尚有試題

新北市立新莊國民中學 109 學年度第 1 學期第 3 次段考 7 年級社會領域試題卷

班級 座號 姓名

13. 根據上面文章第三段畫線地方的描述，較符合「107 年度原住民活力計畫」的哪一項目標？
- (A) 復振部落傳統文化，凝聚文化主體認同
(B) 落實部落會議組織，奠定原住民族自治基礎
(C) 營造民族生活環境，建構部落安全場域
(D) 發展部落經濟產業，促進部落就業機會

【第 14 至 16 題為題組】請根據下列敘述回答下列問題：

根據新聞報導，台東知本光電案爭議 2 年，今年 6 月中卡大地布部落家族 3 大拉罕同赴台北高等行政法院，聲請知本光電的電業籌設許可准許案，應停止執行。因開發的太陽能光電區牽涉到「知本濕地」的環保問題和部落的傳統領域。

11 月台北高等行政法院終於獲得裁准，部落主席林茂盛表示，部落並不反對綠能，但應遵守程序正義，數十名卡大地布部落的卑南族人高舉陳情布條，3 大拉罕籲請台東縣政府尊重部落主權與法院判決，主動向盛力能源公司解約，讓部落有機會修補因開發案產生的裂痕。

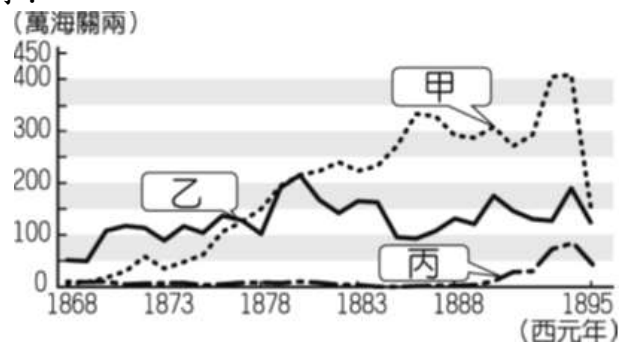
14. 拉罕為卡大地布部落的傳統領袖，請問：下列敘述何者正確？
- (A) 部落領袖皆由原住民族委員會負責派認的
(B) 部落領袖帶領族人管理部落的共同事務
(C) 各部落領袖的稱謂皆為一致
(D) 部落能永續經營，是部落領袖一個人的責任
15. 根據新聞報導判斷，卡大地布部落的族人透過何者方式表達自身權益？
- (A) 媒體大力報導 (B) 政府全盤主導
(C) 民間團體的伸援 (D) 公民積極參與
16. 下列敘述何者正確？
- (A) 原住民土地是神聖的，不允許任何開發利用
(B) 部落裡最該被珍視的價值，就是族人追求經濟發展的共識
(C) 土地是原住民生存與維繫部落的地方，應落實部落會議組織，凝聚共識
(D) 部落的發展與未來，應由政府、財團及部落一同決定

【第 17 至 26 題為題組】

周莫桓是師大歷史系的大一新鮮人，他為了學好台灣史打算身體力行來趟環島史蹟之旅。以下為他的行程：

17. 第一站：莫桓從新莊來到宜蘭礁溪參觀○紀念館（也是○故居），在紀念館門口他看到門外對聯寫著：「真成拓土無雙士，正是開蘭第一人。」從對聯內容可以了解這故居應該是一個率領漢人來蛤仔難開墾，對宜蘭開墾很有貢獻的人，請問：這紀念館應該是誰的故居？
- (A) 施琅 (B) 吳沙 (C) 蔡牽 (D) 劉銘傳
18. 第二站：莫桓從宜蘭接著來到花蓮剛好遇上撒奇萊雅族正在舉辦火神祭，火神祭是撒奇萊雅族用來紀念在一場抗清事件中被清朝殺害的達固灣部落頭目古穆德·巴吉克和他的妻子伊婕·卡娜紹所舉辦的祭典，此事件幾乎造成撒奇萊雅族滅族，有些族人因為隱姓埋名躲藏在阿美族裡才逃過一劫，經過努力他們終於在 2007 年正名成功，而火神祭也從 2006 年舉辦到今年邁入第 15 屆。請問：此事件指的是下列哪一個事件？
- (A) 大甲西社事件 (B) 霧社事件
(C) 加禮宛事件 (D) 麻豆社事件

19. 第三站：莫桓從花蓮來到高雄港口，高雄港乃是清領統治晚期台灣一項重要農產品的主要出口港之一，請問：關於此項產品應該是下圖中的哪一項商品以及它主要銷往的國家為何？



- (A) 甲，美國 (B) 乙，中國
(C) 丙，歐美各國 (D) 乙，東南亞

20. 第四站：參觀完港口後，莫桓來到清領時期在高雄的水利設施遺址參觀，請問：關於此水圳的敘述何者錯誤？
- (A) 此水圳是原住民和漢人合作興建的成果
(B) 此水圳引用的是高屏溪的水
(C) 此水圳是曹公圳、瑠公圳、貓霧揀圳、八堡圳四個水圳中最晚興建的
(D) 此水圳的興建者是曹謹
21. 第五站：莫桓來到彰化縣二水鄉適逢跑水節的舉辦，跑水節的舉辦是為了紀念林先生、施世榜、黃仕卿這三位建立○水圳的有功人士，跑水節的活動過程允許遊客下水跑過此水圳成為此活動的特色。請問：○水圳是指下列哪一個水圳？
- (A) 曹公圳 (B) 瑠公圳 (C) 貓霧揀圳 (D) 八堡圳
22. 第六站：莫桓來到鹿港老街參觀了幾個有名的史蹟景點，其中他有參觀了鹿港泉郊會館，「郊」是台灣商人為了配運貨物和控制商品價格等目的形成的商業組織，請問：「泉郊」的組成是依照下列何者劃分的？
- (A) 貿易商人的祖籍 (B) 貿易商品的種類
(C) 貿易商品的製造地點 (D) 貿易商品的進出口目的地
23. 第七站：莫桓至新竹享用有名的貢丸和米粉當午餐，並前往參觀「開台進士」的府邸。他去參觀的是清代台灣的第一位進士的家，請問：這位開台進士是誰？
- (A) 鄭用錫 (B) 杜聰明 (C) 沈光文 (D) 李春生
24. 第八站：莫桓前往大溪老街享用豆干等美食。透過當地耆老，他了解了大溪的崛起是因為光緒 16 年北路礦腦專賣局的設立使此地成為甲、乙兩樣商品及木材的集散地，而光緒 18 至 23 年是大溪河運的黃金時期，船舶可由淡水、大稻埕、艋舺、新莊直抵大溪。當時的大溪商家雲集，多達三、四百家，多集中在現今和平路老街一帶。請問：甲、乙商品是指什麼東西？
- (A) 樟腦、茶葉 (B) 蔗糖、茶葉
(C) 鹿皮、蔗糖 (D) 蔗糖、樟腦
25. 第九站：莫桓來到三峽清水祖師廟參觀，此廟供奉的主神清水祖師被○○人視為地方最重要的守護神，所以由此廟在三峽的興建可以合理推斷三峽地區早期應為○○人的聚集地，請問：○○人是指下列哪一個族群？
- (A) 客家人 (B) 泉州人 (C) 漳州人 (D) 原住民
26. 第十站：莫桓回到新莊，作為一個新莊人當然也要了解新莊的歷史。莫桓發現在 18 世紀漢人入墾後，新莊曾經是淡水港的內港，被譽為北台灣開發最早的地區。清朝統治

請繼續作答下張試卷

新北市立新莊國民中學 109 學年度第 1 學期第 3 次段考 7 年級社會領域試題卷

班級 _____ 座號 _____ 姓名 _____

時期舟船熙攘、商賈聚集曾盛極一時，擁有「千帆林立新莊港，市肆聚千家燈火」之美譽。但是○○中葉以後，因河道淤積，使新莊失去了航運之便，交通輻輳地位讓予艋舺，新莊的發展也就此停滯。請問：○○中葉是指哪一個清朝皇帝在位時期新莊發生河道淤積使艋舺興起？
 (A)乾隆 (B)道光 (C)嘉慶 (D)康熙

27.附表是嘉爾所做的臺灣清領前期與後期經濟發展的比較筆記，請問：附表中的哪一個項目，嘉爾整理錯了？

項目	清領前期	清領後期
甲、主要港口	淡水、雞籠、安平、打狗	府城、鹿港、艋舺
乙、輸出品	稻米、蔗糖	茶、蔗糖、樟腦
丙、經營組織	郊行	洋行
丁、社會領導階層	地主、郊商	買辦

(A)甲 (B)乙 (C)丙 (D)丁

28.某日歷史課，雅瑜老師請同學討論英法聯軍後臺灣的對外發展概況——喬茵：「此時正值清領後期，臺灣的對外貿易開始大幅成長。」郡恩：「臺灣被迫開放基隆、淡水、安平、打狗四個通商口岸。」敏薇：「此時臺灣的進口商品主要以鴉片為大宗。」柔安：「此時台灣的出口商品最大宗是蔗糖。」老師發現其中有一個人的答案錯誤，這個人是誰？
 (A)喬茵 (B)郡恩 (C)敏薇 (D)柔安

29.清領時期台灣有性別比例懸殊的問題，導致台灣羅漢腳眾多，也出現許多相關俗諺，請問：以下哪一句俗諺與性別比例懸殊無關？
 (A)「有唐山公，無唐山媽，無番仔公，有番仔媽」
 (B)「仙拼仙，拼死猴齊天」
 (C)「红柿出頭，羅漢腳仔目屎流，红柿上市，羅漢腳仔目屎滴」
 (D)「一個某，卡贏三個天公祖」

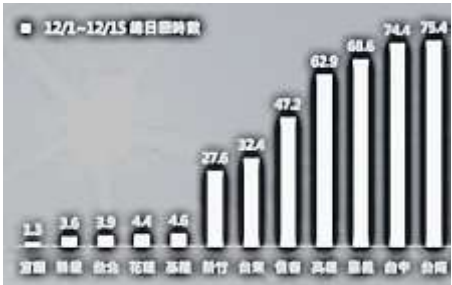
30.上歷史課時同學以「開港通商後西方文化的橋樑」為題進行角色扮演，根據下列對話判斷，何人是扮演「馬偕」的角色？
 (A)文彬說：「我從福建引進茶葉到台灣栽種，改善了北部客家人的生活。」
 (B)真祐說：「我建立了西學堂和電報學堂，引進西式教育。」
 (C)雨霏說：「我創建了牛津學堂引進新式教育。」
 (D)銀優說：「我在台南市看西街成立了台灣第一間西醫醫館。」

31.李東敏自乾隆時期移民來臺，往生後留下五甲田地，三甲分別傳給三子，其餘二甲做為往後家族祭祀開銷。直到今日，李氏子孫開枝散葉，繁衍不絕。每到清明祭祖，往往百人齊聚宗族祠堂。李東敏後世子孫祭祀的模式，後世稱之為？
 (A)唐山祖 (B)開山祖 (C)血緣祖 (D)開臺祖

32.下列的古蹟及地名中何者與漢人的合資開墾無關？
 (A)金廣福公館 (B)苗栗縣頭份市
 (C)台南市林鳳營 (D)台南市七股區

33.清領時期，居住於今天台中沿海的原住民，因對政府指派大量勞役的不滿，憤而聯合今天苗栗到台中西部海岸的道卡斯族共八個部落，攻擊並燒毀在今天沙鹿的台灣府淡水撫民同知衙門，事變後清廷以武力鎮壓又給米，布匹等物資招撫，同年6月，由於清廷官員為求立功，將大肚社五名前來幫助官府運糧、已歸順的大肚番民斬首，謊稱這五人是「作亂生番」，被誣賴的大肚社人，便聯合十餘社的平埔族群原住民圍攻彰化縣城，引爆清代規模最大的原住民抗官事件。請問：此事件是指下列哪一個事件？
 (A)加禮宛事件 (B)大甲西社事件
 (C)霧社事件 (D)麻豆社事件

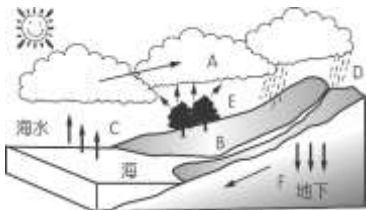
【第 34 至 35 題為題組】
 右圖為 2020 年 12/1~12/15 台灣本島各都市的日照時數統計表，請根據此表回答下列問題：



34.由統計表可知各地區的日照時數差異懸殊，此現象可用下列哪張圖來解釋？
 (A) (B)
 (C) (D)

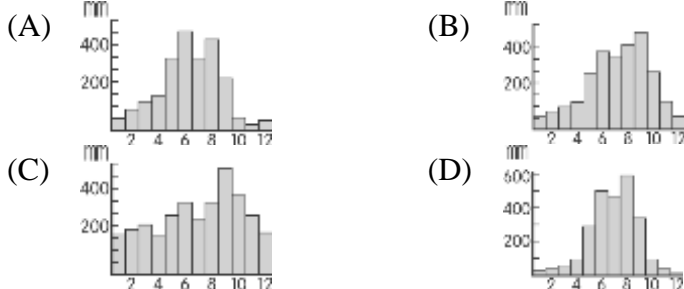
35.日照時數與當地的降雨特性有關，而降雨特性又會影響當地河川特色。若以此表來看，當日照時數愈多的地方，河川的什麼特色愈明顯？
 (A)河川流量變化愈大 (B)河川年輸沙量愈高
 (C)河川坡度愈陡 (D)河川長度愈長

【第 36 至 38 題為題組】
 「屏東大潮州人工湖」是台灣第一座以濕地為概念的地下水補注湖，其原理是以人工調節方式，將洪水導引至湖區，經由滲透到地底下儲存，實踐『增源減洪』的理念，將洪水資源化，水害變成水利，且同時降低『荒溪型河川的限制』與『養殖漁業過度發展』所造成的環境問題。請問：



36.若要用水循環示意圖的 A~F 來說明「增源減洪」的概念，下列敘述何者正確？
 (A)增加 D 降水，減少 F 地下逕流
 (B)增加 F 地下逕流，減少 B 地面逕流
 (C)增加 E 蒸散，減少 A 凝結
 (D)增加 C 蒸發，減少 D 降水

37.文中提到的「荒溪型河川」，其當地的降雨時間分布可用哪張圖來說明？

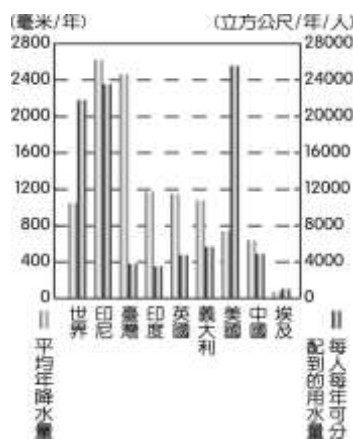


38.文中提到養殖漁業過度發展所造成的「環境問題」，指的可能是下列何者？
 (A)地層下陷 (B)水庫淤積 (C)水土流失 (D)河川汙染

背面尚有試題

39. 由右圖世界與部分國家年平均降水量與人均降水量可知，台灣每人每年可分配到的用水量遠低於世界平均，造成此差異的原因可能為下列何者？

(A) 年降水量不足
(B) 居低緯氣溫高
(C) 人口密度較高
(D) 河川東西流向

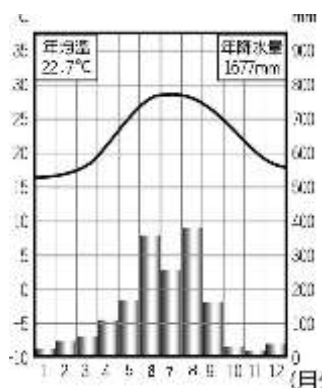


40. 「甘藍菜」深受國人喜愛，一年四季需求量極為龐大，惟其需在溫度約 15~21 度的環境方能種植。近來有業者與農民以契作方式種植甘藍菜，用高於市場的價格收購，條件是要求農民需以有機方式耕作。試問，若以台灣的自然環境來看，下列哪一個季節與地區的農夫較適合種植「甘藍菜」？

(A) 冬季的彰化平原 (B) 夏季的屏東平原
(C) 冬季的玉山山脈 (D) 夏季的宜蘭平原

41. 右圖為某國的氣候圖，請根據此圖判斷，下列敘述何者正確？

(A) 1 月均溫 16 度
(B) 7 月均溫 3 度
(C) 年溫差 19 度
(D) 8 月雨量 780mm



42. 關於新莊區「氣候」的敘述，下列何者正確？

(A) 下週寒流來襲溫度降至 5 度
(B) 夏季炎熱多午後雷陣雨
(C) 本週東北季風南下地形雨的機率增高
(D) 明日颱風侵襲停止上班上課一日

【第 43 至 45 題為題組】

2020 年 08 月 26 日巴威颱風位於(130°E, 30°N)，逐漸遠離台灣，但受共伴效應影響，促使當季盛行風強度增強，氣象局仍發佈豪雨特報與降雨預測(右圖，顏色愈深，代表累積雨量愈多)，提醒各級機關防範致災性大雨。



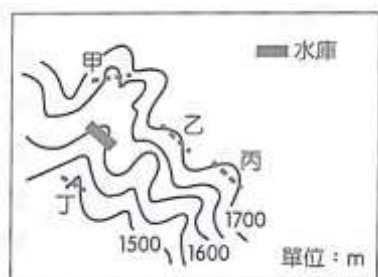
43. 若以文中資訊判斷相對位置，巴威颱風當日位於台灣的哪一個方位？

(A) 東北方 (B) 東南方 (C) 西北方 (D) 西南方

44. 若以降雨預測圖與文中資訊來看，巴威颱風所帶來的共伴效應，是強化了哪個方向的季風所導致？

(A) 東北季風 (B) 東南季風 (C) 西北季風 (D) 西南季風

45. 為防範致災性豪雨來襲，部分水庫將發布洩洪預警，進行預防性洩洪，並關閉受影響區域之水門與堤岸道路。試問：右圖中何區會受洩洪的影響而須關閉水門與堤岸道路？



(A) 甲 (B) 乙 (C) 丙 (D) 丁

46. 右圖為 2021 年八里跨年煙火秀燃放位置圖，新北市政府規劃了甲、乙、丙、丁四個最佳觀賞區域，若不想被煙霧遮蔽煙火，以當地的盛行風向來看，最好避免在哪個區域觀賞？

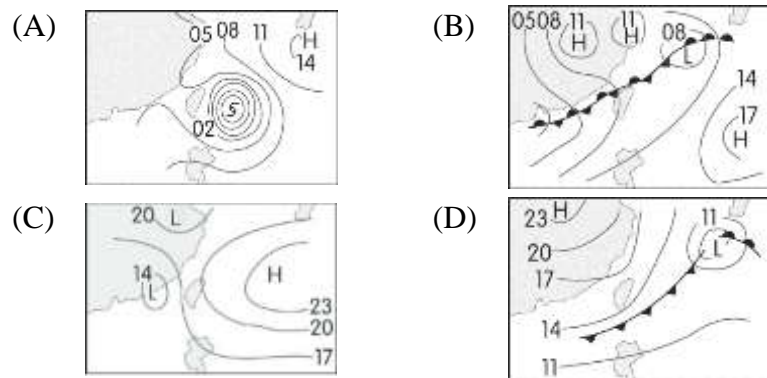
(A) 甲 (B) 乙
(C) 丙 (D) 丁



【第 47 至 48 題為題組】

2020 年末寒潮爆發，堆積許久的冷氣團從西伯利亞一路南下，途經蒙古後由中國出海，抵達台灣，2021 年元旦清晨中部以北低溫剩 5 度，唯有恆春地區仍在 10 度以上。請問：

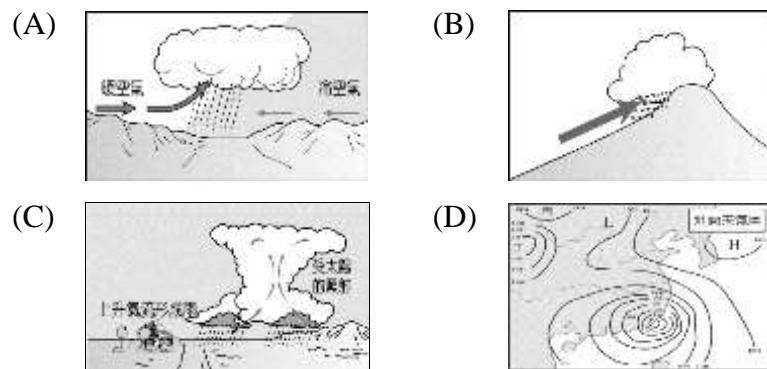
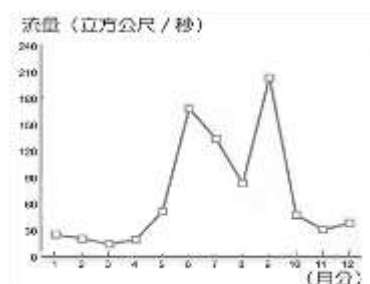
47. 若要藉由地面天氣圖解讀此寒潮對台灣的影響，下列何者較適合？



48. 文中可知恆春地區溫度仍有 10 度以上，此與下列何者關係較密切？

(A) 緯度較低 (B) 地勢較高 (C) 迎東北季風 (D) 距海較近

49. 2020 年雨季結束時，仍未有颱風直接侵襲台灣本島，為確保高屏地區的民生與工業用水無虞，部分區域將開始實施減壓供水，直至隔年的雨季開始降雨為止。右圖為此高屏溪之河川流量變化圖，由此圖判斷隔年雨季，最有可能先降下列何種類型降雨？



50. 老街是台灣知名的文化觀光景點，但僅有淡水河沿岸可見因河港而發展的老街如大溪、新莊、艋舺、大稻埕等，其它河流則在出海口才有老街，此與淡水河的甚麼特徵有關？
- (A) 流域面積廣大 (B) 河川長度較長
(C) 全年流量穩定 (D) 年輸沙量極大

試題結束

新北市立新莊國民中學 109 學年度第 1 學期第 3 次段考 7 年級社會領域試題
解答

1	2	3	4	5	6	7	8	9	10
B	D	D	A	C	B	C	D	D	A
11	12	13	14	15	16	17	18	19	20
B	A	D	B	D	C	B	C	B	A
21	22	23	24	25	26	27	28	29	30
D	D	A	A	B	C	A	D	B	C
31	32	33	34	35	36	37	38	39	40
D	C	B	B	A	B	D	A	C	A
41	42	43	44	45	46	47	48	49	50
A	B	A	D	D	C	D	A	A	C