

# 新北市立新莊國民中學 109 學年度第 1 學期第 3 次段考 9 年級社會領域試題卷

班級 座號 姓名

※ 選擇題：本試卷共 50 題，每題 2 分，總分為 100 分。  
每一題均為單選題，請選出最適當答案。

※ 請用 2B 鉛筆在答案卡上相應的位置畫記。

1. 關於企業投資經營原則及企業責任，下列何者看法有誤？  
(A) 企業應遵守相關法律規定，並善用適當考核管理制度，來決定升遷、紅利，以提升員工工作效率及向心力。  
(B) 企業可透過與其他廠商合作，用企業合作方式來增加成本、提升公司競爭力，雙方互蒙其利。  
(C) 為減少虧損，企業在經營上必須具備風險管理的能力，仔細評估投資計劃的可能性以做出正確的決策。  
(D) 近幾年企業經營者除了加強預防汙染的環保措施外，更投入資金從事環保產品的研發與生產，以善盡社會責任。

2. 董事長軒羽的公司近年營業績效不佳，於是在開會時請各部門檢討公司經營作法並想出對策，下列表格為各部門所提出來的經營對策，以「投資」作為改善績效方式的是哪一個部門？

部門	規劃
部門一	改善作業流程，提行政效率
部門二	與其他公司整併，降低營業成本
部門三	研發新產品，提升產品品質
部門四	放無薪假，降低人事支出費用

(A) 部門一 (B) 部門二 (C) 部門三 (D) 部門四

3. 四位好朋友家偉、瑋喆、上均、貫譽四人分別進行了一項投資，其投資報酬率如表所示，若他們各自投資所獲得的利潤皆相同，根據表中內容判斷，何人的投資金額最高？

投資人	投資報酬率
家偉	5%
瑋喆	20%
上均	30%
貫譽	10%

(A) 家偉 (B) 瑋喆 (C) 上均 (D) 貫譽

4. 李教授到學校演講，右圖是他所使用的投影片，根據內容判斷，他演講的主題可能是在討論下列哪一項？



(A) 企業經營的型態  
(B) 企業的社會責任  
(C) 企業行銷的技巧  
(D) 企業的風險管理

5. 過去幾十年來，全球的商業發展在「開採、製造、使用、丟棄」的線性經濟脈絡下，廠商為刺激消費，產品不斷推陳出新，消費者也習慣汰舊換新，這種「用完就丟」的經濟發展法則，不但造成地球資源耗竭，同時產生出各式廢棄物。顯然傳統的線性經濟已經走到盡頭，取而代之的是強調「資源可持續回復，循環再生」的綠色循環經濟。現在，這股新趨勢正在世界各國蓬勃發展中。請問：上述的「綠色循環經濟」顯示他們追求何種重要概念？

(A) 永續發展 (B) 社會正義 (C) 科技研發 (D) 分散風險

6. 聯合國國際勞工組織指出，過去 10 年大部分時間，全球失業率一直維持在相對穩定的狀態。過去全球失業率約為 5.4%，2020 年因為經濟成長趨緩，無法因應人口成長後所需的工作機會，失業率有些微增加。請問：上文說明 2020 年整體失業人口稍微增加，所導致的失業型態，應屬於下列哪一種？

(A) 摩擦型失業 (B) 結構型失業  
(C) 循環型失業 (D) 季節型失業

7. 政軒最近想投資理財，關於股票、存款、共同基金、債券，他找一些網路資料，並且自己做了分析比較，請問：下列資料何者有誤？

(A) 風險由低至高分別為股票、共同基金、債券、存款。  
(B) 存款及債券獲利均固定，股票、共同基金獲利不固定。  
(C) 依其屬性，存款是最保守，股票是最積極的投資項目。  
(D) 普遍而言，投資報酬率由高至低分別為股票、共同基金、債券、存款。

8. 政穎大學畢業後打算做生意成立企業，他正在蒐集資料思考要成立何種企業型態(包含獨資、合夥、股份有限公司)，請同學幫他判斷一下，下列他所蒐集關於企業經營的型態與風險的資料，何者正確？

(A) 決策自主性最高的是獨資，也是最常見的企業型態。  
(B) 合夥是最單純，且不需與他人分享利潤的企業型態。  
(C) 可以公開向社會大眾募集資金的是合夥企業。  
(D) 股份有限公司的資產不足以承擔虧損時，股東不須以私人財產支付虧損。

9. 李先生一家人籌措英國旅行旅費 50 萬元，媽媽要求家人分別就家中現有狀況提出「節流」的計劃。請問：下列何人所提的內容是「節流」的好方法？

(A) 小軒：「我可以把我看完的書上網拍賣。」  
(B) 小穎：「我可以用功念書領取獎學金。」  
(C) 爸爸：「我可以多寫幾篇文章投稿賺稿費。」  
(D) 媽媽：「我可以少買幾件衣服和包包。」

10. 微軟日本分公司 108 年 8 月實行了一項實驗，整整一個月，全公司 2300 名員工一周只須上班 4 天，星期五六日直接開心放假，讓員工可以有更多時間進行旅遊或進修，且不影響薪水和特休時數。日本微軟稱之為「2019 夏日生活與工作選擇題計畫」，這項計畫也出乎眾人意料的，替公司增加 40% 的產值！依據上述的作法，該企業所做的社會責任與下列哪一項相同？

(A) 企業在商品包裝標示產銷履歷  
(B) 雇主提供安全無虞的工作環境  
(C) 企業成立基金會照顧弱勢團體  
(D) 肉品在無塵室進行包裝維護品質

11. 歲刀今天公民課小考，每題 20 分，總分 100 分，以下為他的作答狀況，請你幫他判斷一下他應該得幾分？

1.(○)	失業給付請領是根據就業保險法，請領以六個月為限。
2.(×)	儲蓄較佳的做法為將個人所得扣掉消費之後剩下部分再來儲蓄。
3.(○)	分散風險就是把潛在的風險透過事先約定的方式移轉給其他單位。
4.(○)	環保的觀念已經從消極的汙染控制朝向更積極的永續利用。
5.(×)	綠色經濟的意義是在進行各項經濟活動時須不損及後代子孫的利益。

(A) 100 分 (B) 80 分 (C) 60 分 (D) 40 分

12. 四個好友聚會聊天，各自聊著近況，請問：下列何人正處於「失業」狀態？

(A) 家貞：因工廠去年已遷移東南亞但自己不想去那麼遠，正在投履歷  
(B) 慶玄：下定決心向公司辭職專心在家帶小孩、整理家務  
(C) 念辭：從事教職 40 多年日前已退休閒賦在家、含飴弄孫  
(D) 子情：大學畢業後沒去外面找工作一直在家做直播網拍

請翻面繼續作答



# 新北市立新莊國民中學 109 學年度第 1 學期第 3 次段考 9 年級社會領域試題卷

班級 座號 姓名

13. 疫情持續肆虐下，各個國家 2020 年失業率幾乎是逐月走高，人力市場供需狀況，不見明顯改善，而且有惡化趨勢。下列為祥林蒐集某國家人口結構及就業訊息資料，請問：目前該國家的失業率應該為多少？

(A) 7%	全國總人口數	5000 萬
(B) 8%	非勞動人口數	500 萬
(C) 9%	勞動人口數	4000 萬
(D) 10%	就業人口數	3600 萬

14. 承上題，該國家想降低失業率，各個官員均提出自己的想法及做法，請問哪一官員所說的方法是較不可行的？

- (A) 甲官員：提供創業相關技術訓練  
(B) 乙官員：提供資金援助協助創業  
(C) 丙官員：調整職業生涯協助轉業  
(D) 丁官員：提供失業津貼維持生活

## 【第 15 至 16 題為題組】

新聞報導：凱渥林姓名模理財有道，除了買賣股票和基金有賺錢之外，近幾年投資房產就專挑市中心的房子買，她看準最近房價比較穩定，還打算繼續購屋置產。2016 年她曾經以 1 億 5700 萬元購入豪宅，豪宅價格越高越吸引人購買，更何況是名模加持過的房子，因此 2019 年就以 1 億 8800 萬元售出。

15. 根據新聞內容判斷，下列敘述何者正確？

- (A) 購買豪宅房產的行為符合「需求法則」  
(B) 凱渥林姓名模的理財之道以「節流」為主  
(C) 她的投資理財有符合「分散風險」原則  
(D) 她使用的理財工具中以「基金」的投資風險最高

16. 新聞中林姓名模投資豪宅其「投資報酬率」比下列何人低？

- (A) 傑哥：一年來投資股票金額為 50 萬元，賣出收回 52 萬元  
(B) 何俊：年初（歐元兌換新台幣 1：35）購買 1 萬歐元，年終（歐元兌換新台幣 1：40）賣出  
(C) 宏儀：公司年終結帳資本總額為 200 萬元，營業淨利為 50 萬元  
(D) 議庭：將台幣 500 萬定存銀行，年利率為 2%，一年後約滿取回

17. 「他」自稱之所以可以看得更遠，是因為站在巨人的肩膀上。「他」用三稜鏡研究光學，發現白光的組成，也親自動手設計製作一架可以放大 40 倍的望遠鏡；更利用數學原理，證明萬有引力適用於一切物體，並證明地球上的重力與物體間的引力本質相同。請問，上述所指的「他」是指下列何人？

- (A) 伽利略 (B) 培根 (C) 牛頓 (D) 托勒密

18. 右圖是波蘭天文學家哥白尼，他在臨終前（1543 年）發表了《天體運行論》，一般認為他踏出了現代天文學的第一步，並且對推動科學革命有著巨大貢獻。請問下列關於科學革命時代的敘述何者正確？



- (A) 英法兩國均成立科學研究機構，鼓勵科學家進行研究  
(B) 伽利略利用望遠鏡研究，支持哥白尼的地心說  
(C) 提倡歸納法與用實驗求得事實是笛卡兒的主張  
(D) 強調「我思故我在」，要對一切抱持懷疑的是培根

19. 波旁王朝國王路易十四，他幼年即位，統治法國長達 72 年之久。1998 年，美國有一部電影《鐵面人》，內容敘述太陽王路易十四有位孿生兄弟，從小被戴上鐵面具且被囚禁。由於路易十四專橫跋扈引發大臣不滿，於是設計救出他的孿生兄弟，再將路易十四帶上鐵面具，將真正的國王終生

囚禁在一個小島上。雖然電影情結多是虛構，但是在法國歷史上確實出現過一位謎樣的鐵面人。請問，上述法王路易十四他是屬於下列哪一種君王代表？

- (A) 開明專制 (B) 主權在民  
(C) 君權神授 (D) 民主自由

20. 右圖是一位沙皇為了讓俄國現代化，並躋身於世界列強，開始強力推行西化運動的示意圖。此位沙皇在任內擴建海陸軍隊，也曾隱姓埋名到西歐努力學習荷蘭的造船技術，並戰勝瑞典取得波羅的海控制權。請問，這位俄國沙皇是下列哪一位？



- (A) 凱薩琳二世 (B) 腓特烈二世  
(C) 路易十四 (D) 彼得大帝

21. 18 世紀德意志哲學家康德曾說：「人類恣意讓自己置於其他權力的支配之下，自願過著臣屬的屈從生活，這是自找的幼稚。」因為人人都有理智，但是卻不擅用理智，所以必須透過「教育」使人運用理性和「改革」去除權威的壓迫。關於此時啟蒙運動思想的敘述，請問下列何者錯誤？

- (A) 著有法意一書，主張政府組織應該三權分立—孟德斯鳩  
(B) 主張主權在民，政府的功能只是國家的執行者—洛克  
(C) 啟蒙思想影響了美國獨立運動和法國大革命  
(D) 反對宗教迷信迫害、政治暴虐，強調言論自由—伏爾泰

22. 18 世紀一位蘇格蘭經濟學家出版《國富論》，這本書是第一本闡述歐洲產業和商業發展歷史的著作。這本書發展出現代的經濟學，也為現代自由貿易、資本主義提供理論基礎。書中常被引用的一段話：「我們不能藉著向肉販、啤酒商、麵包師傅訴諸兄弟之情而獲得免費的晚餐，相反的我們必須訴諸於他們自身的利益。我們填飽肚子的方式，並非訴諸他們的慈善之心，而是訴諸於他們的自私。我們不會向他們訴諸我們的處境為何，相反的我們會訴諸於他們的獲利。」他被稱為「現代經濟學之父」。請問上述是指下列哪一位？

- (A) 亞當斯密 (B) 盧梭 (C) 狄德羅 (D) 馬基維利

23. 《萊茵河哲學咖啡館》蔡慶樺（聯經出版 2019，頁 120-122）敘述電影：《年輕馬克思》（Der junge Karl Marx）裡有一幕對話，呈現出馬克思具有人道關懷與實踐社會主義願景的能力。

馬克思以調查童工狀況的記者身分去見一位工廠主，工廠主告訴他現在僱用了二十個童工及三十個成年工人，日夜輪班工作。  
馬克思問：「難道這不會太累嗎？」  
工廠主辯解說：「但這對健康不會有什麼影響，我們別無選擇，您也知道，不靠童工我們根本不可能有競爭力。」  
馬克思問：「那麼您必須支付他們公平的薪資吧？」  
工廠主：「如果我調整童工的薪資的話，我很快就會破產了，這就是這個社會運作方式。」  
馬克思：「不，先生，問題是出在現有的生產關係。問題不在社會。您不代表社會。」  
工廠主：「我不知道您說的生產關係是什麼。如果勞動成本提高，就不會有利潤了，接著就不會有經濟，接著社會也會停擺。也許您想看到的是這樣？」  
馬克思（笑）：「我們的語言完全不同。您說那是利潤，我卻稱那是剝削。」

請繼續作答下張試卷



# 新北市立新莊國民中學 109 學年度第 1 學期第 3 次段考 9 年級社會領域試題卷

班級 \_\_\_\_\_ 座號 \_\_\_\_\_ 姓名 \_\_\_\_\_

如上所述，請問馬克思的理念是為了要解決當時哪一種社會問題？

- (A)光榮革命→救助老弱貧者
- (B)科學革命→人民生活富裕
- (C)資本主義→提倡公有財產
- (D)工業革命→貧富差距加大

24. 19 世紀中期，中國清朝政府面對英國的船堅炮利，連續兵敗，陸續簽下割地賠款之條約，開始給與歐美列強侵略機會，進而覺醒展開一連串的改革運動。請問，歐美列強開始往亞洲尋求更多原料與市場，展開海外殖民地的爭奪戰，是因為下列哪一因素的關係？

- (A)啟蒙運動的覺醒
- (B)工業革命的影響
- (C)科學革命的展現
- (D)宗教改革的成果

25. 《向下扎根！德國教育的公民思辨課 1》Christine Schulz-Reiss（麥田出版 2017，頁 46-47）

13 世紀英格蘭無地王對其下貴族強徵稅收，又任意處決一位公爵和羅馬教皇有衝突，導致貴族和教會聯合抵抗王權，迫使他簽下一份《自由大憲章》。此部《大憲章》寫下新的規範：「沒有一個自由人應該被逮捕監禁，他和他的貨物不該被搶劫、取締、驅逐，或是遭受其它攻擊，若我們想剝奪某個自由人的權利，將他關進監牢，必須經由陪審員的法律判決，或是透過地方法律的審理。」

請問上述英格蘭無地王是指下列哪一位君主？

- (A)約翰王
- (B)查理一世
- (C)亨利八世
- (D)克倫威爾

26. 英國議會政治起源很早，其君主立憲制度更是民主政治的典範；關於英國民主政治發展的敘述如下：

- (甲) 1215 年查理一世被迫簽署大憲章
- (乙) 1642 年發生清教徒革命，處死專制王權的查理一世
- (丙) 清教徒革命後，由詹姆士二世改行共和
- (丁) 1689 年通過權利法案，確立國會為最高立法機構

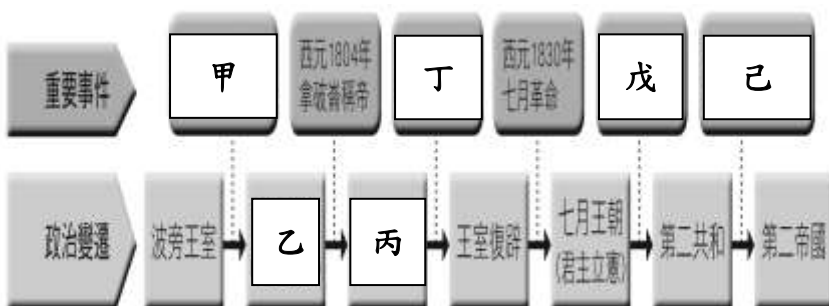
請問，上列敘述哪兩項正確？

- (A)甲乙
- (B)乙丙
- (C)甲丙
- (D)乙丁

27. 《1812 序曲》（降 E 大調序曲「1812」，作品第 49 號）是俄國音樂家柴可夫斯基於 1880 年創作的一部管弦樂作品，屬於浪漫主義音樂。主要是為了紀念 1812 年獨眼將軍庫圖佐夫帶領俄國人民擊退法國大軍的入侵。此一作品以曲中的炮火聲聞名，在戶外演出時曾使用真的大炮。請問，當時法國的領導人是下列哪一位？

- (A)路易十四
- (B)路易十六
- (C)拿破崙
- (D)拿破崙三世

28. 下圖是 18~19 世紀，法國政體演變：



根據上面圖表，請問下列哪一選項敘述正確？

- (A)乙—第一帝國恐怖統治時期，拿破崙崛起
- (B)丙—第一共和國由羅伯斯比爾掌權
- (C)戊—1848 年二月革命推翻君主立憲，改行共和
- (D)己—1852 年路易腓力稱帝，自稱拿破崙三世

29. 右圖是法國的人權宣言。會有此宣言的相關史事敘述，請問下列何者錯誤？

- (A)當時法國社會分為三個階級：教士、貴族、平民
- (B)當時君王路易十四為了龐大的財政負擔，開始徵收新稅
- (C)1789 年巴黎民眾攻入象徵專制的巴士底監獄
- (D)人權宣言是受到啟蒙運動時期重要政治學說思想的影響



30. 《亂世佳人》(Gone with the Wind) 是根據一本小說《飄》所改編的美國電影。故事背景是發生於 1861 年，片中有辛勞的黑人奴隸族群為白人勤奮工作，有些影評人認為該劇忽視了奴隸制度的殘忍，也固化對有色人種的偏見，應該禁播。附圖是美國第 16 任總統—亞伯拉罕·林肯，他於 1858 年以《分裂之家演說(Lincoln's House Divided Speech)》鼓勵廢奴主義者通過對奴隸主的經濟補償，並組織前奴隸遷離蓄奴州，用漸進的和平手段中止蓄奴制度。1860 年他勝選總統，卻也開始加深南北歧見，終於爆發美國內戰，請問此一內戰名稱是？



- (A)南北戰爭
- (B)波士頓戰爭
- (C)獨立戰爭
- (D)光榮戰爭

31. 2020 年 11 月 3 日是美國第 59 屆總統大選，選舉人團在 2020 年 12 月 14 日投票選舉喬·拜登為第 46 任總統，賀錦麗為副總統。國會將於 2021 年 1 月 6 日舉行聯席會議，正式對各州提交的選舉團投票進行清點，認證各州投票結果。右圖是美國第一任總統，他是全世界第一位以「總統」為稱號的國家元首。請問他的名字是下列哪一位？



- (A)唐納·川普
- (B)湯瑪斯·傑佛遜
- (C)伍德羅·威爾遜
- (D)喬治·華盛頓

32. 19 世紀，德意志出生的奧地利帝國政治家，是一位貴族外交官之子，他是保皇派，頑固堅守保守主義，強調王室正統原則；雖然他妨礙了奧國與歐洲各國走向自由民主，但是他也努力維持歐洲各國權力平衡，避免歐洲大戰。請問上述是指下列哪一位名人？

- (A)路易拿破崙
- (B)梅特涅
- (C)伏爾泰
- (D)華盛頓

33. 右圖是法國一位重要歷史人物，他在軍事上的成就，被公認為最優秀的軍事家之一；請問關於他的敘述，哪一項錯誤？

- (A)他是在法國第一帝國恐怖統治時期崛起
- (B)他曾數次打敗反法聯盟
- (C)他推動司法改革，頒布法典
- (D)他保留象徵自由、平等、博愛的三色旗，喚起歐洲各地民族意識



請翻面繼續作答



新北市立新莊國民中學 109 學年度第 1 學期第 3 次段考 9 年級社會領域試題卷

班級 \_\_\_\_\_ 座號 \_\_\_\_\_ 姓名 \_\_\_\_\_

34. 附表是中南美洲國家與台灣都市化程度的資料，從表中我們可以看出中南美洲國家有高度都市化情形，請問造成該現象的主要原因為何？

國家	烏拉圭	阿根廷	智利	台灣
都市化程度(%)	95	92	90	80

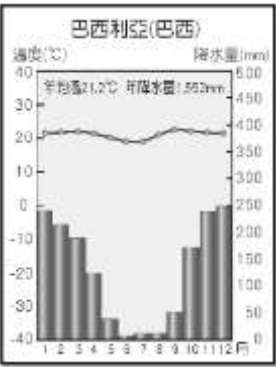
- (A)中南美洲鼓勵移民，新移民比例高
- (B)中南美洲鄉村經濟蕭條，人口推力太強
- (C)中南美洲工業轉型，都市工作機會多，人口拉力強
- (D)中南美洲加入 NAFTA，大力發展高科技產業，經濟成長快速

35. 「此城市地處沿海平原，平均海拔僅 15 公尺。氣候暖溼，夏秋之交常受颶風侵襲。早期為農畜產品集散地，隨著鐵路、通海運河的興建，石油資源的開發加上美國航太總署的建立，使得它成為美國重要都市之一。」請問：下列文中所描述的特徵符合哪一個都市？

- (A)休士頓
- (B)舊金山
- (C)紐約
- (D)西雅圖

36. 附圖為巴西首都巴西利亞的氣候圖，請根據圖中資料判斷，下列敘述何者錯誤？

- (A)應位在南半球
- (B)屬於莽原氣候
- (C)夏季是乾季
- (D)應位在低緯度區



37. 地理老師請四位同學上臺勾選有關北美洲農業經營的特色，請問下列哪一位同學勾選的答案是完全正確？

項目	機械化	大規模種植	單一作物	精耕細作
(A) 力奇	✓		✓	✓
(B) 思齡		✓	✓	
(C) 令瑋	✓	✓		✓
(D) 葆延	✓	✓	✓	

38. 2014 年起，美國的頁岩油生產打亂全球油品市場，而石油輸出國家組織(OPEC)宣布不減產，導致油價跌至低點，重創附圖哪一個中南美洲 OPEC 會員國，使其無法大量進口糧食、醫藥等物資，導致通貨膨脹，貨幣貶值跌幅達 94%？

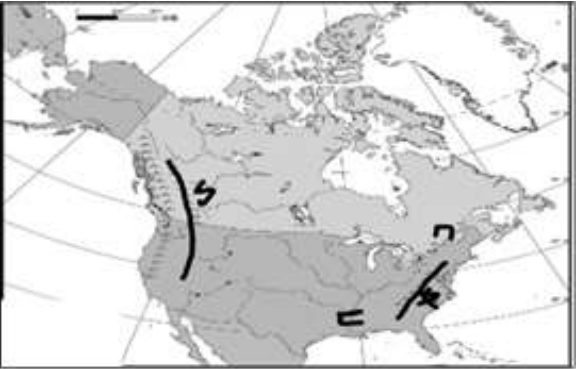
- (A)甲
- (B)乙
- (C)丙
- (D)丁



39. 『拉斯維加斯是著名的賭城，位居美國內華達州南端的小綠洲上，東接大峽谷，氣候炎熱乾燥，大多的居民以服務業維生……。』上述中的沙漠，其成因與下列何者關係最密切？

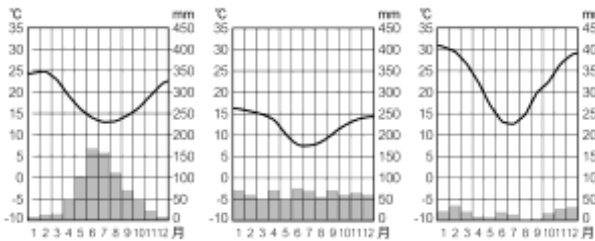
- (A)位於信風背風坡
- (B)拉不拉多寒流經過
- (C)位於西風背風坡
- (D)阿拉斯加暖流經過

40. 附圖為北美洲重要河川與山脈的簡圖，下列敘述，何者正確？



- (A)勺是落磯山脈，外營力造成多火山、多地震
- (B)勺是阿帕拉契山脈，屬新褶曲山脈，較低緩
- (C)口河連接五大湖，此河流域是加拿大的精華區
- (D)匕河灌溉北美大平原，最後往南注入哈德孫灣

41. 智利國土形狀十分狹長，跨越的緯度差距大，號稱是「狹長國」，氣候從北到南具有如下圖的三種類型，請問智利的氣候類型從北至南排序應為下列何者？



- (甲)
- (乙)
- (丙)

- (A)甲→乙→丙
- (B)乙→丙→甲
- (C)甲→丙→乙
- (D)丙→甲→乙

42. USGS（美國地質調查會）指出，在台灣時間 2020 年 10 月 20 日凌晨 4 時 54 分，美國阿拉斯加半島沙點（Sand Point）東南外海 91 公里處(如附圖)，發生規模 7.5 地震，震源深度 40.1 公里。隨後發布海嘯警報，當局要求民眾保持冷靜，並遠離海岸往高處撤離。根據報導美國何處海岸線最容易因為板塊活動而出現地震、海嘯？



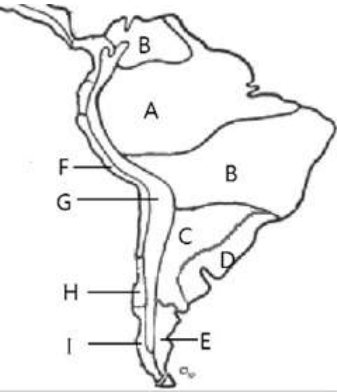
- (A)太平洋
- (B)大西洋
- (C)墨西哥灣
- (D)北極海

【第 43 至 45 題為題組】

附圖為中南美洲的氣候類型分布圖：

43. D 類型氣候是中緯度人口稠密區，重要城市如里約、布宜諾斯艾利斯均位於此處。請問形成這種氣候類型的主要因素為何？

- (A)緯度、季風
- (B)地形、西風
- (C)暖流、信風
- (D)涼流、信風



44. 安地斯山脈是世界上最長的山脈，其分布位置大致與圖中的哪個氣候區相符？

- (A) F
- (B) G
- (C) H
- (D) I

45. 熱帶雨林被譽為「地球之肺」，提供地球氧氣供生物生存，並且孕育了豐富的生態系，亦為「生物基因庫」。請問：全世界最大的熱帶雨林區位在何處？

- (A) A
- (B) B
- (C) C
- (D) D

請繼續作答下張試卷

【第 46 至 48 題為題組】附圖為美國農牧業分布圖：



46. 美國生產的葡萄類別超過 70 種，基本上分為綠色、紅色、黑色，其產季從 5 月至隔年 1 月，每年有 500 家葡萄種植者生產約 1 億箱的新鮮葡萄行銷到全世界超過 60 個國家。請問：美國葡萄種植區主要分布於何處？  
(A)丁 (B)庚 (C)辛 (D)壬
47. 2013 年獲得世界各大影展獎項《自由之心》，內容描述黑奴的境遇，主角在黑奴買賣中被賣到莊園裡摘棉花，不但必須長期勞作，若黑奴因每天的棉花收摘量不合要求還會遭到莊園主人的鞭打。請問：電影中描述的劇情與景觀最有可能出現在圖中何處？  
(A)乙 (B)丁 (C)己 (D)庚
48. 台灣於 2020 年底通過進口美國畜牧產品的相關標準，請問美國的畜牧業主要分布於附圖中何處？  
(A)丙 (B)丁 (C)戊 (D)己

【第 49 至 50 題為題組】

1994 年北美自由貿易協定正式生效，促成美、墨、加在經濟上密切合作。之前三國在經過多年的協商談判後，2018 年 11 月 30 日簽署新的美墨加協定(USMCA)，並於 2019 年 12 月 10 日簽署修約議定書，並自 2020 年 7 月 1 日起生效。

49. 北美自由貿易協定成立後，吸引全球各大車廠進駐墨西哥設廠，使得 2012 年墨西哥成為世界第四大汽車生產國。請問：這些車廠鎖定墨西哥設廠的原因，主要因為該地具有何項優勢？  
(A)資源豐富、技術先進 (B)市場廣大、資金充足  
(C)關稅減免、工資低廉 (D)動力充足、水運便利
50. 「美墨加協定」中給予美國更多機會進入加拿大乳製品市場。請問：此項措施主要對美國哪一地區的產業發展會帶來更大的收益？  
(A)五大湖地區 (B)太平洋沿岸  
(C)墨西哥灣沿岸 (D)哈得孫灣沿岸

試題結束

新北市立新莊國民中學 109 學年度第 1 學期第 3 次段考 9 年級社會領域試題  
解答

1	2	3	4	5	6	7	8	9	10
<b>B</b>	<b>C</b>	<b>A</b>	<b>B</b>	<b>A</b>	<b>C</b>	<b>A</b>	<b>D</b>	<b>D</b>	<b>B</b>
11	12	13	14	15	16	17	18	19	20
<b>B</b>	<b>A</b>	<b>D</b>	<b>D</b>	<b>C</b>	<b>C</b>	<b>C</b>	<b>A</b>	<b>C</b>	<b>D</b>
21	22	23	24	25	26	27	28	29	30
<b>B</b>	<b>A</b>	<b>D</b>	<b>B</b>	<b>A</b>	<b>D</b>	<b>C</b>	<b>C</b>	<b>B</b>	<b>A</b>
31	32	33	34	35	36	37	38	39	40
<b>D</b>	<b>B</b>	<b>A</b>	<b>B</b>	<b>A</b>	<b>C</b>	<b>D</b>	<b>B</b>	<b>C</b>	<b>C</b>
41	42	43	44	45	46	47	48	49	50
<b>D</b>	<b>A</b>	<b>C</b>	<b>B</b>	<b>A</b>	<b>D</b>	<b>C</b>	<b>C</b>	<b>C</b>	<b>A</b>