

新北市立新莊國民中學 110 學年度第 2 學期第 3 次段考 7 年級社會領域試題卷

班級 座號 姓名

※ 選擇題：本試卷共 50 題，每題 2 分，總分為 100 分。
每一題均為單選題，請選出最適當答案。

※ 請用 2B 鉛筆在答案卡上相應的位置畫記。

- 政府制定《就業保險法》，提供非自願離職者失業給付。有關上述的做法，何者敘述「錯誤」？
(A)為社會安全制度的一環
(B)對人民基本生存權利的保障
(C)無助於人性尊嚴的維護
(D)實踐社會公平正義
- 政府不可以法律規定只有視障者才能從事按摩業，視力正常者不得從事按摩業，主要是因上述規定違反公平正義的哪一項精神？
(A)女性優先 (B)照顧弱勢 (C)財富均等 (D)機會均等
- 物價漲個不停，許多民眾都感受到台灣社會的貧富差距越來越大，有錢人拎個上百萬的名牌包，就像拎一間小套房於手中，更多人只能利用折價券或是等到大拍賣再來搶便宜，兩者形成強烈對比。請問這是從哪一個角度來評斷社會的不公平現象？
(A)利益分配 (B)責任承擔 (C)需求滿足 (D)貢獻程度
- 教育部結合民間資源，近年建立教育儲蓄戶機制，避免在學學生因家庭經濟突發困境而失學，至最近已有七萬多弱勢學童受補助。政府對需要幫助的民眾提供補助，主要符合公平正義的哪一項內涵？
(A)個人應享有基本的自由 (B)落實教育機會均等
(C)維護社會地位 (D)個人的權利不受侵犯
- 「國民年金制度」於 97 年開辦後，我國的社會安全制度更完備，邁入「人人有保」的全民保險時代。關於「國民年金」的敘述何者正確？
(A)提供老年、身心障礙、遺屬年金的保險給付
(B)提供各項福利的福利服務
(C)不需繳費的社會救助措施
(D)由民眾自行決定是否納保
- 下列敘述，何者與追求社會正義「無關」？
(A)農曆年前尾牙辦桌招待街友
(B)台鐵設立夜間婦女候車區
(C)遴選身心障礙者經營公益彩券
(D)舉辦國中畢業典禮
- 下列關於「社會安全」的相關敘述，何者「錯誤」？
(A)在 18 世紀工業革命後國家力量開始推動
(B)由政府與民間合作，社會大眾共同承擔風險
(C)社會安全的發展，早期是提升全民生活福祉，現代是扶助弱勢
(D)社會安全思維可追溯到宗教的慈善觀念
- 有關我國福利政策之項目與目標的配對，下列敘述何者正確？
(A)社會救助—滿足人民差異性的需求
(B)社會保險—建構國人健全的風險預防制度
(C)就業安全—保障國民有適居的住宅
(D)福利服務—保障人民工作權利

- 教育部基於「照顧弱勢、區域平衡」的理念開辦「繁星計畫」，由於過去只以考試成績作為大學錄取的依據，改由各高中推薦。此計畫開辦以來，使不少偏遠地區的高中陸續有學生得以進入一流大學就讀。依據上述文章判斷，這種入學方式的改變，是由何角度來檢視社會中的公不公平？
(A)責任承擔 (B)利益分配 (C)貢獻程度 (D)需求滿足
- 承上題，教育部「繁星計畫」的教育計畫，提供了偏遠地區的學子，相同取得這些資源的管道，主要是基於何項前提？
(A)維護社會地位 (B)培養學生責任感
(C)落實教育機會均等 (D)依照貢獻程度的多寡
- 醫療保健是社會福利政策綱領的執行項目之一，下列何者「不屬於」我國目前推動的健康與醫療照顧內容？
(A)為預防傳染病的流行辦理疫苗接種
(B)積極推動為 65 歲以上老人免費裝假牙
(C)宣導「小病就近在小診所就診，大病才到大醫院就醫」的觀念
(D)鼓勵婦女「六分鐘護一生」的子宮頸抹片檢查
- 冠宇參加新莊國中知識王闖關比賽，其中一道題目是問「社會流動的定義」，冠宇該如何作答？
(A)社會中人口數的流動 (B)社會中文化的流動
(C)社會中政治的流動 (D)社會中社會地位的流動

【第 13 至 14 題為題組】

新北市政府有鑑於 8 年來 65 歲以上老年人口大幅成長，並集中在偏鄉地區，例如貢寮、烏來、雙溪、平溪、石碇，這些長者 85% 患有 1 種以上的慢性病，交通不便容易延誤黃金治療時機，因此推動「遠距智能全人醫療照護計畫」，採用科技來輔助偏鄉醫療照護的工作。包含衛生所導入雲端大數據及智能科技設備，後端連結大型醫院作為支援，民眾只要前往衛生所看病，經醫師評估可安排其他醫院的醫師即時連線做遠距視訊會診，即使在救護車急診路上，後端醫院也可同步看到病人生理數據，事先判讀並準備緊急醫療資源。此外，推出無人機送藥服務，提供多元化緊急照護服務，並派送急救包、藥袋、包裹、即時影像拍攝等。請回答下列問題：

- 文中提到基於何項因素促使新北市政府推出相關計畫？
(A)弱勢族群謀生較為不易 (B)資源享有呈現城鄉差距
(C)欠缺身障生活所需輔具 (D)所得分配不均逐年擴大
- 新北市政府在計畫中的遠距視訊會診與無人機送藥服務，屬於哪一種社會福利政策？
(A)居住正義與社區營造 (B)健康與醫療照護
(C)社會津貼 (D)社會救助

【第 15 至 16 題為題組】

勞工組織調查某跨國企業在印度工人工作情形，調查顯示印度工人每天工作 9 到 17 個小時，經常為了公司履行訂單加班到深夜兩點，儘管報告指出這些加班是工人希望的，但因為工人的最低工資標準低於最低生活工資標準，因此他們的加班實際上可看得出是被迫的，因為經濟窘迫使他們不得不超時工作賺錢。而調查的工廠全部採取固定合約制，此舉有利於工廠隨意終止合約、剝奪工人的各項福利。調查亦顯示有解雇孕婦的情況。對於勞工組織的報告和指控，此跨國企業回應，解決這些

背面尚有試題

新北市立新莊國民中學 110 學年度第 2 學期第 3 次段考 7 年級社會領域試題卷

班級

座號

姓名

問題需要長時間一個一個解決，我們會一直致力去改善工人工作條件。請回答下列問題：

15. 上文呈現出的職場問題與社會福利思想發展上的哪一個階段相似？

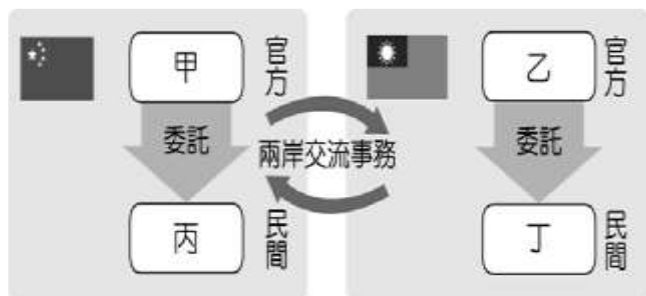
- (A) 中世紀宗教組織施捨與救濟貧困
- (B) 工業革命後協助遭受生存危機者
- (C) 二十世紀滿足人民各方面的需求
- (D) 近代政府規畫整合所有社會資源

16. 我國社會福利制度中，哪一項政策可以協助上述問題進行改善？

- (A) 社會津貼
- (B) 福利服務
- (C) 健康與醫療照護
- (D) 就業安全

17. 中華民國非政府組織工作者李某因為網路言論，在入境中國時，遭中共官方逮捕，後來又被中共以「顛覆國家政權罪」判刑 5 年。李某的妻子想向中國政府申請探視李某，請問她應該求助下圖中哪一個機構協助她去交涉？此機構名稱應該是？

- (A) 甲，國臺辦
- (B) 乙，陸委會
- (C) 丙，海協會
- (D) 丁，海基會

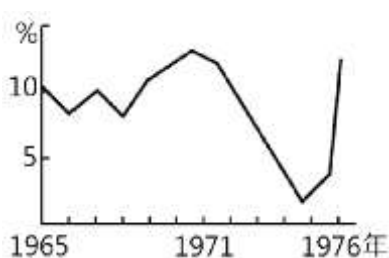


18. 陸瑤看到報上記載一則新聞：「2014 年在北京舉行的亞太經濟合作會議，兩岸分別由前副總統蕭萬長與中共國家主席習近平代表出席，目前市場預期蕭習雙方將就經貿、金融等問題交換意見。」請問：陸瑤看到的亞太經濟合作會議就是下列哪一個國際組織？

- (A) APEC
- (B) WHO
- (C) WTO
- (D) ASEAN

19. 右圖為 1965 年到 1976 年臺灣經濟成長率的曲線圖。請問：為何曲線在 1970 年代初期突然大幅下降？

- (A) 臺灣退出聯合國
- (B) 八二三炮戰爆發
- (C) 美國與我國斷交
- (D) 產油國爆發戰爭使油價居高不下，造成全球經濟不景氣



20. 承上題，當時政府為解決這個問題由行政院長推動某計畫進行改善，請問：當時的行政院長是誰？他推動的某計畫又是什麼？

- (A) 李登輝，實施務實外交政策
- (B) 嚴家淦，進行防禦工事地下化
- (C) 蔣經國，推動十大建設
- (D) 孫運璿，採取出口導向政策

21. 曾伯伯是位榮民，他肩上有個疤痕，他很驕傲的告訴晚輩，這是民國 38 年他在○○與中共打仗時所受的傷，這場戰役是國共內戰後期敗退過程中少有的一場勝仗。請問：這場戰役的發生是因為中共企圖以武力攻取右圖的○○(地點)？

- (A) 甲
- (B) 乙
- (C) 丙
- (D) 丁



22. 民國 38 年對中華民國政府來說是很關鍵的一年，這一年發生了很多事情。請問：下列哪一件事不是發生在這一年？

- (A) 古寧頭戰役
- (B) 韓戰
- (C) 三七五減租
- (D) 中華人民共和國建立

23. 台灣民眾利用美援的麵粉袋製成衣褲的情景主要會出現在哪一個時期？

- (A) 鞏固外交時期
- (B) 政治對峙時期
- (C) 務實外交時期
- (D) 兩岸交流時期

24. 司宸的爸爸回憶自己念小學時校長用掛狗牌的方式懲罰說方言的學生，被掛狗牌的學生還要擔任糾察工作去發掘其他學生說方言，才能夠卸下狗牌，把狗牌掛到被他抓到說方言的學生身上。請問：上述情形是因當時政府想要利用這種方法清除什麼文化帶來的影響？

- (A) 中華文化
- (B) 美國文化
- (C) 日本文化
- (D) 鄉土文化

25. 美國在民國 40、50 年代曾提供臺灣近 15 億美元的經濟援助還有軍事上的協助。請問：這是因為下列哪一場戰爭爆發所帶來的？

- (A) 八二三炮戰
- (B) 古寧頭戰役
- (C) 國共內戰
- (D) 韓戰

26. 鄉土文學的盛行背景是因為台灣當時在內政及外交方面深受嚴厲的挑戰，請問：下列哪一件事不是當時中華民國遇到的外交挫折？

- (A) 被拒絕加入 WTO
- (B) 美國與我國斷交
- (C) 中華民國退出聯合國
- (D) 中華人民共和國與美國建交

27. 右圖是兩岸分治後，中國大陸的一幅宣傳畫作。請問：這幅作品的時代背景應該是下列哪一個時期？

- (A) 政治對峙時期
- (B) 兩岸交流時期
- (C) 武力對抗時期
- (D) 一國兩制時期



繼續作答下張試卷

新北市立新莊國民中學 110 學年度第 2 學期第 3 次段考 7 年級社會領域試題卷

班級 座號 姓名

28. 關於「戰後臺灣的經濟發展」的敘述如下，請按照中華民國政府在台灣實施的經濟政策時間排序。
- (甲)政府為了帶動景氣復甦推動「十大建設」。
- (乙)政府採「出口導向」政策，設立高雄加工出口區，吸引外資。
- (丙)政府積極扶植輕工業，同時限制國外的相關產品進口。
- (丁)政府推動土地改革政策，在實施後，佃農逐漸成為自耕農，提高農業生產。
- (A)甲乙丙丁 (B)丁丙乙甲 (C)丁乙丙甲 (D)丙乙甲丁

29. (甲)為強化國家認同，政府推動禁說母語的「說國語運動」(乙)黃春明〈兒子的大玩偶〉中，描述一位父親必須扮成小丑「三明治人」(身體前後各掛一片廣告看板)，當做電影院的宣傳工具以維持一家生活。此書真誠刻畫小人物的內心，反映臺灣當時的社會生活(丙)駐臺美軍廣播電台(今 ICRT 前身)成為台灣接受美國流行文化的主要管道。上述關於第二次世界大戰後台灣文化的演變，請依照出現先後時間順序加以排列。
- (A)甲乙丙 (B)丙甲乙 (C)丙乙甲 (D)甲丙乙

30. 原住民的傳統姓名受到重視是因為受到原住民下列哪一個運動的影響？
- (A)正名運動 (B)自治運動 (C)人權運動 (D)母語運動

31. 宜蘭居民抗議台塑想在宜蘭設置第六套輕油裂解廠進行所謂的反六輕運動，請問：此運動應該是由下列哪一個團體所推動的？
- (A)女權團體 (B)環保團體 (C)勞工團體 (D)弱勢團體

32. 兩岸可以展開交流是因為下列何事發生？
- (A)李登輝採取務實作法，和對岸展開三通四流
- (B)因為中共和美國建交，我們被強迫和對岸展開交流
- (C)蔣經國宣布解除戒嚴，開放大陸探親
- (D)由於兩岸成立民間機構，在他們的積極推動下兩岸展開交流

33. (甲) (乙)



- 每一張照片背後都有它的時代背景，請問：依照這些照片的時代背景正確排序，答案應該是下列何者？
- (A)甲乙丙 (B)甲丙乙 (C)乙丙甲 (D)乙甲丙

34. 各地資源分配不均，在瞬息萬變的疫情時代，請就台灣本島四個區域的醫療資源進行評估，下列何區的平均就醫時間最長，最需要做相關醫療資源的配套措施呢？
- (A)北部區域 (B)中部區域 (C)南部區域 (D)東部區域

35. 新莊即「新興的街莊」之意，因淡水河帶來的河港之利，是台灣北部開發最早的地區之一，舟船熙攘、商賈聚集，盛極一時，曾擁有「千帆林立新莊港，市肆聚千家燈火」美譽。根據上文得知新莊的興起與交通因素密不可分，請問新莊聚落最有可能在何時興起？
- (A)宋元時期 (B)明清時期 (C)日治時期 (D)民國時期

36. 四面環海的台灣，海洋與台灣是密不可分的，請問下列國家公園中，何者並「不屬於」國土空間規劃架構中的海洋環帶？
- (A)雪霸國家公園 (B)墾丁國家公園
- (C)東沙環礁國家公園 (D)澎湖南方四島國家公園

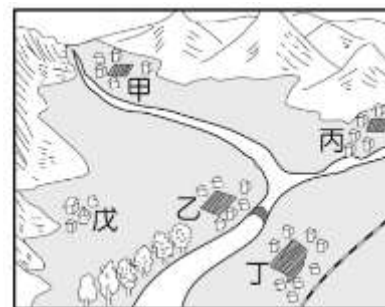
37. 台灣各區域具有因地制宜的特色產業，甚至形成產業群聚的現象，請問下列何者是中部區域的特色產業群？
- (A)進、出口貿易與重工業 (B)精密機械與自行車產業
- (C)有機農業與慢活旅遊業 (D)金融服務與高科技產業

38. 捷運系統多是為紓解都市交通壅塞問題，而設置的大眾交通運輸方式，因此人潮密集的大都市才會出現地鐵、捷運系統。請問台灣的六個直轄市中，唯一尚未有捷運通行的是下列何者？
- (A)桃園市 (B)台中市 (C)台南市 (D)高雄市

39. 台灣近兩年來嚴守邊境防範疫情，但百密總有一疏，仍有多波零星疫情爆發，桃園地區因其特殊環境，常在第一線面臨疫情的侵襲，當地居民總是嚴陣以待。請問文中所指的特殊環境指的應是什麼？
- (A)是機場捷運線的終點 (B)都市化程度較高的城市
- (C)是主要國際機場所在地 (D)位於台北與新竹之間位置

40. 台灣各離島積極推動地方觀光，舉辦特殊觀光季或行銷特色景點，請問下列何者配對是正確的？
- (A)金門—八八坑道、花崗岩芹壁村
- (B)綠島—柱狀玄武岩、花火節、奎壁山
- (C)澎湖—朝日溫泉、海底浮潛、監獄探索
- (D)小琉球—綠蠵龜生態、珊瑚礁海岸、花瓶岩

41. 聚落發展與當地的自然與人文條件息息相關，請觀察右圖中五個鄉村，何者較可能先發展成都市？
- (A)甲乙 (B)乙丁
- (C)丙戊 (D)丙丁

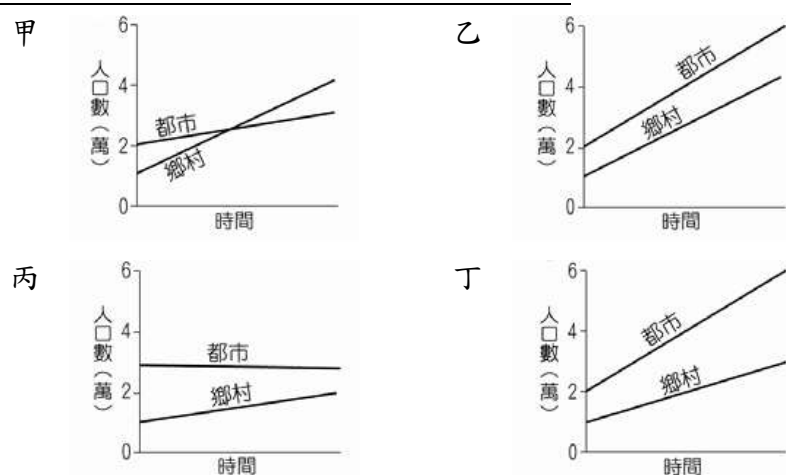


42. 承上題，觀察聚落由鄉村轉換為都市的過程，下列何者指標最沒有參考價值？
- (A)人口密度提高 (B)人口數量增加
- (C)可耕地面積減少 (D)轉向第二、三級產業

背面尚有試題

【第 43 至 44 題為題組】

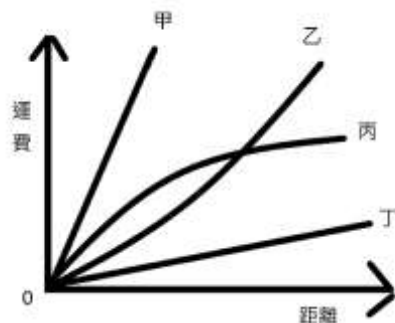
以下為某四國在 2000 年至 2020 年間的都市與鄉村的人口成長變化圖，請依圖中資訊回答下列問題：



43. 請問這二十年間，「都市化速度」最快的是哪一國？
 (A) 甲國 (B) 乙國 (C) 丙國 (D) 丁國
44. 請問在 2020 年時，「都市化程度」最低的是哪一國？
 (A) 甲國 (B) 乙國 (C) 丙國 (D) 丁國

【第 45 至 50 題為題組】

圖中資料代表台灣常見的公路、鐵路、海運、空運四種運輸方式的數據，請依照資料回答下列問題：



45. 不同運輸方式有其特色，適用於不同情境與商品，請問下列敘述何者正確？
 (A) 丁運量最多、速度最慢，運費在短距離時丁 < 乙 < 丙 < 甲
 (B) 台灣對外交通偏重甲、乙運輸，對內交通常用丙、丁運輸
 (C) 乙運輸在西部平原最密集，在台灣呈環島主幹線
 (D) 丙運輸的機動性高，適應地形能力佳，適合長程運輸
46. 疫情當前，台灣多數民眾防疫考量下，為減少人群接觸，選擇食物外送服務機會大增。請問想吃到熱騰騰的餐點且宅配到府的服務，應選擇何種運輸方式呢？
 (A) 甲 (B) 乙 (C) 丙 (D) 丁
47. 台灣糧食生產主要是稻米，小麥產量偏少，90% 以上的麵粉需求需仰賴進口，因而大量採購美國小麥。請問美國小麥麵粉多透過何種運輸方式進入台灣市場？
 (A) 甲 (B) 乙 (C) 丙 (D) 丁
48. 台灣科技業發達，電子零組件與資通、視聽產品大量出口歐美市場。因其體積小、單價高且變化快速的特性，請問適合何者運輸方式？
 (A) 甲 (B) 乙 (C) 丙 (D) 丁
49. 各大都會區廣設科學園區，加上高鐵加以串聯，使物流、倉儲、人才轉移快速，得以相互支援，形成台灣舉世聞名、難以替代的科技鏈。請問在其中扮演要角的高鐵屬於何種運輸工具？
 (A) 甲 (B) 乙 (C) 丙 (D) 丁
50. 承上題，請問在國土空間規畫架構裡，台灣科技鏈屬於哪一發展區域？
 (A) 離島生態觀光區 (B) 西部創新發展軸
 (C) 中央山脈保育軸 (D) 東部優質生活產業軸

試題結束

新北市立新莊國民中學 110 學年度第 2 學期第 3 次段考 7 年級社會領域試題
解答

1	2	3	4	5	6	7	8	9	10
C	D	A	B	A	D	C	B	D	C
11	12	13	14	15	16	17	18	19	20
C	D	B	B	B	D	D	A	D	C
21	22	23	24	25	26	27	28	29	30
D	B	A	C	D	A	C	B	D	A
31	32	33	34	35	36	37	38	39	40
B	C	B	D	B	A	B	C	C	D
41	42	43	44	45	46	47	48	49	50
B	C	D	A	A	B	D	A	C	B