

新北市立新莊國民中學 111 學年度第 2 學期第 3 次段考 8 年級社會領域試題卷

班級 _____ 座號 _____ 姓名 _____

※ 選擇題：本試卷共 50 題，每題 2 分，總分為 100 分。每一題均為單選題，請選出最適當答案。

※ 請用 2B 鉛筆在答案卡上相應的位置畫記。

1. 依據《社會秩序維護法》第 63 條之規定：「散布謠言，足以影響公共安寧秩序者，可處 3 日以下□□或新台幣 3 萬元以下□□。」上文中的□□依序分別為何？
 (A)拘留、沒收 (B)拘役、罰金
 (C)拘役、沒收 (D)拘留、罰鍰

2. 空拍機自由飛行，突破地表障礙的特性雖然迷人，但因有民眾使用空拍機時，違反《民用航空法》而遭主管機關開罰。根據文中所述，遭開罰者「所應負起之責任類型」與「權利救濟方式」的搭配，下列何者正確？
 (A)民事責任；提起調解 (B)行政責任；提起訴願
 (C)刑事責任；提出訴訟 (D)民事責任；提出請願

3. 公民老師提供若干新聞報導資料，請四位同學利用所學知識點為這些新聞下標題，結果如下表所示。若根據我國現行法律規定判斷，哪位同學所下的標題是**不正確**的？

| | |
|-------|---------------------|
| (A)又嘉 | 國中生詐財案少年保護官開庭整理 |
| (B)曉鈴 | 提款機超商盜領案檢察官代表國家偵查犯罪 |
| (C)宸菘 | 防疫期間政府行政管制風景區的人數流量 |
| (D)美俐 | 幼兒園孩童遭虐，處以勒令歇業 |

4. 就讀八年級的阿嘉經過某限制級電子遊戲場時，發現門口張貼一張公告，如附圖所示，阿嘉好奇想進去看看，遭到店員攔阻勸離，根據上述內容判斷，下列敘述何者正確？



- (A)未滿 18 歲禁止進入此遊戲場
 (B)該禁令符合《兒童及少年性剝削防制條例》之規定
 (C)屬於兒童及少年的福利措施
 (D)如違規此店家負責人將面臨刑事罰

5. 下列我國行政法規的相關敘述何者正確？
 (A)常見的處分有罰鍰、申誡、拘役和停止營業
 (B)行政處分專指政府公權力對人民做出懲罰
 (C)深夜喧嘩、縱容動物嚇人被檢舉者將依法而受行政處分
 (D)行政處分是由司法機關做出之處分

6. 憲哥因失戀心情不好，於是做出「亂丟垃圾」、「惡意砸毀機車」、「超速開車」、「無照駕駛」、「延遲納稅」。請問：以上行為屬於**違反**行政法規的有幾項？
 (A)1 項 (B)2 項 (C)3 項 (D)4 項

7. 右圖為道路上常見的交通標誌。政府為了用路人安全，限制行車速度的規定，是屬於下列哪一概念？



- (A)行政管制 (B)行政處分
 (C)行政責任 (D)行政罰

8. 下列有關年齡的相關敘述，何者正確？
 甲、《少年事件處理法》規範之少年刑事案件，少年犯罪須年滿 14 歲
 乙、《勞動基準法》所指童工年齡為 14 歲以上未滿 16 歲
 丙、《兒童及少年福利與權益保障法》所保護的對象是 12-18 歲
 丁、《兒童及少年性剝削防制條例》立法目的是為了避免未滿 18 歲的兒少成為性剝削的對象
 (A)甲、乙 (B)丙、丁 (C)甲、丁 (D)乙、丙

9. 政府對於人民的違法行為可以對行為人處以金錢上的處罰，下表為罰金與罰鍰的比較表格，哪一項的敘述才是正確的？

| | 項目 | 罰金 | 罰鍰 |
|-----|----------|--------|--------|
| (A) | 違反法律種類 | 民法 | 行政法規 |
| (B) | 違法行為 | 公然侮辱他人 | 侵占他人財產 |
| (C) | 有無前科刑事紀錄 | 有 | 有 |
| (D) | 處理機關 | 法院 | 行政機關 |

10. 老師在黑板上寫出四件生活事例，請同學判斷這四件事情的共通點，請問：哪一位同學的發言是正確的？
 (甲)爸媽替剛出生的嬰兒報戶口 (乙)國民都必須參加全民健保 (丙)騎車在路上須遵守交通號誌 (丁)市政府通知家長為子女辦理入學手續
 (A)炎峰：都是由中央政府統一規定的
 (B)瑜軒：違反上列事項都將被檢察官起訴
 (C)孟瑩：甲乙規範於《民法》、丙丁規範於行政法
 (D)文堯：四件事情在不同的行政法規內

11. 以下為《少年事件處理法》中的少年刑事案件之處理流程：觸法少年→甲調查→乙偵查、起訴→丙審理→處以刑罰 關於甲、乙、丙的敘述何者正確？

- (A)甲：檢察官；乙：少年法院(庭)
 (B)乙：檢察官；丙：地方法院刑事庭
 (C)甲：少年法院(庭)；丙：檢察官
 (D)乙：檢察官；丙：少年法院(庭)

12. 承上題，請問何者構成「少年刑事案件」？

- (A)13 歲的冷血殺人犯阿強
 (B)17 歲用不雅言詞辱罵同學的阿忠
 (C)16 歲犯下擄人勒贖的妮可
 (D)18 歲要求女友復合不成當場縱火大雄

13. 阿忠翻開法律辭典看到一名詞的解釋如下，請問：此名詞應是指下列哪一概念？

| 法律辭典 |
|-------------------------|
| XXX：行政權力之行使必須依據法律的規範為之。 |

- (A)依法行政 (B)無罪推定 (C)契約自由 (D)罪刑法定

【第 14 至 16 題為題組】

報載，全球童工人數高達上億人，(甲)多數屬於年幼的非法童工，主要因為是低收入的家庭經濟而擔任童工，長時間未獲改善，被迫遭遇剝奪教育、睡眠、影響健康的窘況；甚至有許多兒童還與少年被迫從事性交易或是遭受性侵害。因此有許多組織如聯合國兒童基金會、國際勞工組織，國內組織如勵馨基金會，積極協助拯救兒童免於性侵害、非法勞動與其他迫害，犯罪之中。兒童福利聯盟，則長年推動相關政策與法規修訂，以保障兒少權益。據調查顯示，非法童工與(乙)曝險少年，少年犯罪亦有高度相關。

14. 根據上文所述，我國政府為了避免(甲)情形的發生，因此制定許多相關法律。下列這些法律與規定內容的說明何者為正確？

- (A)我國為規範童工雇用與保障其權益，制定《少年事件處理法》
 (B)為避免兒童遭受性侵害，制定《兒童及少年性剝削防制條例》
 (C)雇主雇用未滿 15 歲的少年與兒童，只需取得法定代理人的同意
 (D)我國政府對年滿 15 歲，有意願就業的少年提供職業訓練或輔導

15. 有關「曝險少年」的概念，哪一選項是**不正確**的？

- (A)施用毒品或迷幻藥的行為而尚未觸犯刑罰法律者
 (B)父母離婚或隔代教養者
 (C)有預備犯或犯罪未遂而為法所不罰之行為者
 (D)無正當理由經常攜帶危險器械

背面尚有試題

26. 五四運動和六四天安門事件，學生們滿腔熱血，慷慨激昂陳述理念，展現對國家社會的關懷。請問：關於兩事件的比較，下列何者正確？
 (A)均要求推翻軍閥，實施憲政
 (B)均引起社會各階層關注，迫使政府讓步
 (C)均抗議列強偏袒日本而導致中國權益受損
 (D)均為北京的大學生在天安門廣場所發起

27. 韓戰期間，美軍遭到包圍，連長下令撤退，年僅 18 歲的第 9 步兵團一等兵史托瑞卻衝上一條馬路，朝敵軍投擲手榴彈，儘管受了傷，他仍繼續戰鬥。史托瑞擔心自己會影響到同袍撤退速度，因而拒絕撤退到下一個據點而陣亡。直至今日他的遺骸終能返家，長眠故鄉。請問：關於史托瑞所經歷的戰爭，下列敘述何者正確？



- (A)中共以「抗美援朝」為口號支援右圖甲國
 (B)發生於 1961 年
 (C)當時美軍是受到右圖乙國軍隊的包圍
 (D)美國為協助右圖甲國作戰，而在朝鮮半島部署軍隊
28. 習近平在中共慶祝改革開放 40 周年大會有以下談話：「1978 年 12 月 18 日，…這一天，我們黨召開十一屆三中全會，…黨內外強烈要求糾正文化大革命的錯誤，使黨和國家從危難中重新奮起。同志指出：『如果現在再不實行改革，我們的現代化事業和社會主義事業就會被葬送。』」請問：下列何者為上述談話內容中所指的同志之事蹟？
 (A)與美國建交，並簽訂《中美共同防禦條約》
 (B)和蘇聯關係決裂，瀕臨開戰邊緣
 (C)推動民主政治，放棄共產黨一黨專政
 (D)鼓勵外國技術、資金前來投資設廠，加速中國經濟成長

29. 右圖為 1950 年代菲律賓所設計的反共海報，呼籲菲律賓人民：「壓制共產主義、是你我的責任」。請問：關於此海報的時代背景，下列何者正確？
 (A)蘇聯將菲律賓納入亞太圍堵體系的一部分
 (B)美國提供菲律賓經濟與軍事援助
 (C)菲律賓國內的共產黨武裝勢力是受到美國的支持
 (D)菲律賓最後由共產黨把持政權，形成共產國家



30. 1957 年中共展開名為「大鳴大放」的政治活動，藉此對批評政府的知識分子進行迫害，被送去勞改或坐牢者不計其數，造成知識分子噤若寒蟬，不敢評論時政。請問：下列「並非」中共此時期的經濟政策？
 (A)將民間工商企業收歸國有
 (B)將地主的土地分配給貧農
 (C)在沿海設置經濟特區
 (D)農民在國有的土地上集體耕作

31. 「當此人被押進會場時，由主持者帶頭，群眾一起高呼『打倒某某』的口號，而且要迫使此人一起高呼這樣的口號，如果不肯聽從，就拳足交加。…頭上還要給戴上紙做的高帽子，上面寫著『黑幫頭子』、『反動權威』或『牛鬼蛇神』等字，頭上又要掛上大牌子，上面寫著種種辱罵的稱呼；有時不掛大牌子，在身上用漿糊貼上大字報，宣布種種罪狀。」請問：下列何者與文中描寫的情況最有關聯？
 (A)強調尊重傳統倫理文化、保護古蹟
 (B)為毛澤東為奪回權力而發起的一場運動
 (C)1958 年至 1968 年間社會動盪，被稱為「十年浩劫」
 (D)紅衛兵由政府官員組成，他們對知識分子及親友展開無情批鬥

32. 1955 年，正逢美蘇冷戰時期，美國積極建立某一區域統合。其中亞洲成員國只有 3 國，且組織內部矛盾重重、政策分歧，無法建立統一的軍事指揮機構和聯合部隊，最終未能達到美國預想的戰略目標。請問：關於此區域統合的敘述，下列何者正確？



- (A)1977 年解散，參與國改組為亞太經濟合作會議
 (B)上圖中的甲、乙為其成員國
 (C)未加入此組織的東南亞國家，均和蘇聯結盟
 (D)為防止共產勢力擴張，美國聯合上圖丙、丁及其他國家而成立此組織
33. 臺灣的地理位置優越，雖未直接參與戰爭，但仍在冷戰時期美蘇較勁中扮演舉足輕重的角色。請問：關於冷戰時期的台灣之敘述，下列何者「錯誤」？
 (A)成為美國在東亞反共防禦體系的一環
 (B)越戰時美國派第七艦隊協防臺灣海峽
 (C)1979 年簽訂《臺灣關係法》，美國與臺灣維持非官方的往來
 (D)韓戰爆發後，臺灣接受軍事、經濟、基礎建設等各層面的「美援」

【第 34 至 35 題為題組】

非洲擁有地球上數量最多的大型哺乳類動物，因雨季時間不同，大批動物會在南半球坦尚尼亞的賽倫蓋提國家公園與北半球肯亞的馬賽馬拉國家公園間遷徙以尋求更多水草，其震撼的場面讓此區成為世界自然遺產，吸引許多觀光客，也讓經濟面臨困境的兩國有了另一種發展的潛能。

34. 下表為北半球四個地區的各季節降雨日數統計表，請根據此表判斷，何者可能位於肯亞馬賽馬拉公園境內？


| 月分 地區 | 3~5 | 6~8 | 9~11 | 12~2 | 合計 |
|----------|------|------|------|------|-------|
| (A) | 31.0 | 24.0 | 30.0 | 34.0 | 119.0 |
| (B) | 19.3 | 6.8 | 21.4 | 26.4 | 73.9 |
| (C) | 22.3 | 26.1 | 23.7 | 20.8 | 92.9 |
| (D) | 10.0 | 44.0 | 17.0 | 0.0 | 71.0 |

單位：天

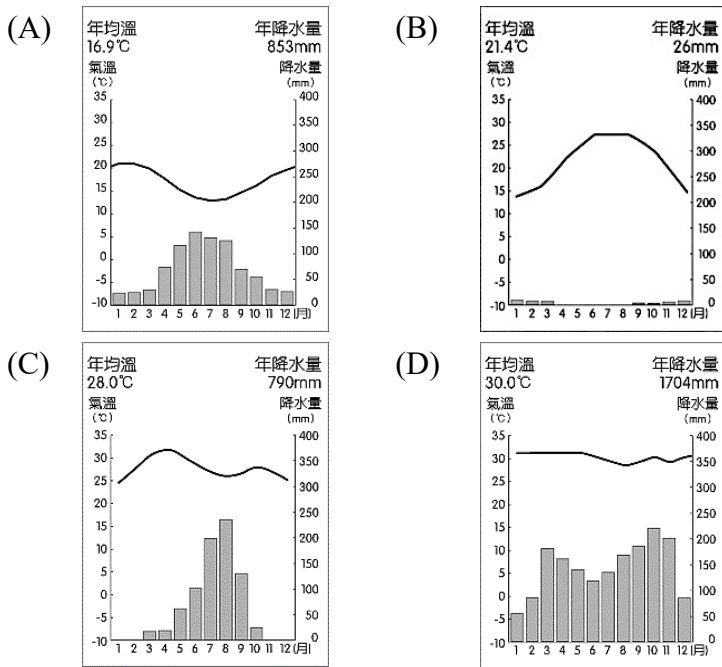
35. 文中提到的經濟困境，最有可能是下列何者？
 (A)少子化喪失工業所需勞力
 (B)薪資上漲增加工業生產成本
 (C)出口商品易受國際價格波動影響
 (D)市場狹小工業產品銷售不易

【第 36 至 37 題為題組】

可可豆是巧克力的重要原料，主要種植於南北緯 10 度間，目前約有 60% 的可可豆來自於非洲，但可可豆的種植卻為當地帶來許多問題，下圖為巧克力商品之利潤分配比例圖，請問：



36. 若要研究可可豆的種植環境，下列哪張氣候圖是重要資料？



37. 由比例圖的線索判斷，文中提到的可可豆種植帶來的許多問題，可能為下列何者？

- (A) 製造商因電力不足獲取利潤較少
- (B) 農夫種植可可豆賺取的利潤不高
- (C) 國家關稅較低促使獲利分配不均
- (D) 零售商較難於巧克力貿易中獲利

【第 38 至 40 題為題組】

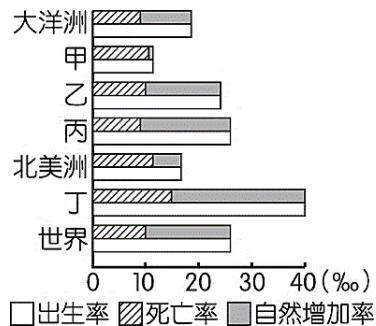
國際影視串流平台 Netflix 表示，自 2016 年以來在非洲已投資 1.6 億歐元製作影視內容，未來將持續擴大在非洲的投資項目，且深信能為未來的營收帶來重大貢獻。請問：

38. Netflix 大力投資非洲市場，主要是看上其具有何項優勢？

- (A) 自然資源豐富
- (B) 潛在消費市場
- (C) 充足糧食供應
- (D) 完善基礎建設

39. 若要研究未來非洲國家的人口概況，右圖資料中何者最有可能是非洲的資料？

- (A) 甲
- (B) 乙
- (C) 丙
- (D) 丁

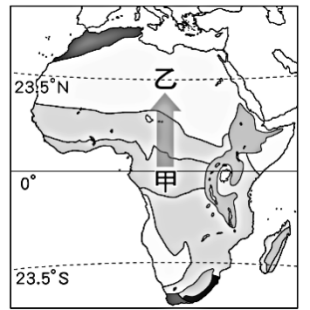


40. Netflix 投資的非洲影視作品中，愈符合當地史實與國家現況的劇情，就愈能引起當地民眾共鳴，獲取更多的訂閱而有超額報酬。由此判斷，下列四部電影主題，何者的報酬率可能最高？

- (A) 殖民獨立後的族群鬥爭
- (B) 高科技產業的職場霸凌
- (C) 高齡化社會的安養照護
- (D) 轉世輪迴下的生離死別

41. 右圖為非洲氣候分布圖，若由圖中甲地開車前往乙地，其所遇到的自然現象會呈現何種變化？

- (A) 降雨總量愈來愈多
- (B) 植被密度愈來愈高
- (C) 年日溫差愈來愈大
- (D) 生物種類愈來愈多

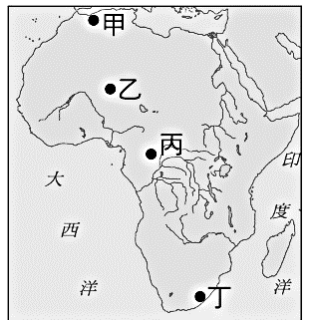


42. 台灣知名紡織大廠宏遠在衣索比亞設立成衣廠，其籌建的客製化設計產線，由 39 個工作站組成，每站工人僅做單純動作，以縮短生產秒數並降低成本。試問：吸引宏遠紡織赴非洲設廠的原因可能與當地的哪項優勢有關？

- (A) 高端技術
- (B) 廉價勞力
- (C) 便宜動力
- (D) 廣大市場

43. 非洲綠色長城是一項由非洲聯盟主導防止沙漠化的計畫，概念起自於綠色前線、中國三北防護林等大型綠色工程，用以解決土地退化與沙漠化後所導致的社會、經濟與環境的不利影響。若要現地探勘此條綠色長城，應到圖中何處？

- (A) 甲
- (B) 乙
- (C) 丙
- (D) 丁



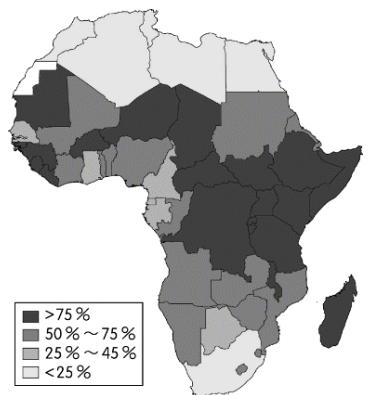
44. 魯伯特為非洲著名的紅酒製造商，其主打利用當地自產高品質葡萄釀造的紅酒，有著清新迷人的油桃、白桃與梨子的香氣，讓人著迷。若台灣酒商要前往非洲與製造商合作，則應該出發至右圖中何處？

- (A) 甲
- (B) 乙
- (C) 丙
- (D) 丁



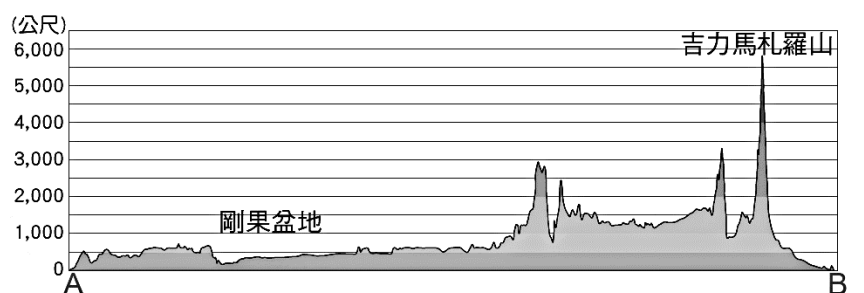
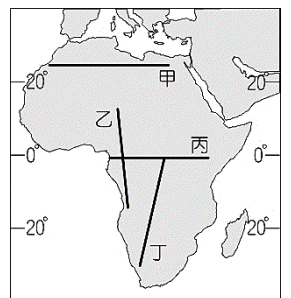
45. 非洲因受限於基礎電力不足，經濟發展欠佳，右為依據非洲各國缺電人口比例繪製而成的地圖，關於此圖的敘述何者最正確？

- (A) 撒哈拉盆地缺電問題嚴重
- (B) 東非高原電力供應充足
- (C) 剛果盆地缺電問題嚴重
- (D) 喀拉哈里盆地電力供應充足

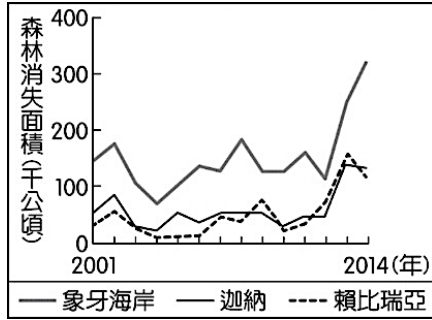


46. 阿傑參加非洲極限挑戰競賽，下圖為本次競賽使用的地形剖面圖，路線預計從 A 點出發走至 B 點，請根據此剖面圖判斷，阿傑競賽的路線與右圖中何者最為接近？

- (A) 甲
- (B) 乙
- (C) 丙
- (D) 丁

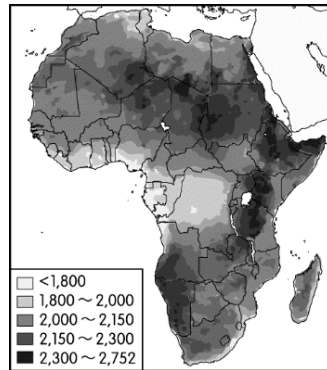


47. 右圖為非洲三個國家由 2001 至 2014 年的森林消失面積統計圖，根據研究指出，森林消失受各種不同的自然變遷及人為發展因素影響。試問，圖中森林面積的變化有可能反映何種農業的大規模發展？



- (A) 熱帶栽培業
- (B) 地中海型農業
- (C) 傳統游耕農業
- (D) 稻作農業

48. 右圖為非洲開發銀行公布的年平均太陽輻射分布圖，哪種氣候區設置太陽能板的發電成效最差？



- (A) 熱帶雨林
- (B) 高地氣候
- (C) 熱帶沙漠
- (D) 熱帶莽原

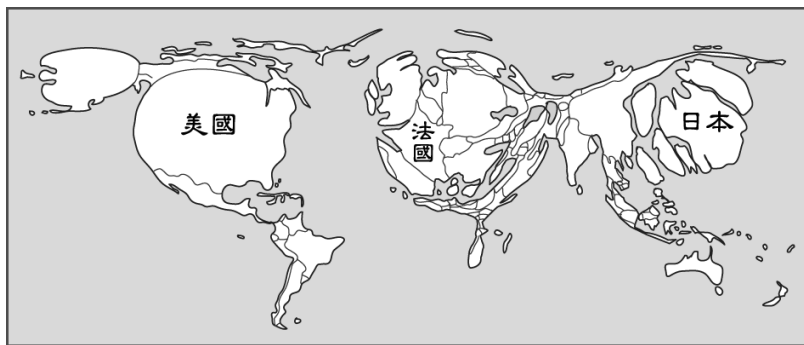
49. 右圖為瘧疾與昏睡病的傳播與影響範圍，請根據此圖判斷，下列敘述何者正確？



- (A) 阿拉伯人容易受到影響
- (B) 乾燥地區疫情嚴重
- (C) 游耕農夫染疫風險較高
- (D) 非洲黑人不在疫區範圍

50. 下圖為依據 2005 年某標準 X 的數值所繪製的世界地圖，當其標準數值愈高，圖中呈現的面積愈大，標準數值愈低，則圖中的面積愈小。試問：繪製下圖所採用的標準 X 可能為下列何者？

- (A) 愛滋感染率
- (B) 自然增加率
- (C) 國民生產毛額
- (D) 國家飢餓指數



試題結束

新北市立新莊國民中學 111 學年度第 2 學期第 3 次段考 8 年級社會領域試題
解答

| | | | | | | | | | |
|----------|----------|----------|----------|----------|----------|----------|----------|----------|----------|
| 1 | 2 | 3 | 4 | 5 | 6 | 7 | 8 | 9 | 10 |
| D | B | A | A | C | D | A | C | D | D |
| 11 | 12 | 13 | 14 | 15 | 16 | 17 | 18 | 19 | 20 |
| D | C | A | D | B | B | B | C | A | B |
| 21 | 22 | 23 | 24 | 25 | 26 | 27 | 28 | 29 | 30 |
| B | D | C | D | C | D | A | D | B | C |
| 31 | 32 | 33 | 34 | 35 | 36 | 37 | 38 | 39 | 40 |
| B | D | B | D | C | D | B | B | D | A |
| 41 | 42 | 43 | 44 | 45 | 46 | 47 | 48 | 49 | 50 |
| C | B | B | A | C | C | A | A | C | C |