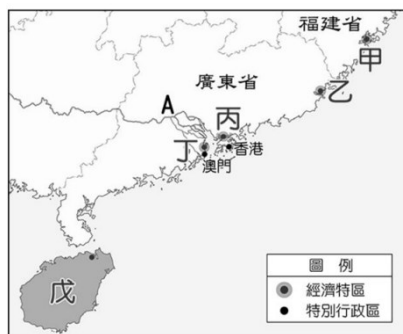


- ※ 選擇題：本試卷共 50 題，每題 2 分，總分為 100 分。
每一題均為單選題，請選出最適當答案。
※ 請用 2B 鉛筆在答案卡上相應的位置畫記。

【第 1 至 4 題為題組】

「經濟特區」主要是為了吸引外資或鼓勵國際跨國企業進駐而設立，制定特別寬鬆或具有優惠條件經濟發展的區域。截至 2010 年止，中國成立了 6 個經濟特區，1980 年代陸續成立的 5 個（如附圖），後來的 1 個則選擇在中國最大的省區境內。請回答以下問題：



- 最先成立的經濟特區是哪一個，後來成為中國新創產業的重心？
(A)甲 (B)乙 (C)丙 (D)丁
- 哪一個的發展很活躍，是著名的旅遊勝地，2017 年 GDP 為 4300 億元，因距離台灣最近，所以吸引很多台商前往投資？
(A)甲 (B)乙 (C)丙 (D)丁
- 「經濟特區」是中國經濟改革開放的重點，下列有關於經濟特區的敘述，哪個是正確的？
(A)所有的經濟特區皆位於東部經濟區
(B)以出口為導向的生產模式
(C)早期以資金密集的重工業為主
(D)位於礦產豐富之地
- 後期設立的經濟特區位於內陸，可與中國近期哪個經濟政策相呼應？
(A)振興東北 (B)一帶一路 (C)中部崛起 (D)居住證制度
- 中國現代農業面臨的挑戰何者為非？
(A)農業生態惡化
(B)人均耕地面積狹小
(C)水資源分配不均
(D)偏重糧食生產，對畜產品與海產品需求不高
- 「美國知名賣場好市多去年在上海盛大開幕，未料因人潮太多，才開幕 4 小時就宣布下午暫停營業，第二家店預計將在今年底開業營運。好市多選擇在中國設立大型旗艦館並快速展店最可能原因為下列何者？
(A)勞動力充足 (B)資金很雄厚
(C)消費市場廣大 (D)勞工素質佳

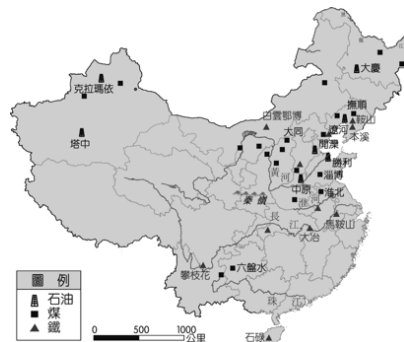
- 中國的人口分布受到戶籍制度的限制影響，因此在附圖中哪一個地區可能聚集最多的移動人口，由於沒有該地戶籍因此無法獲得完整的社會福利，造成其生活上的問題？
(A)甲 (B)乙
(C)丙 (D)丁



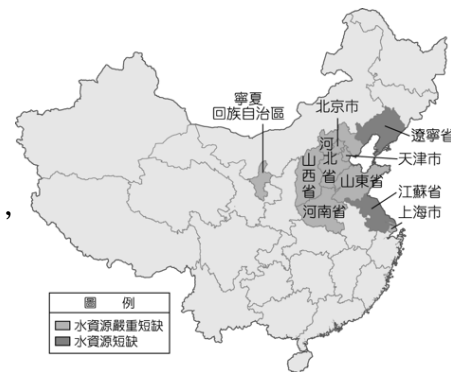
- 中國近十年來，工廠有從「東部」經濟區逐步遷往「中部」經濟區的趨勢，請問中部經濟區有何種優勢吸引工廠進駐？
(A)工資較便宜 (B)高科技產業密集
(C)煤、鐵、石油礦產豐富 (D)鄰近港口，交通便利

- 近年來，中國的經濟快速發展，由於生活改善與市場需求的大幅轉變，使得中國農牧業面臨轉型，針對轉型特色下列敘述何者為誤？
(A)企業化、商品化
(B)蔬菜、花卉耕種面積增加
(C)糧食作物增加種植面積
(D)專業化、科技化

- 附圖為中國煤、鐵、石油的分布狀況。下列中國的地理現象中，何者與此空間分布的關係最密切？
(A)中華文化發源自黃河流域
(B)北部交通運輸以陸運為主
(C)北部的重工業較南部發達
(D)經濟特區皆設於東南沿海



- 農業活動中受到自然環境的影響相當大，其中灌溉水源為農業發展必要的條件。但中國的水資源由於人口增加及工商業的使用，漸趨不足，缺水狀況如附圖所示。請問：圖中水資源嚴重短缺的地區大多位在何處？
(A)東北平原 (B)華北平原
(C)珠江三角洲 (D)青藏高原



- 附圖為中國四個一線都市的地理位置，根據附表對一線城市的介紹，依名次排列出四個城市的正確位置。



第一名：經濟表現佳，GDP 長年領先之外，港口貨櫃量更是位居全球第一
第二名：中國政治中心，有大量頂尖大學，近年朝向資訊科技業發展，也是「中國矽谷」所在地
第三名：位居珠江口東岸，從經濟特區轉型朝新創產業發展，未來發展性值得期待
第四名：珠三角的頂點位置，華南地區水陸交通的總樞紐

- (A)甲乙丙丁 (B)乙丁甲丙 (C)乙甲丁丙 (D)丁甲丙乙

- 中國近年來致力「西部開發」，這是由於廣大的西部經濟區的開發仍屬落後階段。其未來發展最大的潛力為何？
(A)鐵、公路網密布 (B)工業基礎雄厚
(C)沿海交通便利 (D)礦產資源豐富
- 中國利用「南水北調」工程，調節兩大河水量，並藉此平衡區域發展，關於此工程的敘述 何者錯誤？
(A)引長江水到黃河使用
(B)為東北振興政策內容
(C)輸水方向由南至北
(D)可有效緩解北方地區水資源吃緊狀況

背面尚有試題

15. 『中國一帶一路倡議使得斯里蘭卡將漢班托塔港租借給中國長達 198 年，更間接導致斯里蘭卡宣布破產，中國不僅沒有積極出手金援減債，反而另尋新的受害者。印媒披露，中國更允諾提供尼泊爾 1.18 億美元（約台幣 35.7 億元）的援助，外加興建一條經西藏的跨境鐵路。上述報導參與一帶一路的國家因可能無力償還向中國的借款，終將把國內重要建設控制權交給中國……』主要與中國合作一帶一路的經濟體在與中國合作的過程中，普遍可能會面臨下列哪些問題？(甲)積欠的龐大建設費用；(乙)本國勞工薪水增加；(丙)國內政治可能受中國影響；(丁)本國的自然資源難以開採
(A)甲乙 (B)甲丙 (C)甲丁 (D)丙丁
16. 地理課時，老師請同學以「中國經濟崛起」為題發表自己的看法，下列何者的說法正確？
(A)小安：「中國務農人口眾多，第一級產業就業人口比例逐年上升。」
(B)小鈞：「中國因為製造成本較高，成為世界工廠。」
(C)小儀：「中國窮人太多，缺乏消費市場，商機不佳。」
(D)小森：「中國在發展經濟的同時也製造大量廢棄物，如排放過多的污染物到大氣中。」
17. 檢察官在偵辦案件時，如認定有逃亡、串供之虞的事由與必要，可以向法院聲請羈押被告在看守所。此舉是為了避免檢察官任意限制被告的哪一項基本人權？
(A)人身自由權 (B)遷徙的自由權
(C)言論自由權 (D)結社自由權
18. 下列是某對父女的談話，請根據談話內容判斷，父親及女兒分別提及哪一項人民的基本人權？
爸爸立恩：前陣子我們的工廠收到罰單，提到排放汙水問題，可是我們並沒有違法，我打算採取法律行動撤銷這個行政處分。
女兒雨娟：我贊成，這是憲法賦予人民的基本權利。
(A)爸爸—訴願、女兒—受益權
(B)爸爸—請願、女兒—自由權
(C)爸爸—訴願、女兒—自由權
(D)爸爸—請願、女兒—受益權
19. 我國「立法權」的行使，其中沒有包括針對法律行使下列哪一種權力？
(A)制定 (B)公布 (C)修改 (D)廢止
20. 根據《中華民國憲法》及《中華民國憲法增修條文》的規定，下列有關總統的敘述，何者錯誤？
(A)提名立法院長與可直接任命行政院長
(B)可發布緊急命令，但須在十日內提交立法院追認
(C)在行政院長「不信任案」通過時，可被動解散立法院
(D)由人民直接選出，任期四年，連選得連任一次
21. 孟德斯鳩的權力分立學說，主張甲掌握行政權，負責執行政策，乙掌握立法權，監督政府施政。上述甲、乙兩者依序為下列何者？
(A)內閣、法院 (B)國會、內閣
(C)國會、法院 (D)內閣、國會
22. 在我國，關於政府預算及決算的經費流程，甲、編列預算；乙、審查預算；丙、執行預算；丁、審核決算。請問：哪些是屬於同一個機關的職權？
(A)甲乙 (B)丙丁 (C)甲丙 (D)乙丁
23. 我國中央政府的互動關係，其中一個是覆議制度。下列有關覆議制度的流程，請排出正確的順序？
甲、立法委員投票決定維持或否決原決議
乙、經總統核可移請立法院覆議
丙、行政院認為窒礙難行
丁、立法院決議
(A)乙甲丁丙 (B)甲乙丙丁 (C)丁乙甲丙 (D)丁丙乙甲
24. 新聞報導：「監察委員調查法官收受立委賄絡案，近日將提出(甲)，涉案之法官及書記官等人，將被移送司法(乙)，最重將被判處刑罰並撤職。」報導的內容(甲)和(乙)應填入何者？
(A)糾舉、行政法院 (B)彈劾、懲戒法院
(C)糾正、憲法法庭 (D)彈劾、最高法院
25. 下列有關「審計」相關事宜的敘述，何者正確？
(A)審計長由行政院長任命
(B)審計部隸屬考試院銓敘部
(C)審計部須審核行政院提出的預算
(D)行政機關執行預算做成決算送審計部審核
26. 我國憲政制度有設計一套不信任案的機制，期能發揮分權制衡的效果。關於該制度的敘述，下列何者正確？
(A)為考試院對監察院的制衡關係
(B)立法院與行政院長皆可提出
(C)為人民對行政院施政滿意度之公投
(D)該案若通過，總統得經行政院長呈請後解散立法院
27. 我國法令規定，總統可提名司法院大法官，但為避免濫用私人，須由立法院行使人事同意權方可任命。上述總統與立法院權力間的互動關係，可稱為何者？
(A)權力分立 (B)無限政府 (C)主權在民 (D)依法行政

【第 28 至 29 題為題組】

南韓首爾梨泰院舉辦的萬聖節派對，10 月 29 日晚間發生一起恐怖意外死傷慘重，根據《韓聯社》的即時報導，至少造成 50 人心臟驟停、81 件通報呼吸困難，南韓總統尹錫悅知悉後，已下達緊急命令，並要求內政安全部長所屬的相關部門，用盡一切資源展開救援，同時啟動緊急醫療系統，確保私立醫院床位數量。針對本事件，南韓總統也向國家警察廳呼籲，務必讓在國內舉辦的萬聖節活動，有秩序地進行，以確保民眾安全無虞。

28. 南韓總統尹錫悅下達緊急命令權。緊急命令權：這是總統很大的權力，一旦生效後，總統所有的施政可以跳過國會，直接行使權力。為了避免總統濫用「緊急命令」權力，在我國憲法是規定如何限制總統的這項權力？
(A)須經行政院會議之決議同意即生效
(B)總統只能在國家遭遇緊急危難時可發布
(C)立法院不同意時，緊急命令立即失效
(D)發布緊急命令後，司法院必須在 10 日內追認
29. 根據我國憲法及增修條文的相關規定，若要對總統、副總統進行彈劾，必須先由立法院提案通過後，再經由何種程序才可以完成？
(A)舉辦選舉人投票進行表決
(B)大法官召開憲法法庭審理
(C)最高法院判決
(D)行政院院長暫代總統一職

繼續作答下張試卷

【第 30 至 31 題為題組】

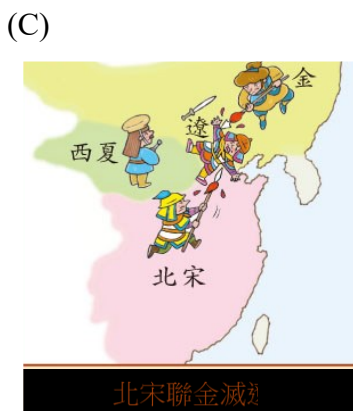
日前國道汐止邊坡坍塌，高公局將國道 1 號 7K-10K 全線封閉，高公局請基隆及汐止地區民眾提前改道。行政院長與交通部長視察國 1 南向汐止交流道邊坡，關心搶修進度，並慰勉工作人員。因汐止持續降雨且邊坡仍滑動，應以安全為主，全力搶通主線交通，儘速恢復國道汐止交通順暢。多位立法委員在立法院交通委員會要求重新檢討邊坡分級，並加速改善邊坡加固改善工程。交通部長承諾，這次雖是突發狀況，但面臨極端氣候，會徹底檢討，在一個月內盤點邊坡偵測器位置與數量，並檢討擴大邊坡監測範圍。

30. 依內容判斷，立委與交通部長之間的對話，呈現了何種現象？
 (A)司法獨立原則 (B)權力相互牽制
 (C)訴願權的實施 (D)杜絕議會專制
31. 關於行政院的相关敘述，以下何者**錯誤**？
 (A)其閣員(交通部長)的產生方式是院長提請總統任命
 (B)負責國家政策的規劃與法案的執行
 (C)依行政院組織法設有交通部、法務部、審計部等 29 個機關
 (D)各部會首長須接受立委質詢

【第 32 至 33 題為題組】

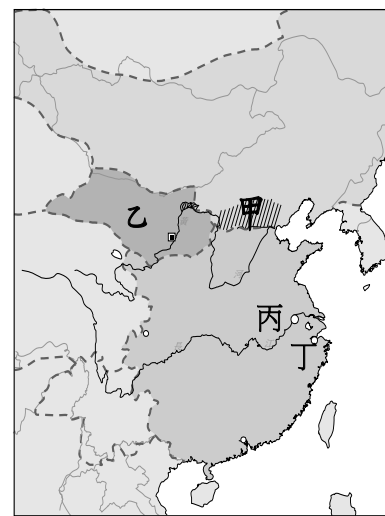
我國於 107 年舉行地方公職人員選舉，同時合併舉辦公民投票。但因公提案高達十案，導致民眾大排長龍。(甲)機關在 108 年，提出對中央選舉委員會的糾正案，委員們認為：全國有近 4 成投票所均有延誤，出現邊開票邊投票的情形，影響選舉公平性。

32. 根據本文推論，(甲)機關應該為何？
 (A)立法院 (B)考試院 (C)司法院 (D)監察院
33. 本次選舉投票，應該與哪項基本權利無關？
 (A)創制權 (B)複決權 (C)選舉權 (D)罷免權
34. 岳飛〈滿江紅〉：「……靖康恥，猶未雪。臣子恨，何時滅！駕長車，踏破賀蘭山缺。壯志飢餐胡虜肉，笑談渴飲匈奴血。」請問：下列哪一張圖片最符合岳飛所說的「臣子恨」？



【第 35 至 36 題為題組】

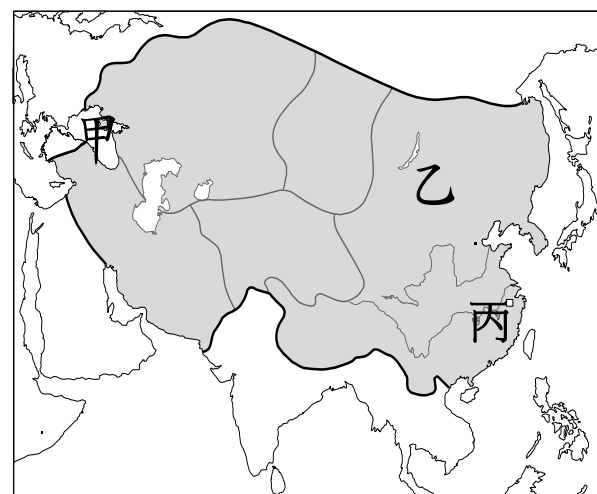
根據右圖，回答下列問題：



35. 唐朝末年，該族的首領耶律阿保機吞併各部落後，於西元 916 年稱帝建國，定都臨潢府（今內蒙古巴林左旗南）。此後屢次南侵中原，946 年阿保機之子耶律德光攻滅五代十國中的後晉後，確定國號為「大遼」。請問：關於此國的敘述，下列何者正確？
 (A)北宋與其在右圖丙地簽訂首開以歲幣求和先例的盟約
 (B)取得軍事重地右圖甲處後，實力大增
 (C)由女真族所建立
 (D)北宋與右圖中的乙國聯盟，將其攻滅
36. 右圖是宋朝皇帝趙匡胤的畫像，老師要同學寫出畫像主人翁的相關事蹟。請問：下列哪一位寫的是正確的？
 (A)大雄：「他增加武將的權力，藉此打擊四周強大外患」
 (B)小夫：「他建立宋朝，被後人稱為『宋真宗』」
 (C)宜靜：「他將右圖中的丁地訂為首都」
 (D)哆啦 A 夢：「他推行『重文輕武』的策略，造成北宋軍力積弱不振」



37. 此帝國在鼎盛時期統治從東亞到中亞、西亞、東歐等前所未有的廣大領土，也促使東西方文化交流、商賈往來日益頻繁。然而在帝國擴張的過程中，無數古代文明遭到毀滅、城市變成廢墟，將近 3000 萬人被殺，「黃禍」確實給歐洲人帶來無止盡的夢魘。請問：關於此帝國的敘述，下列何者正確？



- (A)15 世紀初，成吉思汗和繼位者建立四大汗國
 (B)元世祖定都在上圖丙地，此處首次成為中國的首都
 (C)第一次西征遠達上圖中的甲海附近
 (D)鐵木真建立上圖的乙國並攻滅南宋，成為第一個統治整個中國的草原民族

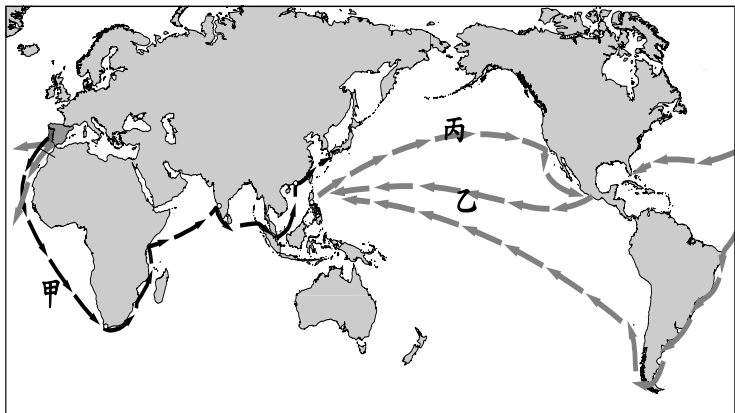
38. 元朝實行種族歧視政策，將人民分為四個等級，分別賦予不同的身分與權利，以凸顯自身之優越地位，並壓制其他被征服的各族群。請問：根據右圖，下列敘述何者正確？



- (A)乙、丙階層在社會各方面均遭受不平等的對待
 (B)西域各族和西夏人屬於丁階層，多擔任財政職務
 (C)南宋的愛國忠臣文天祥，在元朝統治期間會被列為甲階層
 (D)乙階層是指原受北宋統治的契丹人和女真人

47. 關於明清時期的國內經濟與對外貿易的情形，下列敘述何者正確？
- (A)江蘇盛澤鎮以製作瓷器聞名，有「四時雷電鎮」之稱
- (B)明代後期由於海禁政策的嚴格推行，外國僅能進行朝貢貿易
- (C)明朝初期為防範在臺灣的鄭氏政權，禁止人民私自出海
- (D)地域性的商人集團盛行，以山西商人、徽州商人為代表

48. 15 世紀歐洲人開通新航路後，爭相往海上尋找殖民地與貿易據點，開啟地理大發現的時代。請問：根據下圖，下列敘述何者正確？



- (A)航行甲路線的國家，以菲律賓的馬尼拉為貿易據點
- (B)乙為跨越太平洋的貿易路線
- (C)經由甲路線，美洲新作物傳入中國而減緩糧食缺乏的壓力
- (D)丙路線為歐洲人用紙幣購買中國的絲綢、瓷器，再進行轉賣
49. 圖中站在左方的是一位明神宗時來自義大利的傳教士，他穿戴儒生服飾，結交中國文人為朋友，顯示對中國文化的喜愛。請問：下列何者與此人的事蹟「無關」？
- (A)將西方地理學等觀念傳入中國，有助中西文化交流
- (B)讓中國教徒可以祭祖、祭孔，傳教成果斐然
- (C)和徐光啟合譯《幾何原本》，成為後世學習數學的重要教材
- (D)得到明神宗的認同，在北京設立伊斯蘭教清真寺



50. 在日本鎖國時期的繪畫中，可以看到使用望遠鏡的女孩及外國人聚集的出島地區大門（如右圖）等內容。請問：下列敘述何者正確？



- (A)畫中的望遠鏡是由西班牙傳入的文物
- (B)國外傳入的「蘭學」，俾益近代日本科學的發展
- (C)「出島」應位於現在日本東京
- (D)鎖國的原因是佛教傳至日本後，在社會上產生衝突與不安

試題結束

新北市立新莊國民中學 111 學年度第 1 學期第 2 次段考 8 年級社會領域試題
解答

1	2	3	4	5	6	7	8	9	10
C	A	B	B	D	C	B	A	C	C
11	12	13	14	15	16	17	18	19	20
B	C	D	B	B	D	A	A	B	A
21	22	23	24	25	26	27	28	29	30
D	C	D	B	D	D	A	C	B	B
31	32	33	34	35	36	37	38	39	40
C	D	D	A	B	D	C	C	B	C
41	42	43	44	45	46	47	48	49	50
D	C	A	C	A	C	D	B	D	B