

※ 選擇題：本試卷共 50 題，每題 2 分，總分為 100 分。

每一題均為單選題，請選出最適當答案。

【題組一】渝瑤老師是新莊國中的歷史老師，她最喜歡利用寒暑假四處旅行，今年暑假他前往歐洲自助旅行，底下為她的旅行路線。

(一)第一站：土耳其

1. 渝瑤老師習慣每到一個地方，就寄明信片給自己，紀念自己美好的旅行，在這裡她寫了一張明信片給自己，明信片的内容如下：「土耳其的天空好藍，我在伊斯坦堡參觀了聖索非亞教堂，這座教堂有最美麗的穹窿圓頂，在教堂的圓頂上，掛著寫有「穆罕默德」的阿拉伯文金字大圓盤，更高處有聖母抱著基督的馬賽克拼貼，代表基督教與伊斯蘭教在此共處的情形，現在它是一座宗教博物館，來到伊斯坦堡絕對不能錯過它。」請問：由上述明信片所提到的聖索非亞教堂的特色可以看出它曾經先後受到哪兩個國家的統治？





- (A) 查理曼帝國、阿拉伯帝國
(B) 羅馬帝國、塞爾柱土耳其帝國
(C) 亞歷山大帝國、阿拉伯帝國
(D) 拜占庭帝國、鄂圖曼土耳其帝國

2. 承上題，請問：下令建立聖索非亞大教堂的統治者為下列何人？

- (A) 查理曼 (B) 查士丁尼 (C) 鄂圖一世 (D) 君士坦丁

(二)第二站：義大利

3. 渝瑤老師接著從土耳其來到義大利旅遊，如果她想參觀以尖拱、高塔、裝飾繁複為特色的中古時期「哥德式」建築，她應前往下列何地？

(A)	(B)
	
(C)	(D)
	

(三)第三站：德國

4. 渝瑤老師離開滿滿古蹟的義大利後造訪了全德保存最完整的中世紀城堡—羅騰堡。在德國這種由中世紀遺留下來的城堡古蹟到處都是，但是在這些城堡當中有些城堡因為火藥的傳入而被破壞、摧毀。請問：火藥的傳入與下列哪一場戰爭有關？

- (A) 英法百年戰爭 (B) 十字軍東征
(C) 蒙古西征 (D) 但羅斯之役

(四)第四站：法國

5. 渝瑤老師接著前往法國有世界七大奇景之一之稱的聖米歇爾山，在聖米歇爾山上有聖米歇爾修道院，據說在某一場戰爭發生時，曾有 119 名法國騎士在這裡和英軍作戰長達 24 年，這一場戰爭最後促使法國王權提高，凝聚了法國人民的向心力和民族意識。請問：這是指哪一場戰爭？

- (A) 英法百年戰爭 (B) 拿破崙戰爭
(C) 三十年戰爭 (D) 十字軍東征

6. 渝瑤老師在進行歷史教學時將甲事件發生的背景用以下的圖表進行解說。請問：圖中的甲事件代表的事件為以下哪一個事件？



- (A) 文藝復興
(B) 地理大發現
(C) 王權提高
(D) 宗教改革

【題組二】

7. 25 世紀時，時光旅行成為當時時下的潮流，德國的威廉想了解自己祖國的歷史於是他搭乘時光機來到 9 世紀初的中古西歐，請問：當時統治今日大部分法德地區的應該是下列哪一個國家？

- (A) 汪達爾王國 (B) 東哥德王國
(C) 神聖羅馬帝國 (D) 查理曼帝國

8. 承上題，威廉又搭乘時光機來到 11 世紀的德國，這時的德國統治者並無實權，且內部分裂。請問：這種現象跟當時實施以下何種制度有關？

- (A) 莊園制度 (B) 中央集權制
(C) 諸子均分制 (D) 封建制度

9. 最後，威廉來到 1517 年 10 月 31 日的威丁堡大學教堂門口想要親眼看看揭開宗教改革序幕的那一篇文章及作者，請問：揭開宗教改革序幕的文章及作者的配對下列何者正確？

- (A) 九十五條論綱-喀爾文 (B) 神曲-但丁
(C) 九十五條論綱-馬丁路德 (D) 君王論-馬基維利

10. 如果炯植想到歐洲參觀伊斯蘭教文化在歐洲所留下的遺蹟，請問：他可以前往附圖中的哪些地區參觀？



- (A) 甲己 (B) 丙戊
(C) 丁庚 (D) 戊己

11. 上課時，老師要同學們討論文藝復興時期的文化成就。請問：哪些人的發言正確？

溫流：「馬基維利的【君王論】充滿了權術，真是險惡啊！」

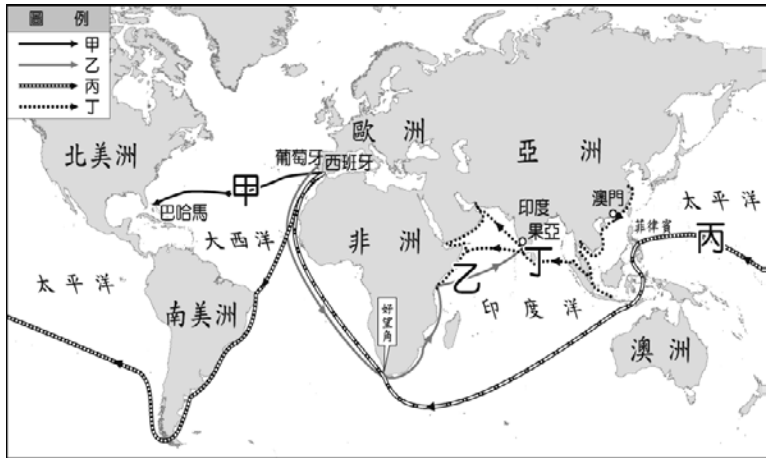
鐘鉉：「真羨慕但丁可以用流暢的義大利方言寫出史詩般的【神曲】」

泰民：「看完塞凡提斯用英文寫的悲劇作品讓我哭了好幾天！」

基範：「達文西的作品大衛雕像實在好壯觀啊！」

- (A) 溫流、鐘鉉 (B) 溫流、基範
(C) 鐘鉉、泰民 (D) 泰民、基範

12. 珉豪想要體驗偉大航海家突破地圖界線的冒險精神，因此計畫參加旅行社所舉辦的「世紀探險——地理大發現之旅」，旅行社人員拿出 15~16 世紀重要航行路線圖（如附圖），來說明行程的規畫。請根據此圖回答下列問題：如果珉豪想參加的是從歐洲出發最快抵達印度的復古路線之旅，請問：珉豪應該參加哪一條路線？



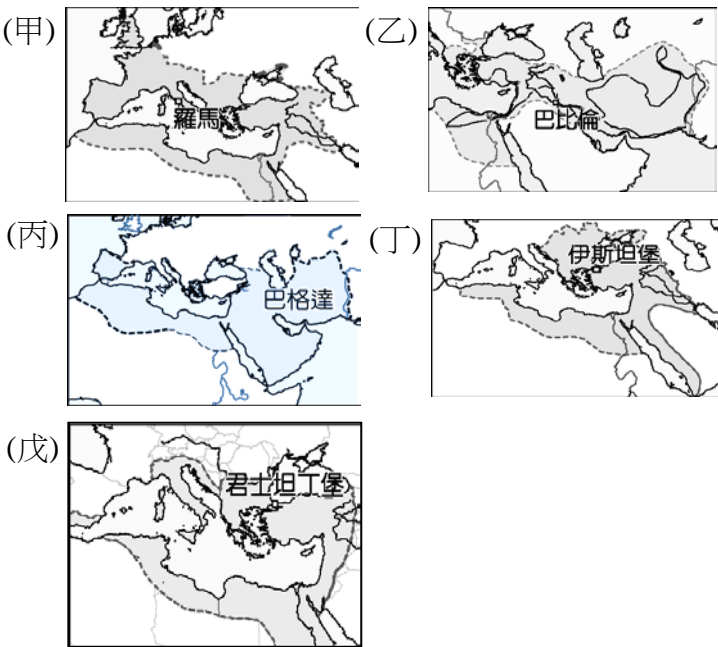
(A) 甲路線 (B) 乙路線 (C) 丙路線 (D) 丁路線

13. 底下是枉國整理的三大宗教比較表，請問：哪一個選項他整理錯誤？

宗教	佛教	基督教	伊斯蘭教
創立時間(A)	西元前 6 世紀	西元 1 世紀	西元 7 世紀
創立者(B)	釋迦牟尼	耶和華	穆罕默德
創立地點(C)	印度	巴勒斯坦	阿拉伯半島
信仰真神(D)	多神教	耶和華	阿拉

14. 世界史上曾出現過數個橫跨歐、亞、非三洲的帝國，以下分別是這些帝國的疆域圖，請按照帝國建立的時間先後順序加以排列

- (A) 乙甲戊丙丁 (B) 乙甲丙戊丁
(C) 甲乙丙丁戊 (D) 丙乙甲戊丁



15. 關於底下中古西歐與拜占庭帝國的比較表何者有誤？

	中古西歐	東羅馬帝國
政治(甲)	分裂，封建體制	統一，中央集權
經濟(乙)	工商發達	農業為主
宗教(丙)	羅馬公教，政教衝突	希臘正教，政教合一
受影響的民族(丁)	日耳曼民族 (羅馬文化)	斯拉夫民族 (希臘文化)
語文(戊)	希臘文	拉丁文

- (A) 甲戊 (B) 乙丁 (C) 丙戊 (D) 乙戊

16. 第三次行動(1189-1192 年)是由英格蘭、法國和神聖羅馬帝國軍隊所組成的聯軍，為搶下被埃及蘇丹薩拉丁佔領的「聖城」。在征戰過程中神聖羅馬帝國皇帝腓特烈一世在小亞細亞墜水而死，軍隊隨即撤退。英法的聯軍則經海路到達「聖城」。後來英法聯軍的領袖發生糾紛，法國國王腓力二世下令撤軍。最後薩拉丁與聯軍立約，允許非武裝的基督徒自由前往「聖城」朝聖。請問：根據判斷上文敘述的是下列哪一場軍事行動？

- (A) 蒙古西征 (B) 英法百年戰爭
(C) 十字軍東征 (D) 但羅斯之役

17. 中國的科技發明透過不同的路線及方式傳入歐洲各地。請問有關底下中國發明的傳播組合下列何者正確？

- (A) 印刷術--蒙古西征 (B) 造紙術--張騫通西域
(C) 羅盤--蒙古西征 (D) 紙幣--十字軍東征

18. 位於英國與法國間的海峽名稱為何？

- (A) 英吉利海峽 (B) 直布羅陀海峽
(C) 麻六甲海峽 (D) 博斯普魯斯海峽

19. 下列哪個國際組織已推行共同貨幣？

- (A) APEC (B) OPEC (C) ASEAN (D) EU

20. 南歐因溫帶地中海型氣候的特性，較適合種植何種作物？

- (A) 棉花 (B) 葡萄 (C) 椰棗 (D) 黃麻

21. 何地因戰亂較多，有「歐洲火藥庫」之稱？

- (A) 伊比利半島 (B) 義大利半島
(C) 巴爾幹半島 (D) 斯堪地那維亞半島

【題組三】附圖為北歐地圖，參考附圖回答第 22~23 題

22. 何國因冰蝕湖廣布，有「千湖國」之稱？

- (A) 甲 (B) 乙 (C) 丙 (D) 丁

23. 何國既能欣賞火山地形，又能欣賞冰河地形？

- (A) 甲 (B) 乙 (C) 丙 (D) 丁



【題組四】附圖為歐洲地圖，參考附圖回答第 24~25 題

24. 何國為歐洲經濟產值最高的國家？


- (A) 甲 (B) 乙 (C) 丙 (D) 丁

25. 何國從前有「日不落國」之稱？

- (A) 戊 (B) 己 (C) 庚 (D) 辛



【題組五】附圖為歐洲氣候特色圖，參考附圖回答第 26~27 題



26. 何城市的氣候特色最接近乙圖？

- (A) 倫敦 (B) 羅馬 (C) 莫斯科 (D) 巴黎

27. 何城市的氣候特色最接近丙圖？

- (A) 倫敦 (B) 羅馬 (C) 莫斯科 (D) 巴黎

【題組六】附圖為歐洲分區圖，參考附圖回答第 28～31 題

28. 何區域的國家皆曾實施共產主義？
 (A) 甲 (B) 乙 (C) 丙 (D) 丁
29. 何區最能欣賞到大範圍的峽灣景觀？
 (A) 甲 (B) 乙 (C) 丙 (D) 丁
30. 歐洲聯盟的總部位於何區？
 (A) 甲 (B) 乙 (C) 丙 (D) 丁
31. 臺灣在歐洲唯一的邦交國-教廷位於何區？
 (A) 甲 (B) 乙 (C) 丙 (D) 丁

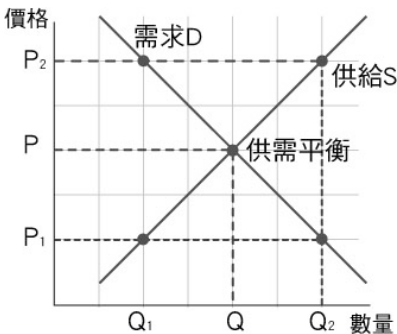


【題組七】附圖為俄羅斯分區圖，參考附圖回答第 32～33 題

32. 何區為俄羅斯人口密度最高的區域？
 (A) 甲 (B) 乙 (C) 丙 (D) 丁
33. 何區的降雨主要源自夏季的東南季風？
 (A) 甲 (B) 乙 (C) 丙 (D) 丁
34. 日本在 2016 年貿易順差共 4.07 兆日圓，是近 6 年來首見，主要拜能源進口成本大降與鋼鐵出口增長之賜。關於日本在 2016 年的貿易情況，哪一項敘述是正確的？
 (A) 貿易順差的情況又稱為入超
 (B) 鋼鐵出口增加促使貿易收入增加
 (C) 全年的總進口額大於總出口額
 (D) 日圓升值時最利於日本鋼鐵出口
35. 發行貨幣的主要目的在提供社會大眾一種安全可靠、價值穩定及廣被接受的支付工具，其制度的良窳影響國計民生甚鉅，因此世界各國大都由中央銀行獨占發行貨幣，我國亦然。這節課分組討論關於「中央銀行」，請問下列有幾個組別的討論是正確的？
 (A) 3 個 (B) 4 個 (C) 5 個 (D) 6 個

第一組	主要往來對象為我國所有民眾及機關。
第二組	需輔助監督全國金融機構業務。
第三組	必須控制貨幣發行量，以維持物價穩定。
第四組	發行信用卡以促進經濟流通。
第五組	保管國家黃金、外匯。
第六組	是隸屬於立法院管轄。

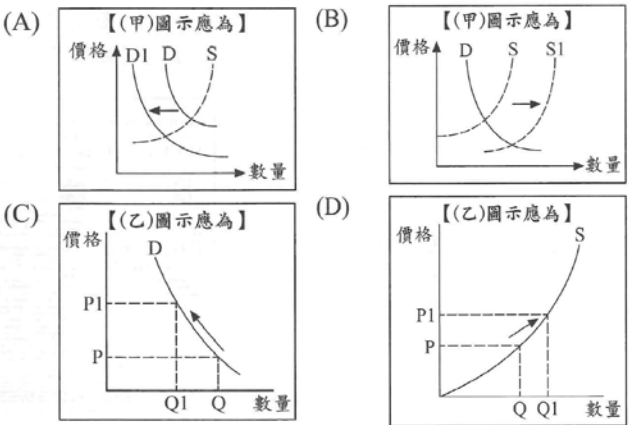
36. 下圖為芒果手機的需求 D 與供給 S 曲線圖，在其他條件不變的情況下，下列有關「價格與供給量的變化」之敘述，何者正確？
 (A) 價格由 P→P₁，供給量增加，導致生產短缺
 (B) 價格由 P→P₂，需求量增加，造成供過於求的狀況
 (C) 價格下跌，供給量由 Q→Q₂，將呈現供不應求的狀況
 (D) 價格上漲，供給量由 Q→Q₂，導致產品過剩現象



37. 經濟制度是規範經濟活動運作的一套模式，現行國家實施的經濟制度大多介於市場經濟與計畫經濟兩者之間。請問：就市場經濟與計畫經濟兩者之不同比較，以下何者錯誤？

		市場經濟	計畫經濟
(A)	主導者	市場機能(看不見的手)	政府(看得見的手)
(B)	財產制度	財產私有	財產公有
(C)	別稱	自由經濟	統制經濟
(D)	缺點	效率低落	貧富不均

38. 關於五月天團員的消費行為，各在發揮貨幣的功能，那些配對是正確？(甲)阿信每個月到銀行定期存款一萬元-價值衡量 (乙)石頭買了一斤 300 元的水蜜桃真好吃-價值儲存 (丙)瑪莎到超商繳交上個月的信用卡費 3000 元-債務清償 (丁)怪獸將領到的薪水 20000 元拿去買電腦-交易媒介 (戊)冠佑想買一個價值 2000 元的玩具給孩子-價值衡量。
 (A) 甲乙丁 (B) 乙丙丁 (C) 丙丁戊 (D) 甲丁戊
39. 國際社會上，原油耗盡是一項令人擔心的問題；但有經濟學者認為，此產品具有稀少性，(甲)當原油開採數量減少時，價格會逐漸提升；(乙)原油價格提升後，需求數量會減少，因此會降低原油的消耗速度。請問：根據前述畫線的說明，下列圖示何者正確？



40. 南美洲石油生產大國委內瑞拉，因經濟高度依賴進口商品或原料，在原油價格下跌的情況下，政府經濟政策失當，導致經濟瀕臨瓦解，大規模食物短缺，將升破 700%的通貨膨脹，讓民眾苦不堪言。請問：委內瑞拉境內會出現何種現象？(甲)國內貨幣升值 (乙)生活開銷大 (丙)儲蓄意願升高 (丁)貨幣購買力下降 (戊)搶購囤積物品 (己)實質所得減少
 (A) 乙丁戊己 (B) 甲乙丙戊
 (C) 丙丁戊己 (D) 乙丙丁戊
41. 鍾國、在錫與光洙三人，一起在「Running man 飲料店」上班。公司規定，同時段由其中二人工作的方式輪班製作珍珠奶茶與百香綠茶，且每人一次只負責生產一項產品，下表為他們的產能狀況。若鍾國與在錫搭檔上班時，鍾國在製作珍珠奶茶上具有比較利益；而在錫與光洙搭檔上班時，光洙在製作百香綠茶上具有比較利益，根據表中資料判斷，甲最可能為下列何者？

(A) 30 (B) 40 (C) 50 (D) 60

	珍珠奶茶(杯)	百香綠茶(杯)
鍾國	70	60
在錫	55	甲
光洙	45	45

新北市立新莊國民中學 106 學年度第 1 學期第 2 次段考 9 年級社會領域試題卷
 _____ 班 座號 _____ 姓名 _____

42. 蘋果於 10 月 27 日舉行 10 周年紀念機 iPhone X 預購，全台首波到貨僅 5 萬支，每支預估台幣 3 萬元。始源想購買，正好有朋友分別要去日本、美國、德國，始源比較了各地與台灣的售價匯率表(如下表)，若想用最低價購入，請問他該如何選擇？

台灣官網定價 新台幣 30000 元 規格：iPhone X	
日本官網定價 100000 日圓	日圓：新台幣=4：1
美國官網定價 950 美元	美金：新台幣=1：30
德國官網定價 900 歐元	歐元：新台幣=1：35

- (A) 直接在台灣購買 (B) 請朋友去日本買
 (C) 請朋友去美國買 (D) 請朋友去德國買
43. 仲基和慧喬兩夫妻從事打掃和洗車的工作。下表為某一天的生產量，從比較利益和絕對利益來看，何者正確？
 (A) 仲基在打掃上具有絕對利益，在洗車上享有比較利益
 (B) 慧喬不論在打掃或洗車上都享有比較利益與絕對利益
 (C) 依據比較利益進行分工，仲基負責打掃，慧喬負責洗車
 (D) 依據比較利益進行分工，慧喬負責打掃，仲基負責洗車

	<u>仲基</u>	<u>慧喬</u>
打掃	30 坪	60 坪
洗車	3 輛	4 輛

44. 政軒和政穎兩兄弟為了聖誕派對，各自製作餅乾和三明治，政軒製作兩者皆具有絕對利益，若依據比較利益法則分工，政軒將因為機會成本較低而負責製作三明治。根據上述內容判斷，下列何者最可能是政軒和政穎的商品產量比較表？(以下選項均為他們每分鐘的各自製做餅乾和三明治的產量，單位為：個)

(A)

	餅乾	三明治
<u>政軒</u>	4	5
<u>政穎</u>	2	3

(B)

	餅乾	三明治
<u>政軒</u>	6	7
<u>政穎</u>	2	1

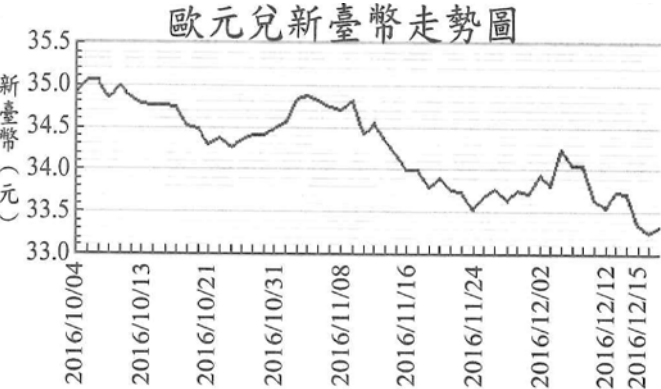
(C)

	餅乾	三明治
<u>政軒</u>	4	4
<u>政穎</u>	5	3

(D)

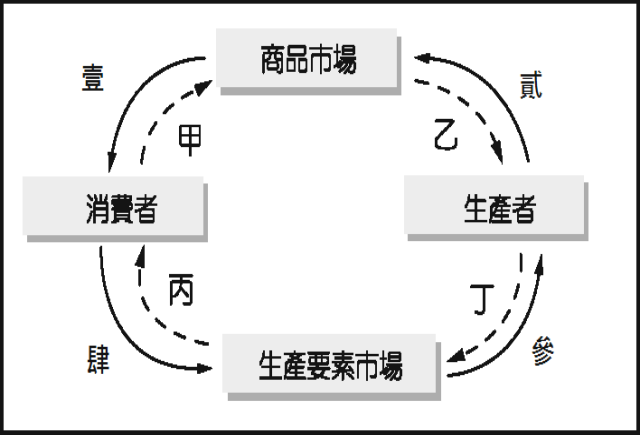
	餅乾	三明治
<u>政軒</u>	6	5
<u>政穎</u>	3	4

【題組八】歐洲在 2016 年因為恐怖攻擊、量化寬鬆貨幣政策延長、義大利修憲公投等事件的影響，歐元匯率發生變化，連帶衝擊到亞洲與美洲經濟市場；台北市電腦公會提醒廠商若要出口電腦零組件到歐洲，須注意匯率變動，參考附圖回答第 45～47 題



45. 上圖示 2016 年 10 月至 12 月歐元兌換新台幣的匯率走勢圖。請問下列敘述何者正確？
 (A) 歐元兌換新台幣呈現持續台幣貶值、歐元升值的走勢
 (B) 台灣民眾 12 月到歐元區旅遊的旅費將更昂貴
 (C) 台灣廠商 12 月出口零組件到歐洲比 10 月來得更有利
 (D) 台灣的進口商 11 月從歐洲進口商品的成本比 10 月低
46. 承上題，上文題幹中畫線部分的敘述，最符合下列哪一項說法？
 (A) 全球化促使經濟市場容易發生連動性的影響
 (B) 資金流動頻繁導致各國間貧富差距越趨擴大
 (C) 透過國際交流與國際援助有助減少國際衝突
 (D) 各國基於比較利益原理進行商品的國際貿易
47. 根據上列匯率走勢圖，秀智想購買一個歐洲名牌包 1000 歐元，準備在 2016 年 12 月 12 日出國赴義大利旅遊時順道購買。請問：若秀智 2016 年 10 月 4 日時購買，會比 2016 年 12 月 12 日時購買多付或少付新臺幣多少錢？
 (A) 少付約 1500 元 (B) 多付約 1500 元
 (C) 少付約 3350 元 (D) 多付約 3350 元

【題組九】下圖為經濟活動循環圖 ◀----為貨幣的流向，——→為商品及生產要素的流向。請依題示回答第 48～50 題



48. 歐洲部分國家為解決政府財政與債務問題所實施的部分措施，使得經濟衰退與失業率攀升，導致民眾在預期未來經濟景氣不佳的心理下，選擇以減少消費來因應。請問：上述畫底線之部分，可以經濟活動循環圖中的哪一部分來說明？
 (A) 甲 (B) 乙 (C) 丙 (D) 丁
49. 一例一休勞基法修正案，引起企業大力反彈，1111 人力銀行調查，高達 5 成 5 的製造業受到一例一休影響，衝擊最大的仍在於「加班費大增」、「增聘人力成本增加」。請問：上述畫底線之部分，可以經濟活動循環圖中的哪一部分來說明？
 (A) 甲 (B) 乙 (C) 丙 (D) 丁
50. 因應政府「新南向政策」，學者針對印度提出數項論述。
 論述一：印度擁有 12 億多人口，消費市場龐大。
 論述二：65%人口不到 35 歲，勞動力充足。
 論述三：國內企業打算大量採購機器設備。
 若配合經濟活動循環圖來看，下列何項說明正確？
 (A) 論述一的消費「市場」龐大是指生產要素市場
 (B) 論述二應該是指「壹」的供應充足
 (C) 論述三顯示「參」的部分會增加
 (D) 勞動力充足可以顯示「乙」的部分也將會增加

新北市立新莊國民中學 106 學年度第 1 學期第 2 次段考 9 年級社會領域試題

解答

1	2	3	4	5	6	7	8	9	10
D	B	B	C	A	C	D	D	C	A
11	12	13	14	15	16	17	18	19	20
A	B	B	A	D	C	A	A	D	B
21	22	23	24	25	26	27	28	29	30
C	D	A	B	C	B	C	C	A	B
31	32	33	34	35	36	37	38	39	40
D	A	D	B	A	D	D	C	C	A
41	42	43	44	45	46	47	48	49	50
C	B	D	B	D	A	B	A	D	C