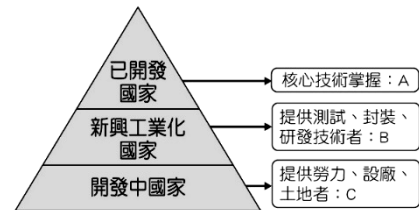


新北市立新莊國民中學 109 學年度第 2 學期第 2 次段考 9 年級社會領域試題卷

- ※ 選擇題：本試卷共 50 題，每題 2 分，總分為 100 分。
 每一題均為單選題，請選出最適當答案。
 ※ 請用 2B 鉛筆在答案卡上相應的位置畫記。

- 「世界是平的」這本書中提到美國人將報稅、X 光片判讀、投資分析、文書處理、新聞稿撰寫、電話服務中心、建築設計電腦繪圖等服務外包給印度。此種現象的形成與下列何種交通革新關係最密切？
 (A)飛機 (B)輪船 (C)火車 (D)網際網路
- 地理老師指定撰寫主題為『全球化』的畢業作業，以下是學生設定的報告主題。請問：哪個報告主題最可能因為離題而必須修正題目？
 (A)新冠肺炎疫情蔓延全球各地，導致各國經濟面臨挑戰
 (B)緬甸軍人政變，引起當地民眾大規模遊行抗議
 (C)南韓積極發展影視產業，導致全球吹起一股『韓流』
 (D)台灣因外籍勞工人數攀升，積極開辦相關適應課程
- 某新聞報導指出新冠肺炎疫情引發的『大封鎖』，導致這兩年超過 9 兆美元的 GDP 損失，造成 1930 年代『經濟大蕭條』之後最嚴重的經濟衰退，此規模遠超過 2008 年金融海嘯，不論是已開發經濟體、新興市場或開發中經濟體無一倖免。目前已有 90 多個國家向□□申請紓困，因應日漸沉重的公衛負擔、遭重創的觀光業營收與原物料出口，迦納、塞內加爾、突尼西亞、阿爾巴尼亞等國都已拿到緊急貸款。請問：上文中提及的□□最可能為下列何者？
 (A)世界貿易組織 (B)國際貨幣基金
 (C)世界衛生組織 (D)亞太經濟合作會議
- 隨著全球化的快速發展，『反全球化』的聲浪也逐漸形成，來自各國的反全球化人士透過聯合國、工會、環保組織等，提出了種種全球化帶來的難題與困境。請問：下列何項論述最可能是他們提出的觀點？
 (A)國際移工增加，生產成本提高
 (B)國際分工普及，貧富差距擴大
 (C)跨國企業增加，技術外流嚴重
 (D)已開發國家污染較開發中國家嚴重
- 右圖是歐洲空中巴士飛機的零件供應地示意圖，圖中的訊息最適合表達下列哪種概念？
 (A)工業化 (B)文化擴散
 (C)交通革新 (D)國際分工
- 全球化的發展趨勢下，跨國勞工的移動較過去普遍，由右圖的資料判斷，哪一國家最可能是外籍勞工主要的移入國？
 (A)甲 (B)乙
 (C)丙 (D)丁
- 「美國加州矽谷與印度的時差約在 10~13 小時。因時差的關係，兩地日夜互換，因此，美國的軟體公司接下訂單時，可在公司下班前，將設計工作交由遠在印度的分公司著手進行；而印度分公司於下班前，再將設計成果傳回美國公司，如此往返進行，便可在較少的工作天，完成產品的研發設計。」請問：由上述可知，美國軟體公司選擇在印度設立分公司的原因，最有可能的原因是下列何者？
 (A)緯度差距較大 (B)緯度位置相近
 (C)經度差距較大 (D)經度位置相近

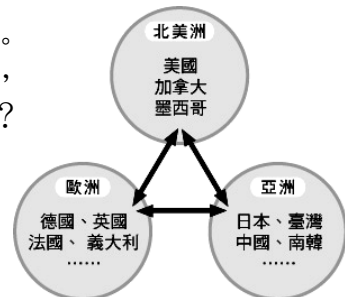
- 班級 座號 姓名
- 右圖是地理老師在解釋國際分工概念時所使用輔助說明的圖示。下列哪個國家或地區與圖中的「A」最相符？
 (A)美國 (B)印度 (C)巴西 (D)埃及



- 經濟全球化有許多正面的效益，除了經濟效益的提升，更有人力的國際流動與文化的融合，請問下列敘述何者最為正確？
 (A)開發中國家透過國際分工降低生產成本
 (B)印度高技術人才追求高薪至美國科技園區就業
 (C)北京故宮內的連鎖咖啡店因反美浪潮抗議而遷出
 (D)已開發國家藉由產業代工提升經濟發展
- 經濟全球化、自由化下，全球經濟與就業機會重組，新興國家快速崛起，加速融入全球經貿體系，但貧富差距卻加速擴大，對經濟、政治和社會等層面均產生負面衝擊。請問下列何者最有可能是各國之間「貧富差距擴大」的主因？
 (A)已開發國家在全球化過程中握有核心技術和資金
 (B)全球金融市場開發，各國金融商品流通頻繁
 (C)世界各地商品進入各國市場衍生文化衝突
 (D)中國為全球企業代工時，造成嚴重的水污染
- 下表是 2019 年某個區域性經濟組織的人均 GDP 排名前五名的國家，以及該組織平均值與世界平均值的資料表。根據數據最有可能為下列何者？

排序	國家代號	人均 GDP(美元)
1	甲	113196
2	乙	83716
3	丙	81151
4	丁	77975
5	戊	77771
該組織平均		34806
世界平均		11856

- (A)歐洲聯盟 (B)東南亞國家聯盟
 (C)北美自由貿易區 (D)亞太經濟合作會議
- 根據國際期刊『經濟學人』預測，到西元 2018 年，墨西哥可能取代中國成為美國第一大進口來源國；「墨西哥製造」即將取代「中國製造」。下列何者最有可能是墨西哥製造業快速成長的主因？
 (A)勞工數量較中國眾多 (B)天然資源豐富
 (C)簽署美墨加協定 (D)勞工薪資較中國便宜
 - 全球化所造成的利弊得失，是一個複雜的問題，然而卻是流行之所趨。二十世紀相繼出現許多地區性、全球性的統合組織，請判斷下列組織中，何者的會員國數量最多，影響範圍最廣？
 (A) EU (B) WTO (C) ASEAN (D) APEC
 - 右圖為全球三大版圖的劃分資料。請問：該三大版圖的形成與劃分，最可能是以下列何者為主要因素？
 (A)政治制度 (B)語言文化
 (C)宗教信仰 (D)經濟合作
 - 為維持全球性經濟活動的順利運作，因此許多相關組織紛紛成立。其中下列哪一個即為全球性的經濟組織？
 (A)東南亞國協 (B)亞太經濟合作會議
 (C)國際貨幣基金 (D)歐盟



背面尚有試題

新北市立新莊國民中學 109 學年度第 2 學期第 2 次段考 9 年級社會領域試題卷

- 班級 _____ 座號 _____ 姓名 _____
16. 建民於暑假期間展開一個月的紐西蘭自助旅行，第一站抵達首都威靈頓，當他走進一家購物中心的 Nike 鞋店時，發現背景音樂不是美國流行樂，而是當地傳統的毛利人音樂。由上文可知，經濟全球化對當地帶來何種影響？
(A)貧富差距逐漸擴大 (B)金融風暴襲捲全球
(C)文化擴散與調整 (D)環境生態的衝擊
17. 今年 3 月 11 日是日本 311 大地震 10 周年，當時台灣對日本震災的援助，至少捐助 200 億元日圓，約新台幣 68 億，超過有捐款的其他 93 個國家總額，居世界第一，讓日本人相當感念。請問：上述提及哪一類型的國際互動？
(A)國際合作 (B)國際交流 (C)國際援助 (D)國際衝突
18. (甲)組織與法國當地民間組織，針對政府在氣候問題上毫無作為，無法達到《巴黎氣候協定》目標，於 2019 年把政府告上法庭，今年 2 月初，案件終獲裁決：法國政府被判定未對氣候危機採取行動因而違法！這象徵著氣候正義的歷史性勝利，案件廣受關注，獲 230 萬人連署支持，更印證公眾力量的威力。請問：上述(甲)組織最有可能為以下何者？
(A)國際特赦組織 (B)國際綠色和平組織
(C)國際世界展望會 (D)國際紅十字會
19. 核武在 1945 年第一次被使用，造成毀滅性的破壞，從此就被視為人道精神與世界末日的威脅。所幸在今年 1 月 22 日，經過 122 國支持通過，並有 50 個國家批准之下，《禁止核武器條約》正式生效！該條約是第一個將核武器定性為非人道且違法的國際條約。《禁止核武器條約》並非只是個象徵性的條約，而是將連帶制定許多禁令，包括製造、持有、使用、運送、威脅使用等。請問：根據文意判斷，《禁止核武器條約》生效，對國際社會有何影響？
(A)達成禁止使用核子武器的共識
(B)能有效打擊恐怖組織的攻擊
(C)喚醒各國對環境議題的重視
(D)最終目標在裁減核武、促使核能和平使用
20. 報載：有鑑於台灣防疫能力有目共睹，不少國家都曾發聲力挺我國參與□□組織，而與我方關係密切的美國，在新總統拜登上任後，是否有望力促台灣成為會員國，也備受外界關注。請判斷新聞報導中□□空格處，指的是哪一個國際組織？
(A)東南亞國協 (B)國際反地雷組織
(C)世界衛生組織 (D)聯合國
21. 承上題，上述國際組織的標誌為下列何者？
(A)  (B) 
(C)  (D) 
22. 聖聖聽表演藝術老師在課堂上分享一則演藝訊息：「夢幻不夜城！美國拉斯維加斯歌舞秀在今年 4 月登上台北小巨蛋演出，帶領觀眾感受拉斯維加斯炫目的城市風貌。透過精彩豐富表演元素，呈現拉斯維加斯炫目城市風貌，迷人歌舞配合讓人心跳加快的特技演出，打造視覺饗宴。」請問：上述訊息內容主要在呈現哪一類型的國際互動？
(A)國際合作 (B)國際交流 (C)國際援助 (D)國際衝突
23. 美國、日本、印度與澳洲的四方安全對話（QUAD）峰會於 3 月登場，藉此應對中國日漸增長的軍事及經濟實力。報導指出，四方領袖峰會顯示美國對印度太平洋地區的盟友及合作夥伴的重視，峰會中討論一系列國際問題，包括疫情威脅、經濟合作以及氣候危機等議題。而會中也決定日美澳投資印度的疫苗生產，目標是 2022 年在亞洲生產 10 億劑疫苗，主要輸出至東南亞國家，希望能藉此應對中國逐漸擴大的「疫苗外交」。美方也表示，目前華府的目標是將 QUAD 組織正式化，讓美國、印度、澳洲與日本的合作更加緊密，性質將會更接近北大西洋公約組織。請問：根據文中所述，四方領袖峰會屬於哪一種類型的國際互動？
(A)國際合作 (B)國際交流 (C)國際援助 (D)國際衝突
24. 承上題，請問：QUAD 組織正式化後，依照國際組織性質分類，與下列何者不同？
(A)世界衛生組織 (B)歐洲聯盟
(C)東南亞國協 (D)國際反地雷組織
25. 無國界醫生是一個獨立的國際醫療人道救援組織，致力為受流行病和傳染病、武裝衝突或天災影響，以及被醫療體系排拒者提供緊急醫療援助。請問：關於無國界醫生敘述，下列何者有誤？
(A)在國際間扮演關懷人權的角色
(B)是由公民組成的志願性團體
(C)屬於區域性的非政府組織
(D)援救受戰亂影響的難民
26. 美國參、眾議員提出《台灣學人法案》，要求政府編列預算，提供兩年獎學金，派遣聯邦政府官員以學者身分來台就學，學習中文、了解台灣文化並強化對台灣的了解，藉此強化與台灣的戰略夥伴關係，以助美國在印度太平洋地區的整體戰略規劃與布局。請問：上述主要是屬於哪一種類型的國際互動？
(A)國際合作 (B)國際交流 (C)國際援助 (D)國際衝突
27. 全球暖化導致北冰洋冰雪融化，擴大北極的航路，但也給周邊國家帶來新的國安隱憂，美國和俄羅斯的核戰略轟炸機頻頻出現在北冰洋挪威海上空，再次引發是否會重現冷戰時期美俄在北極進行軍備競賽的擔憂，但現在中國也加入了這一場新冷戰，除了派遣破冰船去北冰洋，還在冰島和挪威建立了科學研究基地，因此為了防禦中俄，美國也加強了在北極的軍事部署。請問：上述內容主要在說明？
(A)國際組織在經濟統合的角色
(B)NGO 參與國際事務的重要性
(C)透過國際合作來化解軍事衝突
(D)軍備競賽對國際安全帶來的威脅
28. 日本政府透過(甲)國際紅十字會、(乙)聯合國世界糧食計畫署提供 20.9 億日圓，對緬甸的羅興亞難民提供醫療、水及糧食等人道救援。此外日本也要求緬甸軍政府停止對示威者施以暴力鎮壓，以及恢復民主政體。而美國、歐盟、聯合國安理會也陸續對緬甸軍政府施壓，呼籲停止血腥鎮壓抗議者的行為。請問：根據文意內容判斷，下列敘述何者有誤？
(A)日本善盡國際責任，對難民進行國際援助行動
(B)國際組織共同合作進行人道救援
(C)國際衝突威脅區域的和平發展
(D)國際社會為了維護世界和平而努力
29. 承上題，關於(甲)國際紅十字會與(乙)聯合國世界糧食計畫署的敘述，下列何者正確？
(A)甲屬於非政府的組織、乙為政府的組織
(B)甲、乙皆須以主權國家身份申請加入
(C)甲、乙成員限定於特地區域
(D)我國目前正極力爭取成為甲、乙組織的會員國

請繼續作答下張試卷

新北市立新莊國民中學 109 學年度第 2 學期第 2 次段考 9 年級社會領域試題卷

30. 某國際組織在 2020 年網頁公布人權報告指出：「2019 年對亞洲而言是壓迫的一年，但同時也是反抗的一年。亞太區域的政府嘗試剷除人們基本的自由，人們也進行反擊——年輕人正處於這場奮鬥的最前線。」請問：就內容判斷，這份報告最有可能是哪一個國際組織所公布的資訊？
- (A)國際特赦組織 (B)國際綠色和平組織
(C)國際紅十字會 (D)國際世界展望會

31. 中華人民共和國於 1971 年取代我國進入聯合國後，我國在國際社會的政治地位受到中國大陸壓制。不過，我國仍以務實外交方式，在政府與民間團體努力下，積極參與國際事務、拓展國際生存空間。請問：下列對於我國參與國際事務的現況，何者正確？
- (A)民國 80 年以中華台北的名義加入 WTO
(B)民國 91 年以台澎金馬個別關稅領域加入 APEC
(C)民國 98 年以中華台北的名稱出席 WHA
(D)我國獲邀加入國際合作發展基金會，協助友邦提升醫療水準

32. 下表為進藤光自己製作的公民筆記，請依表格資料判斷，下列何者完全正確？

性質	官方	非官方
分布區域		
區域性	甲	丙
全球性	乙	丁

- (A)甲、國際刑警組織：促進各國預防和打擊刑事犯罪方面的合作
(B)乙、聯合國：全球最大的人權組織，致力於維持世界和平
(C)丙、國際綠色和平組織：阻止汙染、保護生物多樣性
(D)丁、國際奧林匹克委員會：鼓勵發展世界體育運動和體育競賽
33. 國際組織的成立是為了實現共同目標與利益。下列有關各國國際組織的資料，下列選項何者完全正確？

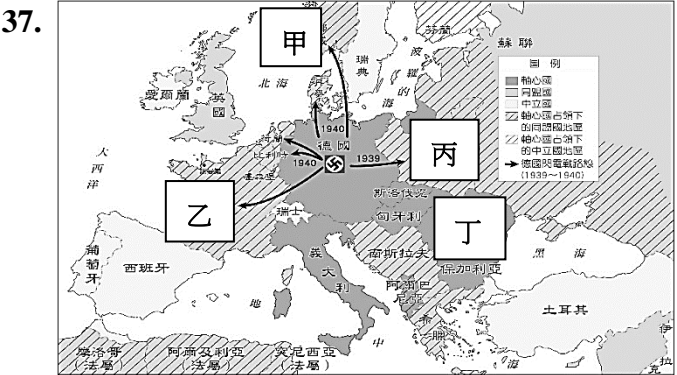
選項	名稱	英文縮寫	功能特點	性質
(A)	東南亞國協	ASEAN	促進亞洲地區國家經濟、文化合作	官方
(B)	亞太經濟合作會議	APEC	增進會員國的對話與協商，帶動經濟成長	非官方
(C)	歐洲聯盟	EU	目前最強大的區域性國際組織	官方
(D)	國際反地雷組織	ICPO	致力於消滅地雷的製造和使用	非官方

34. 1919 年 1 月底，大韓帝國高宗突然暴斃，引發朝鮮半島人民群情激憤，認為高宗是被日本人所殺害；當時宗教界領袖孫秉熙與工商界起草一份《獨立宣言》要求國際社會給與韓國獨立，並決定在塔洞公園公開宣讀，要把國葬變成反日大示威，可惜最後還是被日本血腥鎮壓，有近五萬多人被捕。請問這是朝鮮進行哪一項抗日行動？
- (A)不合作運動 (B)三一運動 (C)二月革命 (D)啟蒙運動

35. 請問以下歷史人物的言論配對，哪一項正確？
- (A)史達林：「我將解放婦女、廢除政教合一，進行改革」
(B)希特勒：「我決定推行計畫經濟，以國防建設為主！」
(C)凱末爾：「我提倡非暴力的不合作運動，一起抵制英貨！」
(D)墨索里尼：「我反共，並且主張恢復古羅馬光榮！」

班級 _____ 座號 _____ 姓名 _____

36. 他（右圖）實踐非暴力的和平方式，讓印度最終脫離英國殖民獲得獨立，同時更鼓舞世界上許多國家的人民，勇敢爭取自身公民權利。聯合國於 2007 年通過決議，以他的生日 10 月 2 日訂為「國際非暴力日」，目的希望各國反對任何的暴力行為。請問，他是指下列何者？
- (A)甘地 (B)凱末爾 (C)史達林 (D)威爾遜

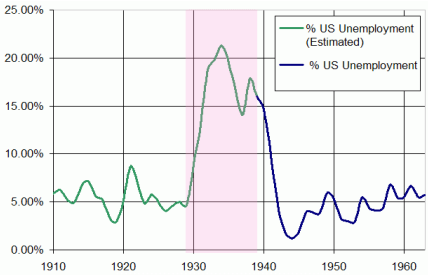


37. 上圖是第二次世界大戰期間形勢圖。二戰是指 1939-1945 所爆發的全球軍事衝突，戰場擴及全球大多數國家，是人類歷史上死傷人數最多的戰爭，並改變了世界局勢，使得歐洲殖民強權帝國衰落。請問引發第二次世界大戰歐洲戰場起因是因為德國入侵上圖哪一個國家？
- (A)甲 (B)乙 (C)丙 (D)丁

38. 「真假公主—安娜塔西亞」是美國二十世紀福斯製片公司所製作一部動畫音樂電影，內容描述俄羅斯羅曼諾夫王朝末代沙皇的小公主安娜塔西亞，她從俄國共產黨手中逃出，但是卻喪失原有記憶，經歷一番波折終於找到親奶奶。此部電影情節的背景其實是 1917 年，俄國人民因為國家政治腐敗、經濟落後，故推翻當時沙皇尼古拉二世專制統治，建立新共和臨時政府的哪一項革命？
- (A)民主革命 (B)十月革命 (C)二月革命 (D)辛亥革命



【第 39 至 40 題為題組】

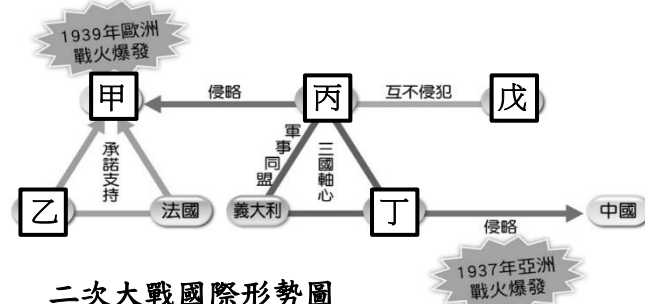


美國失業率

39. 上圖是 1930 年代美國的孩子們舉著抗議、懇求標語，希望自己的父親能有一份工作，讓家人可以三餐溫飽。只是飆高的失業率，加上許多銀行又如骨牌式倒閉的情況下，連小小孩都得上街頭為自己的父親找工作。請問：造成上述情況是與下列何者有關？
- (甲)因為股價飆漲，投資民眾人心惶惶競相投資股票
(乙)當時美國提高關稅保護國內產業，引起各國仿效
(丙)一戰後，歐洲各國不願意接受美國經濟上的幫助
(丁)英國經濟學家凱因斯的理論被用來解決當時問題
- (A)甲乙 (B)乙丁 (C)乙丙 (D)甲丁
40. 承上題。請問，當時是下列哪一位總統就職後，以政府力量開始推動新政「The New Deal」：3R「Reform、Recovery、Relief」（改革、復興、救濟），並於固定時間用廣播發表「爐邊談話」安定民心，帶領美國經濟逐漸復甦，讓人民逐漸重回正常生活？
- (A)羅斯福 (B)歐巴馬 (C)威爾遜 (D)杜魯門

背面尚有試題

【第 46 至 47 題為題組】



41. 保存並展示逝者遺體的風俗，是源自古埃及法老對永生的夢想，只要軀殼一直保存完好，就可以一直使用；東正教沿襲此風俗用水晶棺保存聖人遺體。在列寧（右圖右一）逝世後，就是以此形式安放於莫斯科紅場中央的克里姆林宮牆附近，由紅色花崗岩和黑色大理石建成。並成為社會主義國家領導人以水晶棺保存遺體的習俗。如今，逝者已遠離，但是他們所遺留的思想，卻影響世界局勢至今。請問關於列寧的敘述，下列何者為非？
- (A)將俄國國號改為「蘇維埃社會主義共和國聯邦」
- (B)成立「共產國際」—策畫世界共產主義主要機構
- (C)領導布爾什維克黨發動十月革命
- (D)曾發動二月革命推翻俄國共和臨時政府

42. 《邪惡的見證者》蔡慶樺（天下出版，2020 年）

（頁 169-170）

1937-1938 年間，史達林針對托洛斯基派分子的淨化活動，就逮捕了約一百五十萬人，其中七十萬人後來被處死。蘇聯官方文件稱此事件為「淨化」。此外，早在列寧掌權時，針對宗教勢力的排除行動，也被稱為淨化。德國納粹也使用這個概念。在語言學者比爾肯豪爾與布拉克曼合著的《納粹德語字典》中，就這樣敘述「淨化」：「以暴力將猶太裔及其他政治上不受欢迎者，從某個特定的區域排除出去。」

（頁 172-173）

「解決」在日常德語裡通常與某種棘手難題搭配，但納粹以這個字成功地宣傳了「必須解決猶太人這個問題」，也讓民眾接受猶太人對德國來說是一個問題的概念；並且以中立語氣，敘述這個披上解決外衣的屠殺方案。

上述書中內容是指德國一狂人所領導的納粹黨實施種族滅絕政策，請問關於此狂人的敘述下列哪一項錯誤？

- (A)他掌權後積極從事經濟建設，獲得人民支持
- (B)1933 年，他取得政權，集黨政軍大權一身
- (C)他支持共產主義，並主張撕毀凡爾賽條約
- (D)二戰前英、法等國的「姑息政策」就是為了安撫他
43. 1940-1945 年間，在右圖的奧斯威辛（波蘭）集中營裡，被納粹殘害者多達 150 多萬人，其中猶太人就占了 100 多萬人，在二戰期間，被納粹種族滅絕政策殺害的猶太人更是超過 600 萬人。如今此地已被聯合國教科文組織指定為世界文化遺產，希望世界各地的人們在面對過去慘痛歷史時，也能記取教訓，學會尊重包容不同族群。請問當時剝奪猶太人基本人權的是下列哪一位？
- (A)史達林 (B)希特勒 (C)列寧 (D)墨索里尼



44. 在兩次世界大戰之間的戰間期，有些國家因為經濟陷入困境，使得一戰後人民希望有強勢的領導人出現，於是促使極權政治興起。請問，下列哪一項不是在戰間期中所出現的極權政權？
- (A)德國—納粹政權 (B)義大利—法西斯政權
- (C)日本—幕府政權 (D)蘇聯—共產政權

45. 兩次世界大戰戰後都有國際組織出現，請問兩個國際組織的比較下列哪一項錯誤？

	國際聯盟	聯合國
(A)發起人	杜魯門	威爾遜
(B)時間	1920 一戰之後	1945 二戰之後
(C)發起主旨	維護世界和平	維護世界和平
(D)評價	發起國—美國沒有加入；缺乏武力，無法制裁侵略	安理會可要求成員提供武力制裁侵略國家

46. 上圖，三國軸心由丙、丁、義大利組成，希望消滅共產主義，讓全世界跟著其首都軸心轉動。丁國自清末開始不斷侵略中國，即使中華民國北伐順利完成，他們更加速侵略腳步，在中國不斷製造事端；請問，1937 年亞洲戰場爆發，揭開中國八年抗戰序幕是指哪一事件？
- (A)一二八事變 (B)九一八事變
- (C)西安事變 (D)七七事變

47. 二戰時丙國先讓戊國不要介入戰爭，所以簽訂條約（①）；戰爭最後同盟國又希望戊國參戰協助解決亞洲戰事，簽訂對丁國宣戰條約（②），犧牲中國權益。請問下列哪一組選項正確？
- (A) ①《雅爾達密約》、②《巴黎和約》
- (B) ①《慕尼黑協定》、②《開羅宣言》
- (C) ①《德蘇互不侵犯條約》、②《凡爾賽條約》
- (D) ①《德蘇互不侵犯條約》、②《雅爾達密約》

48. 1941 年 12 月 7 日早晨，大日本帝國海軍對美國海軍基地進行偷襲。日本此次先戰後宣的行動，引起美國民眾憤怒不已，當時美國總統富蘭克林·羅斯福發表著名的《國恥演說》，聲稱 12 月 7 日是美國活在恥辱中的一日，全國由原本的孤立主義，轉而支持參戰。請問日本是偷襲美國哪一個海軍基地？
- (A)日本—橫須賀 (B)夏威夷—珍珠港
- (C)維吉尼亞州—諾福克 (D)西班牙—羅塔

49. 1939 年德國科學家順利運用中子分裂鈾原子，預告世界將有巨大毀滅性武器出現；當時美國總統羅斯福下令進行「曼哈頓計畫」，利用核裂變的原理製造原子武器，最終在 1945 年 7 月中旬第一顆原子彈在墨西哥沙漠試爆成功。由於日本不理會盟軍警示，美國總統杜魯門決定使用原子彈，在 8 月 6 日（代號—小男孩）、9 日（代號—胖子）分別在日本哪兩地投下，終於結束第二次世界大戰？
- (A)廣島（Hiroshima）、長崎（Nagasaki）
- (B)東京（Tokyo）、橫濱（Yokohama）
- (C)廣島（Hiroshima）、東京（Tokyo）
- (D)長崎（Nagasaki）、大阪（Osaka）

50. 關於第二次世界大戰的史事，請問下列哪一位同學敘述才是正確的？
- (A)柯南：「軸心國投降的順序是德國→日本→義大利」
- (B)小蘭：「1945 年 2 月，中美英召開雅爾達會議，影響戰後世界局勢發展深遠」
- (C)步美：「主要兩大陣營分別為同盟國與軸心國」
- (D)元太：「英、法兩國決議對日本投下原子彈，結束第二次世界大戰」

試題結束

新北市立新莊國民中學 109 學年度第 2 學期第 2 次段考 9 年級社會領域試題
解答

1	2	3	4	5	6	7	8	9	10
D	B	B	B	D	D	C	A	B	A
11	12	13	14	15	16	17	18	19	20
A	C	B	D	C	C	C	B	A	C
21	22	23	24	25	26	27	28	29	30
A	B	A	D	C	B	D	C	A	A
31	32	33	34	35	36	37	38	39	40
C	D	C	B	D	A	C	C	B	A
41	42	43	44	45	46	47	48	49	50
D	C	B	C.D	A	D	D	B	A	C