

※ 選擇題：本試卷共 50 題，每題 2 分，總分為 100 分。
每一題均為單選題，請選出最適當答案。
※ 請用 2B 鉛筆在答案卡上相應的位置畫記。

- 臺灣鮮奶品牌眾多，但因生產成本高，鮮奶平均售價是世界第二貴。請問：臺灣生產鮮奶的業者除了透過品質保證創立品牌來提高附加價值外，還可以結合哪一產業發展休閒農業以增加收入？
(A) 農業 (B) 酪農業 (C) 觀光業 (D) 欄牧業
- 臺灣毛豆業者以嚴格的品質管理，保留毛豆新鮮口感，高價售往日本；臺灣養蠅養殖廠業者突破傳統技術限制，成功培養大和黑蠅，並外銷日本市場。請問：依上述，臺灣第一級產業具有下列哪項發展特徵？
(A) 經營集約農業 (B) 提高附加價值 (C) 改以機械生產 (D) 實踐有機農業
- 1901 年的美國雜誌有一幅漫畫呈現：大廚手上的大托盤放著各種農產品，牆上並掛著『若你找不到想要的東西，我們可以提供』的標語，餐廳裡來自各國的客人拿著「美國菜單」渴求美國的農畜產品。請問：上述的美國農業與下列何種經營策略最為接近？
(A) 農業精緻化 (B) 農業分工化 (C) 農業科技化 (D) 農業商品化
- 請問：有關臺灣「紡織廠」與「新竹科學園區」兩者在工業區位條件的考量比較，下列何者最正確？
(A) 兩者皆因臺灣薪資上漲，轉而外移至工資便宜的國家
(B) 兩者皆需要廣大的土地建設廠房，須找地租便宜地方
(C) 前者考量交通便利以利出口；後者考量工業原料附近
(D) 前者側重大量的體力勞動；後者側重專業的技術人才
- 附圖為民國 80 年代某產業老闆決定將生產基地從臺灣遷往越南，並在當地招募大量勞工。請問：若從「產業結構與成本控制」的角度分析，該老闆最主要考量的因素與下列何者最相符？



- 透過降低人力成本支出，維持產業競爭力
(B) 越南盛產製鞋的皮革原料，降低生產成本
(C) 拓展海外市場，宣傳 made in Taiwan 品牌
(D) 我國越籍新住民增加，有利雙方貿易交流
- 依臺灣工業的發展演變過程，請問：下列各產品成為不同工業發展時期的主要項目的先後順序為何？



- 甲、乙、丙、丁、
- 石斑魚屬於高經濟價值的魚種，1980 年代臺灣以人工繁殖石斑魚成功後，今已發展成世界第二大石斑魚生產國，養殖區主要分布在嘉義到屏東一帶。請問：下列對於臺灣石斑養殖區的特徵描述何者最正確？
(A) 海灘寬廣平淺 (B) 沿岸多岬灣
(C) 屬近海漁業 (D) 珊瑚礁帶來魚群

- 因為交通便捷，各國間貿易往來增加，臺灣的貿易伙伴遍及各大洲。從貿易總額高低，可顯示雙方貿易互動關係，貿易總額越高，關係越緊密，反之亦然。附表為臺灣主要的經貿夥伴及其進、出口貿易值(億美元)。請問：依附表，下列描述何者最正確？

	中國 (含香港)	美國	東南亞 國家	日本	歐盟	韓國
出口	1,506	1,114	878	258	335	208
進口	806	464	493	465	353	437

- (A) 與中國進出口貿易總額最高，呈現入超
(B) 與臺灣互動密切的夥伴來自亞洲較多
(C) 赴日、韓遊客增加，與日韓貿易出超
(D) 臺灣與主要經貿夥伴多呈現進出平衡
- 臺灣第一級產業面臨「人口老化」、「勞力不足」與「競爭力」的問題。請問：下列哪一項轉型策略最能提升附加價值並解決勞力缺口？
(A) 擴大生產規模，回歸傳統的人力密集耕作方式
(B) 政府補助農地改建工業區，創造更多就業機會
(C) 退出世界貿易組織，杜絕進口國外廉價農產品
(D) 研發高品質品種，引進智慧感應與機械化採收
- 臺灣科技產業在全球產業分工占有一席之地，早期以產品代工和技術研發為主，近年企業更朝向自創「品牌」努力。請問：下列哪個品牌非臺灣科技工業企業？
(A) 捷安特 (B) 台積電 (C) 華碩電腦 (D) 趨勢科技
- 獲得兩次金鐘獎並多次入圍的實力派演員吳慷仁，對各種角色的詮釋都惟妙惟肖演什麼像的，這與他擁有近 40 份的打工經歷有關，曾做過水電箱焊接工、工地的臨時粗工、餐廳服務生、調酒師、擺地攤、超市打工仔等，使他對於角色刻畫更細膩。請問：上述吳慷仁的打工經驗中，他從事哪一種產業的比例較高？
(A) 第一級產業 (B) 第二級產業
(C) 第三級產業 (D) 第四級產業
- 附圖為臺灣青農與美國青農的對話，請問：圖中提到的臺灣農業發展的限制應為下列何者？



- (A) 氣候嚴寒 (B) 山多平原少
(C) 地震頻繁 (D) 土壤貧脊
- 近年寵物食品商機不容小覷，「汪貓星球」靠製造、生產、行銷一條龍的經營模式，創業 8 年後成為臺灣寵物濕食品牌龍頭。其魚罐頭的上游食材供應商為旭海安溯水產是臺灣漁產得獎的常勝軍。請問：旭海安溯水產為了確保汪貓星球可以拿到高品質、新鮮的虱目魚加工食材，水產加工廠設廠的考量應為下列何者為優先？
(A) 交通 (B) 勞工 (C) 市場 (D) 原料
- 蔗糖從荷蘭在臺時期開始，一直都是臺灣重要的外銷商品。請問：若從甘蔗的產地研判，蔗糖從下列哪個港口出口的機率最低？
(A) 淡水 (B) 安平 (C) 打狗 (D) 鹿港

【第 15 至 16 題為題組】

隨著社會邁入高齡化，臺灣「缺工」危機已成為各級產業共同面臨的難題。

臺灣第一級產業面臨人口老化與獲利不穩的處境；臺灣第二、三級產業就業人口比例雖佔絕大多數，但基層勞動力卻嚴重不足。許多「勞力密集」的工廠已在民國 80 年代後紛紛外移至中國或東南亞，留在臺灣的傳統工/農業則積極尋求轉型或轉而高度依賴外籍移工的加入。

近期政府增加與印度簽署合作備忘錄 (MOU) 寄望補足各產業基層的人力缺口，維持臺灣社會與經濟的正常運作。

15. 請問：根據上文，下列何者對臺灣的產業現況推論最適切？

- (A) 第一級產業產值比例最高，急需外籍勞力投入
- (B) 臺灣是工商業發達社會，勞務型勞工供不應求
- (C) 就業人口多在二、三級產業故其沒有缺工需求
- (D) 開放移工是為了取代國內高科技產業研發人才

16. 請問：上文中，工廠選擇「留在臺灣或聘用移工」而非「遷往海外」，其考量因素最有可能為下列何者？

- (A) 與移工母國建交後，進口享關稅優惠
- (B) 產品以國內市場為主，減少運輸次數
- (C) 靠既有設備、技術基礎，推產業升級
- (D) 工廠用電需求大，國內提供便宜電價

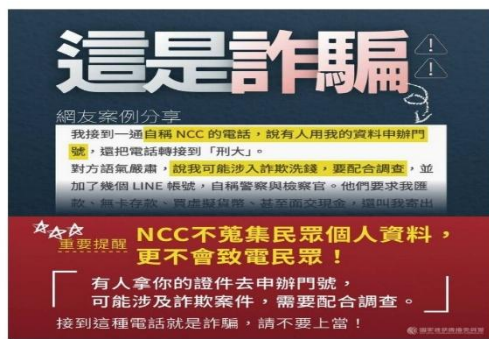
17. 從下圖「中華電信工會」的活動判斷，下列敘述何者最為正確？



- (A) 走上街頭抗爭為《憲法》保障的結社自由，應受到尊重
- (B) 工會為爭取勞工的權益而進行的抗爭活動
- (C) 基金會為促進公共利益而舉辦的活動
- (D) 志願團體向政府爭取參政的權益

18. 右圖為 NCC 的宣導圖片，請問：下列有關於 NCC 的敘述何者正確？

- (A) 媒體言論自由皆須經 NCC 審查
- (B) 為一有共同目標的志願結社團體
- (C) 公權力機關，得以裁罰未經查證義務以致損害公益的媒體
- (D) 得以調查、偵辦手機詐騙案件



19. 從下表團體的行動判斷，下列何項說法最為正確？

團體	行動
民間司法改革基金會	推動「國民法官制度」改革
下一代人本交通促進會	推動改善行人地獄、交通法規的修正
台灣少年權益與福利促進聯盟	關注校園霸凌問題、推動《兒童及少年福利與權益保障法》之修正
台灣動物社會研究會	推動《動物保護法》的修正

- (A) 影響與監督政府施政
- (B) 集結資源爭取團體權益
- (C) 減少政府政策的影響力
- (D) 降低民眾參與公共事務的意願

20. 承上題，上面團體的功能與組成目的與下列何者最為接近？

- (A) 原住民族委員會
- (B) 紐約台灣同鄉會
- (C) 外送人員職業工會
- (D) 綠色公民行動聯盟

21. 小如除了參加(甲)台灣鐵路工會和(乙)台灣山岳協會的活動外，也擔任「社區發展協會」的(丙)社區巡守隊志工，有看見(丁)伊甸社會福利基金會的義賣，也會花錢購買。請問：下列關於團體敘述何者正確？

- (A) (甲) 為提升服務顧客品質而成立的團體
- (B) (乙) 為非志願結社團體，實現理想和目標
- (C) (丙) 兼顧情感需求及完成共同目標
- (D) (丁) 透過義賣自籌經費，為營利性團體

22. 每天打開 IG、YOUTUBE、Threads... 等社群網站平台，開心接受想要的訊息，觀看喜愛瀏覽的影片，深陷在自己打造的舒適圈。社群媒體讓人與人之間可以透過網路迅速、即時的遠端連結，造成「同溫層」現象。透過演算法，讓相似的言論不斷在自己視線內出沒，並認定該觀點即為多數民意而陷入偏誤。請問：根據上述，下列何種認知或態度較為適當？

- (A) 自媒體較傳統電視、報紙更為客觀、公正
- (B) 選擇和支持與自己立場一致的媒體
- (C) 越多人分享的內容，可信度越高
- (D) 接觸多元媒體不同觀點，進行反思批判

23. 新北市警察局今年度首波掃黑專案，總計掃蕩黑幫 20 件 85 人，緝獲槍枝、本票、借據、現金等證物，其中「威震集團」分子涉嫌強取藥局「犀利士」、「猛健樂」大批藥品轉賣牟利，警詢後依法送辦。請問：下列敘述何者正確？

- (A) 人民有結社自由不應受到任何限制，只應處罰犯罪行為
- (B) 警察是依《組織犯罪防制條例》將幫派份子送辦
- (C) 依《憲法》不得成立幫派組織
- (D) 戒嚴後出現大量影響社會秩序、侵害他人權利的組織

24. 「台灣動物緊急救援小組」是由創辦人倪兆成先生在民國 84 年成立，是全國第一個仿效歐美專為傷病受虐無主的流浪動物提供緊急救援與醫療服務的民間組織。近年來其行動受到大眾肯定，越來越多支持者加入捐款行列並實際投身動物救援任務。民國 96 年依法正式成立「台灣動物緊急救援推廣協會」除救援外，更致力推動生命教育，讓台灣流浪貓狗有更美好的明天。請問：根據上面敘述，下列何者有誤？

- (A) 創辦人倪兆成先生是基於情感需求而成立該團體
- (B) 由一群支持動物救援的老百姓組成，為志願結社的「民間性」
- (C) 創辦人倪兆成先生發揮個人的影響力增進社會公共利益
- (D) 人民由下而上建構公民社會，參與公共事務

25. 下列何項新聞報導具有特定立場，恐加深偏見？

新聞一	又見疑似精神病患，隨機砍傷路人
新聞二	身體質量指數 (BMI) 大於 30 者，經研究將增加罹患糖尿病等慢性病風險
新聞三	父母可約定子女姓氏，經調查九成子女仍從父姓為主
新聞四	國際移工缺錢時容易犯罪，失聯移工恐成治安問題

- (A) 新聞一、新聞二
- (B) 新聞一、新聞三
- (C) 新聞一、新聞四
- (D) 新聞三、新聞四

請繼續作答下一張試卷

26. 關於「公共政策網路參與平台」的說明，下列何者正確？

公共政策網路參與平台

◎實施要點：

1. 就我國公共政策提供創意見解或政策建言，透過附議過程，形成共識。提供機關研訂重大政策、法規草案。
2. 提議於 60 日內完成 5000 份附議，始能成案，權責機關應依規定在 2 個月內進行回應。
3. 提議者及附議者資格為我國國籍及持有居留證者，透過手機號碼等相關資料進行認證。

◎近期提議成案者：建立「兒童工作證」制度、加重虐待動物刑責，嚴懲冷血虐待者...

- (A) 透過網路，民眾都能提議、附議或表達自己的意見為公共意見的「影響性」
- (B) 完成附議規定成案後，權責機關應依規定在 2 個月內進行回應，為公共意見的「公開性」
- (C) 除了「公共政策網路參與平台」外，沒有其他表達公共意見的方式
- (D) 隨著資訊科技的發達，政府運用網路工具匯集民意作為參考
27. 下圖為某一段時間網路有關於「引進印度移工」的網路聲量。根據下圖，下列何項說明較為正確？



Photo Credit: TPOC台灣議題研究中心

- (A) 公共意見具有變動性，因反覆討論而形成共識
- (B) 網路聲量大代表全國多數人的意見
- (C) 公共意見的形成可能會受到社群網路的影響
- (D) 社群網路基於商業利益可能影響閱聽人
28. 勞動部針對外界關注此議題做出補充及回應：「引進與否，需兩個前提：第一、企業端對印度移工的需求；第二、印度的執行方案，能否符合我方的要求和把關。」針對勞動部的回應，這是公共意見的哪一項特性？
- (A) 公開性 (B) 差異性 (C) 影響性 (D) 變動性
29. 根據下圖，「網路正負面聲量及好感度」最能呈現公共意見的哪一項特性？
- (A) 公開性 (B) 差異性 (C) 影響性 (D) 變動性



Photo Credit: TPOC台灣議題研究中心

30. 此議題除了引發民眾熱議外，網路上也流傳下圖一張聲稱「加拿大設告示牌禁止印度人隨地便溺」的圖卡，經「台灣事實查核中心」查證，此圖片是經過變造。請問：根據上述類似狀況，身為閱聽人應有何種作為？



- (A) 善用各種工具瞭解真相
- (B) 從不同角度解讀資訊與訊息
- (C) 要求政府審查媒體發布的所有內容
- (D) 拒絕觀看媒體報導，避免受到特定立場影響

31. 「台灣事實查核中心」為新北市台灣事實查核教育基金會成立，依循專業、透明、公正的原則，執行公共事務相關訊息之事實查核。期能抑制不實資訊的負面影響，提升公眾的資訊素養，裨益台灣的民主發展。下面為該網站的資訊，可呈現出志願結社的哪兩種特徵？

看見真實，才能打造美好的台灣！

線上捐款 公開徵信

\$200 \$300 \$500

捐款支持

```

    graph TD
        A[董事會] --- B[顧問會議]
        A --- C[執行長]
        C --- D[編務部門]
        C --- E[教育部門]
        C --- F[行政部門]
        C --- G[國際事務部門]
    
```

- (A) 非營利性、組織性 (B) 非營利性、自主性
- (C) 自主性、民間性 (D) 民間性、營利性
32. 新北市台灣事實查核教育基金會除設立「台灣事實查核中心」，亦提供如下的學習課程供民眾進修。此為志願結社的何種特徵？
- (A) 民間性 (B) 自主性 (C) 非營利性 (D) 組織性

【#謠言識讀術】TikTok 冒牌帳號識讀術

線上課程/影音

TikTok 冒牌帳號識讀術

如何判斷TikTok帳號真假？檢視帳號藍勾勾、名稱與內容，或是從官網找尋社群入口。

必修：辨識假訊息的識讀心法

簡報/講義

必修：辨識假訊息的識讀心法

〈必修：辨識假訊息的識讀心法〉介紹假訊息的定義、類型與特徵，並透過生活化案例說明對社會的影響。

入門：以圖搜圖

簡報/講義

入門：以圖搜圖

〈入門：以圖搜圖〉這份教材會介紹以圖搜圖（反向圖搜）的基本概念、應用場景與操作方法。內容涵蓋學習以圖搜圖的重要性，以及多種圖片搜尋工具的使用方式。

33. 承上題，上面的課程，所能達到的目標應為下列何者？
- (A) 閱聽人的專業倫理 (B) 閱聽人自律的精神
- (C) 媒體知的權利 (D) 閱聽人的媒體識讀

新北市立新莊國民中學 114 學年度第 2 學期第 2 次段考 7 年級社會領域試題卷

班級 座號 姓名

34. 電影《KANO》講述的是台北帝國大學建立後三年，大日本帝國統治下的臺灣，出現一支由原住民、日本人與漢人所組成的嘉義農林棒球隊(簡稱嘉農棒球隊)，教練近藤兵太郎、投手吳明捷如何帶領全隊突破練習困境，讓嘉農棒球隊邁向第 17 屆夏季甲子園的故事。嘉義農林棒球隊投手吳明捷是苗栗客家人，他和阿美族被稱為「神捕」的捕手藍德和搭檔，創造一次又一次的勝利佳績。請問：吳明捷就讀嘉義農林學校前可能就讀於下列哪一個學校？

- (A)第一小學校 (B)第一公學校
(C)蕃人公學校 (D)國民學校

35. 西元 1899 年，總督府醫學校舉行開學典禮，首任校長為山口秀高。學校規則第一條即開宗明義：「本校為授予本島人醫學教育，養成醫師之處。此外並規定修業年限 4 年、預科 1 年，需經 5 年才能畢業。」請問有關這間學校的敘述何者「正確」？

- (A)這是日治時期臺灣的最高學府，也是臺人菁英的搖籃
(B)學校成立的背景是因為政府要培育衛生醫療人才
(C)這是由臺人創辦的第一所專收臺灣人的中學校
(D)這間學校培育的人才都成為總督府忠誠的皇民

36. 右表是臺灣某一時期報紙刊載的徵人啟事。根據內容判斷，這最可能是下列何時的報紙？

- (A)1830 年代
(B)1860 年代
(C)1930 年代
(D)1960 年代

徵求服務生 年齡十七歲至十八歲 小學校、公學校畢業 有意者請攜帶履歷表前來 (牡丹咖啡店)
徵求護士學徒 限內地人 高等小學校畢業以上程度 攜帶履歷面談 (臺北帝國大學附屬醫院)

37. 20 世紀初，臺灣某社會運動組織透過電影向大眾宣傳理念，不過當時電影僅有畫面，尚無法錄製聲音，播放時需有「辯士」在現場說明，以協助觀眾了解劇情。下圖是某部電影當時辯士的部分說明，根據內容判斷，上述組織在當時最可能還有以下哪一作為？

- (A)出資設立臺北帝國大學
(B)發行刊物積極介紹新知
(C)成立政黨對抗戒嚴體制
(D)聚集學生在中正紀念堂抗議

電影名稱：母與其子
辯士：林秋悟
辯士說明：同胞啊！我們大家都要刻苦耐勞，教養兒女、充實自己，使大家都有知識，我們臺灣人才不會永遠當人家的奴隸：……我們若無讀書，就無知識，無知識就要永遠做帝國主義的奴隸。

38. 下表為日治時期臺灣文化協會在 1923~1926 年這四年間舉辦各種演講會的統計表格。請問：以下四位同學對於表格數據所發表的看法，何者較符合歷史事實？

年份	演講次數	聽講人數	被警察中止次數
1923	36	21,086	19
1924	132	44,050	36
1925	315	117,880	64
1926	315	112,965	157

- (A)小五：日本政府逐年支持這些演講會的舉辦
(B)阿福：這些演講會的主要目標是在喚醒臺灣民眾的武裝抗日精神
(C)阿國：聽講的人數逐年提升對臺灣當時的社會文化啟蒙有所影響
(D)大中：這些演講都是臺灣文化協會與臺灣總督府所合辦的文化啟蒙活動

39. 電影《大稻埕》講述男主角佑熙穿越時空回到日治文官統治初期，台灣最繁華的第一鬧區-大稻埕的故事。在繁華的大稻埕遇到傳奇裁縫師阿純、色藝雙全的藝旦阿蕊、爭取台灣民主自治的蔣渭水……等人，片中傳奇裁縫師阿純因為無法克服喪子之痛而染上了吸食鴉片的惡習，請問阿純平日的的生活可能會是什麼情況？

- (A)平日下午跟姊妹淘到料理店、喫茶店或林百貨享用下午茶與逛街紓解一天的疲勞
(B)在新公園逛完博物館後，坐在樹下乘涼聊天
(C)想吸食鴉片的時候隨意到雜貨店便可購買
(D)要求手下的裁縫師們使用清領時期引進的標準時間制和星期制進行工作

40. 右圖是小南歷史報告的段落主題，此份報告的標題最可能為下列何者？

- (A)《殖民與鴉片》
(B)《纏足的理由》
(C)《論薙髮留辮》
(D)《槍枝禁止史》

一、中國清朝時遍及民間與臺灣
二、是清朝與英國的戰爭導火線
三、日本列為臺灣三大陋習之一
四、殖民政府採取消極漸禁方式
五、知識分子期望政府大力禁止

41. 附表是某時期臺灣公立醫院的設置時間，下列何者不是當時大量設置醫院的原因或影響？

名稱	設立年份	名稱	設立年份
臺北醫院	1895	高雄醫院	1914
基隆醫院	1896	鳳山醫院	1896
宜蘭醫院	1896	屏東醫院	1911
新竹醫院	1896	花蓮港醫院	1910
臺中醫院	1896	花蓮港醫院玉里分院	1940
嘉義醫院	1896	臺東醫院	1896
臺南醫院	1896	澎湖醫院	1896

- (A)由總督府推行設辦 (B)為防止傳染疾病散布而設
(C)多為日治初期設立 (D)使臺灣出生率大增

42. 下圖是 1927 年《臺灣日日新報》舉辦的觀光景點票選結果，以此判斷，票選活動的產生與下列何者有關？

審查委員會の決定

日	基隆	阿	壽	淡	太	鶯	八	臺	靈	神
月	旭	里	山	水	魯	鑾	仙	灣	峯	城
潭	岡	山	山	峽	閣	鼻	山	八	新	臺
(臺	(臺	(臺	(高	(臺	(花	(高	(臺	景	高	神
中)	北)	南)	雄)	北)	蓮)	雄)	中)		山	社

- (A)政府平定抗爭事件，人民生活安定
(B)引進標準時間制，要求制定生活作息
(C)戰後，國民政府鼓勵民眾出遊
(D)引進星期制，帶動休閒旅遊風氣

43. 下圖是臺灣某時期在報紙上陸續出現的幾篇社論及報導，按照這些標題，文章作者們應是跟何機構提出這些要求？

要求重用本省人材
各審查會開始
建議以日文應試
高雄米價日高一

- (A)臺灣總督府 (B)行政長官公署
(C)臺北市政府 (D)中華人民共和國政府

請繼續作答下一張試卷

44. 民國 36 年，因為一場查緝私菸的誤殺事件引發全島性衝突，軍隊奉命來台鎮壓臺灣人民。附圖即為當時軍隊鎮壓路線圖，請問前來臺灣鎮壓的軍隊，是從何處調派而來的？
- (A) 中國
(B) 日本
(C) 美國
(D) 韓國



45. 右表是中華民國政府在某時期公布的行政命令此行政命令的公布與下列何者最有關？
- (A) 政府頒布《戒嚴令》
(B) 雷震發行刊物，批判政府
(C) 美麗島事件的爆發
(D) 《動員戡亂時期臨時條款》的制定

出版品中不得有下列的圖畫文字。

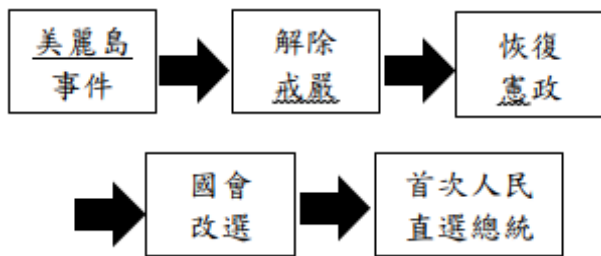
1. 宣傳共產主義的思想。
2. 抵毀中華民國的元首。
3. 挑撥政府與人民之間的感情。

46. 以下內容是臺灣某時期的一份起訴書：

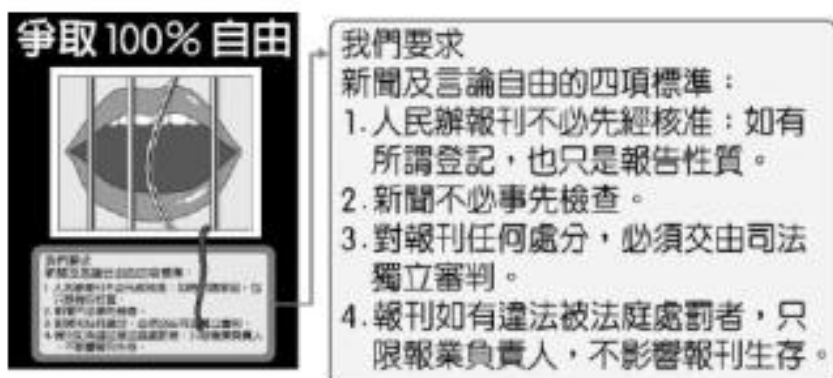
起訴機關：臺灣省警備總司令部
起訴書字號：(49)督眷字第 1152 號
起訴犯行：經過查明確實有匪諜滲透於其間，雷震明知故犯，不惜為之包庇放縱，掩護其作滲透不法之活動，並利用該刊物作為共匪長期有利的宣傳，可知其自始即以★★月刊為工具，而圖謀達到其非法顛覆政府的目的……。

請問：此起訴書內容中的★★應為下列何者？

- (A) 《美麗島》 (B) 《自由中國》
(C) 《臺灣民報》 (D) 《青年雜誌》
47. 偉國老師在上課時用下圖介紹臺灣政治史的演變，這當中經歷哪兩位總統？



- (A) 蔣中正、蔣經國 (B) 蔣經國、李登輝
(C) 李登輝、陳水扁 (D) 陳水扁、馬英九
48. 附圖為民國 70 年代臺灣某雜誌的封底，藉此表達該雜誌社的政治訴求。圖中內容所呈現的訴求，最可能與下列何者有關？



- (A) 中央民意代表改選以及總統直選
(B) 政府應該妥善處理「二二八事件」
(C) 消弭戒嚴體制對人民權利的限制
(D) 政府推行國語運動使得母語式微
49. 下圖為《臺灣歷史人物 100》中對某人物的簡介，這位人物應該會經歷哪一事件？
- (A) 成為臺灣文化協會主要成員
(B) 在大學時期曾參與三月學運
(C) 擔任總統任內宣布解除戒嚴
(D) 為臺灣史上第一位民選總統



50. 資料一：「爸爸和媽媽前往附近的投票所，用他們神聖的一票，選出最適合的總統人選，這是我國選舉史上創舉。」
資料二：「小慶提出政見，積極拜票，終於當選第一屆臺北市會議員。此次選舉也是臺灣人民第一次的投票經驗。選民資格如下：選舉人須為本國籍男性、年滿二十五歲、住滿六個月，並須年納稅金五圓以上。」
資料三：「臺灣議會設置請願代表——蔡培火、蔣渭水等人抵達東京車站，二百餘名臺灣青年會會員手持寫有「尊重民意、自由平等、民族自決」的小旗子，高唱「議會設置請願歌」歡迎代表們，並搭乘九部汽車遊行市區。」
請判斷上述資料的年代，由早至晚排列，請問正確選項為何？
- (A) 資料一→資料二→資料三
(B) 資料二→資料三→資料一
(C) 資料二→資料一→資料三
(D) 資料三→資料二→資料一

試題結束

新北市立新莊國民中學 114 學年度第 2 學期第 2 次段考

7 年級社會領域試題解答

1	2	3	4	5	6	7	8	9	10
C	B	D	D	A	C	A	B	D	A
11	12	13	14	15	16	17	18	19	20
C	B	D	A	B	C	B	C	A	D
21	22	23	24	25	26	27	28	29	30
C	D	B	A	C	D	C	C	B	A
31	32	33	34	35	36	37	38	39	40
A	B	D	B	B	C	B	C	B	A
41	42	43	44	45	46	47	48	49	50
D	D	B	A	A	B	B	C	D	D