

新北市立新莊國民中學 106 學年度第 2 學期第 3 次段考 8 年級社會領域試題卷

班 座號 姓名

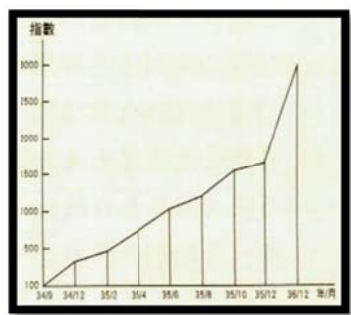
※ 選擇題：本試卷共 50 題，每題 2 分，總分為 100 分。
每一題均為單選題，請選出最適當答案。

1. 右圖內容是在述說毛澤東在接見日本通商使節南鄉三郎時，南鄉三郎對於日本侵華的行動向對中國表達歉意，毛澤東說：我感謝日本軍閥，也不要賠償。請問毛澤東說感謝日本軍閥的原因最可能是



- (A) 日本協助中共在南京成立國民政府，提早接掌政權
(B) 日本侵略凸顯了國民政府專制獨裁，民心歸向中共
(C) 日本於戰後，直接將東北佔領區移交給中共
(D) 日本的侵華行動提供中共擴張勢力的機會

2. 歷史老師上課時出示兩張由中央銀行發行的金圓券圖片與物價通膨指數表，要學生解讀其所代表的歷史情景。請問：下列哪一位學生正確地解讀了圖片與表格所描繪的歷史情境？



- (A) 怡安：十年建設期間推動幣制改革，貨幣貶值
(B) 芳雨：文革十年浩劫經濟慘遭破壞，貨幣貶值
(C) 亮君：清末民初經濟因不平等條約束縛、列強欺壓，物價上漲
(D) 仁敏：八年抗戰結束，國共爭權內戰導致通貨膨脹

3. 右圖為中國現代史上某政權所發布的海報，根據海報上的文字，請判斷此海報最有可能出現於下列何時何地？



- (A) 1949 年，臺北 (B) 1946 年，南京
(C) 1932 年，上海 (D) 1936 年，長春

4. 北伐時期國民政府曾數次遷徙，其中從乙地遷移到丙地(如右圖)的最主要原因為何？



- (A) 日本人占領乙地並建立傀儡政府
(B) 乙地的國民政府被俄國人控制
(C) 乙地的國民政府被親共份子控制
(D) 列強要求國民政府遷都丙地

5. 民國 26 年，國軍第 88 師 524 團團附謝晉元，率領一營兵力死守蘇州河邊的四行倉庫，雖面臨日本的強力攻擊，仍堅持「身可死，槍不可離，未奉令，死也不退」，愛國精神令人感佩，也粉碎了日本「三月亡華」的妄想。請問：謝晉元死守四行倉庫發生於哪次戰役？

- (A) 武漢會戰 (B) 淞滬會戰
(C) 長沙會戰 (D) 七七事變

6. 有史料指出：【1950 年代末期，中國發生 3 年的大饑荒，共產黨內部檔案顯示，可能有超過 3 千萬的人民飢餓而死，中共必須為其錯誤的政策負起最大的政治責任。】請問：上述【錯誤的政策】所指為何？因此被迫下台的領導人又是誰？

- (A) 四個現代化，鄧小平 (B) 抗美援朝，毛澤東
(C) 文化大革命，毛澤東 (D) 大躍進，毛澤東

7. 西元 1924 年列寧去世，孫中山以廣州革命政府領導人的名義寫了一篇悼念詞：「……惟君特立，萬夫之雄。建此新國，躋我大同。……亙古如生，永懷賢哲。」請問：支持民主的孫中山會與共產黨領袖列寧建立友好關係，有何背景因素？

- (A) 推行聯共抗日政策
(B) 協調國共內戰的對立
(C) 尋求蘇聯支援以解決中國軍閥亂政問題
(D) 八年抗戰期間與蘇聯同一陣線

8. 中共政權提出一種政策如右圖，人民集體生活、勞動、生產，採取軍事化的管理。這個政策是下列何者？



- (A) 一邊倒 (B) 一胎化政策
(C) 人民公社 (D) 土法煉鋼

9. 右圖為某政權自民國十九年開始受到中國政府圍剿而進行逃亡的經過。試問導致這場圍剿行動的結束與何人的作為有關？



13. 在抗戰期間，列強曾召開多次國際會議，其中對中國產生了好或壞的影響，二戰期間中國的國際地位雖有較於清朝提升。但從 1945 年的一場會議可以觀察到歐美諸國並沒有將中國視為盟友國，在中國缺席的情形下，損失了東北權利，讓中國吃了悶虧。上述是指哪場會議？

(A) 雅爾達會議 (B) 開羅會議
(C) 雅加達會議 (D) 巴黎和會

14. 閱讀下列文字，並請判斷這是哪一件史事？

在天安門廣場最後一刻，我給他們講了一個一群螞蟻住在山上的故事：

一天山上著火了，螞蟻們必須轉移到山腳下才能存活。他們聚成球狀，穿過火海，外面的螞蟻都燒死了，但是螞蟻種族卻存活下來了。因此今晚，我們就是祖國前線的螞蟻。我們的死亡可以換來一個自由的民族。歡笑鼓舞重新回到我們學生們的臉上，在最後時刻，我們找到了自己的目標。這個共同的目標給了我們勇氣去面對死亡帶來的難以忍受的黑暗和未知。我站在那兒，強烈的感覺到我們準備把最寶貴的生命奉獻給人民，我們對人民和祖國的愛是多麼強烈啊。看著那些沒有感情冰冷黑暗的坦克，我想要是那些下令進行屠殺的領導人能夠感受到那無價的愛就好了！

(A) 五四運動 (B) 濟南事件
(C) 六四天安門事件 (D) 太陽花學運


15. 有一段時間中國的荒唐事情比比皆是，當年可以浮誇糧食每畝產量超過十萬斤，有的地區號稱平均一點五分鐘就辦一個工廠；可以把小學、中學合併在一起變成為大學；廣西的桂平縣一九五八年辦了三十四家大學、學院和科學研究所，理髮店成為美容學院，養豬場成了畜牧學院，這個當時只有六十九萬人的縣，竟然號稱有四十七萬人上大學；河北蔚縣要人統計捉蟲子和臭蟲的斤數，河北懷安縣要人統計現有老鼠多少。請問，這應該是哪個時期中國的寫照？

(A) 八年抗戰 (B) 大躍進
(C) 文化大革命 (D) 改革開放

16. 民國 30 年代，大戰剛剛結束，全世界都需要休養生息，可是物資缺乏、民生凋敝的後遺症才剛剛開始，通貨膨漲到處漫延，而中國的內患就在此時全面爆發，數年間，中國大陸的國旗就從青天白日滿紅變成了紅色的五星旗。請問：此時中國政權轉換如此迅速的原因為何？

(A) 中共採用「以空間換取時間」策略得宜，使得國民政府兵敗如山倒
(B) 蘇俄用雅爾達會議得來的中國權益交給中共，使得中共搶先接收西北
(C) 第一次大戰拖垮國家經濟，國民政府貪腐頻傳，民怨四起
(D) 蘇俄為擴張馬克思主義，對中共的支持不遺餘力

17. 下圖中甲、乙、丙三張照片，分別與某戰爭中的三個重要事件有關，若依這些事件發生的時間先後順序排列，何者正確？甲.珍珠港事變紀念館 乙.廣島原爆紀念館 丙.南京大屠殺紀念館



(A) 甲乙丙 (B) 甲丙乙 (C) 丙乙甲 (D) 丙甲乙

18. 全球海洋與陸地的比例最接近何者？

(A) 2:8 (B) 5:5 (C) 7:3 (D) 9:1

19. 下列關於全球海洋與陸地分布情形的敘述何者錯誤？

(A) 水半球的海洋面積大於陸地面積
(B) 陸半球的陸地面積大於海洋面積
(C) 水半球中心位於紐西蘭
(D) 陸半球中心位於法國

20. 下列何國屬於大洋洲？

(A) 澳大利亞 (B) 印尼 (C) 墨西哥 (D) 菲律賓

21. 下列何者屬於內營力？

(A) 地殼變動 (B) 河水流動
(C) 黃土堆積 (D) 雨水落下

22. 北極圈的緯度為何？

(A) 0° (B) 23.5°N (C) 45°N (D) 66.5°N

23. 世界人口成長速度以哪兩個洲最快？

(A) 北美洲、南極洲 (B) 大洋洲、中南美洲
(C) 歐洲、北美洲 (D) 亞洲、非洲

24. 北非、西亞、中亞、印尼的主要宗教信仰為何？

(A) 基督宗教 (B) 伊斯蘭教 (C) 印度教 (D) 佛教

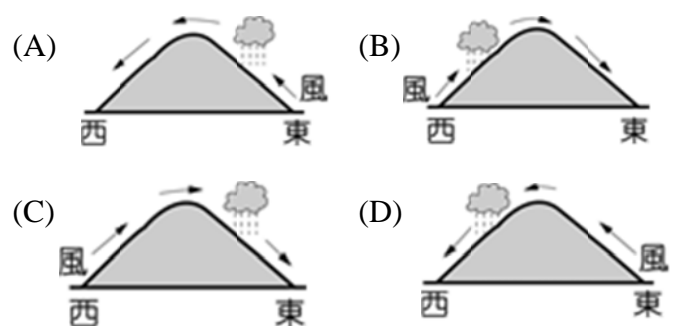
25. 承上題，該宗教的信徒不吃何種動物的肉？

(A) 羊 (B) 牛 (C) 豬 (D) 雞

26. 日本的四大島中，何者位於最南方？

(A) 本州 (B) 北海道 (C) 九州 (D) 四國

27. 日本冬季的季風風向與降雨型態為何？



新北市立新莊國民中學 106 學年度第 2 學期第 3 次段考 8 年級社會領域試題卷
 _____ 班 座號 _____ 姓名 _____

28. 下列四島嶼中，何處的櫻花最晚綻放？

- (A) 北海道 (B) 四國 (C) 本州 (D) 臺灣

29. 附圖為日本主要工業區分布圖，日本的工業區多位於海邊，與何種工業區位關係最大？

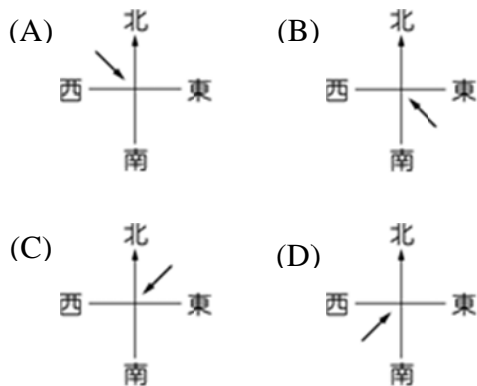
- (A) 原料 (B) 動力
(C) 市場 (D) 交通



30. 何都市為日本的千年古都，古蹟眾多？

- (A) 京都 (B) 大阪 (C) 札幌 (D) 東京

31. 朝鮮半島夏季季風的風向為何？



32. 第二次世界大戰後，朝鮮半島大致以北緯幾度為界線，分為北韓、南韓？

- (A) 23.5°N (B) 28°N (C) 38°N (D) 40°N

33. 今年四月二十七日舉行的南北韓「文金會」備受世界矚目，為顧及南北韓間的平等與方便，「文金會」於何處舉辦？

- (A) 釜山 (B) 首爾 (C) 平壤 (D) 板門店

34. 電影「屍速列車」描寫一輛由首爾出發開往南韓第一大港的列車遭受喪屍攻擊的故事，該列車的目的地應為何處？

- (A) 平壤 (B) 釜山 (C) 板門店 (D) 光州

35. 欣凱：我有權推翻前次判決，還被害人公道。

定曄：歷經多次出庭我代表國家公權力在庭上辯護，為受害人討回公道。

曉名：被告主張無罪，付錢請我提供法律協助為他辯護、爭取無罪判決。

家俊：曾強涉嫌故意殺人經過我的偵查後，證據充足對他提起公訴。

上述 4 人的工作哪兩位是相同的？

- (A) 欣凱、定曄 (B) 定曄、家俊
(C) 欣凱、曉名 (D) 曉名、家俊

題組 不肖歹徒利用網路平台散布大量未成年少女裸照和猥褻影片，上傳到境外網站，有超過 1000 次的點擊就可獲得 3 美元的獲利，每名歹徒最少已獲利達新台幣 50 萬元以上，其中一名男子並到某一被害少女的 FACEBOOK 張貼其裸照且留下猥褻字眼及恐嚇內容，受害少女心生畏懼而向【】報案，因而破了這個案件，而台籍 6 名歹徒則遭到逮捕。

36. 上述中【】最可能是下列哪一項？

- (A) 地方法院 (B) 地方行政法院
(C) 立法院 (D) 警察局、檢察機關

37. 上述新聞中 6 名嫌犯散布影片的行為最主要是違反下列哪一項法律而被移送法辦？

- (A) 少年事件處理法
(B) 兒童及少年福利與權益保障法
(C) 兒童與少年性剝削防制條例
(D) 著作權法

38. 某飲料店甲、雇用國中畢業剛滿 15 歲女童寶麗為暑期工讀生，乙、女童稱其父母同意但父母沒簽同意書，丙、店長給予時薪 65 元，丁、每天工作從早上 8 時到晚上 8 時，戊、女童已連續工作 10 天了！此時店家被縣政府查獲並依違反勞動基準法而移送法辦。上述業者違反勞動基準法的行為總共有幾項？

- (A) 5 (B) 4 (C) 3 (D) 2 項

39. 二十歲的江山是大學生，經由電腦網路認識 15 歲的小君，兩人於認識二個月後成為男女朋友，江山知道小君是年僅 15 歲的女子，對兩性關係尚屬懵懂，判斷力也未臻成熟，竟和小君發生了兩一次性行為。由上述內容判斷，關於江山的行為下列哪一項說明正確？

- (A) 沒有違法，因為小君是自願的
(B) 違反了刑法妨害性自主罪，因為小君未滿 16 歲
(C) 違反了少年事件處理法，因為小君未滿 18 歲
(D) 違反了兒童及少年性剝削防制條例，因為小君未滿 18 歲

40. 承上題，倘若小君年紀是 17 歲，江山的行為是否已犯罪呢？

- (A) 沒有犯罪，因為小君已滿 16 歲具有性自主權
(B) 有犯罪，因為小君是限制行為能力人
(C) 有犯罪，因為小君是限制責任能力人
(D) 有犯罪，因為小君是兒童及少年性剝削防制條例保護對象

41. 張三因李四在媒體上指責其惱羞成怒、忌妒，張三回應自己不忘妒對方是「政治變色龍」、「做假新聞騙通告」並稱自己是合理查證過，李四對此相當不滿，考慮提告並求償 100 萬元。對於兩人之間的糾紛下列哪些人的說法正確？甲、鄰居為李四打抱不平也可向偵查機關告發張三刑法妨害名譽罪，請求檢察官偵辦追究犯罪 乙、李四可以向地檢署申告稱為告訴 丙、李四若採取訴訟後，依相關法律規定最終可上訴到高等法院。丁、略懂法律的李四也可以本人自行向地方法院提起訴訟

- (A) 甲乙 (B) 乙丙 (C) 丙丁 (D) 甲丁

42. 針對兩位的糾紛,如果兩人都不想上法庭見法官，而且所做的權利救濟途徑又想要有法院確定判決效力，下列權利救濟途徑共幾項是他們最適合的選擇？甲、調解 乙、訴訟外和解 丙、訴訟上和解 丁、仲裁 戊、訴訟

- (A) 5 (B) 4 (C) 3 (D) 2 項

新北市立新莊國民中學 106 學年度第 2 學期第 3 次段考 8 年級社會領域試題卷
_____班 座號_____ 姓名_____

43. 下列哪些行為是屬於兒童及少年福利與權益保障法的保護措施規範的內容,違反時大人及業者可能會受到罰鍰或公告姓名的處罰? 甲、大人放任或慫恿小朋友喝酒,甚至作勢拿菸給小孩抽 乙、平面媒體刊載詳細描述暴力色情細節的圖片及文章 丙、網路平台業者對於有害內容未採取限制兒少接取、瀏覽等措施 丁、輔導年滿 15 歲的少年,依其性向或志願繼續進修、接受職訓或就業
(A) 甲乙丙 (B) 甲乙丁 (C) 乙丙丁 (D) 甲乙丙丁

44. 媒體報導,36 歲邱姓女子在超商門口前,看見 10 歲男童手拿 500 元鈔票準備買東西,便一手搭著男童肩膀裝熟,並突然說“拿來”後,立刻迅速拿走男童手上鈔票,並毫不在意的進入超商買菸,找完錢便離開現場,留下一臉錯愕、驚慌失措的小男童。邱姓女子的作為最可能違反刑法的哪一項罪名?
(A) 竊盜罪 (B) 搶奪罪 (C) 恐嚇取財罪 (D) 贓物罪

題組 2017 年 4 月彰化輔育院收容的 17 歲洪姓少年,涉嫌朝 16 歲李姓室友上身連揍五拳,李姓少年當場倒地,送醫到院前已無生命跡象,洪姓少年被依傷害致死罪移送,李姓少年母親更泣訴兒子是因想分擔她的經濟壓力,誤入歧途加入詐騙集團……

45. 承上文,下列哪一項敘述不正確?
(A) 兩位少年被送入少年輔育院其法源依據為少年事件處理法
(B) 洪姓少年被依傷害致死罪移送法辦,被稱為犯罪嫌疑人是符合無罪推定原則
(C) 兩位少年的父母依法不會被公告姓名或處罰鍰
(D) 洪姓和李姓少年進入少年輔育院,最可能是受到保護處分的安置輔導
46. 洪姓少年在院內失手打死李姓少年,被依傷害致死罪移送,洪姓少年最可能受到下列哪一項處分?
(A) 由檢察官偵查起訴後,少年法院處以刑罰
(B) 交少年保護官進行保護管束
(C) 由少年法院少年保護官訓誡
(D) 由少年法院法官安置少年在適當的福利或教養機構
47. 甲、賴皮欠尤易 500 萬元避不見面 乙、男子王景玉殺死女童小燈泡案 丙、大學剛畢業的美美在聚會中被吳財下藥性侵並丟包在馬路旁遭路人報警 丁、某棒球明星和球團向仲裁庭提出薪資仲裁申請 戊、名模不服國稅局補稅要求提起抗稅訴訟 己、被警方追捕中涉嫌連續多起重大竊盜案的累犯施姓男子。上述案件中檢察官應主動偵查辦理的共有幾項?
(A) 6 (B) 5 (C) 4 (D) 3 項

題組 媒體報導,苗栗縣政府因群創光電向行政院申請增地,計畫在苗栗縣竹南鎮的新竹科學園區竹南基地擴建新廠房,於 2010 年開發案獲通過,縣府強徵農地及民宅。在 2011 年 5 月推翻行政院內政部原地原屋保留的決議……並在 2013 年 7 月強行拆遷了大埔自救戶張藥房等 4 戶的房子,甚至現址成了道路,一連串爭議受了全國的關注……

48. 大埔自救戶如果依法進行權利救濟,下列哪一項是他們首先應該採取的行動?
(A) 向苗栗縣政府請願 (B) 向高等行政法院提起訴願
(C) 向行政院內政部訴願 (D) 向高等法院請願
49. 張藥房等 4 戶拒拆戶如果對上述結果不服,依法他們應先向下列哪一機關提起訴訟才有希望能原地重建還其公道?
(A) 地方法院行政訴訟庭 (B) 高等法院
(C) 高等行政法院 (D) 最高行政法院
50. 網路紅人谷阿莫從 3 年前開始重製電影預告片及片段,剪輯後以詼諧幽默旁白自製數分鐘不等的影片,他認為讓大家快速了解電影生態也讓乏人問津的作品受到更多人的注意,並可能增加票房收入並強調沒有使用整段影片也沒有營利行為。但在 2016 年 4 月遭 KKTV 及多家片商提告侵權, KKTV 等表示凡未經合法授權,對影音內容進行重製或公開傳送皆屬侵權行為,並且有些電影被重製後形容得很無聊影響票房,甚至影響到上映或 DVD 版權...,雙方各有其論述。針對上述新聞報導下列哪一項敘述不正確?
(A) 雙方爭執點主要是對著作權的合理使用看法不同
(B) 倘若業者勝訴,侵權者可能必須負擔民、刑事責任
(C) 該網路侵權者主要觸犯刑法的妨害電腦使用罪
(D) 受理該案件的法院為智慧財產法院

新北市立新莊國民中學 106 學年度第 2 學期第 3 次段考 8 年級社會領域試題

解答

1	2	3	4	5	6	7	8	9	10
D	D	D	C	B	D	C	C	B	B
11	12	13	14	15	16	17	18	19	20
C	B	A	C	B	D	D	C	B	A
21	22	23	24	25	26	27	28	29	30
A	D	D	B	C	C	B	A	D	A
31	32	33	34	35	36	37	38	39	40
B	C	D	B	B	D	C	B	B	A
41	42	43	44	45	46	47	48	49	50
B	D	A	B	D	A	D	C	C	C